



## CÂMARA MUNICIPAL DE SÃO JOAQUIM DA BARRA

ESTADO DE SÃO PAULO

CONCURSO PÚBLICO

### 004. PROVA OBJETIVA

#### ANALISTA LEGISLATIVO

- ◆ Você recebeu sua folha de respostas e este caderno contendo 60 questões objetivas.
- ◆ Confira seus dados impressos na capa deste caderno e na folha de respostas.
- ◆ Quando for permitido abrir o caderno, verifique se está completo ou se apresenta imperfeições. Caso haja algum problema, informe ao fiscal da sala.
- ◆ Leia cuidadosamente todas as questões e escolha a resposta que você considera correta.
- ◆ Marque, na folha de respostas, com caneta esferográfica de tinta preta, a letra correspondente à alternativa que você escolheu.
- ◆ A duração da prova é de 3 horas e 30 minutos, já incluído o tempo para o preenchimento da folha de respostas.
- ◆ Só será permitida a saída definitiva da sala e do prédio após transcorridos 75% do tempo de duração da prova.
- ◆ Ao sair, você entregará ao fiscal a folha de respostas e este caderno, podendo levar apenas o rascunho de gabarito, localizado em sua carteira, para futura conferência.
- ◆ Até que você saia do prédio, todas as proibições e orientações continuam válidas.

**AGUARDE A ORDEM DO FISCAL PARA ABRIR ESTE CADERNO DE QUESTÕES.**

Nome do candidato \_\_\_\_\_

RG \_\_\_\_\_

Inscrição \_\_\_\_\_

Prédio \_\_\_\_\_

Sala \_\_\_\_\_

Carteira \_\_\_\_\_

## CONHECIMENTOS GERAIS

### LÍNGUA PORTUGUESA

Leia o texto, para responder às questões de números **01** a **09**.

#### *Dar à luz*

Todos sabem que a luz é um dos componentes indispensáveis para que **haja vida**. Além de ser um fenômeno físico, a luz e sua importância são elementos simbólicos utilizados, **há séculos**, por religiões, por estudiosos e pela cultura popular, como forma de ilustrar momentos de transição importantes vivenciados pela humanidade.

Culturalmente, a luz assume uma representação tão marcante quanto para a ciência e a tecnologia. Isso porque, em muitas nações, ela simboliza a própria vida. Não é por acaso que a expressão “dar à luz” representa um momento de celebração, de extrema felicidade, traduzindo o momento em que é dada ao homem a oportunidade de deixar o escuro do útero e passar a experimentar a luz do mundo, a luz que passará a ser a chama de sua própria existência.

“Trazer à luz” ou “lançar luz” acerca de um determinado assunto são expressões há muito utilizadas por estudiosos. Essas expressões significam a possibilidade de, por meio do conhecimento, da razão, compreender melhor e encontrar respostas para questões que, até então, o homem sem conhecimento não conseguiria enxergar, uma vez que estaria mergulhado nas trevas da ignorância. Por volta do ano 400 a.C., Platão relacionaria a luz ao conhecimento. Para o filósofo, a percepção do mundo exterior, à luz do sol, correspondia ao conhecimento produzido pelo intelecto, à luz da razão.

Por outro lado, é comum encontrar textos que se referem a parte da Idade Média como a idade das trevas, um período em que se utilizava da fé como mecanismo de controle, de imposição. E, ao fazer isso, os homens, não Deus, impediam o desenvolvimento cultural e a liberdade intelectual. Desde a Idade Média, governantes utilizam-se da conhecida estratégia de mergulhar a sociedade na ignorância para poder doutriná-la mais facilmente.

O acesso à liberdade intelectual passaria a ser conquistado graças a um movimento filosófico que surgiu na Europa, no século XVIII, movimento esse que ficou conhecido como Iluminismo. Novamente, o homem escolheria a luz para representar a única forma de trazer novas alternativas para que a humanidade pudesse sair das trevas.

Infelizmente, nem o Iluminismo nem qualquer outra tentativa de conter os períodos de obscuridade impediram que esta continuasse, de forma voraz e persistente, a assombrar os homens. As trevas ressurgem a cada dia nas guerras, na fome, na intolerância, no ódio, no preconceito, na corrupção e em outras formas que, talvez, a humanidade ainda desconheça.

Portanto, para os que não desejam viver na escuridão, a única opção é manter a chama do conhecimento acesa.

(Ademar Pereira dos Reis Filho. *Diário da Região*, 22.04.2018. Adaptado)

**01.** É correto concluir que o texto

- (A) parte do conceito abstrato de iluminação para indicar a impossibilidade de a ciência ser racional.
- (B) aponta o Iluminismo como responsável pela crise de obscuridade contemporânea.
- (C) analisa as várias maneiras de buscar o conhecimento, concluindo ser impossível atingi-lo.
- (D) trata de representações da luz no quadro da evolução do conhecimento humano.
- (E) busca uma resposta para o obscurantismo da humanidade, sem chegar a uma conclusão.

**02.** Na afirmação inicial do texto – Todos sabem que a luz é um dos componentes indispensáveis para que haja vida. – a expressão “Todos sabem” é um argumento

- (A) que reforça a autoridade de quem faz a afirmação, indicando que ele detém a autoria da informação que passa ao leitor.
- (B) baseado no consenso, que independe de demonstração por consistir em um conhecimento compartilhado.
- (C) cuja propriedade deve ser questionada, pois faz parte do repertório tanto do autor quanto do leitor.
- (D) que delega ao leitor o papel de contestar a veracidade da afirmação que se coloca na sequência da frase.
- (E) centrado na lógica do raciocínio formulado pelo autor, visando a expor a fragilidade da tese defendida.

**03.** A expressão – Por outro lado – que inicia o quarto parágrafo do texto sinaliza

- (A) um desvio no tratamento temático do texto, trazendo assunto sem vínculo com o que predomina no conjunto textual.
- (B) a reafirmação das ideias expostas, mantendo a coerência como forma de direcionar a leitura e permitir a identificação do conteúdo.
- (C) uma interrupção na continuidade lógica dos argumentos, com a introdução de ideia que contradiz a temática do texto.
- (D) uma nova perspectiva de abordagem do tema, negando a ideia de obscurantismo defendida pelos filósofos iluministas.
- (E) uma mudança na sequência argumentativa em relação aos parágrafos anteriores, introduzindo informações que contrastam com as anteriores.

Para responder às questões de números **04** e **05**, considere a seguinte passagem do texto:

Essas expressões significam a possibilidade de, **por meio do** conhecimento, da razão, compreender melhor e encontrar respostas para questões que, **até então**, o homem sem conhecimento não conseguiria enxergar, **uma vez que** estaria mergulhado nas trevas da ignorância.

**04.** Sem prejuízo de sentido ao texto, as expressões destacadas devem ser substituídas, correta e respectivamente, por

- (A) por intermédio do ... até aquele momento ... visto que
- (B) mediante o ... em momento futuro ... unicamente que
- (C) mediante ao ... em tal caso ... de modo que
- (D) por intermédio ao ... portanto ... já que
- (E) mediante o ... assim sendo ... contanto que

**05.** É correto afirmar que, no contexto dessa passagem, as formas verbais **conseguiria** e **estaria**, no futuro do pretérito do indicativo, expressam fatos

- (A) concomitantes ao futuro e possíveis.
- (B) posteriores ao presente e improváveis.
- (C) posteriores ao passado e indiscutíveis.
- (D) simultâneos ao passado e plausíveis.
- (E) simultâneos ao presente e condicionados.

**06.** Assinale a alternativa em que as expressões – **haja vida** e **há séculos** – destacadas no primeiro parágrafo estão substituídas, de acordo com a norma-padrão de concordância, ainda que ocorra alteração de sentido.

- (A) hajam chances de vida – fazem séculos
- (B) exista chances de vida – faz séculos
- (C) existam chances de vida – faz séculos
- (D) possa haver chances de vida – já devem fazer séculos
- (E) possa existir chances de vida – já devem fazer

**07.** A substituição do trecho destacado por pronome, como consta entre colchetes, está de acordo com a norma-padrão em:

- (A) E, ao fazer isso, os homens, não Deus, impediam o **desenvolvimento cultural**... [impediam-no]
- (B) ... qualquer outra tentativa de conter **os períodos de obscuridade**... [conter-lhes]
- (C) ... forma de ilustrar **momentos de transição**... [ilustrar-lhes]
- (D) Novamente, o homem escolheria **a luz** para representar... [escolheria-a]
- (E) ... a única opção é manter **a chama do conhecimento** acesa. [manter ela]

**08.** A passagem em que se caracteriza o emprego de palavras em sentido figurado é:

- (A) O acesso à liberdade intelectual passaria a ser conquistado graças a um movimento filosófico que surgiu na Europa, no século XVIII...
- (B) Culturalmente, a luz assume uma representação tão marcante quanto para a ciência e a tecnologia.
- (C) Portanto, para os que não desejam viver na escuridão, a única opção é manter a chama do conhecimento acesa.
- (D) E, ao fazer isso, os homens, não Deus, impediam o desenvolvimento cultural e a liberdade intelectual.
- (E) Além de ser um fenômeno físico, a luz e sua importância são elementos simbólicos utilizados, há séculos, por religiões, por estudiosos e pela cultura popular...

**09.** A relação de sentido de antonímia que existe entre “luz” e “treva” está presente também entre as palavras dos pares

- (A) extrema e radical; persistente e volúvel.
- (B) liberdade e servidão; intolerância e condescendência.
- (C) razão e desrazão; fé e crédito.
- (D) mergulhado e submerso; ignorância e ciência.
- (E) preconceito e xenofobia; voraz e inapetente.

Leia a tira, para responder às questões de números **10** e **11**.



(Orlandeli, Grump. *Diário da Região*, 22.04.2018)

**10.** À vista dos elementos textuais da tira, é correto concluir que,

- (A) mesmo em situação de inferioridade, um dos lutadores encara a luta com uma motivação prática bem definida.
- (B) contando com a sorte, o grandalhão poderá impor-se ao adversário e garantir sua vitória e o prêmio.
- (C) se conseguir vencer a luta, o grandalhão fará jus ao prêmio financeiro, conforme divulgado no cartaz.
- (D) quando a luta começar, o pequeno lutador terá de desistir, sob pena de ser desmoralizado pelo público.
- (E) lutando em igualdade de condições físicas, os contendores veem na luta uma forma de ganhar dinheiro fácil.

11. Assinale a alternativa que emprega corretamente as formas verbais presentes no texto, preenchendo as lacunas do seguinte enunciado.

Para que \_\_\_\_\_ Killer Joe com chance de sucesso, seria necessário que o pequeno Grump também \_\_\_\_\_ o grandalhão. Mas o público considera pouco provável que ele o \_\_\_\_\_ ou \_\_\_\_\_.

- (A) encare ... destrua ... quebrasse ... massacrasse
- (B) encarasse ... destruisse ... quebre ... massacre
- (C) encare ... destruisse ... quebra ... massacra
- (D) encarasse ... destrua ... quebre ... massacra
- (E) encarasse ... destrua ... quebre ... massacrasse

Leia o texto, para responder às questões de números 12 a 18.

#### *Uma história literária do fanatismo*

A palavra “fanático” nem sempre foi um insulto ou uma acusação: até onde se sabe, pode ter começado como uma espécie de elogio. O termo latino *fanaticus* vem de *fanus* – um altar ou um santuário. Designava o benfeitor de um templo, ou um indivíduo diretamente inspirado pelos deuses; um mecenas das artes sacras ou um artista invulgarmente talentoso poderiam ser, a sua maneira, fanáticos.

Cícero, no século I a.C., talvez tenha sido o primeiro a usar a palavra de forma pejorativa – numa de suas orações, o termo vira sinônimo de supersticioso.

Centenas de anos depois, Voltaire chegou a uma definição mais próxima daquela que usamos hoje. “O fanatismo é uma doença da mente, que se transmite da mesma forma que a varíola”, escreve no *Dicionário Filosófico*, de 1764. “Não se transmite tanto por livros quanto por discursos e reuniões. Raramente nos sentimos exaltados quando estamos lendo sozinhos, com a mente tranquila e sedada.”

Não sei até que ponto concordo com a indulgência plenária que Voltaire concede aos livros: poderíamos encher uma razoável biblioteca com obras que inspiraram paixões sangrentas. Mas o iluminista francês parece aproximar-se de uma verdade atemporal ao apontar a **natureza gregária** e contagiosa do fanatismo. Como uma força da natureza, essa praga mental se propaga pela **ânsia exacerbada** de unanimidade e pelo horror ao pensamento independente. Um contágio mais propenso a afetar manadas do que eremitas.

(José Francisco Botelho. *Veja*, 25.04.2018. Adaptado)

12. É correto deduzir do texto que,

- (A) apesar de reconhecer certa razão em Voltaire, o autor se recusa a atribuir sentido pejorativo à palavra “fanático”.
- (B) desde a antiguidade, a ideia de fanatismo carrega o sentido pouco abonador de doença do espírito.
- (C) segundo Voltaire, é necessário reconhecer a influência dos livros na formação de ideias de violência.
- (D) quando a mente se despe de ideias preconcebidas, a tendência ao fanatismo pode ser mais contagiosa.
- (E) do ponto de vista do autor, a concepção de fanatismo é associada à ideia de irracionalidade e de transmissibilidade por influência.

13. De acordo com informações do texto, é correto afirmar que o sentido que Cícero atribui à palavra “fanático”

- (A) coincide com a definição de Voltaire quanto à ideia de transmissibilidade.
- (B) também se caracteriza pela ideia de desejo intenso de unanimidade.
- (C) deriva da acepção do termo no latim, no que diz respeito ao mecenato.
- (D) mantém vínculo com a concepção atual quanto à carga pejorativa.
- (E) poderá ser retomado em textos produzidos pelos adeptos do Iluminismo.

14. No contexto das expressões destacadas no último parágrafo, os adjetivos **gregária** e **exacerbada** significam, correta e respectivamente,

- (A) propensa a isolar-se ... acumulada
- (B) independente de motivações ... assoberbada
- (C) tendente a agrupar-se ... intensificada
- (D) carente de coerência ... aumentada
- (E) aderente a mitos ... desmedida

15. Na passagem – Não sei até que ponto concordo com a indulgência plenária que Voltaire concede aos livros: poderíamos encher uma razoável biblioteca com obras que inspiraram paixões sangrentas. – os dois-pontos introduzem uma sequência contendo

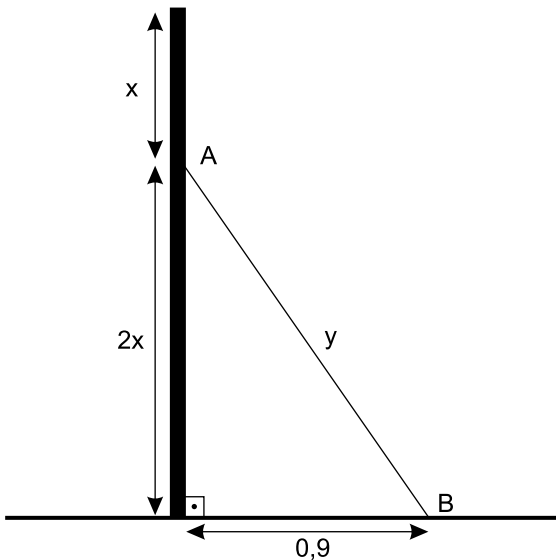
- (A) uma retificação e poderiam ser substituídos pela conjunção “mas”.
- (B) uma conclusão e poderiam ser substituídos pela conjunção “portanto”.
- (C) um adendo e poderiam ser substituídos pela conjunção “e”.
- (D) uma contestação e poderiam ser substituídos pela conjunção “nem”.
- (E) uma justificativa e poderiam ser substituídos pela conjunção “pois”.

16. Assinale a alternativa que substitui, respectivamente e de acordo com a norma-padrão de regência, as expressões destacadas nas passagens – a indulgência plenária que Voltaire **concede aos** livros / Mas o iluminista francês parece **aproximar-se de** uma verdade atemporal / Um contágio mais **propenso a** afetar manadas do que eremitas.

- (A) outorga aos / chegar-se a / tendente para
- (B) confere nos / avizinhar-se a / inclinado em
- (C) outorga nos / avizinhar-se em / inclinado a
- (D) outorga dos / chegar-se em / tendente de
- (E) confere aos / avizinhar-se por / inclinado em

17. A passagem do texto em que o(s) termo(s) destacado(s) imprime(m) ao contexto ideia de comparação é:
- (A) ... poderíamos encher uma razoável biblioteca com obras **que** inspiraram paixões sangrentas.
- (B) Designava o benfeitor de um templo, **ou** um indivíduo diretamente inspirado pelos deuses.
- (C) “Não se transmite **tanto** por livros **quanto** por discursos e reuniões.”
- (D) “Raramente nos sentimos exaltados **quando** estamos lendo sozinhos, com a mente tranquila e sedada.”
- (E) **Mas** o iluminista francês parece aproximar-se de uma verdade atemporal...
18. A alternativa em que o pronome destacado pode ser colocado depois do verbo, sem contrariar a norma-padrão é:
- (A) Até onde **se** sabe...
- (B) ... doença da mente, que **se** transmite da mesma forma que a varíola...
- (C) Não **se** transmite tanto por livros...
- (D) Raramente **nos** sentimos exaltados...
- (E) ... essa praga mental **se** propaga pela ânsia exacerbada...
19. A alternativa em que o sinal indicativo de crase está empregado de acordo com a norma-padrão é:
- (A) Constatou-se que as folhas estavam coladas umas as outras e foram enviadas à seção errada.
- (B) Ninguém deu atenção àquela queixa, devido à maneira grosseira como o cliente se referiu aos funcionários.
- (C) Ao se dirigir a paciente, o médico afirmou que iria submetê-la à dieta leve.
- (D) O comunicado se refere à todos os funcionários que estão à espera da concessão de férias.
- (E) Todo o problema se relaciona às evasivas dele, que não enfrenta seus colegas cara à cara.
20. A concordância nominal e verbal está de acordo com a norma-padrão em:
- (A) Vocês mesmo podem responder ao questionário e enviá-lo às pessoas que o elaborou.
- (B) É necessário cautela ao votar, para não se eleger candidatos que só promete mas não cumpre.
- (C) Ficou gravado em sua mente, por muitos anos, aquela cena deplorável envolvendo as amigas e o rapaz que as agrediram.
- (D) Penso em remeter-lhes, anexas ao relatório, as fotos do local, que entendo serem bastante esclarecedoras.
- (E) Foram escolhidos os candidatos melhores classificados para assumir as vagas que se divulgou no edital.
21. Duas funcionárias de uma Câmara Municipal trabalham na digitação de certo projeto de lei, cabendo a cada uma digitar exatamente a metade do número total de páginas desse projeto. Sabe-se que uma delas já digitou  $\frac{2}{5}$  e que a outra já digitou  $\frac{2}{3}$  do número de páginas que deveriam digitar, e que ambas já digitaram, juntas, 32 páginas. Desse modo, para a conclusão desse trabalho, será necessário digitar mais uma quantidade de páginas igual a
- (A) 30.
- (B) 28.
- (C) 26.
- (D) 25.
- (E) 20.
22. Um encarregado de Recursos Humanos recebeu 420 blocos de formulários do tipo A, 720 blocos do tipo B e 300 blocos do tipo C. Pretende distribuí-los em pacotes, sem misturar tipos, de modo que não haja sobras. Todos os pacotes devem ter a mesma quantidade de blocos, sendo essa quantidade a maior possível. Nessas condições, o número de pacotes contendo blocos de formulários do tipo A será igual a
- (A) 12.
- (B) 10.
- (C) 8.
- (D) 7.
- (E) 5.
23. Do grupo de vereadores que integram uma Câmara Municipal, sabe-se que  $\frac{2}{5}$  são mulheres, todas reeleitas para a atual legislatura, e que  $\frac{5}{6}$  dos homens também foram reeleitos. Nesse grupo de vereadores, a razão entre o número de mulheres e o de homens que foram reeleitos para a atual legislatura é
- (A)  $\frac{4}{5}$
- (B)  $\frac{3}{4}$
- (C)  $\frac{2}{3}$
- (D)  $\frac{3}{5}$
- (E)  $\frac{1}{2}$

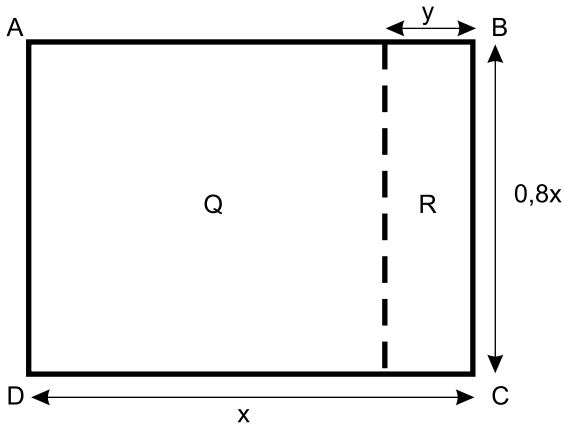
24. Uma prova de um processo seletivo foi realizada para um grupo de candidatos em que havia 10 mulheres a mais que o número de homens. A média aritmética das notas dos homens nessa prova foi 7 e a das mulheres foi 8. Se a média aritmética das notas de todo o grupo foi 7,6, então o número de mulheres nesse grupo era igual a
- (A) 20.  
(B) 25.  
(C) 30.  
(D) 35.  
(E) 40.
25. Um atacadista vende o produto de limpeza L em garrações, com 8 litros em cada um, e o produto de limpeza M em garrações, com 5 litros em cada um. Um pedido, para ambos os produtos, continha um total de 70 garrações e 470 litros. Desse modo, o número de litros do produto L entregues nesse pedido foi igual a
- (A) 150.  
(B) 195.  
(C) 230.  
(D) 275.  
(E) 320.
26. Uma barra metálica retilínea tem uma das extremidades posicionada no solo (ponto B) e a outra extremidade apoiada em um muro (ponto A), conforme mostra a figura, cujas dimensões estão indicadas em metros.



Se o muro tem 1,8 m de altura, então o comprimento da barra metálica é igual a

- (A) 1,5 m.  
(B) 1,4 m.  
(C) 1,3 m.  
(D) 1,2 m.  
(E) 1,1 m.

27. Uma incorporadora comprou um terreno retangular R, anexo a um terreno quadrado Q, que já possuía, formando o terreno retangular ABCD, conforme mostra a figura, cujas dimensões indicadas estão em metros.



Se a área do terreno ABCD é  $1280 \text{ m}^2$ , então  $\frac{y}{0,8x}$  é igual a

- (A) 0,20.  
 (B) 0,25.  
 (C) 0,30.  
 (D) 0,35.  
 (E) 0,40.
28. Em uma promoção, certo produto recebeu um desconto de 40% sobre o preço de etiqueta ( $P_E$ ) e passou a ser vendido por P. Sabendo-se que P é igual ao preço de custo ( $P_C$ ) desse produto acrescido em 50%, é correto afirmar que o preço de etiqueta é igual ao preço de custo desse produto acrescido em
- (A) 90%  
 (B) 100%  
 (C) 120%  
 (D) 125%  
 (E) 150%
29. Em um recipiente havia, inicialmente, n litros de certo produto. Se a quantidade total fosse dividida igualmente entre os 40 frascos previstos, cada frasco receberia x mililitros. Porém, como 5 frascos estavam quebrados, a divisão foi feita entre os frascos restantes e, desse modo, cada frasco recebeu  $(x+40)$  mililitros. Sabe-se que o preço de um litro desse produto é R\$ 36,00. Se o preço de venda for diretamente proporcional ao volume vendido, então o preço de venda de um frasco que contiver  $(x+40)$  mililitros será igual a
- (A) R\$ 10,08.  
 (B) R\$ 11,52.  
 (C) R\$ 12,20.  
 (D) R\$ 13,50.  
 (E) R\$ 13,64.

30. Uma empresa produz, comercializa no mercado interno e também exporta determinado produto. A tabela a seguir, com alguns números substituídos por letras, relaciona o número de unidades desse produto vendidas no mercado interno e externo nos anos de 2016 e 2017.

	2016	2017
Mercado Externo (nº de unidades)	x	1,24x
Mercado Interno (nº de unidades)	0,8x	0,92x

De acordo com os dados da tabela, é correto afirmar que o número total de unidades vendidas em 2017 teve, em relação ao número total de unidades vendidas em 2016, um crescimento de

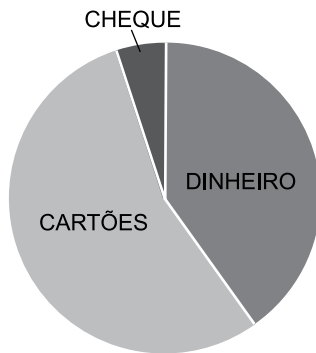
- (A) 8%
- (B) 16%
- (C) 20%
- (D) 22%
- (E) 25%
31. Para um trabalho escolar, Joana usou duas folhas de formato retangular, cujas áreas somam  $1\,125\text{ cm}^2$ . Sabe-se que ambas têm medidas de largura iguais, e que suas medidas de comprimento são, respectivamente, iguais ao dobro e ao triplo da medida da largura. Nessas condições, é correto afirmar que o perímetro da folha de maior área é igual a
- (A) 0,9 m.
- (B) 1,0 m.
- (C) 1,15 m.
- (D) 1,2 m.
- (E) 1,25 m.
32. Afonso recebeu R\$ 22.000,00 pela venda de um terreno que tinha em sociedade com o irmão. Da quantia recebida, pretende usar R\$ 2.000,00 para pagar uma dívida e aplicar o restante a juros simples, à taxa de 1,25% ao mês. Para que o montante atinja exatamente o valor que recebeu pela venda do terreno, esse capital deverá permanecer aplicado por um número de meses igual a
- (A) 6.
- (B) 7.
- (C) 8.
- (D) 9.
- (E) 10.



33. A tabela a seguir mostra como os clientes de uma grande loja pagaram suas compras no último trimestre de 2017, relacionando formas de pagamento e respectivos valores totais.

Formas de pagamento	Valores (em milhares de reais)
Dinheiro	256
Cartões de débito e crédito	352
Cheque	32

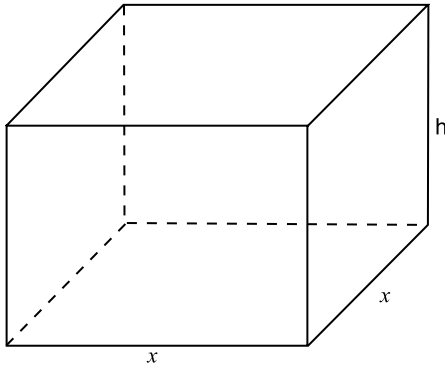
Suponha que essa distribuição seja representada em um gráfico de setores, conforme mostra a figura a seguir.



Nesse caso, a medida, em graus, do ângulo interno do setor correspondente ao valor dos pagamentos feitos com cartões de débito e crédito será igual a

- (A) 198.  
(B) 194.  
(C) 190.  
(D) 188.  
(E) 185.
34. Uma gráfica possui várias máquinas impressoras iguais, de mesmo rendimento. Para imprimir todas as páginas de um lote de livros iguais em 6 dias, ela utilizou 10 impressoras, trabalhando de forma simultânea e ininterrupta durante 10 horas por dia. Um lote idêntico do mesmo livro foi impresso em 10 dias, com a utilização de 8 das mesmas impressoras. Para tanto, foi necessário que as impressoras trabalhassem diariamente, de forma simultânea e ininterrupta, durante
- (A) 5 horas e 30 minutos.  
(B) 5 horas e 40 minutos.  
(C) 6 horas e 15 minutos.  
(D) 6 horas e 45 minutos.  
(E) 7 horas e 30 minutos.

35. Uma torneira com defeito verte, de maneira uniforme e constante,  $1 \text{ cm}^3$  de água a cada meio minuto. Às 9 horas e 15 minutos, um recipiente com a forma de bloco retangular de base quadrada, mostrado na figura a seguir, inicialmente vazio, foi posicionado para recolher a água proveniente do vazamento. Esse recipiente ficou completamente cheio exatamente às 15 horas e 30 minutos.



Se a área da base desse recipiente é igual a  $100 \text{ cm}^2$ , então a sua altura, indicada por  $h$  na figura a seguir, é igual a

- (A) 9 cm.
- (B) 8,5 cm.
- (C) 8 cm.
- (D) 7,5 cm.
- (E) 7 cm.

## R A S C U N H O

## LEGISLAÇÃO

36. A Lei Orgânica do Município de São Joaquim da Barra estabelece, acerca da organização Municipal, entre outras previsões, o seguinte:
- (A) são poderes do Município, independentes e harmônicos entre si, o Legislativo, o Executivo e o Judiciário e são símbolos do Município a Bandeira, o Hino e o Brasão.
  - (B) o Município de São Joaquim da Barra é uma pessoa jurídica de direito público interno no pleno uso de sua autonomia pública, administrativa e financeira.
  - (C) ao Município compete suplementar a legislação estadual, no que couber e disser respeito ao seu peculiar interesse, o que não se aplica à legislação federal.
  - (D) o Município deve estabelecer diferença tributária entre bens e serviços, de qualquer natureza, em razão de sua procedência ou destino.
  - (E) ao Município compete exercer o poder de polícia, estabelecendo limitações ao tráfego de pessoas ou bens, por meio de tributos, excetuadas as tarifas de pedágio.
37. Hipoteticamente, suponha que os moradores de uma determinada localidade de São Joaquim da Barra expressem o desejo de que seja constituída uma administração regional naquele distrito, para que houvesse um posto mais próximo a suas residências que prestasse os serviços da administração municipal. Para que ocorra a criação de uma administração regional, como pleiteado pelos moradores, a Lei Orgânica do Município de São Joaquim da Barra prevê que é necessário que
- (A) o Prefeito tenha a iniciativa de propor a criação da administração regional e isso seja aprovado pela Câmara Municipal.
  - (B) haja um abaixo assinado que represente pelo menos 10% (dez por cento) dos moradores da localidade, endereçado ao Prefeito Municipal.
  - (C) haja um abaixo assinado que represente pelo menos 10% (dez por cento) dos moradores da localidade, endereçado à Câmara Municipal.
  - (D) a Câmara Municipal aprove a criação da administração regional, por maioria absoluta de votos.
  - (E) o Prefeito Municipal determine a criação da administração regional, por meio de um decreto municipal.

38. Considere a seguinte situação hipotética. Um agente público denuncia a um Vereador da Câmara Municipal de São Joaquim da Barra, um fato, supostamente ilícito, que teria ocorrido na repartição em que trabalha, no Setor de Educação, o qual poderia constituir desvio de dinheiro público. Diante da denúncia, o Vereador toma as medidas que são de sua competência, o que faz com que os fatos cheguem ao conhecimento da Prefeitura Municipal, que exige que o Vereador revele a identidade do agente público do Setor de Educação, responsável pela denúncia. Nesse caso, a Lei Orgânica do Município de São Joaquim da Barra prevê que o Vereador
- (A) não é obrigado a testemunhar sobre as informações recebidas no caso, mas é obrigado a comunicar, por escrito, qualquer tipo de denúncia à Comissão Apuratória da Prefeitura.
  - (B) é obrigado a declinar o nome da pessoa que lhe contou as informações e todos os dados obtidos, pois não lhe cabe invocar inviolabilidade nesta hipótese.
  - (C) não é obrigado a testemunhar sobre as informações recebidas no caso, mas deve informar a identidade do denunciante, porque é vedado o anonimato.
  - (D) é obrigado a repassar todas as informações obtidas à Prefeitura, por escrito, sob pena de incorrer em obstrução da investigação das supostas irregularidades.
  - (E) não é obrigado a testemunhar sobre informações recebidas ou prestadas em razão do exercício do mandato, nem sobre as pessoas que lhe contarem informações.
39. Assinale a alternativa que corretamente trata de previsões da Lei Orgânica do Município de São Joaquim da Barra acerca do processo legislativo.
- (A) Se o Prefeito julgar o projeto de lei, no todo ou em parte, inconstitucional ou contrário ao interesse público, silenciará pelo prazo de 15 (quinze) dias úteis, contados da data do recebimento e, automaticamente, ele será considerado vetado.
  - (B) A resolução destina-se a regular matéria político-administrativa da Câmara, de sua competência exclusiva, como a elaboração do Regimento Interno, por exemplo, que dependerá de posterior sanção ou veto do Prefeito Municipal.
  - (C) A proposta de Emenda à Lei Orgânica será discutida e votada em dois turnos, com interstício mínimo de 10 (dez) dias, considerando-se aprovada a que obtiver, em ambos, o voto de 2/3 (dois terços) dos membros da Câmara.
  - (D) Os projetos de lei de iniciativa popular serão discutidos e votados no prazo máximo de 180 (cento e oitenta) dias, garantida a defesa da propositura em Plenário pelos cinco primeiros signatários da propositura.
  - (E) A iniciativa de lei cabe a qualquer vereador, às Comissões da Câmara, à Mesa da Câmara, ao Prefeito, aos cidadãos e às entidades da sociedade civil de âmbito municipal, estabelecidas há mais de 3 (três) anos.
40. Acerca dos atos administrativos e conforme disciplinado pela Lei Orgânica do Município de São Joaquim da Barra, é correto afirmar que
- (A) a publicação dos atos normativos, pela imprensa, poderá ser resumida, mas a publicação de cópias de correspondência oficial, protocolos, índices de papéis e livros arquivados; licitações e contratos para obras e serviços; contrato de servidores; e contratos em geral deverá ser em inteiro teor.
  - (B) a Prefeitura é obrigada a fornecer, a qualquer interessado no prazo máximo de 15 (quinze) dias, certidões de atos, contratos e decisões, sob pena de caracterização como crime de responsabilidade do Prefeito, independente de a competência para a prática do ato ser atribuída a outro agente público competente.
  - (C) a forma adequada para a declaração de utilidade ou necessidade pública, ou de interesse social, para efeito de desapropriação ou de servidão administrativa é a portaria.
  - (D) a publicação das leis e dos atos municipais, salvo quando houver imprensa oficial, deverá ser feita por afixação em quadro próprio na sede da Prefeitura, ou por divulgação em órgão da imprensa local, ou, na sua inexistência, em jornal regional editado em município mais próximo.
  - (E) a portaria é a forma adequada para ser exteriorizada a abertura de créditos especiais e suplementares, até o limite autorizado por lei, assim como de créditos extraordinários.
41. Suponha que, durante o trâmite do processo legislativo da Lei Orçamentária Anual, um Vereador propõe que seja inserido um dispositivo que prevê a possibilidade de parcelamento de débitos fiscais que já tenham sido inscritos em dívida ativa há mais de 5 (cinco) anos. A Lei Orgânica do Município determina que a proposta do Vereador
- (A) seja acolhida, porque a proposta implica transposição, remanejamento ou transferência de recursos de uma categoria de programação para outra ou de um órgão para outro, o que é expressamente permitido.
  - (B) não seja acolhida, pois é vedada a concessão ou utilização de créditos com finalidade imprecisa ou com dotação ilimitada, sendo essa a consequência imediata da propositura do Vereador.
  - (C) seja acolhida, porque a realização de despesas ou a assunção de obrigações diretas que excedam os créditos orçamentários originais ou adicionais são instrumentos de boa gestão fiscal.
  - (D) seja acolhida, pois ela irá aumentar a arrecadação municipal, evitando-se a realização de operações de crédito em montante superior às despesas de capital, ou mesmo operação mediante créditos adicionais suplementares ou especiais.
  - (E) não seja acolhida, pois é vedada a inclusão na lei orçamentária de dispositivos estranhos à previsão da receita e à fixação da despesa, excluindo-se as autorizações para abertura de créditos adicionais suplementares e contratações de operações de crédito de qualquer natureza e objetivo.

42. Julgue o seguinte caso hipotético. A Câmara de Vereadores de São Joaquim da Barra se depara com a necessidade de apurar supostas infrações político-administrativas do Prefeito no desempenho de suas funções. Nos termos da Lei Orgânica do Município e do Regimento Interno, essa apuração, que deve verificar se houve ou não a suposta infração, deve ser realizada por uma Comissão
- (A) Especial de Inquérito, precedida de requerimento subscrito por 3/5 (três quintos) dos membros da Casa.
  - (B) de Representação que tem por finalidade representar a Câmara em atos externos de caráter relevante ou estudos sobre assuntos de interesse público.
  - (C) Processante instituída para tal finalidade, obedecidos, no que couber, os ritos processuais de uma cassação de mandato.
  - (D) Temporária, constituída para essa finalidade especial e que se extingue com o término da legislatura ou quando atingidos o fim para o qual foi criada.
  - (E) de Assuntos Relevantes, pois ela se destina à elaboração e apreciação de estudos e à tomada de posição da Câmara em matérias de reconhecida relevância.

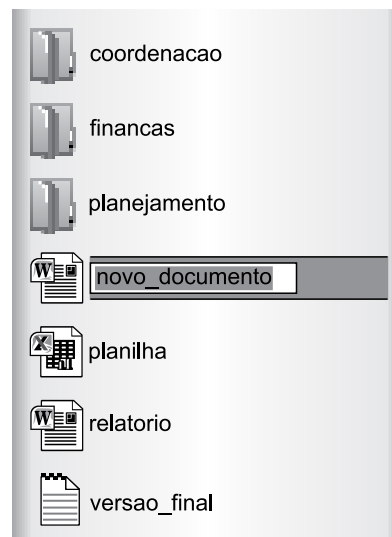
43. As proposições, segundo o Regimento Interno da Câmara de Vereadores de São Joaquim da Barra, deverão ser estruturadas em 3 (três) partes básicas:
- (A) parte preliminar, parte normativa e parte final.
  - (B) epígrafe, ementa e preâmbulo.
  - (C) parte preambular, parte dispositiva e parte conclusiva.
  - (D) objeto da lei, âmbito de aplicação da lei e disposições transitórias.
  - (E) parte introdutória, parte desenvolvimento e parte final.

44. Assinale a alternativa que corretamente traz a disciplina do Regimento Interno da Câmara dos Vereadores de São Joaquim da Barra sobre o processo de julgamento de contas do Prefeito Municipal.
- (A) Proposta a rejeição das contas, o Presidente da Câmara deverá enviar o ofício ao Prefeito para que se apresente no prazo de 10 (dez) dias úteis a defesa oral.
  - (B) A Câmara tem o prazo máximo de 90 (noventa) dias, a contar do recebimento do parecer prévio do Tribunal de Contas do Estado, para julgamento das contas do Prefeito Municipal.
  - (C) Parecer do Tribunal de Contas somente poderá ser rejeitado por decisão da maioria absoluta dos membros da Câmara, quando a deliberação for efetivada em até 180 (cento e oitenta) dias do recebimento do parecer prévio do Tribunal de Contas do Estado de São Paulo.
  - (D) Encaminhadas cópias aos vereadores do parecer do Tribunal de Contas do Estado, o processo será enviado à Comissão Permanente, que terá o prazo de 60 (sessenta) dias para manifestação, opinando sobre a aprovação, a rejeição, ou a devolução do parecer do Tribunal de Contas.
  - (E) Rejeitadas as contas pela Câmara Municipal de São Joaquim da Barra, deverá ser enviado ofício ao Ministério Público, a fim de que este verifique se a Câmara possui elementos para punir o Prefeito com a perda do mandato.

45. O Regimento Interno da Câmara dos Vereadores de São Joaquim da Barra prevê que o Prefeito e o Vice-Prefeito farão jus à remuneração mensal condigna, fixada
- (A) pelo próprio Prefeito Municipal, que será no máximo 95% (noventa e cinco por cento) do valor percebido pelo Governador do Estado de São Paulo.
  - (B) por lei de iniciativa conjunta do Prefeito Municipal e da Mesa da Câmara Municipal, observando-se o teto constitucional.
  - (C) pelo próprio Prefeito Municipal, no último ano de mandato, para vigorar no ano seguinte.
  - (D) pela Câmara Municipal no final da legislatura para vigorar na seguinte, observando-se o que preveem a Constituição Federal e a Lei Orgânica a respeito.
  - (E) pela Câmara Municipal que deverá observar valor capaz de garantir a manutenção do poder de compra dos ocupantes dos cargos do Executivo Municipal.

### NOÇÕES DE INFORMÁTICA

46. A imagem a seguir mostra um arquivo sendo renomeado no Windows Explorer do MS-Windows 7, em sua configuração padrão.



O usuário proprietário dos arquivos digitará “versao\_final” e em seguida apertará a tecla Enter, na intenção de renomear o arquivo atualmente de nome “novo\_documento”.

Assinale a alternativa que apresenta corretamente o resultado da ação descrita.

- (A) Aparecerá um aviso negando a ação por já existir um arquivo com o mesmo nome.
- (B) Aparecerá uma janela para confirmar a ação antes de trocar o nome atual.
- (C) O tipo do arquivo será alterado.
- (D) O nome do arquivo aparecerá como “versao\_final1”.
- (E) O arquivo será renomeado sem problemas.

47. Observe as imagens exibidas a seguir, de nomes ANTES e DEPOIS, que apresentam uma tabela sendo editada no MS-Word 2010, em sua configuração padrão.

ANTES

1	4	5	8	9
2	3		7	0
3	5	6	6	1

DEPOIS

1	4	5	8	9
2	3		7	0
3	5	6	6	1

A diferença entre as duas imagens é que sobre a tabela ANTES, o usuário selecionou a linha \_\_\_\_\_, clicou com o botão secundário do mouse sobre a primeira célula da linha selecionada e, em seguida, escolheu a opção Inserir e depois \_\_\_\_\_, de modo que o resultado é visível na tabela DEPOIS.

Assinale a alternativa que preenche, correta e respectivamente, as lacunas do enunciado.

- (A) 1 ... Inserir Linhas Acima
- (B) 1 ... Inserir Linhas Abaixo
- (C) 1 ... Inserir Colunas à Direita
- (D) 2 ... Inserir Linhas Acima
- (E) 2 ... Inserir Linhas Abaixo

48. A planilha a seguir foi editada por meio do MS-Excel 2010, em sua configuração padrão.

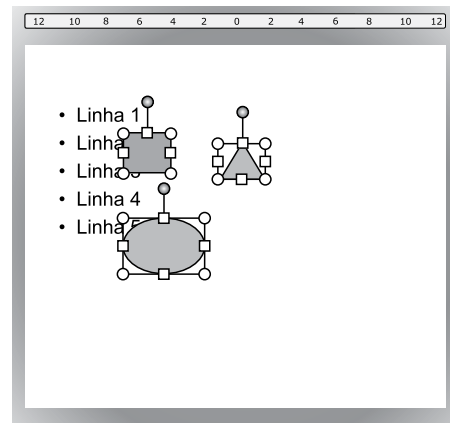
	A	B	C
1	4	3	4
2	5	7	5
3	9	6	2
4	1	2	8
5			

Assinale a alternativa que apresenta corretamente o valor na célula C5, após ser aplicada sobre essa célula, a fórmula =CONT.SE(A1:C4;">6")

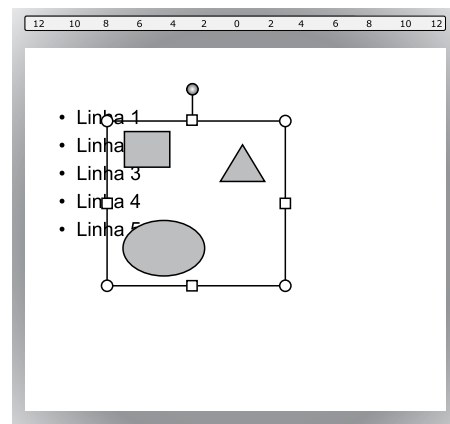
- (A) 1
- (B) 3
- (C) 4
- (D) 6
- (E) 8

49. As figuras a seguir mostram o mesmo slide sendo editado por meio do MS-PowerPoint 2010, em sua configuração padrão, em momentos distintos, ANTES e DEPOIS de uma ação.

ANTES



DEPOIS



Por meio da visualização das figuras, é possível perceber que a ação executada foi

- (A) agrupar objetos.
- (B) trazer para frente.
- (C) enviar para trás.
- (D) avançar.
- (E) recuar.

50. Os ícones a seguir pertencem ao MS-Outlook 2010, em sua configuração padrão.



Assinale a alternativa que apresenta corretamente o recurso a que se referem os ícones exibidos.

- (A) Encaminhamento.
- (B) Anexo.
- (C) Prioridade.
- (D) SPAM.
- (E) Assinatura.

## CONHECIMENTOS ESPECÍFICOS

### CONHECIMENTO DO LEGISLATIVO

- 51.** Assinale a alternativa que está em consonância com o disposto no Decreto-Lei nº 4.657/1942 (Lei de Introdução às normas do Direito Brasileiro).
- (A) Não se considera lei nova as correções a texto de lei já em vigor.
  - (B) A lei nova, que estabeleça disposições gerais ou especiais a par das já existentes, revoga a lei anterior.
  - (C) Salvo disposição em contrário, a lei revogada se restaura por ter a lei revogadora perdido a vigência.
  - (D) Quando a lei for omissa, o juiz decidirá o caso de acordo com o seu livre convencimento.
  - (E) Salvo disposição contrária, a lei começa a vigorar em todo o país quarenta e cinco dias depois de oficialmente publicada.
- 52.** Nos termos da Lei Complementar nº 95/1998, a vigência da lei será indicada de forma expressa e de modo a contemplar prazo razoável para que dela se tenha amplo conhecimento, reservada a cláusula “entra em vigor na data de sua publicação” para
- (A) as medidas provisórias.
  - (B) os decretos do Chefe do Poder Executivo.
  - (C) as leis de pequena repercussão.
  - (D) as emendas constitucionais.
  - (E) as leis que, expressamente, revogam leis anteriores.
- 53.** As autarquias
- (A) são pessoas jurídicas de direito privado e não podem ter seus bens penhorados.
  - (B) possuem patrimônio próprio e não têm capacidade política.
  - (C) detêm personalidade jurídica e são extintas por Decreto do Chefe do Poder Executivo.
  - (D) são entes da Administração Pública Direta e gozam de privilégios processuais.
  - (E) são criadas com a finalidade de explorar atividade econômica e gozam de imunidade tributária.
- 54.** No que diz respeito à invalidação dos atos administrativos, se o administrador público se deparar com um ato, claramente ilegal, que, em razão de sua função, teria que praticá-lo, o administrador
- (A) não pode deixar de praticá-lo, sob pena de responder civil, penal e administrativamente em razão de omissão nas suas funções públicas.
  - (B) pode deixar de praticá-lo, mas assumirá o risco das consequências que, eventualmente, advierem dessa conduta, e poderá ser punido.
  - (C) pode deixar de praticá-lo, considerando que a Administração pode invalidar seus próprios atos ilegais.
  - (D) deve requerer que o Poder Judiciário analise antes o ato e profira o devido julgamento se ele seria legal ou ilegal.
  - (E) deve solicitar um parecer ao seu chefe imediato sobre a legalidade do ato e, então, ficará isento de responsabilidade pelo ato praticado.
- 55.** Conforme dispõe a Constituição Federal, se o Prefeito julgar um projeto de lei no todo ou em parte, inconstitucional ou contrário ao interesse público,
- (A) devolvê-lo-á à Câmara dos Vereadores para uma nova votação.
  - (B) ficará obrigado a sancioná-lo.
  - (C) deve pedir ao Judiciário que anule o projeto.
  - (D) vetá-lo-á total ou parcialmente.
  - (E) mandará arquivá-lo.
- 56.** Na hipótese de um Deputado Federal discordar do andamento de um determinado projeto de lei, que entende violar as normas constitucionais atinentes ao processo legislativo, esse Parlamentar
- (A) terá como opções únicas o voto contrário e o uso da obstrução junto com os Parlamentares do seu partido político.
  - (B) poderá entrar com uma ação direta de inconstitucionalidade perante o Superior Tribunal de Justiça, para impedir a aprovação do projeto.
  - (C) poderá entrar com uma ação direta de inconstitucionalidade preventiva perante o Supremo Tribunal Federal, para paralisar o trâmite do projeto.
  - (D) nada poderá fazer, a não ser votar contra a aprovação do projeto de lei em plenário.
  - (E) poderá impetrar um mandado de segurança perante o Supremo Tribunal Federal, para sustar a tramitação do projeto, por violação do devido processo legislativo.

- 57.** Segundo a Constituição Federal, a cassação dos direitos políticos
- (A) é vedada.
  - (B) somente pode ser decretada pelo Poder Judiciário.
  - (C) pode ocorrer por ordem da Justiça Eleitoral em casos específicos.
  - (D) decorre da condenação criminal, transitada em julgado.
  - (E) é uma pena a ser imposta ao condenado por improbidade administrativa.
- 58.** Com relação à publicidade dos atos processuais, a Constituição Federal estabelece que
- (A) não pode ser restringida.
  - (B) pode ser restringida quando a defesa da intimidade ou o interesse social o exigirem.
  - (C) pode ser restringida a critério da autoridade administrativa competente.
  - (D) somente pode ser restringida pelo Poder Judiciário.
  - (E) o legislador é quem definirá quando ela poderá ser restringida.
- 59.** Assinale a alternativa correta a respeito das inelegibilidades.
- (A) A inelegibilidade consiste na falta de capacidade eleitoral ativa.
  - (B) As inelegibilidades relativas não são afastadas pela desincompatibilização.
  - (C) A inelegibilidade absoluta pode ser afastada por meio da desincompatibilização.
  - (D) A inelegibilidade absoluta está relacionada a características pessoais, atingindo todos os cargos eletivos.
  - (E) Os analfabetos constituem exemplo de inelegibilidade relativa.

- 60.** Assinale a alternativa cujo texto segue as orientações do Manual de Redação da Presidência da República quanto à redação oficial.
- (A) Tem este Aviso a finalidade de convidar todos vocês, senhores vereadores, para a seção de outorga do título de cidadão póstumo de São Joaquim da Barra ao cantor Chico Alves.
  - (B) Comunicamos que foi encaminhada ao Excelentíssimo Prefeito decisão desta Câmara Municipal de prestar justa homenagem a Sua Excelência, pela iniciativa de construção de novas unidades de saúde.
  - (C) De acordo com nosso regimento, o preclaro vereador vem procrastinando a entrega das notas fiscais que comprovam os gastos com combustível, cujo fato é motivo de penalidade.
  - (D) Na condição de Secretário dessa Câmara Municipal, cumprimento efusivamente Vossa Excelência pela indicação para compor a Comissão Especial, atenciosamente.
  - (E) Esclareço que já existe orientação do Presidente desta Casa para que todo assessor, inclusive V.Ex<sup>a</sup>, compareça a sua sala para retirada de pastas de documentos, o que deverá ocorrer o mais breve possível.

