



CÂMARA MUNICIPAL DE SÃO JOAQUIM DA BARRA

ESTADO DE SÃO PAULO

CONCURSO PÚBLICO

005. PROVA OBJETIVA

ENCARREGADO DE COMPRAS E LICITAÇÃO

- ◆ Você recebeu sua folha de respostas e este caderno contendo 60 questões objetivas.
- ◆ Confira seus dados impressos na capa deste caderno e na folha de respostas.
- ◆ Quando for permitido abrir o caderno, verifique se está completo ou se apresenta imperfeições. Caso haja algum problema, informe ao fiscal da sala.
- ◆ Leia cuidadosamente todas as questões e escolha a resposta que você considera correta.
- ◆ Marque, na folha de respostas, com caneta esferográfica de tinta preta, a letra correspondente à alternativa que você escolheu.
- ◆ A duração da prova é de 3 horas e 30 minutos, já incluído o tempo para o preenchimento da folha de respostas.
- ◆ Só será permitida a saída definitiva da sala e do prédio após transcorridos 75% do tempo de duração da prova.
- ◆ Ao sair, você entregará ao fiscal a folha de respostas e este caderno, podendo levar apenas o rascunho de gabarito, localizado em sua carteira, para futura conferência.
- ◆ Até que você saia do prédio, todas as proibições e orientações continuam válidas.

AGUARDE A ORDEM DO FISCAL PARA ABRIR ESTE CADERNO DE QUESTÕES.

Nome do candidato _____

RG _____

Inscrição _____

Prédio _____

Sala _____

Carteira _____

CONHECIMENTOS GERAIS

LÍNGUA PORTUGUESA

Leia a tira, para responder às questões de números 01 e 02.



(Orlandeli, Grump. *Diário da Região*, 22.04.2018)

01. À vista dos elementos textuais da tira, é correto concluir que,

- (A) mesmo em situação de inferioridade, um dos lutadores encara a luta com uma motivação prática bem definida.
- (B) contando com a sorte, o grandalhão poderá impor-se ao adversário e garantir sua vitória e o prêmio.
- (C) se conseguir vencer a luta, o grandalhão fará jus ao prêmio financeiro, conforme divulgado no cartaz.
- (D) quando a luta começar, o pequeno lutador terá de desistir, sob pena de ser desmoralizado pelo público.
- (E) lutando em igualdade de condições físicas, os contendores veem na luta uma forma de ganhar dinheiro fácil.

02. Assinale a alternativa que emprega corretamente as formas verbais presentes no texto, preenchendo as lacunas do seguinte enunciado.

Para que _____ Killer Joe com chance de sucesso, seria necessário que o pequeno Grump também _____ o grandalhão. Mas o público considera pouco provável que ele o _____ ou _____.

- (A) encare ... destrua ... quebrasse ... massacrasse
- (B) encarasse ... destruisse ... quebre ... massacre
- (C) encare ... destruisse ... quebra ... massacra
- (D) encarasse ... destrua ... quebre ... massacra
- (E) encarasse ... destrua ... quebre ... massacrasse

Leia o texto, para responder às questões de números 03 a 09.

Uma história literária do fanatismo

A palavra “fanático” nem sempre foi um insulto ou uma acusação: até onde se sabe, pode ter começado como uma espécie de elogio. O termo latino *fanaticus* vem de *fanus* – um altar ou um santuário. Designava o benfeitor de um templo, ou um indivíduo diretamente inspirado pelos deuses; um mecenas das artes sacras ou um artista invulgarmente talentoso poderiam ser, a sua maneira, fanáticos.

Cícero, no século I a.C., talvez tenha sido o primeiro a usar a palavra de forma pejorativa – numa de suas orações, o termo vira sinônimo de supersticioso.

Centenas de anos depois, Voltaire chegou a uma definição mais próxima daquela que usamos hoje. “O fanatismo é uma doença da mente, que se transmite da mesma forma que a varíola”, escreve no *Dicionário Filosófico*, de 1764. “Não se transmite tanto por livros quanto por discursos e reuniões. Raramente nos sentimos exaltados quando estamos lendo sozinhos, com a mente tranquila e sedada.”

Não sei até que ponto concordo com a indulgência plenária que Voltaire concede aos livros: poderíamos encher uma razoável biblioteca com obras que inspiraram paixões sangrentas. Mas o iluminista francês parece aproximar-se de uma verdade atemporal ao apontar a **natureza gregária** e contagiosa do fanatismo. Como uma força da natureza, essa praga mental se propaga pela **ânsia exacerbada** de unanimidade e pelo horror ao pensamento independente. Um contágio mais propenso a afetar manadas do que eremitas.

(José Francisco Botelho. *Veja*, 25.04.2018. Adaptado)

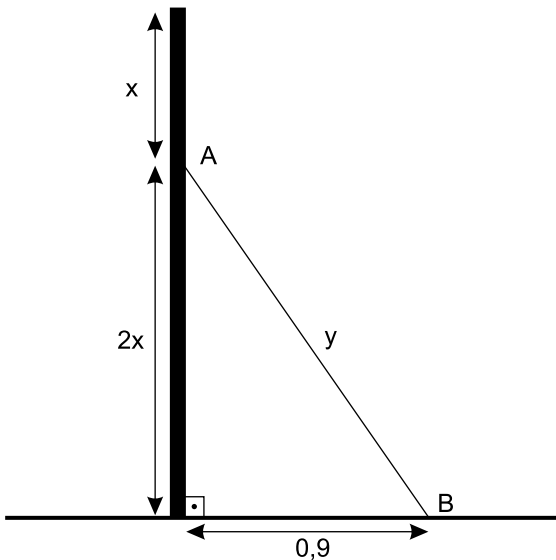
03. É correto deduzir do texto que,

- (A) apesar de reconhecer certa razão em Voltaire, o autor se recusa a atribuir sentido pejorativo à palavra “fanático”.
- (B) desde a antiguidade, a ideia de fanatismo carrega o sentido pouco abonador de doença do espírito.
- (C) segundo Voltaire, é necessário reconhecer a influência dos livros na formação de ideias de violência.
- (D) quando a mente se despe de ideias preconcebidas, a tendência ao fanatismo pode ser mais contagiosa.
- (E) do ponto de vista do autor, a concepção de fanatismo é associada à ideia de irracionalidade e de transmissibilidade por influência.

04. De acordo com informações do texto, é correto afirmar que o sentido que Cícero atribui à palavra “fanático”
- (A) coincide com a definição de Voltaire quanto à ideia de transmissibilidade.
 - (B) também se caracteriza pela ideia de desejo intenso de unanimidade.
 - (C) deriva da acepção do termo no latim, no que diz respeito ao mecenato.
 - (D) mantém vínculo com a concepção atual quanto à carga pejorativa.
 - (E) poderá ser retomado em textos produzidos pelos adeptos do Iluminismo.
05. No contexto das expressões destacadas no último parágrafo, os adjetivos **gregária** e **exacerbada** significam, correta e respectivamente,
- (A) propensa a isolar-se ... acumulada
 - (B) independente de motivações ... assoberbada
 - (C) tendente a agrupar-se ... intensificada
 - (D) carente de coerência ... aumentada
 - (E) aderente a mitos ... desmedida
06. Na passagem – Não sei até que ponto concordo com a indulgência plenária que Voltaire concede aos livros: poderíamos encher uma razoável biblioteca com obras que inspiraram paixões sangrentas. – os dois-pontos introduzem uma sequência contendo
- (A) uma retificação e poderiam ser substituídos pela conjunção “mas”.
 - (B) uma conclusão e poderiam ser substituídos pela conjunção “portanto”.
 - (C) um adendo e poderiam ser substituídos pela conjunção “e”.
 - (D) uma contestação e poderiam ser substituídos pela conjunção “nem”.
 - (E) uma justificativa e poderiam ser substituídos pela conjunção “pois”.
07. Assinale a alternativa que substitui, respectivamente e de acordo com a norma-padrão de regência, as expressões destacadas nas passagens – a indulgência plenária que Voltaire **concede aos** livros / Mas o iluminista francês parece **aproximar-se de** uma verdade atemporal / Um contágio mais **propenso a** afetar manadas do que eremitas.
- (A) outorga aos / chegar-se a / tendente para
 - (B) confere nos / avizinhar-se a / inclinado em
 - (C) outorga nos / avizinhar-se em / inclinado a
 - (D) outorga dos / chegar-se em / tendente de
 - (E) confere aos / avizinhar-se por / inclinado em
08. A passagem do texto em que o(s) termo(s) destacado(s) imprime(m) ao contexto ideia de comparação é:
- (A) ... poderíamos encher uma razoável biblioteca com obras **que** inspiraram paixões sangrentas.
 - (B) Designava o benfeitor de um templo, **ou** um indivíduo diretamente inspirado pelos deuses.
 - (C) “Não se transmite **tanto** por livros **quanto** por discursos e reuniões.”
 - (D) “Raramente nos sentimos exaltados **quando** estamos lendo sozinhos, com a mente tranquila e sedada.”
 - (E) **Mas** o iluminista francês parece aproximar-se de uma verdade atemporal...
09. A alternativa em que o pronome destacado pode ser colocado depois do verbo, sem contrariar a norma-padrão é:
- (A) Até onde **se** sabe...
 - (B) ... doença da mente, que **se** transmite da mesma forma que a varíola...
 - (C) Não **se** transmite tanto por livros...
 - (D) Raramente **nos** sentimos exaltados...
 - (E) ... essa praga mental **se** propaga pela ânsia exacerbada...
10. A concordância nominal e verbal está de acordo com a norma-padrão em:
- (A) Vocês mesmo podem responder ao questionário e enviá-lo às pessoas que o elaborou.
 - (B) É necessário cautela ao votar, para não se eleger candidatos que só promete mas não cumpre.
 - (C) Ficou gravado em sua mente, por muitos anos, aquela cena deplorável envolvendo as amigas e o rapaz que as agrediram.
 - (D) Penso em remeter-lhes, anexas ao relatório, as fotos do local, que entendo serem bastante esclarecedoras.
 - (E) Foram escolhidos os candidatos melhores classificados para assumir as vagas que se divulgou no edital.

11. Duas funcionárias de uma Câmara Municipal trabalham na digitação de certo projeto de lei, cabendo a cada uma digitar exatamente a metade do número total de páginas desse projeto. Sabe-se que uma delas já digitou $\frac{2}{5}$ e que a outra já digitou $\frac{2}{3}$ do número de páginas que deveriam digitar, e que ambas já digitaram, juntas, 32 páginas. Desse modo, para a conclusão desse trabalho, será necessário digitar mais uma quantidade de páginas igual a
- (A) 30.
(B) 28.
(C) 26.
(D) 25.
(E) 20.
12. Um encarregado de Recursos Humanos recebeu 420 blocos de formulários do tipo A, 720 blocos do tipo B e 300 blocos do tipo C. Pretende distribuí-los em pacotes, sem misturar tipos, de modo que não haja sobras. Todos os pacotes devem ter a mesma quantidade de blocos, sendo essa quantidade a maior possível. Nessas condições, o número de pacotes contendo blocos de formulários do tipo A será igual a
- (A) 12.
(B) 10.
(C) 8.
(D) 7.
(E) 5.
13. Do grupo de vereadores que integram uma Câmara Municipal, sabe-se que $\frac{2}{5}$ são mulheres, todas reeleitas para a atual legislatura, e que $\frac{5}{6}$ dos homens também foram reeleitos. Nesse grupo de vereadores, a razão entre o número de mulheres e o de homens que foram reeleitos para a atual legislatura é
- (A) $\frac{4}{5}$
(B) $\frac{3}{4}$
(C) $\frac{2}{3}$
(D) $\frac{3}{5}$
(E) $\frac{1}{2}$

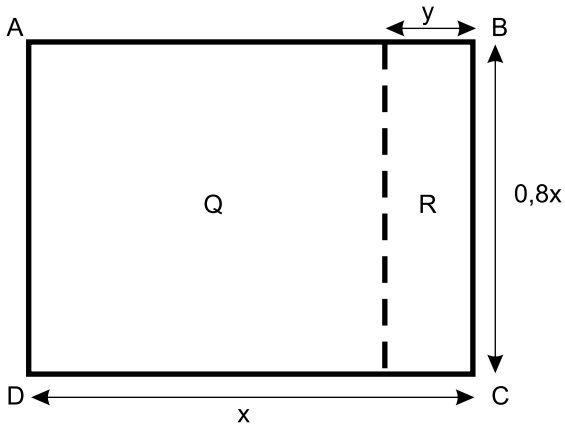
14. Uma prova de um processo seletivo foi realizada para um grupo de candidatos em que havia 10 mulheres a mais que o número de homens. A média aritmética das notas dos homens nessa prova foi 7 e a das mulheres foi 8. Se a média aritmética das notas de todo o grupo foi 7,6, então o número de mulheres nesse grupo era igual a
- (A) 20.
(B) 25.
(C) 30.
(D) 35.
(E) 40.
15. Um atacadista vende o produto de limpeza L em garrações, com 8 litros em cada um, e o produto de limpeza M em garrações, com 5 litros em cada um. Um pedido, para ambos os produtos, continha um total de 70 garrações e 470 litros. Desse modo, o número de litros do produto L entregues nesse pedido foi igual a
- (A) 150.
(B) 195.
(C) 230.
(D) 275.
(E) 320.
16. Uma barra metálica retilínea tem uma das extremidades posicionada no solo (ponto B) e a outra extremidade apoiada em um muro (ponto A), conforme mostra a figura, cujas dimensões estão indicadas em metros.



Se o muro tem 1,8 m de altura, então o comprimento da barra metálica é igual a

- (A) 1,5 m.
(B) 1,4 m.
(C) 1,3 m.
(D) 1,2 m.
(E) 1,1 m.

17. Uma incorporadora comprou um terreno retangular R, anexo a um terreno quadrado Q, que já possuía, formando o terreno retangular ABCD, conforme mostra a figura, cujas dimensões indicadas estão em metros.



Se a área do terreno ABCD é 1280 m^2 , então $\frac{y}{0,8x}$ é igual a

- (A) 0,20.
 (B) 0,25.
 (C) 0,30.
 (D) 0,35.
 (E) 0,40.
18. Em uma promoção, certo produto recebeu um desconto de 40% sobre o preço de etiqueta (P_E) e passou a ser vendido por P. Sabendo-se que P é igual ao preço de custo (P_C) desse produto acrescido em 50%, é correto afirmar que o preço de etiqueta é igual ao preço de custo desse produto acrescido em
- (A) 90%
 (B) 100%
 (C) 120%
 (D) 125%
 (E) 150%
19. Em um recipiente havia, inicialmente, n litros de certo produto. Se a quantidade total fosse dividida igualmente entre os 40 frascos previstos, cada frasco receberia x mililitros. Porém, como 5 frascos estavam quebrados, a divisão foi feita entre os frascos restantes e, desse modo, cada frasco recebeu $(x+40)$ mililitros. Sabe-se que o preço de um litro desse produto é R\$ 36,00. Se o preço de venda for diretamente proporcional ao volume vendido, então o preço de venda de um frasco que contiver $(x+40)$ mililitros será igual a
- (A) R\$ 10,08.
 (B) R\$ 11,52.
 (C) R\$ 12,20.
 (D) R\$ 13,50.
 (E) R\$ 13,64.

20. Uma empresa produz, comercializa no mercado interno e também exporta determinado produto. A tabela a seguir, com alguns números substituídos por letras, relaciona o número de unidades desse produto vendidas no mercado interno e externo nos anos de 2016 e 2017.

	2016	2017
Mercado Externo (nº de unidades)	x	1,24x
Mercado Interno (nº de unidades)	0,8x	0,92x

De acordo com os dados da tabela, é correto afirmar que o número total de unidades vendidas em 2017 teve, em relação ao número total de unidades vendidas em 2016, um crescimento de

- (A) 8%
- (B) 16%
- (C) 20%
- (D) 22%
- (E) 25%

R A S C U N H O

LEGISLAÇÃO

21. A Lei Orgânica do Município de São Joaquim da Barra estabelece, acerca da organização Municipal, entre outras previsões, o seguinte:

- (A) são poderes do Município, independentes e harmônicos entre si, o Legislativo, o Executivo e o Judiciário e são símbolos do Município a Bandeira, o Hino e o Brasão.
- (B) o Município de São Joaquim da Barra é uma pessoa jurídica de direito público interno no pleno uso de sua autonomia pública, administrativa e financeira.
- (C) ao Município compete suplementar a legislação estadual, no que couber e disser respeito ao seu peculiar interesse, o que não se aplica à legislação federal.
- (D) o Município deve estabelecer diferença tributária entre bens e serviços, de qualquer natureza, em razão de sua procedência ou destino.
- (E) ao Município compete exercer o poder de polícia, estabelecendo limitações ao tráfego de pessoas ou bens, por meio de tributos, excetuadas as tarifas de pedágio.

22. Considere a seguinte situação hipotética. Um agente público denuncia a um Vereador da Câmara Municipal de São Joaquim da Barra, um fato, supostamente ilícito, que teria ocorrido na repartição em que trabalha, no Setor de Educação, o qual poderia constituir desvio de dinheiro público. Diante da denúncia, o Vereador toma as medidas que são de sua competência, o que faz com que os fatos cheguem ao conhecimento da Prefeitura Municipal, que exige que o Vereador revele a identidade do agente público do Setor de Educação, responsável pela denúncia. Nesse caso, a Lei Orgânica do Município de São Joaquim da Barra prevê que o Vereador

- (A) não é obrigado a testemunhar sobre as informações recebidas no caso, mas é obrigado a comunicar, por escrito, qualquer tipo de denúncia à Comissão Apuratória da Prefeitura.
- (B) é obrigado a declinar o nome da pessoa que lhe contou as informações e todos os dados obtidos, pois não lhe cabe invocar inviolabilidade nesta hipótese.
- (C) não é obrigado a testemunhar sobre as informações recebidas no caso, mas deve informar a identidade do denunciante, porque é vedado o anonimato.
- (D) é obrigado a repassar todas as informações obtidas à Prefeitura, por escrito, sob pena de incorrer em obstrução da investigação das supostas irregularidades.
- (E) não é obrigado a testemunhar sobre informações recebidas ou prestadas em razão do exercício do mandato, nem sobre as pessoas que lhe contarem informações.

23. Julgue o seguinte caso hipotético. A Câmara de Vereadores de São Joaquim da Barra se depara com a necessidade de apurar supostas infrações político-administrativas do Prefeito no desempenho de suas funções. Nos termos da Lei Orgânica do Município e do Regimento Interno, essa apuração, que deve verificar se houve ou não a suposta infração, deve ser realizada por uma Comissão

- (A) Especial de Inquérito, precedida de requerimento subscrito por 3/5 (três quintos) dos membros da Casa.
- (B) de Representação que tem por finalidade representar a Câmara em atos externos de caráter relevante ou estudos sobre assuntos de interesse público.
- (C) Processante instituída para tal finalidade, obedecidos, no que couber, os ritos processuais de uma cassação de mandato.
- (D) Temporária, constituída para essa finalidade especial e que se extingue com o término da legislatura ou quando atingidos o fim para o qual foi criada.
- (E) de Assuntos Relevantes, pois ela se destina à elaboração e apreciação de estudos e à tomada de posição da Câmara em matérias de reconhecida relevância.

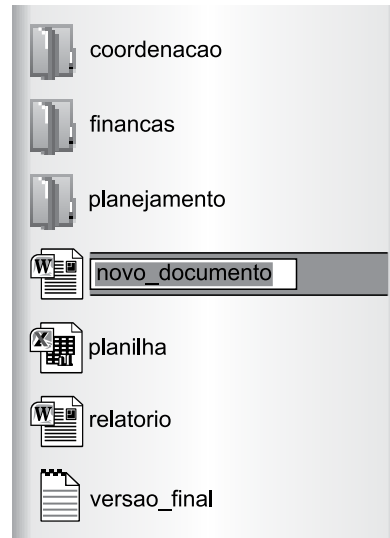
24. As proposições, segundo o Regimento Interno da Câmara de Vereadores de São Joaquim da Barra, deverão ser estruturadas em 3 (três) partes básicas:

- (A) parte preliminar, parte normativa e parte final.
- (B) epígrafe, ementa e preâmbulo.
- (C) parte preambular, parte dispositiva e parte conclusiva.
- (D) objeto da lei, âmbito de aplicação da lei e disposições transitórias.
- (E) parte introdutória, parte desenvolvimento e parte final.

25. Assinale a alternativa que corretamente traz a disciplina do Regimento Interno da Câmara dos Vereadores de São Joaquim da Barra sobre o processo de julgamento de contas do Prefeito Municipal.

- (A) Proposta a rejeição das contas, o Presidente da Câmara deverá enviar o ofício ao Prefeito para que se apresente no prazo de 10 (dez) dias úteis a defesa oral.
- (B) A Câmara tem o prazo máximo de 90 (noventa) dias, a contar do recebimento do parecer prévio do Tribunal de Contas do Estado, para julgamento das contas do Prefeito Municipal.
- (C) Parecer do Tribunal de Contas somente poderá ser rejeitado por decisão da maioria absoluta dos membros da Câmara, quando a deliberação for efetivada em até 180 (cento e oitenta) dias do recebimento do parecer prévio do Tribunal de Contas do Estado de São Paulo.
- (D) Encaminhadas cópias aos vereadores do parecer do Tribunal de Contas do Estado, o processo será enviado à Comissão Permanente, que terá o prazo de 60 (sessenta) dias para manifestação, opinando sobre a aprovação, a rejeição, ou a devolução do parecer do Tribunal de Contas.
- (E) Rejeitadas as contas pela Câmara Municipal de São Joaquim da Barra, deverá ser enviado ofício ao Ministério Público, a fim de que este verifique se a Câmara possui elementos para punir o Prefeito com a perda do mandato.

26. A imagem a seguir mostra um arquivo sendo renomeado no Windows Explorer do MS-Windows 7, em sua configuração padrão.



O usuário proprietário dos arquivos digitará “versao_final” e em seguida apertará a tecla Enter, na intenção de renomear o arquivo atualmente de nome “novo_documento”.

Assinale a alternativa que apresenta corretamente o resultado da ação descrita.

- (A) Aparecerá um aviso negando a ação por já existir um arquivo com o mesmo nome.
- (B) Aparecerá uma janela para confirmar a ação antes de trocar o nome atual.
- (C) O tipo do arquivo será alterado.
- (D) O nome do arquivo aparecerá como “versao_final1”.
- (E) O arquivo será renomeado sem problemas.

27. Observe as imagens exibidas a seguir, de nomes ANTES e DEPOIS, que apresentam uma tabela sendo editada no MS-Word 2010, em sua configuração padrão.

ANTES

1	4	5	8	9
2	3		7	0
3	5	6	6	1

DEPOIS

1	4	5	8	9
2	3		7	0
3	5	6	6	1

A diferença entre as duas imagens é que sobre a tabela ANTES, o usuário selecionou a linha _____, clicou com o botão secundário do mouse sobre a primeira célula da linha selecionada e, em seguida, escolheu a opção Inserir e depois _____, de modo que o resultado é visível na tabela DEPOIS.

Assinale a alternativa que preenche, correta e respectivamente, as lacunas do enunciado.

- (A) 1 ... Inserir Linhas Acima
- (B) 1 ... Inserir Linhas Abaixo
- (C) 1 ... Inserir Colunas à Direita
- (D) 2 ... Inserir Linhas Acima
- (E) 2 ... Inserir Linhas Abaixo

28. A planilha a seguir foi editada por meio do MS-Excel 2010, em sua configuração padrão.

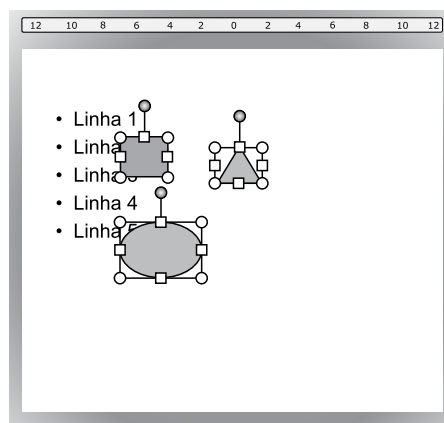
	A	B	C
1	4	3	4
2	5	7	5
3	9	6	2
4	1	2	8
5			

Assinale a alternativa que apresenta corretamente o valor na célula C5, após ser aplicada sobre essa célula, a fórmula =CONT.SE(A1:C4;">6")

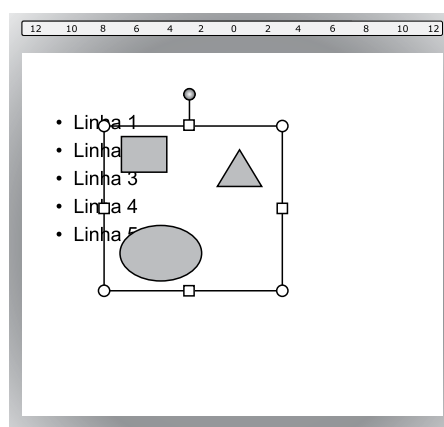
- (A) 1
- (B) 3
- (C) 4
- (D) 6
- (E) 8

29. As figuras a seguir mostram o mesmo slide sendo editado por meio do MS-PowerPoint 2010, em sua configuração padrão, em momentos distintos, ANTES e DEPOIS de uma ação.

ANTES



DEPOIS



Por meio da visualização das figuras, é possível perceber que a ação executada foi

- (A) agrupar objetos.
- (B) trazer para frente.
- (C) enviar para trás.
- (D) avançar.
- (E) recuar.

30. Os ícones a seguir pertencem ao MS-Outlook 2010, em sua configuração padrão.



Assinale a alternativa que apresenta corretamente o recurso a que se referem os ícones exibidos.

- (A) Encaminhamento.
- (B) Anexo.
- (C) Prioridade.
- (D) SPAM.
- (E) Assinatura.

CONHECIMENTOS ESPECÍFICOS

ROTINAS DE COMPRAS

31. Após uma reforma das Unidades Básicas de Saúde (UBS) do Município, o setor de compras ficou encarregado da aquisição de cerca de 1000 lâmpadas de LED, em substituição às lâmpadas incandescentes comuns, para a iluminação interna e externa dos equipamentos. Sobre o procedimento de compras das lâmpadas, assinale a alternativa correta.
- (A) Para atingir maior eficiência, é recomendado que a compra seja realizada separadamente em cada UBS, pois isso torna mais fácil a realização de dispensa de licitação.
 - (B) Por se tratar de produto de alto valor tecnológico, recomenda-se realizar compra por inexibibilidade de licitação.
 - (C) Lâmpadas comuns apresentariam maiores vantagens, já que as potenciais economias de energia no custeio e ganhos de durabilidade estão excluídas da análise de economicidade da compra.
 - (D) A compra de 10000 lâmpadas pode levar a um custo global menor, uma vez que os custos com estocagem anual dos produtos excedentes são pequenos em relação ao custo unitário.
 - (E) O assistente de compras deverá consultar as exigências de iluminação, a fim de atingir uma especificação padronizada e que atenda às necessidades do equipamento público.
32. Recentemente a biblioteca do município X teve problemas com o contrato de prestação de serviços de limpeza e conservação das áreas da biblioteca. Segundo os usuários, os banheiros não têm sido limpos diariamente. O diretor da biblioteca pediu ao encarregado de compras que avaliasse quais melhorias poderiam ser feitas na rotina de compras da unidade para que os serviços pudessem ser melhor prestados. Sobre essa avaliação, assinale a alternativa correta.
- (A) Cabe a administração pública esperar o fim do contrato e licitá-lo novamente, já que o atual contrato é inadequado para as necessidades da biblioteca.
 - (B) A responsabilidade da qualidade do serviço é da empresa contratada, mesmo que a administração tenha subdimensionado a necessidade dos serviços no momento do planejamento da compra.
 - (C) A percepção dos usuários sobre a qualidade dos serviços prestados é suficiente para identificar as causas da má qualidade dos serviços.
 - (D) Além de assegurar que a execução contratual atual esteja conforme estabelecido no contrato, a administração pública deve analisar se os serviços estão corretamente dimensionados, de modo a aprimorar a próxima contratação.
 - (E) O próximo contrato precisará destinar mais recursos do orçamento, mesmo que se conclua que os serviços estavam corretamente dimensionados no momento da contratação.
33. A Secretaria de Educação possui uma ampla rede de Educação Infantil. Assinale a alternativa que contém as informações necessárias para efetuar o planejamento da contratação de serviços de preparação de merenda escolar para esse segmento.
- (A) Número de alunos matriculados na rede em tempo integral, diretrizes de alimentação escolar e equipamentos disponíveis em cada escola (fogão, geladeira, mesas entre outros).
 - (B) Atestados de capacidade técnica das empresas, nome das empresas que venceram o contrato anterior, parecer jurídico para contratação anterior.
 - (C) Orçamento disponível na Secretaria de Educação, preço de alimentos como carne e frango, número de cadeiras no refeitório.
 - (D) Número de refeições servidas há 5 anos, histórico de pagamentos das empresas fornecedoras, refeições servidas em municípios vizinhos.
 - (E) Número de estudantes no ensino médio, número de vagas disponíveis na educação infantil, projeção de população do IBGE.
34. Um medicamento usado em pacientes com doenças crônicas como diabetes e hipertensão é comprado anualmente pela Secretaria de Saúde municipal. Esse remédio possui registro de preços no Sistema Único de Saúde, de modo que o município pode efetuar a compra por meio de uma adesão no chamado Banco de Preços da Saúde. Sobre o sistema de registro de preços, afirmar-se também que
- (A) nas licitações realizadas para fins de constituição das atas nacionais de registro de preços é vedada a utilização da modalidade pregão.
 - (B) o sistema de registro de preços pressupõe uma constante atualização dos preços vigentes no sistema, que podem depender de flutuações nos preços dos insumos utilizados para a produção de medicamentos.
 - (C) sendo a compra para a administração pública, as condições de aquisição dos produtos por meio do sistema de registro de preços devem ser diferentes daquelas utilizadas por hospitais privados.
 - (D) apesar das vantagens do sistema de registro de preços, os municípios devem adquirir quantidade fixa de medicamentos, o que cria desvantagens.
 - (E) o uso do sistema de registro de preços substitui a tarefa de planejamento da compra e estimativa das necessidades.

- 35.** Assinale a alternativa correta em que o processo de compras provoca interferências no processo de execução orçamentária:
- (A) quando o setor de compras estuda o mercado de computadores, a fim de atingir a especificação que mais atende a necessidade da administração pública.
 - (B) quando a administração decide estender o processo de consulta pública relacionado a uma contratação.
 - (C) quando, em função de falha no projeto básico, o término de uma obra se estende por mais 18 meses.
 - (D) quando a administração liquida despesas já empenhadas.
 - (E) quando a administração atesta que o produto foi entregue de acordo com as especificações do edital.
- 36.** Anualmente, a prefeitura do município X realiza comemoração do aniversário da cidade. Na praça principal é montado um palco para apresentações musicais, um mercado de artesanato e um local para alimentação.
- Assinale a alternativa que caracteriza adequadamente o objeto de uma licitação relacionada à realização do evento.
- (A) Contratação de empresa para a realização de todos os eventos da cidade nos próximos 10 anos, sem denominação definida.
 - (B) Aquisição de ambulâncias, cadeiras, e equipamento de som em lote único para fins de realização do evento de aniversário da cidade.
 - (C) Contratação de consultoria para ressignificação do aniversário da cidade.
 - (D) Contratação de serviços especializados de planejamento, montagem e coordenação de eventos para o aniversário da cidade.
 - (E) Contratação de fornecimento de energia elétrica junto à concessionária de energia para sede da Secretaria de Turismo do município.
- 37.** Sobre o projeto básico ou termo de referência, é correto afirmar que
- (A) para garantir a qualidade do produto e serviço, o termo de referência deve sugerir as principais marcas do mercado.
 - (B) para evitar falhas na execução dos serviços contratados, a administração deve evitar especificar resultados nos termos de referência ou projetos básicos.
 - (C) os preços obtidos na pesquisa mercadológica, bem como a competitividade da licitação dependem da qualidade do termo de referência ou projeto básico.
 - (D) a modalidade da licitação é definida pelo projeto básico ou termo de referência.
 - (E) o uso de dados históricos, projeções e estimativas tendem a direcionar a licitação.
- 38.** Na área da assistência social, uma prefeitura realiza convênios com entidades sem fins lucrativos encarregadas de prover serviços aos cidadãos com deficiências. Como previsto na lei de licitações, a escolha da instituição pode ser feita mediante dispensa de licitação. Por essa razão,
- (A) a dispensa do processo licitatório implica em que a contratação da entidade ocorra sem referência aos preços e às práticas do mercado.
 - (B) por se tratar de serviço de assistência social, a entidade está dispensada de apresentar plano de trabalho.
 - (C) a análise jurídica do termo de convênio, assim como a licitação, é dispensável.
 - (D) o processo de prestação de contas é definido pela conferência das notas fiscais.
 - (E) o processo de prestação de contas levará em conta metas e resultados que devem ser definidos no termo de convênio.
- 39.** A previsão de despesas e a lei orçamentária anual constituem ferramentas de planejamento da administração pública. Sobre a relação do processo de planejamento com a rotina de compras dos entes da administração municipal, é correto afirmar que
- (A) a rotina de compras é um meio para alterar os objetivos estabelecidos no processo de planejamento, quando este encontra-se desatualizado.
 - (B) por meio da rotina de compras é possível apoiar o atendimento dos objetivos programáticos estabelecidos nas ferramentas de planejamento da administração pública.
 - (C) o planejamento e a rotina de compras partem de princípios distintos: no primeiro deve-se priorizar a transparência e na segunda o sigilo, pois trata de temas comerciais.
 - (D) enquanto o processo de planejamento prevê a participação popular, a rotina de compras públicas deve ser um assunto interno da administração.
 - (E) para um mesmo objetivo de política pública estabelecido no processo de planejamento há uma modalidade correspondente de licitação.

40. O município X possui contrato de serviços de aluguel de veículos sem motorista para a realização de alguns serviços municipais, como por exemplo a fiscalização de posturas municipais. A área gestora do contrato observou que muitos veículos ficavam ociosos e que os valores e quantitativos poderiam ser reduzidos em pelo menos 20%. Sobre o processo de aditamento contratual e negociação com fornecedores,
- (A) o processo de aditamento contratual tem como condição o inadimplemento do contrato por parte do fornecedor.
 - (B) a hipótese de aditamento de 20% a menos encontra-se acima do limite estabelecido em lei, portanto será necessária realizar nova licitação.
 - (C) como este aditamento representa economia de recursos, a administração está autorizada a fazê-lo enquanto um aumento de 20% é vedado.
 - (D) é necessário o acordo entre as partes para diminuir os quantitativos, mantidas as demais condições de execução contratual.
 - (E) após a formalização do termo de aditamento, a administração deverá cancelar o empenho correspondente à diminuição.
41. Recentemente a administração municipal buscou adequar suas contratações, buscando aplicar tratamento diferenciado dado a microempresas e empresas de pequeno porte. Uma delas se refere à construção de uma pista de skate na cidade. Sobre essa contratação, é correto afirmar:
- (A) o serviço tem natureza divisível, uma vez que a contratação por empreitada integral permite a separação de 25% do valor, referente ao acabamento.
 - (B) o município poderá apresentar regulamentação do dispositivo federal, diminuindo o tratamento diferenciado.
 - (C) o tratamento diferenciado dispensa a necessidade do uso de referenciais de mercado e pesquisa mercadológica.
 - (D) embora a obra seja de natureza indivisível, ainda assim a administração pode exigir a subcontratação de empresas de pequeno porte.
 - (E) o tratamento diferenciado dado a empresas de pequeno porte leva à piora da qualidade do serviço.
42. Em uma sessão de licitação na modalidade pregão eletrônico, o pregoeiro e a equipe de apoio estão encarregados de receber a documentação dos ofertantes, negociar valores e decidir sobre a aceitabilidade da proposta. Sobre essa fase, é correto dizer que
- (A) embora ato do pregoeiro, a decisão sobre a aceitabilidade da proposta depende de critérios previamente definidos no termo de referência, e que estejam baseados em parâmetros de mercado.
 - (B) se o melhor preço ofertado não for considerado aceitável pelo pregoeiro, o primeiro colocado pode ser declarado vencedor se se mantiver habilitado.
 - (C) no caso de ausência de documentos de licitação, o pregoeiro poderá negociar com os ofertantes um valor menor, a título de compensação.
 - (D) a intenção de recorrer e as razões do recurso devem ser apresentadas imediatamente à equipe de licitação, sob pena de desclassificação da proposta.
 - (E) a aceitabilidade da proposta é ato discricionário do pregoeiro, ou seja, depende da oportunidade e conveniência para a administração.
43. Foi realizado pregão eletrônico para a compra de medicamento patenteado, cuja produção é feita por apenas um laboratório. O uso da modalidade pregão pode ser explicado, pois
- (A) o medicamento em questão é considerado bem comum, em razão da elevada prevalência da doença na população.
 - (B) embora apenas um laboratório o produza, podem haver dezenas de distribuidores do medicamento, o que viabiliza a competição com relação aos custos de distribuição.
 - (C) apesar da inviabilidade de competição, o uso da inexibibilidade deve ser evitada pela administração pública, pois causa prejuízos a ela.
 - (D) a competição é possível, pois o mesmo laboratório poderá participar com suas empresas subsidiárias no pregão.
 - (E) a competição está inviabilizada pela natureza do bem, no entanto o pregão permite a negociação com o laboratório, ao contrário da contratação por inexibibilidade.

44. A Secretaria da Educação do município mantém almoxarifado para a estocagem de diversos produtos como materiais de escritório e expediente, de limpeza e itens para manutenção. Sobre a contabilização desses bens, é correto dizer que
- (A) ao deixar o quantitativo do estoque no sistema contábil abaixo do estoque físico, a administração pode ser levada equivocadamente a realizar compras desnecessárias.
 - (B) ao deixar o quantitativo do estoque no sistema contábil acima do estoque físico, a administração pode ser levada equivocadamente a realizar compras desnecessárias.
 - (C) é válida a estratégia de, para poder realizar mais compras para a unidade, subestimar os quantitativos do sistema em relação ao estoque físico.
 - (D) a contabilização dos itens de almoxarifado é realizada com base no preço pago na última compra.
 - (E) a contagem do estoque físico realizada pelo encarregado de almoxarifado é uma forma de controle externo.
45. A área administrativa de uma secretaria do município possui uma enorme quantidade de inservíveis (computadores quebrados, monitores, mouses, cadeiras sem possibilidade de conserto, etc) ocupando salas. Sobre esse fato, é correto afirmar que
- (A) o custo gerado à administração, nesse caso, se relaciona à receita perdida advinda da impossibilidade de utilizar os materiais.
 - (B) o custo gerado à administração, nesse caso, se relaciona ao custo de oportunidade pela não utilização das salas.
 - (C) para a venda dos inservíveis é indicado o uso da modalidade e convite.
 - (D) o custo gerado à administração, nesse caso, está atrelado à impossibilidade legal de venda ou descarte dos inservíveis.
 - (E) mesmo após o descarte, a contabilidade pública exige que o valor de compra dos bens seja informado nos balanços patrimoniais.
46. O município X deseja promover uma nova maneira de interagir com os cidadãos no âmbito da zeladoria urbana. Por meio de um aplicativo de dispositivo móvel, o cidadão poderia realizar solicitações de serviços e agendamentos como: tapa buracos, poda de árvores, varrição urbana, entre outros. O município, no entanto, não dispõe de técnico especializado em programação de dispositivos móveis e teria de contratar esse serviço. Também não possui condições de avaliar tecnicamente qual seria o melhor desenho e funcionalidades a contratar.
- Dentre as alternativas a seguir, assinale a opção que atende aos requisitos da legislação.
- (A) A administração poderá publicar edital de pregão e, analisar as melhores propostas de desenho do aplicativo, comparando as funcionalidades de cada proposta.
 - (B) Por se tratar de licitação na área de tecnologia da informação o procedimento recomendado é o de analisar quais produtos existem no mercado, e efetuar a compra, se possível, por tomada de preços.
 - (C) Por se tratar de licitação na área de tecnologia da informação é requisito legal a realização de pelo menos uma audiência pública sobre o assunto.
 - (D) A administração poderá, primeiro, publicar um edital de concurso, a fim de escolher o melhor conceito e funcionalidades do aplicativo, para depois reunir informações básicas para uma licitação.
 - (E) A administração poderá realizar pesquisa de ferramentas similares em outros municípios, e, via termo de cooperação municipal, contratar a mesma empresa que desenvolveu o aplicativo em outro município.
47. Em razão de reportagem publicada no jornal local de título "Falta de médicos e absenteísmo geram filas no Hospital Regional". Muitos cidadãos manifestaram preocupação com o controle de presença dos médicos e enfermeiros nos equipamentos de saúde. O prefeito da cidade emitiu declaração de que irá implantar em todos os equipamentos de saúde a identificação biométrica e que, por meio deste moderno controle, irá cortar o ponto de todos que faltarem ao serviço.
- Sobre essa declaração:
- (A) Em função da emergência diagnosticada pelo jornal, a administração deverá providenciar a aquisição dos dispositivos de identificação biométrica por dispensa de licitação.
 - (B) A implementação de identificação biométrica possui a vantagem de gerar economias em despesas de caráter continuado, pois dispensa manutenção.
 - (C) É preciso realizar estimativa de impacto orçamentário para atender ao requisito formal de sua inclusão no processo administrativo e proceder ao atendimento do plano desenhado pelo prefeito.
 - (D) A implementação de identificação biométrica independe de outros investimentos em tecnologia da informação por parte do município.
 - (E) É preciso realizar estimativa de impacto orçamentário global da medida e realizar análise de economicidade, frente a outras possíveis providências para aprimorar o controle de presença.

48. Anualmente a Secretaria da Educação compra kits escolares para distribuição aos alunos da rede. Nesses kits estão inclusos materiais básicos como cadernos, lápis, lápis de cor, canetas etc. Sobre essa compra, é correto afirmar que

- (A) em caso de erro na estimativa do número de kits, as microempresas e de pequeno porte deverão compensar a diferença sobre os demais fornecedores, aumentando ou diminuindo quantitativos.
- (B) em caso de erro na estimativa do número de kits, o contrato pode ser aditado em até 50%, nas mesmas condições de fornecimento para as empresas de pequeno porte e microempresas.
- (C) mesmo que a contratação esteja acima de R\$ 80 mil, 25% dos kits devem ser fornecidos por empresas de pequeno porte ou microempresas.
- (D) mesmo que a contratação esteja acima de R\$ 80 mil, 100% dos kits devem ser oferecidos a empresas e pequeno porte ou microempresas.
- (E) mesmo que a contratação esteja abaixo de R\$ 80 mil, pelo menos 25% dos kits devem ser fornecidos por empresas de pequeno porte ou microempresas.

49. Dentre as justificativas para a necessidade da contratação de serviços de vigilância patrimonial para uma escola, assinale a alternativa que justifica adequadamente a contratação.

- (A) A contratação do serviço em referência propiciará as condições necessárias de proteção ao patrimônio, tanto às suas instalações prediais, quanto aos bens permanentes e de consumo.
- (B) A contratação do serviço em referência propiciará as condições necessárias para o combate ao tráfico de drogas nas imediações à escola.
- (C) A contratação do serviço em referência propiciará as condições necessárias para a devida identificação de transeuntes e funcionários da escola durante a entrada e saída do edifício.
- (D) A contratação do serviço em referência propiciará as condições necessárias para a proteção pessoal do diretor da escola.
- (E) A contratação do serviço em referência propiciará as condições necessárias de proteção pessoal dos servidores durante seu deslocamentos em veículos de serviço.

50. Em reunião com a Secretaria de Esportes foi solicitado orçamento detalhado para a construção de uma quadra poliesportiva em terreno da prefeitura próximo à uma praça da cidade.

Considere os seguintes dados:

Orçamento detalhado – Construção de quadra na praça policarpo quaresma	
Mão de obra	De 20 a 25 mil reais
Material	25 mil reais
Terraplanagem	10 mil reais
Bônus de despesa indireta	30,00%

A partir dos dados enviados, conclui-se que para detalhar adequadamente esse orçamento

- (A) seria necessário apresentar o custo global de obras semelhantes no município.
- (B) seria necessário apresentar a assinatura do engenheiro responsável.
- (C) seria melhor apresentar preços unitários por respectiva unidade de medida.
- (D) seria necessário apresentar os atestados de capacidade técnicas requeridos para execução da obra.
- (E) seria melhor apresentar a marca dos equipamentos utilizados na obra.

NOÇÕES DE DIREITO ADMINISTRATIVO

51. A Administração deve agir de modo célere, com o melhor desempenho possível de suas atribuições, visando obter os melhores resultados. No direito administrativo, essa afirmativa corresponde ao princípio da

- (A) proporcionalidade.
- (B) razoabilidade.
- (C) impessoalidade.
- (D) moralidade.
- (E) eficiência.

52. Todo ato administrativo que cria obrigação ao particular, encerra um poder dado à administração pública de, unilateralmente, estabelecer uma obrigação aos particulares, desde que dentro dos limites da lei. Essa imposição de obrigações, independentemente da vontade do particular, configura o atributo do ato administrativo da

- (A) presunção de legitimidade.
- (B) presunção de veracidade.
- (C) imperatividade.
- (D) executoriedade.
- (E) exigibilidade.

- 53.** Os atos administrativos que envolvem uma declaração de vontade do Poder Público coincidente com a pretensão do particular e que visa a atribuição de certos direitos e vantagens ao particular, é uma espécie de ato
- (A) enunciativo.
 - (B) negocial.
 - (C) normativo.
 - (D) ordinatório.
 - (E) punitivos.
- 54.** Hipoteticamente, quando a permissão de uso da calçada para instalar banca de jornal, que se trata de licença a título precário, por não existir mais a conveniência e/ou oportunidade para a sua manutenção, o ato administrativo válido, legal e discricionário é extinto por
- (A) anulação.
 - (B) cassação.
 - (C) caducidade.
 - (D) revogação.
 - (E) renúncia.
- 55.** A Prefeitura Municipal de São Joaquim da Barra precisa adquirir pacotes de papel do tamanho A4, material que não tem nenhuma necessidade especial a ser atendida, considerado como bem comum. Nesse caso, a licitação será feita na modalidade
- (A) pregão.
 - (B) leilão.
 - (C) convite.
 - (D) tomada de preços.
 - (E) concorrência.
- 56.** Um devedor do Poder Público entregou-lhe um imóvel como forma de quitação de sua dívida. Nesse caso, a administração pública, que adquiriu o imóvel como dação em pagamento, para a alienação desse imóvel deverá usar como modalidades de licitação,
- (A) o pregão ou a concorrência
 - (B) o leilão ou a concorrência.
 - (C) a concorrência ou o concurso.
 - (D) o concurso ou o leilão.
 - (E) a tomada de preços ou a concorrência.
- 57.** Contrato Administrativo é um ajuste entre a Administração Pública e uma pessoa física ou jurídica, para que determinada atividade de interesse público seja desempenhada. Em relação às características do Contrato Administrativo, assinale a alternativa correta.
- (A) Possuem cláusulas exorbitantes que também se aplicam no dia a dia dos contratos em geral do direito privado, não sendo consideradas cláusulas ilícitas.
 - (B) Todo contrato administrativo é comutativo, ou seja, não há submissão a álea por parte dos contratados.
 - (C) Todo contrato administrativo, como regra, é gratuito, sendo admitidos também contratos onerosos firmados pelo poder público.
 - (D) Os contratos administrativos são celebrados com aqueles que participaram e venceram os procedimentos licitatórios, restringindo a possibilidade de subcontratação, àquelas situações em que haja previsão no edital e no contrato e autorização do ente público.
 - (E) Todos os contratos administrativos devem ser formais, não sendo permitido por lei, nos casos de contratos de valores mais baixos, a substituição do termo de contrato por Carta contrato ou Nota de empenho da despesa.
- 58.** Em relação à modalidade de contrato de parceria público privada, é correto afirmar que
- (A) a parceria público privada é efetivada por contrato de concessão administrativa, na modalidade de concessão patrocinada ou concessão administrativa.
 - (B) não é possível celebrar o contrato de PPP com valor inferior a 20.000.000,00 (vinte) milhões.
 - (C) o prazo máximo de contrato é de 3 (três) anos.
 - (D) é possível celebrar contrato de PPP que tenha um único objeto como, por exemplo, o fornecimento de mão de obra.
 - (E) a licitação na PPP é feita pela modalidade pregão, sem a possibilidade de inversão das fases de habilitação e julgamento.

59. O agente público que atentar contra os princípios da administração pública, agindo de forma a negar publicidade aos atos oficiais, estará cometendo um ato de improbidade administrativa, e ficará sujeito à seguinte sanção:

- (A) suspensão da função pública por dois anos.
- (B) perda dos direitos políticos por até três anos.
- (C) ressarcimento do dano se houver, até o limite de 10.000,00 (dez mil) reais, tendo como base o valor da remuneração percebida pelo agente.
- (D) pagamento de multa civil de até um salário mínimo.
- (E) proibição de contratar com o Poder Público ou receber benefícios ou incentivos fiscais ou creditícios, direta ou indiretamente, pelo prazo de três anos

60. Sobre o processo administrativo, é correto afirmar que

- (A) o processo administrativo deve ser formalista, o que se impõe em observância ao princípio da segurança jurídica.
- (B) o requerimento inicial do interessado deve ser, obrigatoriamente, na forma escrita.
- (C) o processo pode ser iniciado tanto de ofício como a pedido do interessado.
- (D) a competência exercida pelos órgãos administrativos é irrenunciável, cabendo delegação no caso da edição de atos de caráter normativo.
- (E) não é admitida a participação de terceiros no processo administrativo.

