



CÂMARA MUNICIPAL DE SÃO JOAQUIM DA BARRA

ESTADO DE SÃO PAULO

CONCURSO PÚBLICO

002. PROVA OBJETIVA

SECRETÁRIA

- ◆ Você recebeu sua folha de respostas e este caderno contendo 50 questões objetivas.
- ◆ Confira seus dados impressos na capa deste caderno e na folha de respostas.
- ◆ Quando for permitido abrir o caderno, verifique se está completo ou se apresenta imperfeições. Caso haja algum problema, informe ao fiscal da sala.
- ◆ Leia cuidadosamente todas as questões e escolha a resposta que você considera correta.
- ◆ Marque, na folha de respostas, com caneta esferográfica de tinta preta, a letra correspondente à alternativa que você escolheu.
- ◆ A duração da prova é de 3 horas, já incluído o tempo para o preenchimento da folha de respostas.
- ◆ Só será permitida a saída definitiva da sala e do prédio após transcorridos 75% do tempo de duração da prova.
- ◆ Ao sair, você entregará ao fiscal a folha de respostas e este caderno, podendo levar apenas o rascunho de gabarito, localizado em sua carteira, para futura conferência.
- ◆ Até que você saia do prédio, todas as proibições e orientações continuam válidas.

AGUARDE A ORDEM DO FISCAL PARA ABRIR ESTE CADERNO DE QUESTÕES.

Nome do candidato _____

RG _____

Inscrição _____

Prédio _____

Sala _____

Carteira _____

CONHECIMENTOS GERAIS

LÍNGUA PORTUGUESA

Leia o texto para responder às questões de números **01** a **05**.

Envelhecer

Qual o valor da experiência de vida? No Brasil, quase nada. Ser idoso por aqui é “ganhar” da medicina a capacidade de se manter vivo por mais tempo e perder para a tecnologia o direito ao respeito e ao sentimento de continuidade.

Experiência de vida vale muito pouco na hora de disputar uma vaga de emprego, e as pessoas mais velhas só têm valor para agências de turismo que criam roteiros para aumentar seus lucros. Os aposentados, então, são muito interessantes... para as instituições financeiras interessadas nos juros e lucros obtidos com os empréstimos para esse segmento.

Passar dos 50 significa uma ameaça para os planos de saúde ávidos por dinheiro fácil. Encontro de gerações é ficção científica atualmente. Foi-se o tempo em que o respeito aos mais velhos era pré-requisito em qualquer família e condição básica na ética da convivência.

Mas a qualidade de vida não está resumida ao sentir-se bem fisicamente. É preciso dignidade. E isso a tecnologia e a máquina de consumo não nos oferecem.

Para começar, a família é uma instituição em via de extinção. Compromissos familiares, então, nem se fala. Vive-se a transitoriedade plena. A cada dia, o conceito de continuidade é cada vez mais esquecido, por isso é preciso questionar este mundo transitório em que vivemos.

Enquanto a transitoriedade valoriza o presente e a circunstância, a continuidade dá mais ênfase à ligação entre jovens e idosos, perpetuando os laços afetivos partilhados entre os familiares.

A velocidade dos acontecimentos deste século afasta a ilusão de renascer uma família tradicional, portanto, é necessário criar novas tradições familiares, e o amor e o respeito são as únicas forças capazes de restituir a integridade de uma família e de uma sociedade.

Precisamos atentar para o fato de que transmitir princípios de conduta de uma geração para a seguinte requer empenho.

A mera reprodução física da raça humana não garante a sobrevivência dos ideais da sociedade.

(Ushitaro Kamia. *Folha de S.Paulo*, 02.05.2008. Adaptado)

01. De acordo com o autor do texto,

- (A) os aposentados têm se tornado clientes vantajosos para as instituições financeiras, cujo objetivo é lhes garantir linhas de crédito com taxas menores.
- (B) as agências de turismo vêm concebendo roteiros de viagem específicos para pessoas idosas cujas condições físicas são limitadas.
- (C) o avanço da sociedade depende da manutenção dos parâmetros que asseguram a família tradicional como único modelo viável.
- (D) a sociedade valoriza a tecnologia e o consumo, mas não pode menosprezar a dignidade com que os indivíduos devem ser tratados.
- (E) a pessoa, aos 50 anos de idade, já está excluída do mercado de trabalho, mesmo que tenha larga experiência profissional.

02. O autor utiliza-se do exagero para expressar suas ideias no seguinte trecho:

- (A) Qual o valor da experiência de vida?
- (B) Encontro de gerações é ficção científica atualmente.
- (C) E isso a tecnologia e a máquina de consumo não nos oferecem.
- (D) A cada dia, o conceito de continuidade é cada vez mais esquecido.
- (E) É preciso questionar o mundo transitório em que vivemos.

03. Considere a última frase do texto.

A **mera** reprodução física da raça humana não **garante** a **sobrevivência** dos ideais da sociedade.

Os termos destacados podem ser substituídos, respectivamente e sem alteração do sentido do texto, por:

- (A) eventual ... afiança ... reformulação
- (B) invulgar ... subestima ... permanência
- (C) questionável ... assevera ... credibilidade
- (D) pura ... enfatiza ... ampliação
- (E) simples ... assegura ... continuidade

04. Leia os trechos do texto.

- Experiência de vida vale **muito** pouco na hora de disputar uma vaga de emprego... (2º parágrafo)
- Mas a qualidade de vida não está resumida ao sentir-se bem **fisicamente**. (4º parágrafo)

Os termos destacados apresentam, respectivamente, circunstâncias adverbiais de intensidade e de modo.

Tendo isso em vista, assinale a alternativa cujas expressões destacadas também indicam, respectivamente, intensidade e modo.

- (A) Fizemos **de carro** o percurso até Salvador. Ela **quase** escorregou ao pisar na lama.
- (B) **Provavelmente** ele não se oporá à escolha. Ele conseguiu consertar o vazamento **com um canivete**.
- (C) Os convidados estavam **bem** acomodados na sala. Ele recebeu os amigos **com grande entusiasmo**.
- (D) **Rapidamente** ela assumiu a direção do carro. **Com certeza** a encomenda chegará até o fim da tarde.
- (E) **Sem qualquer constrangimento**, a criança entregou as flores à embaixatriz. Quando o policial chegou, a situação ficou **menos tensa**.

05. Considere as frases elaboradas a partir do texto.

- Foi o tempo em que **respeitar os mais velhos** era exigência familiar.
- Pouco a pouco, as pessoas infelizmente **têm esquecido o conceito de continuidade**.

De acordo com a norma-padrão de emprego e colocação dos pronomes, os trechos destacados podem ser substituídos por:

- (A) os respeitar; lhe têm esquecido
- (B) os respeitar; o têm esquecido
- (C) respeitá-los; têm esquecido-o
- (D) respeitar-lhes; o têm esquecido
- (E) lhes respeitar; têm esquecido-o

Leia o texto e responda às questões de números 06 a 09.

Comandante aposentado não deixa o cockpit

Shigekazu Miyazaki está usando o tempo livre de sua aposentadoria a 25 mil pés. Ele foi piloto da maior companhia aérea japonesa por quatro décadas, mas deixou o posto ano passado, ao completar 65 anos, idade-limite para voar pela empresa.

Mas, em vez de jogar golfe ou pescar, agora Miyazaki é piloto de uma companhia regional do Japão. “Nunca pensei que ainda estaria voando aos 65 anos, mas eu continuo saudável, amo voar, então, enquanto eu puder, por que não?”

O envelhecimento dos trabalhadores está forçando um questionamento sobre a trajetória profissional e também sobre a sustentação da Previdência no Japão. O país tem a maior expectativa de vida do mundo, pouca imigração e uma minguante população de jovens trabalhadores, reflexo de décadas de queda na taxa de natalidade.

Isso torna os trabalhadores mais velhos ainda mais importantes para a economia. Mais da metade dos homens japoneses com mais de 65 anos executa algum tipo de trabalho remunerado, comparado com um terço dos americanos e 10% em alguns países da Europa.

A economia japonesa está começando a se recuperar graças à demanda das exportações, mas a escassez de trabalhadores pode limitar esse crescimento. A taxa de desemprego é de 2,8%.

Ao mesmo tempo, a geração que começa a se aposentar pressiona a Previdência Social e força o governo a estudar o aumento da idade mínima para conceder o benefício.

Os trabalhadores mais velhos também ajudam a explicar a estagnação da renda no Japão. Os mais velhos costumam receber muito menos do que o salário do pico de suas carreiras. Essa queda acaba reduzindo os aumentos que um jovem recebe ao longo do crescimento profissional.

Para Miyazaki, por exemplo, a escolha de continuar voando é um luxo. No novo emprego, recebe um terço do salário de antes de se aposentar.

(New York Times. Publicado pela *Folha de S.Paulo* em 30.07.2017. Adaptado)

06. De acordo com as informações do texto, é correto concluir que

- (A) Shigekazu Miyazaki decidiu continuar trabalhando como piloto porque, ao se aposentar, sua renda mensal diminuiu consideravelmente.
- (B) Miyazaki foi obrigado a deixar a companhia aérea ao completar 65 anos, pois esta é a idade determinada pelo governo japonês para que todos se aposentem.
- (C) a geração que está entrando no mercado de trabalho tem hoje a perspectiva de se aposentar com salário equivalente ao recebido no auge da carreira.
- (D) a comparação entre o Japão e alguns países europeus quanto aos homens com mais de 65 anos que continuam trabalhando evidencia uma discrepância.
- (E) o governo pretende reformular algumas regras da Previdência, pois a economia japonesa, estagnada e em recessão, precisa de ajustes orçamentários.

07. No 2º parágrafo, em – ...**mas** eu continuo saudável, amo voar, **então, enquanto** eu puder, por que não? –, os termos destacados expressam, correta e respectivamente, as ideias de:

- (A) oposição, conclusão e tempo.
- (B) oposição, comparação e conformidade.
- (C) consequência, causa e simultaneidade.
- (D) condição, conclusão e conformidade.
- (E) condição, comparação e tempo.

08. Considere a frase.

Atualmente, as mudanças na economia japonesa _____ aumento das exportações.

Para que essa frase esteja em conformidade com a norma-padrão, a lacuna deve ser preenchida por:

- (A) estão submetidas sob o
- (B) estão ancoradas do
- (C) são decorrentes pelo
- (D) são indissociáveis com o
- (E) estão condicionadas ao

09. Assinale a alternativa correta quanto à concordância verbal e nominal estabelecida pela norma-padrão.

- (A) O comandante Miyazaki não esperava que, depois de completado 65 anos, existiria opções de trabalho para ele.
- (B) Faz décadas que a taxa de natalidade no Japão vem diminuindo e, conseqüentemente, a população idosa aumentou.
- (C) Estar saudável e gostar de voar são argumentos coerente que justifica a decisão de Miyazaki de permanecer na ativa.
- (D) Vários países tem posto em discussão a Previdência Social, cujas regras precisam ser revista.
- (E) No Japão, a taxa de desemprego, que estão em 2,8%, é uma das mais baixas do mundo.

10. Considere a charge.



(Alves. Folha de S.Paulo, 25.03.2018)

As novas tarifas para a comercialização do aço, impostas pelo presidente Donald Trump, são Muralhas da China a serem superadas pelos exportadores do produto.

Na frase elaborada a partir da charge, a expressão Muralhas da China está empregada em sentido

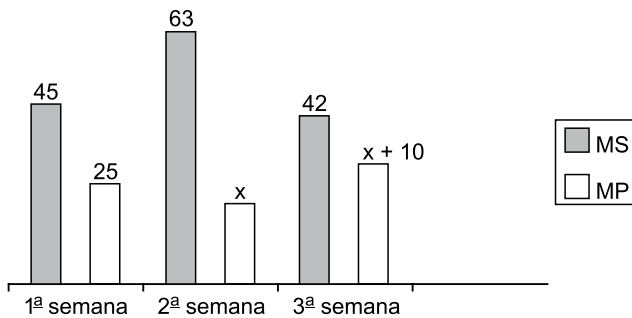
- (A) próprio, indicando que o valor arquitetônico e histórico dessa construção é inquestionável.
- (B) próprio, indicando que o presidente Trump usa estratégias para defender o mercado interno.
- (C) próprio, indicando que o presidente Trump quer combater a instabilidade econômica nos EUA.
- (D) figurado, indicando que Donald Trump quer ampliar as relações comerciais com a China.
- (E) figurado, indicando que Donald Trump está dificultando as negociações para os exportadores de aço.

11. Acidentalmente, derrubou-se café sobre um relatório, manchando, dessa forma, $\frac{3}{5}$ do número total de páginas. Sabendo que as 32 páginas restantes não sofreram danos, o número de páginas manchadas foi
- (A) 80.
(B) 64.
(C) 55.
(D) 48.
(E) 32.
12. Em uma caixa, há 260 folhas timbradas e 300 folhas sem timbre, que deverão ser separadas em envelopes, cada um deles com o mesmo número de folhas e na maior quantidade possível. Sabendo que cada envelope só poderá conter folhas do mesmo tipo, então, o número de envelopes necessário será
- (A) 28.
(B) 25.
(C) 22.
(D) 18.
(E) 15.
13. Em uma lanchonete, a razão entre o número de pastéis e o número de pães de queijo vendidos em determinado dia foi $\frac{2}{5}$. Se, entre pastéis e pães de queijo, foram vendidas 105 unidades, o número de pães de queijo vendidos superou o número de pastéis vendidos em
- (A) 50 unidades.
(B) 45 unidades.
(C) 40 unidades.
(D) 35 unidades.
(E) 30 unidades.

14. Em uma empresa, trabalham 150 funcionários, dos quais 24% possuem ensino superior completo. Sabendo que nessa empresa 48% dos funcionários são homens e que 18 mulheres possuem ensino superior completo, então, os homens que possuem ensino superior completo representam, em relação ao número total de homens, uma taxa de
- (A) 12%
(B) 15%
(C) 18%
(D) 23%
(E) 25%

15. Uma pessoa dispõe de R\$ 20,00 e precisa comprar queijo ralado e 300 gramas de presunto. Se 120 g de presunto custam R\$ 3,60, e 150 g de queijo ralado custam R\$ 6,00, então, utilizando totalmente o dinheiro de que dispõe e, após comprar o presunto, a quantidade de queijo ralado que essa pessoa poderá comprar é
- (A) 285 g.
(B) 280 g.
(C) 275 g.
(D) 270 g.
(E) 265 g.

16. Uma loja colocou em promoção CDs de música sertaneja (MS) e de música popular (MP). O gráfico apresenta algumas informações sobre o número de CDs vendidos por essa loja em 3 semanas.



Considerando-se que, nesse período, a média semanal do número de CDs vendidos de música sertaneja foi o dobro da média semanal do número de CDs vendidos de música popular, o número de CDs vendidos de música popular, na 3ª semana, foi

- (A) 15.
(B) 20.
(C) 25.
(D) 30.
(E) 35.

17. Um capital aplicado à juros simples com taxa de 14,4% ao ano rendeu juros de R\$ 168,00 em 5 meses. O capital aplicado foi
- (A) R\$ 2.800,00.
 - (B) R\$ 2.500,00.
 - (C) R\$ 2.200,00.
 - (D) R\$ 1.900,00.
 - (E) R\$ 1.600,00.
18. Uma loja de presentes organizou um lote de 180 copos, que foram colocados em prateleiras, cada uma delas com o mesmo número de copos.
- Sabendo-se que o número de copos de uma prateleira era 5 vezes o número de prateleiras utilizadas, então, é correto afirmar que o número de copos de uma prateleira era
- (A) 25.
 - (B) 30.
 - (C) 36.
 - (D) 40.
 - (E) 45.
19. Em determinado setor de uma empresa, trabalham, entre funcionários contratados e estagiários, um total de 22 pessoas. Se o número de estagiários é igual a $\frac{3}{8}$ do número de funcionários contratados, então, o número de estagiários é
- (A) 4.
 - (B) 5.
 - (C) 6.
 - (D) 7.
 - (E) 8.
20. Um boleto, no valor de R\$ 230,00, foi pago com atraso, e devido a isso, foi cobrada uma multa de 2% sobre o valor a ser pago e mais R\$ 2,00 por dia de atraso. Se o valor total pago foi R\$ 248,60, então, esse boleto foi pago com atraso de
- (A) 3 dias.
 - (B) 4 dias.
 - (C) 5 dias.
 - (D) 6 dias.
 - (E) 7 dias.

LEGISLAÇÃO

21. Segundo a Lei Orgânica, o Município de São Joaquim da Barra será administrado observando-se, entre outros, os seguintes princípios:

- (A) publicidade, moralidade e primazia do interesse público.
- (B) publicidade, impessoalidade e razoabilidade.
- (C) razoabilidade, finalidade e descentralização administrativa.
- (D) participação popular nas decisões, motivação e eficiência.
- (E) transparência de seus atos e ações, moralidade e eficiência.

22. Compete privativamente à Câmara Municipal exercer, sem a sanção do Prefeito, entre outras, a(s) seguinte(s) atribuição(ões):

- (A) estabelecer normas urbanísticas, particularmente as relativas a zoneamento e loteamento.
- (B) denominar e autorizar a alteração de denominação de próprios, vias e logradouros públicos.
- (C) autorizar a realização de empréstimo, operação ou acordo externo de qualquer natureza, de interesse do Município.
- (D) instituir e arrecadar os tributos de competência do Município, bem como aplicar suas rendas.
- (E) autorizar a concessão de serviços públicos e de direito real de uso de bens municipais e a alienação de bens imóveis.

23. Imagine que, hipoteticamente, um Vereador do Município de São Joaquim da Barra deixou de comparecer, durante a sessão legislativa de 2017, a várias sessões ordinárias, em total que supera a terça parte das sessões realizadas. Constatou-se também que o Vereador não estava em licença nem em missão autorizada pela Câmara quando faltou às referidas sessões.

Em uma situação como esta, a Lei Orgânica do Município de São Joaquim da Barra prevê que o Vereador

- (A) perderá o mandato.
- (B) sofrerá suspensão de seus direitos políticos.
- (C) sofrerá suspensão de seu mandato.
- (D) pagará multa.
- (E) não sofrerá nenhuma penalidade.

24. Considere a seguinte situação hipotética.

Jornal que circula no Município de São Joaquim da Barra noticia que agentes públicos que exercem o cargo de médico em Unidades Públicas de Saúde da cidade estão cobrando valores em dinheiro dos pacientes que deveriam estar sendo gratuitamente atendidos pelo Sistema Único de Saúde, do qual faz parte o Município.

Em uma situação como esta, a Lei Orgânica do Município prevê que a Câmara Municipal de São Joaquim da Barra poderá, mediante requerimento de um terço de seus membros,

- (A) criar Comissão Permanente de acompanhamento das ações de saúde do Município, que deverá realizar audiências públicas com entidades da sociedade civil e exercer a fiscalização dos atos do Executivo.
- (B) criar Comissão Temporária para receber petições, reclamações, representações ou queixas de qualquer pessoa contra atos ou omissões dos agentes públicos citados na reportagem.
- (C) impor sanções administrativas aos agentes públicos e encaminhar a matéria ao Ministério Público, para que promova a responsabilidade civil e criminal dos infratores.
- (D) criar Comissão Especial de Inquérito, que terá poderes de investigação próprios das autoridades judiciais, além de outros poderes previstos no Regimento Interno da Câmara.
- (E) fixar o prazo de 15 (quinze) dias, prorrogáveis por igual período, desde que solicitado e devidamente justificado, para que a Administração apure os fatos e imponha as sanções cabíveis aos responsáveis pelos fatos.

25. Assinale a alternativa que corretamente descreve previsão da Lei Orgânica do Município que versa sobre a fiscalização popular.

- (A) Qualquer eleitor registrado no Município de São Joaquim da Barra poderá fazer pedido de informação sobre ato ou projeto da Administração, a qual deverá responder no prazo de 15 (quinze) dias, ou justificar a impossibilidade da resposta.
- (B) Toda entidade da sociedade civil de âmbito municipal regularmente constituída poderá requerer ao Prefeito a realização de audiência pública para que este esclareça determinado ato ou projeto da Administração.
- (C) Dependerá de prévia realização de audiência pública o licenciamento de projetos que envolvam impacto ambiental, a autorização para aquisição de bens imóveis e a aprovação do Plano Diretor de Desenvolvimento Integrado.
- (D) Cada entidade terá o direito de requerer a realização de, no máximo, 05 (cinco) audiências públicas por ano, ficando a critério da autoridade requerida deferir o pedido de audiências que suplantarem esse número.
- (E) A audiência prevista neste artigo deverá ser divulgada em, pelo menos, 02 (dois) órgãos da imprensa escrita de circulação municipal e 01 (um) órgão de imprensa de televisão ou radiocomunicação, com, no mínimo, 15 (quinze) dias de antecedência.

26. Segundo o Regimento Interno da Câmara Municipal de São Joaquim da Barra, compete à Mesa da Câmara
- (A) determinar o arquivamento ou desarquivamento de proposições, nos termos regimentais.
 - (B) apreciar e encaminhar pedidos escritos de informação ao Prefeito e aos Secretários Municipais.
 - (C) recusar o recebimento de substitutivos ou emendas que não sejam pertinentes à proposição inicial.
 - (D) declarar prejudicada a proposição em face de rejeição ou aprovação de outra com o mesmo objetivo.
 - (E) comunicar ao Plenário a declaração da extinção do mandato do Prefeito na primeira sessão subsequente à apuração do fato.
27. O início da ordem do dia e a deliberação das matérias constantes da pauta dependerão, nos termos do Regimento Interno da Câmara Municipal de São Joaquim da Barra, da presença
- (A) da maioria absoluta dos Vereadores.
 - (B) de 1/3 (um terço) dos Vereadores.
 - (C) da maioria simples dos Vereadores.
 - (D) de todos os Vereadores.
 - (E) de 3/5 (três quintos) dos Vereadores.
28. Assinale a alternativa que corretamente trata do previsto no Regimento Interno da Câmara Municipal de São Joaquim da Barra acerca das proposições.
- (A) A retirada de propositura apresentada por Comissão Permanente poderá ser formalizada por qualquer um de seus membros.
 - (B) As proposições serão submetidas aos seguintes regimes de tramitação: Regime de Urgência Especial; Regime de Urgência Ordinária; e Regime Comum.
 - (C) Proposição é toda matéria sujeita à deliberação do Plenário, exceto aquelas que sejam projetos de lei, decreto-legislativo ou resolução.
 - (D) A Presidência deixará de receber proposição flagrantemente inconstitucional ou antirregimental.
 - (E) Considerar-se-á autor da proposição, para efeitos regimentais, o primeiro signatário e as pessoas por ele indicadas como coautoras.
29. Suponha que um Vereador da Câmara Municipal de São Joaquim da Barra considere que o Regimento Interno precisa ser reformado, para fins de aperfeiçoamento de alguns desses dispositivos. Em uma situação como essa, o Vereador deverá apresentar
- (A) um projeto de Decreto Legislativo.
 - (B) uma Mensagem Aditiva.
 - (C) uma Emenda.
 - (D) um Substitutivo.
 - (E) um projeto de Resolução.

30. Os casos não previstos no Regimento Interno da Câmara Municipal de São Joaquim da Barra e os dispositivos com interpretação controvertida serão submetidos ao Plenário para
- (A) constituírem matéria de projeto de resolução que emendará o Regimento Interno.
 - (B) serem objeto de deliberação, para que seja resolvido o caso concreto.
 - (C) constituírem precedentes regimentais de observância obrigatória.
 - (D) serem objeto de deliberação sobre a contratação (ou não) de parecer técnico externo.
 - (E) constituírem moção a ser examinada pela Mesa da Câmara dos Vereadores.

NOÇÕES DE INFORMÁTICA

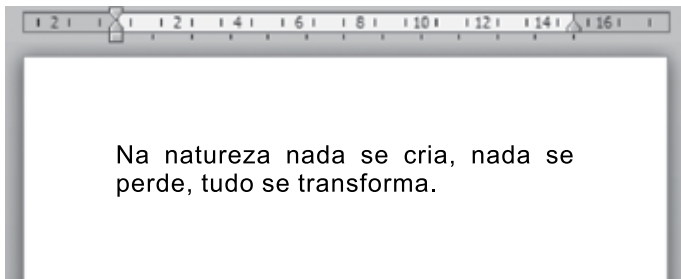
31. A imagem a seguir mostra o conteúdo de uma pasta no Windows Explorer do MS-Windows 7, em sua configuração padrão.



- Um usuário, ao manter apertada a tecla Ctrl, clicar com o botão principal do mouse sobre arquivo1 e, mantendo pressionado o botão, arrastar o cursor do mouse até a pasta de nome pasta3 e soltar o botão do mouse, está acionando a funcionalidade de
- (A) mover arquivo1 para pasta3.
 - (B) copiar arquivo1 para pasta3.
 - (C) transferir arquivo1 para pasta3.
 - (D) excluir arquivo1.
 - (E) renomear pasta3 para arquivo1.

32. Um usuário que precise editar uma imagem do tipo BMP, para utilizar como um logotipo em um documento, poderá editá-la pelo seguinte aplicativo acessório padrão do MS-Windows 7, em sua configuração padrão:
- (A) Internet Explorer.
 - (B) WordPad.
 - (C) MS-PowerPoint 2010.
 - (D) Paint.
 - (E) Bloco de Notas.

33. Observe a imagem a seguir, que apresenta um parágrafo de um documento sendo editado por meio do MS-Word 2010, em sua configuração padrão.



Pela imagem, verifica-se que foi acionada a opção

- (A) Alinhar Texto à Direita.
 - (B) Alinhar Texto à Esquerda.
 - (C) Justificar.
 - (D) Centralizar.
 - (E) Marcadores.
34. No MS-Word 2010, em sua configuração padrão, um recurso de formatação do Grupo Fonte pode ser usado para deixar em destaque certas partes do texto, semelhante a um marca-texto usado em documento de papel.
- Assinale a alternativa que apresenta o nome do recurso descrito no enunciado.
- (A) Cor da Fonte.
 - (B) Cor do Realce do Texto.
 - (C) Sombreamento.
 - (D) Pincel de Formatação.
 - (E) WordArt.

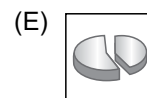
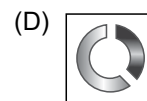
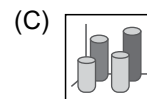
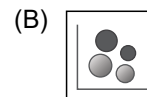
35. Em uma planilha do MS-Excel 2010, em sua configuração padrão, o intervalo G5:H7 contém o seguinte número de células:
- (A) 2.
 - (B) 4.
 - (C) 5.
 - (D) 6.
 - (E) 7.

36. A planilha a seguir foi editada por meio do MS-Excel 2010, em sua configuração padrão.

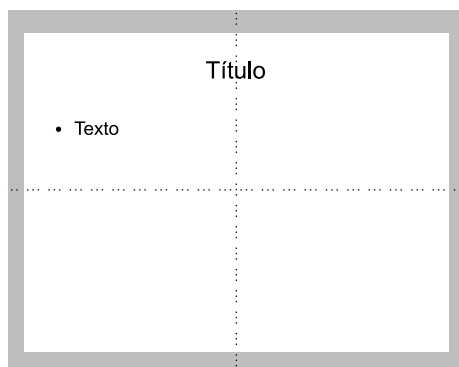
	A	B	C	D
1	5	7	2	
2	2	9	3	
3	3	2	6	

Assinale a alternativa que apresenta o valor que será exibido na célula D1, após esta célula ser preenchida com a fórmula =MÉDIA(A1;C1:C3)

- (A) 2
 - (B) 3
 - (C) 4
 - (D) 5
 - (E) 6
37. Assinale a alternativa que apresenta um gráfico do tipo Pizza, no MS-Excel 2010, em sua configuração padrão.



38. Observe a imagem a seguir, que apresenta um slide sendo editado por meio do MS-PowerPoint 2010, em sua configuração padrão.



As linhas atravessando o slide representam um recurso que pode ser usado para facilitar o alinhamento de objetos durante a preparação dos slides de uma apresentação.

Assinale a alternativa que apresenta o nome do recurso conforme descrito no enunciado.

- (A) Animação.
 - (B) Transição.
 - (C) Régua.
 - (D) Linhas de Grade.
 - (E) Guias.
39. Observe a imagem a seguir, que mostra a parte superior da janela do Internet Explorer 11, em sua configuração padrão.



O círculo adicionado na imagem indica uma área específica do navegador. A área marcada com o círculo, ao ser clicada com o botão principal do mouse, possui a ação de

- (A) abrir uma nova aba.
 - (B) abrir uma nova janela.
 - (C) fechar a última aba aberta.
 - (D) fechar a última janela aberta.
 - (E) encerrar o navegador.
40. Assinale a alternativa que apresenta apenas campos de e-mails usados para endereços de e-mail de destinatários, no MS-Outlook 2010, em sua configuração padrão.
- (A) Para e Cco.
 - (B) Cc e Assunto.
 - (C) Anexado e Assunto.
 - (D) Cco e De.
 - (E) De e Para.

CONHECIMENTOS ESPECÍFICOS

41. O agendamento de reuniões necessita de planejamento, organização e *follow-up*. A limpeza da sala, a conservação e a manutenção dos equipamentos devem ser realizadas. Assim, para evitar esquecer algum item desse agendamento, pode-se elaborar e usar
- (A) uma ferramenta de gestão, conhecida como *checklist*.
 - (B) uma lista conhecida como fluxograma.
 - (C) um gráfico conhecido como organograma.
 - (D) uma planilha do excell.
 - (E) um mapa mental.
42. O Presidente da Câmara tem a prerrogativa de assinar expediente. Os expedientes oficiais de interesse dos vereadores tramitam na Câmara. São exemplos de expedientes externo e interno, respectivamente:
- (A) a comunicação e a lei.
 - (B) a ata e a pauta.
 - (C) a normatização e a declaração.
 - (D) o ofício e o memorando.
 - (E) o boletim e o despacho.
43. As atividades numa Secretaria de Câmara Municipal incluem o bom atendimento e o bom relacionamento no trato humano. A qualidade deve estar presente em todas as atividades, inclusive no atendimento ao telefone ou pessoal, devendo estar presente também no receber, anotar e transmitir recados. Nesse sentido, qualidade pode ser entendida como sendo
- (A) a demanda por controle e processo, sempre tendo solução para os problemas.
 - (B) ter sempre todas as respostas corretas aos problemas e demandas.
 - (C) aplicar conceitos da administração do tempo para solucionar os problemas.
 - (D) comunicar ao superior as falhas do próprio trabalho, solucionando ou não os problemas.
 - (E) respeitar e ser educado com clientes internos e externos, mesmo não tendo a solução ao problema.

44. A respeito do atendimento telefônico, é importante ter alguns cuidados com o interlocutor. Sobre esses cuidados a serem adotados, é correto afirmar que
- (A) o registro deve ser feito imediatamente no computador.
 - (B) é fundamental atender a todos com interesse, zelo, cortesia.
 - (C) é fundamental organizar as chamadas por realizadas e recebidas, em ordem alfabética.
 - (D) é necessário que o registro seja feito em uma tabela do Word.
 - (E) a gentileza deve ser maior de acordo com o cargo de quem está ligando, ou recebendo a chamada.
45. O controle de entrada, encaminhamento e saída de pessoas da Câmara Municipal, assim como o controle das ligações recebidas ou realizadas, é parte importante das rotinas de quem trabalha na Recepção/Secretaria da repartição. Por isso, é correto afirmar que
- (A) o uso de tabelas no Word vai facilitar o atendimento e controle.
 - (B) usar o mesmo caderno e/ou agenda para o atendimento presencial ou por telefone é a melhor opção de controle.
 - (C) criar um banco de dados no Access vai facilitar o controle das tarefas.
 - (D) é importante fazer uso de ferramentas ou instrumentos específicos para as duas tarefas, separadamente.
 - (E) o controle de pessoas que entram ou saem da Câmara Municipal é sempre idêntico ao controle de ligações recebidas ou realizadas.
46. Entre as atividades exercidas por quem atua na Secretaria da Câmara, consta o agendamento de reuniões. Em relação às reuniões ordinárias, é correto afirmar que
- (A) são reuniões das quais apenas convidados podem participar.
 - (B) são reuniões que têm um calendário previamente estipulado pelo Presidente da Câmara e aprovado em reunião.
 - (C) são reuniões que acontecem necessariamente todos os meses.
 - (D) são reuniões nas quais assuntos polêmicos são discutidos, mas não são votados pelos participantes.
 - (E) dispensam a convocação e a justificativa de ausência dos ausentes.
47. A manutenção dos fichários e listas de telefones de interesse da Câmara, para uso frequente, deve ser feita em arquivo que armazena as fichas adequadamente. Esse tipo de arquivo é denominado
- (A) morto.
 - (B) inativo.
 - (C) corrente.
 - (D) gerencial.
 - (E) protocolar.
48. No armazenamento de arquivos digitais, como ofícios digitalizados no MS-Word ou planilhas do MS-Excel, é importante fazer cópias de segurança. Esse procedimento é conhecido como:
- (A) fragmentação do disco.
 - (B) clonar o arquivo.
 - (C) raquear o arquivo.
 - (D) *backup* do arquivo.
 - (E) sincronização de arquivo.
49. Na modalidade de comunicação escrita, exclusivamente externa, entre diferentes órgãos públicos, o veículo de comunicação recebe o nome de
- (A) memorando.
 - (B) *clipping*.
 - (C) ofício.
 - (D) carta Comercial.
 - (E) circular.
50. Um órgão público como a Câmara Municipal possui um organograma. Sobre o organograma, é correto afirmar que
- (A) é um desenho indicativo dos cargos.
 - (B) é um conjunto de figuras geométricas que define os cargos de um órgão público.
 - (C) é uma representação gráfica que define o fluxo das informações mais importantes, por meio dos cargos.
 - (D) é uma representação gráfica que indica o nome de fornecedores e clientes internos, por meio de gráficos.
 - (E) é uma representação gráfica que indica a hierarquia de uma organização formal.

