

PREFEITURA MUNICIPAL DE BARRETOS
ESTADO DE SÃO PAULO

CONCURSO PÚBLICO

001. PROVA OBJETIVA

**AGENTE DE SEGURANÇA
(FEMININO E MASCULINO)**

- ◆ Você recebeu sua folha de respostas e este caderno contendo 50 questões objetivas.
- ◆ Confira seus dados impressos na capa deste caderno e na folha de respostas.
- ◆ Quando for permitido abrir o caderno, verifique se está completo ou se apresenta imperfeições. Caso haja algum problema, informe ao fiscal da sala.
- ◆ Leia cuidadosamente todas as questões e escolha a resposta que você considera correta.
- ◆ Marque, na folha de respostas, com caneta de tinta preta, a letra correspondente à alternativa que você escolheu.
- ◆ A duração da prova é de 3 horas, já incluído o tempo para o preenchimento da folha de respostas.
- ◆ Só será permitida a saída definitiva da sala e do prédio após transcorridos 75% do tempo de duração da prova.
- ◆ Ao sair, você entregará ao fiscal a folha de respostas e este caderno, podendo levar apenas o rascunho de gabarito, localizado em sua carteira, para futura conferência.
- ◆ Até que você saia do prédio, todas as proibições e orientações continuam válidas.

AGUARDE A ORDEM DO FISCAL PARA ABRIR ESTE CADERNO DE QUESTÕES.

Nome do candidato _____

RG _____

Inscrição _____

Prédio _____

Sala _____

Carteira _____

CONHECIMENTOS GERAIS

LÍNGUA PORTUGUESA

Leia o texto para responder às questões de números **01** a **07**.

Qual foi a última coisa que você fez antes de dormir na noite passada? É bem provável que tenha sido dar uma olhada no celular.

Você não está só. Um estudo feito nos EUA pela Fundação Nacional do Sono estima que 48% dos americanos adultos usam os chamados *gadgets* – celulares, *tablets*, *laptops* – na cama. Em outros países, pesquisas indicam que a prevalência é ainda maior entre os adultos mais jovens.

Especialistas afirmam que precisamos de 30 a 60 minutos de preparação pré-sono para darmos ao cérebro uma chance de descontrair. Atividades como ler um livro ou tomar uma bebida quente ajudam. Mas, segundo Matthew Walker, da Universidade da Califórnia, no momento em que pegamos o celular, por exemplo, interrompemos essa preparação e prolongamos o dia – incluindo o estresse vindo dele.

Especialistas em ciência do sono acreditam que precisamos aprender a tomar distância de nossos dispositivos. Ben Carter, do King's College de Londres, conduziu uma análise de 20 estudos sobre o impacto da tecnologia nos padrões de sono de crianças e descobriu que apenas a presença de *gadgets* no quarto já faz com que elas durmam menos profundamente que crianças sem a presença dos aparelhos.

Nos EUA, o Centro para o Controle de Doenças diz que 35% dos americanos não dormem o suficiente – 70 milhões de pessoas dormindo menos de seis horas por noite, um salto de quase 30% em comparação com dez anos atrás. Segundo a agência governamental, **isso** criou uma epidemia em que as pessoas sofrem para se concentrar ou se lembrar de coisas no trabalho. Dormir de menos também está ligado a um aumento nos riscos de batidas de carro e acidentes de trabalho. Deficiência de sono, segundo cientistas, está ligada a uma variedade de problemas de saúde, como diabetes, depressão e doenças cardíacas.

“É um dos problemas mais ignorados de nossos tempos”, diz Collin Espie, da Universidade de Oxford. “O sono é fundamental para uma série de funções ligadas à saúde e ao bem-estar”.

(Richard Gray. “Como evitar que gadgets destruam nosso sono e nos deixem feito ‘zumbis’ no trabalho”. 19.01.2018. www.bbc.com/portuguese. Adaptado)

01. O assunto central do texto diz respeito

- (A) aos perigos de se confiar na autenticidade das informações obtidas nas redes sociais.
- (B) à ampliação do acesso à tecnologia em diferentes camadas da população brasileira.
- (C) aos riscos à saúde trazidos pelo uso excessivo do celular no ambiente de trabalho.
- (D) ao modo como a falta de sono tem feito com que as pessoas falem mais ao celular.
- (E) às consequências negativas do uso de celulares, *tablets* e *laptops* antes de dormir.

02. Com a afirmação “Você não está só”, no segundo parágrafo, o autor demonstra supor que seu leitor

- (A) já sofra de insônia crônica.
- (B) utilize o celular antes de dormir.
- (C) ainda não tenha atingido a maioridade.
- (D) use o celular apenas para fazer chamadas.
- (E) tenha sido interrogado por um pesquisador.

03. De acordo com as informações do terceiro parágrafo, no período de preparação pré-sono, ler um livro ou tomar uma bebida quente

- (A) evita que uma breve olhada no celular atrapalhe o sono.
- (B) pode resolver os problemas gerados pela falta de sono.
- (C) promove o relaxamento necessário a um sono saudável.
- (D) garante no mínimo seis horas ininterruptas de sono profundo.
- (E) equivale a uma conversa interessante ao celular.

04. O vocábulo **isso**, destacado no quinto parágrafo, remete especificamente ao fato de um número considerável de americanos

- (A) perturbar o sono alheio.
- (B) possuir aparelhos digitais.
- (C) ser incapaz de memorizar.
- (D) não dormir o suficiente.
- (E) não ter acesso à tecnologia.

05. As aspas, no último parágrafo, sinalizam

- (A) a intenção cômica do texto.
- (B) a citação da fala de um especialista.
- (C) uma hipótese que não pode ser testada.
- (D) uma opinião contrária à do autor do texto.
- (E) um comentário sem relação com o tema do texto.

06. Assinale a alternativa que completa corretamente a frase a seguir, de modo que ela esteja condizente com o conteúdo do último parágrafo.

A qualidade do sono é fundamental para a saúde e o bem-estar;

- (A) **contudo**, recebe a merecida atenção.
- (B) **por isso**, recebe a merecida atenção.
- (C) **logo**, recebe a merecida atenção.
- (D) **portanto, não** recebe a merecida atenção.
- (E) **porém, não** recebe a merecida atenção.

07. “Ben Carter, do King’s College de Londres, conduziu uma análise de 20 estudos **sobre o** impacto da tecnologia **nos** padrões de sono de crianças...” (4º parágrafo)

Considerando as regras de regência da norma-padrão da língua, as expressões destacadas no trecho podem ser substituídas, respectivamente, por:

- (A) acerca do; sobre os.
- (B) contra o; sob os.
- (C) entre o; aos.
- (D) para o; perante dos.
- (E) pelo; dos.

08. Assinale a alternativa em que o acento indicativo de crase está empregado corretamente.

- (A) Dormir de menos leva à uma variedade de problemas.
- (B) Dormir de menos leva à um aumento de riscos de acidentes.
- (C) Dormir de menos leva à dificuldade de concentração.
- (D) Dormir de menos leva à desenvolver depressão.
- (E) Dormir de menos leva à doenças cardíacas.

09. O vocábulo em destaque está empregado em conformidade com a concordância da norma-padrão da língua na frase:

- (A) Já **faz** dez anos que o número de estadunidenses dormindo mal tem aumentado.
- (B) É preciso nos conscientizar de que dormir mal nos **trazem** sérios problemas.
- (C) Nos EUA, foi **feito** uma pesquisa para verificar o quanto as pessoas dormem diariamente.
- (D) Foi **constatada** que uma parte considerável dos entrevistados utiliza o celular na cama.
- (E) Conforme especialistas, **são** importante dedicar de 30 a 60 minutos à preparação pré-sono.

Leia o texto para responder às questões de números 10 a 13.

Quando criança, lembro da carroça passando em casa para deixar lenha; agora, seis décadas depois, todo dia toca a campainha e alguém oferece gás. A pequena mudança da energia que move o fogão caseiro simboliza o acelerado processo de transformação do Brasil. Do pacato país rural que abria os anos 1950, nos transformamos num país predominantemente urbano, que vive e produz inchado em grandes centros.

A cidade grande é um espaço abstrato, uma criação geométrica, que nos arranca de todos os laços mentais de natureza e vizinhança; a comunidade urbana é antes mental que física. Os compartimentos culturais e sociais isolados acabam por se tornar imperativos. Ao mesmo tempo, a grande cidade é a confluência do mundo; seu sonho é sair de si mesma e conversar com suas iguais, que estão em outros países, e não a dez quilômetros dali. A cidade é sempre globalizante; ela parece afirmar, com alguma arrogância, o triunfo do homem sobre a natureza, enquanto o campo é naturalmente conservador, como alguém que se submete, pela simples proximidade física, pela vizinhança avassaladora e pelo império do tempo, às regras simples, recorrentes, imutáveis e inexoráveis das estações do ano, das chuvas e secas.

Metaforicamente, o Brasil vive com um pé no campo e outro na cidade.

(Cristovão Tezza. “Mundo rural, mundo urbano, e o Brasil no meio”. 27.10.2014. www.gazetadopovo.com.br. Adaptado)

10. Na opinião do autor, cidade e campo se opõem na medida em que

- (A) o progresso tecnológico pode chegar aos lares na cidade, mas não chega ao campo.
- (B) o espaço geográfico é muito ordenado no campo, ao passo que é caótico na cidade.
- (C) os habitantes da cidade são mais tímidos e reservados do que os moradores do campo.
- (D) a cidade busca dominar as forças da natureza, enquanto o campo se sujeita a elas.
- (E) o campo oferece poucas ocasiões de convívio social em comparação com a cidade.

11. No trecho “Quando criança, lembro da carroça passando em casa para deixar lenha...” (1º parágrafo), observa-se

- (A) a análise de um evento ocorrido em um único instante do passado.
- (B) o registro de uma experiência pessoal do autor.
- (C) a ordenação de ações variadas em uma escala de importância.
- (D) a descrição de um cenário sem paralelo com a realidade objetiva.
- (E) a defesa de uma opinião sobre um fato do presente.

12. Com a expressão “compartimentos culturais e sociais isolados”, no segundo parágrafo, o autor enfatiza a ideia de que, na cidade, existe um modo de vida
- (A) uniforme.
 - (B) diversificado.
 - (C) homogêneo.
 - (D) imutável.
 - (E) conservador.
13. Uma palavra empregada com sentido figurado está em destaque no trecho:
- (A) Quando criança, lembro da carroça passando em casa para deixar **lenha**... (1º parágrafo)
 - (B) A pequena mudança da energia que move o **fogão** caseiro simboliza o acelerado processo de transformação do Brasil. (1º parágrafo)
 - (C) ... a grande cidade é a confluência do mundo; seu sonho é sair de si mesma e **conversar** com suas iguais... (2º parágrafo)
 - (D) A cidade é sempre globalizante; ela parece afirmar, com alguma arrogância, o triunfo do homem sobre a **natureza**... (2º parágrafo)
 - (E) ... regras simples, recorrentes, imutáveis e inexoráveis das estações do **ano**, das chuvas e secas. (2º parágrafo)
14. Assinale a alternativa em que a frase está redigida de acordo com a norma-padrão da língua.
- (A) Algumas pessoas do campo têm dificuldade a se adaptar com a cidade, e vice-versa.
 - (B) Muitos já desfrutam no gás encanado; também se pode encomendar ao gás pela internet.
 - (C) Em 1950, o campo era o lugar aonde a maioria dos brasileiros morava; hoje a maioria habita das cidades.
 - (D) A cidade dispõe a facilidades de que o campo não tem, mas o campo também oferece vantagens.
 - (E) É natural que o modo como as pessoas convivem esteja adaptado às condições do lugar.
15. A frase em que o pronome destacado está posicionado corretamente é:
- (A) Quando encontraremos-**nos** no campo, veremos mais estrelas no céu, por haver menos iluminação artificial.
 - (B) Os moradores das grandes cidades talvez tenham convencido-**se** de que sua vida seja melhor que no campo.
 - (C) O homem da cidade não relaciona-**se** com o alimento como quem trabalha diretamente com a terra.
 - (D) Um hábito comum às famílias do campo e da cidade é reunir-**se** para o almoço do domingo.
 - (E) É possível que desenvolva-**se** uma percepção mais cíclica do tempo em quem tem maior contato com a natureza.
16. Ana e Bia estão corrigindo as provas de uma competição de problemas. Ana consegue corrigir cada prova em 48 segundos, e Bia corrige cada prova em 66 segundos. Elas iniciaram a correção das provas ao mesmo tempo e, quando qualquer uma termina a correção de uma prova, imediatamente começa outra correção. No primeiro momento em que elas terminarem a correção de uma prova ao mesmo tempo, o total de provas que as duas juntas já terão corrigido será
- (A) 19.
 - (B) 23.
 - (C) 27.
 - (D) 31.
 - (E) 35.
17. Em seu treino diário, Paulo corria 3 minutos para cada 5 minutos que pedalava. Do total de tempo que treinava diariamente, ele decidiu correr 7 minutos a mais, sem alterar o tempo que já dedicava a pedalar, e a razão entre o tempo que corre para o tempo que pedala passou a ser de 4 para 5. Agora, a diferença, em minutos, entre os tempos em que pedala e corre é
- (A) 6.
 - (B) 7.
 - (C) 8.
 - (D) 9.
 - (E) 10.
18. Lucas leu um livro em 8 horas e 20 minutos, lendo cada página em 2 minutos. Ele pretende ler outro livro, com 80 páginas a mais, lendo, dessa vez, cada página em 1,9 minuto. Dentro das condições previstas, para ler esse outro livro, Lucas levará
- (A) 9 horas e 32 minutos.
 - (B) 9 horas e 56 minutos.
 - (C) 10 horas e 16 minutos.
 - (D) 10 horas e 27 minutos.
 - (E) 11 horas e 25 minutos.

19. Alice e Bianca estavam se preparando para uma prova e resolviam, cada uma, 42 questões por dia. Após alguns dias, Alice passou a resolver 45 questões por dia, e Bianca passou a resolver 46 questões por dia. Depois de 29 dias, o número de questões que elas resolveram foi 2527, e o número de dias em que cada uma delas resolveu 42 questões por dia foi
- (A) 16.
(B) 17.
(C) 18.
(D) 19.
(E) 20.
20. Em um grupo de 6 pessoas, se considerarmos as 5 pessoas mais altas, a média aritmética de suas alturas é 169,6 cm e, se considerarmos as 5 pessoas mais baixas, a média é 162,6 cm. Nesse grupo, a diferença entre as alturas da pessoa mais alta e da pessoa mais baixa, em cm, é
- (A) 15.
(B) 20.
(C) 25.
(D) 30.
(E) 35.
21. Ricardo pretende transcrever um manuscrito digitando 9 linhas por minuto. Nesse ritmo, ele conseguirá finalizar a tarefa em 4 dias, trabalhando 5 horas por dia. Caso deseje terminar a transcrição em 3 dias, trabalhando 6 horas por dia, o número de linhas que ele deverá digitar por minuto é
- (A) 6.
(B) 8.
(C) 10.
(D) 12.
(E) 14.
22. Alfredo vai dar para seus sobrinhos todos os seus carrinhos de ferro. Para Luiz, dará $\frac{1}{4}$ dos carrinhos; para Lucas, dará $\frac{3}{10}$ dos carrinhos; e, para Luciano, dará 108 carrinhos. O número de carrinhos que Lucas irá receber a mais do que Luiz é
- (A) 8.
(B) 9.
(C) 10.
(D) 11.
(E) 12.

23. A área de um triângulo retângulo BFE vale 30% da área de um retângulo ABCD. As medidas dos lados do retângulo e dos catetos do triângulo estão indicadas em cm, conforme mostra a figura.

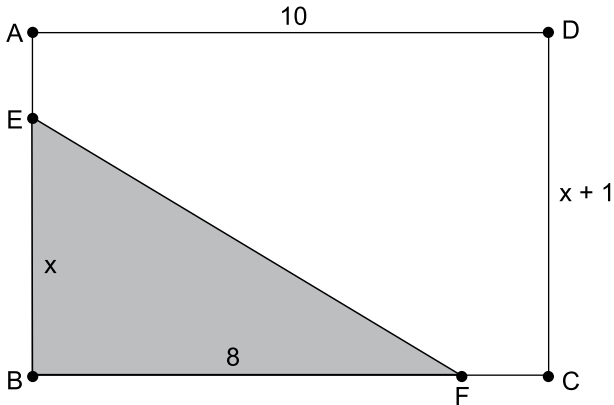


figura fora de escala

A área do retângulo ABCD, em cm^2 , é

- (A) 21.
- (B) 32.
- (C) 40.
- (D) 56.
- (E) 65.

R A S C U N H O

ATUALIDADES

24. A presidente do Supremo Tribunal Federal e do Conselho Nacional de Justiça, ministra Cármen Lúcia, está na capital para discutir os problemas no sistema prisional do estado. Ela chegou ao Tribunal de Justiça do Estado na manhã desta segunda-feira (08.01.18), para uma reunião no órgão e também para visitar o Complexo Prisional na região metropolitana da capital, onde ocorreram três rebeliões em uma semana.

(G1. <https://goo.gl/Evrhmp>, 08.01.2018. Adaptado)

Essas rebeliões ocorreram em presídio do estado

- (A) do Acre.
- (B) do Espírito Santo.
- (C) de Goiás.
- (D) da Paraíba.
- (E) do Rio Grande do Sul.

25. O simbólico “Relógio do Apocalipse” foi adiantado por cientistas em meio minuto nesta quinta-feira (25.01.18), por conta das respostas ruins dos líderes mundiais em relação a uma possível guerra nuclear. Seu ponteiro agora marca 23h58, o que significa que desde a Guerra Fria nunca a humanidade esteve tão próxima de ser totalmente destruída.

(IstoÉ. <https://goo.gl/6rtNUv>, 26.01.2018. Adaptado)

Uma das justificativas para essa situação é

- (A) a ação terrorista do Estado Islâmico na Europa.
- (B) o conflito militar entre Irã e Iraque por poços de petróleo.
- (C) a disputa por territórios entre a Indonésia e o Paquistão.
- (D) a invasão de ilhas filipinas pela Rússia e as críticas da China.
- (E) o lançamento de mísseis pela Coreia do Norte e as ameaças dos EUA.

26. Estimulado pela inflação baixa e pela liberação do FGTS, o consumo foi o motor da recuperação da economia brasileira no fim de 2017, compasso que deve se manter no início deste ano. Esse comportamento pode ser identificado, segundo especialistas, nos resultados divulgados nesta sexta-feira (26.01.18).

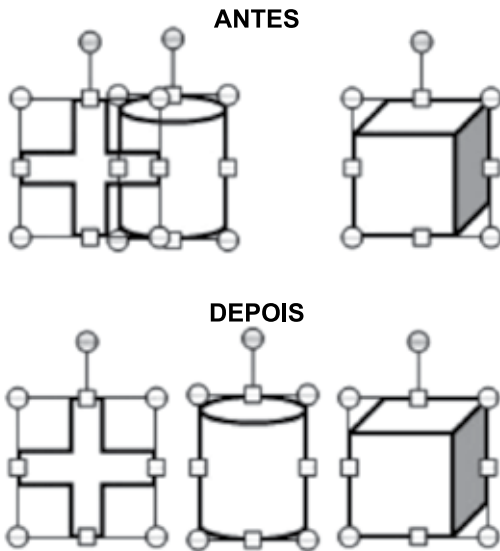
(Folha de S.Paulo. <https://goo.gl/7xKhrU>, 27.01.2018. Adaptado)

De acordo com esses dados, o setor que mais gerou vagas com carteira assinada foi

- (A) o comércio.
- (B) a construção civil.
- (C) o extrativismo mineral.
- (D) a administração pública.
- (E) a indústria de transformação.

NOÇÕES DE INFORMÁTICA

27. Considere a imagem a seguir, extraída do MS-PowerPoint 2010, em sua configuração padrão. Ela apresenta três formas (cruz, cilindro e cubo) em dois momentos: **ANTES** e **DEPOIS** da aplicação de um recurso de posicionamento de objetos, que pode ser acessado no item Organizar, do grupo Desenho, da guia Página Inicial.



Assinale a alternativa que contém o nome do recurso aplicado nas três formas, ao mesmo tempo, entre os dois momentos apresentados. Considere que a opção “Alinhar Objetos Selecionados” está ativa.

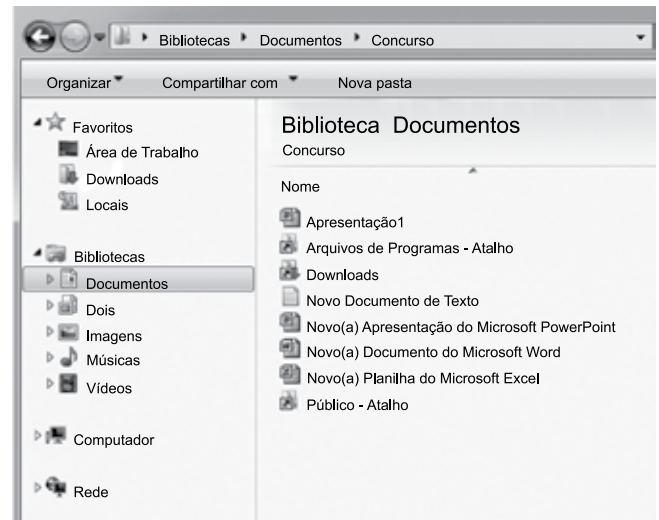
- (A) Avançar.
 (B) Alinhar ao Meio.
 (C) Centralizar.
 (D) Distribuir Horizontalmente.
 (E) Alinhar à Direita.
28. Observe a imagem a seguir, extraída do MS-Excel 2010 em sua configuração padrão. A célula D3 está preenchida com a fórmula = **D2+500**.

	A	B	C	D
1	Nome	Depto	Cargo	Valor
2	Funcionário 1	Financeiro	Assistente	R\$ 2.500,00
3	Funcionário 2	Jurídico	Chefia	R\$ 3.000,00
4	Funcionário 3	Contábil	Encarregado	
5	Funcionário 4	Jurídico	Assistente	
6	Funcionário 5	Financeiro	Assistente	

Quando o usuário selecionar a célula D3, pressionar o atalho de teclado Ctrl+C, selecionar as células D4:D6 e pressionar o atalho de teclado Ctrl+V, o valor da célula D5 será

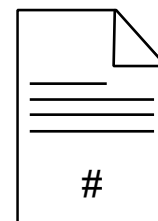
- (A) R\$ 4.500,00
 (B) R\$ 4.000,00
 (C) R\$ 3.500,00
 (D) R\$ 3.000,00
 (E) R\$ 2.500,00

29. Observe a imagem a seguir, extraída do Windows Explorer do MS-Windows 7, em sua configuração padrão.



Na pasta Concurso (pasta origem), quando o usuário selecionar o arquivo “Apresentação1” com um clique do botão primário do mouse, geralmente o botão esquerdo, e depois arrastar o arquivo até o ícone da “Área de Trabalho” (pasta destino), que está vazia,

- (A) um atalho para o arquivo será criado na pasta destino.
 (B) um atalho para o arquivo será criado na pasta origem.
 (C) uma cópia do arquivo será criada na pasta destino.
 (D) uma cópia do arquivo será criada na pasta origem.
 (E) o arquivo será movido para a pasta destino.
30. Observe o ícone a seguir, extraído do grupo Cabeçalho e Rodapé, da guia Ferramentas de Cabeçalho e Rodapé > Design, do MS-Word 2010 em sua configuração padrão.



Assinale a alternativa que descreve a ação associada ao ícone.

- (A) Criar um indicador de nome a um ponto específico.
 (B) Inserir uma referência cruzada.
 (C) Inserir números de página.
 (D) Inserir diversos trechos de conteúdo reutilizável.
 (E) Criar um link para uma página da Web.

CONHECIMENTOS ESPECÍFICOS

31. Segurança patrimonial é

- (A) o conjunto de atividades do ramo da segurança que tem como objetivo prevenir e reduzir perdas patrimoniais em uma determinada organização.
- (B) uma responsabilidade exclusiva do Estado, exercida em conjunto pelas polícias civil, militar e federal.
- (C) uma atividade exercida apenas com o objetivo de reduzir as perdas patrimoniais das empresas privadas.
- (D) uma responsabilidade da União, na qual o conjunto de atividades é fiscalizado pela polícia federal.
- (E) uma responsabilidade do Estado, exercida exclusivamente pelas polícias militares.

32. No tocante ao deslocamento de dignitário em veículos motorizados, é correto afirmar que, o tamanho de um comboio variará em função

- (A) tão somente do grau de risco, considerando-se como minimamente aceitável o quantitativo de dois veículos: um para o protegido e o outro para sua escolta.
- (B) do grau de risco e dos recursos disponíveis para prover-lhe proteção, considerando-se como minimamente aceitável o quantitativo de dois veículos: um para o protegido e o outro para sua escolta.
- (C) do grau de risco, considerando-se como minimamente aceitável o quantitativo de cinco veículos: um para o protegido e quatro para sua escolta.
- (D) apenas dos recursos disponíveis para prover-lhe proteção, considerando-se como minimamente aceitável o quantitativo de dois veículos: um para o protegido e o outro para sua escolta.
- (E) apenas dos recursos disponíveis para prover-lhe proteção, considerando-se como minimamente aceitável o quantitativo de cinco veículos: dois para o protegido e três para sua escolta.

33. Com relação à segurança de dignitário, é correto afirmar que

- (A) segurança e inteligência caminham separadamente.
- (B) o agente de segurança pode ser usuário de drogas.
- (C) a segurança não deve se preocupar com o crime organizado, pois este é um trabalho da polícia.
- (D) o agente de segurança deve identificar todas as pessoas que terão contato aproximado com o dignitário.
- (E) a agente de segurança não deverá utilizar qualquer identificação.

34. No que concerne ao controle de entrada de veículos, é correto afirmar que o Agente de Segurança

- (A) não deve utilizar de clausura.
- (B) deve fazer inspeção visual com atenção voltada às características do veículo e seus ocupantes, bem como ao comportamento e à atitude destes.
- (C) deve anotar as placas por amostragem, evitando demoradas filas de veículos.
- (D) deve vistoriar somente o interior de caminhões.
- (E) não deve fiscalizar cartões de estacionamento, pois este comportamento dificulta o trânsito.

35. Em relação ao atendimento de telefone, assinale a alternativa correta.

- (A) Nunca atenda ao primeiro toque.
- (B) Diga sempre "Alô", evitando se identificar.
- (C) Fale somente o necessário.
- (D) Nunca transfira ligações, solicite o trabalho da telefonista.
- (E) Se a pessoa usar gírias, faça o mesmo.

36. Sobre a proteção de entradas, é correto afirmar que, via de regra, as invasões ocorrem

- (A) pelas entradas não permitidas.
- (B) por onde não existe entrada.
- (C) nos pontos de risco médio.
- (D) nas barreiras naturais.
- (E) pelas entradas permitidas.

37. São pontos, no perímetro de segurança, que permitem fácil acesso, e, por conseguinte, são locais visados para o planejamento de ações criminosas.

O enunciado se refere à conceituação de

- (A) pontos perimetrais de segurança.
- (B) barreiras de acesso fácil.
- (C) pontos vulneráveis ou de riscos.
- (D) barreiras perimetrais de segurança.
- (E) pontos perimetrais de vigilância.

38. Entre outras, são medidas dinâmicas de segurança:

- (A) barreiras perimetrais.
- (B) portas giratórias detectoras de metais.
- (C) circuitos fechados de TV.
- (D) abordagens à distância.
- (E) catracas eletrônicas.

39. No controle do acesso de pessoas, o Agente de Segurança deve seguir determinados procedimentos que garantam a segurança das instalações e de todos que estejam envolvidos no sistema. Para tanto, entre outros procedimentos,

- (A) deverá realizar, quando necessário, a inspeção visual.
- (B) deverá exigir o RG ou Passaporte, únicos documentos aceitos para identificação pessoal.
- (C) deverá considerar sempre as pessoas pela sua aparência.
- (D) sendo autorizada a visita de estranhos, não deverá promover a sua identificação.
- (E) deverá fazer a abordagem, preferencialmente à distância, procurando obter e confirmar todos os dados necessários ao efetivo controle de acesso.

40. É correto afirmar que as rondas são diligências que o Agente de Segurança realiza para

- (A) verificar irregularidades, constituindo-se em serviços fixos e móveis de fiscalização e vigilância, que têm por finalidade cobrir os espaços vazios existentes entre pontos fixos de segurança.
- (B) verificar pontos sensíveis, constituindo-se em serviços móveis de fiscalização e vigilância, que têm por finalidade apoiar o efetivo da segurança nos horários de descanso.
- (C) verificar irregularidades, constituindo-se em serviços móveis de fiscalização e vigilância, que têm por finalidade cobrir os espaços vazios existentes entre pontos fixos de segurança.
- (D) verificar pontos sensíveis, constituindo-se em serviços fixos e móveis de fiscalização e vigilância, que têm por finalidade apoiar o efetivo da segurança nos horários de descanso.
- (E) apoiar o efetivo durante as liberações para alimentação, podendo auxiliar na constatação de irregularidades.

41. São pontos, no perímetro de segurança, que permitem ao vigilante proporcionar sua própria segurança, evitando assim o fator surpresa, e, ao mesmo tempo, obter maior ângulo de visão, garantindo maior eficiência na execução das atividades preventivas de vigilância. Ex: Pontos elevados, de onde o vigilante pode observar todo perímetro de segurança e suas imediações.

O enunciado se refere corretamente à conceituação de

- (A) pontos perimetrais de segurança.
- (B) vigilância perimetral física.
- (C) pontos preventivos de vigilância.
- (D) pontos estratégicos de segurança.
- (E) vigilância preventiva perimetral.

42. Boletim de Ocorrência trata-se de

- (A) mera peça informativa a respeito dos dados relacionados com a prática da infração penal, por exemplo, as partes envolvidas, as testemunhas, o local e os objetos inerentes à natureza da infração penal.
- (B) mera peça informativa a respeito dos dados relacionados com a prática da infração administrativa ou penal, que inicia a ação penal, consistindo na exposição, por escrito, dos fatos.
- (C) peça acusatória que inicia a ação penal, consistindo na exposição, por escrito, dos fatos que, em tese, constituem o ilícito penal e administrativo, e deve ser elaborada pelas Polícias Militar ou Civil.
- (D) peça acusatória que inicia a ação penal, consistindo na exposição, por escrito, dos fatos que, em tese, constituem o ilícito penal e deve ser elaborada pelas Guardas Civis Municipais.
- (E) peça acusatória que inicia a ação penal, consistindo na exposição, por escrito, dos fatos que, em tese, constituem o ilícito penal e deve ser elaborada exclusivamente pela Polícia Civil.

43. Assinale a alternativa que descreve corretamente como se deve soletrar a palavra ZEBRA, utilizando o alfabeto fonético da radiocomunicação.

- (A) ZICO, ELEFANTE, BRASIL, ROMA, ALFA
- (B) ZECA, ECHO, BRAVO, ROMA, AMOR
- (C) ZULU, ECHO, BRAVO, ROMEU, ALFA
- (D) ZULU, ELEFANTE, BRAVO, ROMEU, AMOR
- (E) ZECA, ECHO, BRAVO, ROMA, ALFA

44. No que concerne às regras de radiocomunicação, o código "Q" é uma coleção padronizada de três letras, todas começando com a letra "Q". O Código "Q" original foi criado por volta de 1909 pelo governo britânico, como uma lista de abreviações. Assinale a alternativa que corretamente contempla sua abreviação do Código "Q" e o seu significado.
- (A) QSA – NA ESCUTA.
 - (B) QRT – INTERFERÊNCIA.
 - (C) QTO – LOCAL, ENDEREÇO.
 - (D) QTC – MENSAGEM.
 - (E) QTR – ESTOU A CAMINHO.
45. Considere o seguinte caso hipotético.
- Um Agente de Segurança verifica um princípio de incêndio na rede elétrica. Objetivando combater o incêndio, é correto afirmar que o Agente de Segurança deverá utilizar-se do método
- (A) do isolamento e de extintores de espuma.
 - (B) de abafamento e de extintores de CO₂.
 - (C) de resfriamento e de extintores de CO₂.
 - (D) de abafamento e de extintores de espuma.
 - (E) do isolamento e de extintores de PQSE.
46. É a temperatura mínima na qual determinado combustível desprende vapores que, em contato com uma fonte de calor, inflamam-se e continuam a queimar, pois os vapores desprendidos do combustível são suficientes para manter a combustão. O enunciado se refere ao denominado ponto de
- (A) fulgor.
 - (B) calor.
 - (C) ignição.
 - (D) incêndio.
 - (E) combustão.
47. Quando as queimaduras provocam lesão mais profunda, atingindo todas as camadas da pele e se caracterizando pelo aparecimento de bolhas, devido ao desprendimento da epiderme, é correto afirmar que se trata de queimadura de
- (A) primeiro grau, e as bolhas não devem ser furadas.
 - (B) primeiro grau, e as bolhas devem ser furadas.
 - (C) segundo grau, e as bolhas não devem ser furadas.
 - (D) terceiro grau, e as bolhas não devem ser furadas.
 - (E) quarto grau, e as bolhas não devem ser furadas.
48. Um Agente de Segurança, ao verificar uma pessoa com hemorragia externa, entre outras condutas,
- (A) não deve expor o ferimento.
 - (B) deve elevar o membro lesionado acima da linha do coração.
 - (C) no caso de ferimento na cabeça, deve comprimir o local com força.
 - (D) deve fazer sempre torniquete no local, somente afrouxando no hospital.
 - (E) não deve comprimir pontos arteriais próximos.
49. É correto afirmar que, para o reconhecimento de uma fratura, o Agente de Segurança deve observar a presença e ou indícios dos seguintes sintomas:
- (A) dor generalizada, sudorese excessiva e sangramento.
 - (B) incapacidade funcional, sangramento e formação de bolhas.
 - (C) deformação, sudorese excessiva e febre.
 - (D) febre, sangramento e dor local.
 - (E) dor local, incapacidade funcional e deformação.
50. Assinale a alternativa que possui uma regra básica de relações humanas no ambiente de trabalho.
- (A) Não aceitar elogios pelo trabalho de outra pessoa, dar crédito a quem merece.
 - (B) Não ser humilde e tolerante, pois, assim agindo, demonstra-se ser uma pessoa fraca.
 - (C) Ser honesto sempre que possível, entretanto cada situação deve ser analisada isoladamente.
 - (D) Procurar sempre impor a própria opinião, assim se angaria o respeito dos colegas.
 - (E) Se tiver de corrigir ou repreender alguém, fazê-lo em público, demonstrando a própria autoridade e a transparência da instituição.

