



PREFEITURA MUNICIPAL DE GUARARAPES

ESTADO DE SÃO PAULO

CONCURSO PÚBLICO

004. PROVA OBJETIVA

FISCAL DE TRIBUTOS

- ◆ Você recebeu sua folha de respostas e este caderno contendo 50 questões objetivas.
- ◆ Confira seus dados impressos na capa deste caderno e na folha de respostas.
- ◆ Quando for permitido abrir o caderno, verifique se está completo ou se apresenta imperfeições. Caso haja algum problema, informe ao fiscal da sala.
- ◆ Leia cuidadosamente todas as questões e escolha a resposta que você considera correta.
- ◆ Marque, na folha de respostas, com caneta de tinta preta, a letra correspondente à alternativa que você escolheu.
- ◆ A duração da prova é de 3 horas, já incluído o tempo para o preenchimento da folha de respostas.
- ◆ Só será permitida a saída definitiva da sala e do prédio após transcorridos 75% do tempo de duração da prova.
- ◆ Ao sair, você entregará ao fiscal a folha de respostas e este caderno, podendo levar apenas o rascunho de gabarito, localizado em sua carteira, para futura conferência.
- ◆ Até que você saia do prédio, todas as proibições e orientações continuam válidas.

AGUARDE A ORDEM DO FISCAL PARA ABRIR ESTE CADERNO DE QUESTÕES.

Nome do candidato _____

RG _____

Inscrição _____

Prédio _____

Sala _____

Carteira _____

CONHECIMENTOS GERAIS

LÍNGUA PORTUGUESA

Leia o texto a seguir para responder às questões de números 01 a 08.

O governo de um país com pouco mais de 5 milhões de habitantes aceita gastar US\$ 9 milhões para construir uma fortaleza gelada na qual guarda sementes vindas do mundo inteiro, para sempre, como um seguro para a agricultura mundial. Tudo de graça e sem ter nenhum direito sobre elas.

Parece mentira, mas tal coisa existe há dez anos, completados em fevereiro, quando esse banco **incomum** ultrapassou a marca de 1 milhão de depósitos realizados.

Não é o primeiro ato de **generosidade** da Noruega para o planeta: a nação nórdica já reservou US\$ 1 bilhão para custear projetos ambientais no Brasil, o Fundo Amazônia. Perto disso, parece dinheiro de troco o custo do Cofre Global de Sementes na ilha norueguesa de Spitsbergen, arquipélago de Svalbard, a meio caminho entre a costa da Noruega e o polo Norte.

Verdade que muito da renda que a Noruega tem sobrando provém da extração de gás natural e petróleo no Ártico. Embora o país exporte a maior parte desses combustíveis fósseis, pois sua matriz energética é muito limpa (quase toda a eletricidade vem de usinas hidrelétricas), eles são queimados em algum lugar e, assim, contribuem muito para agravar o aquecimento global.

Estocadas em envelopes selados de alumínio impermeável a 5% de umidade e a -18°C, sementes ainda podem germinar 30 anos depois, ou mais. Faz muito frio em Spitsbergen —mesmo no verão os termômetros não vão muito além de 7°C. No interior de um túnel de 120 m montanha adentro, o frio é maior, e a variação, mínima, o que ajuda a economizar gastos com refrigeração.

É muito longe e caro chegar a Svalbard, o que reduz a chance de ataques ao cofre. No entanto, há boa infraestrutura em Longyearbyen, vila com minas de carvão, porto e aeroporto da qual a fortaleza dista meros 5 quilômetros.

Só no seu aniversário o banco recebeu, em uma cerimônia especial, 76 330 amostras em 179 caixas provenientes de 25 instituições em 22 países.

Estão agora armazenados na montanha gelada 967 216 envelopes lacrados cheios de caroços, que só os depositantes podem pedir para retirar. Assim ocorreu com milhares de amostras provenientes de Aleppo, na Síria, sacadas do cofre para reconstituir o acervo no Líbano e em Marrocos, em local menos inseguro que uma nação em guerra civil.

Não fosse por essa retirada, o cofre de Svalbard guardaria ainda 1 059 646 saquinhos de sementes. Uma fortuna de valor incalculável para a segurança alimentar de gerações por vir.

(Marcelo Leite. "Cofre das sementes comemora 10 anos e 1 milhão de amostras". www1.folha.uol.com.br, 26.02.2018. Adaptado)

01. Segundo depreende-se do texto, o autor acredita que

- (A) os gases poluentes produzidos por usinas termoe-létricas na Noruega geram um déficit que é pago a partir de investimento em projetos ambientais.
- (B) o banco de sementes, empreendimento norueguês, pode ser visto como um ato benevolente, já que a nação o desenvolve sem receber nada em troca.
- (C) o valor investido no banco de sementes é irrelevante diante de outros investimentos feitos em projetos na Amazônia por países como o Brasil.
- (D) a Noruega acaba recebendo de volta o investimento que faz no banco de sementes ao explorar gratuitamente a flora do Ártico.
- (E) o projeto do banco de sementes é uma forma de, no futuro, produzir alimentos e fazê-los chegar sem ônus à população mundial.

02. De acordo com o texto,

- (A) as retiradas de sementes do banco feitas por alguns países ameaçam a segurança alimentar de gerações futuras.
- (B) o clima na Noruega continental favorece a conservação das sementes, fazendo da gelada montanha um refrigerador natural.
- (C) uma guerra civil provocou a perda de milhares de sementes que estavam armazenadas no banco de sementes norueguês.
- (D) a energia na Noruega advém de usinas hidrelétricas, mas o país exporta outros tipos de matrizes energéticas para outras nações.
- (E) as sementes que são depositadas na fortaleza de Longyearbyen só saem de lá em situações extremas, em que há risco para o cofre.

03. O autor do texto vê a iniciativa conduzida em Spitsbergen com

- (A) positividade, visto se tratar de um projeto que não onera nenhuma nação além da Noruega e pode trazer benefícios futuros.
- (B) descrença, por entender que é utópico pensar que a segurança alimentar do futuro pode ser salvaguardada por tal iniciativa.
- (C) esperança, pois se percebe, em suas palavras, que o banco de sementes é a resposta para o problema atual da fome no mundo.
- (D) apatia, uma vez que o projeto está sujeito a decisões multilaterais, muitas delas tomadas por países governados por ditaduras.
- (E) desdém, porque, para ele, o projeto beneficia apenas países desenvolvidos e em nada contribui com os países mais pobres.

04. Um sinônimo para **incomum** (2º parágrafo) e outro para **generosidade** (3º parágrafo), em destaque no texto, são, respectivamente,

- (A) novo e animosidade.
- (B) intrigante e magnanimidade.
- (C) inusitado e altruísmo.
- (D) ordinário e filantropia.
- (E) trivial e avidez.

05. No trecho – ... parece dinheiro de troco o custo do Cofre Global de Sementes na ilha norueguesa de Spitsbergen, arquipélago de Svalbard, a meio caminho entre a costa da Noruega e o polo Norte. (3º parágrafo) –, as vírgulas foram empregadas pelo mesmo motivo que no trecho:

- (A) ... uma fortaleza gelada na qual guarda sementes vindas do mundo inteiro, para sempre, como um seguro para a agricultura mundial. (1º parágrafo).
- (B) Parece mentira, mas tal coisa existe há dez anos, completados em fevereiro... (2º parágrafo).
- (C) ... eles são queimados em algum lugar e, assim, contribuem muito para agravar o aquecimento global. (4º parágrafo).
- (D) ... o frio é maior, e a variação, mínima, o que ajuda a economizar gastos com refrigeração. (5º parágrafo).
- (E) Assim ocorreu com milhares de amostras provenientes de Aleppo, na Síria, sacadas do cofre para reconstituir o acervo no Líbano e em Marrocos... (8º parágrafo).

06. Considere os trechos a seguir:

Estocadas em envelopes selados de alumínio impermeável a 5% de umidade e a -18°C , sementes ainda **podem** germinar 30 anos depois, ou mais. (5º parágrafo).

Estão agora armazenados na montanha gelada 967216 envelopes lacrados cheios de caroços, que só os depositantes **podem** pedir para retirar. (8º parágrafo).

Pode-se afirmar que, no contexto em que se encontram, os verbos destacados exprimem, respectivamente, ideia de

- (A) obrigação e possibilidade.
- (B) permissão e obrigação.
- (C) possibilidade e permissão.
- (D) obrigação e permissão.
- (E) possibilidade e obrigação.

07. De acordo com o texto, no aniversário do banco de sementes, foram recebidas 76330 novas sementes. Esse valor corresponde a **1/14** do total de sementes que o banco possuía na ocasião. Essa fração destacada deve ser lida como

- (A) quatorze décimos.
- (B) décimo quarto avos.
- (C) um quatorze décimos.
- (D) um décimo quarto.
- (E) um quatorze avos.

08. Está em conformidade com as regras de regência verbal e nominal da norma-padrão da língua portuguesa a frase:

- (A) O agravamento ao aquecimento global pode ser explicado pela queima de combustíveis fósseis.
- (B) Os ambientalistas tentam explicar de que não é possível evitar os danos ao planeta se não mudarmos os hábitos.
- (C) Enquanto muitos assistem passivamente ao degelo das calotas polares, algumas ONGs tentam fazer algo.
- (D) Muitos governos estão inclinados em colaborar com a redução da emissão de gás carbônico desde que recebam algo em troca.
- (E) Cabe os países desenvolvidos realizarem investimentos vultuosos para resolver um problema que eles mesmos criaram.

Leia o texto para responder às questões de números **09 a 12**.

A Prefeitura de Guararapes começou a reforma e a urbanização de dois dos três ecopontos da cidade. Os locais servem como destinação de restos de materiais de construção, móveis, eletrodomésticos, eletrônicos e recicláveis.

Inicialmente as obras vão ser realizadas nos bairros São Judas e na Vila Medeiros, onde os locais serão fechados com alambrados, instalação sanitária, baias, serviço de guarita de monitoramento e sinalização. Quanto ao ecoponto localizado perto do horto, a Prefeitura ainda não definiu se será reformado ou deslocado para outro local. Mesmo durante as reformas, os ecopontos seguem abertos.

Segundo a Prefeitura, o limite de descarte será de dois metros cúbicos por pessoa, o que equivale ao volume de metade de uma caçamba. Os que não puderem deixar os descartes no ecoponto serão orientados quanto ao local apropriado a que se devem **dirigir**.

(Eduardo Fonseca. *Apesar da reforma, ecopontos de Guararapes continuam funcionando*. www.folhadaregiao.com.br, 26.07.2018. Adaptado)

09. De acordo com a notícia, o futuro do ecoponto perto do horto é

- (A) insólito.
- (B) incógnito.
- (C) introspectivo.
- (D) interdito.
- (E) incólume.

10. O verbo **dirigir**, em destaque no último parágrafo, foi usado em sentido próprio. Assinale a alternativa em que esse mesmo verbo foi usado em sentido figurado.

- (A) Os pais devem dirigir os filhos no caminho do saber.
- (B) O diretor dirigiu o filme com maestria.
- (C) O conselho dirige a empresa com mão de ferro.
- (D) A orquestra é dirigida por um maestro estrangeiro.
- (E) É preciso dirigir com cuidado à noite.

11. Quanto ao trecho – Mesmo durante as reformas, os ecopontos seguem abertos. (2º parágrafo) –, assinale a alternativa que indica corretamente a ideia expressa no trecho, bem como uma possível forma de reescrevê-lo, mantendo-se a ideia indicada.

- (A) Ideia de concessão – Ainda que haja reformas, os ecopontos seguem abertos.
- (B) Ideia de adição – Durante as reformas, também os ecopontos seguem abertos.
- (C) Ideia de conclusão – Há reformas, pois os ecopontos seguem abertos.
- (D) Ideia de causa – Os ecopontos seguem abertos, por causa das reformas.
- (E) Ideia de consequência – Há reformas, por isso os ecopontos seguem abertos.

12. Assinale a alternativa que apresenta o trecho – Os que não puderem deixar os descartes no ecoponto serão orientados quanto ao local apropriado a que se devem dirigir. (último parágrafo) – reescrito de acordo com a norma-padrão da língua portuguesa.

- (A) Aqueles que não puderem deixar os descartes no ecoponto serão orientados a os levar a um local apropriado.
- (B) Os guararapenses que forem impedidos de deixar os descartes no ecoponto receberão orientação quanto ao melhor lugar para descartá-lo.
- (C) As pessoas que não puderem descartar os materiais no ecoponto serão orientados a levá-los a um local apropriado a que devem se dirigir.
- (D) Quem não puder deixar os descartes no ecoponto será direcionado a um local apropriado para descartá-los.
- (E) Se algum cidadão não puder realizar o descarte no ecoponto, o mesmo será direcionado a um outro local adequado para descartá-los.

13. Assinale a alternativa que apresenta concordância nominal e verbal correta.

- (A) Um dos três ecopontos não serão reformados pela Prefeitura, mas os outros dois já estão em obras.
- (B) Locais de descarte, como o ecoponto do São Judas, é usado para destinar restos de obras e móveis.
- (C) Alambrados, baias e guarita de monitoramento será instalado nos ecopontos, segundo o que se prevê no projeto.
- (D) Dois metros cúbicos por pessoa corresponde ao limite imposto pela Prefeitura para o descarte de entulhos e recicláveis.
- (E) Um local apropriado para os descartes será indicado, em caso de impossibilidade de realizá-los no ecoponto.

14. Leia a tira a seguir.



(Fernando Gonsales. *Níquel Náusea*. 05.07.2018. Adaptado)

Para a compreensão da tira, é preciso que o leitor saiba, entre seus próprios conhecimentos, que

- (A) ao dizer “humpf!”, o caramujo demonstra que sabe falar outras línguas.
- (B) a concha é tida como a casa do caramujo no imaginário popular.
- (C) as letras R no primeiro quadrinho correspondem a um grito.
- (D) os moluscos se escondem na concha quando se sentem ameaçados.
- (E) “desculpa” é uma forma verbal no modo imperativo do verbo “desculpar”.

15. Quanto ao uso do acento indicativo de crase, está em conformidade com a norma-padrão da língua portuguesa a frase:

- (A) O vizinho é obrigado à se desculpar pelo incômodo causado.
- (B) Às 3 da manhã, um caramujo é acordado por um barulho.
- (C) Após um barulho na madrugada, todos voltam à dormir.
- (D) Uma reclamação justificada leva à um pedido de desculpa.
- (E) O bom senso deveria ser algo comum à todos.

16. Uma loja comprou um lote de peças e devolveu $\frac{1}{3}$ delas por apresentarem defeitos. Vendeu $\frac{2}{3}$ das peças restantes no mês de junho e, no mês seguinte, vendeu as últimas 40 peças. O número total de peças do lote comprado era
- (A) 120.
(B) 140.
(C) 160.
(D) 180.
(E) 200.
17. Um escritório de engenharia iniciou 26 obras no decorrer do ano de 2017. Ao término do 1º semestre, constatou-se que a razão entre o número de obras finalizadas e o número de obras não finalizadas era $\frac{6}{7}$. O número de obras não finalizadas era
- (A) 14.
(B) 12.
(C) 10.
(D) 8.
(E) 6.
18. A prefeitura de uma cidade construiu uma praça e destinou 5 m^2 da área dessa praça para a colocação de um chafariz. A área restante foi dividida entre jardins e passeio público. Sabendo que a área destinada à colocação do chafariz corresponde a 2,5% da área total da praça, e que da área restante, 80% é jardim, então, a área destinada ao passeio público é
- (A) 45 m^2 .
(B) 42 m^2 .
(C) 39 m^2 .
(D) 34 m^2 .
(E) 30 m^2 .

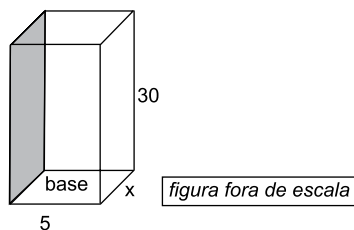
19. A tabela a seguir mostra o valor aproximado do metro quadrado (m^2) de alguns bairros de uma mesma região.

Bairros	Valor aproximado do m^2
A	R\$ 7.200,00
B	R\$ 7.900,00
C	?
D	R\$ 8.100,00

Considerando-se esses 4 bairros, o valor médio do m^2 é R\$ 7.875,00. Desse modo, o valor do m^2 no bairro C é

- (A) R\$ 7.980,00.
(B) R\$ 8.150,00.
(C) R\$ 8.190,00.
(D) R\$ 8.230,00.
(E) R\$ 8.300,00.
20. Uma pessoa fez uma compra de R\$ 650,00 e pagou R\$ 250,00 no ato da compra. O valor restante foi pago em uma só parcela, 2 meses depois, acrescido de juros simples. Se o valor total dessa compra, com os juros, ficou em R\$ 682,00, então, a taxa mensal de juros simples cobrada foi
- (A) 4,5%
(B) 4,0%
(C) 3,5%
(D) 3,0%
(E) 2,5%
21. Uma firma recebeu 3 multas, A, B e C, que juntas, totalizam R\$ 1.020,00. O valor da multa A é o dobro do valor da multa B, e o valor da multa C é 20% do valor da multa A. A diferença entre os valores da maior e da menor multa é
- (A) R\$ 480,00.
(B) R\$ 450,00.
(C) R\$ 410,00.
(D) R\$ 360,00.
(E) R\$ 320,00.
22. Em um depósito, foram empilhadas 147 caixas de determinado produto, de modo que cada pilha tinha o mesmo número de caixas. Sabendo que o número de pilhas é o triplo do número de caixas de uma pilha, então, o número de pilhas é
- (A) 9.
(B) 15.
(C) 18.
(D) 21.
(E) 24.

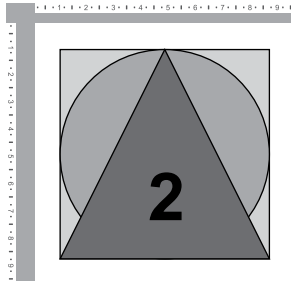
23. Utilizando 3 L de determinado tipo de tinta, é possível pintar uma superfície de 18 m^2 , com 2 demãos. A superfície que pode ser pintada utilizando-se 5 litros dessa mesma tinta, dando 3 demãos, é
- (A) 30 m^2 .
(B) 27 m^2 .
(C) 25 m^2 .
(D) 23 m^2 .
(E) 20 m^2 .
24. A área de um terreno retangular é igual à área de um terreno quadrado cujo perímetro é 48 m. Se a largura do terreno retangular é 8 m, então o perímetro desse terreno é
- (A) 50 m.
(B) 51 m.
(C) 52 m.
(D) 53 m.
(E) 54 m.
25. Um bloco maciço de gesso, com a forma de um prisma reto de base retangular com 30 cm de altura, teve uma de suas faces pintada, conforme mostra a figura a seguir, cujas medidas indicadas estão em centímetros.



Sabendo que o volume desse bloco é 1200 cm^3 , a razão entre a área da base e a área da face pintada é

- (A) $\frac{1}{8}$
(B) $\frac{1}{6}$
(C) $\frac{1}{5}$
(D) $\frac{1}{3}$
(E) $\frac{1}{2}$

26. O usuário está editando um slide no MS-PowerPoint 2010, em sua configuração padrão. O slide contém três formas que foram numeradas e possuem a mesma altura e largura: um quadrado (1), um triângulo (2) e um círculo (3). As formas estão sobrepostas e centralizadas entre si na direção vertical e na direção horizontal. O círculo está sobre o quadrado e o triângulo está sobre o círculo.



Para reordenar as formas, a partir da disposição mostrada na figura, o usuário selecionou o triângulo e depois clicou uma vez na opção “Enviar para Trás” do recurso “Organizar”, pertencente ao grupo Desenho, da guia Formatar, que envia o objeto para trás de todos os outros objetos.

Assinale a alternativa que contém a ordenação correta das formas resultante da ação do usuário.

- (A)
- (B)
- (C)
- (D)
- (E)

27. Considere uma planilha sendo editada no MS-Excel 2010, em sua configuração padrão, em que nenhuma célula foi mesclada. Assinale a alternativa que apresenta o número de células existentes no intervalo D5:F7.
- (A) 35.
 - (B) 18.
 - (C) 9.
 - (D) 7.
 - (E) 5.

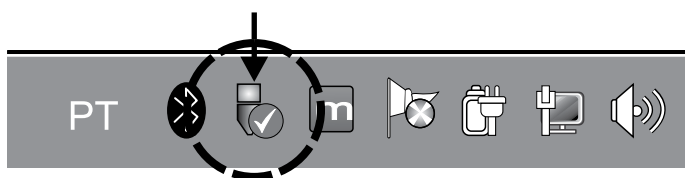
28. No MS-Word 2010, em sua configuração padrão, o usuário está editando um documento de texto que contém uma tabela de 4 linhas e 2 colunas. A largura e altura das células da tabela não são uniformes, tal como exibido na figura a seguir.

Obras	Situação
0002LTE	Não Iniciada
0234DFE	70%
0500CDE	Concluída

Assinale a alternativa que descreve o que acontece quando o usuário selecionar todas as linhas da tabela apresentada e depois clicar no recurso “Distribuir Linhas”, do grupo Tamanho da Célula, da guia Layout.

- (A) Quatro linhas adicionais serão inseridas no final da mesma tabela.
- (B) Todas as linhas terão as alturas igualadas à maior altura entre as linhas, aumentando a altura total da tabela.
- (C) Todas as linhas terão as larguras igualadas à maior largura entre as linhas, aumentando a largura total da tabela.
- (D) A largura total das linhas será igualmente distribuída entre elas.
- (E) A altura total das linhas será igualmente distribuída entre elas.

29. A imagem a seguir apresenta parte da barra de tarefas do MS-Windows 7, em sua configuração padrão.



Assinale a alternativa que descreve as funcionalidades associadas ao ícone marcado na figura com o círculo e a seta.

- (A) Remover um hardware e ejetar uma mídia com segurança.
- (B) Gerenciar os dispositivos Bluetooth conectados ao computador.
- (C) Gerenciar as configurações de rede e Internet.
- (D) Gerenciar as opções de consumo de energia do computador.
- (E) Ajustar as opções de idioma do sistema.

30. No MS-Outlook 2010, em sua configuração padrão, é possível ao usuário criar assinaturas personalizadas para suas mensagens, que podem incluir textos ou imagens.

Assinale a alternativa que representa o ícone do grupo "Incluir", da guia "Mensagem", que permite o Outlook adicionar automaticamente uma assinatura a todas as mensagens enviadas.



CONHECIMENTOS ESPECÍFICOS

31. É correto afirmar que Tributo é toda prestação

- (A) compulsória, em dinheiro ou em prestação de serviços, que não constitua sanção de ato ilícito, instituída em lei e cobrada mediante atividade administrativa plenamente vinculada, cuja natureza jurídica específica é determinada pela destinação legal do produto de sua arrecadação.
- (B) pecuniária compulsória, em moeda ou cujo valor nela se possa exprimir, que não constitua sanção de ato ilícito, instituída em lei e cobrada mediante atividade administrativa plenamente vinculada e cuja natureza jurídica específica é determinada pelo fato gerador da respectiva obrigação.
- (C) pecuniária compulsória, em moeda ou cujo valor nela se possa exprimir, que constitua sanção de ato ilícito, instituída em lei e cobrada mediante atividade administrativa plenamente vinculada e cuja natureza jurídica específica é determinada pela denominação e demais características formais adotadas pela lei.
- (D) pecuniária facultativa, em moeda ou cujo valor nela se possa exprimir, que não constitua sanção de ato ilícito, instituída em lei e cobrada mediante atividade administrativa plenamente vinculada e cuja natureza jurídica específica é determinada pelo fato gerador da respectiva obrigação.
- (E) pecuniária facultativa, em dinheiro ou em prestação de serviços, bem como a sanção de ato ilícito, instituída em lei e cobrada mediante atividade administrativa discricionária e cuja natureza jurídica específica é determinada pela destinação legal do produto de sua arrecadação.

32. O tributo instituído em razão do exercício do poder de polícia ou pela utilização, efetiva ou potencial, de serviços públicos específicos e divisíveis, prestados ao contribuinte ou postos a sua disposição denomina-se

- (A) contribuição de melhoria.
- (B) imposto.
- (C) taxa.
- (D) contribuição social.
- (E) preço público.

- 33.** O Município de Guararapes efetuou o lançamento dos seguintes tributos sobre um bem imóvel de propriedade de uma igreja: i) imposto sobre a propriedade predial e territorial urbana; ii) taxa de serviço de coleta de lixo; iii) contribuição de melhoria. É correto afirmar que
- (A) nenhum dos tributos lançados pode ser exigido da igreja, visto que esta é beneficiária de isenção prevista na Constituição Federal.
 - (B) todos os tributos são devidos, tendo em vista que o princípio da igualdade não admite que igrejas não paguem os mesmos tributos pagos por todos os contribuintes.
 - (C) apenas seria possível a exigência da taxa de coleta de lixo e do imposto sobre a propriedade predial e territorial urbana.
 - (D) apenas a contribuição de melhoria pode ser exigida da igreja.
 - (E) apenas o imposto sobre a propriedade territorial urbana não pode ser exigido, em razão da imunidade da igreja.
- 34.** Um tributo regularmente instituído mediante lei publicada no dia 31 de dezembro de 2017 poderá ser cobrado
- (A) a partir do dia útil seguinte à publicação da lei.
 - (B) após 30 dias da publicação da lei.
 - (C) após 60 dias da publicação da lei.
 - (D) após 90 dias da publicação da lei.
 - (E) após 45 dias da publicação da lei.
- 35.** A respeito do imposto sobre a propriedade predial e territorial urbana, é correto afirmar que
- (A) pode ser progressivo em razão do valor do imóvel e ter alíquotas diferentes de acordo com a localização e o uso do imóvel.
 - (B) tem como fato gerador a propriedade, o domínio útil ou a posse de bem imóvel por natureza ou por acessão física, como definido na lei civil, localizado na zona urbana ou rural do Município.
 - (C) a base do cálculo do imposto é o valor de mercado do imóvel, apurado mediante estimativa elaborada por corretor de imóveis.
 - (D) na determinação da base de cálculo, se considera o valor dos bens móveis mantidos, em caráter permanente ou temporário, no imóvel, para efeito de sua utilização, exploração, aformoseamento ou comodidade.
 - (E) pode ser progressivo, em razão do número de propriedades do contribuinte, podendo, caso este possua mais de dez imóveis, chegar a uma alíquota máxima correspondente a 20% do somatório do valor venal de suas propriedades.
- 36.** Pode ser considerada zona urbana, para fins de lançamento de imposto sobre a propriedade predial e territorial urbana, a definida em lei municipal que contenha
- (A) sistema de esgotos sanitários e transporte coletivo.
 - (B) rede de iluminação pública, com ou sem posteamento para distribuição domiciliar e coleta de lixo domiciliar.
 - (C) escola primária e posto médico a uma distância máxima de 6 (seis) quilômetros do imóvel.
 - (D) meio-fio ou calçamento, com canalização de águas pluviais e abastecimento de água.
 - (E) posto de saúde a uma distância máxima de 3 (três) quilômetros e área de convivência comum (praça).
- 37.** Sobre o Imposto Sobre Serviços de Qualquer Natureza, é correto afirmar que
- (A) a alíquota mínima é de 2% (dois por cento).
 - (B) o contribuinte é o tomador do serviço.
 - (C) a base de cálculo do imposto é o valor declarado pelo prestador, podendo ser maior ou menor que o preço do serviço.
 - (D) a incidência do imposto depende da denominação dada ao serviço prestado.
 - (E) a alíquota máxima é de 4% (quatro por cento).
- 38.** Não incide o Imposto Sobre Serviços de Qualquer Natureza sobre
- (A) as importações de serviços.
 - (B) o valor intermediado no mercado de títulos e valores mobiliários.
 - (C) os serviços desenvolvidos no Brasil, cujo resultado aqui se verifique, que o pagamento seja feito por residente no exterior.
 - (D) o serviço prestado por Microempreendedores Individuais.
 - (E) serviços de natureza médico-odontológica destinados às populações carentes que tenham renda média inferior a 2 salários-mínimos mensais.
- 39.** Nos tributos cuja legislação atribua ao sujeito passivo o dever de antecipar o pagamento sem prévio exame da autoridade administrativa, ocorre o
- (A) lançamento de ofício.
 - (B) lançamento por declaração.
 - (C) lançamento por homologação.
 - (D) autolançamento.
 - (E) lançamento por antecipação.

40. Sobre a obrigação tributária, assinale a alternativa correta.

- (A) A obrigação principal surge com a ocorrência do fato gerador, tem por objeto o pagamento de tributo, penalidade pecuniária ou prestações positivas ou negativas, e extingue-se juntamente com o crédito dela decorrente.
- (B) A obrigação acessória decorre da legislação tributária e tem por objeto as prestações, positivas ou negativas, nela previstas, no interesse da arrecadação ou da fiscalização dos tributos, bem como o pagamento de penalidades pecuniárias.
- (C) Fato gerador da obrigação acessória é qualquer situação que, na forma da legislação aplicável, impõe a prática ou a abstenção de ato ou o pagamento de penalidades decorrentes da inobservância da legislação tributária.
- (D) Considera-se ocorrido o fato gerador e existentes os seus efeitos, tratando-se de situação de fato, desde o momento em que esteja definitivamente constituída, nos termos de direito aplicável.
- (E) A autoridade administrativa poderá desconsiderar atos ou negócios jurídicos praticados com a finalidade de dissimular a ocorrência do fato gerador do tributo ou a natureza dos elementos constitutivos da obrigação tributária, observados os procedimentos a serem estabelecidos em lei ordinária.

41. João tem a idade de 15 anos. Madalena, 21 anos, em razão de um acidente, não pode exprimir sua vontade. Maria, 30 anos, é alcoólatra, embriagando-se habitualmente. Joaquim, 40 anos, é tetraplégico. Considerando a atual disciplina do Código Civil, João, Madalena, Maria e Joaquim são, respectivamente, em relação à sua capacidade civil:

- (A) absolutamente incapaz, relativamente incapaz, relativamente incapaz, capaz.
- (B) absolutamente incapaz, absolutamente incapaz, relativamente incapaz, relativamente incapaz.
- (C) absolutamente incapaz, absolutamente incapaz, absolutamente incapaz, relativamente incapaz.
- (D) relativamente incapaz, relativamente incapaz, absolutamente incapaz, capaz.
- (E) relativamente incapaz, relativamente incapaz, absolutamente incapaz, relativamente incapaz.

42. A respeito do mandato, assinale a alternativa correta.

- (A) Se o mandato for outorgado por instrumento público, o substabelecimento deve ser feito pela mesma forma.
- (B) O mandato pode ser expresso ou tácito, verbal ou escrito.
- (C) Admite-se mandato verbal, mesmo quando o ato deva ser celebrado por escrito.
- (D) A aceitação do mandato deve ser expressa.
- (E) O mandato em termos gerais confere poderes para alienar, hipotecar e transigir.

43. Assinale a alternativa correta acerca da herança e sua aceitação.

- (A) A herança defere-se em tantas partes quantos forem os herdeiros.
- (B) Até a partilha, o direito dos co-herdeiros, quanto à propriedade e posse da herança, é divisível.
- (C) O herdeiro responde por encargos superiores às forças da herança, salvo se provar que o falecido era, ao tempo em que contraiu as dívidas, insolvente.
- (D) O direito à sucessão aberta, bem como o quinhão de que disponha o co-herdeiro, pode ser objeto de cessão por escritura pública.
- (E) É permitida a cessão, pelo co-herdeiro, de seu direito hereditário sobre qualquer bem da herança considerado singularmente.

44. A posse

- (A) é justa, mesmo se clandestina ou precária.
- (B) perde o caráter de boa-fé somente se o possuidor expressamente declarar que não ignora que a possui indevidamente.
- (C) do imóvel não faz presumir a das coisas móveis que nele estiverem.
- (D) pode ser adquirida por terceiro sem mandato, independentemente de ratificação.
- (E) transmite-se aos herdeiros ou legatários do possuidor com os mesmos caracteres.

45. O serviço público de iluminação pública pode ser classificado como
- (A) *uti singuli*.
 - (B) administrativo.
 - (C) *uti universi*.
 - (D) indelegável.
 - (E) exclusivo.
46. O serviço autônomo, criado por lei, com personalidade jurídica, patrimônio e receita próprios, para executar atividades típicas da Administração Pública, que requeiram, para seu melhor funcionamento, gestão administrativa e financeira descentralizada corresponde ao conceito legal de
- (A) empresa pública.
 - (B) sociedade de economia mista.
 - (C) autarquia.
 - (D) fundação pública.
 - (E) consórcio público.
47. O atributo do Poder de Polícia que permite à Administração Pública, desde que exista previsão legal ou urgência, decidir e executar materialmente e de forma direta suas decisões por seus próprios meios, sem a necessidade de autorização judicial, é denominado
- (A) autoexecutoriedade.
 - (B) discricionariedade.
 - (C) vinculação.
 - (D) coercibilidade.
 - (E) exigibilidade.
48. O resultado operado pelo ato administrativo, tal como a modificação, criação ou extinção de direitos, corresponde ao conceito de
- (A) finalidade.
 - (B) motivo.
 - (C) forma.
 - (D) objeto.
 - (E) motivação.
49. Tendo em vista a disciplina constante da Lei Complementar Municipal nº 87/2004, sobre a Contribuição do Serviço de Iluminação Pública – COSIP, assinale a alternativa correta.
- (A) A contribuição para o Custeio de Serviços de Iluminação Pública – COSIP, incide sobre cada imobiliária autônoma, desde que edificada, e unidade não imobiliária ligadas à rede elétrica, localizadas no território do Município.
 - (B) Ficam isentos da contribuição os consumidores da classe rural, bem como os da classe residencial com consumo de até 50 Kw/h.
 - (C) Considera-se como base de cálculo para o custeio do Serviço de Iluminação Pública, a média dos últimos 12 meses dos valores do consumo total de energia elétrica constante da fatura emitida pela empresa concessionária e/ou permissionárias a seus consumidores.
 - (D) O sujeito passivo da COSIP é o proprietário do imóvel edificado consumidor de energia elétrica, residente ou não no Território do Município.
 - (E) A COSIP deverá ser paga pelo contribuinte, assim entendido o sujeito passivo, em fatura separada da conta de energia elétrica.
50. A Municipalidade possui três imóveis, todos de sua propriedade, que estão na seguinte situação: i) o imóvel “X” é a sede da Prefeitura; ii) no imóvel “Y” funcionava uma escola pública que foi desativada e hoje se encontra sem qualquer uso; iii) no imóvel “Z” foi implantada uma praça. Os imóveis X, Y e Z são, respectivamente, bens públicos
- (A) de uso comum do povo, dominicais e de uso especial.
 - (B) dominicais, de uso especial e de uso comum do povo.
 - (C) de uso especial, de uso comum do povo dominicais.
 - (D) dominicais, de uso comum do povo e de uso especial.
 - (E) de uso especial, dominicais e de uso comum do povo.

