



CÂMARA MUNICIPAL DE MAUÁ

ESTADO DE SÃO PAULO

CONCURSO PÚBLICO

010. PROVA OBJETIVA

CONTADOR LEGISLATIVO

- ◆ Você recebeu sua folha de respostas e este caderno contendo 60 questões objetivas.
- ◆ Confira seus dados impressos na capa deste caderno e na folha de respostas.
- ◆ Quando for permitido abrir o caderno, verifique se está completo ou se apresenta imperfeições. Caso haja algum problema, informe ao fiscal da sala.
- ◆ Leia cuidadosamente todas as questões e escolha a resposta que você considera correta.
- ◆ Marque, na folha de respostas, com caneta de tinta preta, a letra correspondente à alternativa que você escolheu.
- ◆ A duração da prova é de 3 horas e 30 minutos, já incluído o tempo para o preenchimento da folha de respostas.
- ◆ Só será permitida a saída definitiva da sala e do prédio após transcorridos 75% do tempo de duração da prova.
- ◆ Deverão permanecer em cada uma das salas de prova os 3 últimos candidatos, até que o último deles entregue sua prova, assinando termo respectivo.
- ◆ Ao sair, você entregará ao fiscal a folha de respostas e este caderno, podendo levar apenas o rascunho de gabarito, localizado em sua carteira, para futura conferência.
- ◆ Até que você saia do prédio, todas as proibições e orientações continuam válidas.

AGUARDE A ORDEM DO FISCAL PARA ABRIR ESTE CADERNO DE QUESTÕES.

Nome do candidato _____

RG _____

Inscrição _____

Prédio _____

Sala _____

Carteira _____

CONHECIMENTOS GERAIS

LÍNGUA PORTUGUESA

Leia a tira para responder às questões de números **01** e **02**.



(Bob Thaves, "Frank & Ernest".
<https://cultura.estadao.com.br/quadrinhos>)

- 01.** De acordo com a fala da personagem, as mídias giratórias estão
- (A) na moda.
 - (B) no auge.
 - (C) obsoletas.
 - (D) modernizadas.
 - (E) para ser superadas.
- 02.** Na frase "elas podiam 'avançar'", o enunciado é formulado sob
- (A) uma hipótese, e as aspas em "avançar" sugerem duplo sentido do verbo.
 - (B) uma contradição, e as aspas em "avançar" dão ênfase ao sentido do verbo.
 - (C) uma certeza, e as aspas em "avançar" reforçam no verbo a ideia de perplexidade.
 - (D) uma conjectura, e as aspas em "avançar" mostram que o verbo expressa descaso.
 - (E) uma consequência, e as aspas em "avançar" conferem sentido pejorativo ao verbo.

Leia o texto para responder às questões de números **03** a **08**.

No calor da hora

Os impactos climáticos são mais agressivos e acelerados do que se supunha há uma década. A temperatura global entre 2015 e 2019, por exemplo, será mais alta que em qualquer período equivalente já registrado. "Ondas de calor disseminadas e duradouras, recordes de incêndios e outros eventos devastadores como ciclones tropicais, enchentes e secas têm impactos imensos no desenvolvimento socioeconômico e ambiental", afirma o relatório das Nações Unidas publicado por ocasião do debate anual da Assembleia-Geral. O estudo, sugestivamente denominado Unidos na Ciência, foi produzido pelo Grupo Consultivo de Ciências da Cúpula da Ação Climática e compila de maneira altamente sintética as descobertas científicas decisivas mais recentes no domínio das pesquisas sobre mudanças climáticas.

Estima-se que a temperatura global esteja hoje 1,1 grau Celsius acima da era pré-industrial (1850-1900) e 0,2 grau acima da média da temperatura global entre 2011 e 2015. Como resultado, a ascensão do nível do mar está acelerando e a água já se tornou 26% mais ácida do que no início da era industrial, com grande prejuízo para a vida marinha. Nos últimos 40 anos, a extensão de gelo ártico no mar declinou aproximadamente 12% por década. Entre 1979 e 2018 a perda anual de gelo do lençol glacial antártico sextuplicou. As ondas de calor aumentaram os índices de letalidade ambiental nos últimos cinco anos. No verão de 2019, os incêndios florestais na região ártica cresceram sem precedentes. Só em junho as queimadas emitiram 50 megatons de dióxido de carbono na atmosfera, mais do que a soma de todas as emissões no mesmo mês entre 2010 e 2018.

Estima-se que, para atingir a meta dos Objetivos do Desenvolvimento Sustentável de limitar o aumento da temperatura em relação à era pré-industrial a 2 graus, os esforços atuais precisam ser triplicados. No caso da meta ideal de limitar esse aumento a 1,5 grau, esses esforços precisariam ser quintuplicados. Tecnicamente, dizem os pesquisadores, isso ainda é possível, mas demandará ações urgentes de intensificação e replicação das políticas mais bem-sucedidas.

Em resumo, os crescentes impactos climáticos intensificam o risco de cruzar limites irreversíveis. Os pesquisadores apontam três setores que precisam investir diretamente na descarbonização: finanças, energia e indústria. Além disso, outras três áreas são decisivas: soluções baseadas na natureza, ações locais e urbanas e o incremento da resiliência e adaptação às mudanças climáticas, especialmente nos países mais vulneráveis.

(<https://opinioao.estadao.com.br>. Adaptado)

03. O objetivo do texto é

- (A) expor a problemática dos impactos climáticos que, segundo descobertas científicas, cruzaram limites irreversíveis, restando ao ser humano esperar pelo pior.
- (B) relatar experiências que têm avaliado os impactos climáticos e propor que os governos as implementem a médio prazo para evitar o aumento da temperatura no planeta.
- (C) descrever as principais pesquisas sobre o aumento da temperatura no planeta, revelando que a questão é menos problemática do que se tem noticiado.
- (D) analisar a situação do planeta com base nas mudanças climáticas ocorridas ao longo do tempo e propor ações que visem conter o aumento da temperatura.
- (E) narrar os esforços dos pesquisadores para que o aumento da temperatura seja definitivamente barrado e ela possa estar, a curto prazo, igual à da era pré-industrial.

04. De acordo com o texto, é correto afirmar que

- (A) a previsão, há dez anos, era de que os impactos climáticos seriam agressivos e acelerados como se tem visto hoje.
- (B) os incêndios florestais que ocorreram na região ártica, no verão de 2019, cresceram de forma inédita.
- (C) a replicação das políticas mais bem-sucedidas permitirá limitar a temperatura a valores anteriores à do período 1850-1900.
- (D) a temperatura global entre 2015 e 2019, mais alta que em qualquer período equivalente já registrado, nunca mais se repetirá.
- (E) os impactos climáticos, que trazem muitos prejuízos, estão sendo combatidos por três setores que investem em descarbonização.

05. As informações apresentadas ao longo do 2º parágrafo do texto correspondem a

- (A) possibilidades efetivas de alta de temperatura do planeta, as quais requerem conscientização das pessoas.
- (B) expectativas quanto ao aumento da temperatura do planeta, as quais exigem ações urgentes da população mundial.
- (C) consequências do aumento da temperatura do planeta, as quais revelam um cenário preocupante para a humanidade.
- (D) projeções de aumento da temperatura do planeta, as quais mostram a desatenção da humanidade com o clima.
- (E) causas do aumento da temperatura do planeta, as quais têm um impacto irrelevante no conjunto dos problemas climáticos.

06. Considere as passagens do texto:

- O estudo [...] **compila** de maneira altamente **sintética** as descobertas científicas decisivas mais recentes... (1º parágrafo)
- ... a **ascensão** do nível do mar está acelerando... (2º parágrafo)
- As ondas de calor aumentaram os índices de **letalidade** ambiental nos últimos cinco anos. (2º parágrafo)

Conforme o contexto em que estão inseridos, os termos destacados significam, correta e respectivamente:

- (A) junta; sumarizada; poluição; morbidade.
- (B) reúne; resumida; elevação; mortalidade.
- (C) expõe; condensada; alteração; morbidez.
- (D) converte; explicativa; oscilação; extermínio.
- (E) organiza; exemplificada; transformação; fatalidade.

07. Assinale a alternativa que atende à norma-padrão de concordância.

- (A) Será requerido ações urgentes de intensificação e replicação das políticas mais bem-sucedidas para limitar o aumento da temperatura a 1,5 grau.
- (B) Os pesquisadores apontam que devem haver investimentos diretos na descarbonização por três setores: finanças, energia e indústria.
- (C) Os países mais vulneráveis precisa que três áreas seja protagonista nas transformações: soluções baseadas na natureza, ações locais e urbanas e o incremento da resiliência e adaptação às mudanças climáticas.
- (D) O desenvolvimento socioeconômico e ambiental sofre impacto devido às mudanças climáticas que põe o mundo em estado de alerta.
- (E) Em junho, as queimadas emitiram 50 megatons de dióxido de carbono na atmosfera, mais do que a soma de todas as emissões que haviam sido realizadas no mesmo mês entre 2010 e 2018.

08. Considere as passagens:

- “Ondas de calor disseminadas e duradouras, recordes de incêndios e outros eventos devastadores **como** ciclones tropicais, enchentes e secas têm impactos imensos no desenvolvimento socioeconômico e ambiental”... (1º parágrafo)
- Só em junho as queimadas emitiram 50 megatons de dióxido de carbono na atmosfera, **mais do que** a soma de todas as emissões no mesmo mês entre 2010 e 2018. (2º parágrafo)
- Tecnicamente, dizem os pesquisadores, isso ainda é possível, **mas** demandará ações urgentes de intensificação e replicação das políticas mais bem-sucedidas. (3º parágrafo)

As expressões destacadas são empregadas, respectivamente, com a função de:

- (A) exemplificar; comparar; opor uma informação a outra.
- (B) comparar; opor uma informação a outra; concluir.
- (C) enumerar; comparar; explicar a informação anterior.
- (D) exemplificar; resumir; adicionar uma informação a outra.
- (E) comparar; comparar; indicar a condição da informação.

Leia trecho da crônica de Luís Fernando Veríssimo para responder às questões de números **09** e **10**.

Vá entender. _____ que depois dos 7 a 1 o torcedor brasileiro, desencantado, passaria _____ badminton, balé aquático ou outro esporte que não envolvesse bola ou qualquer coisa vagamente esférica. O desastre na Copa de 2014 não só _____ não éramos mais o país do futebol como fomentaria nosso ódio pelo futebol. O futebol seria para nós como a História para Stephen Dedalus, aquele personagem do James Joyce: um pesadelo do qual estaríamos tentando acordar. Mas não. Assimilamos a derrota até com certa resignação filosófica. Depois da derrota para o Uruguai em 1950, correram boatos de suicídios em massa, de torcedores ateando fogo _____ vestes, do Bigode engolindo formicida e do Barbosa pedindo asilo numa embaixada estrangeira. Depois dos 7 a 1 não houve nada parecido, nem boatos de coisa parecida. Foi uma desilusão dolorida, não foi uma tragédia.

(Luís Fernando Veríssimo [org. Adriana Falcão e Isabel Falcão], "O bum". *Ironias do tempo*, 2018. Adaptado.)

09. Em conformidade com a norma-padrão, as lacunas do texto devem ser preenchidas, respectivamente, com:

- (A) Imaginava-se ... a se interessar por ... convencer-nos-ia de que ... às
- (B) Se imaginava ... à se interessar em ... convenceria-nos de que ... a
- (C) Imaginava-se ... à se interessar sobre ... nos convenceria que ... à
- (D) Se imaginava ... a se interessar em ... convencer-nos-ia que ... as
- (E) Imaginava-se ... a se interessar por ... nos convenceria de que ... às

10. As informações do texto permitem concluir que a hipótese de que

- (A) o torcedor brasileiro deixaria de exaltar suas tragédias não foi levada a termo, uma vez que a sua resignação filosófica foi insuficiente para minimizar a derrota por 7 a 1 da Copa de 2014.
- (B) o futebol deixaria de ser o esporte preferido do brasileiro começou a virar realidade, uma vez que outros esportes que não envolvem bola caíram no gosto dos torcedores.
- (C) o Brasil deixaria de ser o país do futebol virou realidade, uma vez que os torcedores encararam a derrota por 7 a 1 como uma verdadeira tragédia, tal como aquela para o Uruguai em 1950.
- (D) o brasileiro deixaria de gostar de futebol depois do desastre da Copa de 2014 não se concretizou, uma vez que os torcedores aceitaram o sofrimento imposto pela derrota por 7 a 1 sem revoltas.
- (E) a Copa de 2014 deixaria de incomodar rapidamente o torcedor brasileiro foi deixada de lado, uma vez que o espírito de sofrimento e tragédia de 1950 se instalou no país.

MATEMÁTICA

11. Em um departamento, há 5 arquivistas trabalhando na classificação e descrição de documentos. Cada arquivista demora, em média, 8 minutos para processar cada documento. Nessas condições, o tempo médio necessário para que esses 5 arquivistas efetuem a classificação e descrição de 345 documentos será de

- (A) 8 horas e 20 minutos.
- (B) 8 horas e 48 minutos.
- (C) 9 horas e 12 minutos.
- (D) 9 horas e 20 minutos.
- (E) 10 horas e 12 minutos.

12. Do preço de venda de certo produto, um lojista paga 5% de comissão ao vendedor. Do valor restante, 40% correspondem ao custo do produto. Se o custo desse produto é R\$ 532,00, então o preço de venda desse produto é

- (A) R\$ 1.400,00.
- (B) R\$ 1.330,00.
- (C) R\$ 1.300,00.
- (D) R\$ 1.280,00.
- (E) R\$ 1.200,00.

13. Em um arquivo há 6 gavetas que continham, inicialmente, um total de x documentos, sendo o número de documentos em cada gaveta igual a $\frac{1}{6}x$. Para arquivar mais docu-

mentos, foi necessária uma nova distribuição, em que cada uma das 6 gavetas passou a ter uma quantidade de documentos igual a $\frac{1}{5}x$, resultando em um total de 576

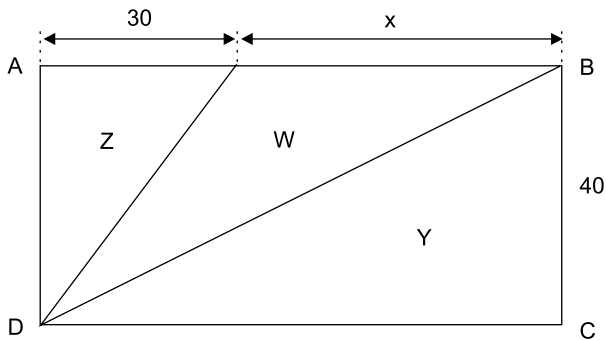
documentos arquivados. A quantidade inicial de documentos nesse arquivo era igual a

- (A) 466.
- (B) 480.
- (C) 485.
- (D) 490.
- (E) 506.

14. Sávio trabalha com prestação de serviços na área de informática e recebe por projeto elaborado. Na última semana ele recebeu R\$ 5.100,00 pela elaboração dos projetos A e B, sendo x reais pelo projeto A e y reais pelo projeto B. Se o valor recebido por A fosse 25% maior, seria exatamente o triplo do valor recebido por B. O valor que Sávio recebeu pela elaboração do projeto B foi

- (A) R\$ 1.200,00.
- (B) R\$ 1.250,00.
- (C) R\$ 1.500,00.
- (D) R\$ 2.550,00.
- (E) R\$ 3.600,00.

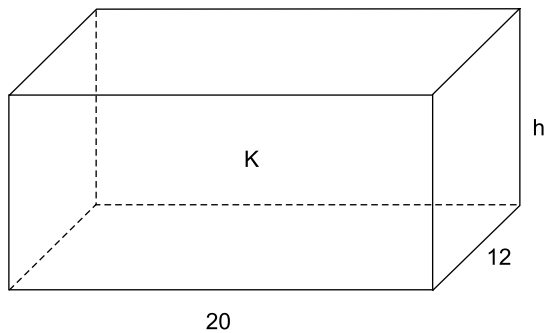
15. Um terreno retangular ABCD foi dividido em 3 regiões triangulares, Y, W e Z, conforme mostra a figura, com dimensões indicadas em metros.



Sabendo-se que o perímetro do terreno ABCD é 240 m, a área da região W é igual a

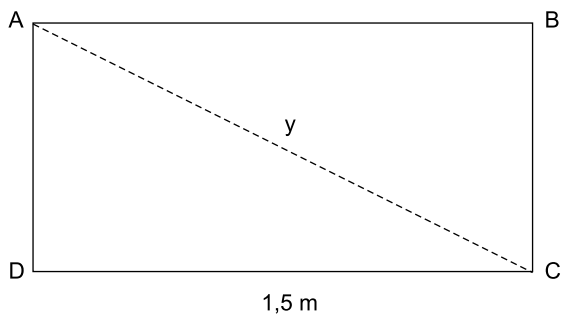
- (A) 1600 m².
 (B) 1400 m².
 (C) 1200 m².
 (D) 1000 m².
 (E) 800 m².
16. Em uma concessionária, em certo período, a razão entre o número de carros vendidos do modelo A e o número de carros vendidos do modelo B é $\frac{3}{5}$, sendo que, dos dois modelos, juntos, foram vendidas um total de 144 unidades. A diferença entre os números de unidades vendidas desses dois modelos, nesse período, é igual a
- (A) 54.
 (B) 52.
 (C) 46.
 (D) 36.
 (E) 32.
17. Em uma indústria, determinada peça é produzida em 3 máquinas de rendimentos diferentes. Um lote de 5000 unidades é produzido em 24 minutos pela máquina M, em 32 minutos pela máquina N e em 1 hora e 4 minutos pela máquina P. Considere que as três máquinas iniciem a produção simultaneamente, em um mesmo horário, e trabalhem sem interrupções. Desse modo, na primeira vez, após o início, em que as três máquinas concluírem simultaneamente a produção dos respectivos lotes de 5000 unidades, a máquina P terá produzido um total de
- (A) 35000 peças.
 (B) 30000 peças.
 (C) 25000 peças.
 (D) 20000 peças.
 (E) 15000 peças.

18. Considere um recipiente K, com formato de paralelepípedo reto retângulo e dimensões, em centímetros, indicadas na figura. Sabe-se que esse recipiente estava, inicialmente, completamente cheio com certo líquido, e que parte desse conteúdo foi transferido para 4 recipientes cúbicos iguais, com 8 cm de aresta, preenchendo-os por completo, sem transbordar.



Se o volume do líquido que restou no recipiente K, após a transferência, corresponde à terça parte do volume inicial, então a medida da altura do recipiente K, indicada por h, na figura, é igual a

- (A) 15,2 cm.
 (B) 14,6 cm.
 (C) 13,4 cm.
 (D) 12,8 cm.
 (E) 12,2 cm.
19. Em um painel ABCD, de formato retangular, a distância entre os vértices A e C, indicada por y na figura, é igual a 1,7 m.



O perímetro desse painel é igual a

- (A) 4,8 m.
 (B) 4,6 m.
 (C) 4,2 m.
 (D) 3,8 m.
 (E) 3,6 m.

20. A tabela relaciona as receitas mensais obtidas por certa empresa no primeiro semestre de 2019, sendo os valores das receitas mensais, em milhões de reais, substituídos por letras.

MÊS	RECEITA MENSAL
Janeiro	a
Fevereiro	b
Março	c
Abril	d
Maiο	e
Junho	f

Sabe-se que a média aritmética das receitas mensais, nesse semestre, foi igual a R\$ 4,25 milhões, e que as receitas obtidas no primeiro trimestre somaram R\$ 10,2 milhões. Desse modo, é correto afirmar que a receita média mensal no segundo trimestre foi igual a

- (A) R\$ 3,9 milhões.
 (B) R\$ 4,5 milhões.
 (C) R\$ 4,8 milhões.
 (D) R\$ 5,0 milhões.
 (E) R\$ 5,1 milhões.

R A S C U N H O

LEGISLAÇÃO

21. De acordo com os termos da Lei Orgânica do Município de Mauá, a Câmara Municipal, entre outras, tem como uma atribuição privativa

- (A) autorizar o Prefeito, por necessidade de serviço, a ausentar-se do Município por até cinco dias.
- (B) deliberar sobre a concessão de serviços públicos, desde que cumpridas as formalidades necessárias e subordinadas à legislação estadual aplicável.
- (C) atribuir ao Presidente do Poder Legislativo subsídio diferenciado dos demais Vereadores, pelo desempenho da função que ocupa, respeitados os limites previstos nas Constituições Federais e do Estado de São Paulo, e na Lei de Responsabilidade Fiscal.
- (D) autorizar a concessão de título de cidadão honorário ou qualquer outra honraria ou homenagem às pessoas que reconhecidamente tenham prestado serviços ao Município, mediante resolução aprovada pelo voto da maioria absoluta dos membros da Câmara Municipal.
- (E) conceder, por meio do Presidente da Câmara, auxílios, subvenções e direito real de uso dos bens municipais.

22. José, Vereador da Câmara Municipal de Mauá, solicitou licença com a finalidade de desempenhar uma missão temporária de caráter cultural previamente aprovada pelo Plenário da Câmara.

Nesse caso hipotético, e conforme dispõe a Lei Orgânica do Município de Mauá, José

- (A) terá direito a receber integralmente sua remuneração como se estivesse em exercício.
- (B) terá direito a receber 50% (cinquenta por cento) da sua remuneração.
- (C) não poderá se licenciar por mais de 05 (cinco) dias para desempenhar a sua missão.
- (D) poderá licenciar-se por 10 (dez) dias, mediante a devida autorização expedida pelo Tribunal Regional Eleitoral.
- (E) poderá licenciar-se por até 20 (vinte) dias, mas não terá direito a receber seus subsídios correspondentes aos dias de afastamento.

23. Em relação aos serviços administrativos da Câmara, conforme disciplinado no Regimento Interno da Câmara Municipal de Mauá, é correto afirmar que

- (A) os serviços administrativos da Câmara Municipal, sob orientação geral de seu Presidente, serão executados pela Diretoria Geral, que se regerá por decretos legislativos próprios.
- (B) a seleção mediante concurso público, a nomeação e a exoneração competem ao Secretário Geral da Câmara, de conformidade com a legislação vigente e o estatuto dos funcionários públicos municipais.
- (C) a Câmara somente poderá admitir funcionários, mediante concurso público de provas e títulos, após a criação dos cargos respectivos, por meio de lei aprovada por 2/3 (dois terços) dos membros presentes na sessão ordinária da Câmara.
- (D) os Vereadores não poderão interpellar sobre os serviços administrativos, bem como não poderão apresentar sugestões sobre os mesmos.
- (E) a estrutura administrativa da Câmara Municipal, o seu quadro próprio de pessoal, bem como a tabela de cargos e salários, sua organização e funcionamento deverão ser fixados por intermédio de lei de iniciativa da Mesa Diretora.

24. O Regimento Interno da Câmara Municipal de Mauá estabelece que toda matéria legislativa de competência da Câmara será objeto de projeto de lei, e toda matéria administrativa ou político-administrativa sujeita à deliberação da Câmara será objeto de projeto de resolução ou decreto legislativo. Assinale a alternativa que apresenta uma matéria que constitui projeto de decreto legislativo.

- (A) Assuntos de economia interna da Câmara.
- (B) Aprovação do Regimento Interno da Casa e suas alterações.
- (C) Destituição dos membros da Mesa Diretora da Câmara.
- (D) Aprovação ou rejeição das contas do Prefeito e da Mesa.
- (E) Atos que dependem da sanção do Prefeito.

25. Mariana, servidora pública do Município de Mauá, permaneceu em licença para tratamento da sua saúde por mais de 180 (cento e oitenta) dias intercalados, no decurso do período aquisitivo de férias.

Após completar mais um período aquisitivo de férias, e de acordo com a Lei Complementar nº 01/2002, Mariana

- (A) terá direito ao gozo de férias integrais.
- (B) não terá direito ao gozo de férias.
- (C) não terá direito a receber o abono legal, mas poderá gozar férias por 24 (vinte e quatro) dias.
- (D) terá direito a gozar férias por 18 (dezoito) dias apenas, em virtude do seu afastamento por licença saúde.
- (E) terá direito a gozar férias por 10 (dez) dias, porém o tempo de serviço durante o afastamento será contado para todos os fins.

NOÇÕES DE INFORMÁTICA

26. Um usuário do MS-Windows 7, em sua configuração padrão, está utilizando o Windows Explorer para visualizar os arquivos de uma pasta do disco rígido de seu computador. Para determinar a data de criação de um desses arquivos, esse usuário deve clicar com o botão direito (ou secundário) do mouse sobre o nome do arquivo desejado e selecionar a opção
- (A) Configurações.
 - (B) Definições.
 - (C) Exibir.
 - (D) Propriedades.
 - (E) Revisar.
27. No programa Microsoft Word 2010, em sua configuração padrão, existe um recurso denominado “Controle de linhas órfãs/viúvas” que permite ao usuário definir como as quebras de página influenciarão o posicionamento das linhas do último parágrafo de cada página do documento em edição. Esse recurso pode ser ativado ou desativado na guia
- (A) Página Inicial.
 - (B) Inserir.
 - (C) Layout de Página.
 - (D) Revisão.
 - (E) Exibição.
28. As células de uma planilha que está sendo elaborada com o auxílio do programa Microsoft Excel 2010, em sua configuração padrão, foram preenchida conforme mostrado na figura a seguir:

	A	B	C
1	1	2	3
2	4	5	6
3	7	8	9

Se a fórmula =MÉDIA(B1:C2)*MENOR(A2:B3;2) for digitada na célula D4, o valor obtido será

- (A) 12.
- (B) 16.
- (C) 20.
- (D) 30.
- (E) 42.

29. Um usuário do programa MS-PowerPoint 2010, em sua configuração padrão, deseja adicionar um Botão de Ação a um slide de sua apresentação. Para tanto, ele deverá selecionar a guia Inserir e escolher uma opção entre aquelas disponibilizadas depois de acionar o ícone

- (A) WordArt.
- (B) SmartArt.
- (C) Imagem.
- (D) Gráfico.
- (E) Formas.

30. Elvis precisa encaminhar uma mensagem de correio eletrônico para John, Paul, Ringo e George, que também são funcionários de sua empresa. A mensagem que foi preparada e enviada por Elvis pelo programa de correio eletrônico instalado em seu computador tinha os campos de endereçamento preenchidos como mostrado na figura a seguir:

De:	elvis@empresa.com,br
Para:	john@empresa.com,br
Cc:	paul@empresa.com,br
Cco:	ringo@empresa.com,br; george@empresa.com,br

Paul respondeu a mensagem de Elvis utilizando a opção “Responder para todos” de seu programa de correio eletrônico. O número de pessoas que recebeu a resposta de Paul foi

- (A) 1.
- (B) 2.
- (C) 3.
- (D) 4.
- (E) 5.

CONHECIMENTOS ESPECÍFICOS

31. Assinale a alternativa correta, conforme a Estrutura Conceitual Básica da Contabilidade.
- (A) As demonstrações contábeis são elaboradas comumente segundo modelo baseado no custo histórico irreversível e no conceito da manutenção do capital financeiro real.
 - (B) Governos, órgãos reguladores ou autoridades tributárias podem determinar especificamente exigências em termos de matéria contábil para atender seus próprios interesses.
 - (C) O objetivo do relatório contábil-financeiro de propósito geral é fornecer informações contábil-financeiras específicas e precisas acerca da entidade que reporta a informação.
 - (D) O regime de competência não retrata com propriedade os efeitos de transações e outros eventos e circunstâncias das entidades.
 - (E) Usuários primários individuais têm desejos e necessidades de informações semelhantes e unânimes e por isso existe uma Estrutura Conceitual.
32. Assinale a alternativa que contém exemplo de transação econômica que provoca mutação interna no patrimônio líquido.
- (A) Contratação de duplicatas descontadas.
 - (B) Integralização de capital com reserva de lucros.
 - (C) Integralização de capital em dinheiro.
 - (D) Recebimento em dinheiro de adiantamento para futuro aumento de capital.
 - (E) Reconhecimento de valorização de instrumento financeiro classificado a valor justo para outros resultados abrangentes.
33. São exemplos de reserva de capital:
- (A) ágio na emissão de ações e reserva para contingência.
 - (B) alienação de bônus de subscrição e reserva de lucros a realizar.
 - (C) alienação de debêntures conversíveis e ágio na emissão de ações.
 - (D) alienação de partes beneficiárias e alienação de bônus de subscrição.
 - (E) reserva de incentivo fiscal e reserva de lucros para expansão.
34. Uma entidade comercial foi a uma instituição financeira antecipar R\$ 10.000,00 em recebíveis (duplicatas) que possuíam data de vencimento em seis meses a partir do dia da contratação da operação. Sabe-se que foram cobrados R\$ 150,00 referentes a juros e R\$ 30,00 referentes a tarifas bancárias. Assinale a alternativa que contém o registro contábil correto desta transação na entidade comercial, no dia da contratação da operação, em R\$.
- (A) D: Bancos – 9.820,00
D: Encargos a apropriar – 180,00
C: Duplicatas descontadas – 10.000,00
 - (B) D: Bancos – 10.000,00
D: Despesa com juros – 180,00
C: Duplicatas descontadas – 10.180,00
 - (C) D: Bancos – 9.820,00
D: Despesas com tarifas – 30,00
D: Despesa com juros – 150,00
C: Duplicatas descontadas – 10.000,00
 - (D) D: Bancos – 10.000,00
C: Duplicatas descontadas – 10.000,00
 - (E) D: Clientes – 9.820,00
C: Bancos – 9.820,00
35. Ao adquirir material de expediente à vista, o índice de liquidez corrente de uma entidade prestadora de serviços
- (A) aumenta.
 - (B) diminui.
 - (C) não se altera.
 - (D) tende a zero.
 - (E) tende ao infinito.
36. São elementos da obrigação tributária:
- (A) alíquota, governo, fato gerador e objeto.
 - (B) credor, governo, fato gerador e objeto.
 - (C) devedor, sujeito passivo, fato gerador e alíquota.
 - (D) fato gerador, sujeito ativo, sujeito passivo e objeto.
 - (E) governo, contribuinte, alíquota e lucro.
37. Assinale a alternativa correta, conforme legislação tributária.
- (A) Diferimento é a antecipação do pagamento de um tributo.
 - (B) Imposto é um tipo de tributo estabelecido por União e Estado e que, quando autorizado, pode ser estabelecido pelo Município.
 - (C) Imunidade é a ausência de previsão legal relativa ao tributo ou fato econômico.
 - (D) Incidência é a materialização de um fato que já estava abstratamente previsto em lei e que por isso faz com que a norma tributária produza efeitos.
 - (E) Isenção é uma forma especial de tributação, estabelecida pela secretaria da fazenda do ente, sobre determinadas transações, situações ou pessoas.

38. Assinale a alternativa que contém exemplos de transações evidenciadas no Passivo.

- (A) Adiantamento para futuro aumento de capital e valor realizável líquido.
- (B) Empréstimos e Ajuste a valor recuperável.
- (C) Financiamentos e Duplicatas descontadas.
- (D) Fornecedores e Clientes.
- (E) Gasto com emissão de ações e Imposto de renda a pagar.

39. Um custo que não se altera em termos totais, mas se altera com o aumento das unidades produzidas, é um custo

- (A) conjunto.
- (B) fixo.
- (C) perdido.
- (D) temporário.
- (E) variável.

40. Uma entidade fabril apresentou os seguintes gastos no seu último mês:

	Valor (em R\$)
Depreciação de ativos fabris	45.000,00
Despesa com comissão de vendas	345.000,00
Despesa com salários de vendedores	120.000,00
Mão de obra direta	300.000,00
Mão de obra indireta	120.000,00
Material direto	600.000,00
Outros custos indiretos de fabricação	280.000,00

Os custos primários dessa entidade totalizaram, em R\$:

- (A) 300.000,00.
- (B) 720.000,00.
- (C) 900.000,00.
- (D) 1.345.000,00.
- (E) 1.810.000,00.

Os dados a seguir deverão ser utilizados para responder às questões de números 41 a 44.

Balanco Patrimonial da Cia. Aprovado em 31.12.2018

ATIVO	2017	2018	PASSIVO	2017	2018
Circulante	1.223.000,00	1.975.200,00	Circulante	370.000,00	551.846,00
Caixa	195.000,00	350.000,00	Utilidades Públicas a pagar	90.000,00	90.000,00
Bancos	671.600,00	900.000,00	Dividendos a pagar	0,00	110.854,00
Clientes	360.000,00	730.000,00	IR e CSLL a pagar	45.000,00	114.212,00
(-) PECLD	(3.600,00)	(4.800,00)	Empréstimos	235.000,00	236.780,00
Não circulante	242.000,00	180.900,00			
Propriedades para investimento	100.000,00	100.000,00	PATRIMÔNIO LÍQUIDO	1.095.000,00	1.604.254,00
Equipamentos	80.000,00	90.000,00	Capital Social	1.000.000,00	1.398.400,00
(-) Depreciação Acumulada	(8.000,00)	(9.100,00)	Reserva de Capital	45.000,00	45.000,00
Terrenos	70.000,00	0,00	Reservas de Lucros	50.000,00	160.854,00

Demonstração do Resultado do Exercício em 31.12.2018

Receita	1.200.000,00
(-) Custo da Mercadoria Vendida	(845.000,00)
(=) Resultado Bruto	355.000,00
(-) Despesa com vendas e administrativas	(47.300,00)
(-) Despesa com utilidades públicas	(45.000,00)
(-) Despesa com depreciação	(1.100,00)
(-) Despesa com Perdas Estimadas (PECLD)	(1.200,00)
(- +) Resultado Financeiro Líquido	(1.780,00)
(-) Despesa com juros	(1.780,00)
(- +) Outras receitas e despesas	30.000,00
Ganho na venda de terrenos	30.000,00
(=) Resultado antes do IR e CSLL	335.920,00
(-) Despesa com IR e CSLL	(114.212,00)
(=) Resultado Líquido	221.708,00

41. O pagamento de Imposto de Renda e Contribuição Social no período totalizou, em R\$:

- (A) 0,00.
- (B) 45.000,00.
- (C) 114.212,00.
- (D) 145.000,00.
- (E) 159.212,00.

42. A Cia. Aprovado, no período:

- (A) deixou de receber, em dinheiro, R\$ 1.200,00 de clientes.
- (B) gerou R\$ 383.400,00 em caixa e equivalentes.
- (C) pagou R\$ 1.780,00 em juros.
- (D) pagou R\$ 110.854 em dividendos.
- (E) vendeu terrenos pelo valor de R\$ 70.000,00.

43. O índice de endividamento da Cia. Aprovado, em 2018, é aproximadamente:

- (A) 0,256.
- (B) 0,279.
- (C) 0,283.
- (D) 0,744.
- (E) 0,765.

44. A Cia. Aprovado, no período

- (A) não pagou e nem recebeu contas a pagar e contas a receber, respectivamente.
- (B) pagou R\$ 135.000,00 em despesas com utilidades públicas.
- (C) pagou R\$ 90.000,00 em despesas com utilidades públicas.
- (D) recebeu R\$ 828.800,00 de clientes.
- (E) recebeu R\$ 830.000,00 de clientes.

45. São princípios de Auditoria no Setor Público:

- (A) compreensibilidade e ética e independência.
- (B) controle de qualidade e ética e independência.
- (C) ética e independência e representação fidedigna.
- (D) julgamento e ceticismo profissional e relevância.
- (E) representação fidedigna e tempestividade.

46. Assinale a alternativa correta sobre Auditoria no Setor Público.

- (A) A asseguaração pode ser completa ou adversa, apresentando conclusões negativas ou positivas, respectivamente.
- (B) As partes responsáveis pela coleta de evidências materiais possuem suas principais responsabilidades determinadas pela Estrutura Conceitual Básica da Contabilidade.
- (C) O objeto pode ser programas específicos, entidades, fundos, certas atividades, situações existentes e informações financeiras e não financeiras.
- (D) O relatório da auditoria é referência usada para avaliar os critérios de auditoria encontrados.
- (E) Os usuários principais são o Fundo Monetário Internacional e a Organização das Nações Unidas.

O texto a seguir deverá ser utilizado para responder às questões de números 47 e 48.

Uma entidade comercial vende produtos e presta serviços na área de tecnologia da informação. Em 02.12.2018, a entidade assinou um contrato com um cliente que previa a entrega de um equipamento de informática, de um sistema operacional desenvolvido sob medida e a manutenção deste sistema. O cliente pagou, à vista, no dia da assinatura do contrato, o valor de R\$ 34.700,00. A tabela evidencia algumas informações previstas em contrato:

Produto Serviço	Data de entrega	Preço
Equipamento	19/12/2018	R\$ 12.500,00
Software	19/03/2019	R\$ 15.500,00
Manutenção de Software	19/09/2019	R\$ 6.700,00

47. A receita reconhecida em 2018 totalizou, em R\$:

- (A) 12.500,00.
- (B) 15.500,00.
- (C) 19.200,00.
- (D) 28.000,00.
- (E) 34.700,00.

48. Assinale a alternativa correta sobre o registro contábil na entidade comercial em 02.12.2018, em R\$.

- (A) D: Bancos – 34.700,00
C: Receitas de Vendas e Serviços – 34.700,00
- (B) D: Bancos – 34.700,00
C: Clientes a receber – 34.700,00
- (C) D: Bancos – 34.700,00
C: Receita antecipada – 34.700,00
- (D) D: Clientes a receber – 34.700,00
C: Receita antecipada – 34.700,00
- (E) D: Despesa antecipada – 34.700,00
C: Receita de Vendas e Serviços – 34.700,00

49. Uma entidade adquiriu equipamentos no valor de R\$ 1.000.000,00, à vista. Sabe-se que, para que os equipamentos estivessem disponíveis para uso, foram incorridos gastos adicionais de R\$ 12.000,00 com frete e de R\$ 36.000,00 com preparativos para instalação. Sabe-se que os equipamentos foram colocados em uso no dia 02.02.2018. Considerando que a depreciação linear é de 10 anos e que esses equipamentos não possuem valor residual, a entidade reconheceu, no período:
- (A) ativo imobilizado no valor de R\$ 1.012.000,00.
 - (B) despesas com frete e instalações no valor de R\$ 48.000,00.
 - (C) despesa com instalação no valor de R\$ 36.000,00.
 - (D) depreciação anual no valor de R\$ 100.000,00.
 - (E) depreciação anual no valor de R\$ 104.800,00.
50. Assinale a alternativa correta, conforme a Contabilidade Pública.
- (A) Os fatos administrativos, por não modificarem o patrimônio, devem ser contabilizados por meio do uso de contas de controle e de orçamento.
 - (B) Os atos administrativos que podem ocasionar modificações futuras para o patrimônio das entidades devem ser registrados pela contabilidade pública.
 - (C) O plano de contas aplicado ao setor público é estruturado em 4 classes de contas, sendo duas patrimoniais e duas de resultado.
 - (D) As variações patrimoniais qualitativas são contas patrimoniais que representam fatos modificativos.
 - (E) A despesa orçamentária efetiva é um exemplo de conta patrimonial qualitativa que consta na demonstração das variações patrimoniais.
51. São exemplos de despesas efetivas:
- (A) arrecadação de impostos e contratação de serviços.
 - (B) arrecadação de impostos e recebimento de transferências.
 - (C) contratação de serviços e despesa com folha de pagamento.
 - (D) contratação de serviços e prestação de serviços remunerados.
 - (E) prestação de serviços remunerados e despesa com limpeza e segurança.
52. O Balanço Financeiro demonstra
- (A) a receita orçamentária realizada e a despesa orçamentária executada, por fonte ou destinação de recurso.
 - (B) a segregação de ativos e passivos orçamentários circulantes e não circulantes.
 - (C) o capital integralizado pelo orçamento do período.
 - (D) o passivo que deve ser pago no período até 12 meses após a data das demonstrações contábeis.
 - (E) o superávit ou o déficit financeiro do exercício apurado também no Balanço Patrimonial.
53. Uma secretaria adquiriu material para manutenção e expediente no valor de R\$ 250.000,00. Sabe-se que, após todos os trâmites de compra e de contratação, o material estava disponível para uso na repartição no dia 03.03.2019. A esse respeito, assinale a alternativa que contém o registro contábil patrimonial dessa transação econômica, em R\$.
- (A) D: Estoques – 250.000,00
C: Fornecedores e Contas a Pagar – 250.000,00
 - (B) D: Imobilizado – 250.000,00
C: Fornecedores e Contas a Pagar – 250.000,00
 - (C) D: Crédito Disponível Empenhado – 250.000,00
C: Crédito Empenhado Liquidado – 250.000,00
 - (D) D: Estoques – 250.000,00
C: Crédito Empenhado Liquidado – 250.000,00
 - (E) D: Controle de Disponibilidade de Recursos – 250.000,00
C: Execução da Disponibilidade de Recursos – 250.000,00
54. Uma secretaria de governo transferiu um ativo imobilizado para uma agência prestadora de serviços públicos. Sabe-se que o valor líquido contábil do bem transferido era de R\$ 50.000,00. Assinale a alternativa que contém o registro patrimonial da transferência do bem na agência que recebeu o bem móvel, em R\$.
- (A) D: Desincorporação de ativos – 50.0000,00
C: Bens móveis – 50.0000,00
 - (B) D: Depreciação Acumulada – 50.0000,00
C: Bens Móveis – 50.0000,00
 - (C) D: Bens móveis – 50.0000,00
C: Ganhos com incorporação de ativos – 50.0000,00
 - (D) D: Despesa extraorçamentária de capital – 50.0000,00
C: Receita extraorçamentária de capital – 50.0000,00
 - (E) D: Controle de Disponibilidade de bens móveis – 50.0000,00
C: Controle da Transferência de bens móveis – 50.0000,00

- 55.** Assinale a alternativa correta, conforme a Lei de Responsabilidade Fiscal.
- (A) As contas prestadas pelos chefes do Poder Executivo incluirão as contas dos presidentes dos Poderes Legislativo e Judiciário e do chefe do Ministério Público, as quais receberão parecer prévio da Controladoria Geral da União.
 - (B) A prestação de contas evidenciará o desempenho da arrecadação em relação ao da previsão, considerando o custo de oportunidade do serviço público prestado com os mesmos recursos.
 - (C) O resultado da apreciação das contas será feita em sigilo, respeitando a ampla defesa dos chefes dos Poderes e do Ministério Público.
 - (D) Os Tribunais de Contas emitirão parecer prévio conclusivo sobre as contas no prazo de sessenta dias do seu recebimento se outro prazo não estiver estabelecido nas constituições estaduais ou nas leis orgânicas.
 - (E) As Controladorias Gerais da União e dos Estados enviarão ao Tribunais de Contas da União e dos Estados um arrazoado de motivos justificando a necessidade de aprovação das contas.
- 56.** Assinale a alternativa que contém fontes de Créditos Adicionais.
- (A) Anulação de dotação e Operações de Crédito.
 - (B) Excesso de arrecadação e Doações internacionais.
 - (C) Déficit financeiro do exercício anterior e Operações de Crédito.
 - (D) Falta de arrecadação do exercício atual e Anulação de Dotação.
 - (E) Recursos sem despesas correspondentes e Falta de arrecadação no exercício atual.
- 57.** Assinale a alternativa correta no que diz respeito ao Programa de Duração Continuada.
- (A) Deve ser autorizado pelo Tribunal de Contas.
 - (B) Deve ter prazo máximo de 20 anos.
 - (C) Deve ter representação fidedigna no Balanço Patrimonial.
 - (D) Possui prazo superior a dois anos.
 - (E) Refere-se a programas finalísticos.
- 58.** Conforme a Lei de Responsabilidade Fiscal, a Lei de Diretrizes Orçamentárias possui a atribuição de
- (A) definir o conceito de representação fidedigna no Balanço Geral da União para apreciação dos Tribunais de Contas e Câmaras Municipais.
 - (B) definir os critérios de asseguaração e revisão das despesas e de todas as metas propostas.
 - (C) estabelecer a receita e a despesa previstas e fixadas no período.
 - (D) estabelecer as demais condições e exigências para transferência de recursos a entidades públicas e privadas.
 - (E) orientar a elaboração do Plano Plurianual dos exercícios seguintes.
- 59.** O Plano de Contas aplicado ao Setor Público é obrigatório para
- (A) conselhos profissionais.
 - (B) empresas estatais dependentes.
 - (C) empresas estatais independentes.
 - (D) empresas que possuem ações em bolsas de valores.
 - (E) serviços sociais autônomos.
- 60.** Conforme a lei de crimes fiscais, prestar garantia em operação de crédito sem que tenha sido constituída contragarantia em valor igual ou superior ao valor da garantia prestada acarreta em:
- (A) reclusão de um a dois anos.
 - (B) reclusão de três meses a um ano.
 - (C) detenção de um a dois anos.
 - (D) detenção de três meses a um ano.
 - (E) detenção de seis meses a dois anos.

