

CONCURSO PÚBLICO

002. PROVA OBJETIVA

CONTADOR

- ◆ Você recebeu sua folha de respostas e este caderno contendo 60 questões objetivas.
- ◆ Confira seus dados impressos na capa deste caderno e na folha de respostas.
- ◆ Quando for permitido abrir o caderno, verifique se está completo ou se apresenta imperfeições. Caso haja algum problema, informe ao fiscal da sala.
- ◆ Leia cuidadosamente todas as questões e escolha a resposta que você considera correta.
- ◆ Marque, na folha de respostas, com caneta de tinta preta, a letra correspondente à alternativa que você escolheu.
- ◆ A duração da prova é de 3 horas e 30 minutos, já incluído o tempo para o preenchimento da folha de respostas.
- ◆ Só será permitida a saída definitiva da sala e do prédio após transcorridos 75% do tempo de duração da prova.
- ◆ Deverão permanecer em cada uma das salas de prova os 3 últimos candidatos, até que o último deles entregue sua prova, assinando termo respectivo.
- ◆ Ao sair, você entregará ao fiscal a folha de respostas e este caderno, podendo levar apenas o rascunho de gabarito, localizado em sua carteira, para futura conferência.
- ◆ Até que você saia do prédio, todas as proibições e orientações continuam válidas.

AGUARDE A ORDEM DO FISCAL PARA ABRIR ESTE CADERNO DE QUESTÕES.

Nome do candidato _____

RG _____

Inscrição _____

Prédio _____

Sala _____

Carteira _____

CONHECIMENTOS GERAIS

LÍNGUA PORTUGUESA

Leia o texto, para responder às questões de números **01** a **09**.

Ah, os orgulhosos computadores

A cada dia que passa, os computadores devoram mais tarefas. No início, eram folha de pagamento, contabilidade e estatística. Sucesso estrondoso, por ser mais perfeito, mais barato e eliminar o trabalho monótono. **Mas** certas tarefas permanecem inatingíveis: devo me casar com a Mariquinha? É resposta que nem mesmo a inteligência artificial consegue dar.

Para achar imóveis, a internet é imbatível. **Mas**, buscando um apartamento para alugar, vivi as agruras de uma imobiliária que migrou a burocracia para seus orgulhosos computadores. No meu caso, ela se atrapalhou. São três empresas encadeadas. Onde estão as portas de entrada?

Foram muitos dias e mais de cinquenta e-mails, esgrimindo com uma informática misteriosa e tripulada por humanos que não usam o dom da voz ou da inteligência. Muito menos o da cortesia. O veredito foi sumariado pela lapidar frase (via e-mail): “O seu cadastro não foi aprovado, tá?”

Inovadores pagam o preço dos erros. **Mas** será que eu também o tenho de pagar? Fui vitimado pela combinação de informática velha – com sites que travam e labirintos misteriosos – com um algoritmo novo que se perdeu na complexidade do meu caso, que não é tanta. Ao reduzir o papel dos humanos, o computador fica à mercê de algum programador simplório, perdido por aí. Pobres das cobaias que sofrem com os titubeios dos computadores.

Imagino que a empresa do futuro conseguirá manejar situações simples e lidará bem com as suas falhas humanas e informáticas – que se atrapalham entre si. A inteligência artificial avança, pela via de uma longa curva de aprendizado com os humanos. **Mas**, se os humanos são burros ou bobões, mais tempo isso levará. É a regra do jogo.

(Claudio de Moura Castro. *Veja*, 16.10.2019. Adaptado)

01. É correto afirmar que, do ponto de vista do autor,

- (A) o advento dos computadores solucionou questões complexas que a velha informática não conseguia resolver.
- (B) existem limitações na utilização dos computadores, pois eles não têm o dom da inteligência humana.
- (C) os programadores conseguem solucionar os problemas gerados por operações inadequadas das máquinas.
- (D) nem todas as tarefas executadas por computadores são perfeitas, pois o fator humano interfere em seu desempenho.
- (E) é preciso estabelecer protocolos de cortesia nos atendimentos pelo e-mail, evitando, com isso, ruídos de comunicação.

02. As afirmações do autor, no terceiro parágrafo, caracterizam-se como

- (A) desabafo insolente diante da desaprovação de seu cadastro.
- (B) análise racional dos motivos pelos quais seu cadastro foi recusado.
- (C) comentário incompatível com a gravidade da ofensa recebida.
- (D) argumento incoerente com seus próprios pontos de vista sobre a internet.
- (E) crítica ao atendimento impessoal e incivil por meio eletrônico.

03. As expressões destacadas nas passagens “O veredito foi **sumariado...**” (3º parágrafo) e “... **os titubeios** dos computadores.” (4º parágrafo) têm sinônimos adequados ao contexto, respectivamente, em

- (A) resumido e os equívocos.
- (B) expresso e as tribulações.
- (C) anunciado e os processamentos.
- (D) sintetizado e as hesitações.
- (E) sentenciado e os vacilos.

04. Em quatro dos cinco parágrafos, o autor emprega a conjunção “mas” (destacada no texto). É correto afirmar que essa conjunção articula ideias, estabelecendo entre elas relação de sentido de

- (A) conclusão.
- (B) consequência.
- (C) concessão.
- (D) causa.
- (E) contraste.

05. Assinale a alternativa em que todas as palavras estão empregadas, no contexto, em sentido próprio.

- (A) A cada dia que passa, os computadores devoram mais tarefas.
- (B) Onde estão as portas de entrada?
- (C) É resposta que nem mesmo a inteligência artificial consegue dar.
- (D) Fui vitimado pela combinação de informática velha – com sites que travam e labirintos misteriosos...
- (E) ... uma informática misteriosa e tripulada por humanos que não usam o dom da voz ou da inteligência.

06. A preposição destacada nas passagens – Sucesso estrondoso, **por** ser mais perfeito, mais barato e eliminar o trabalho monótono. / ... informática misteriosa e tripulada **por** humanos ... – introduz, nos respectivos contextos, informações que expressam

- (A) causa e agente.
- (B) causa e modo.
- (C) modo e agente.
- (D) condição e modo.
- (E) condição e causa.

07. A alternativa em que os fragmentos destacados estão expressos, nos colchetes, por pronome, de acordo com a norma-padrão de emprego e colocação, é:

- (A) ... eliminar **o trabalho monótono**. [lhe eliminar]
- (B) Inovadores pagam **o preço dos erros**. [pagam-no]
- (C) Ao reduzir **o papel dos humanos**... [reduzir-lhe]
- (D) ... humanos que não usam **o dom da voz**... [usam-no]
- (E) ... vivi **as agruras de uma imobiliária**... [lhes vivi]

08. A alternativa que reescreve passagem do texto de acordo com a norma-padrão de emprego do sinal de crase é:

- (A) A cada dia que passa, os computadores executam à todas as tarefas.
- (B) Mas, à procura de um apartamento para alugar, vivi agruras.
- (C) É mais perfeito, mais barato e suprime às atividades monótonas.
- (D) O veredicto resumiu-se à uma frase lapidar, via e-mail.
- (E) Programadores simplórios entram em ação, à partir da redução do papel dos humanos.

09. A alternativa redigida segundo a norma-padrão de concordância verbal é:

- (A) Buscando apartamento para alugar, vivem-se agruras.
- (B) Passa-se muitos dias, e os computadores devoram mais tarefas.
- (C) Nessas imobiliárias, sumariam-se o veredicto por uma frase lapidar.
- (D) Acha-se facilmente imóveis na internet, que, para isso, é imbatível.
- (E) Tratam-se de regras do jogo.

10. Leia a tira.



(Quino. Toda Mafalda)

É correto afirmar que o efeito de humor, nessa tira, decorre

- (A) da variação de contextos de emprego de palavra, para suscitar a abordagem crítica de um problema socioeconômico.
- (B) do emprego de expressões da língua capazes de suscitar sentidos implícitos, caso da denúncia de atitudes prepotentes no âmbito do trabalho.
- (C) da contraposição de ideias acerca do desemprego, explicitando a injusta distribuição de renda, que coloca em campos opostos patrões e empregados.
- (D) da sugestão de que a palavra “indicador” pode ser interpretada como propensão do patronato a promover artificialmente o desemprego.
- (E) do recurso à ambiguidade das palavras “indicador” e “desemprego”, para atenuar a gravidade da crise econômica que atinge a população.

11. Determinada tarefa foi executada por um contador em três dias. No primeiro dia, ele auditou a terça parte do número total de lançamentos contábeis que deveria auditar. No segundo dia, ele auditou $\frac{3}{5}$ dos lançamentos

restantes e concluiu o serviço no terceiro dia, auditando os lançamentos que sobraram. A razão entre o número de lançamentos auditados no segundo dia e o número de lançamentos auditados no terceiro dia é

(A) $\frac{3}{2}$

(B) $\frac{5}{4}$

(C) $\frac{5}{6}$

(D) $\frac{4}{5}$

(E) $\frac{2}{3}$

12. Pela previsão inicial, a receita líquida de certa empresa em 2019 seria 20% maior que a do ano anterior. Devido a problemas mercadológicos, a receita líquida obtida em 2019 cresceu apenas 12% em relação à receita líquida obtida em 2018. Sabendo-se que a diferença entre a receita inicialmente prevista para 2019 e a receita efetivamente obtida em 2019 foi de R\$ 20 milhões, é correto afirmar que a receita prevista para essa empresa, em 2019, era de

(A) R\$ 250 milhões.

(B) R\$ 270 milhões.

(C) R\$ 280 milhões.

(D) R\$ 290 milhões.

(E) R\$ 300 milhões.

13. Em uma loja de materiais para construção, Euclides comprou 6 unidades do produto A e 9 unidades do produto B, e o valor total pago por essa compra superou em R\$ 220,00 o valor total pago por Tales, que comprou 4 unidades do mesmo produto A e 7 unidades do mesmo produto B. Já Pedro comprou uma unidade de cada um desses mesmos produtos e pagou um total de

(A) R\$ 220,00.

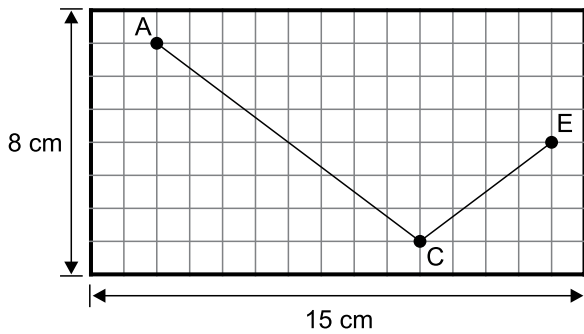
(B) R\$ 200,00.

(C) R\$ 160,00.

(D) R\$ 110,00.

(E) R\$ 100,00.

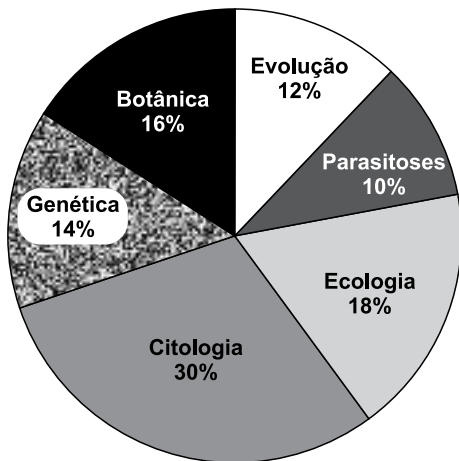
14. Considere uma representação em escala, feita em uma malha quadriculada retangular, em que os quadrados são iguais e tem 1 cm de lado. Um carro sai do ponto A, passa pelo ponto C e chega ao ponto E, conforme indicado na figura.



Se cada centímetro representa 500 m, então a distância percorrida pelo carro, de A até E, seguindo a rota indicada no desenho, é igual a

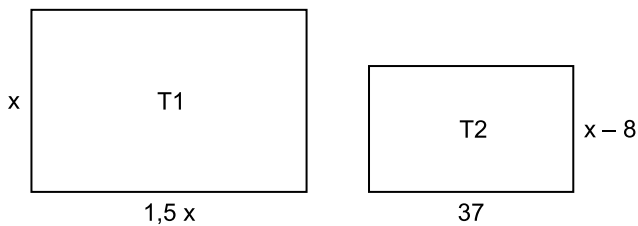
- (A) 2,5 km.
 (B) 4 km.
 (C) 5,5 km.
 (D) 6 km.
 (E) 7,5 km.
15. Uma empresa dividiu a entrega de 500 caixas iguais de um mesmo produto em três remessas distintas. Sabe-se que a quantidade de caixas da segunda remessa foi igual a $\frac{3}{2}$ da quantidade de caixas da primeira remessa, e que a quantidade de caixas da terceira remessa foi igual a $\frac{5}{3}$ da quantidade da segunda remessa. Se 50 caixas desse produto têm, juntas, massa de 840 kg, então a massa total da quantidade de caixas da terceira remessa é igual a
- (A) 1,68 t.
 (B) 2,52 t.
 (C) 3,36 t.
 (D) 4,20 t.
 (E) 4,62 t.
16. Uma mesma prova de certo processo seletivo foi realizada em dois espaços físicos distintos, sendo que 220 candidatos realizaram a prova no local A e 280 candidatos no local B. Sabe-se que a média aritmética dos números de pontos obtidos pelos candidatos foram iguais a 55 no local A e 75 no local B. Considerando-se todos os candidatos que fizeram essa prova, a média aritmética dos números de pontos obtidos foi
- (A) 70.
 (B) 68,4.
 (C) 66,2.
 (D) 64,6.
 (E) 60.

17. O gráfico de setores mostra a distribuição percentual das questões, de acordo com o conteúdo abordado, em uma prova de Biologia.



Se o número de questões explorando Botânica supera em apenas uma unidade o número de questões envolvendo Genética, então os conteúdos Parasitoses e Ecologia, juntos, têm um número total de questões igual a

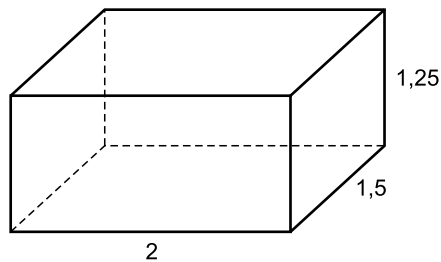
- (A) 12.
 (B) 14.
 (C) 18.
 (D) 24.
 (E) 28.
18. Dois terrenos retangulares, T1 e T2, tem as respectivas medidas de comprimento e largura indicadas, em metros, nas figuras.



Sabendo-se que o perímetro do terreno T2 é 32 m menor que o perímetro do terreno T1, é correto afirmar que a área do terreno T2 é igual a

- (A) 814 m^2 .
 (B) 990 m^2 .
 (C) 1024 m^2 .
 (D) 1110 m^2 .
 (E) 1126 m^2 .

19. Considere um reservatório, com formato de paralelepípedo reto retângulo e com as dimensões indicadas em metros na figura, que está completamente cheio de água.



Esse reservatório será esvaziado na razão de $0,15 \text{ m}^3$ de água a cada 15 minutos. Se o processo de esvaziamento for iniciado às 8 horas e 15 minutos, e não houver interrupções, ele estará totalmente concluído às

- (A) 15 horas e 30 minutos.
(B) 14 horas e 40 minutos.
(C) 14 horas e 30 minutos.
(D) 14 horas e 15 minutos.
(E) 13 horas e 45 minutos.
20. Um departamento municipal recebeu uma caixa com 2100 unidades do formulário A e uma caixa com 3750 unidades do formulário B. Os formulários contidos nas duas caixas deverão ser totalmente distribuídos em pacotes contendo o mesmo número de unidades em cada um, de modo que cada pacote contenha somente um tipo de formulário e que o número de pacotes formados seja o menor possível. Nessas condições, o número de pacotes necessários para armazenar todas as unidades do formulário B é

- (A) 28.
(B) 25.
(C) 22.
(D) 20.
(E) 14.

ATUALIDADES

21. Segundo as Forças Democráticas, há dezenas de civis feridos, e o clima é de “pânico generalizado”. Milhares de pessoas estão abandonando suas casas nas cidades próximas à fronteira, e especialistas temem uma nova crise humanitária.

(<http://folha.uol.com.br>. 09.10.2019. Adaptado)

O excerto faz alusão às consequências da saída das tropas americanas do nordeste da Síria, dentre as quais destacam-se:

- (A) os bombardeios promovidos pelo Estado Islâmico contra grupos turcos.
- (B) as ofensivas lideradas pela Rússia contra forças sírias.
- (C) os ataques feitos pela Turquia contra grupos curdos.
- (D) os bombardeios orientados pela União Europeia contra a ajuda iraquiana.
- (E) os ataques realizados por Israel contra forças sírias.

22. Os incêndios florestais que atingem a Califórnia há cerca de uma semana chegaram a Los Angeles, segunda maior metrópole dos Estados Unidos, nesta segunda-feira (28). Bombeiros combatem as chamas desde a madrugada, principalmente na parte oeste da cidade.

(<http://www.g1.globo.com.br>. 28.10.2019. Adaptado)

Sobre os incêndios ocorridos na Califórnia, é correto afirmar que foram

- (A) rapidamente controlados pela ação eficiente dos bombeiros locais.
- (B) causados pela ação de grupo extremista e controlados em poucos dias.
- (C) graves devido à incidência de ventos secos e fortes.
- (D) originados da queimada de tonéis de gasolina e atingiram até a cidade de Tucson.
- (E) ocasionados pela ausência dos tradicionais ventos úmidos que atingem a região no outono.

23. É fato notório que a China precisa ter acesso a mais alimentos. Dos 7,7 bilhões de habitantes do mundo, a China é responsável por alimentar, sozinha, 1,43 bilhão dessas bocas. Não bastasse isso, o crescimento da renda da população chinesa e a abertura econômica do país causaram um aumento substancial na demanda por proteínas animais e outros alimentos de ampla produção em países ocidentais.

(<http://exame.abril.com.br>. 17.10.2019. Adaptado)

Além de comprar produtos agrícolas em larga escala do Brasil, os chineses também têm demonstrado interesse na aquisição de terras no país. A aquisição de terras por estrangeiros no Brasil

- (A) é facilitada pela ausência de instituições de controle e fiscalização.
 - (B) é facilitada devido ao acesso ao crédito público nacional.
 - (C) é dificultada pelas diferenças legais entre os dois países.
 - (D) é facilitada devido à baixa concorrência de compradores.
 - (E) é dificultada devido aos entraves nos processos de autorização.
24. A Câmara dos Deputados aprovou, por 329 votos a favor e 86 contrários, o acordo entre o Brasil e os Estados Unidos que permitirá aos norte-americanos fazer o lançamento de satélites e foguetes da base de Alcântara, no Maranhão. O texto agora vai ao Senado para apreciação. Os dois países negociam há quase 20 anos um acordo, que permite o uso do local.

(<http://estadao.com.br>. 22.10.2019. Adaptado)

O acordo mencionado no excerto

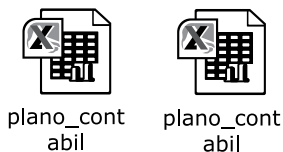
- (A) prevê a utilização de tecnologias militares americanas pelo governo brasileiro.
 - (B) prevê a utilização da base por americanos para fins comerciais.
 - (C) foi originalmente concebido para uso militar com previsão para uso civil em alguns anos.
 - (D) foi concebido para conter expansão do poderio russo instalado na Venezuela.
 - (E) foi responsável pelo estabelecimento da segunda base americana em solo brasileiro.
25. No ensino superior público, por enquanto, o foco do governo é implementar o _____ – programa que pretende estimular parcerias com o setor _____ para trazer mais _____ para as universidades, mas vem enfrentando resistência nas instituições federais.

(<http://bbc.com>. 04.10.2019. Adaptado)

As palavras que completam, correta e respectivamente, as lacunas do excerto são

- (A) Inova ... governamental ... recursos
- (B) Future-se ... governamental ... alunos
- (C) Inova ... privado ... alunos
- (D) Future-se ... privado ... recursos
- (E) Inova ... estatal ... alunos

26. Um usuário apagou, de dois lugares diferentes, dois arquivos com o mesmo nome. Ao precisar recuperar um dos arquivos, entrou na Lixeira do MS-Windows 7, em sua configuração padrão, e viu os dois arquivos, no modo de visualização pré-selecionado, conforme a imagem a seguir.



Para saber qual era o arquivo correto, o usuário alterou o modo de visualização para o visto na imagem a seguir.

	plano_contabil	C:\Users\conta\Downloads\arquivo1	19/10/2019 10:43	9 KB
	plano_contabil	C:\Users\conta\Downloads	20/10/2019 10:43	10 KB

O novo modo de visualização, que permitiu ver a localização original dos arquivos, é

- (A) Ícones grandes.
- (B) Ícones pequenos.
- (C) Lista.
- (D) Conteúdo.
- (E) Detalhes.

27. A tabela a seguir, foi preparada por meio do MS-Word 2010, em sua configuração padrão. Inicialmente, o usuário inseriu uma tabela com 4 linhas e 5 colunas, modificou a tabela inicial e, em seguida, digitou as letras vistas.

A	B	C	D	E
F	G	H I	J	K
L	M	N	O	
P	Q	R	S	T

Onde se vê as letras H e I, foi aplicado um recurso, e onde se vê a letra O, foi aplicado um outro recurso.

Os recursos aplicados, conforme o enunciado, são, correta e respectivamente,

- (A) Inserir Célula e Mesclar Células.
- (B) Inserir Coluna à Direita e Mesclar Células.
- (C) Dividir Células e Mesclar Células.
- (D) Mesclar Células e Dividir Células.
- (E) Mesclar Células e Remover Célula.

28. Um contador preparou a planilha a seguir usando o MS-Excel 2010, em sua configuração padrão, digitando as colunas A e B e adicionando fórmulas na coluna C, para trabalhar com os textos das contas contábeis da coluna A.

	A	B	C
1	Conta Contábil	Saldo	Raiz
2	1.1.1.1	R\$ 10.000,00	1.1.1.
3	1.1.1.2	R\$ 20.000,00	1.1.1.
4	1.1.1.2.1	R\$ 15.000,00	1.1.1.
5	1.1.1.2.2	R\$ 5.000,00	1.1.1.
6	1.1.1.3	R\$ 50.000,00	1.1.1.
7	1.2.1.1	R\$ 100.000,00	1.2.1.
8			

A fórmula que, conforme a planilha exibida, corresponde ao valor visto na célula C2 é

- (A) =ESQUERDA(A2;6)
- (B) =ESQUERDA(6;A2)
- (C) =ESQUERDA(A2:A6)
- (D) =DIREITA(A2;6)
- (E) =DIREITA(6;A2)

29. A imagem a seguir, foi retirada do MS-PowerPoint 2010, em sua configuração padrão.



Girar



Janela



Órbita



Voar Através

Os ícones vistos correspondem a tipos de

- (A) Temas.
- (B) Modos de Exibição.
- (C) Formas.
- (D) Transições.
- (E) Animações.

30. Um contador, por meio do MS-Outlook 2010, em sua configuração padrão, recebeu um e-mail contendo o novo plano contábil anexado. Para enviar o mesmo anexo a outro endereço de e-mail, o contador deve escolher a opção

- (A) Salvar.
- (B) Encaminhar.
- (C) Responder.
- (D) Responder a Todos.
- (E) Responder Lista.

CONHECIMENTOS ESPECÍFICOS

31. Assinale a alternativa correta conforme a Estrutura Conceitual Básica da Contabilidade.

- (A) A base mais comumente adotada pelas entidades na elaboração de suas demonstrações contábeis é o valor justo.
- (B) As despesas do período devem ser reconhecidas no Balanço Patrimonial como contas redutoras dos passivos.
- (C) A mensuração é o processo que consiste em registrar, por meio das partidas dobradas, as transações econômicas em débito e crédito, independentemente do valor da transação.
- (D) O conceito de capital financeiro é adotado pela maioria das entidades na elaboração das suas demonstrações contábeis.
- (E) Um ativo deve ser reconhecido nas demonstrações contábeis sempre que a expectativa de benefício futura seja nula.

Os dados que se seguem serão utilizados para responder às questões de números 32 e 33.

Balancete de Verificação da Cia. FGH	
Contas	em R\$
Ágio na emissão de ações	200.000,00
Ajuste a valor recuperável (ativo)	1.000,00
Ajuste de avaliação patrimonial positivo	60.000,00
Bancos	200.000,00
Bens móveis	50.000,00
Caixa	100.000,00
Capital social	500.000,00
Clientes	40.000,00
Custo da Mercadoria Vendida	95.000,00
Depreciação acumulada	5.000,00
Despesa com IR e CSLL	44.000,00
Despesa com depreciação	1.500,00
Despesa com juros	2.000,00
Despesa com salários	60.000,00
Despesa com seguros	2.000,00
Empréstimos	100.000,00
Estoques	50.000,00
Financiamentos	200.000,00
Fornecedores	45.000,00
Gastos com emissão de ações	60.000,00
Imóveis	100.000,00
Investimentos em coligadas	540.000,00
PECLD (ativo)	2.000,00
PECLD (despesa)	1.000,00
Propriedades para investimentos	200.000,00
Receita de Equivalência Patrimonial	50.000,00
Receitas	289.500,00
Reserva Legal	25.000,00
Salários a Pagar	68.000,00

- 32.** Considerando a natureza das contas, o saldo do ativo, totalizou, em R\$:
- (A) 1.272.000
 - (B) 1.274.000
 - (C) 1.276.000
 - (D) 1.278.000
 - (E) 1.282.000
- 33.** O resultado do período, totalizou, em R\$:
- (A) -26.000
 - (B) 74.000
 - (C) 134.000
 - (D) 136.000
 - (E) 138.000
- 34.** Uma entidade assinou, no dia 02.01.2019, um contrato de seguros para os seus veículos de entrega de mercadorias no valor de R\$ 12.000,00, com vigência de 12 meses a partir da data da assinatura do contrato. Sabe-se que no instrumento jurídico estava previsto o pagamento do valor global em duas parcelas iguais e mensais de R\$ 6.000,00 nos dias 02.02.2019 e 02.03.2019.
- Considerando as informações dadas e desconsiderando o efeito dos juros, assinale a alternativa correta.
- (A) No dia da assinatura do contrato, a entidade reconheceu uma despesa com seguros no valor de R\$ 12.000,00.
 - (B) No dia 31.01.2019, o saldo da conta seguros a pagar era de R\$ 1.000,00.
 - (C) No dia 02.02.2019, a entidade reconheceu uma despesa com seguros no valor de R\$ 6.000,00.
 - (D) No dia 03.03.2019, o saldo de seguros a pagar era de R\$ 6.000,00.
 - (E) No dia 31.07.2019, o saldo da conta seguros antecipados era de R\$ 5.000,00.
- 35.** Uma entidade comercial adquiriu, à vista, mercadorias para revenda no valor de R\$ 100.000,00, incluindo tributo recuperável cuja alíquota totalizou 14%, em 01.03.2019.
- Considerando essa transação econômica, é correto afirmar que a entidade reconheceu
- (A) estoques no valor de R\$ 100.000,00.
 - (B) estoques no valor de R\$ 98.040,00.
 - (C) fornecedores no valor de R\$ 100.000,00.
 - (D) imobilizado no valor de R\$ 86.000,00.
 - (E) tributo a recuperar no valor de R\$ 14.000,00.
- 36.** A *Companhia KK* adquiriu 80% do patrimônio líquido contábil da *Companhia JJ* por R\$ 5.600.000,00 em 2017. Em 2018, a *Companhia JJ* declarou um lucro líquido de R\$ 600.000,00 e um lucro abrangente no valor de R\$ 780.000,00.
- Nas demonstrações contábeis individuais da *Companhia KK*, referentes ao exercício de 2018, há
- (A) um investimento permanente no valor de R\$ 4.480.000,00.
 - (B) uma receita de equivalência patrimonial no valor de R\$ 624.000,00 em suas demonstrações contábeis individuais.
 - (C) uma receita com dividendos no valor de R\$ 624.000,00 em suas demonstrações contábeis individuais.
 - (D) uma receita de dividendos no valor de R\$ 480.000,00 em suas demonstrações contábeis individuais.
 - (E) um resultado abrangente em seu patrimônio líquido no valor de R\$ 144.000,00.
- 37.** Uma entidade comercial adquiriu e colocou em uso, em 02.02.2017, equipamentos no valor de R\$ 450.000,00. Sabe-se que esses equipamentos possuem R\$ 30.000,00 de valor residual e devem ser depreciados, linearmente, por 5 anos, conforme especificação do fabricante. Em 31.12.2018, a entidade verificou que (i) o valor líquido de venda desses equipamentos era de R\$ 270.000,00 e (ii) seu valor em uso era de R\$ 280.000,00.
- Considerando as informações, é correto afirmar que a entidade reconhecerá uma perda por recuperabilidade desses equipamentos no valor, em R\$, de
- (A) 0,00.
 - (B) 2.000,00.
 - (C) 10.000,00.
 - (D) 12.000,00.
 - (E) 22.000,00.
- 38.** Uma empresa comercial realizou uma antecipação de recebíveis no valor de R\$ 100.000,00 cujo prazo estabelecido foi de 4 meses a partir da contratação com a instituição financeira. O contador da entidade verificou que foi depositado na sua conta corrente o valor de R\$ 92.500,00 em virtude dessa transação. Nesse sentido, assinale a alternativa que contém o registro inicial dessa transação na empresa comercial, em R\$:
- (A) D: Bancos – 100.000,00
C: Duplicatas descontadas – 100.000,00
 - (B) D: Bancos – 100.000,00
C: Clientes – 100.000,00
 - (C) D: Bancos – 92.500,00
D: Despesa com juros – 7.500,00
C: Duplicatas descontadas – 100.000,00
 - (D) D: Bancos – 92.500,00
D: Encargos financeiros a apropriar – 7.500,00
C: Duplicatas descontadas – 100.000,00
 - (E) D: Bancos – 92.500,00
D: Despesa com juros – 7.500,00
C: Clientes – 100.000,00

Os dados que se seguem são referentes à Cia. M e serão utilizados para responder às questões de números 39 e 40.

Balanco Patrimonial da Cia. M em 31.12.2018

	2017	2018		2017	2018
Ativo	1.174.000,00	1.443.500,00	Passivo	349.000,00	459.025,00
Circulante			Circulante		
Caixa	20.000,00	20.000,00	Fornecedores	10.000,00	80.000,00
Bancos	100.000,00	406.000,00	Salários a pagar	45.000,00	50.000,00
Clientes	25.000,00	50.000,00	IR e CSLL a pagar	0,00	64.050,00
(-) PECLD	-2.500,00	-3.500,00	Dividendos a pagar	94.000,00	59.475,00
Estoques	100.000,00	200.000,00	Empréstimos	200.000,00	205.500,00
Investimentos em ações - mensurados a valor justo pelo resultado do exercício	100.000,00	110.000,00			
Não circulante					
Propriedades para investimento	600.000,00	630.000,00			
Móveis e Equipamentos	35.000,00	35.000,00	Patrimônio Líquido	825.000,00	984.475,00
(-) Depreciação acumulada	-3.500,00	-4.000,00	Capital Social	800.000,00	900.000,00
Terrenos	200.000,00	0,00	Reservas de Lucros	25.000,00	84.475,00

Demonstração do Resultado do Exercício de 2018

Receita de vendas	300.000,00
(-) Custo da Mercadoria Vendida	-150.000,00
(=) Resultado Bruto	150.000,00
(-) Despesas com vendas e administrativas	
(-) Despesa com PECLD	-1.000,00
(-) Despesa com Depreciação	-500,00
(-) Despesa com salários	-50.000,00
(+ -) Resultado Financeiro Líquido	
(-) Despesa com juros	-5.500,00
(+ -) Outras Receitas e Despesas	
Ganho na valorização de ações	10.000,00
Ganho na valorização de propriedades	30.000,00
Ganho na venda de imobilizado	50.000,00
(=) Resultado antes do IR e CSLL	183.000,00
(-) Despesa com IR e CSLL	-64.050,00
(=) Resultado Líquido	118.950,00

39. O desembolso com pagamento de salários, no exercício de 2018, totalizou, em R\$:

- (A) 0,00
- (B) 5.000,00
- (C) 45.000,00
- (D) 50.000,00
- (E) 95.000,00

40. No período, o fluxo de caixa das atividades de investimento

- (A) consumiu R\$ 250.000,00 em caixa e equivalentes.
- (B) consumiu R\$ 290.000,00 em caixa e equivalentes.
- (C) nem gerou e nem consumiu caixa.
- (D) gerou R\$ 290.000,00 em caixa e equivalentes.
- (E) gerou R\$ 250.000,00 em caixa e equivalentes.

41. Uma sociedade empresária assinou contrato com cliente em 02.12.2018 para entrega de produtos e prestação de serviços. No contrato estava previsto que a sociedade entregaria um produto e um serviço, ambos feitos sob medida, nos dias 30.09.2019 e 30.01.2020. Sabe-se que o produto foi vendido por R\$ 250.000,00 e o serviço por R\$ 300.000,00.

Neste sentido, a receita da sociedade empresária referente a esse contrato para o exercício de 2018 totalizou, em R\$:

- (A) 0,00
- (B) 250.000,00
- (C) 275.000,00
- (D) 300.000,00
- (E) 550.000,00

Uma entidade apresentou as seguintes transações econômicas e seus respectivos saldos em 31.12.2018:

	Valores (em R\$)
Prejuízo Líquido de 2018	10.000,00
Perda com plano de benefício de empregados	25.000,00
Ganho na valorização de instrumentos financeiros mensurados a valor justo para resultados abrangentes	10.000,00
Ganho com <i>hedge accounting</i>	20.000,00
Gastos com emissão de ações	5.000,00
Ganho com a valorização de propriedades para investimentos	15.000,00
Perda na venda de imobilizado	5.000,00

42. O resultado abrangente dessa entidade em 31.12.2018 totalizou, em R\$:

- (A) 5.000, positivo.
- (B) 5.000, negativo.
- (C) 10.000, positivo.
- (D) 10.000, negativo.
- (E) 0,00.

43. Uma sociedade anônima de capital fechado apresentou, em 2018, um prejuízo líquido de R\$ 60.000,00. Sabe-se que o Balanço Patrimonial referente a 31.12.2017 apresentava os seguintes saldos para as contas de Patrimônio Líquido:

	Valor (em R\$)
Capital Social	100.000,00
Ágio na emissão de ações	50.000,00
Reserva Legal	15.000,00
Reserva para Contingências	50.000,00
Alienação de partes beneficiárias	20.000,00

Após a absorção do prejuízo líquido, o saldo da reserva legal totalizou, em R\$, em 31.12.2018:

- (A) 0,00
- (B) 5.000,00
- (C) 10.000,00
- (D) 15.000,00
- (E) 18.000,00

44. Uma sociedade anônima obteve no exercício social um lucro líquido de R\$ 200.000,00. Sabe-se que ela reconheceu após a apuração do resultado: (i) R\$ 10.000,00 referente a reserva legal; (ii) R\$ 5.000,00 referente a reserva estatutária e (iii) R\$ 5.000,00 referente a reserva de lucros para expansão.

Considerando que o Estatuto Social dessa companhia não faz nenhuma referência ao percentual mínimo de dividendo obrigatório a ser distribuído e que a entidade pretende diminuir a base de cálculo desse dividendo, é correto afirmar que o dividendo obrigatório referente ao exercício, totalizará, em R\$:

- (A) 0,00
- (B) 90.000,00
- (C) 95.000,00
- (D) 100.000,00
- (E) 200.000,00

Os dados a seguir serão utilizados para responder às questões de números 45 e 46.

Uma fábrica apresentou as seguintes informações:

	em unidades
Capacidade de produção	5.000
Quantidade produzida e vendida	4.000
	em R\$
Preço de venda	50,00
Custos e despesas fixas	120.000,00
Custos e despesas variáveis por unidade	15,00

45. O ponto de equilíbrio dessa fábrica é, em unidades, aproximadamente:

- (A) 3.000
- (B) 3.430
- (C) 4.000
- (D) 4.430
- (E) 5.000

46. Um cliente realizou uma proposta para esta entidade fabril de adquirir 4 800 unidades por um preço de R\$ 45,00. Considerando a estrutura de gastos apresentadas, é correto afirmar que o lucro da entidade, ao aceitar a proposta desse cliente, irá

- (A) permanecer igual.
- (B) aumentar em R\$ 16.000,00.
- (C) aumentar em R\$ 4.000,00.
- (D) diminuir em R\$ 16.000,00.
- (E) diminuir em R\$ 4.000,00.

47. Em relação ao planejamento de auditoria, assinale a alternativa correta.
- (A) Deve ser baseado em norma e não no julgamento profissional do auditor.
 - (B) Deve ser documentado e feito por escrito.
 - (C) É composto por procedimentos aplicados e plano de metas institucional.
 - (D) Pode ser modificado anualmente, desde com a concordância da parte auditada.
 - (E) Uma vez estabelecido, não deve ser modificado.
48. Conforme a Estrutura Conceitual para os Trabalhos de Asseguração, assinale a alternativa correta.
- (A) Deve ser uma base de referência somente para os auditores governamentais.
 - (B) Em virtude de sigilo, o auditor não deve documentar por escrito as evidências encontradas.
 - (C) Normas, leis, resoluções e boas práticas são exemplos de critérios no processo de asseguarção.
 - (D) O relatório de auditoria faz parte da fase de planejamento da auditoria, podendo ser de opinião modificada ou não modificada.
 - (E) Os critérios devem ser criados pelo auditor no decorrer do processo de asseguarção.
49. Assinale a alternativa correta sobre Contabilidade Aplicada ao Setor Público.
- (A) O Balanço Orçamentário e o Balanço Financeiro possuem, ambos, enfoque exclusivamente patrimonial no setor público.
 - (B) O regime de caixa é utilizado para elaboração da Demonstração das Mutações do Patrimônio Líquido no setor público.
 - (C) O enfoque patrimonial, dado pelo regime de competência, é utilizado na elaboração da Demonstração dos Fluxos de Caixa.
 - (D) O foco orçamentário, cuja ênfase está nas receitas arrecadadas e despesas empenhadas, pode ser verificado no Balanço Patrimonial.
 - (E) O enfoque patrimonial, cujo foco está no fato gerador das variações patrimoniais, é evidenciado na Demonstração das Variações Patrimoniais e no Balanço Patrimonial.
50. A renúncia de Receita, conforme a Lei de Responsabilidade Fiscal, deverá
- (A) atender às metas fiscais constantes no plano plurianual e constituição federal.
 - (B) atender ao disposto em lei de diretrizes orçamentárias.
 - (C) estar acompanhada de estimativa de impacto de caixa no exercício final.
 - (D) estar acompanhada de medidas de compensação, como perdão de dívida ativa, por exemplo.
 - (E) ser vedada para estados e para municípios a partir de 2020.
51. Um órgão do setor público contratou uma empresa pública de tecnologia para desenvolver um *software* em 10.03.2019 pelo valor de R\$ 3.230.000,00. Sabe-se que, contratualmente, esse *software* deverá ser entregue para o órgão em 10.12.2019.
- Assinale a alternativa que contém o registro contábil orçamentário inicial dessa transação econômica em 10/03/2019, em R\$.
- (A) D: Crédito Disponível – 3.230.000,00
C: Crédito Empenhado a Liquidar – 3.230.000,00
 - (B) D: Disponibilidade por Destinação de Recursos – 3.230.000,00
C: Crédito Empenhado a Liquidar – 3.230.000,00
 - (C) D: *Softwares* em desenvolvimento – 3.230.000,00
C: Crédito Empenhado a Liquidar – 3.230.000,00
 - (D) D: *Softwares* – 3.230.000,00
C: *Softwares* em contratação – 3.230.000,00
 - (E) D: Crédito Empenhado a Liquidar – 3.230.000,00
C: Crédito Empenhado Liquidado a pagar – 3.230.000,00
52. O governo concedeu um benefício a um grupo de microempreendedores individuais na forma de redução da taxa de juros para aquisição de equipamentos. Estima-se que o governo deverá pagar às instituições financeiras R\$ 3.500.000,00 ao longo dos próximos três anos referentes a esse benefício.
- A situação descrita gera para o governo a necessidade de registrar, em seu sistema patrimonial,
- (A) adiantamento para futuro aumento de capital.
 - (B) ativo contingente.
 - (C) ativo intangível.
 - (D) provisão.
 - (E) receita em contraprestação.
53. São exemplos de estoques no setor público, conforme o Manual de Contabilidade aplicado ao Setor Público:
- (A) Licenças.
 - (B) Munições.
 - (C) Patentes de fórmulas.
 - (D) Projetos e protótipos.
 - (E) Títulos de publicação.

54. Um ente público realizou um financiamento para aquisição de um terreno no valor de R\$ 500.000,00, que será destinado a construção de uma clínica odontológica pública em janeiro de 2019. Sabe-se que o pagamento será realizado em 10 parcelas mensais de R\$ 55.000,00.

Assinale a alternativa que representa o registro inicial em janeiro de 2019 dessa transação no sistema patrimonial desse ente público.

- (A) D: Bens Imóveis – 500.000,00
D: Encargos Financeiros a apropriar – 50.000,00
C: Financiamentos de Curto Prazo – 550.000,00
- (B) D: Bens Imóveis – 500.000,00
C: Financiamentos de Curto Prazo – 500.000,00
- (C) D: Bancos – 500.000,00
C: Financiamentos de Curto Prazo – 550.000,00
- (D) D: Crédito Empenhado Liquidado – 500.000,00
D: Crédito Empenhado Pago – 500.000,00
- (E) D: Bens Imóveis – 500.000,00
D: Variações Patrimoniais Diminutivas Financeiras – 50.000,00
C: Financiamentos de Curto Prazo – 550.000,00

55. Assinale a alternativa correta.

- (A) A competência para a gestão administrativa e judicial da dívida ativa na União é da Controladoria Geral da União.
- (B) A dívida ativa é uma fonte potencial de fluxos de caixa e é reconhecida contabilmente no ativo.
- (C) A dívida ativa tributária, no âmbito da União, é gerida pela Secretaria da Receita Federal.
- (D) Dívida ativa não tributária é proveniente de impostos e respectivas multas.
- (E) Dívida ativa tributária é proveniente de contratos em geral ou de outras obrigações legais.

56. É(São) exemplo(s) de operações de crédito:

- (A) aquisição de softwares.
- (B) arrecadação de tributos.
- (C) arrendamento mercantil financeiro.
- (D) despesas de exercícios anteriores.
- (E) restos a pagar não processados.

57. Assinale a alternativa correta sobre consolidação das demonstrações contábeis no setor público.

- (A) Cada ente deve elaborar seu próprio Plano de Contas e informar ao Tesouro Nacional.
- (B) Deve ser feita no âmbito intragovernamental para fins de consolidação nacional.
- (C) Devem ser excluídas as participações em estatais dependentes.
- (D) É de competência da Secretaria de Receita Federal.
- (E) São mantidos os saldos referentes às transações e a saldos recíprocos entre entidades.

58. Assinale a alternativa que contém exemplos de entidades cuja utilização de Plano de Contas Aplicado ao Setor Público é facultativo.

- (A) Autarquias e órgãos da administração direta.
- (B) Estatais dependentes e estatais não dependentes.
- (C) Fundações instituídas e mantidas pelo poder público e estatais não dependentes.
- (D) Estatais não dependentes e conselhos profissionais.
- (E) Serviços sociais autônomos e fundações instituídas e mantidas pelo poder público.

59. Assinale a alternativa que contém informação que pode ser verificada no Relatório de Gestão Fiscal.

- (A) Análise do valor adicionado gerado pelo Poder ou Ente público na localidade.
- (B) Análise qualitativa de uma política pública de modo que promova a decisão por seu encerramento ou continuidade.
- (C) Limites de despesa com pessoal (alerta, prudencial ou total) do Poder ou do Ente que está sujeito a restrições e deve adotar medidas de responsabilidade fiscal.
- (D) Projeção dos fluxos de caixas operacionais do ente público de modo a verificar sua capacidade de honrar dívidas de longo prazo.
- (E) Receitas arrecadadas e das despesas empenhadas, obtendo o resultado primário e a obediência à regra de ouro.

60. Um município apresentou os seguintes dados referentes ao seu último exercício social:

	Em R\$
Receita prevista	1.000.000,00
Receita arrecadada	800.000,00
Despesa prevista	1.000.000,00
Despesa empenhada	700.000,00
Despesa liquidada	300.000,00

O resultado orçamentário do exercício é, em R\$:

- (A) 100.000,00
- (B) 200.000,00
- (C) 300.000,00
- (D) 400.000,00
- (E) 500.000,00

