



**PREFEITURA MUNICIPAL DA ESTÂNCIA
TURÍSTICA DE GUARATINGUETÁ**

ESTADO DE SÃO PAULO

CONCURSO PÚBLICO

019. PROVA OBJETIVA

CONTADOR

- ◆ Você recebeu sua folha de respostas e este caderno contendo 60 questões objetivas.
- ◆ Confira seus dados impressos na capa deste caderno e na folha de respostas.
- ◆ Quando for permitido abrir o caderno, verifique se está completo ou se apresenta imperfeições. Caso haja algum problema, informe ao fiscal da sala.
- ◆ Leia cuidadosamente todas as questões e escolha a resposta que você considera correta.
- ◆ Marque, na folha de respostas, com caneta de tinta preta, a letra correspondente à alternativa que você escolheu.
- ◆ A duração da prova é de 3 horas e 30 minutos, já incluído o tempo para o preenchimento da folha de respostas.
- ◆ Só será permitida a saída definitiva da sala e do prédio após transcorridos 75% do tempo de duração da prova.
- ◆ Deverão permanecer em cada uma das salas de prova os 3 últimos candidatos, até que o último deles entregue sua prova, assinando termo respectivo.
- ◆ Ao sair, você entregará ao fiscal a folha de respostas e este caderno, podendo levar apenas o rascunho de gabarito, localizado em sua carteira, para futura conferência.
- ◆ Até que você saia do prédio, todas as proibições e orientações continuam válidas.

AGUARDE A ORDEM DO FISCAL PARA ABRIR ESTE CADERNO DE QUESTÕES.

Nome do candidato _____

RG _____

Inscrição _____

Prédio _____

Sala _____

Carteira _____

CONHECIMENTOS GERAIS

LÍNGUA PORTUGUESA

Leia o texto para responder às questões de números **01** a **10**.

Urbanismo à deriva

A França se destacou durante muito tempo por sua gestão do setor da construção e do planejamento, resultado do forte compromisso do Estado e das coletividades locais, ao mesmo tempo reguladoras, construtoras, financiadoras, administradoras... Ora, há alguns anos esse sistema passou a correr riscos por causa de diversos dispositivos que, frequentemente testados sob pretexto de circunstâncias excepcionais, foram pouco a pouco banalizados, concedendo mais poder aos atores privados.

É o caso, por exemplo, da “venda no estado de consecução futura” (*Vente en l'État du Futur Achèvement*, Vefa). Inexistente, depois marginal no setor de moradia social, a Vefa – comumente chamada de “venda na planta” – instalou-se na esteira da crise de 2008. Em resposta à crise imobiliária, o presidente Nicolas Sarkozy solicitou aos financiadores que comprassem cerca de 30 mil imóveis construídos, mas ainda não comercializados pelos incorporadores. Dez anos depois, esse modo de construção “chave na mão” tornou-se moeda corrente no setor de habitação de aluguel moderado, até passar a representar, a cada ano, mais da metade das moradias sociais construídas na Île-de-France.

Esse processo permite aumentar, a curto prazo e em tempo recorde, o estoque de moradias disponíveis, mas, a longo prazo, gera problemas. Com a Vefa, os financiadores se veem privados de seu papel de construtores. Perdem a cultura da construção, passando a ser meros gestores de bens. Esse sistema repousa, além do mais, em uma contradição fundamental. Enquanto os financiadores devem manter suas construções, estando, portanto, muito interessados na qualidade e robustez dos materiais utilizados, os incorporadores constroem e vendem moradias pelas quais não assumem nenhuma responsabilidade. Os ganhos imediatos, em tempo e dinheiro, podem se transformar em custos adiados.

(Pierre Pastoral, “Urbanismo à deriva”.
Le Monde Diplomatique Brasil, junho de 2019. Adaptado)

01. De acordo com o autor, a Vefa é

- (A) um risco ao sistema da construção e do planejamento francês, já que exige um investimento elevado de financiadores e incorporadores, o que vem sendo perigoso desde a crise de 2008.
- (B) uma estratégia antiga do sistema da construção e do planejamento francês que permitiu uma resposta rápida do governo à crise imobiliária, estando a salvo dos efeitos da crise de 2008.
- (C) um recurso promissor no cenário da construção e do planejamento francês, eliminando riscos a esse setor graças à transferência de gestão dos imóveis aos financiadores.
- (D) um dispositivo que representa risco ao sistema da construção e do planejamento francês, uma vez que ganhos auferidos no presente podem se transformar em custos futuros.
- (E) um expediente ilegal dentro do sistema da construção e do planejamento francês, o que pode representar ainda mais prejuízos à área, caso os construtores tenham seus custos elevados.

02. De acordo com o texto, o urbanismo da França está sujeito à

- (A) limitação de poder aos atores privados na sua gestão com o Estado.
- (B) paralisação graças a uma nova crise econômica, como a deflagrada em 2008.
- (C) perda do protagonismo do Estado e das coletividades locais na sua gestão.
- (D) queda de reservas financeiras tanto dos construtores quanto dos incorporadores.
- (E) transferência de papéis, fazendo-se com que financiadores deixem de ser gestores.

03. As informações textuais permitem concluir que

- (A) os incorporadores têm menos preocupação que os construtores com a qualidade dos imóveis comercializados.
- (B) o modo de construção “chave na mão”, depois de dez anos, tem um espaço tímido no setor de habitação francês.
- (C) os construtores tendem a abandonar a habitação de aluguel moderado na França, temendo prejuízos futuros.
- (D) o governo de Nicolas Sarkozy criou a Vefa para minimizar o compromisso do Estado com as moradias sociais.
- (E) os diversos dispositivos que atendem ao setor de construção francês expurgam deste os atores privados.

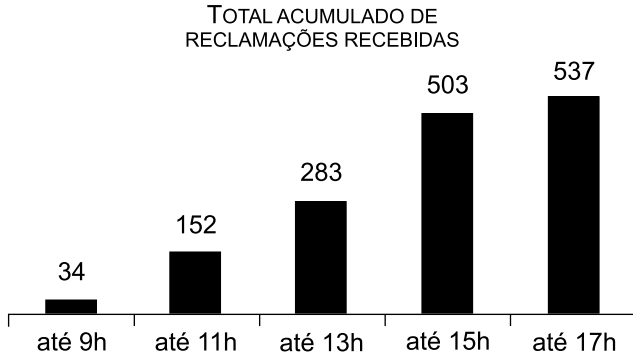
04. Nas passagens – ... frequentemente testados sob pretexto de circunstâncias **excepcionais**... (1º parágrafo), – ...depois **marginal** no setor de moradia social... (2º parágrafo) e – ... esse modo de construção [...] tornou-se **moeda corrente**... (2º parágrafo) –, as expressões destacadas significam, correta e respectivamente:
- (A) extremas; fundamental; título público.
 - (B) frequentes; limítrofe; metal transformado.
 - (C) incomuns; secundária; medida suspeita.
 - (D) ordinárias; delinquente; moeda metálica.
 - (E) inabituais; periférica; procedimento usual.
05. Entende-se pelo título do texto que o urbanismo da França
- (A) reprime o poderio comercial da construção.
 - (B) tornou-se motivo de orgulho com a Vefa.
 - (C) reabilitou o país no cenário internacional.
 - (D) vive sob a égide do interesse econômico.
 - (E) teve como baliza as necessidades do povo.
06. Assinale a alternativa que atende à norma-padrão de pontuação.
- (A) O modo de construção “chave na mão”, gera problemas pois de um lado, os financiadores ficam privados do papel de construtores. E de outro, os incorporadores comercializam moradias pelas quais não assumem nenhuma responsabilidade.
 - (B) O modo de construção “chave na mão” gera problemas: de um lado, os financiadores ficam privados do papel de construtores; de outro, os incorporadores comercializam moradias pelas quais não assumem nenhuma responsabilidade.
 - (C) O modo de construção “chave na mão” gera problemas... De um lado os financiadores, que ficam privados do papel de construtores e de outro os incorporadores, que comercializam moradias pelas quais não assumem nenhuma responsabilidade.
 - (D) O modo de construção “chave na mão”, gera problemas – de um lado, os financiadores que ficam privados do papel de construtores. E de outro os incorporadores que comercializam moradias pelas quais não assumem nenhuma responsabilidade.
 - (E) O modo de construção “chave na mão” gera problemas! É, que de um lado, os financiadores ficam privados do papel de construtores e de outro é que, os incorporadores comercializam moradias pelas quais não assumem nenhuma responsabilidade.
07. Assinale a alternativa em que a substituição do termo destacado pelo termo dos parênteses implica alteração na regência nominal, conforme a norma-padrão.
- (A) ... **resultado** do forte compromisso do Estado... (consequência)
 - (B) ... estando, portanto, muito **interessados** na qualidade... (preocupados)
 - (C) ... comumente **chamada** de “venda na planta”... (denominada)
 - (D) ... concedendo mais **poder** aos atores privados... (privilégios)
 - (E) ... se veem **privados** de seu papel de construtores. (destituídos)
08. Assinale a alternativa em que se reescrevem informações do primeiro parágrafo, atendendo-se à norma-padrão.
- (A) Tem alguns anos que esse sistema passou a correr riscos devido os diversos dispositivos existente, frequentemente testados sob pretexto de circunstâncias excepcionais, e que foram pouco a pouco banalizados.
 - (B) Fazem alguns anos que riscos existentes ameaçam esse sistema, por haverem diversos dispositivos que, frequentemente testados sob pretexto de circunstâncias excepcionais, foram pouco a pouco banalizados.
 - (C) Têm alguns anos que esse sistema passou a correr riscos por causa de diversos dispositivos que existe, frequentemente testados sob pretexto de circunstâncias excepcionais, e que foram pouco a pouco banalizados.
 - (D) Fazem alguns anos que esse sistema vêm correndo riscos graças a diversos dispositivos que, frequentemente testados sob pretexto de circunstâncias excepcionais, foram pouco a pouco banalizados.
 - (E) Faz alguns anos que esse sistema passou a correr riscos devido a diversos dispositivos que, frequentemente testados sob pretexto de circunstâncias excepcionais, foram pouco a pouco banalizados.
09. Assinale a alternativa que atende à norma-padrão de colocação pronominal.
- (A) Solicitou-se aos financiadores franceses que comprassem cerca de 30 mil imóveis construídos, mas não comercializados.
 - (B) Os financiadores, via de regra, têm preocupado-se com a qualidade e robustez dos materiais construtivos.
 - (C) Não assume-se responsabilidade pela construção e pela venda de moradias com a venda no estado de consecução futura.
 - (D) Se tornou moeda corrente no setor de habitação de aluguel moderado o modo de construção “chave na mão”.
 - (E) O modo de construção “chave na mão” efetivamente impôs-se no setor de habitação de aluguel moderado.

10. Há termo empregado em sentido figurado na passagem:
- (A) A França se destacou durante muito tempo por sua gestão... (1º parágrafo)
 - (B) É o caso [...] da “venda no estado de consecução futura”... (2º parágrafo)
 - (C) ... a Vefa [...] instalou-se na esteira da crise de 2008. (2º parágrafo)
 - (D) ... o presidente Nicolas Sarkozy solicitou aos financiadores... (2º parágrafo)
 - (E) ... passando a ser meros gestores de bens. (3º parágrafo)

MATEMÁTICA

11. Em um evento, 36 convidados estavam desacompanhados, e os demais convidados estavam acompanhados por apenas uma pessoa. Se o número de convidados desacompanhados correspondia a 18% do número total de pessoas presentes ao evento, então, é correto afirmar que, nesse evento, a quantidade de convidados que estavam acompanhados era
- (A) 82.
 - (B) 102.
 - (C) 122.
 - (D) 142.
 - (E) 162.
12. Em um grupo com 10 pessoas, duas têm 20 anos, três têm 25 anos, três têm 30 anos, e a pessoa mais velha tem o dobro da idade da pessoa mais nova. Sabendo-se que a média das idades desse grupo é 25,6 anos, a idade da pessoa mais velha desse grupo, em anos, é
- (A) 31.
 - (B) 32.
 - (C) 33.
 - (D) 34.
 - (E) 35.

13. O gráfico apresenta informações sobre o número total de reclamações recebidas pelo SAC de uma empresa de telefonia, em determinado dia, das 7 horas às 17 horas, horário de funcionamento desse SAC.



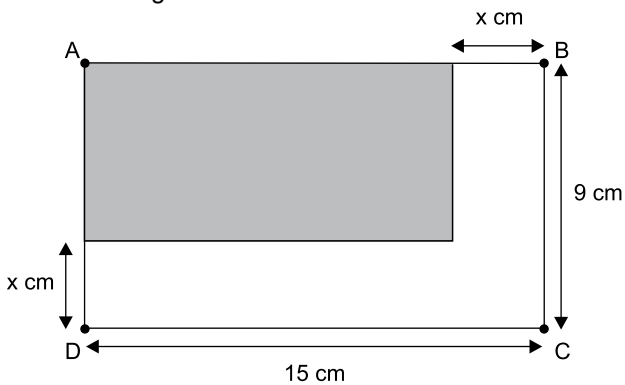
Com base nas informações contidas no gráfico, pode-se afirmar corretamente que, nesse dia,

- (A) o número total de reclamações recebidas foi 1 509.
- (B) às 17h foi recebido o maior número de reclamações.
- (C) até as 13h, foram recebidas mais da metade do total de reclamações.
- (D) o período em que foram recebidas menos reclamações foi o das 9h até as 11h.
- (E) o período em que foram recebidas mais reclamações foi o das 15h até as 17h.
14. Tem-se certo valor disponível, em reais, para a compra de determinado produto. Comprando-se 3 unidades desse produto, o troco recebido será de R\$ 3,10. Se com mais R\$ 9,20 é possível comprar 4 unidades desse produto, então, é correto afirmar que o valor que se tem disponível está compreendido no intervalo de
- (A) R\$ 15,00 a R\$ 25,00.
- (B) R\$ 25,00 a R\$ 35,00.
- (C) R\$ 35,00 a R\$ 45,00.
- (D) R\$ 45,00 a R\$ 55,00.
- (E) R\$ 55,00 a R\$ 65,00.
15. Considere que uma pessoa execute, rigorosamente, uma tarefa A a cada 2 dias, uma tarefa B a cada 4 dias, e uma tarefa C a cada 5 dias, e que hoje ela executará as três tarefas. Logo, de hoje até o próximo dia em que essa pessoa executar essas três tarefas em um mesmo dia, inclusive, a soma do número total de vezes em que ela terá executado a tarefa A com o número total de vezes em que ela terá executado a tarefa C será igual a
- (A) 14.
- (B) 15.
- (C) 16.
- (D) 17.
- (E) 18.

16. Pedro e João montaram uma sociedade com certo capital, sendo que a diferença dos valores dos capitais investidos por Pedro e por João foi igual a R\$ 7.850,00. Ao final de um mês do investimento, ambos dividiram o primeiro lucro em partes diretamente proporcionais aos capitais investidos, sendo R\$ 52,00 a parte do lucro recebida por João e R\$ 156,00 a parte do lucro recebida por Pedro. Assim, pode-se concluir corretamente que o capital total por eles investido foi de
- (A) R\$ 15.700,00.
 - (B) R\$ 15.900,00.
 - (C) R\$ 16.100,00.
 - (D) R\$ 16.300,00.
 - (E) R\$ 15.500,00.
17. Considere duas caixas d'água: uma com a parte interna em formato de cubo, com arestas medindo 2 metros; e a outra, maior que a primeira, com a parte interna em formato de prisma reto retangular, com uma das arestas de base 1 metro maior que a medida da outra aresta de base, e altura de 2 metros. Se a capacidade máxima da menor caixa d'água corresponde à terça parte da capacidade máxima da maior caixa, então o perímetro da base da maior caixa d'água, em metros, é igual a
- (A) 12.
 - (B) 14.
 - (C) 16.
 - (D) 18.
 - (E) 20.
18. Necessita-se dividir o total de R\$ 14.000,00, sendo R\$ 6.000,00 em cédulas de R\$ 20,00, e o restante, em cédulas de R\$ 50,00, em um maior número de envelopes possível, cada um deles contendo uma mesma quantidade de cédulas de R\$ 20,00 e uma mesma quantidade de cédulas de R\$ 50,00. Sendo assim, a diferença entre o total em cédulas de R\$ 50,00 e o total em cédulas de R\$ 20,00 que cada envelope deverá conter é igual a
- (A) R\$ 30,00.
 - (B) R\$ 40,00.
 - (C) R\$ 60,00.
 - (D) R\$ 80,00.
 - (E) R\$ 100,00.

19. Uma máquina do modelo A fabrica 12 unidades de determinada peça em 48 minutos de funcionamento, ininterruptos. Para a fabricação de 210 unidades dessa peça, foram utilizadas 3 máquinas do modelo A, nas mesmas condições apresentadas, trabalhando ao mesmo tempo. Quando metade dessas peças foram produzidas, as 3 máquinas foram desligadas, pois uma delas apresentou defeito. Ao ser retomada a produção, apenas 2 das 3 máquinas completaram o serviço. Sendo assim, o tempo utilizado para a produção das 210 peças, desconsiderando-se o tempo em que as máquinas ficaram paradas, foi de
- (A) 4 horas e 10 minutos.
(B) 4 horas e 45 minutos.
(C) 5 horas e 15 minutos.
(D) 5 horas e 50 minutos.
(E) 6 horas e 25 minutos.

20. Considere a figura.



Sabendo-se que A, B, C, e D são os vértices de um retângulo, e que a diferença entre a área total delimitada pelo retângulo ABCD e a área da região retangular escura é de 63 cm^2 , é correto afirmar que o valor de x equivale, da medida do maior lado do retângulo ABCD, a:

- (A) 21%
(B) 20%
(C) 19%
(D) 18%
(E) 17%

ATUALIDADES

21. Joia da coroa da indústria brasileira, a Embraer completa os seus 50 anos nesta segunda (19.08) consolidada: é a maior exportadora de produtos com alto valor agregado do país.

Ao mesmo tempo, as celebrações encerram uma angústia silenciosa. O que será da Embraer remanescente da cisão de sua fatia mais vistosa, a aviação comercial que lhe deu o posto de líder do competitivo mercado regional?

(Folha-Uol, 19.08.2019. Disponível em <<https://tinyurl.com/y286d6nv>>. Acesso em: 28.09.2019. Adaptado)

A preocupação expressa na notícia relaciona-se à associação da “joia da coroa da indústria brasileira” com a empresa

- (A) sueca Saab.
 - (B) francesa Airbus.
 - (C) norte-americana Delta.
 - (D) canadense Bombardier.
 - (E) norte-americana Boeing.
22. O primeiro-ministro do Reino Unido, Boris Johnson, surpreendeu ao solicitar, nesta quarta-feira (28.08), a suspensão do Parlamento britânico para a rainha Elizabeth II.

(Exame, 28.08.2019. Disponível em <<https://tinyurl.com/y4wvcouw>>. Acesso em: 28.09.2019. Adaptado)

O pedido de Boris Johnson foi uma estratégia para

- (A) revogar as leis favoráveis aos imigrantes estabelecidos no país.
 - (B) limitar as discussões sobre o acordo de transição para o Brexit.
 - (C) acatar as determinações do Parlamento europeu sobre os refugiados.
 - (D) cercear as críticas à reforma trabalhista proposta pelo gabinete.
 - (E) realizar um novo referendo para manter o país na União Europeia.
23. No último dia 28.08, a Argentina pediu reescalonamento de prazo de sua dívida de 56 bilhões com o Fundo Monetário Internacional. O empréstimo não será pago no prazo estabelecido, previsto para começar em 2021.

(Estadão, 30.08.2019. Disponível em <<https://tinyurl.com/yxqcc838>>. Acesso em: 28.09.2019. Adaptado)

De acordo com analistas, um dos efeitos dessa decisão da Argentina para nossa economia pode ser

- (A) a diminuição das exportações brasileiras.
- (B) a estabilidade do câmbio no Brasil.
- (C) o aumento da taxa Selic pelo Banco Central.
- (D) a queda da nota de crédito do Brasil.
- (E) a elevação do superavit comercial no Mercosul.

24. O filme do diretor Karim Aïnouz foi escolhido pela Academia Brasileira de Cinema para representar o país na corrida pelo Oscar 2020, na categoria de melhor filme internacional, que anteriormente era chamada de melhor filme estrangeiro.

(Uol, 27.08.2019. Disponível em <<https://tinyurl.com/yxznsv3>>. Acesso em: 28.09.2019. Adaptado)

O filme escolhido para representar o Brasil, já premiado em seção paralela no Festival de Cannes, é

- (A) *Bacurau*.
 - (B) *Legalidade*.
 - (C) *Chorar de Rir*.
 - (D) *A Vida Invisível*.
 - (E) *A Última Abolição*.
25. Atendendo a uma demanda dos manifestantes que ocupam as ruas de Hong Kong desde junho, a chefe do Executivo local, Carrie Lam, anunciou, nesta quarta-feira (04.09), o cancelamento do projeto de lei que deu origem aos protestos na região administrativa especial chinesa. O aceno de Lam, entretanto, não deverá ser suficiente para satisfazer os opositores, que mantêm outras quatro reivindicações.

(O Globo, 04.09.2019. Disponível em <<https://tinyurl.com/y52tsle2>>. Acesso em: 28.09.2019. Adaptado)

O tema do projeto de lei cancelado e uma nova reivindicação dos manifestantes são, correta e respectivamente,

- (A) o controle do Banco de Pequim sobre a região e a adoção de uma moeda diferente do *yuan* chinês.
- (B) a adoção de tarifas protecionistas pela China e um acordo com os EUA para encerrar a guerra comercial.
- (C) a extradição para a China continental e a democratização por meio de eleições diretas na região.
- (D) a limitação do acesso à internet e uma política de estímulo ao ingresso dos jovens no mercado de trabalho.
- (E) a representatividade no Partido Comunista e a plena autonomia da região frente à China continental.

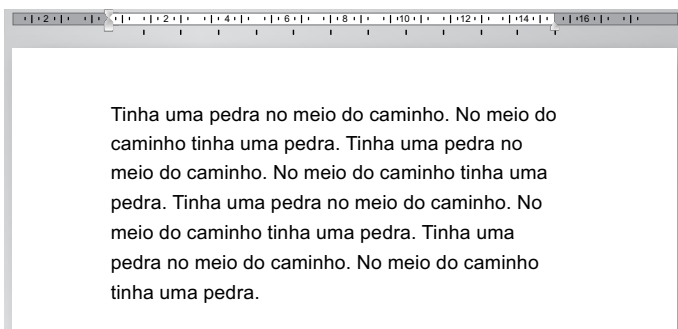
26. Um usuário salvou algumas fotos em formato png no seu computador com MS-Windows 7, em sua configuração padrão, e deseja escrever uma informação dentro da imagem, antes de enviá-la por e-mail.

Assinale a alternativa que apresenta o aplicativo acessório padrão do MS-Windows7, que permite fazer alterações em imagens, conforme o enunciado.

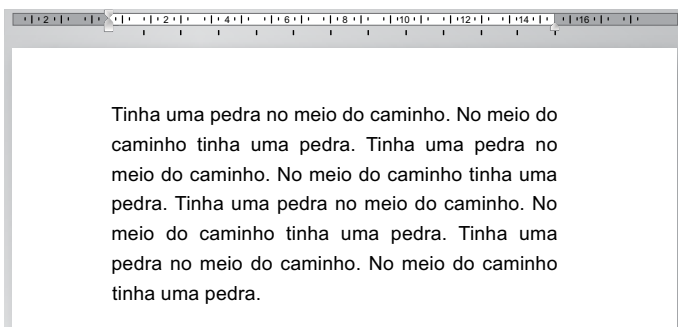
- (A) Outlook.
- (B) Corel Draw.
- (C) Power Point.
- (D) Paint.
- (E) Bloco de Notas.

27. Por meio do MS-Word 2010, em sua configuração padrão, um usuário digitou um texto em um documento, conforme se vê na imagem ANTES e, em seguida, alterou o alinhamento do parágrafo, conforme se vê na imagem DEPOIS.

ANTES



DEPOIS



Assinale a alternativa que apresenta, correta e respectivamente, os alinhamentos de parágrafo vistos nas imagens ANTES e DEPOIS.

- (A) centralizado; justificado.
- (B) justificado; centralizado.
- (C) alinhado à direita; centralizado.
- (D) alinhado à esquerda; centralizado.
- (E) alinhado à esquerda; justificado.

28. A planilha a seguir foi elaborada por meio do MS-Excel 2010, em sua configuração padrão.

	A	B	C
1	2	3	4
2	3	9	5
3	5	6	6
4	6	8	2
5	7	7	8
6			

Após preencher a fórmula =MAIOR(A1:C5;5) na célula A6, o valor exibido será:

- (A) 9
- (B) 8
- (C) 7
- (D) 6
- (E) 5

29. Assinale a alternativa que apresenta a forma que, por padrão, representa o botão de ação Próximo, no MS-PowerPoint 2010, em sua configuração padrão.

- (A)
- (B)
- (C)
- (D)
- (E)

30. Um e-mail foi enviado por meio do MS-Outlook 2010, em sua configuração padrão, com os seguintes campos.

De: solicitante@guaratingueta.gov.br

Para: engenheiro@guaratingueta.gov.br

Cc: fiscal@guaratingueta.gov.br

Cco: empresa@guaratingueta.gov.br

Assunto: controladoria@guaratingueta.gov.br

O usuário fiscal@guaratingueta.gov.br, ao receber, escolheu a opção "Responder a Todos", de modo que o número de destinatários será

- (A) 1.
- (B) 2.
- (C) 3.
- (D) 4.
- (E) 5.

CONHECIMENTOS ESPECÍFICOS

31. Uma determinada indústria química fez uma venda de material que será utilizado no processo de fabricação de produtos plásticos por uma certa fábrica. A data da venda foi em 25 de novembro de 2019, todavia, a entrega da mercadoria será realizada somente em 30 de janeiro de 2020 e o pagamento dessa compra dar-se-á apenas após a entrega do produto.
- Nesse caso hipotético, considerando apenas o processo de receita, teremos o seguinte lançamento contábil:
- (A) Débito de contas a receber.
A crédito de receita diferida.
 - (B) Débito de contas a receber.
A crédito de receita de vendas.
 - (C) Débito de adiantamento de vendas.
A crédito de contas a receber.
 - (D) Débito de adiantamento de vendas.
A crédito de estoques.
 - (E) Débito de receita diferida.
A crédito de venda para entrega futura nos estoques.
32. Assinale a alternativa correta relacionada à estrutura conceitual de ativo e passivo.
- (A) Relevância, materialidade, representação fidedigna e tempestividade são princípios fundamentais de contabilidade.
 - (B) Comparabilidade, verificabilidade, tempestividade e compreensibilidade são características qualitativas de melhoria da informação contábil útil.
 - (C) Passivos são definidos pelos benefícios econômicos futuros incorporados a um negócio e o seu potencial em contribuir, direta ou indiretamente, para o fluxo de caixa ou equivalentes de caixa para a entidade.
 - (D) A liquidação de um direito presente sempre implica na utilização, pela entidade, de recursos incorporados de benefícios econômicos a fim de satisfazer a demanda da outra parte.
 - (E) A receita deve ser reconhecida na demonstração do resultado quando resultar em aumento nos benefícios econômicos futuros relacionado com a diminuição de ativo ou com aumento de passivo, exclusivamente.
33. Um determinado investidor brasileiro adquiriu, através de sua Holding de Participações, 60% do capital votante de uma empresa, ou seja, adquiriu o controle dessa empresa. O valor de aquisição equivalendo aos valores contábeis foi de R\$ 600.000,00. Ao final do período em que ocorreu a aquisição, essa empresa auferiu um prejuízo de R\$ 150.000,00. Com isso, a holding deverá registrar em sua contabilidade
- (A) um prejuízo com o seu investimento da ordem de R\$ 150.000,00.
 - (B) um passivo circulante pela obrigação contraída de R\$ 90.000,00.
 - (C) uma despesa operacional de R\$ 90.000,00.
 - (D) uma diminuição de seu investimento da ordem de R\$ 150.000,00.
 - (E) um ativo diferido de R\$ 90.000,00.
34. O imposto sobre a exportação, de produtos nacionais ou nacionalizados, tem como fato gerador a saída destes do território nacional. A sua competência
- (A) é da União.
 - (B) é Estadual.
 - (C) é Municipal.
 - (D) será do território em que está posicionado o porto.
 - (E) é federal, no caso de porto seco.
35. A natureza jurídica específica do tributo é determinada
- (A) pelo segmento e tipo de operação.
 - (B) pela base de cálculo, podendo ser serviços ou produtos.
 - (C) pela opção feita pelo contribuinte.
 - (D) por lei complementar, de acordo com o tipo jurídico da entidade.
 - (E) pelo fato gerador da respectiva obrigação.
36. Considerando os conceitos básicos de custo, assinale a alternativa que contenha exemplos de métodos de custeio.
- (A) ABC (por atividade) e valor justo.
 - (B) Média ponderada móvel e valor corrente.
 - (C) Variável e rateado.
 - (D) Padrão e Absorção.
 - (E) Absorção e margem direta.
37. As despesas devem ser reconhecidas na demonstração do resultado quando resultarem em decréscimo nos benefícios econômicos futuros, relacionado com o decréscimo de um ativo ou o aumento de um passivo, e puder ser mensurado com confiabilidade. Isso significa que, ao se adquirir um serviço de manutenção de máquinas, essas despesas serão reconhecidas no resultado
- (A) na assinatura do contrato de manutenção.
 - (B) no adiantamento feito ao fornecedor, no caso de requerido em contrato.
 - (C) na medida que o serviço for prestado.
 - (D) na contra apresentação da nota fiscal.
 - (E) no pagamento do serviço, uma vez que será incontestável o valor a ser reconhecido.

38. No que tange aos procedimentos básicos de escrituração, é correto afirmar:
- (A) os ganhos e perdas, quando originados no PL e resultado, deverão ser classificados no grupo de outros resultados abrangentes.
 - (B) ao final de cada exercício, as contas do resultado deverão ser encerradas.
 - (C) os empréstimos contraídos em outubro de um determinado ano, com vencimento em maio do ano seguinte, deverão ser classificados no grupo de longo prazo do BP.
 - (D) a nomenclatura de caixa e equivalentes de caixa são exclusivamente utilizadas na demonstração do fluxo de caixa.
 - (E) os saldos das contas patrimoniais são de característica acumulativa e serão encerrados no final do exercício.

39. Assinale a alternativa que indica o valor hipotético do Patrimônio Líquido da empresa *Acerta Sempre Tudo Ltda.* em 31 de dezembro de 2019, após o encerramento do exercício, conforme balancete a seguir demonstrado:

Estoques	52.000,00
Fornecedores	70.000,00
Reserva Legal	10.000,00
Despesas Gerais	60.000,00
Máquinas e Equipamentos	24.000,00
Contas a Pagar	16.000,00
Despesas de Salários	30.000,00
Aplicações Financeiras	28.000,00
Capital Social	90.000,00
Custo das Mercadorias Vendidas	46.000,00
Reserva de Lucros	20.000,00
Receitas Financeiras	16.000,00
Despesas Financeiras	8.000,00
Financiamentos	34.000,00
Duplicatas a Receber	70.000,00
Vendas de Mercadorias	90.000,00
Bancos conta Movimento	28.000,00

- (A) 44.000,00
- (B) 71.000,00
- (C) 82.000,00
- (D) 90.000,00
- (E) 102.000,00

40. Em 31.03.2019 a empresa industrial *Adquiro Tudo Ltda.* adquiriu um equipamento industrial, que não necessitou de instalação, ou sejam, iniciou suas atividades na data da aquisição. O valor de aquisição do equipamento foi de R\$ 800.000,00, líquido dos impostos. A vida útil desse bem foi determinada em 16 anos e o valor de realização do bem foi estipulada em R\$ 120.000,00. Isso posto, indique o valor, em Reais, da depreciação acumulada em 31.12.2019.

- (A) 31.875
- (B) 37.500
- (C) 40.865
- (D) 42.500
- (E) 50.000

Baseado nas informações fornecidas a seguir, responda as questões de números 41 e 42.

Em 31 de agosto de 2019, uma empresa de varejo apresentou um balancete de verificação com os seguintes saldos hipotéticos:

	R\$
Caixa	570,00
Duplicatas a pagar	1.170,00
Lucros a distribuir	390,00
Despesa de Aluguéis	420,00
Receita de Comissões	90,00
Receitas financeiras	330,00
Impostos a recolher	900,00
Veículos	2.700,00
Custos das vendas	1.800,00
Receita de vendas	3.150,00
Despesas de juros	390,00
Clientes	1.590,00
Móveis e utensílios	1.620,00
Capital social	2.400,00
Impostos sobre vendas	600,00
Despesa com salários	450,00
Fornecedores	1.110,00
Encargos sociais a recolher	600,00

41. Indique o valor do ativo não circulante da Empresa, em Reais, em 31 de agosto de 2019.

- (A) 2.730,00
- (B) 3.820,00
- (C) 3.940,00
- (D) 4.180,00
- (E) 4.320,00

42. O valor do Resultado Antes do Imposto de Renda, em Reais, na data de 31.08.2019, será um

- (A) prejuízo de R\$ 90,00
- (B) lucro de R\$ 90,00
- (C) lucro de R\$ 750,00
- (D) lucro de R\$ 510,00
- (E) prejuízo de R\$ 510,00

Utilize as informações a seguir para responder as questões de números **43 a 45**.

As seguintes informações foram obtidas da contabilidade da empresa *Acerta Tudo S/A* em 31 de dezembro de 2018. Os valores apresentados encontram-se em Reais e são hipotéticos:

• Passivo circulante	360.000
• Ativo não circulante	460.000
• Patrimônio líquido antes do fechamento do resultado	282.000
• Passivo não circulante	180.000
• A demonstração do resultado apresentava:	
• Vendas líquidas	900.000
• Custos dos produtos vendidos	(550.000)
• Despesas operacionais	(180.000)
• Despesas financeiras	(30.000)
• Impostos federais	(42.000)
Informações adicionais:	
• O capital circulante líquido positivo da empresa foi de	100.000
• Saldo inicial dos estoques em 31.12.2017	360.000
• Compras no período	270.000

Observação: Aplicar o critério de arredondamento do índice nas duas casas após a vírgula.

43. A rentabilidade do ativo em 31 de dezembro de 2018 foi:

- (A) 0,09
- (B) 0,11
- (C) 0,15
- (D) 0,18
- (E) 0,21

44. O índice de liquidez seca, em Reais, em 31 de dezembro de 2018 monta a:

- (A) 0,85
- (B) 0,98
- (C) 1,02
- (D) 1,06
- (E) 1,10

45. O índice de liquidez corrente, em Reais, em 31 de dezembro de 2018 monta a:

- (A) 1,02
- (B) 1,15
- (C) 1,28
- (D) 1,35
- (E) 1,42

Responda as questões de números **46 a 48** com base nos dados fornecidos a seguir:

Uma determinada Entidade Industrial fez a opção quanto ao enquadramento de apuração do Imposto de Renda – IR e da Contribuição Social sobre o Lucro Líquido – CSLL pelo Lucro Real. Os referidos imposto e contribuição serão calculados numa base mensal, todavia serão demonstrados numa base trimestral, em 31 de março de 2019.

No exemplo hipotético, a entidade apresentou os seguintes dados:

Lucro antes do IR e CSLL	Período de Janeiro a Março – R\$ 1.200.000,00
--------------------------	--

Adições temporárias: R\$ 70.000,00

Adições permanentes: R\$ 25.000,00

Exclusões permanentes R\$ 20.000,00

Exclusões temporárias R\$ 25.000,00

46. O valor em Reais, do imposto de renda acumulado nos três meses, como indicado, é de:

- (A) 148.700,00
- (B) 156.000,00
- (C) 162.500,00
- (D) 187.500,00
- (E) 206.500,00

47. O valor em Reais, do adicional do imposto de renda acumulado nos três meses, como indicado, é de:

- (A) 106.000,00
- (B) 119.000,00
- (C) 121.500,00
- (D) 122.000,00
- (E) 128.000,00

- 48.** O valor em Reais, da Contribuição Social sobre o Lucro Líquido, é de:
- (A) 178.600,00
 - (B) 161.000,00
 - (C) 135.500,00
 - (D) 121.600,00
 - (E) 112.500,00

Responda as questões de números **49** e **50** com base nos dados fornecidos a seguir:

Uma empresa que optou pelo sistema de tributação no lucro real e que está, neste caso hipotético, enquadrada na não cumulatividade para a apuração de PIS e COFINS necessita calcular essas contribuições sobre operações ocorridas exclusivamente no mês de março de 2019.

Neste caso, a empresa apresentou, no mês de março, um faturamento da ordem de R\$ 250.000,00, bem como crédito calculado sobre insumos relativos às operações de compra em março, no valor de R\$ 140.000,00.

- 49.** De acordo com o enunciado, o valor em Reais a ser registrado na rubrica de PIS a recolher é de:
- (A) 1.200,00
 - (B) 1.630,00
 - (C) 1.760,00
 - (D) 1.815,00
 - (E) 1.900,00
- 50.** De acordo com o enunciado, o valor em Reais a ser registrado na rubrica de COFINS a recolher é de:
- (A) 6.560,00
 - (B) 6.900,00
 - (C) 7.300,00
 - (D) 7.830,00
 - (E) 8.360,00
- 51.** Assinale a hipótese de um fato contábil que seja considerado dentro da mutação patrimonial, alterando o valor total do patrimônio líquido.
- (A) Aumento de capital com reserva de lucros.
 - (B) Contrapartida de uma reavaliação de ativos.
 - (C) Pagamento de dividendos.
 - (D) Compensação de prejuízos com reservas de lucros.
 - (E) Transferência do resultado abrangente.

- 52.** De acordo com a equação fundamental do patrimônio, uma entidade, ao ter o aumento da situação líquida positiva, ou a diminuição da situação líquida negativa, terá
- (A) uma redução do valor patrimonial da entidade.
 - (B) um break-even das operações de investimentos.
 - (C) um desequilíbrio das origens e aplicações de recursos.
 - (D) um aumento na utilização de recursos financeiros da entidade.
 - (E) um aumento da riqueza do titular do patrimônio.
- 53.** As dotações para manutenção de serviços anteriormente criados, inclusive as destinadas a atender a obras de conservação e adaptação de bens imóveis, deverão ser classificadas como
- (A) despesas de custeio.
 - (B) transferências correntes.
 - (C) adições ao ativo fixo.
 - (D) manutenção de tangíveis.
 - (E) inversões financeiras.
- 54.** De acordo com a Lei nº 4.320/64, art. 47, imediatamente após a promulgação da Lei de Orçamento e com base nos limites nela fixados, o Poder Executivo
- (A) solicitará ao poder legislativo a fixação das cotas a que se refere as despesas fixadas, conforme previsto na lei de diretrizes.
 - (B) autorizará os créditos extraordinários que serão abertos por decreto do Poder Executivo, que deles dará imediato conhecimento ao Poder Legislativo.
 - (C) aprovará um quadro de cotas trimestrais da despesa que cada unidade orçamentária fica autorizada a utilizar.
 - (D) designará os créditos por dotação, de forma a suprir as cotas trimestrais de despesas, conforme a utilização do orçamento por cada unidade de negócio.
 - (E) assegurará às unidades orçamentárias, em tempo útil, a soma de recursos necessários e suficientes à melhor execução do seu programa anual de trabalho.
- 55.** Assinale a alternativa que contenha o lançamento contábil no registro da arrecadação da receita durante a execução do orçamento, para a natureza da informação orçamentária.
- (A) D:5.2.1.1.x.xx.xx Previsão Inicial da Receita – C: 6.2.1.1.x.xx.xx Receita a Realizar
 - (B) D: 7.2.1.1.x.xx.xx Controle da Disponibilidade de Recursos – C: 8.2.1.1.1.xx.xx Disponibilidade por Destinação de Recursos (DDR)
 - (C) D: 5.2.1.1.x.xx.xx Previsão Inicial da Receita – C: 6.2.1.2.x.xx.xx Receita Realizada
 - (D) D: 6.2.1.1.x.xx.xx Receita a Realizar – C: 6.2.1.2.x.xx.xx Receita Realizada
 - (E) D: 7.2.1.1.x.xx.xx Controle da Disponibilidade de Recursos – C: 6.2.1.1.x.xx.xx Receita a Realizar

56. Indique qual a demonstração contábil a que se refere o quadro a seguir demonstrado:

<ENTE DA FEDERAÇÃO> EXECUÇÃO DE RESTOS A PAGAR PROCESSADOS					Exercício: 20xx
	Inscritos		Pagos	Cancelados	Saldo a Pagar (e) = (a+b-c-d)
	Em Exercícios Anteriores (a)	Em 31 de Dezembro do Exercício Anterior (b)			
Despesas Correntes					
Pessoal e Encargos Sociais					
Juros e Encargos da Dívida					
Outras Despesas Correntes					
Despesas de Capital					
Investimentos					
Inversões Financeiras					
Amortização da Dívida					
TOTAL					

(A) Balanço orçamentário.

(B) Balanço financeiro.

(C) Balanço patrimonial.

(D) Demonstração do fluxo de caixa.

(E) Demonstração das variações patrimoniais.

57. Para que uma auditoria seja realizada de maneira econômica, eficiente, eficaz e oportuna, e de acordo com os princípios da boa gestão de projetos, o auditor deverá

(A) discutir o escopo com as áreas a serem auditadas, confirmando as expectativas das mesmas.

(B) obter a carta de administração da entidade/área auditada, confirmando o escopo e objetivo da auditoria.

(C) realizar um planejamento dos trabalhos para uma auditoria de forma contributiva à alta qualidade.

(D) ter por objetivo principal emitir um relatório detalhado, com as sugestões de melhorias, incluindo ainda os comentários das áreas sob revisão.

(E) manter os papéis de trabalho sempre com muito zelo, de forma a subsidiar as decisões de assuntos a serem reportados.

58. O Município que tenha obtido uma receita corrente líquida de R\$ 140.000.000,00 num determinado período de apuração não poderá exceder como limite de despesa com pessoal de

(A) 56.000.000,00

(B) 63.000.000,00

(C) 70.000.000,00

(D) 77.000.000,00

(E) 84.000.000,00

59. O montante total, apurado sem duplicidade, das obrigações financeiras do ente da Federação, assumidas em virtude de leis, contratos, convênios ou tratados e da realização de operações de crédito, para amortização em prazo superior a doze meses é denominado, segundo a LC 101/2000, de dívida pública

(A) imobiliária ou de capital.

(B) mobiliária ou de crédito.

(C) financeira, exclusiva.

(D) consolidada ou fundada.

(E) de fomento.

60. O limite indicado pela Lei nº 8.666/93 para dispensa de licitação para os casos de obras e serviços de engenharia, respeitando o limite descrito na modalidade de convite, conforme as regras estabelecida na referida Lei, é até

(A) 5%

(B) 10%

(C) 15%

(D) 20%

(E) 25%

