

PREFEITURA MUNICIPAL DE ARUJÁ

ESTADO DE SÃO PAULO

CONCURSO PÚBLICO

004. PROVA OBJETIVA

AUXILIAR DE ENFERMAGEM DO TRABALHO

- ◆ Você recebeu sua folha de respostas e este caderno contendo 50 questões objetivas.
- ◆ Confira seus dados impressos na capa deste caderno e na folha de respostas.
- ◆ Quando for permitido abrir o caderno, verifique se está completo ou se apresenta imperfeições. Caso haja algum problema, informe ao fiscal da sala.
- ◆ Leia cuidadosamente todas as questões e escolha a resposta que você considera correta.
- ◆ Marque, na folha de respostas, com caneta de tinta preta, a letra correspondente à alternativa que você escolheu.
- ◆ A duração da prova é de 3 horas, já incluído o tempo para o preenchimento da folha de respostas.
- ◆ Só será permitida a saída definitiva da sala e do prédio após transcorridos 75% do tempo de duração da prova.
- ◆ Ao sair, você entregará ao fiscal a folha de respostas e este caderno, podendo levar apenas o rascunho de gabarito, localizado em sua carteira, para futura conferência.
- ◆ Até que você saia do prédio, todas as proibições e orientações continuam válidas.

AGUARDE A ORDEM DO FISCAL PARA ABRIR ESTE CADERNO DE QUESTÕES.

Nome do candidato _____

RG _____

Inscrição _____

Prédio _____

Sala _____

Carteira _____

CONHECIMENTOS GERAIS

LÍNGUA PORTUGUESA

Leia o cartum para responder às questões de números 01 a 03.



(Lute. *Hoje em Dia*. 28.11.2018. www.hojeemdia.com.br)

01. Considerando que a frase “Sonda espacial começa a **explorar** Marte” tem caráter informativo, contextualizando a temática do cartum, o vocábulo **explorar** deve ser entendido com o sentido de

- (A) ocultar informações sigilosas de um público de curiosos.
- (B) pesquisar de maneira teórica um objeto imaginado.
- (C) percorrer uma região para estudá-la e conhecê-la.
- (D) aproveitar-se de alguém com o fim de obter lucro.
- (E) induzir um povo a erro visando favorecer um pequeno grupo.

02. Uma afirmação condizente com o que se observa no cartum é:

- (A) Antes de deduzir algo sobre as intenções dos terráqueos, os marcianos decidiram destruir a sonda espacial.
- (B) Para evitar a colonização de seu planeta pelos terráqueos, os marcianos concordaram em esconder suas riquezas.
- (C) A sonda espacial terráquea foi recebida com hostilidade pelos marcianos, que se organizaram para atacar os inimigos.
- (D) A atitude a tomar em face da presença da sonda dos terráqueos em seu planeta não foi consensual entre os marcianos.
- (E) Os marcianos sabiam que os terráqueos não desistiriam de colonizar seu planeta ainda que fosse apenas um deserto.

03. Uma reescrita do trecho “Deixa eles pensarem (...)” condizente com a norma-padrão da língua e com o sentido preservado é:

- (A) Deixa-lhe pensarem (...)
- (B) Deixa-lhe pensar (...)
- (C) Deixa-os pensar (...)
- (D) Deixa que eles pensa (...)
- (E) Deixa que eles pense (...)

Leia o texto para responder às questões de números 04 a 10.

*Tudo o que não puder contar, não faça:
integridade é não agir errado mesmo sozinho*

Immanuel Kant, famoso filósofo alemão do século 18, dizia: “Tudo o que não puder contar como faz, não faça!”. Ao jogarmos um simples papelzinho pela janela não temos consciência alguma de que não se trata apenas de um simples papelzinho. O que está por trás disso é absolutamente sério. O que estamos fazendo conosco, com o meio em que vivemos e com o mundo? Há que se dizer que culpar terceiros sempre nos traz alívio.

Mas não é um simples papelzinho... Se jogarmos três ao dia, serão quatorze por semana, e se milhões de pessoas de todo o mundo jogarem três míseros papéis por dia? Um dos maiores responsáveis por alagamentos nas cidades é o lixo, acarreta entupimento de bueiros e canalizações, levando a dispersar doenças e incômodo à população em geral.

O âmagô desta questão é a consciência. Nos dias de hoje coletamos informações prontas e não levamos questões reflexivas ao cotidiano agitado e quase atropelado pelo que não nos afeta tanto por enquanto.

O que seremos no futuro? Seremos seres abastecidos virtualmente, mas submergidos no lixo? A grande preocupação é que a realidade virtual se sobreponha à realidade real!

A vida no planeta como a conhecemos acabará de forma dramática, e somente através desse processo de conscientização poderemos garantir a sustentabilidade ambiental. Sustentabilidade: “Pensar globalmente, agir localmente”. Não é um simples papelzinho. É questão de educação, caráter, reflexão!

(Mario Sergio Cortella. <http://mariosergiocortella.com>. Adaptado)

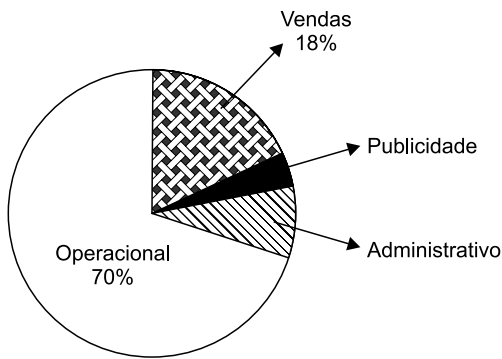
04. A frase do filósofo Immanuel Kant, logo no título, chama a atenção para o fato de que o autor, Mario Sergio Cortella,

- (A) condena as regras limitadoras da liberdade individual.
- (B) faz o relato de algumas de suas experiências.
- (C) satiriza a falta de aplicação prática da filosofia.
- (D) oferece um conselho ao leitor do texto.
- (E) desdenha do discurso em prol da sustentabilidade.

- 05.** Ao dizer que “não é um simples papelzinho”, o autor quer reforçar a ideia defendida no texto de que
- (A) a atitude de um único indivíduo resulta do aprendizado de todo um grupo.
 - (B) um pequeno papel é fruto do trabalho conjunto de muitas pessoas.
 - (C) um ato isolado pode ter consequências que afetam a coletividade.
 - (D) os recursos naturais estão fadados a se extinguir em um futuro próximo.
 - (E) a reciclagem do lixo deve ser o tema prioritário dos debates filosóficos.
- 06.** A opinião do autor está expressa nesta frase:
- (A) As intenções são mais importantes do que as ações.
 - (B) O homem deve refletir melhor sobre suas atitudes cotidianas.
 - (C) As informações obtidas no meio virtual devem ser ignoradas.
 - (D) O fim da realidade virtual garantirá a sustentabilidade ambiental.
 - (E) O principal papel de cada indivíduo é saber escolher seus governantes.
- 07.** O vocábulo **Mas**, no início do segundo parágrafo, sinaliza que a atitude de culpar terceiros por nossas faltas é
- (A) decente.
 - (B) louvável.
 - (C) inevitável.
 - (D) irrelevante.
 - (E) reprovável.
- 08.** Estão empregadas como sinônimas, no segundo parágrafo, as palavras
- (A) simples ... míseros
 - (B) alagamentos ... entupimento
 - (C) doenças ... incômodo
 - (D) mundo ... cidade
 - (E) lixo ... bueiro
- 09.** Ao substituir-se a forma verbal destacada na frase “Tudo o que não **puder** contar como faz, não faça!” pela forma do verbo **ir** flexionada no modo e no tempo correspondentes, tem-se:
- (A) vai
 - (B) for
 - (C) irá
 - (D) vá
 - (E) fosse
- 10.** A frase “Ao jogarmos um simples papelzinho pela janela não temos consciência alguma de que não se trata apenas de um simples papelzinho.” estará pontuada em conformidade com a norma-padrão da língua portuguesa com o acréscimo de uma vírgula após o seguinte trecho:
- (A) Ao jogarmos
 - (B) Ao jogarmos um simples papelzinho pela janela
 - (C) Ao jogarmos um simples papelzinho pela janela não temos
 - (D) Ao jogarmos um simples papelzinho pela janela não temos consciência
 - (E) Ao jogarmos um simples papelzinho pela janela não temos consciência alguma de que não se trata apenas

11. Uma pessoa utilizou metade do dinheiro que tinha em sua carteira para comprar um livro. Com $\frac{1}{4}$ do valor restante, comprou um lanche, e ainda restaram R\$ 45,00. O valor em dinheiro que essa pessoa tinha na carteira era
- (A) R\$ 120,00.
(B) R\$ 115,00.
(C) R\$ 110,00.
(D) R\$ 105,00.
(E) R\$ 100,00.
12. Uma empresa recebeu, em certo dia, 48 correspondências, sendo $\frac{1}{6}$ delas apenas propagandas. Das correspondências restantes, $\frac{1}{5}$ foi encaminhado ao setor financeiro, e 14 delas, ao setor administrativo. A fração que as demais correspondências representam, em relação ao número total de correspondências recebidas naquele dia, é
- (A) $\frac{1}{8}$
(B) $\frac{1}{5}$
(C) $\frac{1}{4}$
(D) $\frac{3}{8}$
(E) $\frac{2}{5}$
13. Uma pessoa possui 480 folhas de papel sulfite, sendo que cada folha ou é da cor branca ou é da cor azul, de modo que a razão entre o número de folhas azuis e o número de folhas brancas é $\frac{3}{5}$. Após ela utilizar 30 folhas azuis, a razão entre o número de folhas azuis e o número de folhas brancas passará a ser
- (A) $\frac{1}{3}$
(B) $\frac{2}{5}$
(C) $\frac{1}{2}$
(D) $\frac{3}{4}$
(E) $\frac{4}{5}$

14. O gráfico mostra a distribuição, por setores, dos funcionários de uma editora.



Sabendo-se que o número de funcionários dos setores administrativo e de publicidade juntos é de 18 pessoas, então o número de funcionários do setor operacional supera o número de funcionários do setor de vendas em

- (A) 86 pessoas.
 (B) 84 pessoas.
 (C) 82 pessoas.
 (D) 80 pessoas.
 (E) 78 pessoas.
15. Uma torneira goteja sem parar, desperdiçando 2 litros de água a cada 44 minutos. Mantendo sempre esse mesmo gotejamento, o número aproximado de litros de água que serão desperdiçados em 4 horas será
- (A) 11.
 (B) 10.
 (C) 9.
 (D) 8.
 (E) 7.
16. A tabela mostra algumas informações sobre um estoque: número de unidades que havia, quantas unidades saíram e quantas permanecem, após um balanço semanal.

Item	Nº inicial de unidades em estoque	Nº de unidades que saíram	Nº de unidades que permanecem
Pastas	58		
Pacotes de papel sulfite		34	
Caixas de canetas	12		7
Total de itens	150	85	?

O número total de itens que permanecem nesse estoque é

- (A) 70.
 (B) 65.
 (C) 60.
 (D) 55.
 (E) 50.

17. Uma construtora disponibiliza, para seus funcionários, óculos e capacetes, no total de 150 peças. Sabe-se que o número de óculos supera o número de capacetes em 10 unidades. Assim, o número de óculos disponíveis é

- (A) 60.
- (B) 65.
- (C) 70.
- (D) 75.
- (E) 80.

18. A fechadura de um armário foi trocada, e junto com ela vieram 2 chaves originais. O valor da fechadura com as duas chaves originais foi R\$ 115,00. Porém foram necessárias mais cópias dessas chaves, e o valor final, incluindo a fechadura com as chaves originais mais as cópias, foi R\$ 155,00. Considerando que o número final de chaves, incluindo as cópias e as originais, foi 7, é correto dizer que o valor de cada cópia foi

- (A) R\$ 5,70.
- (B) R\$ 6,00.
- (C) R\$ 7,30.
- (D) R\$ 8,00.
- (E) R\$ 8,20.

19. A tabela mostra alguns dados sobre o número de relatórios preenchidos por um funcionário durante uma semana.

	Nº de relatórios
Segunda-feira	x
Terça-feira	9
Quarta-feira	2x
Quinta-feira	7
Sexta-feira	4

Sabendo-se que a média diária de relatórios preenchidos nesses 5 dias foi igual a 7, então o número de relatórios preenchidos na quarta-feira foi

- (A) 6.
- (B) 8.
- (C) 10.
- (D) 12.
- (E) 14.

20. A figura mostra uma sala e um banheiro (B), cujas medidas indicadas estão em metros.

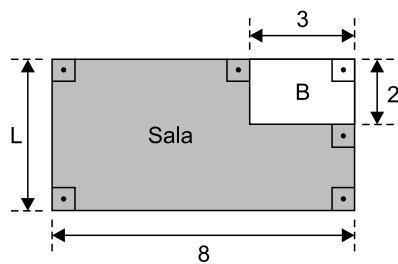


Figura fora de escala

Sabe-se que a área da sala é igual a 7 vezes a área do banheiro. Então, a medida do lado da sala, indicada na figura pela letra L, é

- (A) 6,5 m.
- (B) 6,0 m.
- (C) 5,5 m.
- (D) 5,0 m.
- (E) 4,5 m.

R A S C U N H O

ATUALIDADES

21. Sem alcançar um acordo no Congresso, a administração Donald Trump enfrenta, a partir deste sábado (22 de dezembro), sua terceira paralisação parcial, que fechará um quarto do governo federal, colocará 380 mil empregados em férias coletivas e fará outros 420 mil trabalharem sem receber. O Congresso tinha até sábado para passar leis ou aprovar uma medida provisória de interesse do governo. Senadores republicanos e democratas se reuniram desde o meio-dia desta sexta (21 de dezembro), mas não chegaram nem sequer a iniciar a votação da lei.

(Folha de S.Paulo, 22 dez.18.
Disponível em: <<https://goo.gl/yYSyFG>>. Adaptado)

O impasse entre o Congresso e Donald Trump está relacionado à polêmica proposta presidencial de

- (A) ataque militar dos EUA tendo a Coreia do Norte como alvo.
- (B) construção de um muro na fronteira entre os EUA e o México.
- (C) retomada das relações diplomáticas entre os EUA e Cuba.
- (D) boicote às relações comerciais entre os EUA e a China.
- (E) retirada das tropas norte-americanas da Síria e do Iraque.

22. O presidente afirmou nesta quarta-feira (23 de janeiro) que não deixará a presidência, culpou os EUA por “mais uma tentativa de golpe” e anunciou o rompimento das relações com os EUA. As declarações, feitas durante discurso de 58 minutos, ocorreram momentos depois que o líder opositor e presidente da Assembleia Nacional, Juan Guaidó, se autodeclarou presidente interino.

(UOL, 23 jan.19. Disponível em: <<https://goo.gl/pw2ebo>>. Adaptado)

A notícia aborda a crise política

- (A) no Paraguai.
- (B) na Nicarágua.
- (C) na Guatemala.
- (D) na Colômbia.
- (E) na Venezuela.

23. A primeira-ministra do Reino Unido, Theresa May, enfrentará nesta quarta-feira (12 de dezembro) um voto de desconfiança de seus próprios correligionários do Partido Conservador, em nova reviravolta da barroca trama política que mobiliza o país. A imprensa local noticia que ao menos 48 parlamentares da legenda submeteram a um comitê partidário cartas nas quais questionam a liderança de May.

(Folha de S.Paulo, 12 dez.18.
Disponível em: <<https://goo.gl/1q5SrT>>. Adaptado)

O impasse entre a primeira-ministra e os membros de seu próprio partido teve como pano de fundo

- (A) a crise econômica que vive o Reino Unido e o consequente aumento do desemprego.
- (B) a possível abertura do país aos imigrantes em geral e, em especial, aos refugiados sírios.
- (C) o veto imposto pela chefe de governo ao Orçamento pouco enxuto proposto pelo Parlamento.
- (D) a defesa que a líder conservadora fez de pautas historicamente associadas aos trabalhistas.
- (E) a dificuldade do Reino Unido em negociar e aprovar a sua saída da União Europeia.

24.

TEXTO 1

A cantora, uma das rainhas do rádio, morreu aos 89 anos no fim da noite deste sábado (29 de setembro) em São Paulo. Após 34 dias de internação, ela não resistiu a uma infecção generalizada e a uma parada cardíaca. A cantora fez um estrondoso sucesso entre as décadas de 1950 e 1960.

(G1, 30 set.18. Disponível em: <<https://goo.gl/TDLfzP>>. Adaptado)

TEXTO 2

A atriz morreu nesta quarta-feira (5 de setembro) aos 92 anos em São Paulo, onde ela estava internada. Em uma carreira de mais de 70 anos dedicada aos palcos e à TV, viveu em 1988 o papel que a eternizou na teledramaturgia brasileira. Após 192 capítulos da novela “Vale tudo”, a vilã interpretada pela atriz carioca morria com três tiros e fazia o país inteiro se perguntar: “Quem matou Odete Roitman?”

(G1, 5 set.18. Disponível em: <<https://goo.gl/8Z1PJF>>. Adaptado)

Os textos 1 e 2 abordam, respectivamente, os falecimentos de

- (A) Miucha e Eva Todor.
- (B) Nara Leão e Marília Pêra.
- (C) Angela Maria e Beatriz Segall.
- (D) Inezita Barroso e Dercy Gonçalves.
- (E) Dona Ivone Lara e Tônia Carrero.

25. Pela primeira vez na história, uma aeronave conseguiu realizar um pouso e registrar imagens do lado oculto da Lua – a parte do satélite que não pode ser vista da Terra. O feito foi realizado por uma sonda espacial nesta quinta-feira (3 de janeiro). A sonda é composta por um veículo de exploração espacial que, a partir de agora, estudará a estrutura da superfície lunar e a composição mineral do solo. Além disso, será realizada a primeira observação astronômica por rádio de baixa frequência, ou como é chamada, radioastronomia.

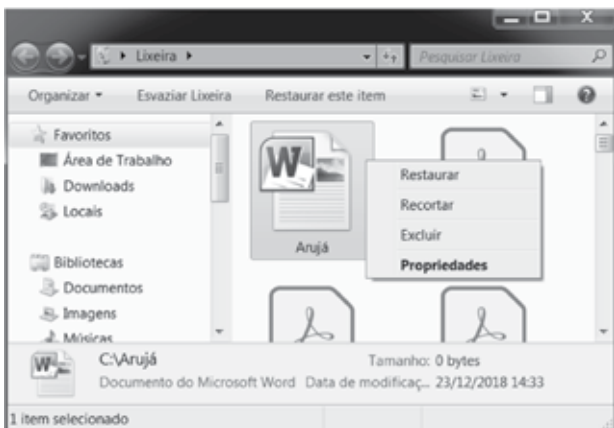
(iG, 3 jan.19. Disponível em: <<https://goo.gl/EE1v3M>>. Adaptado)

O país responsável pelo envio da sonda espacial à lua foi

- (A) os EUA.
- (B) a Rússia.
- (C) a China.
- (D) o Japão.
- (E) a Alemanha.

NOÇÕES DE INFORMÁTICA

26. Considere a janela do MS-Windows 7, em sua configuração original, que mostra o arquivo Arujá selecionado e assinale a alternativa correta.



Ao clicar em

- (A) Recortar fará com que o arquivo seja copiado para outra pasta.
- (B) Restaurar fará com que o arquivo seja transferido para a pasta C:\Arujá\
- (C) Restaurar fará com que o arquivo seja transferido para o diretório raiz C:\
- (D) Restaurar fará com que o Windows pergunte se o usuário quer mover e substituir o mesmo arquivo ainda existente na pasta origem C:\Arujá\
- (E) Excluir fará com que o arquivo seja enviado para a Lixeira.

27. Observe as palavras digitadas e formatadas em um documento do MS-Word 2010, na sua configuração padrão.

AJUDANTE GERAL OFICIAL ADMINISTRATIVO
 ASSISTENTE DE SECRETARIA CHEFE DE DIVISÃO
 DIRETOR DE EDUCAÇÃO BÁSICA SUPERVISOR DE ENSINO

Assumindo que não há erro de ortografia ou gramática, assinale a alternativa que contém todas as palavras sublinhadas.

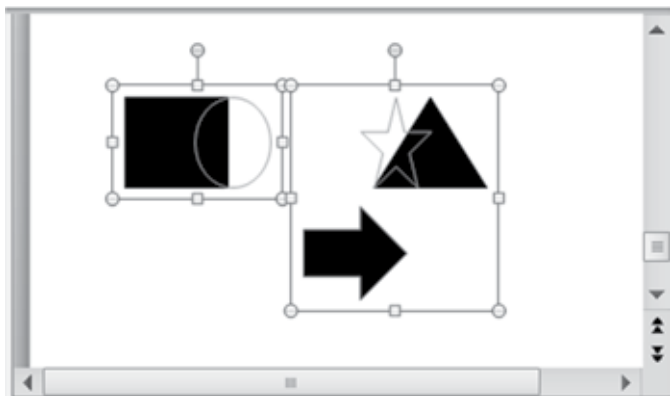
- (A) AJUDANTE GERAL.
- (B) DIRETOR, ADMINISTRATIVO, CHEFE.
- (C) OFICIAL, DIVISÃO, SUPERVISOR.
- (D) EDUCAÇÃO, OFICIAL, DIVISÃO.
- (E) ASSISTENTE, SECRETARIA, SUPERVISOR.

28. Considerando que foi digitado 3500 na célula E5 de uma planilha do MS-Excel 2010, na sua configuração padrão, assinale a alternativa que contém o resultado da fórmula a seguir:

=SE(E5>750;SE(E5>2500;SE(E5>3500;E5*5%;E5*10%);E5*15%);E5*20%)

- (A) 175
- (B) 350
- (C) 525
- (D) 700
- (E) 3500

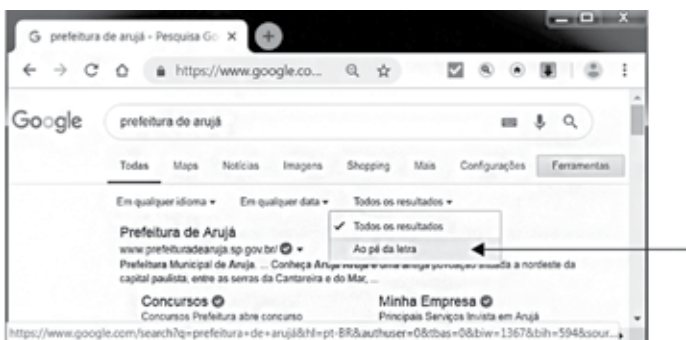
29. Considere as autoformas selecionadas em um slide do MS-PowerPoint 2010, na sua configuração padrão.



O usuário pretende aplicar uma animação de entrada que será ativada após o clique do mouse. Assinale a alternativa com a quantidade de animações que aparecerão no painel de animação:

- (A) 1.
- (B) 2.
- (C) 3.
- (D) 4.
- (E) 5.

30. Observe a pesquisa efetuada no Google exibida na figura a seguir:



Ao clicar na opção indicada pela seta, o usuário fará com que o Google traga os mesmos resultados da pesquisa

- (A) !prefeitura de arujá!
- (B) "prefeitura de arujá"
- (C) @prefeitura de arujá@
- (D) #prefeitura de arujá#
- (E) \$prefeitura de arujá\$

CONHECIMENTOS ESPECÍFICOS

31. De acordo com o Código de Ética dos Profissionais de Enfermagem, o auxiliar de enfermagem tem o direito de

- (A) recusar-se a executar a prescrição de enfermagem em caso de identificação de erro desta.
- (B) divulgar fato de que tenha tomado conhecimento em razão de sua atividade profissional.
- (C) recusar-se a executar prescrição médica em que não constem a assinatura e o número de registro do profissional que a prescreveu.
- (D) negar-se a ser filmado, fotografado e exposto em mídias sociais durante o desempenho de suas atividades profissionais.
- (E) promover ou participar de prática destinada a antecipar a morte da pessoa, quando esta consentir, de forma espontânea, sua realização.

32. Considerando que, ao realizar as anotações no prontuário do cliente/paciente, o auxiliar de enfermagem deve utilizar a terminologia adequada, observe o quadro a seguir e relacione as duas colunas de modo a tornar verdadeira a associação dos termos técnicos utilizados para descrição de sinais e sintomas do sistema urinário e seus significados.

Termo técnico		Significado	
a.	Anúria	I	Diminuição do volume urinário (entre 100 e 500 mL/24 horas).
b.	Polaciúria	II	Aumento do volume urinário, geralmente com volume nas 24 horas.
c.	Poliúria	III	Vontade frequente de urinar, sem aumento da diurese em 24 horas.
d.	Oligúria	IV	Ausência ou diminuição do volume urinário (menos de 100 mL/24 horas).

- (A) a-IV; b-III; c-II; d-I.
- (B) a-I; b-II; c-III; d-IV.
- (C) a-IV; b-II; c-III; d-I.
- (D) a-III; b-IV; c-I; d-II.
- (E) a-I; b-IV; c-III; d-II.

Para responder às questões de números **33** e **34**, considere o seguinte caso.

R.E., 62 anos, masculino, está internado, há 12 horas, com diagnóstico de erisipela na face anterior da perna direita. Ao executar a prescrição médica, o auxiliar de enfermagem (AE) observou que, entre outros medicamentos, o paciente deveria receber:

Penicilina cristalina	2.500.000 UI	} EV, 4/4 horas.
Soro fisiológico	100 mL	
Correr em 30 minutos.		

Para o preparo e administração dessa medicação, o AE utilizou frascos de penicilina cristalina com 10.000.000 UI, 8 mL de diluente e equipo de microgotas. Após aplicar a medicação, o AE reforçou as orientações dadas pelo enfermeiro e realizou os registros no prontuário.

33. Para o preparo e administração da medicação, o volume a ser aspirado do frasco (V) e a velocidade de gotejamento do soro (G) serão, correta e respectivamente, de

- (A) V = 2,0 mL; G = 205 mcg/min.
- (B) V = 2,0 mL; G = 68 mcg/min.
- (C) V = 2,5 mL; G = 205 mcg/min.
- (D) V = 2,5 mL; G = 113 mcg/min.
- (E) V = 4,0 mL; G = 205 mcg/min.

34. Ao prestar os cuidados de enfermagem, o AE deve reforçar a importância de que R.E. permaneça

- (A) sentado por períodos de até uma hora, intercalados com deambulação por 30 minutos, durante o dia.
- (B) em repouso no leito, com o membro inferior direito elevado.
- (C) em decúbito lateral direito, com os membros inferiores flexionados.
- (D) sentado em poltrona confortável, com os pés apoiados no chão, durante o dia.
- (E) em repouso, com o membro inferior direito apoiado e mais baixo do que o quadril, nas primeiras 48 horas de internação.

35. Ao realizar o curativo de M.E., 48 anos, sexo masculino, submetido à gastrectomia parcial há dois dias, o auxiliar de enfermagem deve realizar a limpeza da ferida utilizando torundas de

- (A) gaze estéril, umedecidas em solução alcoólica de iodo a 1% (PVP-I).
- (B) algodão hidrófilo, embebidas em soro fisiológico 0,9%.
- (C) gaze limpa, umedecida em solução degermante à base de clorexedina.
- (D) algodão estéril, embebido em solução de hipoclorito de sódio a 1%.
- (E) gaze estéril, embebidas em soro fisiológico 0,9%.

36. Ao realizar visita domiciliar a um usuário submetido à safenectomia bilateral há dois dias, o auxiliar de enfermagem deve enfatizar, entre outros cuidados, que a meia elástica deve ser

- (A) retirada apenas para o banho.
- (B) usada somente após a retirada dos pontos.
- (C) usada dia e noite, até a retirada dos pontos.
- (D) calçada, preferencialmente, antes de o paciente sair da cama pela manhã.
- (E) usada pela manhã, por seis horas consecutivas.

37. C.N., 28 anos, sexo masculino, fumante, usuário de maconha há dez anos, em tratamento para tuberculose pulmonar há 32 dias, compareceu à unidade básica de saúde (UBS) para coletar uma amostra de escarro para controle do tratamento. Ao realizar os procedimentos de coleta de material, o auxiliar de enfermagem deve

- (A) certificar-se de que C.N. tenha se alimentado bem na última hora.
- (B) solicitar que C.N. faça a higiene oral imediatamente antes da coleta de escarro, complementando a escovação dos dentes com o enxágue bucal com solução antisséptica.
- (C) lavar as mãos antes de identificar e manipular o pote que será utilizado para a coleta de material.
- (D) oferecer o pote para a coleta de material, tampando-o e identificando-o corretamente após a obtenção da amostra de escarro.
- (E) coletar 2 a 3 mL de escarro e, após obtenção da amostra, fixar uma etiqueta na tampa do pote contendo o nome completo e RG de C.N. e a data da coleta do material.

38. A sala de vacinas da unidade básica de saúde (UBS) está equipada com câmara refrigerada para o armazenamento dos imunobiológicos utilizados para imunização da população. Ao receber as vacinas contra o sarampo que serão utilizadas em campanha de vacinação nas escolas, o auxiliar de enfermagem deve organizá-las em bandeja, acondicionando-as

- (A) no congelador, até 24 horas antes de sua utilização.
- (B) em qualquer parte do compartimento interno do equipamento.
- (C) na gaveta inferior do equipamento.
- (D) no congelador, até duas horas antes de sua utilização.
- (E) na parte inferior da porta do equipamento.

39. Ao aplicar a vacina tríplice viral, o auxiliar de enfermagem deve explicar que essa vacina protege contra

- (A) o sarampo, a caxumba e a rubéola.
- (B) a difteria, a coqueluche e o tétano.
- (C) o rotavírus, o sarampo e a rubéola.
- (D) o *Haemophilus influenzae*, a hepatite B e o sarampo.
- (E) o tétano, o rotavírus e a varicela.

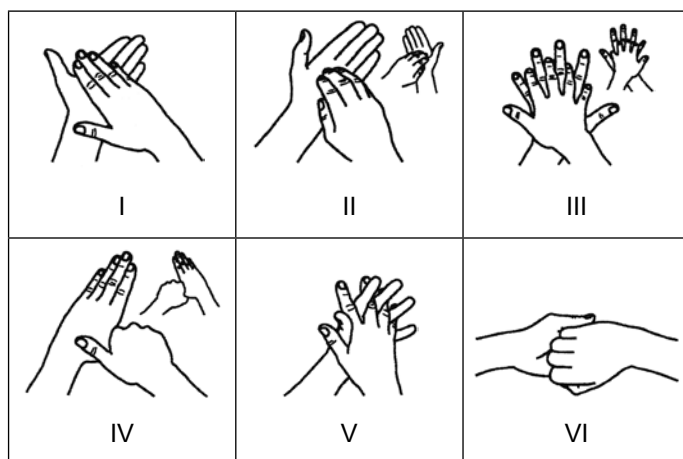
40. Assinale a alternativa correta a respeito da notificação compulsória de doenças no Brasil.

- (A) O acidente vascular cerebral (AVC) e a hanseníase são exemplos de agravos à saúde que devem ser notificados.
- (B) A notificação compulsória imediata deve ser realizada pelo profissional de saúde que prestar o primeiro atendimento ao paciente, em até 72 (setenta e duas) horas após o atendimento.
- (C) A comunicação de doença, agravo ou evento de saúde pública de notificação compulsória pode ser realizada à autoridade de saúde por qualquer cidadão que deles tenha conhecimento.
- (D) No Brasil, todas as doenças transmissíveis são de notificação compulsória.
- (E) A notificação compulsória de agravos e doenças de interesse de saúde pública deve ser realizada, exclusivamente, por médicos e enfermeiros.

41. Para garantir bons resultados, ao realizar o processo de desinfecção química de um material ou equipamento, é importante observar que

- (A) o interior de tubos e conexões, quando fizerem parte do equipamento processado, sejam mantidos totalmente preenchidos com ar.
- (B) os recipientes utilizados para a imersão do material em solução desinfetante sejam lavados com água e sabão a cada troca de solução.
- (C) após a imersão em solução desinfetante, os produtos utilizados em assistência respiratória sejam enxaguados com soro fisiológico por, pelo menos, 15 minutos.
- (D) os equipamentos desinfetados sejam secos com papel-toalha duplo, após enxágue abundante com água limpa.
- (E) quando utilizado o hipoclorito de sódio, o material seja imerso na solução em contêineres plásticos transparentes, sem tampa.

42. As precauções padrão incluem medidas como a higienização das mãos antes e após o contato com o cliente/paciente. Ao realizá-las, o auxiliar de enfermagem deve executar as etapas representadas nas ilustrações a seguir.



Assinale a alternativa que apresenta a sequência correta com que esses movimentos devem ser realizados.

- (A) I, II, III, IV, V, VI.
- (B) V, III, I, II, IV, VI.
- (C) IV, V, VI, I, II, III.
- (D) I, III, V, VI, IV, II.
- (E) VI, V, IV, III, II, I.

Para responder às questões de números 43 e 44, leia atentamente o relato a seguir.

M. O., gestante com 26 semanas de idade gestacional, ao acompanhar sua mãe em consulta na unidade básica de saúde (UBS), solicitou que a auxiliar de enfermagem (AE) aferisse sua pressão arterial. Sabendo que a usuária possuía gatos em casa, a AE, ao realizar o procedimento, aproveitou a oportunidade para reforçar a importância em adotar as medidas de prevenção da toxoplasmose.

43. Entre outros cuidados, para aferir a pressão arterial a auxiliar de enfermagem deve solicitar que M.O. permaneça

- (A) na posição supina.
- (B) em decúbito lateral direito.
- (C) em decúbito dorsal horizontal.
- (D) sentada, com os pés apoiados no chão.
- (E) em pé.

44. Além de evitar o contato com as fezes dos gatos, as medidas de prevenção da toxoplasmose compreendem, entre outros itens,

- (A) colocar telas em janelas.
- (B) usar repelentes durante o dia.
- (C) consumir leite e seus derivados, *in natura*, sem qualquer tipo de processamento industrial.
- (D) evitar banhar-se em represas e lagoas de água doce.
- (E) evitar a ingestão de carnes cruas, malcozidas ou malpassadas.

45. No Brasil, com o propósito de prevenir a anemia, as crianças, a partir dos seis meses de idade, até então em aleitamento materno exclusivo, passam a ingerir uma dose de sulfato ferroso por dia até completarem 24 meses de idade. As mães devem ser orientadas que, em função do uso prolongado do medicamento, essa suplementação pode ocasionar o surgimento de efeitos colaterais, tais como:

- (A) náuseas e lágrimas de cor avermelhada.
- (B) hipertermia e dor abdominal.
- (C) vômitos e constipação intestinal.
- (D) soluços e regurgitação.
- (E) diarreia e cor amarelada da pele.

46. Como membro da equipe de saúde da família, o auxiliar de enfermagem participa do grupo de educação em saúde para hipertensos. Ao conversar com os participantes, deve enfatizar que a atividade física auxilia no controle da pressão arterial, devendo ser realizada, no mínimo:

- (A) 30 minutos por dia de atividade física moderada, de forma contínua ou acumulada, em duas vezes de 15 minutos ou três vezes de 10 minutos, em 5 a 7 dias da semana.
- (B) 15 minutos por dia de atividade física intensa, de forma contínua, três vezes por semana.
- (C) 20 minutos por dia, pela manhã, de atividade física leve, duas vezes por semana.
- (D) 15 minutos de atividade física leve, de forma contínua, duas vezes por semana.
- (E) 30 minutos de atividade física intensa, de forma contínua ou acumulada, em duas vezes com 15 minutos de duração ou três vezes de 10 minutos, uma vez por semana.

47. Idosa, 65 anos, diabética, fazendo uso regular de insulina pela manhã e à noite, compareceu à UBS para coletar sangue. Ao reconhecê-la, a auxiliar de enfermagem priorizou sua coleta, pois, devido ao jejum, pode vir a apresentar um episódio de hipoglicemia que, entre outros sinais e sintomas, caracteriza-se por

- (A) rubor facial e náuseas.
- (B) sede e cefaleia.
- (C) suor frio e pegajoso e fraqueza.
- (D) taquicardia e hipertermia.
- (E) hálito com odor de cetona e sede.

48. Na área de abrangência da unidade básica de saúde existem diversas serralherias, marmorarias e marcenarias cujos processos produzem altos níveis de pressão sonora. Ao realizar atividades de educação em saúde com os trabalhadores desses locais, é importante enfatizar a necessidade de adotarem medidas de proteção porque a exposição ocupacional ao ruído pode ocasionar

- (A) câncer de cérebro.
- (B) perda auditiva.
- (C) labirintite.
- (D) epilepsia.
- (E) acidente vascular cerebral isquêmico.

49. As quedas representam um grande problema para as pessoas idosas, dadas as suas consequências. Idosos, seus familiares e cuidadores devem ser orientados sobre as medidas de prevenção que incluem, entre outros cuidados,

- (A) o uso de cadeiras sem braços.
- (B) manter as bordas de tapetes dobradas.
- (C) utilizar iluminação frontal em escadas.
- (D) utilizar camas e vasos sanitários baixos.
- (E) sinalizar o último degrau em escadas.

50. Ao descer as escadas em uma unidade básica de saúde, uma usuária escorregou e caiu, torcendo o tornozelo que, imediatamente, começou a ficar edemaciado. Ao avaliar a lesão, o médico constatou que se tratava de uma entorse. Frente a essa situação, os cuidados de enfermagem incluem, entre outras ações, a

- (A) aplicação de gelo no local.
- (B) aplicação de bolsa de água quente no local.
- (C) punção de veia periférica.
- (D) administração de anti-inflamatório por via parenteral.
- (E) manutenção do membro afetado mais baixo do que o nível do corpo.

