



PREFEITURA MUNICIPAL DE ITAPEVI

ESTADO DE SÃO PAULO

CONCURSO PÚBLICO

040. PROVA OBJETIVA

CONTADOR

- ◆ Você recebeu sua folha de respostas e este caderno contendo 50 questões objetivas.
- ◆ Confira seus dados impressos na capa deste caderno e na folha de respostas.
- ◆ Quando for permitido abrir o caderno, verifique se está completo ou se apresenta imperfeições. Caso haja algum problema, informe ao fiscal da sala.
- ◆ Leia cuidadosamente todas as questões e escolha a resposta que você considera correta.
- ◆ Marque, na folha de respostas, com caneta de tinta preta, a letra correspondente à alternativa que você escolheu.
- ◆ A duração da prova é de 3 horas, já incluído o tempo para o preenchimento da folha de respostas.
- ◆ Só será permitida a saída definitiva da sala e do prédio após transcorridos 75% do tempo de duração da prova.
- ◆ Ao sair, você entregará ao fiscal a folha de respostas e este caderno, podendo levar apenas o rascunho de gabarito, localizado em sua carteira, para futura conferência.
- ◆ Até que você saia do prédio, todas as proibições e orientações continuam válidas.

AGUARDE A ORDEM DO FISCAL PARA ABRIR ESTE CADERNO DE QUESTÕES.

Nome do candidato _____

RG _____

Inscrição _____

Prédio _____

Sala _____

Carteira _____

CONHECIMENTOS GERAIS

LÍNGUA PORTUGUESA

Leia o texto para responder às questões de números **01** a **09**.

“Tire suas próprias conclusões”

Essa é a frase que mais tenho ouvido recentemente. Passada a euforia de uma notícia qualificada como “bomba”, logo os atores de uma das partes corriam a público para disponibilizar a íntegra daquilo que antes foi veiculado em partes.

É preciso saber de tudo e entender de tudo. É preciso tirar as próprias conclusões para não depender de ninguém, e é esse o grande e contraditório imperativo dos nossos tempos. É uma ordem a uma experimentação libertária, e uma quase contradição do termo. O imperativo que liberta também aprisiona: você só passa a ser, ou a pertencer, se tiver uma conclusão. Sobre qualquer coisa.

Nas últimas décadas psicanalistas se debruçaram sobre as mudanças nos arranjos produtivos e sociais de cada período histórico para compreender e nomear as formas de sofrimento decorrentes delas. A revolução industrial, a divisão social do trabalho, a urbanização desenfreada e as guerras, por exemplo, fizeram explodir o número de sujeitos impacientes, irritadiços e perturbados com a velocidade das transformações e suas consequentes perdas de referências simbólicas.

Pensando sobre o imperativo “Leia/Veja/Assista” e “Tire suas próprias conclusões”, começo a desconfiar de que estamos diante de uma nova forma de sofrimento relacionado a um mal-estar ainda não nomeado.

Afinal, que tipo de sujeito está surgindo de nossa nova organização social? O que a vida em rede diz sobre as formas como nos relacionamos com o mundo? Que tipos de valores surgem dali? E, finalmente, que tipo de sofrimento essa vida em rede tem causado?

Vou arriscar e sair correndo, já sob o risco de percorrer um campo que não é meu: estamos vendo surgir o sujeito preso à ideia da obrigação de ter algo a dizer. Ao longo dos séculos essa angústia era comum aos chamados formadores de opinião e artistas, responsáveis por reinterpretar o mundo. Hoje basta ter um celular com conexão 3G para ser chamado a opinar sobre qualquer coisa. Pensamos estar pensando mesmo quando estamos apenas terceirizando convicções ao compartilhar aquilo que não escrevemos.

É uma nova versão de um conflito descrito por Clarice Lispector a respeito da insuficiência da linguagem. Algo como: “Não só não consigo dizer o que penso como o que penso passa a ser o que digo”. Se vivesse nas redes que atribuem a ela frases que jamais disse, o “dizer” e o “pensar” teriam a interlocução de um outro verbo: “compartilhar”.

(Matheus Pichonelli, *Carta Capital*. 18.03.2016.
www.cartacapital.com.br. Adaptado)

01. Na opinião do autor, o mal-estar provado pelos indivíduos atualmente está relacionado com
 - (A) a obrigação de produzir conteúdos que sejam instigantes e inéditos.
 - (B) o imperativo de consultar fontes de informação dignas de credibilidade.
 - (C) a exigência de ter de emitir uma opinião sobre qualquer assunto.
 - (D) a perda de referências simbólicas que impulsionou a revolução industrial.
 - (E) o fato de não haver valores éticos sólidos balizando os formadores de opinião.
02. No contexto do segundo parágrafo, a “experimentação libertária” refere-se
 - (A) a uma pretensa liberdade de interpretação sem intermediários.
 - (B) ao acesso aos canais de comunicação mais atualizados.
 - (C) a uma característica peculiar às notícias impactantes.
 - (D) à experiência de criar publicações que gerem controvérsia.
 - (E) à liberdade que a imprensa tem de defender sua ideologia.
03. No sexto parágrafo, o verbo **pensar** em “Pensamos estar pensando...” veicula, em cada ocorrência respectivamente, sentidos que equivalem a
 - (A) lembrar e corroborar uma opinião.
 - (B) refutar uma ideia e elucidar.
 - (C) induzir a erro e suscitar uma impressão.
 - (D) fantasiar e agir com intransigência.
 - (E) supor e conceber uma ideia.
04. Da menção ao conflito descrito por Clarice Lispector, no último parágrafo, deduz-se o seguinte:
 - (A) para o autor, Clarice Lispector estava equivocada ao ignorar a importância do “compartilhar” como intermediário entre o “dizer” e o “pensar”.
 - (B) ao se exprimir com exatidão o pensamento, a insuficiência da linguagem é superada, ainda que provisoriamente.
 - (C) quando o pensamento é traduzido em palavras, e essas palavras são compartilhadas, exaltam-se os valores morais da sociedade.
 - (D) não é possível expressar com exatidão o que pensamos, e nos iludimos ao crer que o que dizemos equivale ao que pensamos.
 - (E) o “pensar” adquire valor a partir do momento em que encontra um equivalente no “dizer” e assume forma ao ser compartilhado.

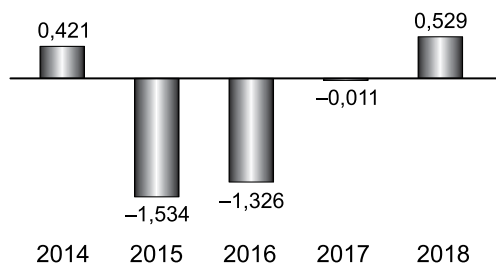
05. Assinale a alternativa em que a segunda expressão destacada denota, no contexto, um evento posterior ao designado pela primeira expressão destacada.
- (A) Passada a euforia de uma notícia **qualificada** como “bomba”, logo os atores de uma das partes **corriam** a público para disponibilizar a íntegra daquilo que antes foi veiculado em partes. (1º parágrafo)
- (B) É preciso **saber** de tudo e **entender** de tudo. (2º parágrafo)
- (C) O imperativo que **liberta** também **aprisiona**: você só passa a ser, ou a pertencer, se tiver uma conclusão. (2º parágrafo)
- (D) **Pensando** sobre o imperativo “Leia/Veja/Assista” e “Tire suas próprias conclusões”, começo a desconfiar de que **estamos** diante de uma nova forma de sofrimento relacionado a um mal-estar ainda não nomeado. (4º parágrafo)
- (E) O que a vida em rede **diz** sobre as formas como **nos relacionamos** com o mundo? (5º parágrafo)
06. No trecho – ... **você só** passa a ser, ou a pertencer, **se** tiver uma conclusão. (2º parágrafo) –, os vocábulos **você, só e se** contêm, respectivamente, os seguintes sentidos:
- (A) especificação; limitação; concessão.
- (B) indeterminação; isolamento; modo.
- (C) identificação; condição; reciprocidade.
- (D) indefinição; restrição; condição.
- (E) apelo; ênfase; finalidade.
07. A passagem do texto que, após o acréscimo da vírgula, está de acordo com a norma-padrão é:
- (A) Essa é a frase que, mais tenho ouvido recentemente. (1º parágrafo)
- (B) É preciso tirar as próprias conclusões, para não depender de ninguém... (2º parágrafo)
- (C) Nas últimas décadas psicanalistas se debruçaram, sobre as mudanças nos arranjos produtivos e sociais de cada período histórico... (3º parágrafo)
- (D) Ao longo dos séculos essa angústia era comum aos chamados, formadores de opinião e artistas, responsáveis por reinterpretar o mundo. (6º parágrafo)
- (E) Hoje basta ter um celular com conexão 3G para ser chamado, a opinar sobre qualquer coisa. (6º parágrafo)
08. Assinale a alternativa em que o trecho entre colchetes substitui o destacado, independentemente do sentido e de acordo com a norma-padrão de concordância.
- (A) Essa é a frase que mais **tenho ouvido** recentemente. [tem sido ouvido por mim]
- (B) ... corriam a público para disponibilizar a íntegra **daquilo que antes foi veiculado** em partes. [das notícias que antes se veicularam]
- (C) **Nas últimas décadas** psicanalistas se debruçaram sobre as mudanças... [Fazem algumas décadas que]
- (D) Que tipos de valores **surgem** dali? [são possível surgir]
- (E) Pensamos estar pensando mesmo quando **estamos apenas terceirizando convicções**... [houverem apenas convicções sendo terceirizadas]
09. Considere o trecho: O imperativo que **liberta** também **aprisiona**: você só passa a ser, ou a pertencer, se tiver uma conclusão. **Sobre** qualquer coisa. (2º parágrafo)
- Respeitando-se as regras de regência nominal e preservando-se o sentido original, o vocábulo destacado pode ser substituído por
- (A) De acordo com
- (B) De encontro a
- (C) Acima de
- (D) Em virtude de
- (E) A respeito de
10. Assinale a alternativa redigida em conformidade com a norma-padrão quanto às regras de regência e à ocorrência da crase.
- (A) Telejornais apresentam à população um resumo dos eventos que lhe despertaram interesse nas redes sociais.
- (B) Indivíduos são chamados à tirar suas conclusões sobre fatos que os são apresentados diariamente.
- (C) Cada vez mais têm chegado à mim frases das quais me fazem refletir sobre os valores da sociedade atual.
- (D) É inegável que às redes sociais influenciam o modo como interagimos com o mundo e o damos sentido.
- (E) Tem sido comum pessoas compartilharem informações de maneira instantânea, sem analisar-lhes à fundo.

11. Um reservatório continha, inicialmente, x litros de água. Com a adição de mais 150 litros, a quantidade de água inicial foi aumentada em $\frac{3}{5}$ e passou a ser igual a $\frac{2}{5}$ da capacidade total do reservatório. A capacidade total desse reservatório é de
- (A) 1250 litros.
 - (B) 1150 litros.
 - (C) 1000 litros.
 - (D) 950 litros.
 - (E) 900 litros.
12. A quantidade de metros de fio elétrico de um rolo, que não chega a 40 m, deverá ser dividida em pedaços iguais, de mesmo comprimento. Sabe-se que se os pedaços tiverem comprimento de 4 m, ou de 6 m, ou de 9 m, sempre restarão 2 m de fio no rolo. Se o electricista decidir obter o número máximo de pedaços iguais, com 7,5 m de comprimento cada um, a quantidade de fio que restará no rolo será igual a
- (A) 0,5 m.
 - (B) 1 m.
 - (C) 1,5 m.
 - (D) 1,75 m.
 - (E) 2,5 m.
13. Determinada mistura é formada por 1,6 kg do componente A e por 0,9 kg do componente B. Sabendo-se que cada 200 gramas de A e cada 200 gramas de B custam, respectivamente, R\$ 4,50 e R\$ 6,00, é correto afirmar que o custo de 0,75 kg dessa mistura é igual a
- (A) R\$ 18,90.
 - (B) R\$ 26,50.
 - (C) R\$ 33,75.
 - (D) R\$ 40,50.
 - (E) R\$ 47,25.

14. De acordo com o monitoramento por satélites feito pelo Instituto Nacional de Pesquisas Espaciais, de agosto de 2017 a julho de 2018 foram desmatados 6675 km² no bioma Cerrado, configurando uma redução de 11% em relação à área desmatada de agosto de 2016 a julho de 2017 que, por sua vez, havia apresentado um crescimento de 9% em relação à área desmatada de agosto de 2015 a julho de 2016.

A área desmatada no Cerrado, de agosto de 2015 a julho de 2016 foi de, aproximadamente,

- (A) 5980 km².
(B) 6250 km².
(C) 6760 km².
(D) 6880 km².
(E) 7170 km².
15. No gráfico a seguir estão representados, em milhões de vagas, os saldos anuais (criação menos fechamento) do número de postos de trabalho com carteira assinada no Brasil, referentes aos anos de 2014 a 2018.

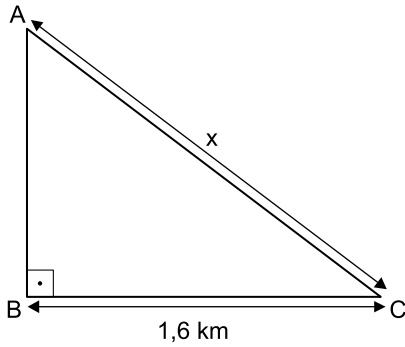


(Cadastro Geral de Empregados e Desempregados.
O Estado de S.Paulo, 24.01.2019)

De acordo com os dados do gráfico, é correto afirmar que, no período considerado, o valor da média aritmética dos saldos anuais de postos de trabalho representa o fechamento de

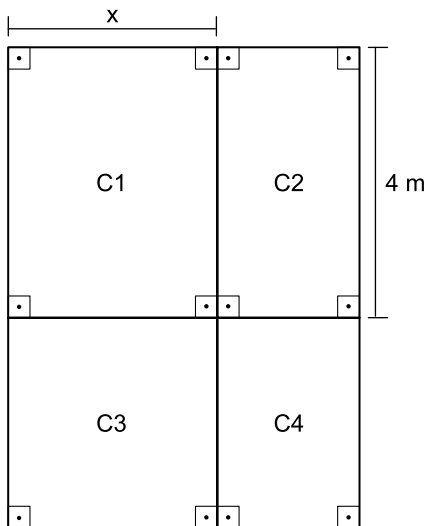
- (A) 957 000 vagas.
(B) 764 200 vagas.
(C) 574 200 vagas.
(D) 479 000 vagas.
(E) 384 200 vagas.

16. Uma gleba destinada a reflorestamento tem a forma de um triângulo retângulo ABC, conforme mostra a figura.



Se a área dessa gleba é $0,96 \text{ km}^2$, então a medida do lado AC, indicada por x na figura, é igual a

- (A) 2,2 km.
 (B) 2,1 km.
 (C) 2 km.
 (D) 1,9 km.
 (E) 1,8 km.
17. Um jardim, de formato retangular, é formado por 4 canteiros distintos, C1, C2, C3 e C4, sendo C3 quadrado e C1, C2 e C4, retangulares, conforme mostra a figura, cujas dimensões indicadas estão em metros.



Sabe-se que a área do canteiro C4 é igual à metade da área do canteiro C1, e que a soma das áreas de ambos é igual a 18 m^2 . Nessas condições, é correto afirmar que o perímetro desse jardim é igual a

- (A) 26 m.
 (B) 24 m.
 (C) 22 m.
 (D) 20 m.
 (E) 18 m.

18. Ricardo abasteceu o tanque de combustível de seu carro com gasolina e etanol, na razão de 1 para 4, nessa ordem. Se ele tivesse colocado 4 litros de gasolina a mais e 4 litros de etanol a menos, a razão entre o número de litros de gasolina e o número de litros de etanol passaria a ser $\frac{1}{2}$.

O número total de litros de combustível colocados nesse abastecimento foi

- (A) 40.
 (B) 36.
 (C) 32.
 (D) 30.
 (E) 28.
19. Uma comissão formada por professores de Matemática e de Português, num total de 26 professores, elaborou um total de 150 questões para treinamento de vestibulandos. Sabe-se que cada professor de português elaborou 7 questões e cada professor de Matemática elaborou 5 questões. Nessa comissão, o número de professores de Português corresponde, do número de professores de Matemática, a
- (A) 38,5%
 (B) 44%
 (C) 50,5%
 (D) 56%
 (E) 62,5%
20. Considere um recipiente cúbico e um recipiente com formato de bloco reto retangular, ambos inicialmente vazios, cujas medidas das arestas internas estão mostradas nas figuras 1 e 2, respectivamente.

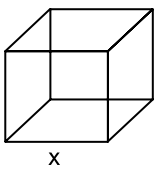


Figura 1

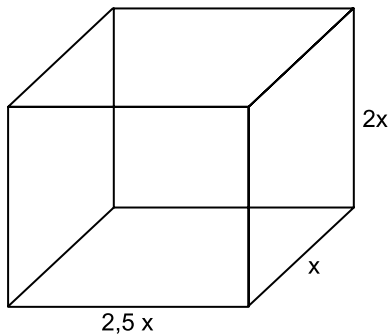


Figura 2

Com vazão constante, uma torneira enche totalmente o recipiente cúbico, sem transbordar, em 40 minutos. Aberta nas mesmas condições, essa mesma torneira irá encher totalmente o recipiente com formato de bloco retangular, sem transbordar, em

- (A) 3 horas e 40 minutos.
 (B) 3 horas e 20 minutos.
 (C) 3 horas e 10 minutos.
 (D) 2 horas e 40 minutos.
 (E) 2 horas e 20 minutos.

ATUALIDADES

21. Entre 311 concorrentes, o prêmio Nobel da Paz de 2018 foi concedido hoje [05.out] a uma dupla: o congolês Denis Mukwege e a ativista do povo yazidi Nadia Murad.

(*Agência Brasil*. <https://bit.ly/2Nr3oAK>. Acesso em 25.jan.2019. Adaptado)

Os ganhadores do prêmio tiveram destaque

- (A) na defesa das liberdades individuais e, principalmente, dos imigrantes e refugiados africanos.
- (B) no combate à pobreza das populações que habitam os países subdesenvolvidos.
- (C) na defesa dos direitos humanos das minorias étnicas em países em conflitos armados.
- (D) nos esforços para acabar com o uso da violência sexual como arma de guerra e conflito armado.
- (E) nas campanhas de erradicação do analfabetismo entre crianças trabalhadoras.

22. Em 14 de novembro, a máquina mais cara e sofisticada da ciência brasileira começou a testar suas turbinas. O projeto já consumiu cerca de R\$ 1,3 bilhão (de um total previsto de R\$ 1,8 bilhão) e, quando ficar pronto, colocará o país na vanguarda das pesquisas que utilizam esse tipo de artefato, como as que envolvem a visualização em altíssima resolução de estruturas de vírus e proteínas (em busca de novas vacinas), de solo (com a ideia de aprimorar fertilizantes) e de rochas e de novos materiais (para melhorar a exploração de gás e petróleo), entre outras.

(*Folha de S.Paulo*. <https://bit.ly/2G1oHbX>. Acesso em 25.jan.2019. Adaptado)

O texto destaca a inauguração do acelerador de partículas que está sendo construído

- (A) em Campinas (SP).
- (B) na Base de Alcântara (MA).
- (C) no Rio de Janeiro (RJ).
- (D) em Curitiba (PR).
- (E) em Porto Alegre (RS).

23. “Este é o melhor acordo possível.”

A premiê britânica, Theresa May, tem repetido há semanas essa frase na tentativa de convencer o Parlamento de seu país a aprovar o acordo que ela negociou com a União Europeia, estabelecendo os termos do *Brexit* - o processo de saída do Reino Unido do bloco.

Mas, na segunda-feira [17.dez], a premiê adiou indefinidamente a votação do acordo no Parlamento, reconhecendo que ele seria rejeitado pela maioria dos parlamentares britânicos

(*G1*. <https://glo.bo/2FTOmUF>. Acesso em 24.jan.2019. Adaptado)

Tem sido considerado como o ponto mais delicado do acordo para viabilizar o *Brexit*

- (A) o retorno imediato dos cidadãos europeus que vivem no Reino Unido para os seus países de origem, fato que provocaria forte déficit de mão de obra no Reino Unido.
- (B) a rápida desvalorização da libra nos mercados europeu e mundial, fato que provocaria forte abalo econômico-financeiro para todo o Reino Unido.
- (C) o fechamento da fronteira entre a Irlanda do Norte (parte do Reino Unido) e a Irlanda, fato que retomaria antigas tensões entre norte-irlandeses e irlandeses.
- (D) a perda do prestígio político do Reino Unido frente à Europa, o que inviabilizaria a permanência do país na OTAN (Organização do Tratado do Atlântico Norte).
- (E) a obrigação do governo britânico em continuar recebendo grupos de refugiados do Oriente Médio e África mesmo após a saída do bloco econômico europeu.

24. Em 05 de dezembro, o Instituto Brasileiro de Geografia e Estatística (IBGE) divulgou uma pesquisa denominada Síntese de Indicadores Sociais (SIS) que utiliza e compara dados socioeconômicos dos dois últimos anos para retratar a situação atual da população brasileira.

(*G1*. <https://glo.bo/2KX2fRR>. Acesso em 29.jan.2019. Adaptado)

A pesquisa mostrou que

- (A) o trabalho com carteira assinada cresceu entre os jovens.
- (B) a diferença salarial entre homens e mulheres foi reduzida.
- (C) o trabalho infantil apresentou expressivo declínio.
- (D) a proporção de crianças no conjunto da população aumentou.
- (E) a desigualdade social e a pobreza tiveram aumento.

25. O recém-empossado presidente da República, Jair Bolsonaro, assinou, nesta terça-feira (02.01), três decretos e uma medida provisória. Dentre as primeiras ações tomadas está a Medida Provisória (MP) que reestrutura a Esplanada dos Ministérios e estabelece a organização básica dos órgãos da presidência da República e dos ministérios. O documento confirma a estrutura de governo já anunciada, com 22 pastas, algumas delas com competências ampliadas.

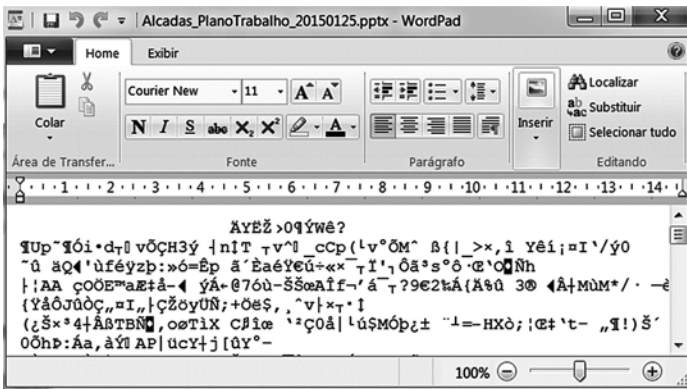
(UOL. <https://bit.ly/2Upz5hO>. Acesso em 25.jan.2019. Adaptado)

Na nova estrutura ministerial destaca-se o Ministério

- (A) da Agricultura, Pecuária e Abastecimento que incorpora as políticas de criação e conservação da infraestrutura.
- (B) da Cidadania que incorpora as ações que envolvem o desenvolvimento social, a cultura e os esportes.
- (C) das Relações Exteriores que incorpora o comércio internacional e os estudos sobre a balança comercial.
- (D) da Justiça que incorpora a regulamentação das políticas dos direitos humanos e a demarcação de terras indígenas.
- (E) do Meio Ambiente que incorpora setores da tecnologia e pesquisa de fontes de energia renováveis.


NOÇÕES DE INFORMÁTICA

26. Considere a janela do WordPad no MS-Windows 7, em sua configuração original, apresentada a seguir na qual se verifica a tentativa de se editar um arquivo.



O WordPad não conseguiu interpretar o arquivo porque se trata de um(a)

- (A) planilha eletrônica do Excel e o WordPad entende documentos XML.
- (B) documento do Word e o WordPad entende documentos de texto sem formatação.
- (C) apresentação do PowerPoint e o WordPad entende documentos com extensão RTF.
- (D) página Web e o WordPad entende imagens JPG.
- (E) imagem JPG e o WordPad entende páginas Web.

27. Assinale a alternativa que contém pelo menos uma palavra formatada pelo ícone , encontrado no grupo Fonte da guia Página Inicial, e sublinhada no MS-Word 2010, em sua configuração padrão.

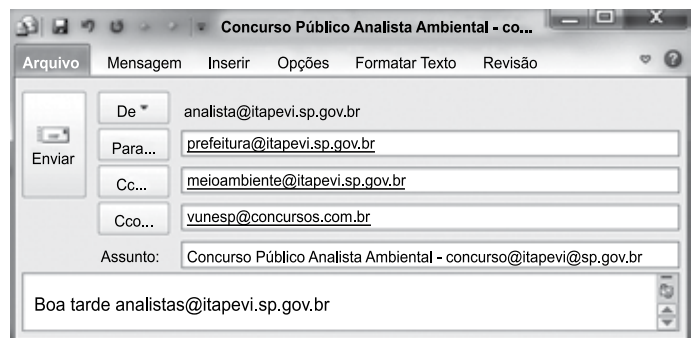
- (A) Prefeitura ^{Municipal} de Itapevi.
- (B) Prefeitura Municipal de Itapevi.
- (C) Prefeitura ~~Municipal~~ de Itapevi.
- (D) Analista Ambiental.
- (E) Analista Ambiental.

28. No MS-Excel 2010, na sua configuração padrão, assinale a alternativa que contém a situação da região norte após aplicação da fórmula =SE(D5>0;"Atrasado";SE(D5<0;"Adiantado";"No Prazo")) na célula E5 da planilha a seguir.

	A	B	C	D	E
1	Laudos Ambientais				
2	Região	Data Original	Nova Data	Var Dias	Situação
3	Leste	20/jan	02/fev	13	
4	Oeste	05/fev	25/jan	-11	
5	Norte	14/abr	14/abr	0	
6	Sul	25/jan	30/mar	64	

- (A) "Adiantado"
- (B) Adiantado
- (C) Atrasado
- (D) No Prazo
- (E) "No Prazo"

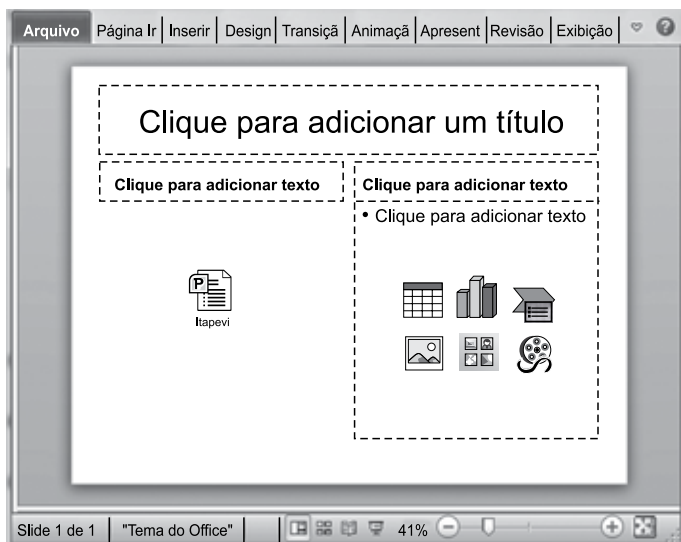
29. Observe a mensagem de correio eletrônico que está sendo digitada no MS-Outlook 2010, na sua configuração padrão, apresentada a seguir.



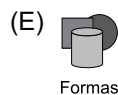
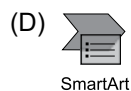
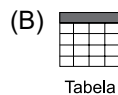
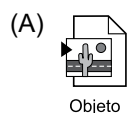
Assinale a alternativa que contém a conta de e-mail que também receberá a mensagem e que estará visível para o destinatário prefeitura@itapevi.sp.gov.br.

- (A) analista@itapevi.sp.gov.br
- (B) vunesp@concursos.com.br
- (C) concurso@itapevi@sp.gov.br
- (D) analistas@itapevi.sp.gov.br
- (E) meioambiente@itapevi.sp.gov.br

30. Considere o slide do MS-PowerPoint 2010, em sua configuração original, exibido na figura a seguir:



Assinale a alternativa que contém o ícone da guia Inserir que foi usado para incluir a apresentação Itapevi no slide.



CONHECIMENTOS ESPECÍFICOS

31. A entidade geralmente emprega os seus ativos na produção de bens ou na prestação de serviços capazes de satisfazer os desejos e as necessidades dos consumidores. Os benefícios econômicos futuros incorporados a um ativo podem fluir para a entidade de diversas maneiras. Dessa forma, o ativo pode ser:

- (A) trocado por outros ativos; conversão da obrigação em item do patrimônio líquido.
- (B) usado para liquidar um passivo; substituição da obrigação por outra.
- (C) usado para transferência de ativos não correntes para liquidação de obrigação futura; distribuído aos sócios da entidade.
- (D) usado isoladamente ou em conjunto com outros ativos na produção de bens ou na prestação de serviços a serem vendidos pela entidade; distribuído aos proprietários da entidade.
- (E) convertido em caixa para pagamentos de obrigações a serem assumidas após o encerramento do exercício contábil; trocado por ativos de empresas ligadas sem relevância.

32. Em conformidade com as normas de contabilidade, há distinção entre obrigação presente e compromisso futuro. A decisão da administração de uma entidade para adquirir ativos no futuro não dá origem, por si só, a uma obrigação presente. Via de regra, a obrigação surge somente quando a entidade ingressa em acordo irrevogável para adquirir o ativo ou

- (A) existe movimentação financeira entre empresas.
- (B) surge a expectativa de receita.
- (C) um ativo é entregue.
- (D) a receita propriamente dita é reconhecida.
- (E) é registrado o seu reflexo no resultado.

33. Em conformidade com as normas de contabilidade aplicáveis, CPC 00-R1, o alcance de sua estrutura conceitual aborda: o objetivo da elaboração e divulgação de relatório contábil-financeiro; a definição, o reconhecimento e a mensuração dos elementos a partir dos quais as demonstrações contábeis são elaboradas; os conceitos de capital e de manutenção de capital e

- (A) as características quantitativas do balanço e demonstração do resultado.
- (B) o objetivo da elaboração do relatório contábil-financeiro somente para fins gerenciais.
- (C) elaboração do relatório contábil-financeiro para captação de recursos.
- (D) elaboração das demonstrações financeiras para gerenciamento do negócio.
- (E) as características qualitativas da informação contábil-financeira útil.

34. De acordo com a ITG 2000 (R1) – Escrituração Contábil, a escrituração contábil deve ser executada em: idioma e em moeda corrente nacionais; em forma contábil; em ordem cronológica de dia, mês e ano; com ausência de espaços em branco, entrelinhas, borrões, rasuras ou emendas; e com base em documentos de origem externa ou interna ou, na sua falta, em elementos que comprovem ou evidenciem fatos contábeis. Dessa forma, a escrituração contábil deverá ter, no mínimo:
- (A) data do registro contábil, ou seja, a data em que o fato contábil ocorreu; conta devedora; conta credora; histórico que represente a essência econômica da transação ou o código de histórico padronizado, nesse caso baseado em tabela auxiliar inclusa em livro próprio; valor do registro contábil; e informação que permita identificar, de forma unívoca, todos os registros que integram um mesmo lançamento contábil.
 - (B) data do lançamento contábil; conta devedora e credora; histórico que represente a essência econômica da transação; valor do registro contábil; e número do lançamento contábil.
 - (C) data do registro contábil, ou seja, a data em que o fato contábil ocorreu, e principalmente a cidade e UF; conta devedora, somente analítica; conta credora, somente analítica; histórico que represente a essência do fato contábil ou o código de histórico padronizado; valor do registro contábil; e conclusão do registro de acordo com os princípios de contabilidade.
 - (D) data, e principalmente a cidade e UF; conta devedora, somente analítica, conforme a ECD; conta credora, somente analítica, conforme a ECD; histórico que represente a essência econômica da transação ou o código de histórico padronizado, neste caso baseado em controles auxiliares inclusos em livro razão; valor do registro contábil em moeda forte para empresas multinacionais; e concluir o registro de acordo com os princípios de contabilidade.
 - (E) data do lançamento contábil; conta devedora, somente analítica, conforme a ECD; conta credora, somente analítica, conforme a ECD; histórico que represente a essência econômica da transação ou o código de histórico padronizado, nesse caso baseado em controles auxiliares inclusos em livro razão; valor do registro contábil em moeda forte para empresas multinacionais; informação que permita identificar, de forma unívoca, todos os registros que integram um mesmo lançamento contábil e conclusão do registro de acordo com os princípios de contabilidade.
35. O Livro Diário e o Livro Razão são obrigatórios da contabilidade. Uma vez apresentados de forma digital, estarão revestidos das formalidades extrínsecas quando
- (A) forem assinados digitalmente pela entidade e pelo profissional da contabilidade regularmente habilitado; e, quando exigível por legislação específica, forem autenticados no registro de cartório de sua jurisdição.
 - (B) sendo exigível por legislação específica, forem autenticados na Junta Comercial do seu estado de origem; e forem assinados pela entidade e pelo profissional da contabilidade regularmente habilitado.
 - (C) forem assinados somente digitalmente pelo profissional da contabilidade regularmente habilitado; e, quando exigível por legislação específica, forem autenticados no registro público ou entidade competente.
 - (D) sendo exigível por legislação específica, forem autenticados no registro público ou entidade competente; e forem assinados digitalmente pela entidade e pelo profissional da contabilidade regularmente habilitado.
 - (E) forem assinados digitalmente pela entidade e pelo profissional da contabilidade regularmente habilitado; e, quando exigível por legislação específica, forem assinados pelo presidente do conselho de administração.
36. Uma organização adquiriu uma máquina para seu parque industrial e identificou as seguintes variáveis:
- I. A compra do equipamento ocorreu dia 25 de março de 2018.
 - II. As condições de pagamento foram:
 - a. 30% no recebimento da emissão da nota fiscal;
 - b. 40% trinta dias após o recebimento da máquina;
 - c. 30% sessenta dias após a o recebimento da máquina.
 - III. Data do início do seu funcionamento: 1º de agosto de 2018.
 - IV. Valor do ativo: R\$ 2.000.000,00.
 - V. Valor do ICMS a ser destacado do valor do bem para recuperação: 360.000,00.
 - VI. Despesas incorridas pela empresa para colocar o bem em funcionamento: R\$ 45.000,00.
 - VII. Segundo os engenheiros da empresa, a vida útil estimada do bem será de 10 anos.
 - VIII. O valor de realização desse bem ao final será de R\$ 300.000,00.
 - IX. Valor do frete pago pelo vendedor: R\$ 25.000,00.
- Com base nessas informações, o valor da despesa da depreciação em 31 de dezembro de 2018 é de
- Dado:** utilize o critério de arredondamento para chegar no resultado, desconsiderando os centavos finais na resposta.
- (A) 57.708.
 - (B) 58.750.
 - (C) 134.000.
 - (D) 138.500.
 - (E) 141.000.

Considere o balancete da empresa de Chocolates Doce Feliz para responder às questões de números 37 e 38.

Balancete contábil em 31/12/2018

Descrição da conta contábil	Reais
Adiantamento a fornecedores	30.000,00
Empréstimos e financiamentos LP	(25.000,00)
Impostos a compensar	10.000,00
Fornecedores	(140.000,00)
Empréstimos Bancários	(5.000,00)
Mútuos com empresas ligadas a receber de LP	65.000,00
Estoques	120.000,00
Investimentos	40.000,00
Impostos a recolher	(20.000,00)
Contas a pagar	(15.000,00)
Aplicações financeiras	65.000,00
Ativos Intangíveis	75.000,00
Contingências fiscais e tributárias - LP	(95.000,00)
Caixa e equivalentes de caixa	45.000,00
Outros valores a receber - LP	45.000,00
Salários a pagar	(150.000,00)
Capital	(100.000,00)
Contas a receber de clientes	150.000,00
Ativo Imobilizado, líquido	150.000,00
Receitas de vendas	1.400.000,00
Impostos sobre vendas	(280.000,00)
Devoluções de vendas	(120.000,00)
Custos dos produtos vendidos	(350.000,00)
Despesas com Vendas	(75.000,00)
Despesas Administrativas e gerais	(110.000,00)
Despesas Financeiras, líquidas	(90.000,00)
Outras despesas operacionais	(5.000,00)
Despesas com IRPJ e CSLL	(125.000,00)

37. Com base nas informações fornecidas, assinale a alternativa que apresenta corretamente o valor do Total do Ativo e Passivo Circulante, nessa ordem.

- (A) 110.000 e 145.000.
- (B) 265.000 e 470.000.
- (C) 420.000 e 180.000.
- (D) 795.000 e 330.000.
- (E) 795.000 e 470.000.

38. Após o encerramento do resultado, o valor do Lucro do Exercício e o do Patrimônio Líquido são, nessa ordem:

- (A) 245.000 e 100.000.
- (B) 245.000 e 345.000.
- (C) 323.000 e 225.000.
- (D) 370.000 e 245.000.
- (E) 370.000 e 345.000.

Considere o balanço patrimonial da empresa de restaurantes Sabores da Minha Casa Ltda, para responder às questões de números 39 a 41.

Balanço Patrimonial findo em 31.12.2018

Ativo Circulante		Passivo Circulante	
Caixa e Bancos	700.000,00	Fornecedores	400.000,00
Aplicações financeiras	100.000,00	Empréstimos e financiamentos	110.00,00
Contas a receber de clientes	185.000,00	Impostos a recolher	75.000,00
Estoques	115.000,00	Salários a pagar	85.000,00
Adiantamentos	180.000,00	Contas a pagar	70.000,00
Demais contas a receber	45.000,00		
	75.000,00		
		Passivo não circulante	300.000,00
Ativo não Circulante	650.000,00	Empréstimos e financiamentos	230.000,00
Títulos a receber	350.000,00	Contas a pagar de longo prazo	70.000,00
Investimentos	120.000,00		
Ativo Imobilizado	210.000,00	Patrimônio Líquido	650.000,00
Depreciação Acumulada	(60.000,00)	Capital	400.000,00
Intangíveis	30.000,00	Reservas da capital	170.000,00
		Lucros a destinar	80.000,00
Total do ativo	1.350.000,00	Total do passivo e patrimônio líquido	1.350.000,00

Informações adicionais:

O valor da venda líquida é de R\$ 522.000.

O valor do lucro operacional é de R\$ 113.000

O valor do lucro líquido é de R\$ 80.000.

39. O índice de liquidez seca é de

- (A) 1,19.
- (B) 1,30.
- (C) 1,60.
- (D) 1,75.
- (E) 1,82.

40. O índice de liquidez geral é de

- (A) 1,50.
- (B) 1,67.
- (C) 1,75.
- (D) 1,92.
- (E) 2,65.

41. A Empresa apresenta uma margem líquida de

- (A) 12,31%.
- (B) 15,33%.
- (C) 17,38%.
- (D) 18,11%.
- (E) 21,65%.

42. Considere as informações fornecidas pela contabilidade da Cia Nova Industrial Ltda.

- Atividade da empresa: Indústria
- Data base do cálculo: 31/12/2018
- Enquadramento fiscal: Lucro Real trimestral
- Lucro Líquido Antes do IR e CSLL: R\$ 780.000

Em tempo, o contador da empresa colaborou com o fornecimento das seguintes informações:

- Adições temporárias: R\$ 190.000,00.
- Adições permanentes: R\$ 150.000,00.
- Exclusões permanentes: R\$ 50.000,00.
- Exclusões temporárias: R\$ 70.000,00.

De acordo com as informações da administração da organização, existe a expectativa de geração de lucros tributáveis futuros, determinada em estudo técnico já aprovado. Diante dos laudos, os prejuízos fiscais acumulados e também a base negativa de contribuição social sobre o lucro, no montante de R\$ 1.000.000,00, serão utilizados pela organização para o cálculo do IRPJ e CSLL, nessa ordem.

Os valores, em Reais, do IRPJ e CSLL são:

- (A) 130.500 e 49.140.
- (B) 169.000 e 63.000.
- (C) 189.000 e 70.200.
- (D) 244.000 e 90.000.
- (E) 250.000 e 90.000.

43. Esse princípio orçamentário possui a finalidade de se evitarem múltiplos orçamentos paralelos dentro da mesma pessoa política. Dessa forma, todas as receitas previstas e despesas fixadas, em cada exercício financeiro, devem integrar um único documento legal dentro de cada esfera federativa, em conformidade com a art. 2º da Lei nº 4.320/64. Trata-se do princípio da

- (A) universalidade.
- (B) publicidade.
- (C) unidade ou totalidade.
- (D) anualidade ou periodicidade.
- (E) exclusividade.

44. Em conformidade com a NBCTA 610, quando um auditor interno determina a natureza e a extensão do trabalho, a época e a extensão da direção, supervisão e revisão apropriadas nas circunstâncias, o auditor independente deve considerar, dentre outros fatores, o montante de julgamento envolvido em:

- (A) planejar os riscos significativos na auditoria; avaliar os riscos significativos na auditoria.
- (B) avaliar os saldos iniciais; avaliar os riscos relevantes dos pontos de auditoria.
- (C) avaliar de forma quantitativa o relatório contábil-financeiro; avaliar de forma qualitativa o relatório contábil-financeiro.
- (D) planejar a elaboração dos trabalhos; avaliar os procedimentos adotados para os trabalhos de auditoria.
- (E) planejar e executar procedimentos de auditoria aplicáveis; avaliar as evidências de auditoria que foram obtidas.

45. Em conformidade com o art. 4º da LC nº 101/00, a LDO (Lei das Diretrizes Orçamentárias), além de dispor sobre o equilíbrio entre receitas e despesas, também contemplará

- (A) demais condições e exigências para transferências de recursos a outras unidades da federação.
- (B) outras normas e exigências para transferências de recursos a entidades privadas.
- (C) normas relativas ao controle de custos e à avaliação dos resultados dos programas financiados com recursos dos orçamentos.
- (D) aplicação de critérios para a limitação de empenho, a ser efetivada nas hipóteses na execução orçamentária e cumprimento de metas.
- (E) todas as despesas relativas à dívida pública imobiliária ou contratual que constarão na lei orçamentária anual.

46. Em conformidade com o art. 2º da LC nº 101/00, a receita corrente líquida, excluídas as duplicidades, será apurada somando-se as receitas arrecadadas

- (A) no mês em referência e nos onze anteriores.
- (B) conforme a determinação da lei orçamentária anual.
- (C) nos doze meses anteriores, somente.
- (D) no mês atual e nos doze anteriores.
- (E) nos doze meses próximos, conforme determina a lei das diretrizes orçamentárias.

47. A receita orçamentária é disciplinada no art. 3º, conjugado com o art. 57 e art. 35 da Lei nº 4.320/64. Para fins contábeis, quanto ao impacto na situação patrimonial líquida, a receita pode ser “efetiva” ou “não efetiva”.

Dessa forma, receita efetiva é aquela em que

- (A) os ingressos de disponibilidades de recursos foram precedidos de registro do reconhecimento do direito ou constituem obrigações correspondentes, como é o caso das operações de crédito.
- (B) os ingressos de disponibilidades de recursos foram sucedidos de registro do reconhecimento do direito e não constituem obrigações correspondentes, como é o caso das operações de fato.
- (C) não são gerados ingressos de disponibilidades de recursos que foram sucedidos de registro do reconhecimento do direito e não constituem obrigações correspondentes, como é o caso das operações de fato.
- (D) os recursos financeiros, dos quais o Estado é o agente arrecadador e depositário, são de caráter efetivo.
- (E) os ingressos de disponibilidade de recursos não foram precedidos de registro de reconhecimento do direito e não constituem obrigações correspondentes.

48. Em conformidade com o art. 19 da LC nº 101/00, o total da despesa com pessoal, em cada período de apuração e em cada ente da Federação, não poderá exceder os percentuais da receita corrente líquida, sendo da União 50% e

- (A) Estados 40% e Municípios 50%.
- (B) Estados e Municípios 50%.
- (C) Estados e Municípios 60%.
- (D) Estados 50% e Municípios 60%.
- (E) Estados 60% e Municípios 50%.

49. Entende-se por Restos a Pagar:

- (A) as despesas empenhadas e pagas até o último dia útil de dezembro, distinguindo-se as processadas das não processadas.
- (B) as despesas empenhadas e pagas até o último dia útil de dezembro, excluindo somente as não processadas.
- (C) as despesas empenhadas, mas não pagas até o último dia útil de dezembro, segregando somente as processadas.
- (D) as despesas empenhadas, mas não pagas até o dia 31 de dezembro, distinguindo-se as processadas das não processadas.
- (E) as despesas a serem empenhadas, mas não pagas até o dia 31 de dezembro, distinguindo-se as processadas das não processadas.

50. Como está definida na Lei de Responsabilidade Fiscal, a dívida pública representada por títulos emitidos pela União, inclusive os do Banco Central do Brasil, Estados e Municípios, é a

- (A) Financeira.
- (B) Imobiliária.
- (C) Fundada.
- (D) Garantida.
- (E) Mobiliária.

