



## PREFEITURA MUNICIPAL DE ITAPEVI

ESTADO DE SÃO PAULO

CONCURSO PÚBLICO

### 050. PROVA OBJETIVA

#### FISCAL MUNICIPAL DE VIGILÂNCIA SANITÁRIA

- ◆ Você recebeu sua folha de respostas e este caderno contendo 50 questões objetivas.
- ◆ Confira seus dados impressos na capa deste caderno e na folha de respostas.
- ◆ Quando for permitido abrir o caderno, verifique se está completo ou se apresenta imperfeições. Caso haja algum problema, informe ao fiscal da sala.
- ◆ Leia cuidadosamente todas as questões e escolha a resposta que você considera correta.
- ◆ Marque, na folha de respostas, com caneta de tinta preta, a letra correspondente à alternativa que você escolheu.
- ◆ A duração da prova é de 3 horas, já incluído o tempo para o preenchimento da folha de respostas.
- ◆ Só será permitida a saída definitiva da sala e do prédio após transcorridos 75% do tempo de duração da prova.
- ◆ Ao sair, você entregará ao fiscal a folha de respostas e este caderno, podendo levar apenas o rascunho de gabarito, localizado em sua carteira, para futura conferência.
- ◆ Até que você saia do prédio, todas as proibições e orientações continuam válidas.

**AGUARDE A ORDEM DO FISCAL PARA ABRIR ESTE CADERNO DE QUESTÕES.**

Nome do candidato \_\_\_\_\_

RG \_\_\_\_\_

Inscrição \_\_\_\_\_

Prédio \_\_\_\_\_

Sala \_\_\_\_\_

Carteira \_\_\_\_\_



## CONHECIMENTOS GERAIS

### LÍNGUA PORTUGUESA

Leia o texto para responder às questões de números **01** a **09**.

*“Tire suas próprias conclusões”*

Essa é a frase que mais tenho ouvido recentemente. Passada a euforia de uma notícia qualificada como “bomba”, logo os atores de uma das partes corriam a público para disponibilizar a íntegra daquilo que antes foi veiculado em partes.

É preciso saber de tudo e entender de tudo. É preciso tirar as próprias conclusões para não depender de ninguém, e é esse o grande e contraditório imperativo dos nossos tempos. É uma ordem a uma experimentação libertária, e uma quase contradição do termo. O imperativo que liberta também aprisiona: você só passa a ser, ou a pertencer, se tiver uma conclusão. Sobre qualquer coisa.

Nas últimas décadas psicanalistas se debruçaram sobre as mudanças nos arranjos produtivos e sociais de cada período histórico para compreender e nomear as formas de sofrimento decorrentes delas. A revolução industrial, a divisão social do trabalho, a urbanização desenfreada e as guerras, por exemplo, fizeram explodir o número de sujeitos impacientes, irritadiços e perturbados com a velocidade das transformações e suas consequentes perdas de referências simbólicas.

Pensando sobre o imperativo “Leia/Veja/Assista” e “Tire suas próprias conclusões”, começo a desconfiar de que estamos diante de uma nova forma de sofrimento relacionado a um mal-estar ainda não nomeado.

Afinal, que tipo de sujeito está surgindo de nossa nova organização social? O que a vida em rede diz sobre as formas como nos relacionamos com o mundo? Que tipos de valores surgem dali? E, finalmente, que tipo de sofrimento essa vida em rede tem causado?

Vou arriscar e sair correndo, já sob o risco de percorrer um campo que não é meu: estamos vendo surgir o sujeito preso à ideia da obrigação de ter algo a dizer. Ao longo dos séculos essa angústia era comum aos chamados formadores de opinião e artistas, responsáveis por reinterpretar o mundo. Hoje basta ter um celular com conexão 3G para ser chamado a opinar sobre qualquer coisa. Pensamos estar pensando mesmo quando estamos apenas terceirizando convicções ao compartilhar aquilo que não escrevemos.

É uma nova versão de um conflito descrito por Clarice Lispector a respeito da insuficiência da linguagem. Algo como: “Não só não consigo dizer o que penso como o que penso passa a ser o que digo”. Se vivesse nas redes que atribuem a ela frases que jamais disse, o “dizer” e o “pensar” teriam a interlocução de um outro verbo: “compartilhar”.

(Matheus Pichonelli, *Carta Capital*. 18.03.2016.  
www.cartacapital.com.br. Adaptado)

- 01.** Na opinião do autor, o mal-estar provado pelos indivíduos atualmente está relacionado com
- (A) a obrigação de produzir conteúdos que sejam instigantes e inéditos.
  - (B) o imperativo de consultar fontes de informação dignas de credibilidade.
  - (C) a exigência de ter de emitir uma opinião sobre qualquer assunto.
  - (D) a perda de referências simbólicas que impulsionou a revolução industrial.
  - (E) o fato de não haver valores éticos sólidos balizando os formadores de opinião.
- 02.** No contexto do segundo parágrafo, a “experimentação libertária” refere-se
- (A) a uma pretensa liberdade de interpretação sem intermediários.
  - (B) ao acesso aos canais de comunicação mais atualizados.
  - (C) a uma característica peculiar às notícias impactantes.
  - (D) à experiência de criar publicações que gerem controvérsia.
  - (E) à liberdade que a imprensa tem de defender sua ideologia.
- 03.** No sexto parágrafo, o verbo **pensar** em “Pensamos estar pensando...” veicula, em cada ocorrência respectivamente, sentidos que equivalem a
- (A) lembrar e corroborar uma opinião.
  - (B) refutar uma ideia e elucidar.
  - (C) induzir a erro e suscitar uma impressão.
  - (D) fantasiar e agir com intransigência.
  - (E) supor e conceber uma ideia.
- 04.** Da menção ao conflito descrito por Clarice Lispector, no último parágrafo, deduz-se o seguinte:
- (A) para o autor, Clarice Lispector estava equivocada ao ignorar a importância do “compartilhar” como intermediário entre o “dizer” e o “pensar”.
  - (B) ao se exprimir com exatidão o pensamento, a insuficiência da linguagem é superada, ainda que provisoriamente.
  - (C) quando o pensamento é traduzido em palavras, e essas palavras são compartilhadas, exaltam-se os valores morais da sociedade.
  - (D) não é possível expressar com exatidão o que pensamos, e nos iludimos ao crer que o que dizemos equivale ao que pensamos.
  - (E) o “pensar” adquire valor a partir do momento em que encontra um equivalente no “dizer” e assume forma ao ser compartilhado.

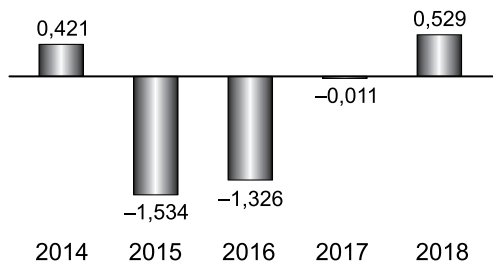
05. Assinale a alternativa em que a segunda expressão destacada denota, no contexto, um evento posterior ao designado pela primeira expressão destacada.
- (A) Passada a euforia de uma notícia **qualificada** como “bomba”, logo os atores de uma das partes **corriam** a público para disponibilizar a íntegra daquilo que antes foi veiculado em partes. (1º parágrafo)
  - (B) É preciso **saber** de tudo e **entender** de tudo. (2º parágrafo)
  - (C) O imperativo que **liberta** também **aprisiona**: você só passa a ser, ou a pertencer, se tiver uma conclusão. (2º parágrafo)
  - (D) **Pensando** sobre o imperativo “Leia/Veja/Assista” e “Tire suas próprias conclusões”, começo a desconfiar de que **estamos** diante de uma nova forma de sofrimento relacionado a um mal-estar ainda não nomeado. (4º parágrafo)
  - (E) O que a vida em rede **diz** sobre as formas como **nos relacionamos** com o mundo? (5º parágrafo)
06. No trecho – ... **você só** passa a ser, ou a pertencer, **se** tiver uma conclusão. (2º parágrafo) –, os vocábulos **você, só e se** contêm, respectivamente, os seguintes sentidos:
- (A) especificação; limitação; concessão.
  - (B) indeterminação; isolamento; modo.
  - (C) identificação; condição; reciprocidade.
  - (D) indefinição; restrição; condição.
  - (E) apelo; ênfase; finalidade.
07. A passagem do texto que, após o acréscimo da vírgula, está de acordo com a norma-padrão é:
- (A) Essa é a frase que, mais tenho ouvido recentemente. (1º parágrafo)
  - (B) É preciso tirar as próprias conclusões, para não depender de ninguém... (2º parágrafo)
  - (C) Nas últimas décadas psicanalistas se debruçaram, sobre as mudanças nos arranjos produtivos e sociais de cada período histórico... (3º parágrafo)
  - (D) Ao longo dos séculos essa angústia era comum aos chamados, formadores de opinião e artistas, responsáveis por reinterpretar o mundo. (6º parágrafo)
  - (E) Hoje basta ter um celular com conexão 3G para ser chamado, a opinar sobre qualquer coisa. (6º parágrafo)
08. Assinale a alternativa em que o trecho entre colchetes substitui o destacado, independentemente do sentido e de acordo com a norma-padrão de concordância.
- (A) Essa é a frase que mais **tenho ouvido** recentemente. [tem sido ouvido por mim]
  - (B) ... corriam a público para disponibilizar a íntegra **daquilo que antes foi veiculado** em partes. [das notícias que antes se veicularam]
  - (C) **Nas últimas décadas** psicanalistas se debruçaram sobre as mudanças... [Fazem algumas décadas que]
  - (D) Que tipos de valores **surgem** dali? [são possível surgir]
  - (E) Pensamos estar pensando mesmo quando **estamos apenas terceirizando convicções**... [houverem apenas convicções sendo terceirizadas]
09. Considere o trecho: O imperativo que **liberta** também **aprisiona**: você só passa a ser, ou a pertencer, se tiver uma conclusão. **Sobre** qualquer coisa. (2º parágrafo)
- Respeitando-se as regras de regência nominal e preservando-se o sentido original, o vocábulo destacado pode ser substituído por
- (A) De acordo com
  - (B) De encontro a
  - (C) Acima de
  - (D) Em virtude de
  - (E) A respeito de
10. Assinale a alternativa redigida em conformidade com a norma-padrão quanto às regras de regência e à ocorrência da crase.
- (A) Telejornais apresentam à população um resumo dos eventos que lhe despertaram interesse nas redes sociais.
  - (B) Indivíduos são chamados à tirar suas conclusões sobre fatos que os são apresentados diariamente.
  - (C) Cada vez mais têm chegado à mim frases das quais me fazem refletir sobre os valores da sociedade atual.
  - (D) É inegável que às redes sociais influenciam o modo como interagimos com o mundo e o damos sentido.
  - (E) Tem sido comum pessoas compartilharem informações de maneira instantânea, sem analisar-lhes à fundo.

11. Um reservatório continha, inicialmente,  $x$  litros de água. Com a adição de mais 150 litros, a quantidade de água inicial foi aumentada em  $\frac{3}{5}$  e passou a ser igual a  $\frac{2}{5}$  da capacidade total do reservatório. A capacidade total desse reservatório é de
- (A) 1250 litros.
  - (B) 1150 litros.
  - (C) 1000 litros.
  - (D) 950 litros.
  - (E) 900 litros.
12. A quantidade de metros de fio elétrico de um rolo, que não chega a 40 m, deverá ser dividida em pedaços iguais, de mesmo comprimento. Sabe-se que se os pedaços tiverem comprimento de 4 m, ou de 6 m, ou de 9 m, sempre restarão 2 m de fio no rolo. Se o electricista decidir obter o número máximo de pedaços iguais, com 7,5 m de comprimento cada um, a quantidade de fio que restará no rolo será igual a
- (A) 0,5 m.
  - (B) 1 m.
  - (C) 1,5 m.
  - (D) 1,75 m.
  - (E) 2,5 m.
13. Determinada mistura é formada por 1,6 kg do componente A e por 0,9 kg do componente B. Sabendo-se que cada 200 gramas de A e cada 200 gramas de B custam, respectivamente, R\$ 4,50 e R\$ 6,00, é correto afirmar que o custo de 0,75 kg dessa mistura é igual a
- (A) R\$ 18,90.
  - (B) R\$ 26,50.
  - (C) R\$ 33,75.
  - (D) R\$ 40,50.
  - (E) R\$ 47,25.

14. De acordo com o monitoramento por satélites feito pelo Instituto Nacional de Pesquisas Espaciais, de agosto de 2017 a julho de 2018 foram desmatados 6675 km<sup>2</sup> no bioma Cerrado, configurando uma redução de 11% em relação à área desmatada de agosto de 2016 a julho de 2017 que, por sua vez, havia apresentado um crescimento de 9% em relação à área desmatada de agosto de 2015 a julho de 2016.

A área desmatada no Cerrado, de agosto de 2015 a julho de 2016 foi de, aproximadamente,

- (A) 5980 km<sup>2</sup>.  
(B) 6250 km<sup>2</sup>.  
(C) 6760 km<sup>2</sup>.  
(D) 6880 km<sup>2</sup>.  
(E) 7170 km<sup>2</sup>.
15. No gráfico a seguir estão representados, em milhões de vagas, os saldos anuais (criação menos fechamento) do número de postos de trabalho com carteira assinada no Brasil, referentes aos anos de 2014 a 2018.

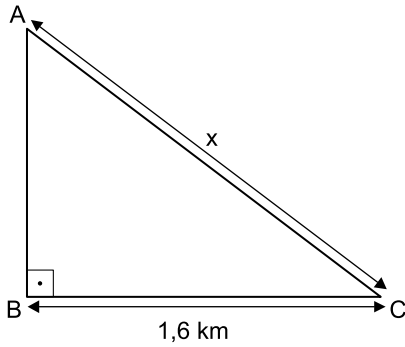


(Cadastro Geral de Empregados e Desempregados.  
*O Estado de S.Paulo*, 24.01.2019)

De acordo com os dados do gráfico, é correto afirmar que, no período considerado, o valor da média aritmética dos saldos anuais de postos de trabalho representa o fechamento de

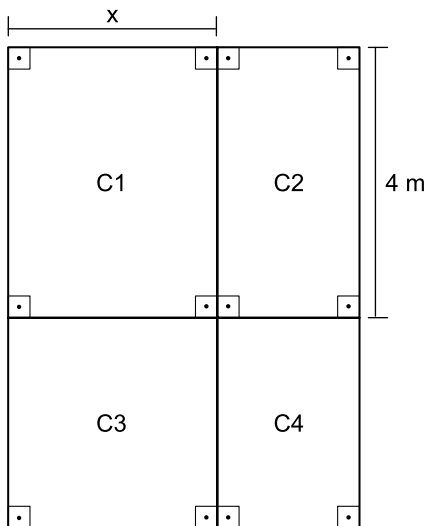
- (A) 957 000 vagas.  
(B) 764 200 vagas.  
(C) 574 200 vagas.  
(D) 479 000 vagas.  
(E) 384 200 vagas.

16. Uma gleba destinada a reflorestamento tem a forma de um triângulo retângulo ABC, conforme mostra a figura.



Se a área dessa gleba é  $0,96 \text{ km}^2$ , então a medida do lado AC, indicada por  $x$  na figura, é igual a

- (A) 2,2 km.  
 (B) 2,1 km.  
 (C) 2 km.  
 (D) 1,9 km.  
 (E) 1,8 km.
17. Um jardim, de formato retangular, é formado por 4 canteiros distintos, C1, C2, C3 e C4, sendo C3 quadrado e C1, C2 e C4, retangulares, conforme mostra a figura, cujas dimensões indicadas estão em metros.



Sabe-se que a área do canteiro C4 é igual à metade da área do canteiro C1, e que a soma das áreas de ambos é igual a  $18 \text{ m}^2$ . Nessas condições, é correto afirmar que o perímetro desse jardim é igual a

- (A) 26 m.  
 (B) 24 m.  
 (C) 22 m.  
 (D) 20 m.  
 (E) 18 m.

18. Ricardo abasteceu o tanque de combustível de seu carro com gasolina e etanol, na razão de 1 para 4, nessa ordem. Se ele tivesse colocado 4 litros de gasolina a mais e 4 litros de etanol a menos, a razão entre o número de litros de gasolina e o número de litros de etanol passaria a ser  $\frac{1}{2}$ .

O número total de litros de combustível colocados nesse abastecimento foi

- (A) 40.  
 (B) 36.  
 (C) 32.  
 (D) 30.  
 (E) 28.
19. Uma comissão formada por professores de Matemática e de Português, num total de 26 professores, elaborou um total de 150 questões para treinamento de vestibulandos. Sabe-se que cada professor de português elaborou 7 questões e cada professor de Matemática elaborou 5 questões. Nessa comissão, o número de professores de Português corresponde, do número de professores de Matemática, a
- (A) 38,5%  
 (B) 44%  
 (C) 50,5%  
 (D) 56%  
 (E) 62,5%
20. Considere um recipiente cúbico e um recipiente com formato de bloco reto retangular, ambos inicialmente vazios, cujas medidas das arestas internas estão mostradas nas figuras 1 e 2, respectivamente.

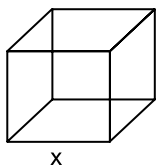


Figura 1

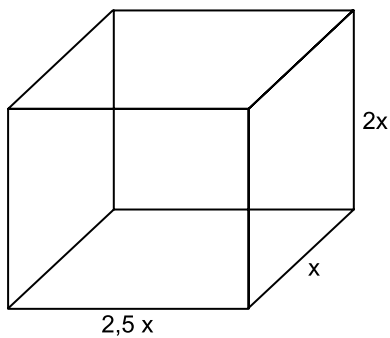


Figura 2

Com vazão constante, uma torneira enche totalmente o recipiente cúbico, sem transbordar, em 40 minutos. Aberta nas mesmas condições, essa mesma torneira irá encher totalmente o recipiente com formato de bloco retangular, sem transbordar, em

- (A) 3 horas e 40 minutos.  
 (B) 3 horas e 20 minutos.  
 (C) 3 horas e 10 minutos.  
 (D) 2 horas e 40 minutos.  
 (E) 2 horas e 20 minutos.



21. Entre 311 concorrentes, o prêmio Nobel da Paz de 2018 foi concedido hoje [05.out] a uma dupla: o congolês Denis Mukwege e a ativista do povo yazidi Nadia Murad.

(Agência Brasil. <https://bit.ly/2Nr3oAK>. Acesso em 25.jan.2019. Adaptado)

Os ganhadores do prêmio tiveram destaque

- (A) na defesa das liberdades individuais e, principalmente, dos imigrantes e refugiados africanos.
- (B) no combate à pobreza das populações que habitam os países subdesenvolvidos.
- (C) na defesa dos direitos humanos das minorias étnicas em países em conflitos armados.
- (D) nos esforços para acabar com o uso da violência sexual como arma de guerra e conflito armado.
- (E) nas campanhas de erradicação do analfabetismo entre crianças trabalhadoras.

22. Em 14 de novembro, a máquina mais cara e sofisticada da ciência brasileira começou a testar suas turbinas. O projeto já consumiu cerca de R\$ 1,3 bilhão (de um total previsto de R\$ 1,8 bilhão) e, quando ficar pronto, colocará o país na vanguarda das pesquisas que utilizam esse tipo de artefato, como as que envolvem a visualização em altíssima resolução de estruturas de vírus e proteínas (em busca de novas vacinas), de solo (com a ideia de aprimorar fertilizantes) e de rochas e de novos materiais (para melhorar a exploração de gás e petróleo), entre outras.

(Folha de S.Paulo. <https://bit.ly/2G1oHbX>. Acesso em 25.jan.2019. Adaptado)

O texto destaca a inauguração do acelerador de partículas que está sendo construído

- (A) em Campinas (SP).
- (B) na Base de Alcântara (MA).
- (C) no Rio de Janeiro (RJ).
- (D) em Curitiba (PR).
- (E) em Porto Alegre (RS).

23. “Este é o melhor acordo possível.”

A premiê britânica, Theresa May, tem repetido há semanas essa frase na tentativa de convencer o Parlamento de seu país a aprovar o acordo que ela negociou com a União Europeia, estabelecendo os termos do *Brexit* - o processo de saída do Reino Unido do bloco.

Mas, na segunda-feira [17.dez], a premiê adiou indefinidamente a votação do acordo no Parlamento, reconhecendo que ele seria rejeitado pela maioria dos parlamentares britânicos

(G1. <https://glo.bo/2FTOmUF>. Acesso em 24.jan.2019. Adaptado)

Tem sido considerado como o ponto mais delicado do acordo para viabilizar o *Brexit*

- (A) o retorno imediato dos cidadãos europeus que vivem no Reino Unido para os seus países de origem, fato que provocaria forte déficit de mão de obra no Reino Unido.
- (B) a rápida desvalorização da libra nos mercados europeu e mundial, fato que provocaria forte abalo econômico-financeiro para todo o Reino Unido.
- (C) o fechamento da fronteira entre a Irlanda do Norte (parte do Reino Unido) e a Irlanda, fato que retomaria antigas tensões entre norte-irlandeses e irlandeses.
- (D) a perda do prestígio político do Reino Unido frente à Europa, o que inviabilizaria a permanência do país na OTAN (Organização do Tratado do Atlântico Norte).
- (E) a obrigação do governo britânico em continuar recebendo grupos de refugiados do Oriente Médio e África mesmo após a saída do bloco econômico europeu.

24. Em 05 de dezembro, o Instituto Brasileiro de Geografia e Estatística (IBGE) divulgou uma pesquisa denominada Síntese de Indicadores Sociais (SIS) que utiliza e compara dados socioeconômicos dos dois últimos anos para retratar a situação atual da população brasileira.

(G1. <https://glo.bo/2KX2fRR>. Acesso em 29.jan.2019. Adaptado)

A pesquisa mostrou que

- (A) o trabalho com carteira assinada cresceu entre os jovens.
- (B) a diferença salarial entre homens e mulheres foi reduzida.
- (C) o trabalho infantil apresentou expressivo declínio.
- (D) a proporção de crianças no conjunto da população aumentou.
- (E) a desigualdade social e a pobreza tiveram aumento.

25. O recém-empossado presidente da República, Jair Bolsonaro, assinou, nesta terça-feira (02.01), três decretos e uma medida provisória. Dentre as primeiras ações tomadas está a Medida Provisória (MP) que reestrutura a Esplanada dos Ministérios e estabelece a organização básica dos órgãos da presidência da República e dos ministérios. O documento confirma a estrutura de governo já anunciada, com 22 pastas, algumas delas com competências ampliadas.

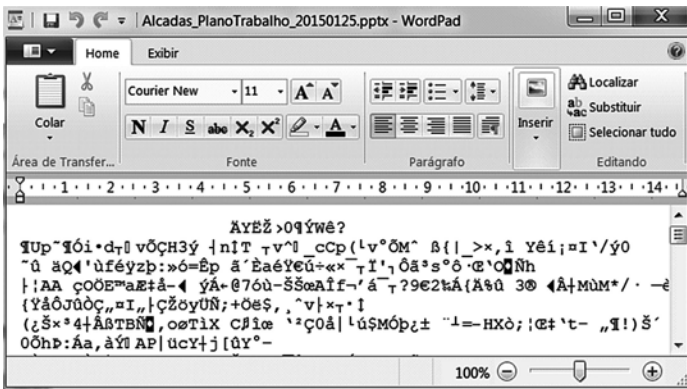
(UOL. <https://bit.ly/2Upz5hO>. Acesso em 25.jan.2019. Adaptado)

Na nova estrutura ministerial destaca-se o Ministério

- (A) da Agricultura, Pecuária e Abastecimento que incorpora as políticas de criação e conservação da infraestrutura.
- (B) da Cidadania que incorpora as ações que envolvem o desenvolvimento social, a cultura e os esportes.
- (C) das Relações Exteriores que incorpora o comércio internacional e os estudos sobre a balança comercial.
- (D) da Justiça que incorpora a regulamentação das políticas dos direitos humanos e a demarcação de terras indígenas.
- (E) do Meio Ambiente que incorpora setores da tecnologia e pesquisa de fontes de energia renováveis.


### NOÇÕES DE INFORMÁTICA

26. Considere a janela do WordPad no MS-Windows 7, em sua configuração original, apresentada a seguir na qual se verifica a tentativa de se editar um arquivo.



O WordPad não conseguiu interpretar o arquivo porque se trata de um(a)

- (A) planilha eletrônica do Excel e o WordPad entende documentos XML.
- (B) documento do Word e o WordPad entende documentos de texto sem formatação.
- (C) apresentação do PowerPoint e o WordPad entende documentos com extensão RTF.
- (D) página Web e o WordPad entende imagens JPG.
- (E) imagem JPG e o WordPad entende páginas Web.

27. Assinale a alternativa que contém pelo menos uma palavra formatada pelo ícone , encontrado no grupo Fonte da guia Página Inicial, e sublinhada no MS-Word 2010, em sua configuração padrão.

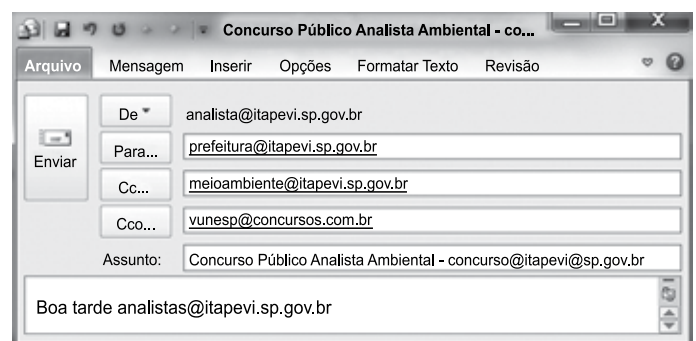
- (A) Prefeitura <sup>Municipal</sup> de Itapevi.
- (B) Prefeitura Municipal de Itapevi.
- (C) Prefeitura ~~Municipal~~ de Itapevi.
- (D) Analista Ambiental.
- (E) Analista Ambiental.

28. No MS-Excel 2010, na sua configuração padrão, assinale a alternativa que contém a situação da região norte após aplicação da fórmula =SE(D5>0;"Atrasado";SE(D5<0;"Adiantado";"No Prazo")) na célula E5 da planilha a seguir.

	A	B	C	D	E
1	<b>Laudos Ambientais</b>				
2	<b>Região</b>	<b>Data Original</b>	<b>Nova Data</b>	<b>Var Dias</b>	<b>Situação</b>
3	Leste	20/jan	02/fev	13	
4	Oeste	05/fev	25/jan	-11	
5	Norte	14/abr	14/abr	0	
6	Sul	25/jan	30/mar	64	

- (A) "Adiantado"
- (B) Adiantado
- (C) Atrasado
- (D) No Prazo
- (E) "No Prazo"

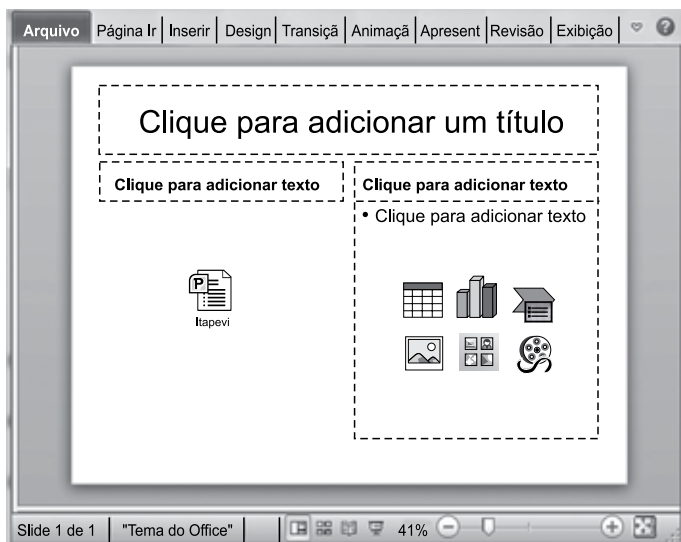
29. Observe a mensagem de correio eletrônico que está sendo digitada no MS-Outlook 2010, na sua configuração padrão, apresentada a seguir.



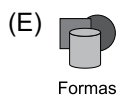
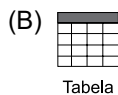
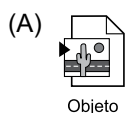
Assinale a alternativa que contém a conta de e-mail que também receberá a mensagem e que estará visível para o destinatário prefeitura@itapevi.sp.gov.br.

- (A) analista@itapevi.sp.gov.br
- (B) vunesp@concursos.com.br
- (C) concurso@itapevi@sp.gov.br
- (D) analistas@itapevi.sp.gov.br
- (E) meioambiente@itapevi.sp.gov.br

30. Considere o slide do MS-PowerPoint 2010, em sua configuração original, exibido na figura a seguir:



Assinale a alternativa que contém o ícone da guia Inserir que foi usado para incluir a apresentação Itapevi no slide.



## CONHECIMENTOS ESPECÍFICOS

31. Toda Unidade Básica de Saúde deve ter o controle de ingresso e egresso dos usuários e visitantes. As sinalizações das áreas restritas e permitidas devem ser permanentes e visíveis, como também devem estar também expressas em “braile” para os deficientes visuais, ou com indicação por monitor para os analfabetos.

O texto descreve preceitos básicos de

- (A) ética médica.
- (B) segurança biológica.
- (C) segurança sanitária.
- (D) bioética.
- (E) segurança ambiental.

32. Ações de investigação, inspeção e fiscalização nos locais de trabalho envolvem, entre outros aspectos, a identificação e o reconhecimento dos riscos. Em uma panificadora correspondem, em ordem de relevância, aos riscos:

- (A) químicos, biológicos e iatrogênicos.
- (B) mecânicos, biológicos e toxicológicos.
- (C) iatrogênicos, químicos e de acidentes.
- (D) toxicológicos, ergonômicos e físicos.
- (E) físicos, ergonômicos e de acidentes.

33. Um dos problemas sanitários, com repercussões médicas e sociais, é a falta de tratamento de esgotos domésticos, muitas vezes coletados mas não tratados, despejados *in natura* nos rios e córregos. As vigilâncias sanitária, epidemiológica e ambiental devem trabalhar juntas afim de evitar possíveis surtos e epidemias, orientando e esclarecendo a população quanto aos riscos existentes. Assinale a alternativa que contém uma epidemia relacionada a essa condição sanitária.

- (A) Dengue.
- (B) Leishmaniose.
- (C) Cólera.
- (D) Chikungunya.
- (E) Malária.

34. O levantamento do número de filhos por casal, em um estudo epidemiológico, é um dado:

- (A) quantitativo com variável discreta.
- (B) qualitativo com variável ordinal.
- (C) quantitativo com variável contínua.
- (D) qualitativo com variável de intervalo.
- (E) quantitativo com variável nominal.

- 35.** A instauração do Processo Administrativo Sanitário ocorre mediante a
- (A) constatação de doenças ou agravos relacionados ao objeto da fiscalização sanitária.
  - (B) aplicação de multa por descumprimento das normas legais.
  - (C) aprovação da chefia imediata do fiscal sanitário frente a alguma irregularidade legal.
  - (D) lavratura do Auto de Infração Sanitária.
  - (E) avaliação técnica da situação por uma equipe necessariamente multiprofissional.
- 36.** Sempre que seja necessária uma intervenção urgente em face a um possível risco para a saúde humana, ou quando necessário para a proteção do ambiente, caso os dados científicos não permitam uma avaliação completa do risco, deve ser considerado:
- (A) o levantamento de risco à saúde humana.
  - (B) o fator ambiental fixo para esses casos.
  - (C) a característica biológica da população exposta.
  - (D) o princípio da precaução.
  - (E) o conhecimento do técnico fiscal de vigilância sanitária.
- 37.** Os técnicos, em vistoria a um bar, observaram que: 1. Os salgados não estavam protegidos para evitar contato com insetos, 2. na cozinha as pessoas não usavam luvas, nem gorro na cabeça, 3. os pratos eram lavados em pia de mármore todo desgastado e 4. os copos lavados em máquina automática. Os técnicos autuaram o proprietário dando-lhe prazo para se adequar às normas sanitárias e, dessa maneira, evitar multa.
- O procedimento adotado visa evitar
- (A) riscos à saúde do trabalhador pela exposição de partes do corpo aos insumos químicos utilizados no preparo dos alimentos.
  - (B) acidentes mecânicos devido ao uso de máquinas automáticas sem os equipamentos de proteção coletiva recomendados por normas técnicas.
  - (C) transmissão de doenças transmitidas por vetores tanto aos funcionários quanto aos usuários, devido à presença de insetos no interior do estabelecimento.
  - (D) contaminação química dos funcionários que atuam na lavagem dos pratos, devido à liberação de elementos tóxicos decorrente do desgaste do mármore.
  - (E) possíveis contaminações alimentares nos usuários desse estabelecimento relacionadas à falta de condições sanitárias adequadas.
- 38.** Durante uma inspeção sanitária, o fiscal deve ser capaz de perceber situações que possam colocar em risco a saúde do trabalhador e do usuário do serviço. Por exemplo, deve reconhecer como situação de risco salas de vacina que
- (A) tenham piso frio, lavável e antiderrapante.
  - (B) não possuam ventilação e iluminação adequadas.
  - (C) aloquem freezer e geladeira no mesmo local onde são aplicadas as vacinas.
  - (D) não disponibilizem poltronas macias e confortáveis às mães de bebês.
  - (E) não disponham de enfermeiro 24 horas para aplicação das vacinas em adultos.
- 39.** Segundo a literatura específica: “risco é entendido pela epidemiologia como a probabilidade de ocorrência de uma doença, agravo, óbito, ou condição relacionada à saúde em uma população ou grupo durante um período de tempo determinado”.
- Logo, é correto afirmar que fator de risco pode ser definido como:
- (A) formas de avaliar, mensurar, medir o risco, sendo as clássicas coeficientes de incidência e coeficiente de prevalência.
  - (B) um grupo populacional exposto a um dado “Fator” ou identificado com um determinado marcador de risco.
  - (C) atributos de um grupo da população que apresenta maior incidência de uma doença ou agravo à saúde em comparação com outros grupos que não o tenha ou com menor exposição a tal característica.
  - (D) a ocorrência de um fenômeno nas populações de determinado agravo em uma ampla área geográfica ao longo de 10 anos.
  - (E) componentes no indivíduo que possam levar a uma doença genética ou contribuir para o risco de bebês com doenças congênitas e manutenção desses agravos de saúde.
- 40.** O Sistema de Informações Ambulatoriais do Sistema Único de Saúde (SIA-SUS)
- (A) administra o encaminhamento de pacientes para o atendimento médico pelas unidades especializadas, solicitado por unidades básicas de saúde.
  - (B) permite aos gestores de saúde, pesquisadores e entidades da sociedade obter informações sobre capacidade operacional dos prestadores de serviço.
  - (C) oferece informações para o gerenciamento de capacidade instalada e produzida, bem como dos recursos financeiros orçados e repassados aos prestadores de serviços.
  - (D) permite ao gestor da Unidade de Saúde controlar o processo de internação de pacientes, desde sua entrada até sua saída.
  - (E) fornece, aos gestores, trabalhadores e usuários, informações sobre endemias e morbidade dos pacientes internados pelo SUS.

41. A Vigilância Sanitária nas escolas tem como objetivo promover e manter a saúde dessas coletividades, atuando para a melhoria das condições de organização e funcionamento desses estabelecimentos.
- (A) Logo, nesses espaços, é imprescindível que seu papel seja mais de orientador e formador de um entendimento claro das propostas pela comunidade, do que de polícia.
  - (B) Assim, sua função consiste em estimular a avaliação e resolução dos problemas por técnicos especializados.
  - (C) Por isso, a Federação, os estados e municípios devem legislar sobre o assunto, e determinar normas gerais de edificação para prevenção de surtos e transmissão de doenças contagiosas.
  - (D) Portanto, sua atuação visa promover a qualidade de vida e de espaços saudáveis aos indivíduos no município.
  - (E) Dessa maneira, deve haver uma programação técnica que inclua inspeções rotineiras, informações epidemiológicas, atendimento de denúncias e aplicação de medidas para solução dos problemas.
42. Assinale a alternativa que contém um indicador e sua definição correta a respeito da avaliação, de estrutura, processo e resultado para o objeto da vigilância, inclusive vigilância sanitária.
- (A) Eficácia: o quanto de melhorias que podem ser realizadas nas condições de saúde.
  - (B) Efetividade: a mais favorável relação entre custos financeiros e benefícios ambientais.
  - (C) Eficiência: capacidade de obter a maior melhoria possível das condições de saúde, ao menor custo.
  - (D) Otimização: igualdade na distribuição do cuidado e de seus efeitos sobre a saúde.
  - (E) Aceitabilidade: capacidade do cuidado na contribuição para a melhoria das condições de saúde.
43. Para manter a inocuidade dos alimentos é necessário, sempre:
- (A) ferver e depois esterilizar a água utilizada na lavagem dos insumos para preparo dos alimentos.
  - (B) aplicar regularmente desinfestantes sobre as superfícies onde serão preparados os alimentos.
  - (C) ao usar insumos com data de validade vencida, antes do preparo dos alimentos proceder a desinfecção.
  - (D) lavar as mãos antes do preparo dos alimentos e com frequência durante sua preparação.
  - (E) adquirir sempre insumos orgânicos e usá-los *in natura* na preparação dos alimentos.
44. Na avaliação da qualidade do ar nas grandes cidades, usam-se indicadores de nocividade como:
- (A) concentração de oxigênio (O<sub>2</sub>).
  - (B) nitrogênio (N<sub>2</sub>).
  - (C) dióxido de enxofre (SO<sub>2</sub>).
  - (D) umidade relativa (UR).
  - (E) temperatura atmosférica.
45. A saúde do trabalhador deverá ser resguardada, tanto nas relações sociais que se estabelecem entre o capital e o trabalho, como no processo de produção, sendo obrigação do empregador, pelo Código Sanitário do Estado de São Paulo (Lei Estadual nº 10.083, de 23 de setembro de 1998):
- (A) manter as condições e as organizações de trabalho adequadas às condições psicofísicas dos trabalhadores.
  - (B) dividir os custos de estudos e pesquisas que visem esclarecer os riscos ao ambiente de trabalho e ao meio ambiente com os funcionários envolvidos.
  - (C) garantir e facilitar o acesso das autoridades sanitárias em dia e horário previamente agendados, fornecendo todas as informações e dados solicitados.
  - (D) informar aos trabalhadores e CIPA sobre os riscos aos quais estão expostos, após avaliação da diretoria da empresa.
  - (E) comunicar a empresas de auditoria particulares a detecção de quaisquer riscos para a saúde do trabalhador para elaboração cronograma e implementando a correção dos mesmos.
46. O Código Sanitário do Estado de São Paulo (Lei Estadual nº 10.083, de 23 de setembro de 1998), preconiza que *toda e qualquer edificação, quer seja urbana ou rural, deverá ser construída e mantida, observando-se:*
- (A) proteção contra as enfermidades transmissíveis geneticamente.
  - (B) prevenção de exposição a altas temperaturas e radiação ultravioleta.
  - (C) eliminação dos fatores de estresse físico e químico.
  - (D) preservação do ambiente dentro da área do terreno da edificação.
  - (E) respeito a grupos humanos vulneráveis.

47. Segundo o Código Sanitário do Estado de São Paulo, assinale a alternativa correta.

- (A) Na análise fiscal compete ao servidor público realizar, de forma programada, a colheita de amostra de insumos, matérias-primas, aditivos, recipientes, equipamentos, utensílios, embalagens e produtos de interesse à saúde.
- (B) A análise fiscal deve ser realizada mediante o consentimento do termo de colheita de amostra pelo interessado e colocada em um invólucro inviolável.
- (C) Se a análise fiscal concluir pela condenação do material coletado, a autoridade sanitária deverá notificar o seu superior imediato para adoção dos procedimentos legais.
- (D) Quando a análise fiscal indicar que o produto é considerado de risco à saúde, deve-se orientar o interessado a armazená-lo em local adequado para posterior utilização.
- (E) Em uma análise fiscal o laudo analítico condenatório deverá ser considerado definitivo quando da não apresentação da defesa ou da solicitação de perícia de contraprova, pelo responsável ou detentor, no prazo de 10 (dez) dias.

48. Assinale a alternativa que contém corretamente um exemplo de monitoramento de qualidade em saúde pública.

- (A) Autuação sobre atividades que causem eventos adversos à saúde.
- (B) Acompanhamento dos possíveis impactos decorrentes da atividade fiscalizatória.
- (C) Avaliação quantitativa diária das autuações do fiscal sanitário.
- (D) Preocupação exclusiva com as condições ambientais urbanas.
- (E) Validação de metodologia de avaliação de impacto ambiental.

49. A vigilância sanitária, componente importante da vigilância em saúde pública, prioriza:

- (A) diagnóstico de saúde com uso de indicadores clínicos.
- (B) proposta de ações terapêuticas a serem realizadas pelo indivíduo.
- (C) interpretação dos resultados com os indicadores clínicos.
- (D) avaliação dos resultados com os indicadores epidemiológicos.
- (E) toda a atuação do fiscal sanitário nos efeitos possíveis ao indivíduo.

50. A tabela a seguir mostra casos de tuberculose em uma hipotética comunidade:

Ano	Número de casos	População total
1990	60	30.000
2000	80	50.000
2010	100	80.000

Sua análise permite afirmar que

- (A) no ano de 1990 houve 10 casos da doença por 10.000 habitantes.
- (B) a taxa de incidência da tuberculose em 2000 foi de 0,002.
- (C) em 2010 houve uma diminuição da prevalência da doença em relação a 2000.
- (D) a força de morbidade em 1990 foi de 16 casos por 10.000 habitantes.
- (E) houve um aumento da prevalência da tuberculose de 1990 para 2010.



