



PREFEITURA MUNICIPAL DE ITAPEVI

ESTADO DE SÃO PAULO

CONCURSO PÚBLICO

051. PROVA OBJETIVA

FISIOTERAPEUTA

(GERAL)

- ◆ Você recebeu sua folha de respostas e este caderno contendo 50 questões objetivas.
- ◆ Confira seus dados impressos na capa deste caderno e na folha de respostas.
- ◆ Quando for permitido abrir o caderno, verifique se está completo ou se apresenta imperfeições. Caso haja algum problema, informe ao fiscal da sala.
- ◆ Leia cuidadosamente todas as questões e escolha a resposta que você considera correta.
- ◆ Marque, na folha de respostas, com caneta de tinta preta, a letra correspondente à alternativa que você escolheu.
- ◆ A duração da prova é de 3 horas, já incluído o tempo para o preenchimento da folha de respostas.
- ◆ Só será permitida a saída definitiva da sala e do prédio após transcorridos 75% do tempo de duração da prova.
- ◆ Ao sair, você entregará ao fiscal a folha de respostas e este caderno, podendo levar apenas o rascunho de gabarito, localizado em sua carteira, para futura conferência.
- ◆ Até que você saia do prédio, todas as proibições e orientações continuam válidas.

AGUARDE A ORDEM DO FISCAL PARA ABRIR ESTE CADERNO DE QUESTÕES.

Nome do candidato _____

RG _____

Inscrição _____

Prédio _____

Sala _____

Carteira _____

CONHECIMENTOS GERAIS

LÍNGUA PORTUGUESA

Leia o texto para responder às questões de números **01** a **09**.

“Tire suas próprias conclusões”

Essa é a frase que mais tenho ouvido recentemente. Passada a euforia de uma notícia qualificada como “bomba”, logo os atores de uma das partes corriam a público para disponibilizar a íntegra daquilo que antes foi veiculado em partes.

É preciso saber de tudo e entender de tudo. É preciso tirar as próprias conclusões para não depender de ninguém, e é esse o grande e contraditório imperativo dos nossos tempos. É uma ordem a uma experimentação libertária, e uma quase contradição do termo. O imperativo que liberta também aprisiona: você só passa a ser, ou a pertencer, se tiver uma conclusão. Sobre qualquer coisa.

Nas últimas décadas psicanalistas se debruçaram sobre as mudanças nos arranjos produtivos e sociais de cada período histórico para compreender e nomear as formas de sofrimento decorrentes delas. A revolução industrial, a divisão social do trabalho, a urbanização desenfreada e as guerras, por exemplo, fizeram explodir o número de sujeitos impacientes, irritadiços e perturbados com a velocidade das transformações e suas consequentes perdas de referências simbólicas.

Pensando sobre o imperativo “Leia/Veja/Assista” e “Tire suas próprias conclusões”, começo a desconfiar de que estamos diante de uma nova forma de sofrimento relacionado a um mal-estar ainda não nomeado.

Afinal, que tipo de sujeito está surgindo de nossa nova organização social? O que a vida em rede diz sobre as formas como nos relacionamos com o mundo? Que tipos de valores surgem dali? E, finalmente, que tipo de sofrimento essa vida em rede tem causado?

Vou arriscar e sair correndo, já sob o risco de percorrer um campo que não é meu: estamos vendo surgir o sujeito preso à ideia da obrigação de ter algo a dizer. Ao longo dos séculos essa angústia era comum aos chamados formadores de opinião e artistas, responsáveis por reinterpretar o mundo. Hoje basta ter um celular com conexão 3G para ser chamado a opinar sobre qualquer coisa. Pensamos estar pensando mesmo quando estamos apenas terceirizando convicções ao compartilhar aquilo que não escrevemos.

É uma nova versão de um conflito descrito por Clarice Lispector a respeito da insuficiência da linguagem. Algo como: “Não só não consigo dizer o que penso como o que penso passa a ser o que digo”. Se vivesse nas redes que atribuem a ela frases que jamais disse, o “dizer” e o “pensar” teriam a interlocução de um outro verbo: “compartilhar”.

(Matheus Pichonelli, *Carta Capital*. 18.03.2016.
www.cartacapital.com.br. Adaptado)

01. Na opinião do autor, o mal-estar provado pelos indivíduos atualmente está relacionado com
 - (A) a obrigação de produzir conteúdos que sejam instigantes e inéditos.
 - (B) o imperativo de consultar fontes de informação dignas de credibilidade.
 - (C) a exigência de ter de emitir uma opinião sobre qualquer assunto.
 - (D) a perda de referências simbólicas que impulsionou a revolução industrial.
 - (E) o fato de não haver valores éticos sólidos balizando os formadores de opinião.
02. No contexto do segundo parágrafo, a “experimentação libertária” refere-se
 - (A) a uma pretensa liberdade de interpretação sem intermediários.
 - (B) ao acesso aos canais de comunicação mais atualizados.
 - (C) a uma característica peculiar às notícias impactantes.
 - (D) à experiência de criar publicações que gerem controvérsia.
 - (E) à liberdade que a imprensa tem de defender sua ideologia.
03. No sexto parágrafo, o verbo **pensar** em “Pensamos estar pensando...” veicula, em cada ocorrência respectivamente, sentidos que equivalem a
 - (A) lembrar e corroborar uma opinião.
 - (B) refutar uma ideia e elucidar.
 - (C) induzir a erro e suscitar uma impressão.
 - (D) fantasiar e agir com intransigência.
 - (E) supor e conceber uma ideia.
04. Da menção ao conflito descrito por Clarice Lispector, no último parágrafo, deduz-se o seguinte:
 - (A) para o autor, Clarice Lispector estava equivocada ao ignorar a importância do “compartilhar” como intermediário entre o “dizer” e o “pensar”.
 - (B) ao se exprimir com exatidão o pensamento, a insuficiência da linguagem é superada, ainda que provisoriamente.
 - (C) quando o pensamento é traduzido em palavras, e essas palavras são partilhadas, exaltam-se os valores morais da sociedade.
 - (D) não é possível expressar com exatidão o que pensamos, e nos iludimos ao crer que o que dizemos equivale ao que pensamos.
 - (E) o “pensar” adquire valor a partir do momento em que encontra um equivalente no “dizer” e assume forma ao ser compartilhado.

05. Assinale a alternativa em que a segunda expressão destacada denota, no contexto, um evento posterior ao designado pela primeira expressão destacada.
- (A) Passada a euforia de uma notícia **qualificada** como “bomba”, logo os atores de uma das partes **corriam** a público para disponibilizar a íntegra daquilo que antes foi veiculado em partes. (1º parágrafo)
 - (B) É preciso **saber** de tudo e **entender** de tudo. (2º parágrafo)
 - (C) O imperativo que **liberta** também **aprisiona**: você só passa a ser, ou a pertencer, se tiver uma conclusão. (2º parágrafo)
 - (D) **Pensando** sobre o imperativo “Leia/Veja/Assista” e “Tire suas próprias conclusões”, começo a desconfiar de que **estamos** diante de uma nova forma de sofrimento relacionado a um mal-estar ainda não nomeado. (4º parágrafo)
 - (E) O que a vida em rede **diz** sobre as formas como **nos relacionamos** com o mundo? (5º parágrafo)
06. No trecho – ... **você só** passa a ser, ou a pertencer, **se** tiver uma conclusão. (2º parágrafo) –, os vocábulos **você, só e se** contêm, respectivamente, os seguintes sentidos:
- (A) especificação; limitação; concessão.
 - (B) indeterminação; isolamento; modo.
 - (C) identificação; condição; reciprocidade.
 - (D) indefinição; restrição; condição.
 - (E) apelo; ênfase; finalidade.
07. A passagem do texto que, após o acréscimo da vírgula, está de acordo com a norma-padrão é:
- (A) Essa é a frase que, mais tenho ouvido recentemente. (1º parágrafo)
 - (B) É preciso tirar as próprias conclusões, para não depender de ninguém... (2º parágrafo)
 - (C) Nas últimas décadas psicanalistas se debruçaram, sobre as mudanças nos arranjos produtivos e sociais de cada período histórico... (3º parágrafo)
 - (D) Ao longo dos séculos essa angústia era comum aos chamados, formadores de opinião e artistas, responsáveis por reinterpretar o mundo. (6º parágrafo)
 - (E) Hoje basta ter um celular com conexão 3G para ser chamado, a opinar sobre qualquer coisa. (6º parágrafo)
08. Assinale a alternativa em que o trecho entre colchetes substitui o destacado, independentemente do sentido e de acordo com a norma-padrão de concordância.
- (A) Essa é a frase que mais **tenho ouvido** recentemente. [tem sido ouvido por mim]
 - (B) ... corriam a público para disponibilizar a íntegra **daquilo que antes foi veiculado** em partes. [das notícias que antes se veicularam]
 - (C) **Nas últimas décadas** psicanalistas se debruçaram sobre as mudanças... [Fazem algumas décadas que]
 - (D) Que tipos de valores **surgem** dali? [são possível surgir]
 - (E) Pensamos estar pensando mesmo quando **estamos apenas terceirizando convicções**... [houverem apenas convicções sendo terceirizadas]
09. Considere o trecho: O imperativo que **liberta** também **aprisiona**: você só passa a ser, ou a pertencer, se tiver uma conclusão. **Sobre** qualquer coisa. (2º parágrafo)
- Respeitando-se as regras de regência nominal e preservando-se o sentido original, o vocábulo destacado pode ser substituído por
- (A) De acordo com
 - (B) De encontro a
 - (C) Acima de
 - (D) Em virtude de
 - (E) A respeito de
10. Assinale a alternativa redigida em conformidade com a norma-padrão quanto às regras de regência e à ocorrência da crase.
- (A) Telejornais apresentam à população um resumo dos eventos que lhe despertaram interesse nas redes sociais.
 - (B) Indivíduos são chamados à tirar suas conclusões sobre fatos que os são apresentados diariamente.
 - (C) Cada vez mais têm chegado à mim frases das quais me fazem refletir sobre os valores da sociedade atual.
 - (D) É inegável que às redes sociais influenciam o modo como interagimos com o mundo e o damos sentido.
 - (E) Tem sido comum pessoas compartilharem informações de maneira instantânea, sem analisar-lhes à fundo.

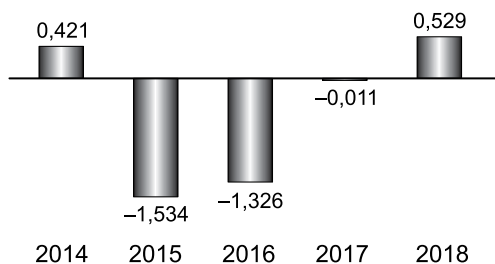
11. Um reservatório continha, inicialmente, x litros de água. Com a adição de mais 150 litros, a quantidade de água inicial foi aumentada em $\frac{3}{5}$ e passou a ser igual a $\frac{2}{5}$ da capacidade total do reservatório. A capacidade total desse reservatório é de
- (A) 1250 litros.
(B) 1150 litros.
(C) 1000 litros.
(D) 950 litros.
(E) 900 litros.
12. A quantidade de metros de fio elétrico de um rolo, que não chega a 40 m, deverá ser dividida em pedaços iguais, de mesmo comprimento. Sabe-se que se os pedaços tiverem comprimento de 4 m, ou de 6 m, ou de 9 m, sempre restarão 2 m de fio no rolo. Se o electricista decidir obter o número máximo de pedaços iguais, com 7,5 m de comprimento cada um, a quantidade de fio que restará no rolo será igual a
- (A) 0,5 m.
(B) 1 m.
(C) 1,5 m.
(D) 1,75 m.
(E) 2,5 m.
13. Determinada mistura é formada por 1,6 kg do componente A e por 0,9 kg do componente B. Sabendo-se que cada 200 gramas de A e cada 200 gramas de B custam, respectivamente, R\$ 4,50 e R\$ 6,00, é correto afirmar que o custo de 0,75 kg dessa mistura é igual a
- (A) R\$ 18,90.
(B) R\$ 26,50.
(C) R\$ 33,75.
(D) R\$ 40,50.
(E) R\$ 47,25.

14. De acordo com o monitoramento por satélites feito pelo Instituto Nacional de Pesquisas Espaciais, de agosto de 2017 a julho de 2018 foram desmatados 6675 km² no bioma Cerrado, configurando uma redução de 11% em relação à área desmatada de agosto de 2016 a julho de 2017 que, por sua vez, havia apresentado um crescimento de 9% em relação à área desmatada de agosto de 2015 a julho de 2016.

A área desmatada no Cerrado, de agosto de 2015 a julho de 2016 foi de, aproximadamente,

- (A) 5980 km².
- (B) 6250 km².
- (C) 6760 km².
- (D) 6880 km².
- (E) 7170 km².

15. No gráfico a seguir estão representados, em milhões de vagas, os saldos anuais (criação menos fechamento) do número de postos de trabalho com carteira assinada no Brasil, referentes aos anos de 2014 a 2018.

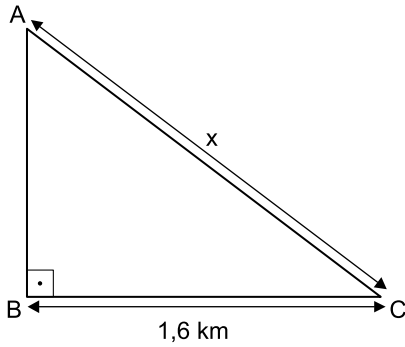


(Cadastro Geral de Empregados e Desempregados.
O Estado de S.Paulo, 24.01.2019)

De acordo com os dados do gráfico, é correto afirmar que, no período considerado, o valor da média aritmética dos saldos anuais de postos de trabalho representa o fechamento de

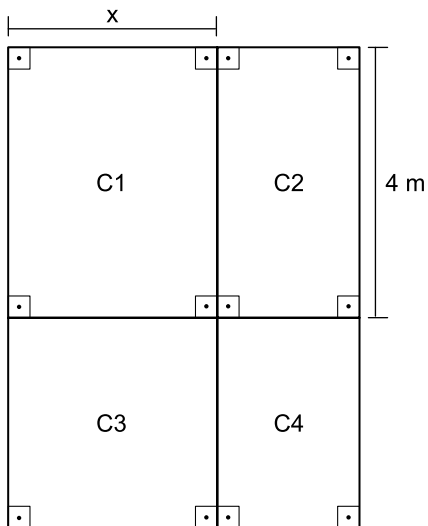
- (A) 957 000 vagas.
- (B) 764 200 vagas.
- (C) 574 200 vagas.
- (D) 479 000 vagas.
- (E) 384 200 vagas.

16. Uma gleba destinada a reflorestamento tem a forma de um triângulo retângulo ABC, conforme mostra a figura.



Se a área dessa gleba é $0,96 \text{ km}^2$, então a medida do lado AC, indicada por x na figura, é igual a

- (A) 2,2 km.
 (B) 2,1 km.
 (C) 2 km.
 (D) 1,9 km.
 (E) 1,8 km.
17. Um jardim, de formato retangular, é formado por 4 canteiros distintos, C1, C2, C3 e C4, sendo C3 quadrado e C1, C2 e C4, retangulares, conforme mostra a figura, cujas dimensões indicadas estão em metros.



Sabe-se que a área do canteiro C4 é igual à metade da área do canteiro C1, e que a soma das áreas de ambos é igual a 18 m^2 . Nessas condições, é correto afirmar que o perímetro desse jardim é igual a

- (A) 26 m.
 (B) 24 m.
 (C) 22 m.
 (D) 20 m.
 (E) 18 m.

18. Ricardo abasteceu o tanque de combustível de seu carro com gasolina e etanol, na razão de 1 para 4, nessa ordem. Se ele tivesse colocado 4 litros de gasolina a mais e 4 litros de etanol a menos, a razão entre o número de litros de gasolina e o número de litros de etanol passaria a ser $\frac{1}{2}$.

O número total de litros de combustível colocados nesse abastecimento foi

- (A) 40.
 (B) 36.
 (C) 32.
 (D) 30.
 (E) 28.
19. Uma comissão formada por professores de Matemática e de Português, num total de 26 professores, elaborou um total de 150 questões para treinamento de vestibulandos. Sabe-se que cada professor de português elaborou 7 questões e cada professor de Matemática elaborou 5 questões. Nessa comissão, o número de professores de Português corresponde, do número de professores de Matemática, a
- (A) 38,5%
 (B) 44%
 (C) 50,5%
 (D) 56%
 (E) 62,5%
20. Considere um recipiente cúbico e um recipiente com formato de bloco reto retangular, ambos inicialmente vazios, cujas medidas das arestas internas estão mostradas nas figuras 1 e 2, respectivamente.

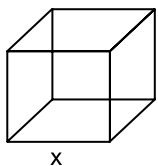


Figura 1

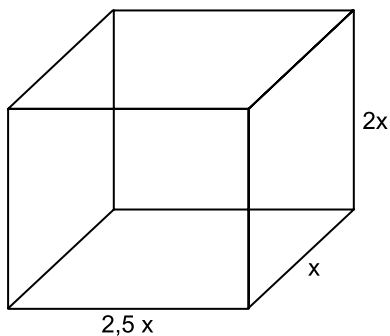


Figura 2

Com vazão constante, uma torneira enche totalmente o recipiente cúbico, sem transbordar, em 40 minutos. Aberta nas mesmas condições, essa mesma torneira irá encher totalmente o recipiente com formato de bloco retangular, sem transbordar, em

- (A) 3 horas e 40 minutos.
 (B) 3 horas e 20 minutos.
 (C) 3 horas e 10 minutos.
 (D) 2 horas e 40 minutos.
 (E) 2 horas e 20 minutos.

ATUALIDADES

21. Entre 311 concorrentes, o prêmio Nobel da Paz de 2018 foi concedido hoje [05.out] a uma dupla: o congolês Denis Mukwege e a ativista do povo yazidi Nadia Murad.

(Agência Brasil. <https://bit.ly/2Nr3oAK>. Acesso em 25.jan.2019. Adaptado)

Os ganhadores do prêmio tiveram destaque

- (A) na defesa das liberdades individuais e, principalmente, dos imigrantes e refugiados africanos.
- (B) no combate à pobreza das populações que habitam os países subdesenvolvidos.
- (C) na defesa dos direitos humanos das minorias étnicas em países em conflitos armados.
- (D) nos esforços para acabar com o uso da violência sexual como arma de guerra e conflito armado.
- (E) nas campanhas de erradicação do analfabetismo entre crianças trabalhadoras.

22. Em 14 de novembro, a máquina mais cara e sofisticada da ciência brasileira começou a testar suas turbinas. O projeto já consumiu cerca de R\$ 1,3 bilhão (de um total previsto de R\$ 1,8 bilhão) e, quando ficar pronto, colocará o país na vanguarda das pesquisas que utilizam esse tipo de artefato, como as que envolvem a visualização em altíssima resolução de estruturas de vírus e proteínas (em busca de novas vacinas), de solo (com a ideia de aprimorar fertilizantes) e de rochas e de novos materiais (para melhorar a exploração de gás e petróleo), entre outras.

(Folha de S.Paulo. <https://bit.ly/2G1oHbX>. Acesso em 25.jan.2019. Adaptado)

O texto destaca a inauguração do acelerador de partículas que está sendo construído

- (A) em Campinas (SP).
- (B) na Base de Alcântara (MA).
- (C) no Rio de Janeiro (RJ).
- (D) em Curitiba (PR).
- (E) em Porto Alegre (RS).

23. “Este é o melhor acordo possível.”

A premiê britânica, Theresa May, tem repetido há semanas essa frase na tentativa de convencer o Parlamento de seu país a aprovar o acordo que ela negociou com a União Europeia, estabelecendo os termos do *Brexit* - o processo de saída do Reino Unido do bloco.

Mas, na segunda-feira [17.dez], a premiê adiou indefinidamente a votação do acordo no Parlamento, reconhecendo que ele seria rejeitado pela maioria dos parlamentares britânicos

(G1. <https://glo.bo/2FTOmUF>. Acesso em 24.jan.2019. Adaptado)

Tem sido considerado como o ponto mais delicado do acordo para viabilizar o *Brexit*

- (A) o retorno imediato dos cidadãos europeus que vivem no Reino Unido para os seus países de origem, fato que provocaria forte déficit de mão de obra no Reino Unido.
- (B) a rápida desvalorização da libra nos mercados europeu e mundial, fato que provocaria forte abalo econômico-financeiro para todo o Reino Unido.
- (C) o fechamento da fronteira entre a Irlanda do Norte (parte do Reino Unido) e a Irlanda, fato que retomaria antigas tensões entre norte-irlandeses e irlandeses.
- (D) a perda do prestígio político do Reino Unido frente à Europa, o que inviabilizaria a permanência do país na OTAN (Organização do Tratado do Atlântico Norte).
- (E) a obrigação do governo britânico em continuar recebendo grupos de refugiados do Oriente Médio e África mesmo após a saída do bloco econômico europeu.

24. Em 05 de dezembro, o Instituto Brasileiro de Geografia e Estatística (IBGE) divulgou uma pesquisa denominada Síntese de Indicadores Sociais (SIS) que utiliza e compara dados socioeconômicos dos dois últimos anos para retratar a situação atual da população brasileira.

(G1. <https://glo.bo/2KX2fRR>. Acesso em 29.jan.2019. Adaptado)

A pesquisa mostrou que

- (A) o trabalho com carteira assinada cresceu entre os jovens.
- (B) a diferença salarial entre homens e mulheres foi reduzida.
- (C) o trabalho infantil apresentou expressivo declínio.
- (D) a proporção de crianças no conjunto da população aumentou.
- (E) a desigualdade social e a pobreza tiveram aumento.

25. O recém-empossado presidente da República, Jair Bolsonaro, assinou, nesta terça-feira (02.01), três decretos e uma medida provisória. Dentre as primeiras ações tomadas está a Medida Provisória (MP) que reestrutura a Esplanada dos Ministérios e estabelece a organização básica dos órgãos da presidência da República e dos ministérios. O documento confirma a estrutura de governo já anunciada, com 22 pastas, algumas delas com competências ampliadas.

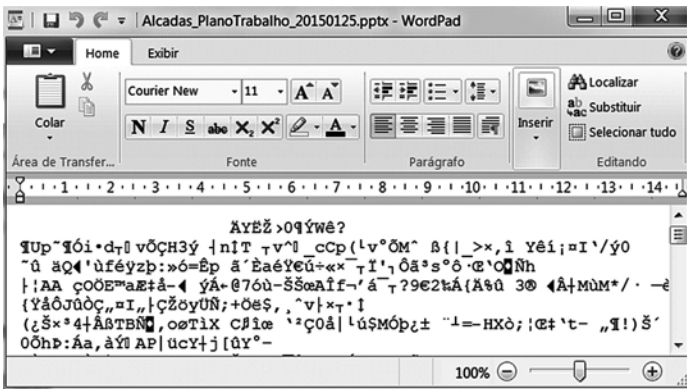
(UOL. <https://bit.ly/2Upz5hO>. Acesso em 25.jan.2019. Adaptado)

Na nova estrutura ministerial destaca-se o Ministério

- (A) da Agricultura, Pecuária e Abastecimento que incorpora as políticas de criação e conservação da infraestrutura.
- (B) da Cidadania que incorpora as ações que envolvem o desenvolvimento social, a cultura e os esportes.
- (C) das Relações Exteriores que incorpora o comércio internacional e os estudos sobre a balança comercial.
- (D) da Justiça que incorpora a regulamentação das políticas dos direitos humanos e a demarcação de terras indígenas.
- (E) do Meio Ambiente que incorpora setores da tecnologia e pesquisa de fontes de energia renováveis.


NOÇÕES DE INFORMÁTICA

26. Considere a janela do WordPad no MS-Windows 7, em sua configuração original, apresentada a seguir na qual se verifica a tentativa de se editar um arquivo.



O WordPad não conseguiu interpretar o arquivo porque se trata de um(a)

- (A) planilha eletrônica do Excel e o WordPad entende documentos XML.
- (B) documento do Word e o WordPad entende documentos de texto sem formatação.
- (C) apresentação do PowerPoint e o WordPad entende documentos com extensão RTF.
- (D) página Web e o WordPad entende imagens JPG.
- (E) imagem JPG e o WordPad entende páginas Web.

27. Assinale a alternativa que contém pelo menos uma palavra formatada pelo ícone , encontrado no grupo Fonte da guia Página Inicial, e sublinhada no MS-Word 2010, em sua configuração padrão.

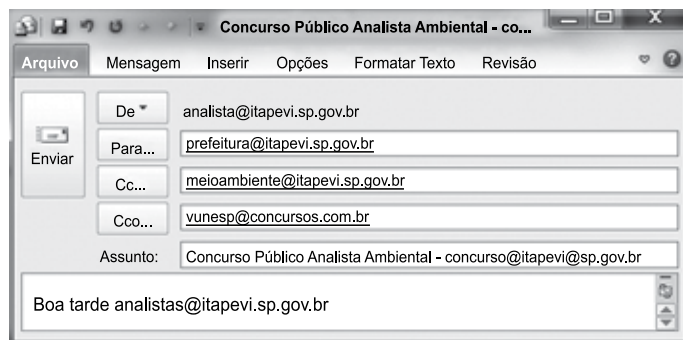
- (A) Prefeitura ^{Municipal} de Itapevi.
- (B) Prefeitura Municipal de Itapevi.
- (C) Prefeitura ~~Municipal~~ de Itapevi.
- (D) Analista Ambiental.
- (E) Analista Ambiental.

28. No MS-Excel 2010, na sua configuração padrão, assinale a alternativa que contém a situação da região norte após aplicação da fórmula =SE(D5>0;"Atrasado";SE(D5<0;"Adiantado";"No Prazo")) na célula E5 da planilha a seguir.

	A	B	C	D	E
1	Laudos Ambientais				
2	Região	Data Original	Nova Data	Var Dias	Situação
3	Leste	20/jan	02/fev	13	
4	Oeste	05/fev	25/jan	-11	
5	Norte	14/abr	14/abr	0	
6	Sul	25/jan	30/mar	64	

- (A) "Adiantado"
- (B) Adiantado
- (C) Atrasado
- (D) No Prazo
- (E) "No Prazo"

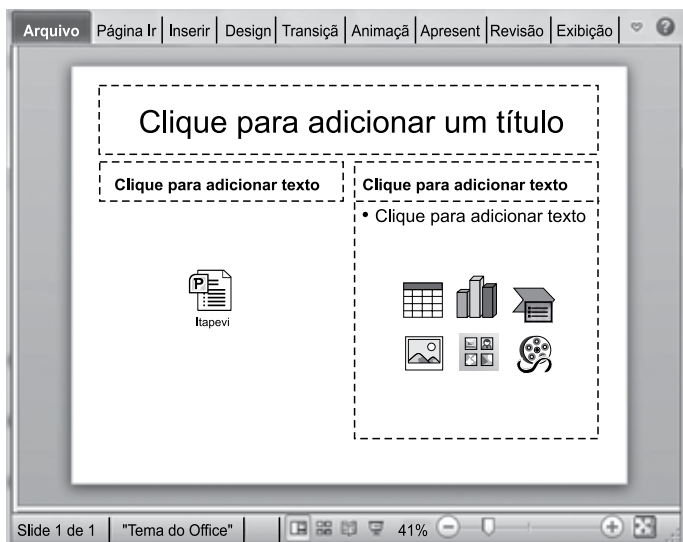
29. Observe a mensagem de correio eletrônico que está sendo digitada no MS-Outlook 2010, na sua configuração padrão, apresentada a seguir.



Assinale a alternativa que contém a conta de e-mail que também receberá a mensagem e que estará visível para o destinatário prefeitura@itapevi.sp.gov.br.






- (A) analista@itapevi.sp.gov.br
- (B) vunesp@concursos.com.br
- (C) concurso@itapevi@sp.gov.br
- (D) analistas@itapevi.sp.gov.br
- (E) meioambiente@itapevi.sp.gov.br

30. Considere o slide do MS-PowerPoint 2010, em sua configuração original, exibido na figura a seguir:



Assinale a alternativa que contém o ícone da guia Inserir que foi usado para incluir a apresentação Itapevi no slide.



- (A)  Objeto
- (B)  Tabela
- (C)  Clip-Art
- (D)  SmartArt
- (E)  Formas

CONHECIMENTOS ESPECÍFICOS

31. O tipo de exercício no qual uma força externa fornece assistência, manual ou mecânica, porque os músculos movimentadores primários precisam de ajuda para completar o movimento é o
- (A) passivo.
 - (B) passivo-assistido.
 - (C) ativo-assistido.
 - (D) ativo-resistido.
 - (E) auto-passivo.
32. “Um conjunto de medidas que ajudam pessoas com deficiências ou prestes a adquirir deficiências a terem e manterem uma funcionalidade ideal na interação com seu ambiente”. Trata-se do conceito de
- (A) reabilitação.
 - (B) promoção à saúde.
 - (C) atenção primária à saúde.
 - (D) prevenção primária.
 - (E) prevenção secundária.
33. “Visa à reorganização da atenção básica no País, de acordo com os preceitos do Sistema Único de Saúde, e é tida pelo Ministério da Saúde e gestores estaduais e municipais como estratégia de expansão, qualificação e consolidação da atenção básica por favorecer uma reorientação do processo de trabalho com maior potencial de aprofundar os princípios, as diretrizes e os fundamentos da atenção básica, de ampliar a resolutividade e o impacto na situação de saúde das pessoas e coletividades, além de propiciar uma importante relação custo-efetividade. Um ponto importante é o estabelecimento de uma equipe multiprofissional.
- Assinale a alternativa correspondente ao programa do Ministério da Saúde do Brasil descrito.
- (A) Academia da Saúde.
 - (B) Consultório na rua.
 - (C) Práticas Integrativas e Complementares.
 - (D) Melhor em casa.
 - (E) Estratégia saúde da família.

34. O Centro Especializado em Reabilitação (CER) é

- (A) um centro de reabilitação federal que compõe a Rede Sarah Kubitscheck, especializado na reabilitação neurológica, constituindo-se em referência para a rede de atenção à saúde da pessoa com deficiência no território brasileiro. É organizado a partir da combinação de, no mínimo, quatro modalidades de reabilitação (auditiva, física, intelectual, visual).
- (B) um ponto de atenção ambulatorial especializado em reabilitação, que realiza diagnóstico, tratamento, concessão, adaptação e manutenção de tecnologia assistiva, constituindo-se em referência para a rede de atenção à saúde da pessoa com deficiência no território. É organizado a partir da combinação de, no mínimo, duas modalidades de reabilitação (auditiva, física, intelectual, visual).
- (C) um centro de reabilitação composto por uma equipe multidisciplinar vinculado à Rede Lucy Montoro onde se realiza a reabilitação ortopédica e neurológica, constituindo-se em referência para a rede de atenção à saúde da pessoa com deficiência no Estado de São Paulo. É organizado a partir da combinação de, no mínimo, três modalidades de reabilitação (auditiva, física, intelectual, visual).
- (D) um centro que estimula a atuação integrada e permite realizar discussões de casos clínicos, possibilita o atendimento compartilhado entre profissionais tanto na Unidade de Saúde como nas visitas domiciliares, permite a construção conjunta de projetos terapêuticos de forma que amplia e qualifica as intervenções no território e na saúde de grupos populacionais. Essas ações de saúde também podem ser intersetoriais, com foco prioritário nas ações de prevenção e promoção da saúde.
- (E) um componente do Programa de Requalificação das Unidades Básicas de Saúde (UBS) que objetiva ampliar a resolutividade da Atenção Básica e promover sua integração com o conjunto da Rede de Atenção à Saúde.

35. Considerando-se o ângulo de Cobb, a escoliose pode ser definida como o desvio

- (A) lateral da coluna acima de 40°.
- (B) da coluna no plano sagital acima de 10°.
- (C) da coluna no plano sagital acima de 30°.
- (D) lateral da coluna acima de 10°.
- (E) da coluna no plano sagital acima de 45°.

36. Assinale a alternativa que corresponde a um grupo de desordens permanentes do desenvolvimento do movimento e da postura atribuído a um distúrbio não progressivo que ocorre durante o desenvolvimento do cérebro fetal ou infantil, podendo contribuir para limitações no perfil de funcionalidade da pessoa. A desordem motora pode ser acompanhada por distúrbios sensoriais, perceptivos, cognitivos, de comunicação e comportamental, por epilepsia e por problemas musculoesqueléticos secundários.

- (A) Espinha bífida.
- (B) Paralisia cerebral.
- (C) Mielomeningocele.
- (D) Hidrocefalia.
- (E) Duchenne.

37. A quantidade de equipes e a somatória das cargas horárias profissionais mínimas semanais do Núcleo Ampliado de Saúde da Família e Atenção Básica – 1 (NASF – 1) são, respectivamente:

- (A) 5 a 9 equipes; 200 horas.
- (B) 1 a 3 equipes; 400 horas.
- (C) 3 ou 4 equipes; 100 horas.
- (D) 1 a 2 equipes; 80 horas.
- (E) 12 equipes; 1 000 horas semanais.

38. Um fisioterapeuta irá realizar as orientações pré-operatórias para um paciente que irá passar por uma cirurgia de artroplastia total de quadril devido a um caso grave de osteoartrite. As orientações realizadas no pré-operatório são importantes para que o paciente evite algumas posições após a cirurgia, que podem ser prejudiciais. Neste caso, no 3º dia pós-operatório, o paciente deve evitar

- (A) realizar rotações do quadril.
- (B) realizar flexão do joelho.
- (C) sentar na beira do leito hospitalar ou na poltrona.
- (D) realizar abdução do quadril, mesmo em pequenas amplitudes.
- (E) realizar qualquer tipo de movimento no quadril.

39. Um fisioterapeuta avaliou um paciente com doença de Parkinson e identificou três alterações: (1) durante a mobilização passiva, percebeu uma resistência intermitente; (2) na movimentação ativa, o paciente realizou os movimentos de modo muito lento, mesmo quando o fisioterapeuta pediu para o paciente fazer o movimento mais rápido; (3) durante a marcha, o paciente parou de andar ao se deparar com um pequeno degrau na entrada do consultório e não conseguiu mais reiniciar a marcha. As alterações encontradas na avaliação foram:
- (A) (1) sinal do canivete; (2) acinesia; (3) festinação.
 - (B) (1) sinal do canivete; (2) bradicinesia; (3) festinação.
 - (C) (1) sinal de roda denteada; (2) bradicinesia; (3) *freezing* (congelamento).
 - (D) (1) sinal de roda denteada; (2) acinesia; (3) festinação.
 - (E) (1) sinal do canivete; (2) bradicinesia; (3) *freezing* (congelamento).
40. A fisioterapia respiratória é identificada como uma área de atuação que visa à função ventilatória, de troca gasosa, de transporte e de captação de oxigênio. Os exercícios respiratórios são amplamente utilizados pela fisioterapia. O exercício no qual o paciente é orientado a mover predominantemente a parede abdominal durante a inspiração e a reduzir o movimento da caixa torácica com o objetivo de melhorar a ventilação das bases dos pulmões, diminuir o trabalho respiratório pela redução da contribuição dos músculos acessórios e reduzir a dispneia é chamado de
- (A) respiratório de expansão torácica.
 - (B) suspiro inspiratório.
 - (C) expiração abreviada.
 - (D) respiratório a partir do volume residual.
 - (E) diafragmático.
41. Paciente Maria, 40 anos, relata que tem dor musculoesquelética crônica generalizada, há mais de três meses, que dificulta as atividades de vida diária. Refere que tem se sentido desmotivada e triste desde o início dos sintomas. Refere ainda que faz uso de antidepressivo, faz acompanhamento psicológico e seu reumatologista recomendou fisioterapia. A paciente tem diagnóstico de fibromialgia, e a fisioterapia pode contribuir para a melhora dos sintomas por meio de
- (A) recursos termofototerápicos, mas alongamento muscular e exercícios aeróbicos são contraindicados.
 - (B) exercícios passivos, mas exercícios aeróbicos e resistidos são contraindicados.
 - (C) exercícios resistidos, mas alongamento muscular e exercícios aeróbicos são contraindicados.
 - (D) exercícios físicos, entre eles alongamento muscular e exercícios aeróbicos, entre outras modalidades.
 - (E) exercícios passivos, mas alongamento muscular é contraindicado.
42. A respeito da fisioterapia em pacientes queimados, é correto afirmar que
- (A) exercícios passivos são contraindicados, pois podem piorar a lesão.
 - (B) os objetivos funcionais primários são manter a mobilidade e prevenir ou minimizar as escaras e contraturas.
 - (C) não há evidências de que o alongamento promova efeitos positivos na redução de contraturas de pacientes queimados.
 - (D) exercícios ativos são contraindicados, pois podem causar dor no paciente queimado.
 - (E) a aplicação de laser pode causar eritema e hipertrofia das cicatrizes de pacientes queimados.
43. É uma contraindicação da reabilitação cardiovascular na fase hospitalar:
- (A) pós-infarto agudo do miocárdio.
 - (B) pós-revascularização do miocárdio.
 - (C) insuficiência cardíaca compensada.
 - (D) pós-correção de valva cardíaca.
 - (E) angina instável.
44. Com relação ao treinamento dos músculos do assoalho pélvico em mulheres com incontinência urinária por estresse, é correto afirmar que
- (A) consiste de um programa de relaxamento dos músculos do assoalho pélvico.
 - (B) devido à falta de evidências científicas, é o recurso menos utilizado.
 - (C) a contração voluntária dos músculos do assoalho pélvico aumenta a pressão uretral, impedindo vazamento de urina.
 - (D) não é eficaz na redução do número de perdas urinárias ao longo do dia.
 - (E) não é eficaz no tratamento da incontinência urinária por estresse.

45. Quanto ao tratamento da sarcopenia em idosos, é correto afirmar que
- (A) exercícios aeróbicos produzem melhor efeito que os exercícios resistidos na massa muscular, força muscular e no desempenho físico.
 - (B) a combinação da suplementação proteica com exercícios resistidos não produz efeitos adicionais na melhora da massa muscular, força muscular e no desempenho físico.
 - (C) exercícios de alto impacto são os que promovem maiores efeitos na massa muscular, força muscular e no desempenho físico.
 - (D) os exercícios resistidos promovem benefícios na massa muscular, força muscular e no desempenho físico, e alguns estudos têm mostrado que a combinação dos exercícios com a suplementação proteica pode produzir efeitos adicionais.
 - (E) a suplementação proteica produz efeitos superiores aos do exercício resistido na melhora da massa muscular, força muscular e no desempenho físico.
46. A respeito da reabilitação profissional, é correto afirmar que
- (A) atividades em grupo, de caráter terapêutico e educativo, realizados por equipe multiprofissional, não têm resultados positivos na assistência.
 - (B) a equipe multiprofissional que atua na saúde do trabalhador não visa contribuir para a ampliação do grau de autonomia dos usuários, reflexão sobre o processo de adoecimento, socialização de dúvidas e resgate da cidadania.
 - (C) o objetivo principal da equipe multiprofissional é proporcionar ao trabalhador o resgate de sua capacidade funcional, promovendo a autonomia no sentido de ampliação da compreensão do processo saúde-doença e da capacidade de autocuidado.
 - (D) a educação em saúde parece não ter efeito positivo na requalificação profissional por meio do oferecimento de curso.
 - (E) a fisioterapia foca sua atuação nos transtornos mentais dos trabalhadores.
47. O recurso terapêutico que promove, dentre os principais efeitos terapêuticos, ação anti-inflamatória, analgesia e modulação da atividade celular é o(a)
- (A) Estimulação Elétrica Funcional (FES).
 - (B) Laser de baixa potência.
 - (C) Laser de alta potência.
 - (D) Estimulação elétrica transcutânea (TENS).
 - (E) Forno de Bier.
48. Assinale a alternativa que apresenta uma das ações que o fisioterapeuta pode ter nas Unidades Básicas de Saúde.
- (A) Atua na saúde da criança, no acompanhamento do desenvolvimento neuropsicomotor e na saúde do escolar.
 - (B) Atua na saúde do adulto, diagnosticando as diversas doenças que acometem a cinética corporal, bem como no diagnóstico das doenças ocupacionais.
 - (C) Atua na saúde do idoso, na reabilitação das sequelas motoras das diferentes comorbidades.
 - (D) Na saúde da mulher, o fisioterapeuta não tem atuação nas Unidades Básicas de Saúde.
 - (E) O fisioterapeuta não está inserido nas Unidades Básicas de Saúde devido a restrições do COFFITO.
49. J. F. H., 85 anos, sexo feminino, relata quedas frequentes e apresenta importante instabilidade postural. Necessita de apoio nas duas mãos para conseguir deambular sem perder o equilíbrio. Apresenta função motora preservada nos membros superiores. Neste caso, o dispositivo de auxílio de marcha indicado é(são)
- (A) muletas canadenses.
 - (B) cadeira de rodas.
 - (C) bengala de um apoio.
 - (D) andador.
 - (E) bengala com dobra ou "offset".
50. Um fisioterapeuta está atendendo um paciente que sofreu um acidente vascular cerebral há 6 meses. Durante a mobilização passiva, percebe uma resistência contrária ao alongamento do bíceps braquial. Com o objetivo de facilitar a mobilização passiva do cotovelo do paciente em questão, o fisioterapeuta deve
- (A) realizar o alongamento com movimento rápido do músculo.
 - (B) realizar percussão no ventre do bíceps braquial enquanto alonga esse músculo.
 - (C) realizar a mobilização passiva lentamente e aguardar o relaxamento gradual do músculo enquanto progride o alongamento.
 - (D) acalmar o paciente antes de mobilizá-lo, pois este está com medo do procedimento e contrai, voluntariamente, o bíceps braquial.
 - (E) orientar o paciente a permanecer com o cotovelo flexionado a maior parte do dia para não estimular o alongamento do bíceps e sua contração reflexa. Assim, quando o paciente chegar na sessão, o fisioterapeuta terá maior facilidade para mobilizar o cotovelo do paciente.

