



PREFEITURA MUNICIPAL DE ITAPEVI
ESTADO DE SÃO PAULO

CONCURSO PÚBLICO

013. PROVA OBJETIVA

GUARDA CIVIL MUNICIPAL (GCM)
(FEMININO / MASCULINO)

- ◆ Você recebeu sua folha de respostas e este caderno contendo 50 questões objetivas.
- ◆ Confira seus dados impressos na capa deste caderno e na folha de respostas.
- ◆ Quando for permitido abrir o caderno, verifique se está completo ou se apresenta imperfeições. Caso haja algum problema, informe ao fiscal da sala.
- ◆ Leia cuidadosamente todas as questões e escolha a resposta que você considera correta.
- ◆ Marque, na folha de respostas, com caneta de tinta preta, a letra correspondente à alternativa que você escolheu.
- ◆ A duração da prova é de 3 horas, já incluído o tempo para o preenchimento da folha de respostas.
- ◆ Só será permitida a saída definitiva da sala e do prédio após transcorridos 75% do tempo de duração da prova.
- ◆ Ao sair, você entregará ao fiscal a folha de respostas e este caderno, podendo levar apenas o rascunho de gabarito, localizado em sua carteira, para futura conferência.
- ◆ Até que você saia do prédio, todas as proibições e orientações continuam válidas.

AGUARDE A ORDEM DO FISCAL PARA ABRIR ESTE CADERNO DE QUESTÕES.

Nome do candidato _____

RG _____

Inscrição _____

Prédio _____


Sala _____

Carteira _____

CONHECIMENTOS GERAIS

LÍNGUA PORTUGUESA

Leia a tira para responder às questões de números **01** e **02**.



(André Dahmer, Malvados. Disponível em <https://www1.folha.uol.com.br>. 15.01.2019)

01. No contexto da tira, emprega-se a frase

- (A) “O mundo é uma máquina...”, em sentido próprio, para fazer referência ao atual estágio de evolução tecnológica em que se encontra a humanidade.
- (B) “... é uma máquina de moer corações.”, em sentido figurado, para expressar a ideia de que, nas relações sociais, predominam o respeito e o altruísmo.
- (C) “Como alguém tem coragem de operar...”, em sentido figurado, para condenar a apatia de algumas pessoas em um contexto de transformações sociais.
- (D) “Certamente é gente...”, em sentido próprio, para negar que possam existir pessoas indiferentes ao fato de o mundo ser um ambiente hostil.
- (E) “... gente que não tem coração.”, em sentido figurado, para se referir à insensibilidade de pessoas cujas ações tornam o mundo um lugar opressivo.

02. Considere as frases dos três quadrinhos:

- O mundo é uma máquina de moer **corações**.
- Como alguém tem coragem de operar **essa máquina**?
- Certamente é gente que não tem **coração**.

Assinale a alternativa em que os pronomes empregados para substituir as expressões destacadas estão em conformidade com a norma-padrão da língua portuguesa.

- (A) máquina de moê-los / coragem de operá-la / gente que não o tem.
- (B) máquina de moê-los / coragem de operar-lhe / gente que não lhe tem.
- (C) máquina de moer-lhes / coragem de operá-la / gente que não o tem.
- (D) máquina de moer-lhes / coragem de operar-lhe / gente que não lhe tem.
- (E) máquina de moer-nos / coragem de operá-la / gente que não lhe tem.

Leia o texto para responder às questões de números **03** a **10**.

O futuro do trabalho

Foi lançado nesse mês, em meio às celebrações do centenário da Organização Internacional do Trabalho (OIT), o relatório da comissão global sobre o futuro do trabalho, que teve a honra de integrar. O que o texto revela é uma visão centrada em políticas públicas para enfrentar desafios que o século trouxe para a humanidade.

Frente à chamada revolução industrial 4.0, ao envelhecimento da população e à mudança climática, a resposta aparece na forma de programas para evitar o crescimento da desigualdade e melhorar a preparação das gerações futuras e o conceito de uma sociedade ativa ao longo da vida.

É importante lembrar que, segundo pesquisadores, haverá em poucos anos a extinção de profissões e de tarefas dentro de várias ocupações, diante da automação e da robotização aceleradas. Outras serão criadas, demandando, porém, competências distintas das que estavam em alta até pouco tempo. O cenário exige grande investimento nas pessoas. Por isso, o relatório clama por uma agenda econômica centrada em seres humanos, especialmente uma ampliação em suas capacidades.

Isso envolve trabalhar com o conceito de aprendizagem ao longo da vida, ou seja, desde a primeira infância, a fim de desenvolver competências basilares, necessárias para promover autonomia para que todos possam aprender a aprender.

Afinal, numa vida em que tarefas vão sendo extintas e assumidas por máquinas, teremos que nos reinventar continuamente, passando a desempenhar atividades que demandam capacidade de resolução criativa e colaborativa de problemas complexos, reflexão crítica e maior profundidade de análise.

Teremos também que contar com um ecossistema educacional que inclua modalidades ágeis de cursos para capacitação, reciclagem e requalificação. A certificação de conhecimentos previamente adquiridos ganha força e sentido de urgência, além de um investimento maior em escolas técnicas e profissionais que fomentem a aquisição das competências necessárias não só para exercer uma profissão específica, mas também para obter outra rapidamente, se necessário.

(Claudia Costin. *Folha de S.Paulo*, 25.01.2019. Adaptado)

03. Segundo o texto, a reivindicação por uma agenda econômica centrada na ampliação das capacidades humanas deve-se à

- (A) recente adoção de políticas públicas educacionais direcionadas ao enfrentamento dos desafios impostos pelas transformações nos modos de produção.
- (B) necessidade de encontrar soluções que possam minimizar o impacto dos problemas sociais para a população mais idosa que têm origem no desemprego.
- (C) emergência de se adotarem medidas para conter o processo acelerado de automação e de robotização, responsável pelo avanço das mudanças climáticas.
- (D) demanda pelo desenvolvimento de novas competências, diante da previsão do fim de ocupações em decorrência da intensa automação e robotização.
- (E) necessidade de aceleração da automação da indústria nacional, indispensável para atender a demanda de um mercado consumidor em crescimento constante.

04. Segundo a autora, uma preparação eficiente para o contexto de trabalho em que antigas profissões serão extintas enquanto outras serão criadas envolve

- (A) o trabalho constante de pesquisa voltada para a identificação das profissões com potencial para serem extintas e daquelas que permanecerão em alta.
- (B) o desenvolvimento da consciência política sobre a necessidade da adoção de medidas para fazer frente aos novos desafios impostos à humanidade.
- (C) o reconhecimento do nível de capacitação pessoal, o que impõe aceitar desempenhar desde atividades mais básicas até aquelas que dependem de reflexão crítica.
- (D) a capacidade de reinventar-se continuamente, fundamental para o desempenho de atividades que requerem reflexão crítica e aptidão para resolução de problemas.
- (E) um sistema educacional que despreze os conhecimentos prévios dos estudantes e direcione o ensino à capacitação deles para desempenhar uma única profissão.

Considere a seguinte passagem do 4º parágrafo, para responder às questões de números **05** e **06**.

Isso envolve trabalhar com o conceito de aprendizagem ao longo da vida, ou seja, desde a primeira infância, a fim de desenvolver competências basilares, necessárias para promover autonomia para que todos possam aprender a aprender.

05. Conforme a passagem, no que diz respeito à autonomia para aptidão à aprendizagem,

- (A) o aprendizado desde a primeira infância pouco acrescenta.
- (B) o conceito de aprendizagem ao longo da vida não pode ser implicado.
- (C) o desenvolvimento de competências básicas é imprescindível.
- (D) a exigência de aprendizagem ao longo da vida pode ser preterida.
- (E) a imposição do desenvolvimento de competências desde cedo é controversa.

06. O termo em destaque na frase “**Isso** envolve trabalhar com o conceito de aprendizagem ao longo da vida...” refere-se à seguinte informação do parágrafo anterior:

- (A) o desenvolvimento de pesquisas sobre os efeitos da automação.
- (B) a extinção de certas profissões e de algumas tarefas específicas.
- (C) a aceleração no processo de automatização e de robotização.
- (D) a capacidade para reconhecer as competências que estão em alta.
- (E) a necessidade de ampliação das capacidades dos seres humanos.

07. Considere as passagens:

- Outras serão criadas, demandando, **porém**, competências distintas das que estavam em alta até pouco tempo. (3º parágrafo)
- ... que fomentem a aquisição das competências necessárias não só para exercer uma profissão específica, mas também para obter outra rapidamente, **se** necessário. (último parágrafo)

Os termos em destaque nas passagens expressam noções, respectivamente, de

- (A) contraste e de condição, e podem ser corretamente substituídos por “entretanto” e “caso”, nessa ordem.
- (B) ressalva e de tempo, e podem ser corretamente substituídos por “contudo” e “desde que”, nessa ordem.
- (C) conclusão e de comparação, e podem ser corretamente substituídos por “portanto” e “como”, nessa ordem.
- (D) explicação e de tempo, e podem ser corretamente substituídos por “pois” e “quando”, nessa ordem.
- (E) conclusão e de concessão, e podem ser corretamente substituídos por “assim” e “mesmo que”, nessa ordem.

08. O sentido expresso pelo termo destacado em “... a resposta aparece na forma de programas **para** evitar o crescimento da desigualdade...” também pode ser corretamente identificado na expressão destacada em:

- (A) ... **em meio** às celebrações do centenário da Organização Internacional do Trabalho.
- (B) ... a extinção de profissões e de tarefas dentro de várias ocupações, **diante da** automação e da robotização aceleradas.
- (C) ... trabalhar com o conceito de aprendizagem ao longo da vida, ou seja, desde a primeira infância, **a fim de** desenvolver competências...
- (D) Por isso, o relatório clama **por** uma agenda econômica centrada em seres humanos...
- (E) É importante lembrar que, **segundo** pesquisadores, haverá em poucos anos a extinção de profissões...

09. Assinale a alternativa em que, após a inserção das vírgulas, a frase do texto estará em conformidade com a norma-padrão da língua portuguesa.

- (A) ... uma visão centrada, em políticas públicas, para enfrentar desafios que o século trouxe para a humanidade.
- (B) ... programas para evitar, o crescimento da desigualdade, e melhorar a preparação das gerações futuras...
- (C) ... haverá, em poucos anos, a extinção de profissões e de tarefas dentro de várias ocupações...
- (D) Teremos também que contar, com um ecossistema educacional, que inclua modalidades ágeis de cursos para capacitação...
- (E) A certificação de, conhecimentos previamente adquiridos, ganha força e sentido de urgência...

10. Substituindo-se os termos destacados na frase “Por isso, o relatório **clama** por uma agenda econômica **centrada** em seres humanos...” a redação permanecerá em conformidade com a norma-padrão de regência em:

- (A) Por isso, o relatório impõe por uma agenda econômica focada com seres humanos...
- (B) Por isso, o relatório reivindica uma agenda econômica ajustada para seres humanos...
- (C) Por isso, o relatório reclama de uma agenda econômica dirigida de seres humanos...
- (D) Por isso, o relatório postula com uma agenda econômica aplicada por seres humanos...
- (E) Por isso, o relatório requer de uma agenda econômica destinada a seres humanos...

Leia o texto para responder às questões de números 11 a 15.

O Marajá

A família toda ria de dona Morgadinha e dizia que ela estava sempre esperando a visita de alguém ilustre. Dona Morgadinha não podia ver uma coisa fora do lugar, uma ponta de poeira em seus móveis ou uma mancha em seus vidros e cristais. Gemia baixinho quando alguém esquecia um sapato no corredor, uma toalha no quarto ou – ai, ai, ai – uma almofada fora do sofá da sala. Baixinha, resoluta, percorria a casa com uma flanela na mão, o olho vivo contra qualquer incursão do pó, da cinza, do inimigo nos seus domínios.

Dona Morgadinha era uma alma simples. Não lia jornal, não lia nada. Achava que jornal sujava os dedos e livro juntava mofo e bichos. O marido de dona Morgadinha, que ela amava com devoção apesar do seu hábito de limpar a orelha com uma tampa de caneta Bic, estabeleceu um limite para sua compulsão por limpeza. Ela não podia entrar em sua biblioteca. Sua jurisdição acabava na porta. Ali dentro só ele podia limpar, e nunca limpava. E, nas raras vezes em que dona Morgadinha chegava à porta do escritório proibido para falar com o marido, esse fazia questão de desafiá-la. Botava os pés em cima dos móveis. Atirava os sapatos longe. Uma vez chegara a tirar uma meia e jogar em cima da lâmpada só para ver a cara da mulher. Sacudia a ponta do charuto sobre um cinzeiro cheio e errava deliberadamente o alvo. Dona Morgadinha então fechava os olhos e, incapaz de se controlar, lustrava com a sua flanela o trinco da porta.

(Luis Fernando Veríssimo. *Comédias para se ler na escola*. Rio de Janeiro: Objetiva, 2008. Adaptado)

11. A expressão presente no texto que melhor sintetiza a principal característica da personagem dona Morgadinha é:

- (A) ... sempre esperando a visita...
- (B) Gemia baixinho...
- (C) Não lia jornal, não lia nada.
- (D) ... compulsão por limpeza.
- (E) ... incapaz de se controlar...

12. Considere as frases:

- ... estava sempre esperando a visita de alguém **ilustre**.
- Baixinha, **resoluta**, percorria a casa com uma flanela na mão...
- Sacudia a ponta do charuto sobre um cinzeiro cheio e errava **deliberadamente** o alvo.

Os termos em destaque nas frases têm como sinônimos adequados ao contexto, correta e respectivamente:

- (A) notável; determinada; propositalmente.
- (B) imponente; hábil; impensadamente.
- (C) sentencioso; indolente; manifestamente.
- (D) observador; servil; insistentemente.
- (E) crítico; obstinada; indiscriminadamente.

13. A concordância das palavras está em conformidade com a norma-padrão da língua portuguesa em:

- (A) A dona de casa não suportava ver sujo ou desorganizado seus móveis, vidros e cristais.
- (B) Costumava ser constante a insatisfação da dona de casa com os maus hábitos do marido.
- (C) As almofadas do sofá da sala fora de seu lugar de origem tirava a senhora do sério.
- (D) A dona de casa não gostava de jornais por achar que suas folhas continha fungos e outras sujeiras.
- (E) Para desespero da mulher, os pés do marido estavam frequentemente colocado em cima dos móveis.

14. Assinale a alternativa em que há emprego de palavra ou expressão em sentido figurado.

- (A) Dona Morgadinha não podia ver uma coisa fora do lugar...
- (B) Dona Morgadinha era uma alma simples.
- (C) ... achava que jornal sujava os dedos e livro juntava mofo e bichos.
- (D) Ali dentro só ele podia limpar, e nunca limpava.
- (E) Uma vez chegara a tirar uma meia e jogar em cima da lâmpada...

15. Assinale a alternativa em que o acento indicativo da crase está empregado em conformidade com a norma-padrão da língua portuguesa.

- (A) À visita de alguém ilustre parecia ser sempre aguardada por Dona Morgadinha.
- (B) À qualquer sinal de mancha nos vidros e cristais, punha-se a reclamar baixinho.
- (C) À vista do menor sinal de poeira, a mulher percorria a casa com uma flanela na mão.
- (D) À busca constante por limpeza e organização era o objetivo diário de dona de casa.
- (E) À devoção de Dona Morgadinha pelo marido esbarrava nos maus hábitos do homem.

16. O futebol foi criado na Inglaterra, onde a jarda é unidade tradicional de comprimento. Com o passar dos anos, a FIFA, entidade internacional, precisava estabelecer as dimensões também em metros, unidade de comprimento adotada pela maioria dos outros países filiados. Ao fazer isso, a FIFA precisou converter as dimensões de jardas para metros a fim de facilitar as medições.

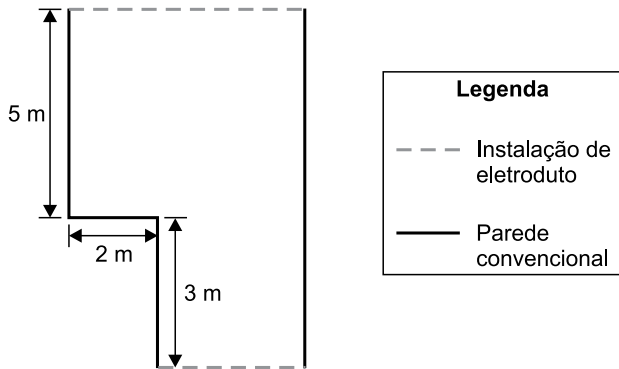
Por exemplo, a distância da barreira em relação à bola, numa cobrança de falta, que era igual a 10 jardas, foi convertida para 9,15 metros. Analogamente, é correto concluir que as dimensões mínimas de um campo de futebol para jogos internacionais foram convertidas de 110 jardas de comprimento por 70 jardas de largura para, aproximadamente,

- (A) 105 metros por 65 metros.
- (B) 100 metros por 64 metros.
- (C) 100 metros por 60 metros.
- (D) 95 metros por 65 metros.
- (E) 95 metros por 60 metros.

17. Um feirante expõe mudas de orquídeas e de rosas para venda. Os preços praticados acabam sendo um atrativo para os visitantes do seu espaço. Por exemplo, uma muda de orquídea e duas mudas de rosas totalizam R\$ 48,00, sendo que o preço da muda de orquídea é R\$ 21,00 mais caro que o preço da muda de rosa. Se, ao longo de uma manhã, esse feirante vender 10 mudas de orquídeas e 10 mudas de rosas, ele irá arrecadar um total de

- (A) R\$ 345,00.
- (B) R\$ 375,00.
- (C) R\$ 390,00.
- (D) R\$ 480,00.
- (E) R\$ 670,00.

18. Um empreendedor alugou uma sala de área igual a 58 m^2 para iniciar um novo negócio. Ele está fazendo uma pequena reforma para adequar o lugar e irá instalar eletrodutos externos ao longo de duas paredes. A ilustração a seguir mostra detalhes da planta do local alugado e as paredes onde serão instalados os eletrodutos.



A soma dos comprimentos da parede onde serão colocados os eletrodutos é igual a

- (A) 14 metros.
- (B) 16 metros.
- (C) 17 metros.
- (D) 19 metros.
- (E) 21 metros.
19. Uma empresa foi contratada para encher duas lajes no formato de prismas retos retangulares. A tabela a seguir apresenta as dimensões dessas lajes.

	Comprimento	Largura	Altura
Laje 1	10 m	6 m	15 cm
Laje 2	12 m	15 m	20 cm


Dado que o preço cobrado por essa empresa é diretamente proporcional ao volume da laje, tem-se que o preço cobrado pelo serviço realizado na laje de maior volume será

- (A) 2 vezes o valor cobrado na laje de menor volume.
- (B) 3 vezes o valor cobrado na laje de menor volume.
- (C) 4 vezes o valor cobrado na laje de menor volume.
- (D) 6 vezes o valor cobrado na laje de menor volume.
- (E) 8 vezes o valor cobrado na laje de menor volume.

20. Quando está planejando uma viagem, Augusto sempre consulta um aplicativo que determina o custo aproximado da viagem, com base no custo por quilômetro rodado, obtido a partir das características do veículo, somado ao valor do pedágio para o percurso definido. Em sua consulta mais recente, verificou que, para uma viagem que irá fazer, o custo total será de R\$ 511,80, sendo R\$ 25,80 o valor gasto com pedágio. Dado que a viagem terá 900 km, o custo por quilômetro que o aplicativo estipulou para o veículo de Augusto é um valor entre
- (A) R\$ 0,40 e R\$ 0,45.
 (B) R\$ 0,45 e R\$ 0,50.
 (C) R\$ 0,50 e R\$ 0,55.
 (D) R\$ 0,55 e R\$ 0,60.
 (E) R\$ 0,60 e R\$ 0,65.

Considere as informações a seguir para responder às questões de números 21 e 22.

Segundo uma agência de análises financeiras, no ano de 2015 foram gastos 41,3 bilhões de reais em compras pela internet (compras *on-line*), o que representou um crescimento de 15% em relação ao ano de 2014. O quadro a seguir mostra a distribuição da população mundial, dividida em três grupos.



21. Considerando somente aqueles que não fazem compras, sendo usuários de internet ou não, tem-se que os não usuários correspondem a

- (A) $\frac{2}{3}$
 (B) $\frac{2}{5}$
 (C) $\frac{3}{5}$
 (D) $\frac{8}{25}$
 (E) $\frac{12}{25}$

R A S C U N H O

22. De acordo com o texto, as compras pela internet no ano de 2014 movimentaram, aproximadamente,

- (A) R\$ 35.100.000,00.
- (B) R\$ 35.900.000,00.
- (C) R\$ 26.300.000.000,00.
- (D) R\$ 35.100.000.000,00.
- (E) R\$ 35.900.000.000,00.

23. Uma empresa passará a utilizar um novo sistema interno e precisará atualizar o cadastro de seus clientes nesse novo sistema. Na primeira semana, foram designados 3 funcionários para realização desse procedimento, sendo que, em média, cada um desses funcionários leva 7 minutos e 30 segundos para atualizar o cadastro de um cliente. Na semana seguinte, o gerente dessa empresa solicitou alocar mais 2 funcionários no setor de atualização de cadastro, além da realização de um treinamento com todos os funcionários desse setor, de modo a acelerar o procedimento de cadastro, objetivando reduzir o tempo médio de atualização de cadastro para 5 minutos.

Se o objetivo for cumprido, o número de cadastros atualizados por hora por esse setor será, em relação aos números da primeira semana,

- (A) 4 vezes maior.
- (B) 3,5 vezes maior.
- (C) 3 vezes maior.
- (D) 2,5 vezes maior.
- (E) 2 vezes maior.

24. Um funcionário do almoxarifado recebeu pedidos de materiais de consumo conforme a tabela a seguir:

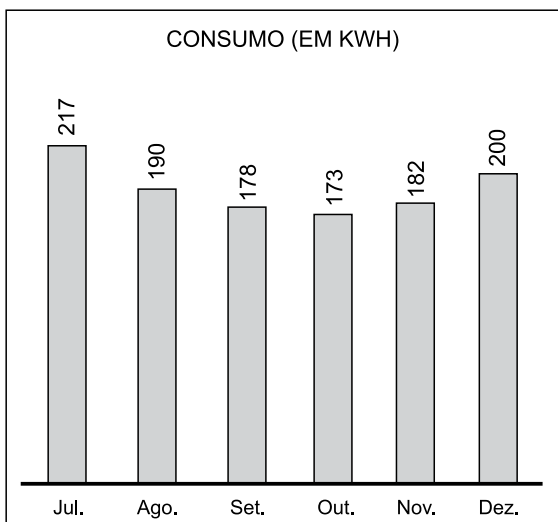
Secretaria	Itens
Educação	210
Fazenda e Patrimônio	168
Saúde	294

Esse funcionário irá remeter os pedidos, para cada secretaria, no menor número possível de pacotes, todos contendo a mesma quantidade de itens, independentemente do destino.

O número total de pacotes necessários será igual a

- (A) 4.
- (B) 5.
- (C) 7.
- (D) 12.
- (E) 16.

25. O consumo de energia elétrica em uma residência (em kWh), de julho a dezembro de 2018, está representado pelo gráfico a seguir:



Em janeiro de 2019, uma nova pessoa passou a habitar nessa residência. Como o consumo de energia aumentou muito mais que o esperado, os antigos moradores resolveram cobrar do novo habitante o valor referente ao consumo de energia que excedeu a média mensal de consumo da residência no segundo semestre de 2018. Sabendo que em janeiro de 2019 o consumo foi de 480 kWh, será cobrado do novo morador um valor referente à quantidade de

- (A) 240 kWh.
- (B) 263 kWh.
- (C) 280 kWh.
- (D) 290 kWh.
- (E) 307 kWh.

R A S C U N H O

NOÇÕES DE INFORMÁTICA

Considere os softwares em sua configuração padrão para responder às questões de número 26 a 30.

26. Observe a figura a seguir, que exibe parte de uma planilha extraída do MS-Excel 2010.

	A	B	C	D	
1	Prefeitura Municipal de Itapevi				
2					
3					

As células A1, B1, C1 e D1 foram unificadas em uma célula maior e o conteúdo desta nova célula foi centralizado utilizando o recurso “Mesclar e Centralizar”, do grupo “Alinhamento”, da guia “Página Inicial”.

Ao selecionar a célula unificada exibida na figura, clicar na seta para baixo do recurso “Mesclar e Centralizar” e selecionar o item “Desfazer Mesclagem de Células”, o texto “Prefeitura Municipal de Itapevi” será colocado na célula:

- (A) E1
- (B) D1
- (C) C1
- (D) B1
- (E) A1

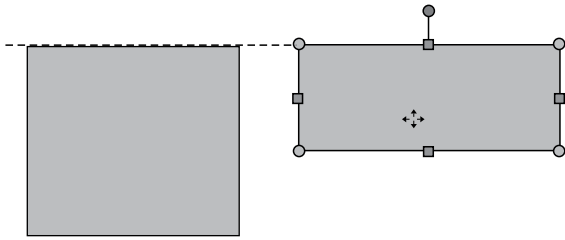
27. No MS-Word 2010, para atualizar manualmente todas as legendas de um documento, o usuário pode: clicar em qualquer lugar do documento e selecionar todo o documento utilizando o atalho de teclado _____, em seguida, acionar o menu de contexto clicando com o botão secundário do mouse sobre a seleção e, então, clicar na opção _____.

Assinale a alternativa que preenche, correta e respectivamente, as lacunas do enunciado.

- (A) Ctrl+A ... Atualizar Campo
- (B) Ctrl+A ... Definir Novo Marcador
- (C) Ctrl+L ... Atualizar Campo
- (D) Ctrl+L ... Definir Novo Marcador
- (E) Ctrl+C ... Definir Novo Marcador

CONHECIMENTOS ESPECÍFICOS

28. No MS-PowerPoint 2010, a opção para exibir guias inteligentes está ativa e a opção para exibir as guias de desenho está inativa. Nesse contexto, o usuário está editando um slide que contém apenas duas formas (dois retângulos). Em um determinado momento, quando uma das formas está sendo movimentada, uma guia inteligente aparece, tal como na figura a seguir:



De acordo com a sinalização da guia inteligente, as duas formas apresentadas na figura estão

- (A) agrupadas.
(B) sobrepostas.
(C) alinhadas pela parte superior.
(D) alinhadas pela parte inferior.
(E) selecionadas.
29. Um usuário está editando um slide no MS-PowerPoint 2010 que contém as regras de segurança para a utilização de um equipamento. O texto com tais regras foi inserido em uma única Caixa de Texto e cada regra ocupa um parágrafo. Agora, ele precisa que as regras apareçam uma por vez ao iniciar a exibição do slide. Para tal, ele pode selecionar a Caixa de Texto onde estão as regras, clicar na opção "Aparecer", do grupo "Animação", que pertence à guia "Animações" e, em seguida, clicar na opção
- (A) Com o anterior, do item Iniciar.
(B) que define um intervalo de Duração.
(C) que define um intervalo de Atraso.
(D) Por Parágrafo, do item Opções de Efeito.
(E) Mover Antes, do item Reordenar Animação.
30. Considere que um usuário configurou o MS-Outlook 2010 para exibir as mensagens da Caixa de Entrada como Conversas, ordenadas por Data, com a mais recente na parte superior. Nessa configuração, serão agrupadas em Conversas as mensagens que contêm:
- (A) sempre os mesmos remetentes.
(B) sempre os mesmos destinatários.
(C) sempre os mesmos remetentes e destinatários.
(D) a mesma data de envio.
(E) a mesma linha de assunto.

31. Considere o seguinte caso hipotético: Num município com 50.000 (cinquenta mil) habitantes, foi criada uma Guarda Municipal com um efetivo de quinhentos integrantes. Nos termos da Lei nº 13.022/2014 (Estatuto Geral das Guardas Municipais), a criação está

- (A) correta, pois o Estatuto Geral das Guardas Municipais não prevê limite de efetivo.
(B) incorreta, pois ultrapassa o limite de quatro décimos por cento da população, em municípios com até cinquenta mil habitantes.
(C) correta, pois o Estatuto Geral das Guardas Municipais prevê o limite de efetivo de um por cento da população.
(D) incorreta, pois ultrapassa o limite de quatrocentos integrantes, em municípios com até cinquenta mil habitantes.
(E) correta, pois o Estatuto Geral das Guardas Municipais prevê o limite máximo de cinco mil integrantes, independentemente da população do município.

32. Nos termos da Lei nº 8.069, de 13 de julho de 1990 (Estatuto da Criança e do Adolescente), é correto afirmar que as revistas e publicações contendo material impróprio ou inadequado a crianças e adolescentes

- (A) somente poderão ser comercializadas pela internet e com informações sobre a natureza da obra e a faixa etária a que se destinam.
(B) poderão ser livremente comercializadas, sendo vedado possuir ilustrações de bebidas alcoólicas, tabaco e armas.
(C) poderão ser livremente comercializadas, desde que possuam informações sobre a natureza da obra e a faixa etária a que se destinam, não havendo qualquer necessidade de lacração da embalagem.
(D) poderão ser livremente comercializadas, não havendo qualquer necessidade de advertência sobre a natureza da obra, bastando constar a faixa etária a que se destinam.
(E) deverão ser comercializadas em embalagem lacrada, com a advertência de seu conteúdo.

- 33.** Considere o seguinte caso hipotético: Um Guarda Municipal é indagado por populares sobre a existência de proibição na Lei nº 8.069, de 13 de julho de 1990 (Estatuto da Criança e do Adolescente), de venda de bilhetes lotéricos a criança ou a adolescente. O Guarda Municipal estará correto ao afirmar que o Estatuto da Criança e do Adolescente
- (A) não prevê qualquer proibição de venda de bilhetes lotéricos a criança ou a adolescente.
 - (B) prevê a proibição de venda de bilhetes lotéricos apenas a criança.
 - (C) prevê a proibição de venda de bilhetes lotéricos a criança ou a adolescente.
 - (D) não prevê qualquer proibição de venda de qualquer produto a adolescente, somente a criança, porém não possui previsão específica de proibição de venda de bilhetes lotéricos.
 - (E) prevê a proibição de venda de bilhetes lotéricos a adolescente, somente quando este estiver acompanhado de alguma criança.
- 34.** Considere o seguinte caso hipotético: Os pais e uma criança de seis anos (filho do casal) pretendem se hospedar em um motel.
- É correto afirmar que a Lei nº 8.069, de 13 de julho de 1990 (Estatuto da Criança e do Adolescente),
- (A) proíbe que crianças de menos de oito anos se hospedem em motel, mesmo na companhia dos pais.
 - (B) proíbe que criança ou adolescente se hospede em motel, entre outros locais, salvo se autorizado ou acompanhado dos pais ou responsáveis.
 - (C) proíbe que criança de até 6 anos se hospede desacompanhada dos pais em motel, autorizando-se somente o adolescente com alvará judicial.
 - (D) proíbe que criança ou adolescente se hospede em motel, mesmo acompanhado dos pais.
 - (E) autoriza a hospedagem em motel somente de adolescente acima dos 14 anos.
- 35.** Nos termos da Lei nº 8.069, de 13 de julho de 1990 (Estatuto da Criança e do Adolescente), é correto afirmar que as entidades que desenvolvem programas de internação têm, entre outras, a seguinte obrigação:
- (A) reavaliar periodicamente cada caso, com intervalo máximo de seis meses, dando ciência dos resultados à autoridade competente.
 - (B) não restringir nenhum direito, mesmo que tenha sido objeto de restrição na decisão de internação.
 - (C) evitar a oferta de atendimento personalizado, mesmo em pequenas unidades e grupos reduzidos.
 - (D) comunicar à autoridade policial, periodicamente, os casos em que se mostre inviável ou impossível o reatamento dos vínculos familiares.
 - (E) propiciar assistência religiosa a todos os internos, independentemente de suas vontades e crenças.
- 36.** Nos termos da Lei nº 8.069, de 13 de julho de 1990 (Estatuto da Criança e do Adolescente), é correto afirmar que
- (A) são penalmente imputáveis os menores de dezoito anos.
 - (B) o adulto que praticar ato infracional será responsabilizado nos termos do Estatuto da Criança e do Adolescente.
 - (C) a criança não pratica ato infracional.
 - (D) as crianças e os adolescentes são penalmente inimputáveis, estando sujeitos às medidas previstas na referida lei.
 - (E) o adolescente que praticar ato infracional estará sujeito às sanções previstas no Código Penal.
- 37.** Nos termos da Lei nº 8.069, de 13 de julho de 1990 (Estatuto da Criança e do Adolescente), é correto afirmar que
- (A) o adolescente, mesmo não estando em flagrante de ato infracional, poderá ser privado de sua liberdade por determinação do Delegado de Polícia.
 - (B) nenhuma criança será privada de sua liberdade senão em flagrante de ato infracional.
 - (C) o adolescente tem direito à identificação dos responsáveis pela sua apreensão, devendo ser informado acerca de seus direitos.
 - (D) o adolescente, mesmo não estando em flagrante de ato infracional, poderá ser privado de sua liberdade por determinação do Promotor de Justiça.
 - (E) a criança poderá ser privada de sua liberdade, pela prática de ato infracional, após a autorização dos pais e determinação judicial.
- 38.** Nos termos da Lei nº 8.069, de 13 de julho de 1990 (Estatuto da Criança e do Adolescente), é correto afirmar que é assegurado ao adolescente, entre outras, a seguinte garantia:
- (A) direito de solicitar a presença de seus pais, apenas na fase inicial do procedimento.
 - (B) defesa técnica realizada exclusivamente por integrantes do Ministério Público ou da Defensoria Pública.
 - (C) igualdade na relação processual, sendo vedado confrontar-se com vítimas e testemunhas.
 - (D) assistência judiciária gratuita e integral, sendo ou não necessitado.
 - (E) direito de ser ouvido pessoalmente pela autoridade competente.

39. Nos termos da Lei nº 10.741, de 1º de outubro de 2003 (Estatuto do Idoso), é correto afirmar que
- (A) é exigível o comparecimento do idoso enfermo perante os órgãos públicos apenas na hipótese de interesse do poder público.
 - (B) é obrigação exclusiva do Estado assegurar à pessoa idosa a liberdade, o respeito e a dignidade, como pessoa humana e sujeito de direitos civis.
 - (C) em todo atendimento de saúde, os maiores de oitenta anos terão preferência especial sobre os demais idosos, exceto em caso de emergência.
 - (D) a obrigação alimentar não é solidária, devendo o idoso optar entre o prestador que possui melhores condições financeiras.
 - (E) se o idoso ou seus familiares não possuem condições econômicas de prover o seu sustento, impõe-se igualmente ao Poder Público, à iniciativa privada ou às ONGs esse provimento.
40. Considere o seguinte caso hipotético: Um Guarda Municipal é indagado sobre a existência de alguma responsabilidade administrativa no Estatuto do Idoso ao profissional de saúde que se omite e não comunica casos de crimes contra idosos. O Guarda Municipal estará correto ao afirmar que
- (A) existe um dever moral de levar ao conhecimento das autoridades a prática de crimes contra idosos, porém o Estatuto do Idoso é omissivo com relação à responsabilidade administrativa.
 - (B) o Estatuto do Idoso prevê multa de dez mil reais, aplicada em dobro no caso de reincidência, como responsabilidade administrativa aos profissionais de saúde que deixam de comunicar à autoridade competente os casos de crimes contra idoso de que tiveram conhecimento.
 - (C) existe um crime para aquele que se omite e não científica as autoridades sobre a prática de crimes contra idosos, porém o Estatuto do Idoso é omissivo com relação à responsabilidade administrativa.
 - (D) o Estatuto do Idoso prevê multa de quinhentos a três mil reais, aplicada em dobro no caso de reincidência, como responsabilidade administrativa aos profissionais de saúde que deixam de comunicar à autoridade competente os casos de crimes contra idoso de que tiverem conhecimento.
 - (E) o Estatuto do Idoso prevê advertência como responsabilidade administrativa aos profissionais de saúde que deixam de comunicar à autoridade competente os casos de crimes contra idoso de que tiverem conhecimento.
41. Considere o seguinte caso hipotético: O filho de um idoso, por meio do facebook, está exibindo imagens depreciativas de seu genitor. É correto afirmar que a sua conduta, apenas considerando o previsto no Estatuto do Idoso,
- (A) não possui qualquer previsão legal.
 - (B) não será considerada crime por se tratar de conduta praticada pelo filho do idoso.
 - (C) é considerada uma contravenção penal apenada com prisão simples.
 - (D) será considerada contravenção se restar comprovada a intenção de humilhar o seu genitor.
 - (E) é considerada um crime apenado com detenção e multa.
42. É correto afirmar que, nos termos do Código Penal,
- (A) a pena do crime de lesão corporal é aumentada quando a vítima for, entre outros, cônjuge de um Policial Militar, e a infração penal for perpetrada em razão dessa condição.
 - (B) o feminicídio admite modalidade culposa quando o agente, por imprudência, negligência ou imperícia, matar a sua esposa.
 - (C) o crime de omissão de socorro, para a sua consumação, exige a constatação de lesão grave ou a morte da vítima.
 - (D) para tipificar o crime de difamação, exige-se a imputação de fato definido como crime.
 - (E) a violação de domicílio configura um crime que somente poderá ser consumado pelo ingresso clandestino em uma residência durante o período noturno.
43. Considere o seguinte caso hipotético: Constranger alguém, mediante violência ou grave ameaça, e com o intuito de obter para si ou para outrem indevida vantagem econômica, a fazer, tolerar que se faça ou deixar de fazer alguma coisa. Nos termos do Código Penal, é correto afirmar que a conduta descrita caracteriza um crime de
- (A) roubo.
 - (B) furto.
 - (C) extorsão.
 - (D) usurpação.
 - (E) concussão.

44. Considere o seguinte caso hipotético: Um servidor público apropria-se de um computador de propriedade da repartição pública, de que tem a posse em razão do cargo. Nos termos do Código Penal, é correto afirmar que a conduta descrita caracteriza um crime de
- (A) prevaricação.
 - (B) furto qualificado.
 - (C) roubo qualificado.
 - (D) peculato.
 - (E) corrupção.
45. É correto afirmar que a Constituição Federal determina que
- (A) ninguém será preso senão em flagrante delito ou por ordem escrita e fundamentada de autoridade policial competente.
 - (B) ninguém será levado à prisão ou nela mantido, quando a lei admitir a liberdade provisória, com ou sem fiança.
 - (C) a prisão de qualquer pessoa e o local onde se encontre serão comunicados exclusivamente ao juiz competente.
 - (D) o preso não tem direito à identificação dos responsáveis por seu interrogatório policial.
 - (E) a prisão ilegal será imediatamente relaxada pela autoridade judiciária, salvo nos casos de crimes apenados com detenção.
46. Nos termos da Constituição Federal, assinale a alternativa que contém um cargo privativo de brasileiro nato.
- (A) Oficial das Forças Armadas.
 - (B) Delegado Federal.
 - (C) Promotor de Justiça.
 - (D) Juiz de Direito.
 - (E) Comandante da Guarda Municipal.
47. Nos termos da Constituição Federal, assinale a alternativa em que todas as Instituições descritas não possuem previsão no Capítulo da Segurança Pública.
- (A) Polícia Civil e Guarda Municipal.
 - (B) Corpos de Bombeiros Militares e Força Nacional.
 - (C) Polícia Ferroviária Federal e Polícia Técnico-Científica.
 - (D) Força Nacional e Polícia Técnico-Científica.
 - (E) Polícia Militar e Força Nacional.
48. Nos termos da Lei nº 11.340, de 7 de agosto de 2006 (Lei Maria da Penha), as medidas protetivas de urgência poderão ser concedidas pelo
- (A) Juiz, a requerimento do Ministério Público ou a pedido da ofendida.
 - (B) Ministério Público de ofício.
 - (C) Delegado de Polícia, a pedido da ofendida.
 - (D) Ministério Público, a pedido da ofendida.
 - (E) Ministério Público, mediante representação do Delegado de Polícia.
49. Nos termos da Lei nº 9.605, de 12 de fevereiro de 1998, as infrações administrativas são punidas, entre outras, com as seguintes sanções:
- (A) advertência, embargo de obra ou atividade e detenção.
 - (B) multa diária, demolição de obra e repreensão escrita.
 - (C) inutilização do produto, apreensão dos animais e expropriação.
 - (D) repreensão escrita, multa coletiva e advertência.
 - (E) restritiva de direitos, multa simples e suspensão total de atividades.
50. No que concerne à Gratificação de Regime Especial de Trabalho de Guarda Civil Municipal – RETGCM prevista na Lei Complementar nº 98/2018, é correto afirmar que
- (A) não deverá ser concedida aos ocupantes de função de confiança.
 - (B) o comandante e o subcomandante da Guarda Municipal não perceberão a referida gratificação.
 - (C) a referida gratificação não é incorporada ao vencimento base ou à remuneração do servidor.
 - (D) não será considerada para fins de recolhimentos previdenciários.
 - (E) será concedida no valor de 100% (cem por cento) sobre o valor referente ao vencimento base do Guarda Civil Municipal.

