



PREFEITURA MUNICIPAL DE ITAPEVI

ESTADO DE SÃO PAULO

CONCURSO PÚBLICO

074. PROVA OBJETIVA

MÉDICO VETERINÁRIO

- ◆ Você recebeu sua folha de respostas e este caderno contendo 50 questões objetivas.
- ◆ Confira seus dados impressos na capa deste caderno e na folha de respostas.
- ◆ Quando for permitido abrir o caderno, verifique se está completo ou se apresenta imperfeições. Caso haja algum problema, informe ao fiscal da sala.
- ◆ Leia cuidadosamente todas as questões e escolha a resposta que você considera correta.
- ◆ Marque, na folha de respostas, com caneta de tinta preta, a letra correspondente à alternativa que você escolheu.
- ◆ A duração da prova é de 3 horas, já incluído o tempo para o preenchimento da folha de respostas.
- ◆ Só será permitida a saída definitiva da sala e do prédio após transcorridos 75% do tempo de duração da prova.
- ◆ Ao sair, você entregará ao fiscal a folha de respostas e este caderno, podendo levar apenas o rascunho de gabarito, localizado em sua carteira, para futura conferência.
- ◆ Até que você saia do prédio, todas as proibições e orientações continuam válidas.

AGUARDE A ORDEM DO FISCAL PARA ABRIR ESTE CADERNO DE QUESTÕES.

Nome do candidato _____

RG _____

Inscrição _____

Prédio _____

Sala _____

Carteira _____

CONHECIMENTOS GERAIS

LÍNGUA PORTUGUESA

Leia o texto para responder às questões de números **01** a **09**.

“Tire suas próprias conclusões”

Essa é a frase que mais tenho ouvido recentemente. Passada a euforia de uma notícia qualificada como “bomba”, logo os atores de uma das partes corriam a público para disponibilizar a íntegra daquilo que antes foi veiculado em partes.

É preciso saber de tudo e entender de tudo. É preciso tirar as próprias conclusões para não depender de ninguém, e é esse o grande e contraditório imperativo dos nossos tempos. É uma ordem a uma experimentação libertária, e uma quase contradição do termo. O imperativo que liberta também aprisiona: você só passa a ser, ou a pertencer, se tiver uma conclusão. Sobre qualquer coisa.

Nas últimas décadas psicanalistas se debruçaram sobre as mudanças nos arranjos produtivos e sociais de cada período histórico para compreender e nomear as formas de sofrimento decorrentes delas. A revolução industrial, a divisão social do trabalho, a urbanização desenfreada e as guerras, por exemplo, fizeram explodir o número de sujeitos impacientes, irritadiços e perturbados com a velocidade das transformações e suas consequentes perdas de referências simbólicas.

Pensando sobre o imperativo “Leia/Veja/Assista” e “Tire suas próprias conclusões”, começo a desconfiar de que estamos diante de uma nova forma de sofrimento relacionado a um mal-estar ainda não nomeado.

Afinal, que tipo de sujeito está surgindo de nossa nova organização social? O que a vida em rede diz sobre as formas como nos relacionamos com o mundo? Que tipos de valores surgem dali? E, finalmente, que tipo de sofrimento essa vida em rede tem causado?

Vou arriscar e sair correndo, já sob o risco de percorrer um campo que não é meu: estamos vendo surgir o sujeito preso à ideia da obrigação de ter algo a dizer. Ao longo dos séculos essa angústia era comum aos chamados formadores de opinião e artistas, responsáveis por reinterpretar o mundo. Hoje basta ter um celular com conexão 3G para ser chamado a opinar sobre qualquer coisa. Pensamos estar pensando mesmo quando estamos apenas terceirizando convicções ao compartilhar aquilo que não escrevemos.

É uma nova versão de um conflito descrito por Clarice Lispector a respeito da insuficiência da linguagem. Algo como: “Não só não consigo dizer o que penso como o que penso passa a ser o que digo”. Se vivesse nas redes que atribuem a ela frases que jamais disse, o “dizer” e o “pensar” teriam a interlocução de um outro verbo: “compartilhar”.

(Matheus Pichonelli, *Carta Capital*. 18.03.2016.
www.cartacapital.com.br. Adaptado)

- 01.** Na opinião do autor, o mal-estar provado pelos indivíduos atualmente está relacionado com
- (A) a obrigação de produzir conteúdos que sejam instigantes e inéditos.
 - (B) o imperativo de consultar fontes de informação dignas de credibilidade.
 - (C) a exigência de ter de emitir uma opinião sobre qualquer assunto.
 - (D) a perda de referências simbólicas que impulsionou a revolução industrial.
 - (E) o fato de não haver valores éticos sólidos balizando os formadores de opinião.
- 02.** No contexto do segundo parágrafo, a “experimentação libertária” refere-se
- (A) a uma pretensa liberdade de interpretação sem intermediários.
 - (B) ao acesso aos canais de comunicação mais atualizados.
 - (C) a uma característica peculiar às notícias impactantes.
 - (D) à experiência de criar publicações que gerem controvérsia.
 - (E) à liberdade que a imprensa tem de defender sua ideologia.
- 03.** No sexto parágrafo, o verbo **pensar** em “Pensamos estar pensando...” veicula, em cada ocorrência respectivamente, sentidos que equivalem a
- (A) rememorar e corroborar uma opinião.
 - (B) refutar uma ideia e elucubrar.
 - (C) induzir a erro e suscitar uma impressão.
 - (D) fantasiar e agir com intransigência.
 - (E) supor e conceber uma ideia.
- 04.** Da menção ao conflito descrito por Clarice Lispector, no último parágrafo, deduz-se o seguinte:
- (A) para o autor, Clarice Lispector estava equivocada ao ignorar a importância do “compartilhar” como intermediário entre o “dizer” e o “pensar”.
 - (B) ao se exprimir com exatidão o pensamento, a insuficiência da linguagem é superada, ainda que provisoriamente.
 - (C) quando o pensamento é traduzido em palavras, e essas palavras são partilhadas, exaltam-se os valores morais da sociedade.
 - (D) não é possível expressar com exatidão o que pensamos, e nos iludimos ao crer que o que dizemos equivale ao que pensamos.
 - (E) o “pensar” adquire valor a partir do momento em que encontra um equivalente no “dizer” e assume forma ao ser compartilhado.

05. Assinale a alternativa em que a segunda expressão destacada denota, no contexto, um evento posterior ao designado pela primeira expressão destacada.
- (A) Passada a euforia de uma notícia **qualificada** como “bomba”, logo os atores de uma das partes **corriam** a público para disponibilizar a íntegra daquilo que antes foi veiculado em partes. (1º parágrafo)
- (B) É preciso **saber** de tudo e **entender** de tudo. (2º parágrafo)
- (C) O imperativo que **liberta** também **aprisiona**: você só passa a ser, ou a pertencer, se tiver uma conclusão. (2º parágrafo)
- (D) **Pensando** sobre o imperativo “Leia/Veja/Assista” e “Tire suas próprias conclusões”, começo a desconfiar de que **estamos** diante de uma nova forma de sofrimento relacionado a um mal-estar ainda não nomeado. (4º parágrafo)
- (E) O que a vida em rede **diz** sobre as formas como **nos relacionamos** com o mundo? (5º parágrafo)
06. No trecho – ... **você só** passa a ser, ou a pertencer, **se** tiver uma conclusão. (2º parágrafo) –, os vocábulos **você**, **só** e **se** contêm, respectivamente, os seguintes sentidos:
- (A) especificação; limitação; concessão.
- (B) indeterminação; isolamento; modo.
- (C) identificação; condição; reciprocidade.
- (D) indefinição; restrição; condição.
- (E) apelo; ênfase; finalidade.
07. A passagem do texto que, após o acréscimo da vírgula, está de acordo com a norma-padrão é:
- (A) Essa é a frase que, mais tenho ouvido recentemente. (1º parágrafo)
- (B) É preciso tirar as próprias conclusões, para não depender de ninguém... (2º parágrafo)
- (C) Nas últimas décadas psicanalistas se debruçaram, sobre as mudanças nos arranjos produtivos e sociais de cada período histórico... (3º parágrafo)
- (D) Ao longo dos séculos essa angústia era comum aos chamados, formadores de opinião e artistas, responsáveis por reinterpretar o mundo. (6º parágrafo)
- (E) Hoje basta ter um celular com conexão 3G para ser chamado, a opinar sobre qualquer coisa. (6º parágrafo)
08. Assinale a alternativa em que o trecho entre colchetes substitui o destacado, independentemente do sentido e de acordo com a norma-padrão de concordância.
- (A) Essa é a frase que mais **tenho ouvido** recentemente. [tem sido ouvido por mim]
- (B) ... corriam a público para disponibilizar a íntegra **daquilo que antes foi veiculado** em partes. [das notícias que antes se veicularam]
- (C) **Nas últimas décadas** psicanalistas se debruçaram sobre as mudanças... [Fazem algumas décadas que]
- (D) Que tipos de valores **surgem** dali? [são possível surgir]
- (E) Pensamos estar pensando mesmo quando **estamos apenas terceirizando convicções**... [houverem apenas convicções sendo terceirizadas]
09. Considere o trecho: O imperativo que **liberta** também **aprisiona**: você só passa a ser, ou a pertencer, se tiver uma conclusão. **Sobre** qualquer coisa. (2º parágrafo)
- Respeitando-se as regras de regência nominal e preservando-se o sentido original, o vocábulo destacado pode ser substituído por
- (A) De acordo com
- (B) De encontro a
- (C) Acima de
- (D) Em virtude de
- (E) A respeito de
10. Assinale a alternativa redigida em conformidade com a norma-padrão quanto às regras de regência e à ocorrência da crase.
- (A) Telejornais apresentam à população um resumo dos eventos que lhe despertaram interesse nas redes sociais.
- (B) Indivíduos são chamados à tirar suas conclusões sobre fatos que os são apresentados diariamente.
- (C) Cada vez mais têm chegado à mim frases das quais me fazem refletir sobre os valores da sociedade atual.
- (D) É inegável que às redes sociais influenciam o modo como interagimos com o mundo e o damos sentido.
- (E) Tem sido comum pessoas compartilharem informações de maneira instantânea, sem analisar-lhes à fundo.

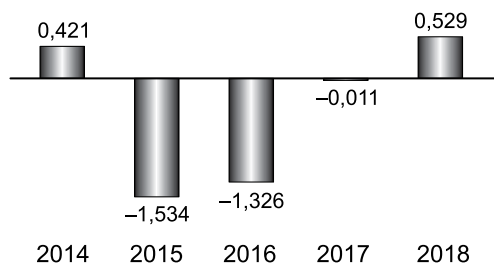
11. Um reservatório continha, inicialmente, x litros de água. Com a adição de mais 150 litros, a quantidade de água inicial foi aumentada em $\frac{3}{5}$ e passou a ser igual a $\frac{2}{5}$ da capacidade total do reservatório. A capacidade total desse reservatório é de
- (A) 1250 litros.
(B) 1150 litros.
(C) 1000 litros.
(D) 950 litros.
(E) 900 litros.
12. A quantidade de metros de fio elétrico de um rolo, que não chega a 40 m, deverá ser dividida em pedaços iguais, de mesmo comprimento. Sabe-se que se os pedaços tiverem comprimento de 4 m, ou de 6 m, ou de 9 m, sempre restarão 2 m de fio no rolo. Se o eletricitista decidir obter o número máximo de pedaços iguais, com 7,5 m de comprimento cada um, a quantidade de fio que restará no rolo será igual a
- (A) 0,5 m.
(B) 1 m.
(C) 1,5 m.
(D) 1,75 m.
(E) 2,5 m.
13. Determinada mistura é formada por 1,6 kg do componente A e por 0,9 kg do componente B. Sabendo-se que cada 200 gramas de A e cada 200 gramas de B custam, respectivamente, R\$ 4,50 e R\$ 6,00, é correto afirmar que o custo de 0,75 kg dessa mistura é igual a
- (A) R\$ 18,90.
(B) R\$ 26,50.
(C) R\$ 33,75.
(D) R\$ 40,50.
(E) R\$ 47,25.

14. De acordo com o monitoramento por satélites feito pelo Instituto Nacional de Pesquisas Espaciais, de agosto de 2017 a julho de 2018 foram desmatados $6\,675\text{ km}^2$ no bioma Cerrado, configurando uma redução de 11% em relação à área desmatada de agosto de 2016 a julho de 2017 que, por sua vez, havia apresentado um crescimento de 9% em relação à área desmatada de agosto de 2015 a julho de 2016.

A área desmatada no Cerrado, de agosto de 2015 a julho de 2016 foi de, aproximadamente,

- (A) $5\,980\text{ km}^2$.
- (B) $6\,250\text{ km}^2$.
- (C) $6\,760\text{ km}^2$.
- (D) $6\,880\text{ km}^2$.
- (E) $7\,170\text{ km}^2$.

15. No gráfico a seguir estão representados, em milhões de vagas, os saldos anuais (criação menos fechamento) do número de postos de trabalho com carteira assinada no Brasil, referentes aos anos de 2014 a 2018.

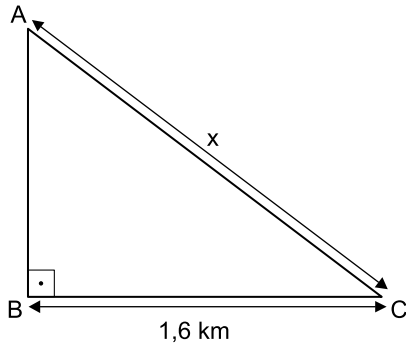


(Cadastro Geral de Empregados e Desempregados.
O Estado de S.Paulo, 24.01.2019)

De acordo com os dados do gráfico, é correto afirmar que, no período considerado, o valor da média aritmética dos saldos anuais de postos de trabalho representa o fechamento de

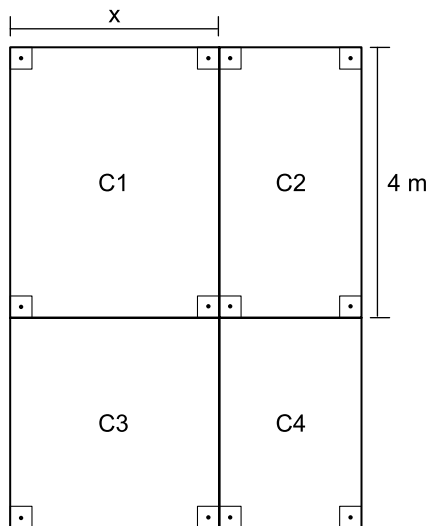
- (A) 957 000 vagas.
- (B) 764 200 vagas.
- (C) 574 200 vagas.
- (D) 479 000 vagas.
- (E) 384 200 vagas.

16. Uma gleba destinada a reflorestamento tem a forma de um triângulo retângulo ABC, conforme mostra a figura.



Se a área dessa gleba é $0,96 \text{ km}^2$, então a medida do lado AC, indicada por x na figura, é igual a

- (A) 2,2 km.
 (B) 2,1 km.
 (C) 2 km.
 (D) 1,9 km.
 (E) 1,8 km.
17. Um jardim, de formato retangular, é formado por 4 canteiros distintos, C1, C2, C3 e C4, sendo C3 quadrado e C1, C2 e C4, retangulares, conforme mostra a figura, cujas dimensões indicadas estão em metros.



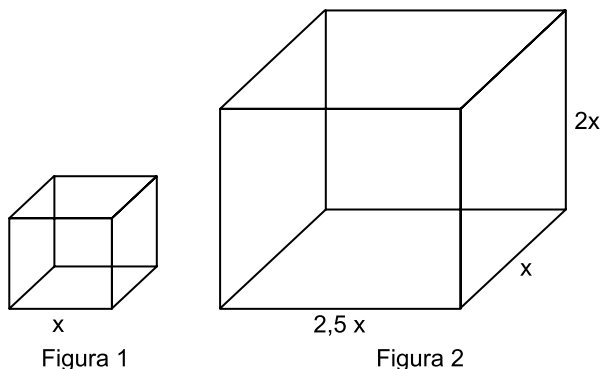
Sabe-se que a área do canteiro C4 é igual à metade da área do canteiro C1, e que a soma das áreas de ambos é igual a 18 m^2 . Nessas condições, é correto afirmar que o perímetro desse jardim é igual a

- (A) 26 m.
 (B) 24 m.
 (C) 22 m.
 (D) 20 m.
 (E) 18 m.

18. Ricardo abasteceu o tanque de combustível de seu carro com gasolina e etanol, na razão de 1 para 4, nessa ordem. Se ele tivesse colocado 4 litros de gasolina a mais e 4 litros de etanol a menos, a razão entre o número de litros de gasolina e o número de litros de etanol passaria a ser $\frac{1}{2}$.

O número total de litros de combustível colocados nesse abastecimento foi

- (A) 40.
(B) 36.
(C) 32.
(D) 30.
(E) 28.
19. Uma comissão formada por professores de Matemática e de Português, num total de 26 professores, elaborou um total de 150 questões para treinamento de vestibulandos. Sabe-se que cada professor de português elaborou 7 questões e cada professor de Matemática elaborou 5 questões. Nessa comissão, o número de professores de Português corresponde, do número de professores de Matemática, a
- (A) 38,5%
(B) 44%
(C) 50,5%
(D) 56%
(E) 62,5%
20. Considere um recipiente cúbico e um recipiente com formato de bloco reto retangular, ambos inicialmente vazios, cujas medidas das arestas internas estão mostradas nas figuras 1 e 2, respectivamente.



Com vazão constante, uma torneira enche totalmente o recipiente cúbico, sem transbordar, em 40 minutos. Aberta nas mesmas condições, essa mesma torneira irá encher totalmente o recipiente com formato de bloco retangular, sem transbordar, em

- (A) 3 horas e 40 minutos.
(B) 3 horas e 20 minutos.
(C) 3 horas e 10 minutos.
(D) 2 horas e 40 minutos.
(E) 2 horas e 20 minutos.

21. Entre 311 concorrentes, o prêmio Nobel da Paz de 2018 foi concedido hoje [05.out] a uma dupla: o congolês Denis Mukwege e a ativista do povo yazidi Nadia Murad.

(Agência Brasil. <https://bit.ly/2Nr3oAK>. Acesso em 25.jan.2019. Adaptado)

Os ganhadores do prêmio tiveram destaque

- (A) na defesa das liberdades individuais e, principalmente, dos imigrantes e refugiados africanos.
- (B) no combate à pobreza das populações que habitam os países subdesenvolvidos.
- (C) na defesa dos direitos humanos das minorias étnicas em países em conflitos armados.
- (D) nos esforços para acabar com o uso da violência sexual como arma de guerra e conflito armado.
- (E) nas campanhas de erradicação do analfabetismo entre crianças trabalhadoras.

22. Em 14 de novembro, a máquina mais cara e sofisticada da ciência brasileira começou a testar suas turbinas. O projeto já consumiu cerca de R\$ 1,3 bilhão (de um total previsto de R\$ 1,8 bilhão) e, quando ficar pronto, colocará o país na vanguarda das pesquisas que utilizam esse tipo de artefato, como as que envolvem a visualização em altíssima resolução de estruturas de vírus e proteínas (em busca de novas vacinas), de solo (com a ideia de aprimorar fertilizantes) e de rochas e de novos materiais (para melhorar a exploração de gás e petróleo), entre outras.

(Folha de S.Paulo. <https://bit.ly/2G1oHbX>. Acesso em 25.jan.2019. Adaptado)

O texto destaca a inauguração do acelerador de partículas que está sendo construído

- (A) em Campinas (SP).
- (B) na Base de Alcântara (MA).
- (C) no Rio de Janeiro (RJ).
- (D) em Curitiba (PR).
- (E) em Porto Alegre (RS).

23. “Este é o melhor acordo possível.”

A premiê britânica, Theresa May, tem repetido há semanas essa frase na tentativa de convencer o Parlamento de seu país a aprovar o acordo que ela negociou com a União Europeia, estabelecendo os termos do *Brexit* - o processo de saída do Reino Unido do bloco.

Mas, na segunda-feira [17.dez], a premiê adiou indefinidamente a votação do acordo no Parlamento, reconhecendo que ele seria rejeitado pela maioria dos parlamentares britânicos

(G1. <https://glo.bo/2FTOmUF>. Acesso em 24.jan.2019. Adaptado)

Tem sido considerado como o ponto mais delicado do acordo para viabilizar o *Brexit*

- (A) o retorno imediato dos cidadãos europeus que vivem no Reino Unido para os seus países de origem, fato que provocaria forte déficit de mão de obra no Reino Unido.
- (B) a rápida desvalorização da libra nos mercados europeu e mundial, fato que provocaria forte abalo econômico-financeiro para todo o Reino Unido.
- (C) o fechamento da fronteira entre a Irlanda do Norte (parte do Reino Unido) e a Irlanda, fato que retomaria antigas tensões entre norte-irlandeses e irlandeses.
- (D) a perda do prestígio político do Reino Unido frente à Europa, o que inviabilizaria a permanência do país na OTAN (Organização do Tratado do Atlântico Norte).
- (E) a obrigação do governo britânico em continuar recebendo grupos de refugiados do Oriente Médio e África mesmo após a saída do bloco econômico europeu.

24. Em 05 de dezembro, o Instituto Brasileiro de Geografia e Estatística (IBGE) divulgou uma pesquisa denominada Síntese de Indicadores Sociais (SIS) que utiliza e compara dados socioeconômicos dos dois últimos anos para retratar a situação atual da população brasileira.

(G1. <https://glo.bo/2KX2fRR>. Acesso em 29.jan.2019. Adaptado)

A pesquisa mostrou que

- (A) o trabalho com carteira assinada cresceu entre os jovens.
- (B) a diferença salarial entre homens e mulheres foi reduzida.
- (C) o trabalho infantil apresentou expressivo declínio.
- (D) a proporção de crianças no conjunto da população aumentou.
- (E) a desigualdade social e a pobreza tiveram aumento.

25. O recém-empossado presidente da República, Jair Bolsonaro, assinou, nesta terça-feira (02.01), três decretos e uma medida provisória. Dentre as primeiras ações tomadas está a Medida Provisória (MP) que reestrutura a Esplanada dos Ministérios e estabelece a organização básica dos órgãos da presidência da República e dos ministérios. O documento confirma a estrutura de governo já anunciada, com 22 pastas, algumas delas com competências ampliadas.

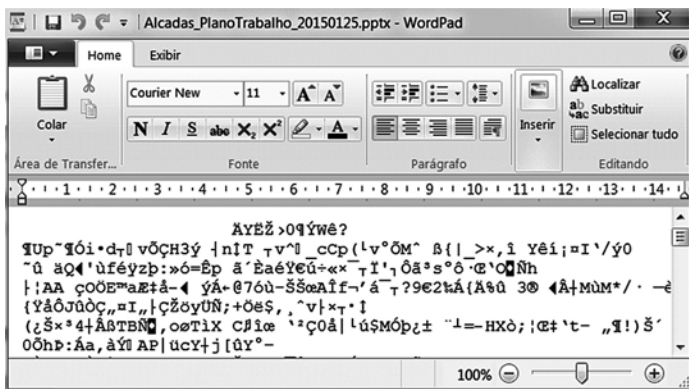
(UOL. <https://bit.ly/2Upz5hO>. Acesso em 25.jan.2019. Adaptado)

Na nova estrutura ministerial destaca-se o Ministério

- (A) da Agricultura, Pecuária e Abastecimento que incorpora as políticas de criação e conservação da infraestrutura.
- (B) da Cidadania que incorpora as ações que envolvem o desenvolvimento social, a cultura e os esportes.
- (C) das Relações Exteriores que incorpora o comércio internacional e os estudos sobre a balança comercial.
- (D) da Justiça que incorpora a regulamentação das políticas dos direitos humanos e a demarcação de terras indígenas.
- (E) do Meio Ambiente que incorpora setores da tecnologia e pesquisa de fontes de energia renováveis.

NOÇÕES DE INFORMÁTICA


26. Considere a janela do WordPad no MS-Windows 7, em sua configuração original, apresentada a seguir na qual se verifica a tentativa de se editar um arquivo.



O WordPad não conseguiu interpretar o arquivo porque se trata de um(a)

- (A) planilha eletrônica do Excel e o WordPad entende documentos XML.
- (B) documento do Word e o WordPad entende documentos de texto sem formatação.
- (C) apresentação do PowerPoint e o WordPad entende documentos com extensão RTF.
- (D) página Web e o WordPad entende imagens JPG.
- (E) imagem JPG e o WordPad entende páginas Web.

27. Assinale a alternativa que contém pelo menos uma palavra

formatada pelo ícone , encontrado no grupo Fonte da guia Página Inicial, e sublinhada no MS-Word 2010, em sua configuração padrão.

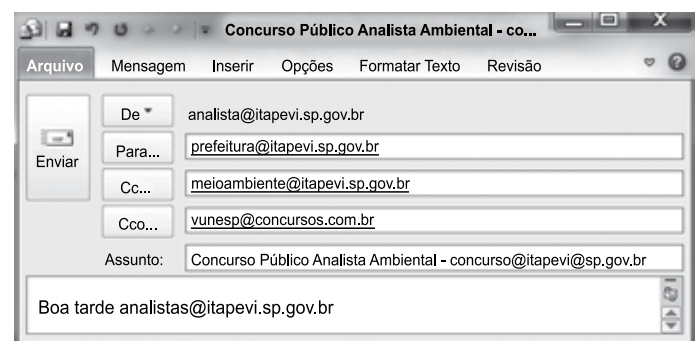
- (A) Prefeitura ^{Municipal} de Itapevi.
- (B) Prefeitura Municipal de Itapevi.
- (C) Prefeitura ~~Municipal~~ de Itapevi.
- (D) Analista Ambiental.
- (E) Analista Ambiental.

28. No MS-Excel 2010, na sua configuração padrão, assinale a alternativa que contém a situação da região norte após aplicação da fórmula =SE(D5>0;"Atrasado";SE(D5<0;"Adiantado";"No Prazo")) na célula E5 da planilha a seguir.

	A	B	C	D	E
1	Laudos Ambientais				
2	Região	Data Original	Nova Data	Var Dias	Situação
3	Leste	20/jan	02/fev	13	
4	Oeste	05/fev	25/jan	-11	
5	Norte	14/abr	14/abr	0	
6	Sul	25/jan	30/mar	64	

- (A) "Adiantado"
- (B) Adiantado
- (C) Atrasado
- (D) No Prazo
- (E) "No Prazo"

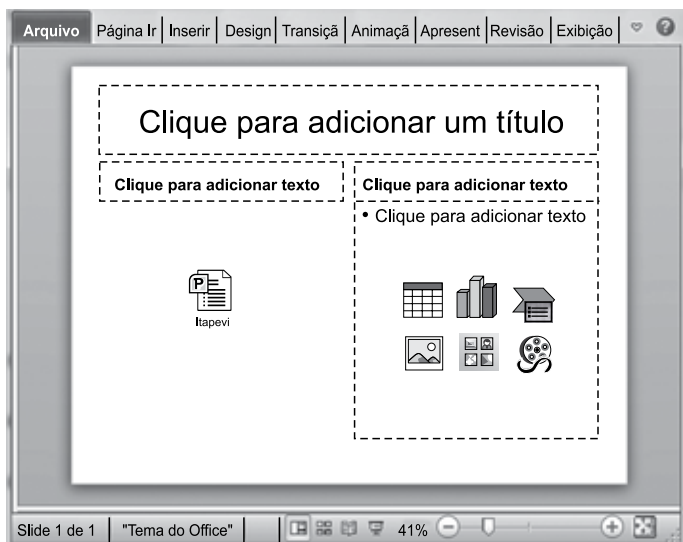
29. Observe a mensagem de correio eletrônico que está sendo digitada no MS-Outlook 2010, na sua configuração padrão, apresentada a seguir.



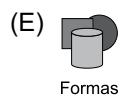
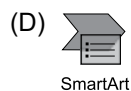
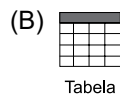
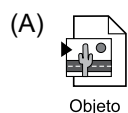
Assinale a alternativa que contém a conta de e-mail que também receberá a mensagem e que estará visível para o destinatário prefeitura@itapevi.sp.gov.br.

- (A) analista@itapevi.sp.gov.br
- (B) vunesp@concursos.com.br
- (C) concurso@itapevi@sp.gov.br
- (D) analistas@itapevi.sp.gov.br
- (E) meioambiente@itapevi.sp.gov.br

30. Considere o slide do MS-PowerPoint 2010, em sua configuração original, exibido na figura a seguir:



Assinale a alternativa que contém o ícone da guia Inserir que foi usado para incluir a apresentação Itapevi no slide.



CONHECIMENTOS ESPECÍFICOS

31. Uma zoonose cuja transmissão é efetuada pela inalação de aerossóis e poeiras contaminadas é a
- (A) hantavirose.
(B) encefalomielite equina, vírus oeste.
(C) leishmaniose visceral.
(D) febre amarela.
(E) salmonelose.
32. Os vetores hematófagos transmissores da doença de Lyme são os
- (A) culicídeos.
(B) flebotomíneos.
(C) quirópteros.
(D) triatomídeos.
(E) ixodídeos.
33. O número de casos de uma doença em um determinado momento e em uma dada população é denominado
- (A) incidência.
(B) prevalência.
(C) letalidade.
(D) coeficiente de ocorrência.
(E) taxa de ataque.
34. Na análise de tabelas de contingência com o emprego do teste de qui-quadrado, os valores esperados são calculados com base na hipótese
- (A) alternativa.
(B) de verossimilhança.
(C) de *clusters*.
(D) de nulidade.
(E) Q de Cochran.
35. Nas reações imunológicas de fixação de complemento, o ingrediente empregado como fonte de complemento é constituído por
- (A) hemácias de carneiro.
(B) 2-mercapto-etanol.
(C) soro fresco de cobaia.
(D) EDTA.
(E) solução de Alsevers.

36. Em bezerras imunizadas com a vacina B-19, contra a brucelose, na faixa etária estabelecida pela legislação em vigor no Brasil, a classe de imunoglobulina anti-*Brucella* que predomina nos testes de aglutinação, até os animais atingirem os 18 meses de idade, é a
- (A) IgG.
 - (B) IgA.
 - (C) IgM.
 - (D) IgD.
 - (E) IgE.
37. O procedimento utilizado para a visualização dos produtos da reação de PCR é a técnica de
- (A) microaglutinação.
 - (B) fixação de complemento.
 - (C) hemaglutinação.
 - (D) eletroforese.
 - (E) imunofluorescência.
38. Assinale a alternativa que apresenta um caso de uma zoonose.
- (A) Brucelose humana por *B. canis*.
 - (B) Tuberculose bovina por *M. tuberculosis*.
 - (C) Hidatidose ovina por *E. multilocularis*.
 - (D) Tuberculose suína por *M. intracellulare*.
 - (E) Raiva em felino pela variante 3 do vírus rábico.
39. As possíveis fontes de infecção para a ocorrência de casos de encefalite equina leste em seres humanos são constituídas por
- (A) marsupiais.
 - (B) asininos.
 - (C) morcegos insetívoros.
 - (D) roedores silvestres.
 - (E) aves silvestres.
40. Assinale a alternativa que apresenta uma levedura saprófita que se desenvolve em solos contaminados por excrementos de pombos e que pode ocasionar casos de pneumonia, meningites ou meningoencefalites em seres humanos.
- (A) *Cryptococcus neoformans*.
 - (B) *Microsporium canis*.
 - (C) *Trichophyton verrucosum*.
 - (D) *Aspergillus flavus*.
 - (E) *Candida albicans*.
41. O microrganismo produtor de uma exotoxina termolábil que pode causar quadros de gastroenterite em seres humanos é o
- (A) *Clostridium botulinum*.
 - (B) *Salmonella* spp.
 - (C) *Yersinia enterocolitica*.
 - (D) *Pasteurella multocida* tipo A.
 - (E) *Staphylococcus aureus*.
42. Entre as clostridioses, o *Clostridium* que produz uma potente neurotoxina é o
- (A) *C. chauvoei*.
 - (B) *C. tetani*.
 - (C) *C. perfringens* tipo A.
 - (D) *C. sordelli*.
 - (E) *C. novyi* tipo A.
43. Assinale a alternativa que apresenta os hospedeiros vertebrados que se comportam como fontes de infecção do vírus do Nilo ocidental.
- (A) Equinos.
 - (B) Primatas não humanos.
 - (C) Quirópteros hematófagos.
 - (D) Aves migratórias.
 - (E) Carnívoros silvestres.
44. Na dirofilariose dos canídeos, um dos locais ocupados pelos nematoides adultos é o
- (A) fígado.
 - (B) pulmão.
 - (C) coração.
 - (D) intestino.
 - (E) cérebro.
45. O ambiente utilizado para o desenvolvimento dos insetos vetores da leishmaniose visceral é constituído por
- (A) água estagnada.
 - (B) tecidos animais vivos.
 - (C) acúmulos de vegetais em decomposição.
 - (D) solo argiloso.
 - (E) depósitos de areia.

46. Os locais onde há acúmulo de matéria orgânica, entulho, lixos, depósitos e armazéns são favoráveis à proliferação da principal fonte de alimento dos escorpiões, que são as
- (A) mariposas.
 - (B) baratas.
 - (C) lacraias.
 - (D) minhocas.
 - (E) taturanas.

As questões de números 47 e 48 estão relacionadas às informações seguintes:

Como o procedimento laboratorial aplicado ao diagnóstico de uma zoonose é muito oneroso, demorado e trabalhoso, ele fica restrito aos laboratórios especializados, que nem sempre são acessíveis para os programas de vigilância e controle populacionais. Assim, os pesquisadores têm procurado desenvolver procedimentos práticos, sensíveis e específicos que possam ser utilizados, pelo menos como testes de triagem, em condições de campo. Os valores constantes da tabela que segue representam os resultados obtidos com um conjunto de materiais submetidos a dois tipos de exames: o teste experimental e o procedimento de referência reconhecido como padrão ouro para o diagnóstico da zoonose em questão.

Resultados do teste experimental	Resultados do Teste "Padrão Ouro"		Total
	Positivo	Negativo	
Positivo	200	100	300
Negativo	50	150	200
Total	250	250	500

47. O valor preditivo de resultados positivos do teste experimental, expresso em porcentagem, é
- (A) $200/250 \times 100$.
 - (B) $50/250 \times 100$.
 - (C) $150/200 \times 100$.
 - (D) $200/300 \times 100$.
 - (E) $250/500 \times 100$.
48. A concordância entre os resultados do teste experimental com os obtidos pelo teste de referência, expressa em porcentagem, é
- (A) $350/500 \times 100$.
 - (B) $150/300 \times 100$.
 - (C) $150/250 \times 100$.
 - (D) $50/250 \times 100$.
 - (E) $100/250 \times 100$.

49. Durante a realização de um ato cirúrgico, o médico veterinário precisou medicar um cão de 10 kg/peso vivo, com um fármaco apresentado, na forma líquida, na concentração de 500 mg/10 mL. A via de aplicação a ser utilizada foi a endovenosa, e a dose necessária foi de 15 mg/kg de peso vivo.

Assinale a alternativa que corresponde ao volume do medicamento, expresso em mililitros, que foi aplicado no animal.

- (A) 0,15.
- (B) 0,30.
- (C) 0,35.
- (D) 1,50.
- (E) 3,0.

50. Um gato pesando 2,5 kg de peso vivo (p.v.) precisa tomar uma medicação que está na concentração de 150 mcg/mL. A dose indicada para a espécie é de 5 mcg/kg de p.v. Para facilitar a administração pela via oral, o médico veterinário resolveu diluir a dose necessária em um mililitro de água destilada.

Qual é o volume final da medicação diluída, expresso em mililitros, que o animal deverá tomar?

- (A) 0,08.
- (B) 0,18.
- (C) 1,00.
- (D) 1,08.
- (E) 1,80.

