



## PREFEITURA MUNICIPAL DE VALINHOS

ESTADO DE SÃO PAULO

CONCURSO PÚBLICO

### 007. PROVA OBJETIVA

AGENTE DE COMBATE ÀS ENDEMIAS – SS

(OPÇÃO: 013)

- ◆ Você recebeu sua folha de respostas e este caderno contendo 50 questões objetivas.
- ◆ Confira seus dados impressos na capa deste caderno e na folha de respostas.
- ◆ Quando for permitido abrir o caderno, verifique se está completo ou se apresenta imperfeições. Caso haja algum problema, informe ao fiscal da sala.
- ◆ Leia cuidadosamente todas as questões e escolha a resposta que você considera correta.
- ◆ Marque, na folha de respostas, com caneta de tinta preta, a letra correspondente à alternativa que você escolheu.
- ◆ A duração da prova é de 3 horas, já incluído o tempo para o preenchimento da folha de respostas.
- ◆ Só será permitida a saída definitiva da sala e do prédio após transcorridos 75% do tempo de duração da prova.
- ◆ Deverão permanecer em cada uma das salas de prova os 3 últimos candidatos, até que o último deles entregue sua prova, assinando termo respectivo.
- ◆ Ao sair, você entregará ao fiscal a folha de respostas e este caderno, podendo levar apenas o rascunho de gabarito, localizado em sua carteira, para futura conferência.
- ◆ Até que você saia do prédio, todas as proibições e orientações continuam válidas.

**AGUARDE A ORDEM DO FISCAL PARA ABRIR ESTE CADERNO DE QUESTÕES.**

Nome do candidato \_\_\_\_\_

RG \_\_\_\_\_

Inscrição \_\_\_\_\_

Prédio \_\_\_\_\_

Sala \_\_\_\_\_

Carteira \_\_\_\_\_



## CONHECIMENTOS GERAIS

### LÍNGUA PORTUGUESA

Leia a tira para responder às questões de números 01 a 04.



(André Dahmer. www1.folha.uol.com.br, 28.03.2019)

01. A partir do que se afirma na tira, é possível concluir que quem está tripulando a nave
- (A) busca entender a natureza humana a partir de fatores comuns a todas as culturas conhecidas no presente e no passado.
  - (B) tem conhecimento de um fato religioso e busca confirmá-lo para então expressar uma conclusão que lhe parece lógica.
  - (C) faz apologia de costumes e tradições que são próprias de um povo, tentando convencer seu interlocutor a se converter.
  - (D) possui certezas quanto aos habitantes do planeta que está visitando e essas acabam por deixar seu interlocutor em dúvida quanto a suas próprias certezas.
  - (E) faz um questionamento que, em realidade, tem o objetivo de incutir dúvida e despertar a reflexão no seu interlocutor.
02. A pergunta da personagem, no último quadro, revela que
- (A) ela mentiu, no primeiro quadro, ao responder afirmativamente à pergunta.
  - (B) a conclusão a que chegou o tripulante, no segundo quadro, não merece resposta.
  - (C) o tripulante da nave está equivocado quanto à conclusão a que chegou.
  - (D) os leitores devem tirar suas próprias conclusões quanto à origem da nave.
  - (E) a civilização segue os preceitos do profeta mencionado no primeiro quadro.
03. A pontuação encontra-se em conformidade com a norma-padrão da língua portuguesa em:
- (A) No primeiro quadro quem está na nave, faz uma pergunta à personagem, buscando confirmar uma hipótese.
  - (B) A personagem responde à pergunta, afirmativamente, sem fazer qualquer ressalva à pergunta.
  - (C) O tripulante da nave no segundo quadro, exclama algo referente à civilização que não é a sua.
  - (D) No último quadro, a personagem pergunta, se ela conta para o tripulante ou o leitor conta?
  - (E) Ao longo da tira, vemos uma personagem que dialoga, com o tripulante de um disco voador.
04. Assinale a alternativa em que o verbo **dever** foi empregado com valor correspondente ao que se verifica no segundo quadro.
- (A) Em outros planetas, **devem** existir outras formas de vida pensante, assim como na Terra.
  - (B) Agências espaciais **devem** explicações à população sobre possíveis aparições alienígenas.
  - (C) Para uma boa convivência em sociedade, as pessoas **deveriam** amar mais umas às outras.
  - (D) Há certas perguntas para as quais aparentemente ficamos **devendo** uma resposta.
  - (E) **Devemos** sempre nos lembrar de que a cordialidade é fundamental nas relações.

Leia o texto para responder às questões de números **05 a 10**.

O time de futebol paraense Paysandu anunciou a criação do projeto Alegria do Povo, o qual, em parceria com o curso de serviço social da Universidade da Amazônia (Unama), selecionou torcedores para um programa de concessão de entradas gratuitas em jogos do clube.

Do outro lado, o também paraense Remo não ficou atrás. Em dezembro de 2018, a agremiação azulina reformulou seu plano de sócio-torcedor e incluiu a categoria Ouro Social, destinada a beneficiários de programas sociais como o Bolsa-Família. Em apenas um mês, as 600 vagas da modalidade foram esgotadas. Nela, os torcedores pagam mensalidade de 30 reais e têm acesso garantido a todos os jogos. “Fizemos questão de não colocar nenhuma **distinção** na carteirinha de sócio”, conta o presidente Fábio Bentes. “Para cumprir nosso papel social é **fundamental** mostrar que todo torcedor tem importância.”

Na contramão dos clubes do eixo Sul-Sudeste, o preço do ingresso praticado pela dupla “Repa”, como é conhecido o clássico paraense, ainda se encaixa no orçamento de boa parcela de seus torcedores. Enquanto o Corinthians, terceira bilheteria mais cara do país, cobra em média 50 reais na Arena, Remo e Paysandu se mantêm estáveis na casa dos 20 reais.

“Quando jogamos contra times de outros estados, nosso trunfo é o apoio maciço do torcedor”, afirma Bentes. “Vamos provar que aproximá-lo do clube, não importa de onde venha, vale a pena.”

(Breiller Pires. *A receita dos times do Pará para se reconectar ao povo e encher os estádios*. <https://brasil.elpais.com>, 05.05.2019. Adaptado)

**05.** Segundo informações do texto,

- (A) dois clubes de futebol paraenses iniciaram uma campanha para tornar os ingressos gratuitos para todas as partidas de futebol no estado.
- (B) os times de futebol do Pará se espelharam na redução de preços verificada em outras partes do país.
- (C) os times Paysandu e Remo, do Pará, estão em declarada competição de preços dos ingressos com times de outros estados.
- (D) a redução de preços dos ingressos praticada por dois clubes paraenses visa a tornar os times mais competitivos com a presença do torcedor nos jogos.
- (E) as iniciativas de redução do valor do ingresso estão relacionadas a políticas de inclusão social, como o programa governamental Bolsa-Família.

**06.** Os vocábulos **distinção** e **fundamental**, em destaque no 2º parágrafo, apresentam, respectivamente, como sinônimo e antônimo no contexto em que se encontram:

- (A) diferença e supérfluo.
- (B) semelhança e imprescindível.
- (C) separação e necessário.
- (D) honraria e básico.
- (E) recomendação e secundário.

**07.** Em destaque, encontra-se vocábulo empregado em sentido figurado em:

- (A) ... selecionou torcedores para um programa de **concessão** de entradas gratuitas em jogos do clube. (1º parágrafo)
- (B) Em apenas um mês, as 600 vagas da modalidade foram **esgotadas**. (2º parágrafo)
- (C) Nela, os torcedores pagam mensalidade de 30 reais e têm **acesso** garantido a todos os jogos. (2º parágrafo)
- (D) ... ainda se encaixa no **orçamento** de boa parcela de seus torcedores. (3º parágrafo)
- (E) “Quando jogamos contra times de outros estados, nosso trunfo é o apoio **maciço** do torcedor”... (4º parágrafo)

**08.** Assinale a alternativa em que se aponta corretamente, nos parênteses, a noção que o vocábulo destacado expressa no contexto em que se encontra.

- (A) ... selecionou torcedores **para** um programa de concessão de entradas gratuitas... (propósito).
- (B) **Em** dezembro de 2018, a agremiação azulina reformulou seu plano de sócio-torcedor... (local).
- (C) ... destinada **a** beneficiários de programas sociais como o Bolsa-Família (modo).
- (D) “Fizemos questão de não colocar nenhuma distinção na carteirinha **de** sócio”... (procedência).
- (E) “Quando jogamos **contra** times de outros estados, nosso trunfo é o apoio maciço...”... (comparação).

**09.** Assinale a alternativa que apresenta concordância nominal e verbal correta.

- (A) Foi colocada à disposição dos torcedores 600 vagas da categoria Ouro Social.
- (B) A redução dos preços tiveram impacto significativo na presença dos torcedores em campo.
- (C) Segundo Bentes, são fundamentais a valorização e a presença do torcedor de seu clube.
- (D) O Paysandu e a Unama anunciaram conjuntamente o projeto, que beneficiaram torcedores.
- (E) Os 50 reais cobrados pelo Corinthians o coloca na terceira posição de bilheteria mais cara.

10. A colocação pronominal está de acordo com a norma-padrão em:
- (A) Não importa de onde o torcedor vem, é preciso que aproximemo-lo do seu clube do coração.
  - (B) O torcedor, ao não aproximar-se do clube, é alijado do seu pleno direito de torcida.
  - (C) Os preços impeditivos assustam os torcedores e geralmente mantêm-nos longe dos estádios.
  - (D) Iniciativas de redução de preço das entradas são bem-vistas, e mais clubes estão copiando-as.
  - (E) A entrada com preço reduzido parece ser uma tendência e quem usa-as mais é o torcedor mais carente.

Leia o texto para responder às questões de números 11 a 15.

Um estudo publicado em junho de 2018 analisa as transformações ocorridas em Hong Kong ao longo de duas décadas, dos anos 1980 aos 2000, com foco em como a mudança de status das mulheres na sociedade e de atitude delas em relação ao casamento impactou o mercado imobiliário da cidade.

Descobriu-se que as mulheres solteiras tiveram um papel “surpreendente e pouco estudado” na gentrificação de Hong Kong.

O termo vem do inglês “gentrification”, cunhado nos anos 1960 pela socióloga Ruth Glass para descrever mudanças no perfil de bairros da Zona Norte de Londres e se refere a um processo no qual investimentos que promovem a renovação de um bairro ou região atraem frequentadores e moradores de classes mais altas e provocam a saída de seus habitantes originais, de uma faixa de renda mais baixa.

Ainda que as mulheres tenham tido papel de agente nesse processo, o estudo ressalta que elas são as principais vítimas da gentrificação, “em decorrência da feminização da pobreza, fenômeno global e onipresente”.

O conceito de feminização da pobreza corresponde ao aumento absoluto ou relativo da pobreza entre mulheres ou entre famílias chefiadas por mulheres.

(Juliana Domingos de Lima. *O papel de mulheres solteiras na gentrificação de Hong Kong*. [www.nexojournal.com.br](http://www.nexojournal.com.br), 08.04.2019. Adaptado)

11. De acordo com o texto,
- (A) as mulheres são responsáveis por mudanças importantes em Hong Kong ao garantirem maior igualdade de gênero entre os habitantes de certos bairros da cidade.
  - (B) um estudo comparou a população feminina em Hong Kong em dois períodos distintos de vinte anos cada: de 1980 a 2000 e de 2001 a 2018.
  - (C) houve em Hong Kong um processo de alteração socioeconômica importante protagonizado por mulheres e que afetou o setor imobiliário.
  - (D) considerou-se que em um dado estudo como o enriquecimento ou o empobrecimento das mulheres foi determinado pelo fato de serem mães solteiras.
  - (E) alguns bairros da Zona Norte de Londres serviram de referência para se determinar a densidade populacional incomum de mulheres em bairros de Hong Kong.

12. A gentrificação, segundo a definição que se encontra no texto, pode ser definida como um processo
- (A) inclusivo.
  - (B) segregante.
  - (C) homogeneizador.
  - (D) democratizante.
  - (E) criminoso.

13. No trecho – **Ainda que** as mulheres tenham tido papel de agente nesse processo, o estudo ressalta que elas são às principais vítimas da gentrificação... (4º parágrafo) – a expressão destacada confere ao trecho ideia de

- (A) oposição.
- (B) adição.
- (C) condição.
- (D) conclusão.
- (E) concessão.

14. Está em conformidade com a norma-padrão de regência verbal e nominal a frase:

- (A) Muitos estudos chegam em conclusões bastante interessantes sobre a sociedade.
- (B) O estudo faz referência de um termo cunhado por uma socióloga britânica.
- (C) Feministas britânicas se correspondiam umas às outras por cartas no final do século XIX.
- (D) Muitos moradores são alheios nas políticas públicas habitacionais da cidade onde moram.
- (E) O Pelourinho consta da lista de localidades que sofreram algum tipo de gentrificação.

15. Quanto à ocorrência do acento indicativo de crase, assinale a alternativa que preenche, correta e respectivamente, as lacunas da frase a seguir, em conformidade com a norma-padrão.

Um novo termo é cunhado devido \_\_\_\_\_ necessidade de se dar um nome \_\_\_\_\_ um conceito que antes não existia e que passará, assim, \_\_\_\_\_ ser usado.

- (A) a ... à ... a
- (B) à ... a ... à
- (C) a ... a ... a
- (D) à ... a ... a
- (E) a ... à ... à

16. Em um escritório, há uma caixa com 120 envelopes.

Desse total,  $\frac{1}{3}$  foi utilizado para enviar memorandos, e  $\frac{2}{5}$

dos envelopes restantes foram utilizados para correspondências diversas, ficando os demais envelopes na caixa.

Em relação ao número total de envelopes que havia na caixa, aqueles que permaneceram nela, representam:

- (A) 60%
- (B) 55%
- (C) 50%
- (D) 45%
- (E) 40%

17. Kátia comprou três lápis, cada um deles por R\$ 2,20, e uma lapiseira. Ao pagar a conta com uma nota de R\$ 20,00, recebeu de troco R\$ 4,40. O valor da lapiseira supera o valor de um lápis em

- (A) R\$ 7,20.
- (B) R\$ 7,00.
- (C) R\$ 6,80.
- (D) R\$ 6,60.
- (E) R\$ 6,40.

18. Para imprimir folhetos, uma gráfica trabalha com 5 máquinas, todas elas imprimindo o mesmo número de folhetos por hora. Sabendo que essas 5 máquinas imprimem um lote de folhetos em 1 hora e 21 minutos, então, 3 dessas máquinas imprimiriam o mesmo lote de folhetos em

- (A) 1 hora e 55 minutos.
- (B) 2 horas e 15 minutos.
- (C) 2 horas e 25 minutos.
- (D) 2 horas e 40 minutos.
- (E) 2 horas e 55 minutos.

19. Uma pessoa comprou determinado número de pastas para guardar documentos. Utilizou  $\frac{3}{5}$  delas para docu-

mentos antigos,  $\frac{1}{3}$  para documentos recentes e ainda restaram 2 pastas. O número de pastas utilizadas para guardar documentos antigos foi

- (A) 10.
- (B) 15.
- (C) 18.
- (D) 24.
- (E) 30.

20. Luís e Rui organizaram, juntos, 135 processos. Sabendo que o número de processos organizados por Luís foi igual a  $\frac{4}{5}$  do número de processos organizados por Rui,

então, o número de processos organizados por Luís foi

- (A) 75.
- (B) 70.
- (C) 65.
- (D) 60.
- (E) 55.

21. A tabela mostra algumas informações sobre o número de unidades de determinado produto compradas nos 5 primeiros meses do ano.

MÊS	Nº DE UNIDADES
Janeiro	8
Fevereiro	9
Março	$x + 4$
Abril	12
Maio	$x$

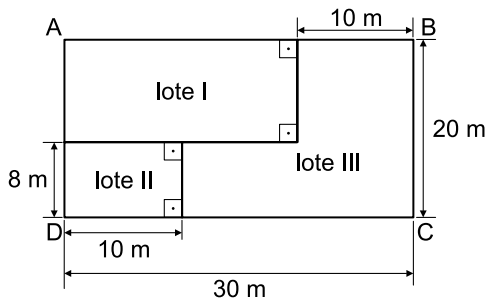
Sabendo que, na média, foram compradas 11 unidades por mês, e que o valor da cada unidade foi R\$ 120,00, então, o valor gasto no mês de março, com a compra dessas unidades, foi

- (A) R\$ 1.800,00.
- (B) R\$ 1.680,00.
- (C) R\$ 1.440,00.
- (D) R\$ 1.200,00.
- (E) R\$ 1.080,00.

22. Um parque aquático cobra R\$ 120,00 pelo ingresso individual, que dá direito a participar de algumas atividades. Para atividades especiais, é cobrada uma taxa fixa de R\$ 15,00 por pessoa. Um grupo de 3 amigos foi a esse parque e gastou, com ingressos e atividades especiais, o total de R\$ 465,00. O número de atividades especiais pagas por esse grupo foi

- (A) 8.
- (B) 7.
- (C) 6.
- (D) 5.
- (E) 4.

23. Um terreno retangular ABCD foi dividido em 3 lotes, conforme mostra a figura.

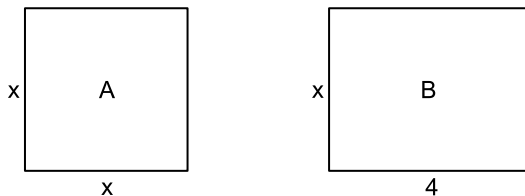


(Figura fora de escala)

A área do lote III é

- (A) 400 m<sup>2</sup>.
- (B) 370 m<sup>2</sup>.
- (C) 350 m<sup>2</sup>.
- (D) 320 m<sup>2</sup>.
- (E) 280 m<sup>2</sup>.

24. Em uma casa, há 2 quartos. O quarto A é quadrado e o quarto B, retangular, conforme mostram as figuras, cujas medidas indicadas estão em metros.

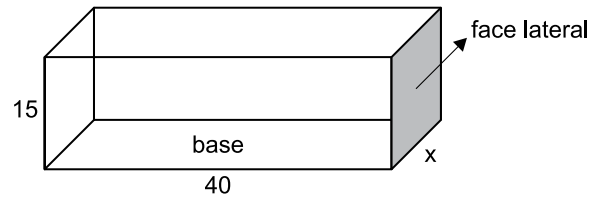


(Figuras fora de escala)

Sabendo que o perímetro do quarto A tem 2 m a menos do que o perímetro do quarto B, então, o perímetro do quarto B é

- (A) 14 m.
- (B) 13 m.
- (C) 12 m.
- (D) 11 m.
- (E) 10 m.

25. A figura mostra as medidas internas, em centímetros, de uma caixa na forma de um prisma reto de base retangular, com 15 cm de altura.



(Figura fora de escala)

Sabendo que o volume dessa caixa é 21 000 cm<sup>3</sup>, então, a área da face lateral, destacada na figura, é

- (A) 450 cm<sup>2</sup>.
- (B) 475 cm<sup>2</sup>.
- (C) 500 cm<sup>2</sup>.
- (D) 525 cm<sup>2</sup>.
- (E) 550 cm<sup>2</sup>.

**R A S C U N H O**



26. A imagem a seguir mostra uma parte da Barra de Tarefas do MS-Windows 7, em sua configuração padrão.



O retângulo destacado no canto direito da imagem, referente ao canto inferior direito da Barra de Tarefas, pode ser usado para

- (A) nada, pois não pode ser clicado.
  - (B) ativar o Menu Iniciar.
  - (C) exibir o Menu de Contexto.
  - (D) desligar o computador com um clique.
  - (E) mostrar a Área de Trabalho.
27. Observe os ícones a seguir, retirados do MS-Word 2010, em sua configuração padrão.



Os ícones da imagem são opções de formatação do grupo

- (A) Ilustrações.
- (B) Cabeçalho.
- (C) Estilo.
- (D) Parágrafo.
- (E) Fonte.

28. Um usuário preparou a planilha a seguir por meio do MS-Excel 2010, em sua configuração padrão.

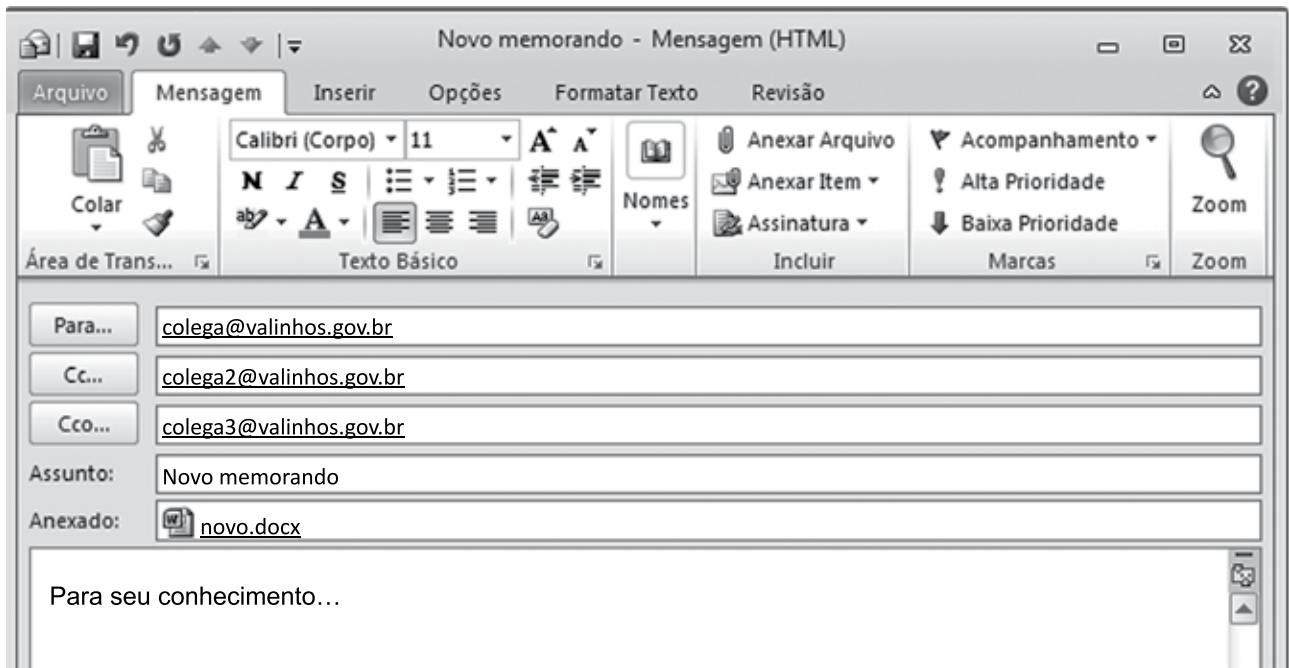
	A	B	C
1	8	2	3
2	4	6	7
3	5	4	6
4			

Assinale a alternativa que apresenta o valor que será exibido na célula C4, após esta ser preenchida com a seguinte fórmula:

=MÉDIA(A1:C3)

- (A) 4
  - (B) 5
  - (C) 6
  - (D) 7
  - (E) 8
29. Todo usuário deve saber fazer buscas na internet e localizar textos desejados. Um dos navegadores mais usados é o Google Chrome. O atalho por teclado usado para localizar textos numa página sendo lida no Google Chrome é:
- (A) Ctrl + A
  - (B) Ctrl + C
  - (C) Ctrl + F
  - (D) Ctrl + H
  - (E) Ctrl + T

30. Um usuário, a partir da conta remetente@valinhos.gov.br, prepara um e-mail para comunicar um novo memorando aos seus colegas de trabalho, conforme a imagem exibida a seguir.



É correto afirmar:

- (A) [colega3@valinhos.gov.br](mailto:colega3@valinhos.gov.br) não sabe que o e-mail foi enviado para [colega@valinhos.gov.br](mailto:colega@valinhos.gov.br)
- (B) [colega@valinhos.gov.br](mailto:colega@valinhos.gov.br) sabe que o e-mail foi enviado para [colega3@valinhos.gov.br](mailto:colega3@valinhos.gov.br)
- (C) [colega3@valinhos.gov.br](mailto:colega3@valinhos.gov.br) sabe que o e-mail foi enviado para [colega2@valinhos.gov.br](mailto:colega2@valinhos.gov.br)
- (D) [colega@valinhos.gov.br](mailto:colega@valinhos.gov.br) não sabe que o e-mail foi enviado para [colega2@valinhos.gov.br](mailto:colega2@valinhos.gov.br)
- (E) [colega2@valinhos.gov.br](mailto:colega2@valinhos.gov.br) sabe que o e-mail foi enviado para [colega3@valinhos.gov.br](mailto:colega3@valinhos.gov.br)

## CONHECIMENTOS ESPECÍFICOS

- 31.** No modelo de atenção em saúde, são consideradas atividades típicas do Agente de Combate às Endemias:
- (A) ações que possibilitem o conhecimento, pela comunidade, de informações obtidas em levantamentos socioepidemiológicos.
  - (B) ações de campo para pesquisa entomológica, malacológica e coleta de reservatórios de doenças.
  - (C) vistorias domiciliares regulares para acolhimento da gestante, visando evitar arboviroses como dengue, zika e chikungunya.
  - (D) usos de instrumentos para elaboração do diagnóstico demográfico e sociocultural do território.
  - (E) visitas domiciliares periódicas para acompanhamento de grupos de risco com maior vulnerabilidade social.
- 32.** O Agente de Combate às Endemias, desde que assistido por profissional de nível superior, pode realizar atividade
- (A) de necropsia de animais com diagnóstico suspeito de zoonoses de relevância para a saúde pública.
  - (B) voltada para ações educativas e de mobilização da comunidade relativas à prevenção e ao controle de doenças.
  - (C) de identificação de casos suspeitos de doenças e encaminhá-los, quando indicado, à unidade de saúde.
  - (D) para atualização à base de imóveis para planejamento e definição de estratégias de prevenção e controle de doenças.
  - (E) de prevenção e controle de doenças, utilizando medidas de controle químico e biológico.
- 33.** No Sistema Único de Saúde, entende-se por integralidade
- (A) acesso aos serviços de saúde em todos os níveis de assistência.
  - (B) utilização da epidemiologia para o estabelecimento de prioridades e alocação de recursos.
  - (C) preservação da autonomia das pessoas na defesa de sua integridade física e moral.
  - (D) na orientação programática do sistema.
  - (E) conjunto articulado e contínuo das ações e dos serviços preventivos e curativos, individuais e coletivos.
- 34.** A descentralização político-administrativa no Sistema Único de Saúde enfatiza
- (A) direção orientada e determinada pelo Ministério da Saúde.
  - (B) organização dos serviços públicos e privados no nível estadual.
  - (C) descentralização dos serviços de saúde e de vigilância para os estados.
  - (D) regionalização e hierarquização da rede de serviços de saúde.
  - (E) integração em nível consultivo das ações de meio ambiente e saneamento básico.
- 35.** Assinale a alternativa correta em relação à leishmaniose tegumentar.
- (A) É uma doença infecciosa, não contagiosa.
  - (B) Tem distribuição restrita ao Brasil.
  - (C) O vetor são as fêmeas do mosquito anófeles.
  - (D) Afeta órgãos como o baço e o fígado, tendo como principal sintoma o inchaço do fígado.
  - (E) Também é conhecida por Calazar e pode afetar cães.
- 36.** Durante o trabalho de rotina, a equipe de Agentes de Combate às Endemias observou que em uma área de invasão as pessoas estavam usando água de poço tipo “cacimba” e que os esgotos das residências eram lançados diretamente sobre o solo, próximo ao referido poço.
- Nessa situação, os agentes avaliaram haver risco de transmissão de
- (A) dengue.
  - (B) verminoses.
  - (C) raiva.
  - (D) tuberculose.
  - (E) leptospirose.
- 37.** Assinale a alternativa correta no que diz respeito à endemia e seu exemplo correspondente no Brasil.
- (A) Rápido aumento do número de casos em uma determinada localidade ao longo de vários anos consecutivos; por exemplo, a febre amarela no Amazonas.
  - (B) Ocorrência de determinada doença em espaços característicos e determinados, no decorrer de um longo período, mantendo uma incidência relativamente constante; por exemplo, a malária em Rondônia.
  - (C) Quando o número de casos de uma doença com transmissão vetorial ultrapassa as fronteiras de um estado ou uma nação; por exemplo, a raiva no país.
  - (D) Introdução em uma comunidade ou região, de uma doença nova, que rapidamente ultrapassa a incidência esperada; por exemplo, a leptospirose em São Paulo.
  - (E) Diminuição ao longo do tempo do número de casos de determinada doença, sem que ocorra sua total erradicação; por exemplo, a leishmaniose tegumentar no Paraná.

- 38.** A notificação compulsória
- (A) será realizada somente diante da confirmação de doença ou agravo.
  - (B) é facultativa aos responsáveis por estabelecimentos educacionais públicos ou privados.
  - (C) será feita à Secretaria de Saúde do Município do local de atendimento do paciente.
  - (D) é obrigatória apenas para profissionais de saúde com formação médica.
  - (E) poderá ser registrada em sistema de informação a critério do agente notificador.
- 39.** Segundo as Diretrizes Nacionais para prevenção e controle das epidemias das arboviroses, assinale a alternativa que contém uma ação para avaliar e controlar a situação vetorial em municípios infestados pelo *Aedes aegypti*.
- (A) Realização de bloqueio de transmissão, com uso de inseticidas para eliminação de alados, semanalmente em 100% dos domicílios.
  - (B) Pesquisa entomológica, preferencialmente com ovi-trampas ou larvitampas, em ciclos semanais, em domicílios e parques públicos.
  - (C) Levantamento de índice larvário, por seleção domiciliar amostral, em ciclos quadrimestrais.
  - (D) Distribuição de *Bacillus thuringiensis israelensis* (Bti), larvicida biológico, para a população como medida profilática.
  - (E) Pesquisa larvária nos pontos estratégicos, em ciclos quinzenais, com tratamento focal e/ou residual, com periodicidade mensal para o tratamento residual.
- 40.** De modo geral, quando da suspeita de doença transmissível de notificação compulsória, o profissional da vigilância epidemiológica deve buscar responder a várias questões essenciais para o controle da doença. Assim, para obter informações sobre fonte de infecção e modo de transmissão, deve-se procurar responder, respectivamente, a questões referentes a:
- (A) quais são os atributos individuais dos casos e se outras pessoas podem ter sido afetadas.
  - (B) quanto tempo os doentes podem transmitir a doença e qual a distribuição dos casos no espaço e no tempo.
  - (C) partir do que ou de quem foi contraída a doença e como o agente da infecção chegou ao doente.
  - (D) avaliar se realmente trata-se de casos da doença que se suspeita e como evitar que atinja outras pessoas ou se dissemine na população.
  - (E) quem dos casos investigados pode ter transmitido a doença e que fatores determinaram a ocorrência da doença.
- 41.** O acúmulo de substâncias minerais (areia, argila) ou orgânicas (iodo) em um corpo d'água, o que provoca a redução de sua profundidade e de seu volume útil, é um processo denominado
- (A) assoreamento.
  - (B) eutrofização.
  - (C) deflorestamento.
  - (D) acidificação.
  - (E) lixiviação.
- 42.** A Leishmaniose Visceral (LV) é uma doença causada por um protozoário da espécie *Leishmania chagasi* que se caracteriza
- (A) pela transmissão ao homem por meio da picada de fêmeas do inseto barbeiro, especialmente da espécie *Triatoma infestans*.
  - (B) pelo longo raio de ação do mosquito vetor, que pode chegar até 10 quilômetros desde seus locais de criação.
  - (C) por ter como criadouros das formas jovens e imaturas do agente vetor em recipientes que possam acumular água potável.
  - (D) pela evolução crônica, com acometimento sistêmico e, se não tratada, pode levar a óbito até 90% dos casos.
  - (E) por afetar única e exclusivamente o homem, inclusive possibilitando a transmissão direta de pessoa a pessoa.
- 43.** Entre os aspectos biológicos do *Aedes aegypti*, é correto citar:
- (A) o ciclo de vida se caracteriza por apresentar 3 fases distintas: ovo, ninfa e adulto.
  - (B) a necessidade de locais que acumulem água para deposição dos ovos.
  - (C) o grande tamanho desses insetos, que podem atingir até 10 cm.
  - (D) a ausência de reprodução sexuada em épocas de seca extrema.
  - (E) a elevada mobilidade e extrema voracidade das pupas.
- 44.** Assinale a alternativa que contém exemplos de arboviroses.
- (A) Dengue, leishmaniose tegumentar e leptospirose.
  - (B) Leptospirose, chikungunya e febre do Nilo.
  - (C) Leishmaniose visceral, raiva e malária.
  - (D) Zika, Chagas e calazar.
  - (E) Chikungunya, zika e febre amarela.

45. Segundo as Diretrizes Nacionais para Prevenção e Controle de Epidemias das Arboviroses, o Agente de Combate às Endemias deve
- (A) durante a visita domiciliar eliminar todos os possíveis criadouros de mosquitos, naturais e artificiais, a revelia do morador.
  - (B) realizar a pesquisa larvária em imóveis, para levantamento de índices e identificação de focos, bem como em armadilhas e em Pontos Estratégicos, conforme orientação técnica.
  - (C) elaborar relatórios sobre a situação entomoepidemiológica do município e promover reuniões periódicas com supervisores de campo.
  - (D) acompanhar e analisar os indicadores entomológicos e epidemiológicos, utilizando-os para subsidiar a tomada de decisão pelo nível gerencial ou político.
  - (E) executar a aplicação focal e residual, quando indicado, como medida complementar ao controle mecânico, escolhendo quais os adúlctidas mais indicados.
46. A pesquisa de formas imaturas do *Aedes aegypti* possibilita estimar os índices entomológicos que indicam a situação da infestação a partir dos dados coletados em campo. Os índices mais comumente utilizados são Índice de Infestação Predial (IIP), Índice de Tipo de Recipientes (ITR) e Índice de Breteau (IB), sendo este último obtido pela seguinte fórmula:
- (A) recipientes positivos x 100 imóveis / imóveis pesquisados.
  - (B) imóveis positivos x 100 / imóveis pesquisados.
  - (C) tipo de recipientes positivos x 100 / recipientes positivos total.
  - (D) recipientes positivos x 100 imóveis / recipientes positivos total.
  - (E) tipo de recipientes positivos x 100 / imóveis pesquisados.
47. Furar recipientes plásticos antes do descarte, manter lixeiras tampadas, colocar garrafas e baldes com a abertura voltada para o solo, manter caixas d'água tampadas e guardar pneus em locais cobertos são medidas adotadas para se evitar a proliferação de
- (A) *Culex sp.*
  - (B) escorpiões.
  - (C) *Aedes aegypti*.
  - (D) cães errantes.
  - (E) *Lutzomyia palpalis*.
48. O conjunto de ações de saneamento ambiental, como abastecimento de água potável, acondicionamento correto do lixo doméstico e sistema de esgotamento sanitário, é importante para prevenção de diversas doenças, como, por exemplo,
- (A) esquistossomose.
  - (B) sarampo.
  - (C) hanseníase.
  - (D) dengue.
  - (E) gripe.
49. Assinale a alternativa que contém corretamente uma condição favorável para o aparecimento de surtos de febre amarela.
- (A) Intenso deslocamento de pessoas entre diferentes países, principalmente de avião.
  - (B) Clima seco, com baixa pluviosidade, e frio o que estimulam a reprodução do vetor.
  - (C) Presença de primatas infectados que podem transmitir diretamente a doença ao homem.
  - (D) Baixa cobertura vacinal da população residente nas áreas endêmicas.
  - (E) Aparecimento de mamíferos e aves silvestres em áreas urbanas.
50. Após a notificação de um caso de leptospirose em sua área, a Unidade de Vigilância organizou uma visita domiciliar com equipe multidisciplinar. Durante a visita, o Agente de Combate às Endemias esteve atento a sinais que indicassem a presença de
- (A) roedores.
  - (B) mosquitos.
  - (C) baratas.
  - (D) escorpiões.
  - (E) aranhas.





