



PREFEITURA MUNICIPAL DE VALINHOS

ESTADO DE SÃO PAULO

CONCURSO PÚBLICO

036. PROVA OBJETIVA

CONTADOR – SF

(OPÇÃO: 043)

- ◆ Você recebeu sua folha de respostas e este caderno contendo 60 questões objetivas.
- ◆ Confira seus dados impressos na capa deste caderno e na folha de respostas.
- ◆ Quando for permitido abrir o caderno, verifique se está completo ou se apresenta imperfeições. Caso haja algum problema, informe ao fiscal da sala.
- ◆ Leia cuidadosamente todas as questões e escolha a resposta que você considera correta.
- ◆ Marque, na folha de respostas, com caneta de tinta preta, a letra correspondente à alternativa que você escolheu.
- ◆ A duração da prova é de 3 horas e 30 minutos, já incluído o tempo para o preenchimento da folha de respostas.
- ◆ Só será permitida a saída definitiva da sala e do prédio após transcorridos 75% do tempo de duração da prova.
- ◆ Deverão permanecer em cada uma das salas de prova os 3 últimos candidatos, até que o último deles entregue sua prova, assinando termo respectivo.
- ◆ Ao sair, você entregará ao fiscal a folha de respostas e este caderno, podendo levar apenas o rascunho de gabarito, localizado em sua carteira, para futura conferência.
- ◆ Até que você saia do prédio, todas as proibições e orientações continuam válidas.

AGUARDE A ORDEM DO FISCAL PARA ABRIR ESTE CADERNO DE QUESTÕES.

Nome do candidato _____

RG _____

Inscrição _____

Prédio _____

Sala _____

Carteira _____

CONHECIMENTOS GERAIS

LÍNGUA PORTUGUESA

Leia o texto, para responder às questões de números **01** a **07**.

Os millennials – pessoas que têm, hoje, entre 18 e 35 anos –, também conhecidos por Geração Y, têm impactado a forma de a sociedade consumir. Esse grupo, cuja maioria trabalha ou estuda, além de ser engajada em causas sociais e ambientais, segundo levantamento da startup de pesquisas MindMiners, deve atingir seu auge em 2020.

Os objetos de desejo desses indivíduos variam de acordo com a classe social. Segundo a socióloga e pesquisadora da Antenna Consultoria e Pesquisa, Marilene Pottes, enquanto as mais baixas priorizam bens duráveis e conforto, as mais altas – que contam com maior suporte financeiro dos pais – valorizam vivências.

Embora os especialistas concordem que esse público é exigente e autêntico, há divergências sobre o recorte exato das idades. Uma pesquisa do Statista, portal alemão líder de estatísticas internacionais na internet, por exemplo, considera consumidores que eram adolescentes na virada do milênio. Já a empresa de pesquisas Kantar Worldpanel abrange pessoas nascidas de 1979 a 1996. Outro contorno engloba nascidos no início dos anos 80 até meados de 90: nesse caso, teriam recebido a denominação de millennials por atingirem idade de discernimento a partir dos anos 2000, ou se tornarem consumidores na época. Esses jovens se reconhecem como trabalhadores e ambiciosos. Apesar disso, uma grande parte ainda mora com os pais ou outros parentes, dependendo financeiramente da família.

– É uma geração que pôde estudar mais e ingressar no mercado de trabalho mais tarde. Alguns os consideram mimados, mas, na verdade, eles apenas não querem aceitar qualquer tipo de trabalho – explica a gerente de marketing da MindMiners, Danielle Almeida.

A Bridge Research também fez um estudo sobre os hábitos desses jovens adultos:

– Essas pessoas são multitarefas, conseguem trabalhar olhando para o celular, por exemplo. Também são menos leais a marcas do que pessoas de outras idades – destaca Renato Trindade, diretor da empresa de pesquisa. Para o professor da FGV, Roberto Kanter, a principal razão de agrado à geração Y é seu inédito poder de influência:

– Devido às mídias sociais, os consumidores, e não mais os meios de comunicação, têm sido a principal fonte de informação sobre produtos e serviços.

(Disponível em: <<https://oglobo.globo.com/economia>>.

Acesso em 01.05.2019. Adaptado)

- 01.** É correto afirmar que o texto faz referência aos millennials, enfocando características dessa geração, tais como:
- (A) aspirações, hábitos de consumo e dispersão no desempenho de atividades profissionais.
 - (B) condição socioeconômica privilegiada, discernimento precoce e independência financeira.
 - (C) poder de influenciar o consumo, adesão a causas sociais e capacidade de se dedicar a múltiplas atividades.
 - (D) experiência de vida, padronização da faixa etária do grupo e adiamento dos estudos.
 - (E) desapego a marcas, predileção por acúmulo de bens e ingresso precoce no mercado de trabalho.
- 02.** Entre os recursos que dão sustentação às informações fornecidas ao leitor está
- (A) o depoimento de indivíduos do grupo denominado *millennials*, respondentes de pesquisas realizadas ao longo dos últimos anos por institutos de pesquisa.
 - (B) a menção a fontes fidedignas, representadas por depoimentos de especialistas e corporações dedicadas a levantamento e análise de dados.
 - (C) o levantamento atualizado e criterioso do jornal acerca das condições que garantem às famílias dos millennials mantê-los enquanto estudam e trabalham.
 - (D) a preocupação do jornal em fornecer dados que interessem ao público jovem brasileiro, servindo como referência para que este direcione suas escolhas futuras.
 - (E) o tom afirmativo das informações, com o emprego de expressões categóricas que permitam ao leitor constatar a confiabilidade do meio de comunicação.
- 03.** Segundo o comentário da gerente de marketing da MindMiners, no 4º parágrafo, a geração dos millennials
- (A) retardou seu ingresso no mercado, justificando o juízo depreciativo em relação ao tratamento protetivo que recebe.
 - (B) não aceita trabalho nenhum, porque sua dedicação aos estudos não justifica desempenhar qualquer tarefa.
 - (C) acaba por ser afastada do trabalho em razão dos sucessivos adiamentos impostos por familiares.
 - (D) entende que o mercado de trabalho não tem condições de reconhecer o tempo que ela despendeu com os estudos.
 - (E) dedicou mais tempo à própria formação, sendo, assim, seletiva quanto ao tipo de trabalho que aceita desempenhar.

04. Assinale a alternativa em que as vírgulas são empregadas com a mesma função do travessão duplo na passagem – ...enquanto as mais baixas priorizam bens duráveis e conforto, as mais altas – que contam com maior suporte financeiro dos pais – valorizam vivências.

- (A) Essas pessoas são multitarefas, conseguem trabalhar olhando para o celular, por exemplo.
- (B) Alguns os consideram mimados, mas, na verdade, eles apenas não querem aceitar qualquer tipo de trabalho.
- (C) Uma pesquisa do Statista, portal alemão líder de estatísticas internacionais na internet, por exemplo, considera consumidores que eram adolescentes na virada do milênio.
- (D) ... nesse caso, teriam recebido a denominação de millennials por atingirem idade de discernimento a partir dos anos 2000, ou se tornarem consumidores na época.
- (E) Apesar disso, uma grande parte ainda mora com os pais ou outros parentes, dependendo financeiramente da família.

05. A passagem em que há uma expressão compatível com a noção de causa é:

- (A) Os objetos de desejo desses indivíduos variam de acordo com a classe social.
- (B) Também são menos leais a marcas do que pessoas de outras idades – destaca Renato Trindade...
- (C) ... os consumidores, e não mais os meios de comunicação, têm sido a principal fonte de informação sobre produtos e serviços.
- (D) ...teriam recebido a denominação de millennials por atingirem idade de discernimento a partir dos anos 2000...
- (E) ... cuja maioria trabalha ou estuda, além de ser engajada em causas sociais e ambientais...

06. No contexto do final do 3º parágrafo, a expressão destacada no trecho – **Apesar disso**, uma grande parte ainda mora com os pais ou outros parentes, dependendo financeiramente da família. – exprime a ideia de

- (A) modo, e pode ser substituída por – Assim sendo.
- (B) comparação, e pode ser substituída por – A par disso.
- (C) finalidade, e pode ser substituída por – A fim disso.
- (D) conclusão, e pode ser substituída por – Sendo assim.
- (E) concessão, e pode ser substituída por – Mesmo assim.

07. Para estar de acordo com a norma-padrão de regência e de emprego de pronome, a passagem – ... enquanto as [classes] mais baixas priorizam bens duráveis e conforto, as mais altas – que contam com maior suporte financeiro dos pais – valorizam vivências ... – deverá ter como sequência:

- (A) e as dão importância.
- (B) e atribuem-nas prestígio.
- (C) e priorizam-lhes.
- (D) e prestigiam-nas.
- (E) e fazem elas serem prioritárias.

08. Assinale a alternativa redigida de acordo com a norma-padrão de concordância.

- (A) Entretanto, registram-se divergências sobre o recorte exato das idades dos millennials.
- (B) Os especialistas concordam que se tratam de pessoas exigentes e autênticas.
- (C) Nesse grupo, os que trabalham ou estudam é maioria, além de estar engajado em causas sociais.
- (D) Evidenciam-se que pesquisas sobre a Geração Y a considera importante para definir perfis de consumo.
- (E) É bastante variável, de acordo com o grupo social, os objetos de desejo desses indivíduos.

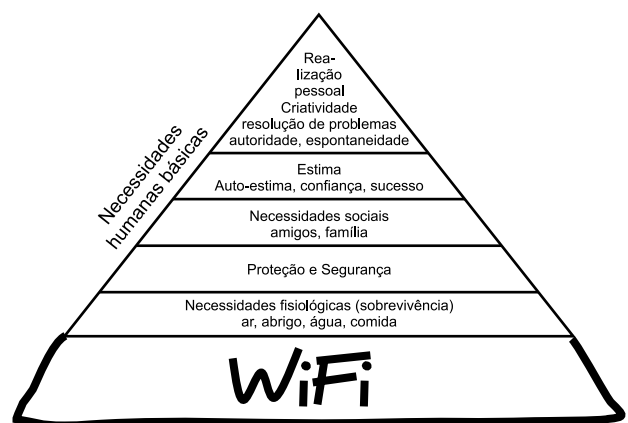
09. Assinale a alternativa que preenche as lacunas do texto a seguir, de acordo com a norma-padrão de regência e de crase.

Consultorias fazem fortunas ensinando _____ como manejar _____ digitais protagonizadas pelos membros da geração Y. O que vem inquietando muitos executivos, agora, é _____ críticas públicas dos próprios funcionários.

(Veja, 01.05.2019. Adaptado)

- (A) às empresas ... às revoltas ... se deparar com as
- (B) às empresas ... as revoltas ... deparar com as
- (C) as empresas ... as revoltas ... deparar às
- (D) as empresas ... às revoltas ... deparar com as
- (E) às empresas ... às revoltas ... se deparar às

Leia a charge, para responder à questão de número 10.



(Disponível em: <<http://www.ipiadas.com.br/>>. Acesso em 02.05.2019)

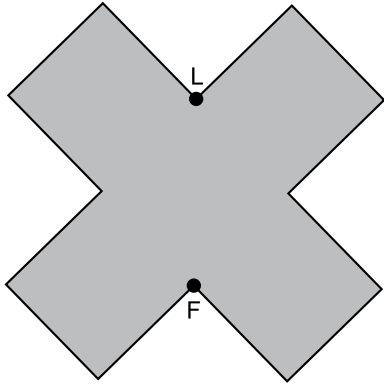
10. A adaptação feita na pirâmide de Maslow, que define a hierarquia das necessidades humanas, tem seu efeito de sentido crítico decorrente de

- (A) situar a tecnologia de rede sem fio como fundamental em relação às demais necessidades.
- (B) tratar a comunicação em redes como desimportante em relação às demais necessidades.
- (C) associar todas as necessidades, descaracterizando a ideia de uma gradação entre elas.
- (D) reconhecer que os recursos tecnológicos permitem galgar as etapas representadas na pirâmide.
- (E) descaracterizar as necessidades, negando os valores postos no topo da pirâmide.

11. André e Daniel receberam uma mesma quantia em dinheiro. Eles gastaram, desse dinheiro, a mesma quantia por dia durante vários dias. Após 57 dias, André ficou com R\$ 43,00, e após 58 dias, Daniel ficou com R\$ 29,00. O valor que cada um desses rapazes recebeu foi
- (A) R\$ 613,00.
 - (B) R\$ 783,00.
 - (C) R\$ 841,00.
 - (D) R\$ 910,00.
 - (E) R\$ 1.002,00.
12. Três caminhoneiros passam regularmente por certo posto de combustível. Um deles passa a cada 22 dias, outro a cada 34 dias, e o terceiro a cada 85 dias. No ano de 2019, eles já estiveram, no mesmo dia, nesse posto. A próxima vez em que os três caminhoneiros estarão nesse posto, no mesmo dia, será entre os anos de
- (A) 2019 e 2022.
 - (B) 2023 e 2026.
 - (C) 2027 e 2030.
 - (D) 2031 e 2034.
 - (E) 2035 e 2038.
13. Artur possui 82% da quantia necessária para comprar um computador. Se ele conseguir um desconto de 15% no preço do computador, ainda assim faltarão R\$ 234,00. O preço desse computador é um valor entre
- (A) R\$ 7.500,00 e R\$ 8.000,00.
 - (B) R\$ 8.500,00 e R\$ 9.000,00.
 - (C) R\$ 9.500,00 e R\$ 10.000,00.
 - (D) R\$ 10.500,00 e R\$ 11.000,00.
 - (E) R\$ 11.500,00 e R\$ 12.000,00.
14. Para cada 8 clientes que entram em uma loja, 3 compram algum produto. Em certo dia, o número de clientes que compraram algum produto foi 74 a menos do que o número de clientes que nada compraram. Nesse dia, o número de clientes que entraram nessa loja foi
- (A) 278.
 - (B) 284.
 - (C) 290.
 - (D) 296.
 - (E) 302.

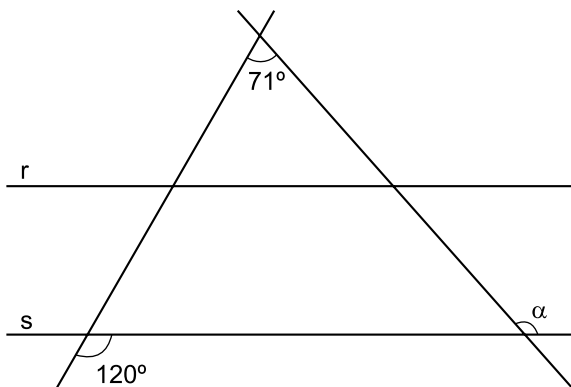
15. Em 7 minutos, 3 máquinas de mesmo rendimento produziram 84 peças. Para serem produzidas 15 120 peças em 7 horas, o número dessas máquinas trabalhando conjuntamente deve ser
- (A) 6.
(B) 7.
(C) 8.
(D) 9.
(E) 10.
16. Em uma empresa, o número de homens é 19 a mais do que o número de mulheres. No departamento de compras dessa empresa trabalham um quinto dos homens e três oitavos das mulheres. No dia do amigo, entre os que trabalham no departamento de compras, cada mulher trouxe um chocolate para cada homem, num total de 42 chocolates. O número de funcionários dessa empresa é
- (A) 47.
(B) 48.
(C) 49.
(D) 50.
(E) 51.
17. Em uma estante estão colocados vários potes, cada pote contendo 12 biscoitos. Todos os biscoitos contidos em 3 desses potes foram vendidos para um homem, e 5 meninas compraram 8 biscoitos cada uma. Após essas vendas, os biscoitos não vendidos foram redistribuídos pelos potes, de maneira que cada pote ficou com 4 biscoitos a menos do que tinham inicialmente. O total de potes nessa estante é
- (A) 18.
(B) 19.
(C) 20.
(D) 21.
(E) 22.
18. A média aritmética simples das idades de 32 pessoas é 36 anos. Dez dessas pessoas têm 70 anos e dez têm 15 anos de idade. Considerando somente as demais pessoas, se as mais novas têm 22 anos, a mais velha terá uma idade, em anos, no máximo igual a
- (A) 40.
(B) 45.
(C) 50.
(D) 55.
(E) 60.

19. Um polígono tem todos os lados de mesma medida e quaisquer dois lados consecutivos se encontram formando o ângulo reto, conforme mostra a figura.



Sabendo-se que a distância entre os vértices F e L é igual a 4 cm, a área, em cm^2 , desse polígono é

- (A) 20
 (B) $20\sqrt{2}$
 (C) 40
 (D) $40\sqrt{2}$
 (E) 80
20. Duas retas paralelas r e s são intersectadas por duas retas transversais, conforme a figura.



O valor do ângulo α é

- (A) 131°
 (B) 139°
 (C) 141°
 (D) 149°
 (E) 151°

ATUALIDADES

21. Mais de 20 países, até abril deste ano (2019), registraram pacientes de uma doença provocada por um fungo que é resistente aos medicamentos disponíveis no mercado. No Brasil, não há notificações de sua presença, mas, nos vizinhos Colômbia e Venezuela, ele foi detectado em hospitais. Nos Estados Unidos, na Europa e na Ásia, múltiplos casos deixam as autoridades de saúde pública em alerta. Esse fungo é

(<http://twixar.me/kjtk>. Adaptado)

- (A) Esporotricose.
- (B) Histoplasmose.
- (C) Paracoccidioidomicose.
- (D) Aspergilose.
- (E) Candida auris.

22. O governo federal desistiu de editar uma medida provisória (MP) para regulamentar o ensino domiciliar no país. Segundo o Ministro-chefe da Casa Civil, a intenção foi não correr riscos em outras esferas de poder. Segundo o projeto de lei que substituiu a MP, encaminhado pelo governo para apreciação no Congresso Nacional,

(Adaptado: <http://twixar.me/5FtK>)

- (A) a avaliação terá como base os conteúdos do ano equivalente ao qual o aluno estaria cursando na escola.
- (B) o *homeschooling* será vetado em caso de três reprovações consecutivas do aluno nas provas aplicadas pelo MEC.
- (C) as avaliações serão aplicadas a partir do primeiro ano do ensino fundamental, no mês de dezembro.
- (D) os pais que optarem pelo ensino domiciliar deverão registrar os filhos em órgão da Secretaria Estadual de Educação criado para tal fim.
- (E) os alunos sujeitos à educação domiciliar não poderão participar de concursos, competições culturais e avaliações institucionais do MEC.

23. As agências espaciais da Europa e dos Estados Unidos apresentaram, no dia 10 de abril deste ano (2019), a primeira imagem do buraco negro no Universo, graças ao trabalho de 200 pesquisadores e oito telescópios de rádio interligados. Segundo cientistas que participaram do projeto, a descoberta comprova a Teoria

(<http://twixar.me/9jtK>. Adaptado)

- (A) do Princípio Antrópico.
- (B) do Big Bang.
- (C) da Quinta Força Fundamental.
- (D) da Relatividade.
- (E) do Caos.

24. Para evitar eventuais contestações jurídicas, já que a Constituição determina que projetos que alteram a estrutura do Executivo precisam ser enviados pelo Executivo, o governo divulgou o envio de um novo projeto sobre a autonomia do Banco Central para corrigir o chamado “vício de iniciativa”. Segundo a proposta apresentada pelo governo,

(<http://twixar.me/gLtk>. Adaptado)

- (A) o presidente do BC ou seus diretores poderão ser exonerados caso haja comprovado que tenham ocultado propriedades na declaração de bens ou respondam por sonegação fiscal.
- (B) os mandatos dos diretores e do presidente da autarquia deverão coincidir com o mandato do Presidente da República que fez a escolha e a nomeação da diretoria.
- (C) é competência privativa do BC efetuar, como instrumento de política cambial, operações de compra e venda de moeda estrangeira e operações com derivativos no mercado interno.
- (D) os balanços do Banco Central serão apurados semestralmente, no período de 1º de janeiro a 30 de junho, inclusive para fins de destinação ou cobertura de seus resultados e constituição de reservas financeiras.
- (E) considerando a importância e o período de mandato, o presidente do Banco Central terá as prerrogativas de ministro de estado, inclusive com direito a passaporte diplomático.

25. No dia 11 de abril deste ano (2019), o presidente equatoriano, Lenín Moreno, publicou vídeo nas redes sociais justificando os motivos que o levaram a revogar o asilo concedido ao fundador do WikiLeaks, o australiano Julian Assange, que ficou sete anos ocupando um pequeno quarto na Embaixada do Equador em Londres. O presidente afirmou que Assange tinha conduta desrespeitosa. Relatos de funcionários e pessoas próximas ao jornalista confirmam que ele

(<http://twixar.me/9StK>. Adaptado)

- (A) tinha uma cadela que era mal cuidada e sujava as dependências da embaixada.
- (B) andava de skate pelos corredores e não tomava banho regularmente.
- (C) assediava as funcionárias da embaixada que se recusavam a limpar seu quarto.
- (D) desrespeitava os servidores da embaixada provocando-os com palavras chulas.
- (E) conspirava contra a Inglaterra e os Estados Unidos, fazendo ciberpirataria.

NOÇÕES DE INFORMÁTICA

26. No MS Windows 7, em sua configuração padrão, as teclas de atalho que permitem a um usuário percorrer os programas ativos na ordem em que foram abertos são

- (A) Alt + Esc
- (B) Alt + F4
- (C) Ctrl + A
- (D) Ctrl + F4
- (E) Shift + Esc

27. As palavras a seguir pertencem a um texto que está sendo editado com o programa MS Word 2010 em sua configuração padrão.

CONCURSO PÚBLICO

Assinale a alternativa que contém os dois recursos utilizados, respectivamente, na formatação dessas palavras.

- (A) Itálico e Sublinhado.
- (B) Itálico e Tachado.
- (C) Negrito e Subscrito.
- (D) Sublinhado e Sobrescrito.
- (E) Tachado e Sublinhado.

28. A planilha da figura foi elaborada com o auxílio do MS Excel 2010 em sua configuração padrão.

	A	B	C	D	E
1	4	5	6	7	8
2	10	9	11	14	12
3					

Assinale a alternativa que apresenta o valor que será exibido na célula A3, após esta ser preenchida com a fórmula =MAIOR(A1:E2;2)*MÉDIA(A1:C1).

- (A) 35
- (B) 40
- (C) 55
- (D) 60
- (E) 70

29. O programa MS PowerPoint 2010, em sua configuração padrão, disponibiliza diversos temas para que o usuário tenha opções gráficas para elaborar sua apresentação. A seleção do tema de uma apresentação pode ser feita por meio da guia

- (A) Animações.
- (B) Configurações.
- (C) Design.
- (D) Exibição.
- (E) Formatação.

30. Um usuário da Internet está preparando uma mensagem no seu programa de correio eletrônico, que tem as seguintes informações nos campos de endereços:

De:	alfredo@valinhos.gov.br
Para:	bernardo@valinhos.gov.br
Cc:	camila@valinhos.gov.br
Cco:	danilo@valinhos.gov.br

Sabendo que a mensagem foi enviada e entregue com sucesso, assinale a alternativa que tem a afirmação correta.

- (A) Alfredo não sabe que Camila recebeu a mensagem.
- (B) Bernardo não sabe que Camila recebeu a mensagem.
- (C) Camila não sabe que Bernardo recebeu a mensagem.
- (D) Danilo não sabe que Bernardo recebeu a mensagem.
- (E) Camila não sabe que Danilo recebeu a mensagem.

CONHECIMENTOS ESPECÍFICOS

31. No processo de conciliação das contas a receber de clientes de uma indústria, qual é a fonte de informação usual para confirmar o saldo contábil da referida rubrica?
- (A) Diário analítico.
(B) Razão auxiliar financeiro.
(C) Razão contábil.
(D) Extrato bancário.
(E) Carta de confirmação externa.
32. De acordo com a norma contábil relacionada a investimentos, o conceito "compartilhamento, contratualmente convencionado, do controle de negócio, que existe somente quando decisões sobre as atividades relevantes exigem o consentimento unânime das partes que compartilham o controle" é aplicado a
- (A) *Joint Venture*.
(B) Controle consolidado.
(C) Controle combinado.
(D) Controle conjunto.
(E) Influência significativa.
33. Os tributos cuja receita seja distribuída, no todo ou em parte, a outras pessoas jurídicas de direito público pertencerão
- (A) ao tesouro nacional, antes de distribuídos aos federados.
(B) à competência legislativa daquela a que tenham sido atribuídos.
(C) ao Poder Executivo, que distribuirá de acordo com a Constituição.
(D) à competência judiciária, considerando os poderes para os quais serão atribuídos.
(E) ao direito da Secretaria da Fazenda, antecipadamente à atribuição definida.
34. O grupo completo de unidades elementares de pessoas, objetos ou coisas é denominado, para a estatística, de
- (A) amostra.
(B) unidades.
(C) censo.
(D) população.
(E) variáveis.
35. Em relação à contabilidade de custos, assinale a alternativa que apresenta exemplo de custo variável.
- (A) Matéria-prima.
(B) Aluguel da fábrica.
(C) Segurança e vigilância.
(D) Salário do gerente de custos.
(E) Aluguel de máquinas.
36. De acordo com a atual estrutura conceitual da contabilidade, sabe-se que o benefício econômico embutido em um ativo é o seu potencial em contribuir, direta e indiretamente, para
- (A) a redução dos fatores econômicos dos passivos.
(B) o fluxo de caixa ou equivalentes de caixa para a entidade.
(C) o lucro de uma entidade, ou mesmo para a redução de prejuízos.
(D) ser trocado ou substituído por outros ativos.
(E) ser distribuído para os proprietários da entidade.
37. A fim de possibilitar a consolidação das contas públicas nos diversos níveis de governo, com a adequada elaboração das Demonstrações Contábeis, foi criado no Plano de Contas Aplicável ao Setor Público (PCASP) um mecanismo para a segregação dos valores das transações que serão incluídas ou excluídas na consolidação. Este mecanismo consiste na utilização do
- (A) 1º nível (Subsistema) das classes de INTRA OFSS do PCASP.
(B) 2º nível (Subtítulo) sem distinção de classes do PCASP.
(C) 3º nível (Subnível) das classes de Subtítulo 3, 4 e 5 do PCASP.
(D) 4º subtítulo (Nível) das classes de 1 a 5 do PCASP.
(E) 5º nível (Subtítulo) das classes 1, 2, 3 e 4 do PCASP.
38. De acordo com as normas contábeis, as contas classificadas no ativo serão dispostas em ordem decrescente de grau de liquidez. Com isso, os balanços patrimoniais, especificamente no ativo circulante, apresentarão como primeira rubrica as disponibilidades.
- Considerando o referido conceito, assinale a alternativa que demonstra o saldo de caixa e equivalentes de caixa de uma entidade, que apresentou os seguintes valores nas contas do Balanço Patrimonial:

Ativo Imobilizado	170.000,00
Caixa	15.000,00
Goodwill	15.000,00
Bancos Depósito à Vista	90.000,00
Impostos a Recolher	60.000,00
Dividendos a Pagar	50.000,00
Lucro Líquido	95.000,00
Estoques	80.000,00
Investimentos de Longo Prazo	50.000,00
Contas a Receber	130.000,00
Perda Estimada para Créditos de Liquidação Duvidosa	5.000,00
Aplicações Financeiras de Liquidez Imediata	75.000,00

- (A) R\$ 15.000,00.
(B) R\$ 105.000,00.
(C) R\$ 180.000,00.
(D) R\$ 230.000,00.
(E) R\$ 245.000,00.

39. A formalidade extrínseca da assinatura digital pela entidade e pelo profissional da contabilidade regularmente habilitado, bem como a autenticação em registro público competente, conforme trata a norma contábil relacionada à escrituração contábil, é aplicável, na forma digital, ao

- (A) Livro Diário e ao Livro Razão.
- (B) Livro Diário, somente.
- (C) Livro Razão e ao Balancete.
- (D) Balancete e ao Balanço Contábil.
- (E) Balanço Patrimonial, somente.

40. Uma empresa contratou um seguro contra lucros cessantes com cobertura do período de 01/05/2018 a 30/04/2019. O valor pago, à vista, pelo prêmio do seguro foi de R\$ 36.000,00. Nesse caso, é correto afirmar que, como consequência dessa operação, por ocasião do encerramento do exercício, em 31/12/2018, o balancete da empresa apresentaria

- (A) uma exigibilidade paga de R\$ 36.000,00.
- (B) um disponível de R\$ 12.000,00.
- (C) um valor a receber de R\$ 24.000,00.
- (D) uma despesa paga antecipadamente de R\$ 12.000,00.
- (E) um contas a pagar de R\$ 24.000,00.

41. Uma indústria de ponta adquiriu um equipamento de alta tecnologia e de última geração para adicionar ao seu parque fabril. O equipamento foi adquirido em 1º de fevereiro, mas iniciou sua operação somente em 1º de julho de 2018, uma vez que estava sendo preparado o piso para sua instalação.

As informações relativas à aquisição do equipamento são:

- o valor de aquisição do bem foi de R\$ 800.000,00, líquido de todos impostos incidentes sobre sua aquisição;
- o valor do frete foi de R\$ 15.000,00;
- os custos de preparação de solo, para colocação do bem em funcionamento, foram de R\$ 105.000,00;
- a vida útil do bem, estipulada por engenheiros especialistas, foi de 25 anos;
- a depreciação é calculada e contabilizada pelo método linear, no final do mês;
- o valor de realização (ou residual) do bem foi estipulado em 20% do valor de compra líquida, sem frete (CPC27).

Baseando-se nessas informações, assinale a alternativa que contém o valor da depreciação acumulada, em reais, apresentado no balancete em 31/12/2018.

- (A) R\$ 14.784.
- (B) R\$ 15.200.
- (C) R\$ 18.480.
- (D) R\$ 18.640.
- (E) R\$ 21.252.

Com base no balancete de verificação da Indústria e Comércio Sabe Tudo Ltda., em 31 de março de 2019, responda às questões de números 42 a 44.

Balancete Contábil em 31/03/2019	
Descrição da Conta Contábil	Reais
Reservas de Lucros	198.000,00
Outras Despesas Operacionais	18.000,00
Receitas de Vendas	640.000,00
Bancos	240.000,00
Fornecedores	240.000,00
Empréstimos Bancários	230.000,00
Perda Estimada com Créditos de Liquidação Duvidosa	21.000,00
Impostos sobre Vendas	120.000,00
Estoques	500.000,00
Impostos a Recolher	70.000,00
Despesas Administrativas e Gerais	90.000,00
Contingências Trabalhistas	270.000,00
Devoluções de Vendas	10.000,00
Caixa	10.000,00
CPV	240.000,00
Depósitos Judiciais	70.000,00
Despesas de Vendas	60.000,00
Salários a Pagar	90.000,00
Capital	240.000,00
Contas a Receber de Clientes	700.000,00
Imobilizado	300.000,00
Reservas de Capital	300.000,00
Despesas Financeiras	50.000,00
Imposto de Renda e Contribuição Social Correntes	11.000,00
Depreciação Acumulada	120.000,00

42. Os totais do Passivo Circulante e do Patrimônio líquido são, respectivamente:

- (A) R\$ 180.000,00 e R\$ 710.000,00.
- (B) R\$ 630.000,00 e R\$ 779.000,00.
- (C) R\$ 749.000,00 e R\$ 638.000,00.
- (D) R\$ 780.000,00 e R\$ 540.000,00.
- (E) R\$ 900.000,00 e R\$ 770.000,00.

43. Assinale a alternativa que apresenta, respectivamente, o total da Receita Líquida de Vendas e o Lucro Líquido do período.

- (A) R\$ 640.000,00 e R\$ 270.000,00.
- (B) R\$ 520.000,00 e R\$ 65.000,00.
- (C) R\$ 510.000,00 e R\$ 41.000,00.
- (D) R\$ 270.000,00 e R\$ 52.000,00.
- (E) R\$ 270.000,00 e R\$ 41.000,00.

44. Assinale a alternativa que apresenta o capital circulante líquido da Indústria e Comércio Sabe Tudo Ltda., em 31/03/2019.

- (A) R\$ 250.000,00.
- (B) R\$ 599.000,00.
- (C) R\$ 630.000,00.
- (D) R\$ 779.000,00.
- (E) R\$ 799.000,00.

Com base no balanço patrimonial e na demonstração do resultado do exercício em 31/12/2018, da empresa Indústrias Reunidas ABCD Ltda., a seguir demonstrados, responda às questões de números **45** e **46**.

Balanço Patrimonial em 31 de dezembro de 2018
Indústrias Reunidas ABCD Ltda.

ATIVO	Reais	PASSIVO	Reais
Disponibilidades	60.000,00	Fornecedores	180.000,00
Contas a Receber	240.000,00	Empréstimos e Financiamentos	400.000,00
(-) Créditos e Liquidação Duvidosa	(40.000,00)	Impostos e Encargos a Recolher	68.000,00
Estoques	560.000,00	Contas a Pagar	18.000,00
Total do Ativo Circulante	820.000,00	Total do Passivo Circulante	666.000,00
Ativo Não Circulante		Passivo Não Circulante	
Coligadas e Controladas	36.000,00	Empréstimos e Financiamentos	134.000,00
Títulos e Valores Mobiliários	52.000,00	Impostos Parcelados	88.000,00
Total do Realizável a Longo Prazo	88.000,00	Total do Passivo Não Circulante	222.000,00
Investimentos	180.000,00	Capital	200.000,00
Imobilizado	500.000,00	Reservas	500.000,00
Total do Ativo	1.588.000,00	Total do Patrimônio Líquido	700.000,00
		Total do Passivo	1.588.000,00

Demonstração do Resultado do Exercício
em 31 de dezembro de 2018

	Reais
Receita Bruta de Vendas	900.000,00
(-) Impostos sobre Vendas	(120.000,00)
(-) Deduções de Vendas	(16.000,00)
Receita Líquida de Vendas	764.000,00
(-) Custos dos Produtos Vendidos	(500.000,00)
Lucro Bruto	264.000,00
Despesas Operacionais	
(-) Com Vendas	(64.000,00)
(-) Administrativas	(90.000,00)
(-) Financeiras, Líquidas	(9.000,00)
(-) Outras Despesas Operacionais	(17.000,00)
Resultado Operacional	(180.000,00)
Lucro antes do Imposto de Renda e da Contribuição Social	84.000,00
Imposto de Renda e Contribuição Social	(40.000,00)
Lucro Líquido do Exercício	44.000,00

45. Assinale a alternativa que apresenta o índice de liquidez corrente, em reais, utilizando para o cálculo apenas duas casas decimais e **não** aplicando o critério de arredondamento.

- (A) 1,02.
- (B) 1,09.
- (C) 1,15.
- (D) 1,20.
- (E) 1,23.

46. Assinale a alternativa que apresenta a margem líquida do exercício de 2018 atingida pela Indústria, utilizando para o cálculo apenas duas casas decimais e **não** aplicando o critério de arredondamento.

- (A) 5%.
- (B) 11%.
- (C) 18%.
- (D) 24%.
- (E) 35%.

47. Para uma empresa que se encontra enquadrada no sistema de apuração de impostos pela não cumulatividade e que apresenta, hipoteticamente, em abril de 2019, receitas tributáveis da ordem de R\$ 500.000,00, o valor do PIS – Programa de Integração Social será de:

(Obs.: Note que a empresa não tem qualquer benefício ou requer alíquota diferenciada)

- (A) R\$ 2.500,00.
- (B) R\$ 3.250,00.
- (C) R\$ 6.250,00.
- (D) R\$ 8.250,00.
- (E) R\$ 8.850,00.

48. Considerando uma empresa que esteja enquadrada no sistema da cumulatividade e que apresenta, hipoteticamente, uma receita bruta tributável de R\$ 350.000,00, em abril de 2019, assinale a alternativa que apresenta o valor do COFINS – Contribuição para o Financiamento da Seguridade Social, utilizando-se da alíquota estabelecida pela legislação em vigor.

(Obs.: Note que a empresa não tem qualquer benefício ou requer alíquota diferenciada)

- (A) R\$ 10.500,00.
- (B) R\$ 12.775,00.
- (C) R\$ 17.500,00.
- (D) R\$ 22.750,00.
- (E) R\$ 26.600,00.

Baseando-se nas informações a seguir, responda às questões de números **49 a 51**.

O contador da empresa ABCD Ltda. necessita calcular, numa base trimestral, hipoteticamente, o valor do imposto de renda de pessoa jurídica – IRPJ, incluindo adicional, bem como o da contribuição social sobre o lucro líquido – CSLL, e dispõe das seguintes informações:

- Enquadramento tributário: regime de apuração pelo Lucro Real.
- Lucro contábil antes do IR e da CSL – R\$ 500.000,00.
- Exclusões Permanentes – R\$ 25.000,00.
- Provisões constituídas no ano:
 - Perda Estimada para créditos de liquidação duvidosa, com um critério sem fundamento legal – R\$ 20.000,00;
 - Equivalência patrimonial negativa – R\$ 12.000,00;
 - Provisão para contingência trabalhista – R\$ 18.000,00;
 - Desconto de duplicatas – R\$ 15.000,00.

(Obs.: Note que o cálculo não requer o enquadramento em balanços de suspensão, mensal ou trimestral)

49. Assinale a alternativa que apresenta o valor, em reais, do Imposto de Renda, sem adicional, em 31 de março de 2019, dispensando centavos.

- (A) 50.650.
- (B) 52.500.
- (C) 67.530.
- (D) 75.500.
- (E) 78.750.

50. Assinale a alternativa que apresenta o valor, em reais, do adicional do Imposto de Renda em 31 de março de 2019, dispensando centavos.

- (A) 46.500.
- (B) 47.500.
- (C) 51.250.
- (D) 53.250.
- (E) 55.000.

51. Assinale a alternativa que apresenta o valor, em reais, da Contribuição Social sobre o Lucro Líquido em 31 de março de 2019, dispensando centavos.

- (A) 45.000.
- (B) 45.750.
- (C) 47.250.
- (D) 47.272.
- (E) 50.250.

52. Responda à questão utilizando-se do quadro apresentado a seguir:

PREFEITURA MUNICIPAL			
CONSOLIDADO GERAL			
Exercício de 2018		Demonstração Prevista na Lei nº 4.320/64	
INGRESSOS		DISPÊNDIOS	
Receita Orçamentária (I)	Reais	Despesas Orçamentária (VI)	Reais
Ordinária		Ordinária	
Vinculada		Vinculada	
Recursos vinculados à Educação	61.048.629	Recursos destinados à Educação	44.430.105
Recursos vinculados à Saúde	1.562.679	Recursos destinados à Saúde	13.694.688
Recursos vinculados à Previdência Social – RPPS	2.294.313	Recursos destinados à Previdência Social – RPPS	7.040.195
Recursos vinculados à Previdência Social – RGPS	128.514	Recursos destinados à Previdência Social – RGPS	3.558.123
Total da Receita Orçamentária	65.034.135	Total de Despesas Orçamentária	68.723.112
Transferências Financeiras Recebidas (II)		Transferências Financeiras Concedidas (VII)	
Transferências recebidas para a Execução Orçamentária	10.253.175	Transferências concedidas para a Execução Orçamentária	9.277.221
Transferências recebidas independentes de Execução Orçamentária	3.715.371	Transferências concedidas independentes de Execução Orçamentária	4.379.538
Transferências recebidas para Aportes de recursos para o RPPS	5.940.201	Transferências concedidas para Aportes de recursos para o RPPS	4.310.475
Transferências recebidas para Aportes de recursos para o RGPS	48.336	Transferências concedidas para Aportes de recursos para o RGPS	43.797
Total das Transferências Ativas	19.957.083	Total das Transferências Passivas	18.011.031
Recebimentos Extraorçamentários (III)		Pagamentos Extraorçamentários (VIII)	
Inscrição de Restos a Pagar Não Processados	7.962.315	Pagamentos de Restos a Pagar Não Processados	18.127.785
Inscrição de Restos a Pagar Processados	158.649	Pagamentos de Restos a Pagar Processados	401.868
Depósitos Restituíveis e Valores Vinculados	39.223.584	Depósitos Restituíveis e Valores Vinculados	23.975.223
Outros Recebimentos Extraorçamentários	74.214	Outros Recebimentos Extraorçamentários	3.103.062
Total da Receita Extraorçamentária	47.418.762	Total da Despesa Extraorçamentária	45.607.938
Saldo do Exercício Anterior (IV)		Saldo para o Exercício Seguinte (IX)	
Caixa e Equivalentes de Caixa	21	Caixa e Equivalentes de Caixa	51
Depósitos Restituíveis e Valores Vinculados	79.509	Depósitos Restituíveis e Valores Vinculados	147.378
Total Saldo Disponível do Exercício Anterior	79.530	Total Saldo Disponível para o Mês Seguinte	147.429
TOTAL (V)	132.489.510	TOTAL (X)	132.489.510

Com base nesse quadro hipotético apresentado por uma determinada Prefeitura, pode-se afirmar, conforme estabelecido pela Lei nº 4.320/64, que se trata do seguinte demonstrativo:

- (A) Balanço orçamentário.
- (B) Balanço financeiro.
- (C) Balanço patrimonial.
- (D) Demonstração do fluxo de caixa orçamentário.
- (E) Demonstração das variações patrimoniais.

- 53.** Assinale a alternativa que apresenta a classificação das dotações para despesas às quais não corresponda contraprestação direta em bens ou serviços, inclusive para contribuições e subvenções destinadas a atender à manutenção de outras entidades de direito público ou privado, conforme preconizado na Lei nº 4.320/64, art. 12.
- (A) Despesas de custeio.
 - (B) Custo de pessoal.
 - (C) Transferências correntes.
 - (D) Transferências de capital.
 - (E) Transferências para custeio.
- 54.** A restituição de receitas orçamentárias, descontadas ou recolhidas a maior, e o ressarcimento em espécie a título de incentivo ou benefício fiscal, dedutíveis da arrecadação, qualquer que tenha sido o ano da respectiva cobrança, serão efetuados como anulação de receita, mediante expresso reconhecimento do direito creditório contra a Fazenda Nacional, pela autoridade competente, a qual, observado o limite de saques específicos estabelecido na programação financeira de desembolso, autorizará a entrega da respectiva importância em documento próprio. Nesse sentido, desde que não exista receita a anular, a restituição de rendas extintas será efetuada com os recursos
- (A) dos créditos relativos a dotações empenhadas e não liquidadas.
 - (B) dos restos pagar e não pagos.
 - (C) das dotações empenhadas e não realizadas, caso aprovadas pelo executivo.
 - (D) exclusivamente dos créditos adicionais.
 - (E) das dotações consignadas na Lei de Orçamento ou em crédito adicional.
- 55.** A definição de risco de auditoria, para efeito dos princípios fundamentais de auditoria do setor público, significa risco de que
- (A) o escopo de trabalho não seja entendido pela demanda.
 - (B) haja uso inadequado do relatório de auditoria.
 - (C) não haja emissão da carta de representação pela administração.
 - (D) os honorários calculados não sejam o suficiente para cobrir a demanda do trabalho.
 - (E) o relatório de auditoria possa ser inadequado.
- 56.** “A conclusão da auditoria é expressa de forma positiva, transmitindo que, na opinião do auditor, o objeto está ou não em conformidade em todos os aspectos relevantes, ou, quando for o caso, que a informação do objeto fornece uma visão verdadeira e justa, de acordo com os critérios aplicáveis”.
- O texto aborda, segundo os princípios fundamentais de auditoria do setor público, a
- (A) asseguração limitada.
 - (B) asseguração ilimitada.
 - (C) asseguração razoável.
 - (D) confirmação positiva.
 - (E) confirmação negativa.
- 57.** Segundo a Lei Complementar nº 101/00, que estabelece normas de finanças públicas voltadas para a responsabilidade na gestão fiscal e dá outras providências, o conceito de empresa controlada é:
- (A) sociedade cuja maioria do capital social com direito a voto pertença, direta ou indiretamente, às empresas de capital público e privado e que receba do ente controlador recursos financeiros abrangentes.
 - (B) sociedade controlada que receba do ente controlador recursos financeiros para pagamento de despesas com pessoal ou de custeio em geral ou de capital, excluídos, no último caso, aqueles provenientes de aumento de participação acionária.
 - (C) sociedade cuja parte do capital social com ou sem direito a voto pertença, direta ou indiretamente, a ente da Federação.
 - (D) sociedade cuja maioria do capital social com direito a voto pertença, direta ou indiretamente, a ente da Federação.
 - (E) toda a sociedade cujo Estado tenha participação direta ou indireta e que mantenha os recursos financeiros para custeio geral.
- 58.** No que tange à Recondução da Dívida aos Limites, de que trata o art. 31 da LC nº 101/00, se a dívida consolidada de um ente da Federação ultrapassar o respectivo limite ao final de um quadrimestre, deverá ser a ele reconduzida até o término dos três subsequentes, reduzindo o excedente em pelo menos
- (A) 5%, no primeiro.
 - (B) 10%, no primeiro.
 - (C) 15%, no primeiro.
 - (D) 20%, no primeiro.
 - (E) 25%, no primeiro.

59. Assinale a alternativa que apresenta o limite para compras e serviços que não sejam obras e serviços de engenharia, para a modalidade de tomada de preços, conforme preconizado na Lei nº 8.666/93.

- (A) Até R\$ 80.000,00.
- (B) Até R\$ 150.000,00.
- (C) Até R\$ 650.000,00.
- (D) Até R\$ 750.000,00.
- (E) Até R\$ 1.500.000,00.

60. Os órgãos e entidades da Administração Pública que realizem frequentemente licitações manterão registros cadastrais para efeito de habilitação, na forma regulamentar, válidos por, no máximo,

- (A) um ano.
- (B) dois anos.
- (C) três anos.
- (D) quatro anos.
- (E) cinco anos.

