



PREFEITURA MUNICIPAL DE VALINHOS

ESTADO DE SÃO PAULO

CONCURSO PÚBLICO

014. PROVA OBJETIVA

GUARDA CIVIL MUNICIPAL (FEMININO E MASCULINO) – SSPC

(OPÇÕES: 020 E 021)

- ◆ Você recebeu sua folha de respostas, este caderno, contendo 50 questões objetivas e um tema de redação a ser desenvolvido, e a folha de redação para transcrição do texto definitivo.
- ◆ Confira seus dados impressos na capa deste caderno e nas folhas de respostas e de redação.
- ◆ Quando for permitido abrir o caderno, verifique se está completo ou se apresenta imperfeições. Caso haja algum problema, informe ao fiscal da sala.
- ◆ A folha de redação deverá ser assinada apenas no local indicado; qualquer identificação ou marca feita pelo candidato no verso da folha de redação, que possa permitir sua identificação, acarretará a atribuição de nota zero à redação.
- ◆ Redija o texto definitivo e preencha a folha de respostas com caneta de tinta preta. Os rascunhos não serão considerados na correção. A ilegibilidade da letra acarretará prejuízo à nota do candidato.
- ◆ A duração das provas objetiva e de redação é de 4 horas, já incluído o tempo para o preenchimento da folha de respostas e para a transcrição do texto definitivo.
- ◆ Só será permitida a saída definitiva da sala e do prédio após transcorridos 75% do tempo de duração das provas.
- ◆ Deverão permanecer em cada uma das salas de prova os 3 últimos candidatos, até que o último deles entregue sua prova, assinando termo respectivo.
- ◆ Ao sair, você entregará ao fiscal a folha de redação, a folha de respostas e este caderno, podendo levar apenas o rascunho de gabarito, localizado em sua carteira, para futura conferência.
- ◆ Até que você saia do prédio, todas as proibições e orientações continuam válidas.

Nome do candidato _____

RG _____

Inscrição _____

Prédio _____

Sala _____

Carteira _____

AGUARDE A ORDEM DO FISCAL PARA ABRIR ESTE CADERNO.

CONHECIMENTOS GERAIS

LÍNGUA PORTUGUESA

Leia a tira para responder às questões de números 01 a 04.



(André Dahmer. www1.folha.uol.com.br, 28.03.2019)

01. A partir do que se afirma na tira, é possível concluir que quem está tripulando a nave
- (A) busca entender a natureza humana a partir de fatores comuns a todas as culturas conhecidas no presente e no passado.
 - (B) tem conhecimento de um fato religioso e busca confirmá-lo para então expressar uma conclusão que lhe parece lógica.
 - (C) faz apologia de costumes e tradições que são próprias de um povo, tentando convencer seu interlocutor a se converter.
 - (D) possui certezas quanto aos habitantes do planeta que está visitando e essas acabam por deixar seu interlocutor em dúvida quanto a suas próprias certezas.
 - (E) faz um questionamento que, em realidade, tem o objetivo de incutir dúvida e despertar a reflexão no seu interlocutor.
02. A pergunta da personagem, no último quadro, revela que
- (A) ela mentiu, no primeiro quadro, ao responder afirmativamente à pergunta.
 - (B) a conclusão a que chegou o tripulante, no segundo quadro, não merece resposta.
 - (C) o tripulante da nave está equivocado quanto à conclusão a que chegou.
 - (D) os leitores devem tirar suas próprias conclusões quanto à origem da nave.
 - (E) a civilização segue os preceitos do profeta mencionado no primeiro quadro.
03. A pontuação encontra-se em conformidade com a norma-padrão da língua portuguesa em:
- (A) No primeiro quadro quem está na nave, faz uma pergunta à personagem, buscando confirmar uma hipótese.
 - (B) A personagem responde à pergunta, afirmativamente, sem fazer qualquer ressalva à pergunta.
 - (C) O tripulante da nave no segundo quadro, exclama algo referente à civilização que não é a sua.
 - (D) No último quadro, a personagem pergunta, se ela conta para o tripulante ou o leitor conta?
 - (E) Ao longo da tira, vemos uma personagem que dialoga, com o tripulante de um disco voador.
04. Assinale a alternativa em que o verbo **dever** foi empregado com valor correspondente ao que se verifica no segundo quadro.
- (A) Em outros planetas, **devem** existir outras formas de vida pensante, assim como na Terra.
 - (B) Agências espaciais **devem** explicações à população sobre possíveis aparições alienígenas.
 - (C) Para uma boa convivência em sociedade, as pessoas **deveriam** amar mais umas às outras.
 - (D) Há certas perguntas para as quais aparentemente ficamos **devendo** uma resposta.
 - (E) **Devemos** sempre nos lembrar de que a cordialidade é fundamental nas relações.

Leia o texto para responder às questões de números **05 a 10**.

O time de futebol paraense Paysandu anunciou a criação do projeto Alegria do Povo, o qual, em parceria com o curso de serviço social da Universidade da Amazônia (Unama), selecionou torcedores para um programa de concessão de entradas gratuitas em jogos do clube.

Do outro lado, o também paraense Remo não ficou atrás. Em dezembro de 2018, a agremiação azulina reformulou seu plano de sócio-torcedor e incluiu a categoria Ouro Social, destinada a beneficiários de programas sociais como o Bolsa-Família. Em apenas um mês, as 600 vagas da modalidade foram esgotadas. Nela, os torcedores pagam mensalidade de 30 reais e têm acesso garantido a todos os jogos. “Fizemos questão de não colocar nenhuma **distinção** na carteirinha de sócio”, conta o presidente Fábio Bentes. “Para cumprir nosso papel social é **fundamental** mostrar que todo torcedor tem importância.”

Na contramão dos clubes do eixo Sul-Sudeste, o preço do ingresso praticado pela dupla “Repa”, como é conhecido o clássico paraense, ainda se encaixa no orçamento de boa parcela de seus torcedores. Enquanto o Corinthians, terceira bilheteria mais cara do país, cobra em média 50 reais na Arena, Remo e Paysandu se mantêm estáveis na casa dos 20 reais.

“Quando jogamos contra times de outros estados, nosso trunfo é o apoio maciço do torcedor”, afirma Bentes. “Vamos provar que aproximá-lo do clube, não importa de onde venha, vale a pena.”

(Breiller Pires. *A receita dos times do Pará para se reconectar ao povo e encher os estádios*. <https://brasil.elpais.com>, 05.05.2019. Adaptado)

05. Segundo informações do texto,

- (A) dois clubes de futebol paraenses iniciaram uma campanha para tornar os ingressos gratuitos para todas as partidas de futebol no estado.
- (B) os times de futebol do Pará se espelharam na redução de preços verificada em outras partes do país.
- (C) os times Paysandu e Remo, do Pará, estão em declarada competição de preços dos ingressos com times de outros estados.
- (D) a redução de preços dos ingressos praticada por dois clubes paraenses visa a tornar os times mais competitivos com a presença do torcedor nos jogos.
- (E) as iniciativas de redução do valor do ingresso estão relacionadas a políticas de inclusão social, como o programa governamental Bolsa-Família.

06. Os vocábulos **distinção** e **fundamental**, em destaque no 2º parágrafo, apresentam, respectivamente, como sinônimo e antônimo no contexto em que se encontram:

- (A) diferença e supérfluo.
- (B) semelhança e imprescindível.
- (C) separação e necessário.
- (D) honraria e básico.
- (E) recomendação e secundário.

07. Em destaque, encontra-se vocábulo empregado em sentido figurado em:

- (A) ... selecionou torcedores para um programa de **concessão** de entradas gratuitas em jogos do clube. (1º parágrafo)
- (B) Em apenas um mês, as 600 vagas da modalidade foram **esgotadas**. (2º parágrafo)
- (C) Nela, os torcedores pagam mensalidade de 30 reais e têm **acesso** garantido a todos os jogos. (2º parágrafo)
- (D) ... ainda se encaixa no **orçamento** de boa parcela de seus torcedores. (3º parágrafo)
- (E) “Quando jogamos contra times de outros estados, nosso trunfo é o apoio **maciço** do torcedor”... (4º parágrafo)

08. Assinale a alternativa em que se aponta corretamente, nos parênteses, a noção que o vocábulo destacado expressa no contexto em que se encontra.

- (A) ... selecionou torcedores **para** um programa de concessão de entradas gratuitas... (propósito).
- (B) **Em** dezembro de 2018, a agremiação azulina reformulou seu plano de sócio-torcedor... (local).
- (C) ... destinada **a** beneficiários de programas sociais como o Bolsa-Família (modo).
- (D) “Fizemos questão de não colocar nenhuma distinção na carteirinha **de** sócio”... (procedência).
- (E) “Quando jogamos **contra** times de outros estados, nosso trunfo é o apoio maciço...”... (comparação).

09. Assinale a alternativa que apresenta concordância nominal e verbal correta.

- (A) Foi colocada à disposição dos torcedores 600 vagas da categoria Ouro Social.
- (B) A redução dos preços tiveram impacto significativo na presença dos torcedores em campo.
- (C) Segundo Bentes, são fundamentais a valorização e a presença do torcedor de seu clube.
- (D) O Paysandu e a Unama anunciaram conjuntamente o projeto, que beneficiaram torcedores.
- (E) Os 50 reais cobrados pelo Corinthians o coloca na terceira posição de bilheteria mais cara.

10. A colocação pronominal está de acordo com a norma-padrão em:
- (A) Não importa de onde o torcedor vem, é preciso que aproximemo-lo do seu clube do coração.
 - (B) O torcedor, ao não aproximar-se do clube, é alijado do seu pleno direito de torcida.
 - (C) Os preços impeditivos assustam os torcedores e geralmente mantêm-nos longe dos estádios.
 - (D) Iniciativas de redução de preço das entradas são bem-vistas, e mais clubes estão copiando-as.
 - (E) A entrada com preço reduzido parece ser uma tendência e quem usa-as mais é o torcedor mais carente.

Leia o texto para responder às questões de números 11 a 15.

Um estudo publicado em junho de 2018 analisa as transformações ocorridas em Hong Kong ao longo de duas décadas, dos anos 1980 aos 2000, com foco em como a mudança de status das mulheres na sociedade e de atitude delas em relação ao casamento impactou o mercado imobiliário da cidade.

Descobriu-se que as mulheres solteiras tiveram um papel “surpreendente e pouco estudado” na gentrificação de Hong Kong.

O termo vem do inglês “gentrification”, cunhado nos anos 1960 pela socióloga Ruth Glass para descrever mudanças no perfil de bairros da Zona Norte de Londres e se refere a um processo no qual investimentos que promovem a renovação de um bairro ou região atraem frequentadores e moradores de classes mais altas e provocam a saída de seus habitantes originais, de uma faixa de renda mais baixa.

Ainda que as mulheres tenham tido papel de agente nesse processo, o estudo ressalta que elas são as principais vítimas da gentrificação, “em decorrência da feminização da pobreza, fenômeno global e onipresente”.

O conceito de feminização da pobreza corresponde ao aumento absoluto ou relativo da pobreza entre mulheres ou entre famílias chefiadas por mulheres.

(Juliana Domingos de Lima. *O papel de mulheres solteiras na gentrificação de Hong Kong*. www.nexojournal.com.br, 08.04.2019. Adaptado)

11. De acordo com o texto,
- (A) as mulheres são responsáveis por mudanças importantes em Hong Kong ao garantirem maior igualdade de gênero entre os habitantes de certos bairros da cidade.
 - (B) um estudo comparou a população feminina em Hong Kong em dois períodos distintos de vinte anos cada: de 1980 a 2000 e de 2001 a 2018.
 - (C) houve em Hong Kong um processo de alteração socioeconômica importante protagonizado por mulheres e que afetou o setor imobiliário.
 - (D) considerou-se que em um dado estudo como o enriquecimento ou o empobrecimento das mulheres foi determinado pelo fato de serem mães solteiras.
 - (E) alguns bairros da Zona Norte de Londres serviram de referência para se determinar a densidade populacional incomum de mulheres em bairros de Hong Kong.

12. A gentrificação, segundo a definição que se encontra no texto, pode ser definida como um processo
- (A) inclusivo.
 - (B) segregante.
 - (C) homogeneizador.
 - (D) democratizante.
 - (E) criminoso.

13. No trecho – **Ainda que** as mulheres tenham tido papel de agente nesse processo, o estudo ressalta que elas são às principais vítimas da gentrificação... (4º parágrafo) – a expressão destacada confere ao trecho ideia de

- (A) oposição.
- (B) adição.
- (C) condição.
- (D) conclusão.
- (E) concessão.

14. Está em conformidade com a norma-padrão de regência verbal e nominal a frase:

- (A) Muitos estudos chegam em conclusões bastante interessantes sobre a sociedade.
- (B) O estudo faz referência de um termo cunhado por uma socióloga britânica.
- (C) Feministas britânicas se correspondiam umas às outras por cartas no final do século XIX.
- (D) Muitos moradores são alheios nas políticas públicas habitacionais da cidade onde moram.
- (E) O Pelourinho consta da lista de localidades que sofreram algum tipo de gentrificação.

15. Quanto à ocorrência do acento indicativo de crase, assinale a alternativa que preenche, correta e respectivamente, as lacunas da frase a seguir, em conformidade com a norma-padrão.

Um novo termo é cunhado devido _____ necessidade de se dar um nome _____ um conceito que antes não existia e que passará, assim, _____ ser usado.

- (A) a ... à ... a
- (B) à ... a ... à
- (C) a ... a ... a
- (D) à ... a ... a
- (E) a ... à ... à

16. Em um escritório, há uma caixa com 120 envelopes.

Desse total, $\frac{1}{3}$ foi utilizado para enviar memorandos, e $\frac{2}{5}$

dos envelopes restantes foram utilizados para correspondências diversas, ficando os demais envelopes na caixa.

Em relação ao número total de envelopes que havia na caixa, aqueles que permaneceram nela, representam:

- (A) 60%
- (B) 55%
- (C) 50%
- (D) 45%
- (E) 40%

17. Kátia comprou três lápis, cada um deles por R\$ 2,20, e uma lapiseira. Ao pagar a conta com uma nota de R\$ 20,00, recebeu de troco R\$ 4,40. O valor da lapiseira supera o valor de um lápis em

- (A) R\$ 7,20.
- (B) R\$ 7,00.
- (C) R\$ 6,80.
- (D) R\$ 6,60.
- (E) R\$ 6,40.

18. Para imprimir folhetos, uma gráfica trabalha com 5 máquinas, todas elas imprimindo o mesmo número de folhetos por hora. Sabendo que essas 5 máquinas imprimem um lote de folhetos em 1 hora e 21 minutos, então, 3 dessas máquinas imprimiriam o mesmo lote de folhetos em

- (A) 1 hora e 55 minutos.
- (B) 2 horas e 15 minutos.
- (C) 2 horas e 25 minutos.
- (D) 2 horas e 40 minutos.
- (E) 2 horas e 55 minutos.

19. Uma pessoa comprou determinado número de pastas para guardar documentos. Utilizou $\frac{3}{5}$ delas para docu-

mentos antigos, $\frac{1}{3}$ para documentos recentes e ainda restaram 2 pastas. O número de pastas utilizadas para guardar documentos antigos foi

- (A) 10.
- (B) 15.
- (C) 18.
- (D) 24.
- (E) 30.

20. Luís e Rui organizaram, juntos, 135 processos. Sabendo que o número de processos organizados por Luís foi igual a $\frac{4}{5}$ do número de processos organizados por Rui,

então, o número de processos organizados por Luís foi

- (A) 75.
- (B) 70.
- (C) 65.
- (D) 60.
- (E) 55.

21. A tabela mostra algumas informações sobre o número de unidades de determinado produto compradas nos 5 primeiros meses do ano.

MÊS	Nº DE UNIDADES
Janeiro	8
Fevereiro	9
Março	$x + 4$
Abril	12
Maio	x

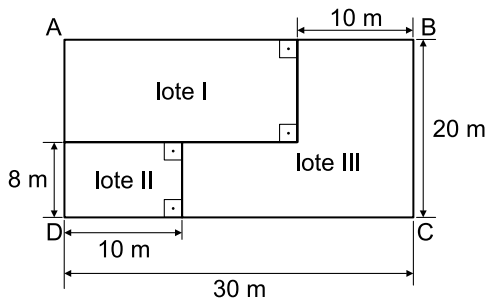
Sabendo que, na média, foram compradas 11 unidades por mês, e que o valor da cada unidade foi R\$ 120,00, então, o valor gasto no mês de março, com a compra dessas unidades, foi

- (A) R\$ 1.800,00.
- (B) R\$ 1.680,00.
- (C) R\$ 1.440,00.
- (D) R\$ 1.200,00.
- (E) R\$ 1.080,00.

22. Um parque aquático cobra R\$ 120,00 pelo ingresso individual, que dá direito a participar de algumas atividades. Para atividades especiais, é cobrada uma taxa fixa de R\$ 15,00 por pessoa. Um grupo de 3 amigos foi a esse parque e gastou, com ingressos e atividades especiais, o total de R\$ 465,00. O número de atividades especiais pagas por esse grupo foi

- (A) 8.
- (B) 7.
- (C) 6.
- (D) 5.
- (E) 4.

23. Um terreno retangular ABCD foi dividido em 3 lotes, conforme mostra a figura.

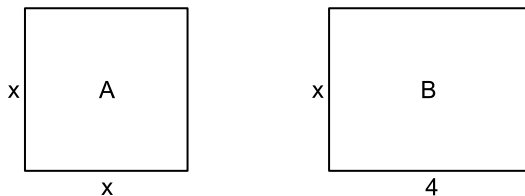


(Figura fora de escala)

A área do lote III é

- (A) 400 m².
- (B) 370 m².
- (C) 350 m².
- (D) 320 m².
- (E) 280 m².

24. Em uma casa, há 2 quartos. O quarto A é quadrado e o quarto B, retangular, conforme mostram as figuras, cujas medidas indicadas estão em metros.

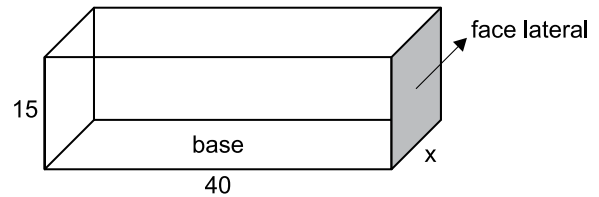


(Figuras fora de escala)

Sabendo que o perímetro do quarto A tem 2 m a menos do que o perímetro do quarto B, então, o perímetro do quarto B é

- (A) 14 m.
- (B) 13 m.
- (C) 12 m.
- (D) 11 m.
- (E) 10 m.

25. A figura mostra as medidas internas, em centímetros, de uma caixa na forma de um prisma reto de base retangular, com 15 cm de altura.



(Figura fora de escala)

Sabendo que o volume dessa caixa é 21 000 cm³, então, a área da face lateral, destacada na figura, é

- (A) 450 cm².
- (B) 475 cm².
- (C) 500 cm².
- (D) 525 cm².
- (E) 550 cm².

R A S C U N H O

26. A imagem a seguir mostra uma parte da Barra de Tarefas do MS-Windows 7, em sua configuração padrão.



O retângulo destacado no canto direito da imagem, referente ao canto inferior direito da Barra de Tarefas, pode ser usado para

- (A) nada, pois não pode ser clicado.
 - (B) ativar o Menu Iniciar.
 - (C) exibir o Menu de Contexto.
 - (D) desligar o computador com um clique.
 - (E) mostrar a Área de Trabalho.
27. Observe os ícones a seguir, retirados do MS-Word 2010, em sua configuração padrão.



Os ícones da imagem são opções de formatação do grupo

- (A) Ilustrações.
- (B) Cabeçalho.
- (C) Estilo.
- (D) Parágrafo.
- (E) Fonte.

28. Um usuário preparou a planilha a seguir por meio do MS-Excel 2010, em sua configuração padrão.

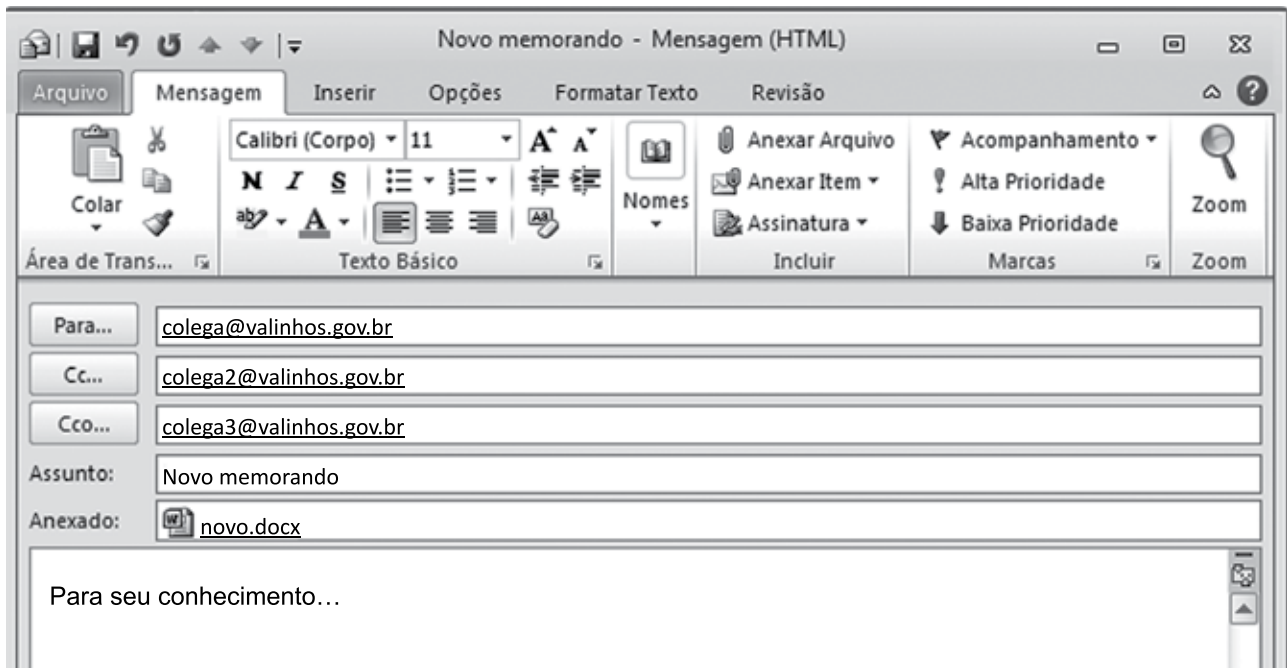
	A	B	C
1	8	2	3
2	4	6	7
3	5	4	6
4			

Assinale a alternativa que apresenta o valor que será exibido na célula C4, após esta ser preenchida com a seguinte fórmula:

=MÉDIA(A1:C3)

- (A) 4
 - (B) 5
 - (C) 6
 - (D) 7
 - (E) 8
29. Todo usuário deve saber fazer buscas na internet e localizar textos desejados. Um dos navegadores mais usados é o Google Chrome. O atalho por teclado usado para localizar textos numa página sendo lida no Google Chrome é:
- (A) Ctrl + A
 - (B) Ctrl + C
 - (C) Ctrl + F
 - (D) Ctrl + H
 - (E) Ctrl + T

30. Um usuário, a partir da conta remetente@valinhos.gov.br, prepara um e-mail para comunicar um novo memorando aos seus colegas de trabalho, conforme a imagem exibida a seguir.



É correto afirmar:

- (A) colega3@valinhos.gov.br não sabe que o e-mail foi enviado para colega@valinhos.gov.br
- (B) colega@valinhos.gov.br sabe que o e-mail foi enviado para colega3@valinhos.gov.br
- (C) colega3@valinhos.gov.br sabe que o e-mail foi enviado para colega2@valinhos.gov.br
- (D) colega@valinhos.gov.br não sabe que o e-mail foi enviado para colega2@valinhos.gov.br
- (E) colega2@valinhos.gov.br sabe que o e-mail foi enviado para colega3@valinhos.gov.br

CONHECIMENTOS ESPECÍFICOS

31. Ísis é maior de idade e, há um mês, deu à luz uma criança. No entanto, como ela não tem condições de sustentar a sua prole, Ísis procurou a Guarda Civil de Valinhos manifestando o interesse em entregar seu filho para adoção. Nessa hipótese, o Estatuto da Criança e do Adolescente estabelece que a conduta da Guarda deverá ser a seguinte:
- (A) acompanhar Ísis e a criança até a Delegacia de Polícia para formalizar o ato de encaminhamento da criança para adoção.
 - (B) receber a criança, mediante o termo próprio, para o devido encaminhamento à autoridade competente, e dispensar Ísis.
 - (C) encaminhar Ísis à Justiça da Infância e da Juventude para os devidos procedimentos legais.
 - (D) lavrar o competente boletim de ocorrência e comunicar o Ministério Público.
 - (E) levar a criança para o Conselho Tutelar, que a encaminhará a um abrigo, e conduzir Ísis à presença do Ministério Público.
32. Considerando o disposto no Estatuto da Criança e do Adolescente, a respeito do acolhimento familiar, assinale a alternativa correta.
- (A) É uma medida provisória, excepcional e de transição para a reintegração familiar.
 - (B) É uma medida imposta como alternativa à pena de privação de liberdade.
 - (C) Deve ser utilizada como regra, e é uma medida substituta à reintegração familiar.
 - (D) É vedada pela lei, que somente permite o acolhimento institucional.
 - (E) Deverá ser utilizada quando não der resultado a medida de acolhimento institucional.
33. A respeito da prática de ato infracional e dos direitos individuais do adolescente, o Estatuto da Criança e do Adolescente estabelece que
- (A) para a caracterização do ato infracional, deve ser considerada a data da prisão do adolescente.
 - (B) nenhum adolescente poderá ser privado de sua liberdade, ainda que em flagrante de ato infracional, sendo indispensável ordem judicial.
 - (C) o adolescente não terá direito à identificação dos responsáveis pela sua apreensão, devendo, contudo, ser informado dos seus direitos.
 - (D) a apreensão do adolescente será imediatamente comunicada ao Ministério Público ou à pessoa por ele indicada.
 - (E) a internação, antes da sentença, pode ser determinada pelo prazo máximo de quarenta e cinco dias.
34. Hércules tem 64 anos de idade e, ao comparecer ao pronto-socorro de um hospital, passou por consulta, e o médico lhe disse que teria que ficar em observação no ambiente hospitalar. Hércules pretende que seu genro, maior de idade, fique com ele, como seu acompanhante, em tempo integral durante todo o período da observação. Nessa situação, portanto, o Estatuto do Idoso estabelece que
- (A) Hércules não tem direito a ter acompanhante no hospital por não contar ainda com 65 anos, não estando sob a proteção do Estatuto do Idoso.
 - (B) embora Hércules tenha esse direito previsto pelo Estatuto do Idoso, nesse caso, não poderá contar com o acompanhante por não estar internado, mas apenas em observação.
 - (C) Hércules, conforme dispõe o Estatuto do Idoso, terá direito a acompanhante, mas somente durante o dia, não podendo seu genro ficar com ele durante o período noturno.
 - (D) deve ser garantido a Hércules o direito a acompanhante, devendo o hospital proporcionar as condições adequadas para que seu genro permaneça com ele em tempo integral, segundo o critério médico.
 - (E) Hércules, nos moldes do Estatuto do Idoso, tem direito a acompanhante em tempo integral, ainda que somente em situação de observação, desde que o acompanhante seja filho, filha ou pais.
35. Na hipótese de um idoso enfermo, impossibilitado de se locomover, necessitar de laudo de saúde perante o Instituto Nacional do Seguro Social (INSS), para o exercício de seus direitos sociais, o Estatuto do Idoso estabelece que o idoso
- (A) ficará dispensado da perícia médica, bastando uma simples declaração, escrita de próprio punho, de que está impossibilitado de comparecer à perícia.
 - (B) terá o direito ao atendimento domiciliar pela perícia médica do INSS, para expedição do pretendido laudo de saúde.
 - (C) terá o direito a requerer o adiamento da perícia, bem como o de requerer que a nova data seja designada com prioridade tão logo tenha condições de comparecer à perícia.
 - (D) poderá obter o laudo do INSS, com base em declaração de médico particular que ateste a sua condição de saúde.
 - (E) terá direito a comparecer ao INSS, assim que tiver condições de saúde, sem agendamento de data, devendo ser atendido no mesmo dia do seu comparecimento.

36. Nos termos do que dispõe a Declaração Universal dos Direitos do Homem e do Cidadão, a vontade do povo é o fundamento da autoridade dos poderes públicos e deve exprimir-se através de eleições honestas, sendo realizada por meio
- (A) do princípio da dignidade humana.
 - (B) do sufrágio universal.
 - (C) da legalidade.
 - (D) da moralidade.
 - (E) dos atos parlamentares.
37. Segundo texto expresso da Constituição Federal, os Municípios poderão constituir guardas municipais destinadas, conforme dispuser a lei,
- (A) ao policiamento repressivo, limitado ao território do Município.
 - (B) ao patrulhamento das vias públicas, das rodovias e das escolas municipais.
 - (C) ao policiamento ostensivo, ao combate ao crime e à preservação da ordem pública.
 - (D) à apuração de infrações penais contra a ordem política e social ou em detrimento de bens do Município.
 - (E) à proteção de bens, serviços e instalações do Município.
38. A Lei Federal nº 11.343/2006 estabelece que, se um indivíduo trazer consigo, comprovadamente, para consumo pessoal, drogas sem autorização ou em desacordo com determinação legal ou regulamentar,
- (A) não ficará sujeito a qualquer tipo de pena.
 - (B) ficará sujeito, entre outras penas, à prestação de serviços à comunidade.
 - (C) poderá ser punido com a pena de prisão.
 - (D) poderá ser obrigado a comparecer a programa ou curso educativo pelo período de 12 meses.
 - (E) ficará sujeito, entre outras, à pena de detenção.
39. Assinale a alternativa que está em conformidade com a Constituição Federal no tocante aos direitos e garantias fundamentais.
- (A) A identificação criminal é obrigatória, ainda que o indivíduo já tenha sido civilmente identificado.
 - (B) Não será admitida ação privada nos crimes de ação pública, ainda que esta não seja intentada no prazo legal.
 - (C) A prisão de qualquer pessoa e o local onde se encontre serão comunicados imediatamente ao juiz competente e à família do preso ou à pessoa por ele indicada.
 - (D) Não haverá prisão civil por dívida, salvo por dívida de jogo, do responsável pelo inadimplemento voluntário de obrigação alimentícia e a do depositário infiel.
 - (E) Conceder-se-á mandado de segurança sempre que alguém sofrer ou se achar ameaçado de sofrer violência ou coação em sua liberdade de locomoção, por ilegalidade ou abuso de poder.
40. A ação constitucional que visa a anular ato lesivo ao patrimônio público ou de entidade de que o Estado participe, à moralidade administrativa, ao meio ambiente e ao patrimônio histórico e cultural, ficando o autor, salvo comprovada má-fé, isento de custas judiciais e do ônus da sucumbência, denomina-se
- (A) *habeas corpus*.
 - (B) *habeas data*.
 - (C) mandado de injunção.
 - (D) ação popular.
 - (E) ação civil pública.
41. Rômulo, 19 anos de idade, é brasileiro nato, e Rêmulô, 30 anos de idade, é brasileiro naturalizado. Conforme dispõe a Constituição Federal, é correto afirmar que, atendidas as demais exigências constitucionais, eles podem candidatar-se, entre outros,
- (A) aos cargos públicos de Vereador e Governador, respectivamente.
 - (B) aos cargos públicos de Governador e Vereador, respectivamente.
 - (C) aos cargos públicos de Deputado Estadual e Deputado Federal, respectivamente.
 - (D) aos cargos públicos de Prefeito e Vereador, respectivamente.
 - (E) a qualquer cargo público, exceto Rêmulô quanto aos cargos privativos de brasileiros natos.

- 42.** Aristeu tem 17 anos de idade e revela a seu irmão, Cícero, maior de idade, que pretende cometer suicídio. Ao ouvir essa confissão, Cícero presta auxílio a seu irmão para que este tire a sua própria vida. No entanto, Aristeu tenta cometer o suicídio, mas este não se consuma, vindo apenas a sofrer lesão de natureza grave. Conforme dispõe o Código Penal Brasileiro, nessa hipótese, é correto afirmar que Aristeu
- (A) responderá pelo crime de autolesão, e Cícero responderá pelo crime de lesão corporal, sem agravante.
 - (B) responderá pelo crime de suicídio na sua forma tentada, e Cícero pela tentativa de homicídio, com aumento de pena por ser a vítima menor.
 - (C) não responderá por qualquer crime, e Cícero responderá pelo crime de induzimento ao suicídio, com agravante por ser a vítima seu irmão.
 - (D) e Cícero não responderão por qualquer crime, tendo em vista que o suicídio não se consumou.
 - (E) não responderá por qualquer crime, e Cícero responderá pelo crime de auxílio ao suicídio, com aumento de pena por ser a vítima menor.
- 43.** Artêmis, maior de idade, estava passando em frente a uma loja de produtos eletrônicos e, com o uso de uma chave falsa, logrou êxito em adentrar ao estabelecimento para subtrair várias mercadorias de elevado valor. Segundo o Código Penal, o crime cometido por Artêmis se enquadra como
- (A) roubo simples.
 - (B) roubo qualificado.
 - (C) furto simples.
 - (D) furto qualificado.
 - (E) furto simples, com aumento de pena pelo uso de chave falsa.
- 44.** Segundo o Código Penal, o peculato é um tipo de crime
- (A) de falsidade documental.
 - (B) contra o patrimônio.
 - (C) contra a Administração Pública.
 - (D) contra a fé pública.
 - (E) contra a pessoa.
- 45.** Uma vez instaurado o inquérito policial, a autoridade competente para mandar arquivá-lo, nas hipóteses previstas no Código de Processo Penal, é
- (A) o Delegado de Polícia que o instaurou.
 - (B) o Delegado de Polícia chefe imediato do Delegado que o instaurou.
 - (C) o Promotor de Justiça.
 - (D) a Procuradoria do Estado.
 - (E) o Juiz.
- 46.** Nos moldes do que estabelece a Lei nº 10.826/2003, o certificado de registro de arma de fogo em geral, que será precedido de autorização do Sinarm, será expedido
- (A) pela Polícia Federal.
 - (B) pela Polícia Civil.
 - (C) pela Polícia Militar.
 - (D) pelo Exército.
 - (E) pelas Guardas Municipais.
- 47.** Consta(m) entre os princípios mínimos de atuação das guardas municipais, previsto na Lei Federal nº 13.022/2014:
- (A) proteção dos direitos humanos fundamentais, da propriedade privada e do exercício da cidadania.
 - (B) preservação da vida e eliminação do sofrimento e das perdas.
 - (C) garantia de investigações criminais céleres e eficazes.
 - (D) compromisso com a evolução política e social da comunidade.
 - (E) uso progressivo da força.
- 48.** Assinale a alternativa que está em consonância com o disposto na Lei nº 4.898/1965 (Lei do Abuso de Autoridade).
- (A) O simples atentado à liberdade de locomoção não constitui abuso de autoridade.
 - (B) O abuso de autoridade sujeitará o seu autor às sanções civil, penal e administrativa, sendo esta limitada à advertência.
 - (C) É vedada a aplicação da pena de multa como sanção penal pelo abuso de autoridade.
 - (D) Deixar de comunicar, imediatamente, ao juiz competente a prisão ou detenção de qualquer pessoa constitui abuso de autoridade.
 - (E) A sanção aplicada em decorrência da Lei não poderá ser anotada na ficha funcional da autoridade civil ou militar.

- 49.** Afrodite é servidora pública e convivente com Hércules, o qual tem submetido a sua companheira a uma situação caracterizada como de violência doméstica. A Lei nº 11.340/2006 (Lei Maria da Penha), nessa hipótese, dispõe que o juiz assegurará à Afrodite, para preservar sua integridade física e psicológica,
- (A) acesso prioritário à remoção.
 - (B) licença remunerada.
 - (C) férias compulsórias.
 - (D) licença não remunerada.
 - (E) licença saúde.
- 50.** Se uma servidora pública exercente do cargo de Guarda Municipal de Valinhos vier a ficar grávida, a Lei Municipal nº 5.307/2016 estabelece que ela
- (A) deverá continuar a prestar serviço na área operacional, mas sem o uniforme da Corporação.
 - (B) terá direito a uma licença maternidade remunerada de 180 dias, mediante inspeção médica.
 - (C) terá direito a licença maternidade a partir do 7º (sétimo) mês de gestação.
 - (D) não poderá ser designada para o exercício de funções na área administrativa.
 - (E) não poderá ser submetida à inspeção médica, bastando sua declaração pessoal da gravidez.

REDAÇÃO

Leia os textos.

TEXTO 1

Prevista em lei há 18 anos, a aplicação de penas alternativas para crimes cometidos sem violência ainda não foi suficiente para diminuir a ocupação das penitenciárias no Brasil. Especialistas dizem que os juízes, de forma geral, resistem em utilizar a medida. Esses especialistas estimam que uma nova postura de magistrados poderia reduzir a população carcerária em até 20%.

Além de não ter cometido um crime violento, o réu precisa ser primário para que sua pena seja convertida em uma das alternativas ao aprisionamento, como prestação de serviços comunitários, pagamento de multa, comparecimento a cursos ou impedimento de sair de casa em determinados dias e horários. Para cumprir a pena em liberdade, a condenação também não pode ser maior do que quatro anos.

(Tiago Dantas. "Juízes do Brasil resistem em aplicar penas alternativas".
<https://oglobo.globo.com>, 22.01.2017. Adaptado)

TEXTO 2

A aplicação das penas alternativas patina num sistema superlotado e caro ao país. Dados do Ministério da Justiça mostram que, entre 2009 e 2011, depois de atingir o ápice em 2008, as sentenças alternativas caíram cerca de 30%, transformando-se num desafio para um sistema que já conta com mais de 550 mil detentos e um custo calculado entre R\$ 1,5 mil a R\$ 2 mil por cada um deles.

O problema, de acordo com associações de juízes e órgãos de Justiça, é a falta de um padrão nacional e, conseqüentemente, do controle sobre a aplicação de penas como prestação de serviços à comunidade em alguns estados. Isso desestimula os juízes, que acabam enviando mais pessoas para os presídios superlotados para evitar a impunidade.

"Como não existe um controle mais efetivo desde o início da aplicação, também falta fiscalização, que é um fato determinante. As penas e medidas alternativas carecem ainda de maior transparência na divisão de responsabilidade entre os diversos órgãos", explica o coordenador do Departamento de Monitoramento e Fiscalização do Sistema Carcerário e do Sistema de Execução de Medidas Socioeducativas (DMF) do Conselho Nacional de Justiça, juiz Douglas Martins.

(Renan Truffi. "Falta de controle desestimula juízes e inibe aplicação de penas alternativas".
<https://ultimosegundo.ig.com.br>, 03.10.2013. Adaptado)

TEXTO 3

O Índice de Confiança na Justiça (ICJBrasil) avaliou a percepção da população sobre a existência de penas alternativas e sua contribuição para o aumento da impunidade no Brasil. Cerca de 70% da população afirma que penas alternativas aumentam a impunidade; 63% dos que têm escolaridade incompleta acreditam que penas alternativas contribuem para impunidade e 64% dos entrevistados que têm nível superior completo deram a mesma resposta. Entre os que ganham até dois salários mínimos, 70% acreditam que a aplicação de penas alternativas aumenta a impunidade.

("Para 76% da população, a lei penal não é severa no país".
www.conjur.com.br, 10.11.2011. Adaptado)

Com base nos textos apresentados e em seus próprios conhecimentos, escreva um texto dissertativo-argumentativo, empregando a norma-padrão da língua portuguesa, sobre o tema:

APLICAÇÃO DE PENAS ALTERNATIVAS: ENTRE A REDUÇÃO DA POPULAÇÃO CARCERÁRIA E A IMPUNIDADE

REDAÇÃO

Em hipótese alguma será considerado o texto escrito neste espaço.

RASCUNHO

NÃO ASSINE ESTA FOLHA

