



PREFEITURA MUNICIPAL DE VALINHOS

ESTADO DE SÃO PAULO

CONCURSO PÚBLICO

020. PROVA OBJETIVA

SUPERVISOR DE CAMPO – SS

(OPÇÃO: 027)

- ◆ Você recebeu sua folha de respostas e este caderno contendo 50 questões objetivas.
- ◆ Confira seus dados impressos na capa deste caderno e na folha de respostas.
- ◆ Quando for permitido abrir o caderno, verifique se está completo ou se apresenta imperfeições. Caso haja algum problema, informe ao fiscal da sala.
- ◆ Leia cuidadosamente todas as questões e escolha a resposta que você considera correta.
- ◆ Marque, na folha de respostas, com caneta de tinta preta, a letra correspondente à alternativa que você escolheu.
- ◆ A duração da prova é de 3 horas, já incluído o tempo para o preenchimento da folha de respostas.
- ◆ Só será permitida a saída definitiva da sala e do prédio após transcorridos 75% do tempo de duração da prova.
- ◆ Deverão permanecer em cada uma das salas de prova os 3 últimos candidatos, até que o último deles entregue sua prova, assinando termo respectivo.
- ◆ Ao sair, você entregará ao fiscal a folha de respostas e este caderno, podendo levar apenas o rascunho de gabarito, localizado em sua carteira, para futura conferência.
- ◆ Até que você saia do prédio, todas as proibições e orientações continuam válidas.

AGUARDE A ORDEM DO FISCAL PARA ABRIR ESTE CADERNO DE QUESTÕES.

Nome do candidato _____

RG _____

Inscrição _____

Prédio _____

Sala _____

Carteira _____

CONHECIMENTOS GERAIS

LÍNGUA PORTUGUESA

Leia a tira para responder às questões de números 01 a 04.



(André Dahmer. www1.folha.uol.com.br, 28.03.2019)

01. A partir do que se afirma na tira, é possível concluir que quem está tripulando a nave
- (A) busca entender a natureza humana a partir de fatores comuns a todas as culturas conhecidas no presente e no passado.
 - (B) tem conhecimento de um fato religioso e busca confirmá-lo para então expressar uma conclusão que lhe parece lógica.
 - (C) faz apologia de costumes e tradições que são próprias de um povo, tentando convencer seu interlocutor a se converter.
 - (D) possui certezas quanto aos habitantes do planeta que está visitando e essas acabam por deixar seu interlocutor em dúvida quanto a suas próprias certezas.
 - (E) faz um questionamento que, em realidade, tem o objetivo de incutir dúvida e despertar a reflexão no seu interlocutor.
02. A pergunta da personagem, no último quadro, revela que
- (A) ela mentiu, no primeiro quadro, ao responder afirmativamente à pergunta.
 - (B) a conclusão a que chegou o tripulante, no segundo quadro, não merece resposta.
 - (C) o tripulante da nave está equivocado quanto à conclusão a que chegou.
 - (D) os leitores devem tirar suas próprias conclusões quanto à origem da nave.
 - (E) a civilização segue os preceitos do profeta mencionado no primeiro quadro.
03. A pontuação encontra-se em conformidade com a norma-padrão da língua portuguesa em:
- (A) No primeiro quadro quem está na nave, faz uma pergunta à personagem, buscando confirmar uma hipótese.
 - (B) A personagem responde à pergunta, afirmativamente, sem fazer qualquer ressalva à pergunta.
 - (C) O tripulante da nave no segundo quadro, exclama algo referente à civilização que não é a sua.
 - (D) No último quadro, a personagem pergunta, se ela conta para o tripulante ou o leitor conta?
 - (E) Ao longo da tira, vemos uma personagem que dialoga, com o tripulante de um disco voador.
04. Assinale a alternativa em que o verbo **dever** foi empregado com valor correspondente ao que se verifica no segundo quadro.
- (A) Em outros planetas, **devem** existir outras formas de vida pensante, assim como na Terra.
 - (B) Agências espaciais **devem** explicações à população sobre possíveis aparições alienígenas.
 - (C) Para uma boa convivência em sociedade, as pessoas **deveriam** amar mais umas às outras.
 - (D) Há certas perguntas para as quais aparentemente ficamos **devendo** uma resposta.
 - (E) **Devemos** sempre nos lembrar de que a cordialidade é fundamental nas relações.

Leia o texto para responder às questões de números **05 a 10**.

O time de futebol paraense Paysandu anunciou a criação do projeto Alegria do Povo, o qual, em parceria com o curso de serviço social da Universidade da Amazônia (Unama), selecionou torcedores para um programa de concessão de entradas gratuitas em jogos do clube.

Do outro lado, o também paraense Remo não ficou atrás. Em dezembro de 2018, a agremiação azulina reformulou seu plano de sócio-torcedor e incluiu a categoria Ouro Social, destinada a beneficiários de programas sociais como o Bolsa-Família. Em apenas um mês, as 600 vagas da modalidade foram esgotadas. Nela, os torcedores pagam mensalidade de 30 reais e têm acesso garantido a todos os jogos. “Fizemos questão de não colocar nenhuma **distinção** na carteirinha de sócio”, conta o presidente Fábio Bentes. “Para cumprir nosso papel social é **fundamental** mostrar que todo torcedor tem importância.”

Na contramão dos clubes do eixo Sul-Sudeste, o preço do ingresso praticado pela dupla “Repa”, como é conhecido o clássico paraense, ainda se encaixa no orçamento de boa parcela de seus torcedores. Enquanto o Corinthians, terceira bilheteria mais cara do país, cobra em média 50 reais na Arena, Remo e Paysandu se mantêm estáveis na casa dos 20 reais.

“Quando jogamos contra times de outros estados, nosso trunfo é o apoio maciço do torcedor”, afirma Bentes. “Vamos provar que aproximá-lo do clube, não importa de onde venha, vale a pena.”

(Breiller Pires. *A receita dos times do Pará para se reconectar ao povo e encher os estádios*. <https://brasil.elpais.com>, 05.05.2019. Adaptado)

05. Segundo informações do texto,

- (A) dois clubes de futebol paraenses iniciaram uma campanha para tornar os ingressos gratuitos para todas as partidas de futebol no estado.
- (B) os times de futebol do Pará se espelharam na redução de preços verificada em outras partes do país.
- (C) os times Paysandu e Remo, do Pará, estão em declarada competição de preços dos ingressos com times de outros estados.
- (D) a redução de preços dos ingressos praticada por dois clubes paraenses visa a tornar os times mais competitivos com a presença do torcedor nos jogos.
- (E) as iniciativas de redução do valor do ingresso estão relacionadas a políticas de inclusão social, como o programa governamental Bolsa-Família.

06. Os vocábulos **distinção** e **fundamental**, em destaque no 2º parágrafo, apresentam, respectivamente, como sinônimo e antônimo no contexto em que se encontram:

- (A) diferença e supérfluo.
- (B) semelhança e imprescindível.
- (C) separação e necessário.
- (D) honraria e básico.
- (E) recomendação e secundário.

07. Em destaque, encontra-se vocábulo empregado em sentido figurado em:

- (A) ... selecionou torcedores para um programa de **concessão** de entradas gratuitas em jogos do clube. (1º parágrafo)
- (B) Em apenas um mês, as 600 vagas da modalidade foram **esgotadas**. (2º parágrafo)
- (C) Nela, os torcedores pagam mensalidade de 30 reais e têm **acesso** garantido a todos os jogos. (2º parágrafo)
- (D) ... ainda se encaixa no **orçamento** de boa parcela de seus torcedores. (3º parágrafo)
- (E) “Quando jogamos contra times de outros estados, nosso trunfo é o apoio **maciço** do torcedor”... (4º parágrafo)

08. Assinale a alternativa em que se aponta corretamente, nos parênteses, a noção que o vocábulo destacado expressa no contexto em que se encontra.

- (A) ... selecionou torcedores **para** um programa de concessão de entradas gratuitas... (propósito).
- (B) **Em** dezembro de 2018, a agremiação azulina reformulou seu plano de sócio-torcedor... (local).
- (C) ... destinada **a** beneficiários de programas sociais como o Bolsa-Família (modo).
- (D) “Fizemos questão de não colocar nenhuma distinção na carteirinha **de** sócio”... (procedência).
- (E) “Quando jogamos **contra** times de outros estados, nosso trunfo é o apoio maciço...”... (comparação).

09. Assinale a alternativa que apresenta concordância nominal e verbal correta.

- (A) Foi colocada à disposição dos torcedores 600 vagas da categoria Ouro Social.
- (B) A redução dos preços tiveram impacto significativo na presença dos torcedores em campo.
- (C) Segundo Bentes, são fundamentais a valorização e a presença do torcedor de seu clube.
- (D) O Paysandu e a Unama anunciaram conjuntamente o projeto, que beneficiaram torcedores.
- (E) Os 50 reais cobrados pelo Corinthians o coloca na terceira posição de bilheteria mais cara.

10. A colocação pronominal está de acordo com a norma-padrão em:
- (A) Não importa de onde o torcedor vem, é preciso que aproximemo-lo do seu clube do coração.
 - (B) O torcedor, ao não aproximar-se do clube, é alijado do seu pleno direito de torcida.
 - (C) Os preços impeditivos assustam os torcedores e geralmente mantêm-nos longe dos estádios.
 - (D) Iniciativas de redução de preço das entradas são bem-vistas, e mais clubes estão copiando-as.
 - (E) A entrada com preço reduzido parece ser uma tendência e quem usa-as mais é o torcedor mais carente.

Leia o texto para responder às questões de números 11 a 15.

Um estudo publicado em junho de 2018 analisa as transformações ocorridas em Hong Kong ao longo de duas décadas, dos anos 1980 aos 2000, com foco em como a mudança de status das mulheres na sociedade e de atitude delas em relação ao casamento impactou o mercado imobiliário da cidade.

Descobriu-se que as mulheres solteiras tiveram um papel “surpreendente e pouco estudado” na gentrificação de Hong Kong.

O termo vem do inglês “gentrification”, cunhado nos anos 1960 pela socióloga Ruth Glass para descrever mudanças no perfil de bairros da Zona Norte de Londres e se refere a um processo no qual investimentos que promovem a renovação de um bairro ou região atraem frequentadores e moradores de classes mais altas e provocam a saída de seus habitantes originais, de uma faixa de renda mais baixa.

Ainda que as mulheres tenham tido papel de agente nesse processo, o estudo ressalta que elas são as principais vítimas da gentrificação, “em decorrência da feminização da pobreza, fenômeno global e onipresente”.

O conceito de feminização da pobreza corresponde ao aumento absoluto ou relativo da pobreza entre mulheres ou entre famílias chefiadas por mulheres.

(Juliana Domingos de Lima. *O papel de mulheres solteiras na gentrificação de Hong Kong*. www.nexojournal.com.br, 08.04.2019. Adaptado)

11. De acordo com o texto,
- (A) as mulheres são responsáveis por mudanças importantes em Hong Kong ao garantirem maior igualdade de gênero entre os habitantes de certos bairros da cidade.
 - (B) um estudo comparou a população feminina em Hong Kong em dois períodos distintos de vinte anos cada: de 1980 a 2000 e de 2001 a 2018.
 - (C) houve em Hong Kong um processo de alteração socioeconômica importante protagonizado por mulheres e que afetou o setor imobiliário.
 - (D) considerou-se que em um dado estudo como o enriquecimento ou o empobrecimento das mulheres foi determinado pelo fato de serem mães solteiras.
 - (E) alguns bairros da Zona Norte de Londres serviram de referência para se determinar a densidade populacional incomum de mulheres em bairros de Hong Kong.

12. A gentrificação, segundo a definição que se encontra no texto, pode ser definida como um processo

- (A) inclusivo.
- (B) segregante.
- (C) homogeneizador.
- (D) democratizante.
- (E) criminoso.

13. No trecho – **Ainda que** as mulheres tenham tido papel de agente nesse processo, o estudo ressalta que elas são às principais vítimas da gentrificação... (4º parágrafo) – a expressão destacada confere ao trecho ideia de

- (A) oposição.
- (B) adição.
- (C) condição.
- (D) conclusão.
- (E) concessão.

14. Está em conformidade com a norma-padrão de regência verbal e nominal a frase:

- (A) Muitos estudos chegam em conclusões bastante interessantes sobre a sociedade.
- (B) O estudo faz referência de um termo cunhado por uma socióloga britânica.
- (C) Feministas britânicas se correspondiam umas às outras por cartas no final do século XIX.
- (D) Muitos moradores são alheios nas políticas públicas habitacionais da cidade onde moram.
- (E) O Pelourinho consta da lista de localidades que sofreram algum tipo de gentrificação.

15. Quanto à ocorrência do acento indicativo de crase, assinale a alternativa que preenche, correta e respectivamente, as lacunas da frase a seguir, em conformidade com a norma-padrão.

Um novo termo é cunhado devido _____ necessidade de se dar um nome _____ um conceito que antes não existia e que passará, assim, _____ ser usado.

- (A) a ... à ... a
- (B) à ... a ... à
- (C) a ... a ... a
- (D) à ... a ... a
- (E) a ... à ... à

16. Em um escritório, há uma caixa com 120 envelopes.

Desse total, $\frac{1}{3}$ foi utilizado para enviar memorandos, e $\frac{2}{5}$

dos envelopes restantes foram utilizados para correspondências diversas, ficando os demais envelopes na caixa.

Em relação ao número total de envelopes que havia na caixa, aqueles que permaneceram nela, representam:

- (A) 60%
- (B) 55%
- (C) 50%
- (D) 45%
- (E) 40%

17. Kátia comprou três lápis, cada um deles por R\$ 2,20, e uma lapiseira. Ao pagar a conta com uma nota de R\$ 20,00, recebeu de troco R\$ 4,40. O valor da lapiseira supera o valor de um lápis em

- (A) R\$ 7,20.
- (B) R\$ 7,00.
- (C) R\$ 6,80.
- (D) R\$ 6,60.
- (E) R\$ 6,40.

18. Para imprimir folhetos, uma gráfica trabalha com 5 máquinas, todas elas imprimindo o mesmo número de folhetos por hora. Sabendo que essas 5 máquinas imprimem um lote de folhetos em 1 hora e 21 minutos, então, 3 dessas máquinas imprimiriam o mesmo lote de folhetos em

- (A) 1 hora e 55 minutos.
- (B) 2 horas e 15 minutos.
- (C) 2 horas e 25 minutos.
- (D) 2 horas e 40 minutos.
- (E) 2 horas e 55 minutos.

19. Uma pessoa comprou determinado número de pastas para guardar documentos. Utilizou $\frac{3}{5}$ delas para documentos antigos, $\frac{1}{3}$ para documentos recentes e ainda restaram 2 pastas. O número de pastas utilizadas para guardar documentos antigos foi
- (A) 10.
(B) 15.
(C) 18.
(D) 24.
(E) 30.
20. Luís e Rui organizaram, juntos, 135 processos. Sabendo que o número de processos organizados por Luís foi igual a $\frac{4}{5}$ do número de processos organizados por Rui, então, o número de processos organizados por Luís foi
- (A) 75.
(B) 70.
(C) 65.
(D) 60.
(E) 55.
21. A tabela mostra algumas informações sobre o número de unidades de determinado produto compradas nos 5 primeiros meses do ano.

MÊS	Nº DE UNIDADES
Janeiro	8
Fevereiro	9
Março	$x + 4$
Abril	12
Maio	x

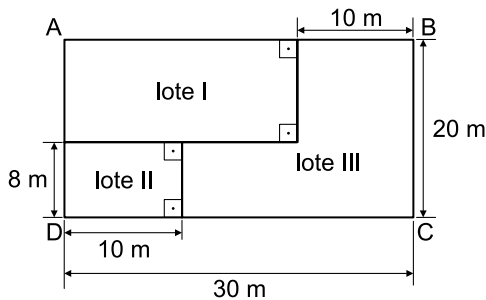
Sabendo que, na média, foram compradas 11 unidades por mês, e que o valor da cada unidade foi R\$ 120,00, então, o valor gasto no mês de março, com a compra dessas unidades, foi

- (A) R\$ 1.800,00.
(B) R\$ 1.680,00.
(C) R\$ 1.440,00.
(D) R\$ 1.200,00.
(E) R\$ 1.080,00.

22. Um parque aquático cobra R\$ 120,00 pelo ingresso individual, que dá direito a participar de algumas atividades. Para atividades especiais, é cobrada uma taxa fixa de R\$ 15,00 por pessoa. Um grupo de 3 amigos foi a esse parque e gastou, com ingressos e atividades especiais, o total de R\$ 465,00. O número de atividades especiais pagas por esse grupo foi

- (A) 8.
- (B) 7.
- (C) 6.
- (D) 5.
- (E) 4.

23. Um terreno retangular ABCD foi dividido em 3 lotes, conforme mostra a figura.

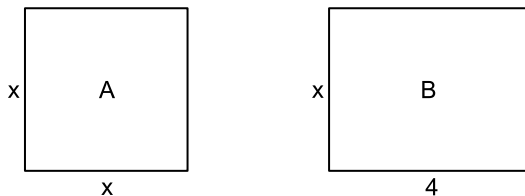


(Figura fora de escala)

A área do lote III é

- (A) 400 m².
- (B) 370 m².
- (C) 350 m².
- (D) 320 m².
- (E) 280 m².

24. Em uma casa, há 2 quartos. O quarto A é quadrado e o quarto B, retangular, conforme mostram as figuras, cujas medidas indicadas estão em metros.

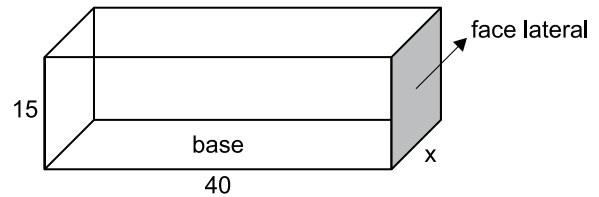


(Figuras fora de escala)

Sabendo que o perímetro do quarto A tem 2 m a menos do que o perímetro do quarto B, então, o perímetro do quarto B é

- (A) 14 m.
- (B) 13 m.
- (C) 12 m.
- (D) 11 m.
- (E) 10 m.

25. A figura mostra as medidas internas, em centímetros, de uma caixa na forma de um prisma reto de base retangular, com 15 cm de altura.



(Figura fora de escala)

Sabendo que o volume dessa caixa é 21 000 cm³, então, a área da face lateral, destacada na figura, é

- (A) 450 cm².
- (B) 475 cm².
- (C) 500 cm².
- (D) 525 cm².
- (E) 550 cm².

R A S C U N H O

26. A imagem a seguir mostra uma parte da Barra de Tarefas do MS-Windows 7, em sua configuração padrão.



O retângulo destacado no canto direito da imagem, referente ao canto inferior direito da Barra de Tarefas, pode ser usado para

- (A) nada, pois não pode ser clicado.
 - (B) ativar o Menu Iniciar.
 - (C) exibir o Menu de Contexto.
 - (D) desligar o computador com um clique.
 - (E) mostrar a Área de Trabalho.
27. Observe os ícones a seguir, retirados do MS-Word 2010, em sua configuração padrão.



Os ícones da imagem são opções de formatação do grupo

- (A) Ilustrações.
- (B) Cabeçalho.
- (C) Estilo.
- (D) Parágrafo.
- (E) Fonte.

28. Um usuário preparou a planilha a seguir por meio do MS-Excel 2010, em sua configuração padrão.

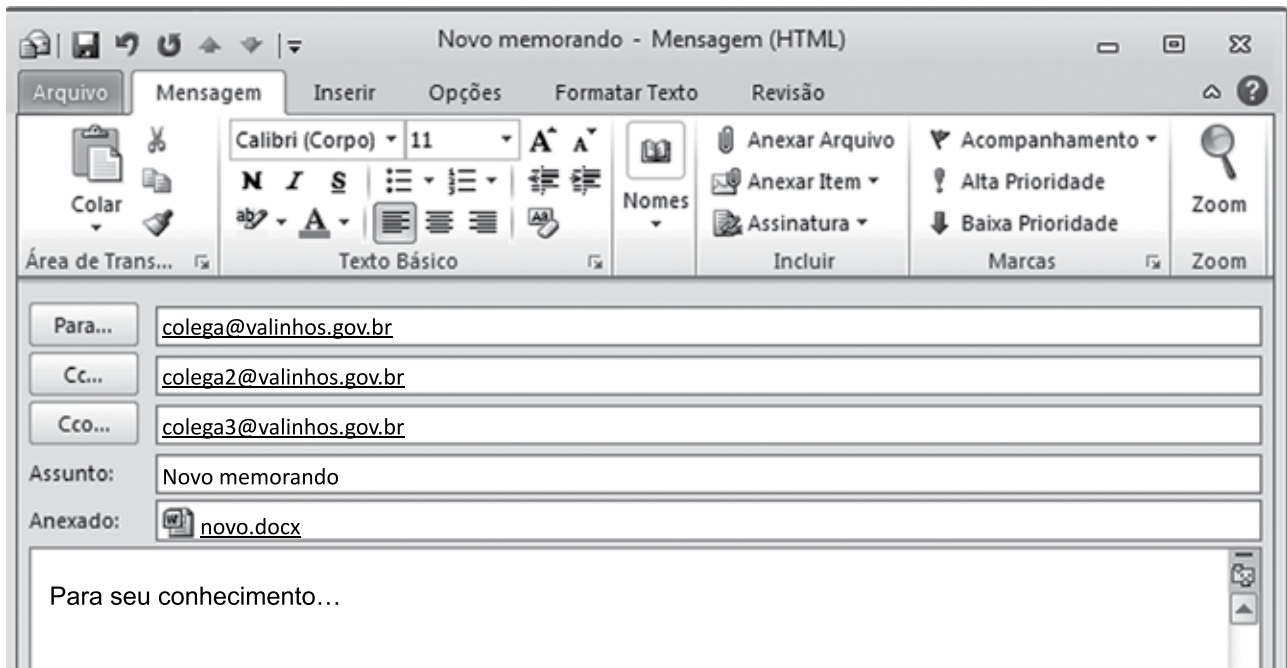
	A	B	C
1	8	2	3
2	4	6	7
3	5	4	6
4			

Assinale a alternativa que apresenta o valor que será exibido na célula C4, após esta ser preenchida com a seguinte fórmula:

=MÉDIA(A1:C3)

- (A) 4
 - (B) 5
 - (C) 6
 - (D) 7
 - (E) 8
29. Todo usuário deve saber fazer buscas na internet e localizar textos desejados. Um dos navegadores mais usados é o Google Chrome. O atalho por teclado usado para localizar textos numa página sendo lida no Google Chrome é:
- (A) Ctrl + A
 - (B) Ctrl + C
 - (C) Ctrl + F
 - (D) Ctrl + H
 - (E) Ctrl + T

30. Um usuário, a partir da conta remetente@valinhos.gov.br, prepara um e-mail para comunicar um novo memorando aos seus colegas de trabalho, conforme a imagem exibida a seguir.



É correto afirmar:

- (A) colega3@valinhos.gov.br não sabe que o e-mail foi enviado para colega@valinhos.gov.br
- (B) colega@valinhos.gov.br sabe que o e-mail foi enviado para colega3@valinhos.gov.br
- (C) colega3@valinhos.gov.br sabe que o e-mail foi enviado para colega2@valinhos.gov.br
- (D) colega@valinhos.gov.br não sabe que o e-mail foi enviado para colega2@valinhos.gov.br
- (E) colega2@valinhos.gov.br sabe que o e-mail foi enviado para colega3@valinhos.gov.br

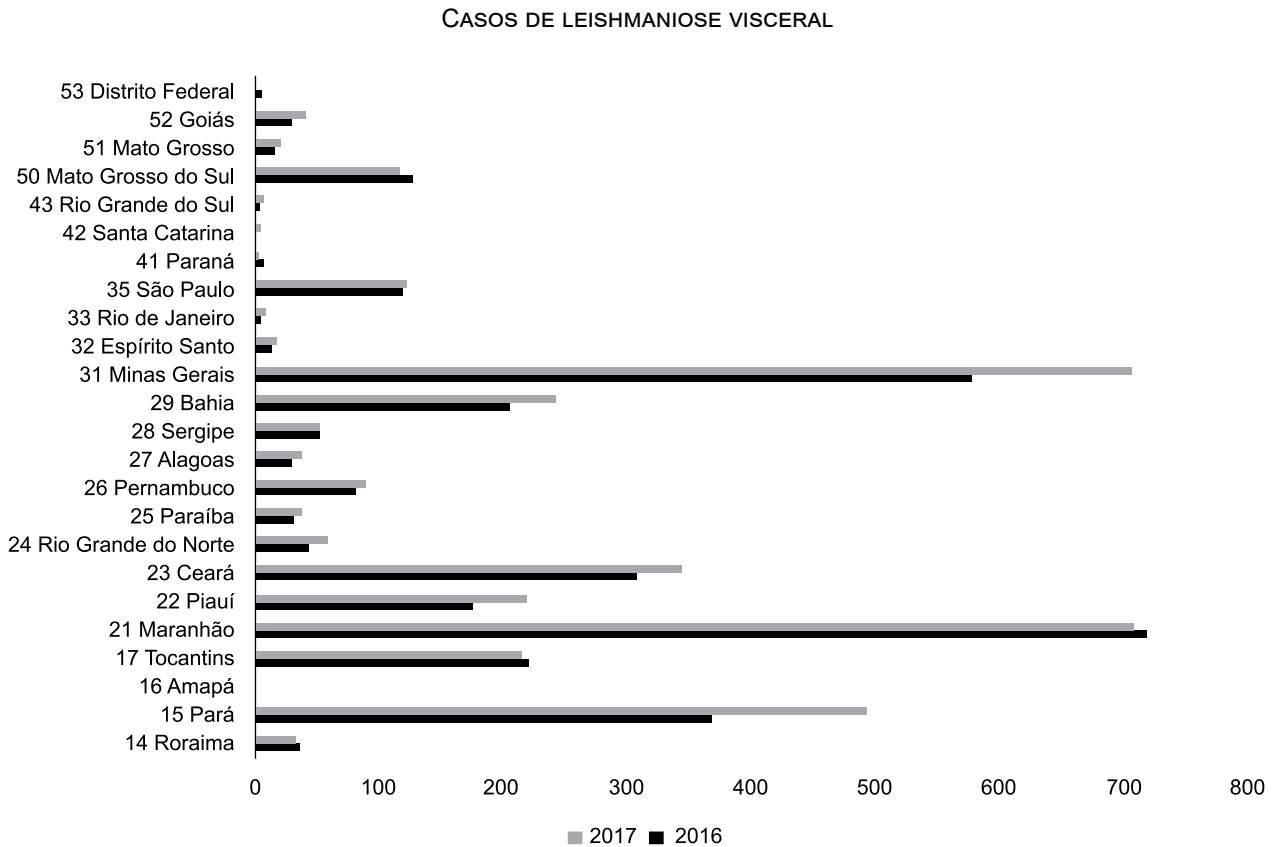
CONHECIMENTOS ESPECÍFICOS

- 31.** Na estrutura de vigilância epidemiológica e ambiental, segundo a Lei nº 11.350/2006 e alterações, é essencial e obrigatória a presença de
- (A) agentes de Combate às Endemias.
 - (B) enfermeiros supervisores de campo.
 - (C) agentes Comunitários de Saúde.
 - (D) educadores populares em saúde.
 - (E) médicos supervisores das unidades de vigilância em saúde.
- 32.** O princípio do Sistema Único de Saúde que busca reconhecer as diferenças nas condições de vida e saúde e nas necessidades das pessoas, oferecendo mais a quem precisa mais e menos a quem requer menos cuidados, como forma de diminuir as desigualdades, é denominado
- (A) resolutividade.
 - (B) hierarquização.
 - (C) universalidade.
 - (D) equidade.
 - (E) intersetorialidade.
- 33.** Na visita domiciliar, o agente de controle de endemias está apto a
- (A) aferir a pressão sanguínea dos moradores do domicílio.
 - (B) autuar o morador se este estiver exercendo comércio não regularizado no domicílio.
 - (C) orientar e ajudar o morador na remoção de recipientes que possam acumular água.
 - (D) identificar situações de risco individual, como identificar gestantes diabéticas.
 - (E) encaminhar para atendimento bebês que nascem com menos de dois quilos.
- 34.** Em uma reunião técnica da equipe de vigilância em saúde sobre avaliação das áreas de risco ambiental e sanitário referentes a enchentes (tendo em vista o ocorrido em abril de 2019 na cidade do Rio de Janeiro), os participantes concluíram que deveriam
- (A) disponibilizar água sanitária, raticidas e inseticidas para o uso imediato pela população.
 - (B) vacinar contra febre amarela e leptospirose toda a população potencialmente exposta a esta situação.
 - (C) acionar o governo Federal para adoção das medidas de saúde pertinentes a este caso.
 - (D) ampliar a contratação emergencial de veterinários e médicos para realização dos trabalhos de campo.
 - (E) conversar com outras secretarias para melhoramento da rede urbana de micro drenagem.
- 35.** Em epidemiologia o cálculo do Risco Relativo (incidência entre expostos a determinado fator/incidência entre não expostos ao mesmo determinado fator) de um agravo possibilita
- (A) confirmar a associação entre exposição e doença sempre que o resultado for igual a 1.
 - (B) avaliar o grau de mortalidade de determinada doença.
 - (C) definir a taxa de ataque de uma determinada doença em um grupo de pessoas.
 - (D) avaliar o grau de morbidade da doença em estudo.
 - (E) afirmar que quanto maior o valor do Risco Relativo, maior a associação entre exposição e doença.
- 36.** O uso do controle biológico tem sido utilizado, em algumas situações, com relativo sucesso no combate a vetores. Nesse tipo de estratégia são
- (A) realizadas mudanças físicas no meio ambiente, de modo a evitar a instalação e proliferação de organismos considerados nocivos.
 - (B) utilizados inimigos naturais, que podem ser outros insetos benéficos, predadores, parasitoides, e microorganismos, como fungos, vírus e bactérias para eliminar a espécie nociva.
 - (C) aplicados produtos biocidas de origem biológica no meio ambiente, seguida da aplicação imediata de produtos químicos para garantir a eliminação da espécie nociva.
 - (D) introduzidas armadilhas luminosas e sonoras que possam funcionar como atrativo para possíveis parceiros sexuais da espécie nociva.
 - (E) feitas catação manual (direta ou por meio de armadilhas) e eliminação (física ou química) de espécimes adultos da espécie nociva.
- 37.** A medida de saúde coletiva, em epidemiologia, pode ser feita por diversos indicadores. É por meio deles que se tem noção quantitativa de um agravo. Um desses indicadores é o coeficiente de prevalência que representa
- (A) o número de casos presentes (novos + antigos) em uma comunidade num período de tempo.
 - (B) a proporção de óbitos entre os casos da doença, indicativo da gravidade da doença na população.
 - (C) casos novos de uma doença em uma população num determinado período de tempo em uma região.
 - (D) nascidos vivos com determinada doença em uma população num período em uma área.
 - (E) casos surgidos a partir do contato com o primeiro caso surgido na população da região.
- 38.** Doença caracterizada por lesões na pele, localizadas frequentemente no nariz, boca e garganta, transmitida pela picada de flebotomíneos. A descrição refere-se à doença:
- (A) dengue.
 - (B) febre amarela.
 - (C) úlcera de Bauru.
 - (D) zika.
 - (E) leishmaniose visceral.

39. A raiva é uma antroponose transmitida ao homem pela inoculação do vírus rábico contido na saliva do animal infectado, principalmente por meio da mordedura. Em relação a essa doença, assinale a alternativa correta.
- (A) É uma encefalite viral crônica, transmitida por aves e mamíferos, com ciclo de transmissão exclusivamente urbano, que ocorre principalmente entre cães e gatos e é de grande importância nos países mais desenvolvidos.
 - (B) Acidentes com mordidas de cães que ocorrem em regiões próximas ao sistema nervoso central (cabeça, face ou pescoço) ou em locais muito inervados (mãos, polpas digitais e planta dos pés) são graves porque facilitam a exposição do sistema nervoso ao vírus.
 - (C) Para erradicar a raiva, a profilaxia pré exposição é indicada para todas as pessoas que têm contato diário com cães e gatos, mesmo que sejam domiciliados e vacinados, bem como profissionais que manipulem esporadicamente animais, como biólogos, veterinários, agente de controle de endemias, etc.
 - (D) A raiva ocorre em todos os continentes, sem exceção, e hoje encontra-se erradicada no Japão, nos Estados Unidos e no Canadá. No Brasil é uma antroponose endêmica em todas as regiões, sendo que o Sul responde por mais de 50% dos casos humanos registrados.
 - (E) Existem relatos de casos de transmissão inter-humana na literatura, que ocorreram por meio de transplante de córnea. A via respiratória, transmissão sexual, via digestiva (em animais) e transmissão vertical também são outras importantes vias de transmissão do vírus.
40. A leptospirose é uma doença infecciosa causada pela bactéria *Leptospira sp* e que apresenta manifestações clínicas variáveis. A transmissão é mais frequente no verão, devido às chuvas intensas e contato com essa água. De modo geral, as enchentes nos grandes centros urbanos são acompanhadas por um aumento no número de casos dessa doença. Isso se deve
- (A) ao fato das leptospiroses se encontrarem no solo e se tornarem ativamente infectantes na presença de água.
 - (B) à presença das leptospiroses nos dejetos humanos que podem contaminar a água e ser ingeridas.
 - (C) ao maior potencial de infectividade da leptospira quando na presença de água contaminada por esgotos.
 - (D) à contaminação das águas com urina de ratos infectados com as leptospiroses.
 - (E) à fragilização e lesões espontâneas da pele humana quando em contato com a água.
41. Com relação ao *Aedes aegypti*, assinale a alternativa correta.
- (A) A forma alada mede menos do que um centímetro de comprimento, apresenta coloração café ou preta e possui listras brancas no corpo e nas patas.
 - (B) O mosquito geralmente pica à noite, durante o sono das pessoas, já que sua presença dificilmente é percebida pela população.
 - (C) É o único vetor da dengue, pois até o presente momento o *Aedes albopictus* não foi responsável por surto da dengue em nenhuma região do mundo.
 - (D) A picada do mosquito é bastante dolorosa e irritante, coçando por vários dias, o que dificulta o entendimento da transmissão, já que estes são sintomas que deveriam eliminar o inseto.
 - (E) É um mosquito silvestre, cujo macho se alimenta de seiva de plantas e a fêmea de sangue humano, mas que está se adaptando rapidamente a cidade.
42. Um senhor que resolveu criar galináceos em sua residência, em área urbana, recebeu várias reclamações da vizinhança que entraram em contato com a unidade de vigilância em saúde para que removesse as aves. Após uma vistoria pelos Agentes de Controle de Endemias, a vizinhança foi informada que, atendendo ao Código Sanitário do Estado de São Paulo,
- (A) as aves seriam mortas, uma vez que é proibida a criação de qualquer animal em área urbana, exceto cães e gatos.
 - (B) a situação era legal, uma vez que a edificação visava reduzir os fatores de estresse psicológico e social dos animais embora não preservasse de maneira satisfatória o entorno.
 - (C) seria providenciada a remoção dos animais, já que as aves de modo geral são consideradas fatores de risco para pessoas imunodeprimidas.
 - (D) a unidade nada poderia fazer, pois cada domicílio é inviolável e seu ocupante tem total poder para utilizá-lo da forma que lhe seja mais adequada.
 - (E) o senhor poderia continuar com suas aves, desde que mantidas em condições sanitárias adequadas e sem causarem incômodo à população.

- 43.** Assinale a alternativa correta em relação ao abastecimento de água para consumo humano, segundo o disposto no Código Sanitário do Estado de São Paulo – Lei nº 10.083/98.
- (A) Todo e qualquer sistema de abastecimento de água público e coletivo estará sujeito à fiscalização da autoridade sanitária federal.
 - (B) Nos projetos, obras e operações de sistemas de abastecimento de água a pressão negativa deverá ser mantida em qualquer ponto da rede de distribuição.
 - (C) Apenas os projetos de construção de sistema de abastecimento de água privados e individuais deverão ser elaborados conforme normas estabelecidas pela autoridade sanitária municipal.
 - (D) Nas operações de sistemas de abastecimento de água públicos ou privados, e apenas coletivos, a água deverá ser submetida, obrigatoriamente, a um processo de desinfestação.
 - (E) Nos projetos, obras e operações de sistemas de abastecimento de água, públicos ou privados, individuais ou coletivos, a fluoretação da água deverá obedecer a padrão estabelecido pela autoridade sanitária competente.
- 44.** Durante a atividade de campo, a equipe de Agentes de Endemias visitou uma residência construída próxima à margem de um córrego poluído, cujos dejetos eram despejados diretamente no solo do entorno e o consumo de água era de um poço raso, perfurado entre a residência e o córrego. O supervisor de campo ao analisar a situação avaliou
- (A) que a edificação obedecia ao disposto na Lei nº 10.083/98.
 - (B) não haver problema, já que o ambiente do entorno do domicílio estava preservado.
 - (C) haver risco sanitário à família ocupante do domicílio.
 - (D) ser uma situação iminente de alagamento do domicílio.
 - (E) a ocorrência de desrespeito, do Estado, a grupos vulneráveis por permitir tal situação.
- 45.** Em relação à dengue, é correto afirmar que
- (A) a dengue clássica é a forma mais leve da doença, sendo muitas vezes confundida com a gripe. Tem início súbito e os sintomas podem durar de cinco a sete dias, apresentando sinais como febre alta (39 a 40 °C), dores de cabeça, cansaço, dor muscular e nas articulações, indisposição, enjoos, vômitos, entre outros.
 - (B) a transmissão raramente ocorre em temperaturas acima de 16 °C, por isso o mosquito se desenvolve em áreas tropicais e subtropicais. A fêmea coloca os ovos em condições adequadas (lugar quente e úmido e que possam acumular água) e em 96 horas, no mínimo, o embrião se desenvolve, gerando larvas ativas.
 - (C) a dengue hemorrágica, cujos sintomas se caracterizam por alterações na coagulação sanguínea, hemorragias causadas pelo sangramento de pequenos vasos da pele e outros órgãos e queda na pressão arterial do paciente, levando o paciente à morte em 99% dos casos.
 - (D) existem quatro tipos de vírus da dengue (DEN 1; DEN 2; DEN 3 e DEN 4). A infecção por um dos tipos imuniza a pessoa infectada para o vírus atuante e os demais tipos de vírus. Esse fato facilita o desenvolvimento de uma vacina eficaz.
 - (E) os principais sintomas da síndrome do choque da dengue são: febre alta acima de 40 °C, dores musculares pouco intensas, dor ao movimentar os olhos, mal-estar geral, falta de apetite e náuseas, dor de cabeça e manchas vermelhas no corpo, principalmente nos braços e pernas.
- 46.** Assinale a alternativa que contém medidas profiláticas da dengue, recomendadas pelos agentes de controle de endemias.
- (A) Introdução de peixes larvófagos em todo recipiente de grande porte que acumulem água, por exemplo, piscinas.
 - (B) Aplicação de vacinas norte-americanas e europeias, em clínicas particulares em crianças, idosos e gestantes.
 - (C) Uso de inseticidas nos domicílios com aplicação diária e, preferencialmente, duas vezes ao dia, sendo uma aplicação pela manhã e outra à noite.
 - (D) Acondicionamento ambientalmente correto do lixo doméstico e eliminação do uso de recipientes que aos serem descartados possam acumular água.
 - (E) Tratamento precoce dos doentes e das pessoas que possivelmente entraram em contato direto com o paciente.

47. No gráfico a seguir estão representados o número de casos de leishmaniose visceral em 2016 e 2017, por Unidade da Federação (DATASUS).



Por meio da análise do gráfico verifica-se que

- (A) o número de casos de leishmaniose visceral diminuiu de 2016 para 2017 em todos os estados brasileiros.
- (B) os estados com menor número de casos se encontram na região Sul do Brasil.
- (C) a qualidade das condições ambientais e sanitárias das populações dos estados brasileiros.
- (D) no Maranhão e em Minas Gerais o número de casos foi praticamente o mesmo nos dois anos.
- (E) de 2016 para 2017 ocorreu um maior controle da doença, resultando na diminuição do número de casos.

48. O número de casos de dengue pode diminuir com a adoção de medidas como

- (A) aplicação de água sanitária e desinfetantes em bueiros e bocas-de-lobo para eliminação dos alados.
- (B) reuniões com a comunidade para apresentação da situação epidemiológica e discussão de ações.
- (C) distribuição de soro para hidratação de bebês evitando, dessa maneira, o desenvolvimento da doença.
- (D) uso de herbicidas em parques e escolas públicas e privadas para eliminar potenciais criadouros.
- (E) distribuição de panfletos, em feiras livres, à população sobre o risco da presença do *Culex* em áreas urbanas.

- 49.** Na área de abrangência da unidade de vigilância em saúde há uma comunidade indígena urbana que executa rituais cantantes a cada Lua cheia. Com relação a essa prática, assinale a alternativa correta.
- (A) É uma questão humanitária, pois tem a ver com os direitos de um cidadão.
 - (B) Trata-se de uma atividade proibida em todas as áreas urbanizadas.
 - (C) Funcionários públicos responsáveis pelo controle da altura dos sons devem decidir se a atividade é legal.
 - (D) A questão é ética, já que tem a ver com costume ou modo de ser.
 - (E) A questão deve ser resolvida pela Fundação Nacional do Índio, já que a responsabilidade é desse órgão.
- 50.** Domicílios com um ou dois cômodos, sem janelas, sem iluminação natural, com muita umidade onde residam muitos moradores, podem ser avaliados como tendo risco sanitário potencial a doenças de transmissão
- (A) vetorial, especialmente aracnídeos que transmitem leptospirose.
 - (B) por microrganismos edáficos que penetram ativamente através da pele.
 - (C) pelo ar contaminado por aerossóis de pessoas infectadas, liberados durante fala, espirro ou tosse.
 - (D) por contato dérmico, como Chikungunya e zika.
 - (E) de tuberculose, já que a umidade e a penumbra favorecem a proliferação do patógeno que se encontra no solo.

