



PREFEITURA MUNICIPAL DE VALINHOS

ESTADO DE SÃO PAULO

CONCURSO PÚBLICO

022. PROVA OBJETIVA

TÉCNICO DE IMOBILIZAÇÕES – SS

(OPÇÃO: 029)

- ◆ Você recebeu sua folha de respostas e este caderno contendo 50 questões objetivas.
- ◆ Confira seus dados impressos na capa deste caderno e na folha de respostas.
- ◆ Quando for permitido abrir o caderno, verifique se está completo ou se apresenta imperfeições. Caso haja algum problema, informe ao fiscal da sala.
- ◆ Leia cuidadosamente todas as questões e escolha a resposta que você considera correta.
- ◆ Marque, na folha de respostas, com caneta de tinta preta, a letra correspondente à alternativa que você escolheu.
- ◆ A duração da prova é de 3 horas, já incluído o tempo para o preenchimento da folha de respostas.
- ◆ Só será permitida a saída definitiva da sala e do prédio após transcorridos 75% do tempo de duração da prova.
- ◆ Deverão permanecer em cada uma das salas de prova os 3 últimos candidatos, até que o último deles entregue sua prova, assinando termo respectivo.
- ◆ Ao sair, você entregará ao fiscal a folha de respostas e este caderno, podendo levar apenas o rascunho de gabarito, localizado em sua carteira, para futura conferência.
- ◆ Até que você saia do prédio, todas as proibições e orientações continuam válidas.

AGUARDE A ORDEM DO FISCAL PARA ABRIR ESTE CADERNO DE QUESTÕES.

Nome do candidato _____

RG _____

Inscrição _____

Prédio _____

Sala _____

Carteira _____

CONHECIMENTOS GERAIS

LÍNGUA PORTUGUESA

Leia a tira para responder às questões de números 01 a 04.



(André Dahmer. www1.folha.uol.com.br, 28.03.2019)

01. A partir do que se afirma na tira, é possível concluir que quem está tripulando a nave
- (A) busca entender a natureza humana a partir de fatores comuns a todas as culturas conhecidas no presente e no passado.
 - (B) tem conhecimento de um fato religioso e busca confirmá-lo para então expressar uma conclusão que lhe parece lógica.
 - (C) faz apologia de costumes e tradições que são próprias de um povo, tentando convencer seu interlocutor a se converter.
 - (D) possui certezas quanto aos habitantes do planeta que está visitando e essas acabam por deixar seu interlocutor em dúvida quanto a suas próprias certezas.
 - (E) faz um questionamento que, em realidade, tem o objetivo de incutir dúvida e despertar a reflexão no seu interlocutor.
02. A pergunta da personagem, no último quadro, revela que
- (A) ela mentiu, no primeiro quadro, ao responder afirmativamente à pergunta.
 - (B) a conclusão a que chegou o tripulante, no segundo quadro, não merece resposta.
 - (C) o tripulante da nave está equivocado quanto à conclusão a que chegou.
 - (D) os leitores devem tirar suas próprias conclusões quanto à origem da nave.
 - (E) a civilização segue os preceitos do profeta mencionado no primeiro quadro.
03. A pontuação encontra-se em conformidade com a norma-padrão da língua portuguesa em:
- (A) No primeiro quadro quem está na nave, faz uma pergunta à personagem, buscando confirmar uma hipótese.
 - (B) A personagem responde à pergunta, afirmativamente, sem fazer qualquer ressalva à pergunta.
 - (C) O tripulante da nave no segundo quadro, exclama algo referente à civilização que não é a sua.
 - (D) No último quadro, a personagem pergunta, se ela conta para o tripulante ou o leitor conta?
 - (E) Ao longo da tira, vemos uma personagem que dialoga, com o tripulante de um disco voador.
04. Assinale a alternativa em que o verbo **dever** foi empregado com valor correspondente ao que se verifica no segundo quadro.
- (A) Em outros planetas, **devem** existir outras formas de vida pensante, assim como na Terra.
 - (B) Agências espaciais **devem** explicações à população sobre possíveis aparições alienígenas.
 - (C) Para uma boa convivência em sociedade, as pessoas **deveriam** amar mais umas às outras.
 - (D) Há certas perguntas para as quais aparentemente ficamos **devendo** uma resposta.
 - (E) **Devemos** sempre nos lembrar de que a cordialidade é fundamental nas relações.

Leia o texto para responder às questões de números **05 a 10**.

O time de futebol paraense Paysandu anunciou a criação do projeto Alegria do Povo, o qual, em parceria com o curso de serviço social da Universidade da Amazônia (Unama), selecionou torcedores para um programa de concessão de entradas gratuitas em jogos do clube.

Do outro lado, o também paraense Remo não ficou atrás. Em dezembro de 2018, a agremiação azulina reformulou seu plano de sócio-torcedor e incluiu a categoria Ouro Social, destinada a beneficiários de programas sociais como o Bolsa-Família. Em apenas um mês, as 600 vagas da modalidade foram esgotadas. Nela, os torcedores pagam mensalidade de 30 reais e têm acesso garantido a todos os jogos. “Fizemos questão de não colocar nenhuma **distinção** na carteirinha de sócio”, conta o presidente Fábio Bentes. “Para cumprir nosso papel social é **fundamental** mostrar que todo torcedor tem importância.”

Na contramão dos clubes do eixo Sul-Sudeste, o preço do ingresso praticado pela dupla “Repa”, como é conhecido o clássico paraense, ainda se encaixa no orçamento de boa parcela de seus torcedores. Enquanto o Corinthians, terceira bilheteria mais cara do país, cobra em média 50 reais na Arena, Remo e Paysandu se mantêm estáveis na casa dos 20 reais.

“Quando jogamos contra times de outros estados, nosso trunfo é o apoio maciço do torcedor”, afirma Bentes. “Vamos provar que aproximá-lo do clube, não importa de onde venha, vale a pena.”

(Breiller Pires. *A receita dos times do Pará para se reconectar ao povo e encher os estádios*. <https://brasil.elpais.com>, 05.05.2019. Adaptado)

05. Segundo informações do texto,

- (A) dois clubes de futebol paraenses iniciaram uma campanha para tornar os ingressos gratuitos para todas as partidas de futebol no estado.
- (B) os times de futebol do Pará se espelharam na redução de preços verificada em outras partes do país.
- (C) os times Paysandu e Remo, do Pará, estão em declarada competição de preços dos ingressos com times de outros estados.
- (D) a redução de preços dos ingressos praticada por dois clubes paraenses visa a tornar os times mais competitivos com a presença do torcedor nos jogos.
- (E) as iniciativas de redução do valor do ingresso estão relacionadas a políticas de inclusão social, como o programa governamental Bolsa-Família.

06. Os vocábulos **distinção** e **fundamental**, em destaque no 2º parágrafo, apresentam, respectivamente, como sinônimo e antônimo no contexto em que se encontram:

- (A) diferença e supérfluo.
- (B) semelhança e imprescindível.
- (C) separação e necessário.
- (D) honraria e básico.
- (E) recomendação e secundário.

07. Em destaque, encontra-se vocábulo empregado em sentido figurado em:

- (A) ... selecionou torcedores para um programa de **concessão** de entradas gratuitas em jogos do clube. (1º parágrafo)
- (B) Em apenas um mês, as 600 vagas da modalidade foram **esgotadas**. (2º parágrafo)
- (C) Nela, os torcedores pagam mensalidade de 30 reais e têm **acesso** garantido a todos os jogos. (2º parágrafo)
- (D) ... ainda se encaixa no **orçamento** de boa parcela de seus torcedores. (3º parágrafo)
- (E) “Quando jogamos contra times de outros estados, nosso trunfo é o apoio **maciço** do torcedor”... (4º parágrafo)

08. Assinale a alternativa em que se aponta corretamente, nos parênteses, a noção que o vocábulo destacado expressa no contexto em que se encontra.

- (A) ... selecionou torcedores **para** um programa de concessão de entradas gratuitas... (propósito).
- (B) **Em** dezembro de 2018, a agremiação azulina reformulou seu plano de sócio-torcedor... (local).
- (C) ... destinada **a** beneficiários de programas sociais como o Bolsa-Família (modo).
- (D) “Fizemos questão de não colocar nenhuma distinção na carteirinha **de** sócio”... (procedência).
- (E) “Quando jogamos **contra** times de outros estados, nosso trunfo é o apoio maciço...”... (comparação).

09. Assinale a alternativa que apresenta concordância nominal e verbal correta.

- (A) Foi colocada à disposição dos torcedores 600 vagas da categoria Ouro Social.
- (B) A redução dos preços tiveram impacto significativo na presença dos torcedores em campo.
- (C) Segundo Bentes, são fundamentais a valorização e a presença do torcedor de seu clube.
- (D) O Paysandu e a Unama anunciaram conjuntamente o projeto, que beneficiaram torcedores.
- (E) Os 50 reais cobrados pelo Corinthians o coloca na terceira posição de bilheteria mais cara.

10. A colocação pronominal está de acordo com a norma-padrão em:
- (A) Não importa de onde o torcedor vem, é preciso que aproximemo-lo do seu clube do coração.
 - (B) O torcedor, ao não aproximar-se do clube, é alijado do seu pleno direito de torcida.
 - (C) Os preços impeditivos assustam os torcedores e geralmente mantêm-nos longe dos estádios.
 - (D) Iniciativas de redução de preço das entradas são bem-vistas, e mais clubes estão copiando-as.
 - (E) A entrada com preço reduzido parece ser uma tendência e quem usa-as mais é o torcedor mais carente.

Leia o texto para responder às questões de números 11 a 15.

Um estudo publicado em junho de 2018 analisa as transformações ocorridas em Hong Kong ao longo de duas décadas, dos anos 1980 aos 2000, com foco em como a mudança de status das mulheres na sociedade e de atitude delas em relação ao casamento impactou o mercado imobiliário da cidade.

Descobriu-se que as mulheres solteiras tiveram um papel “surpreendente e pouco estudado” na gentrificação de Hong Kong.

O termo vem do inglês “gentrification”, cunhado nos anos 1960 pela socióloga Ruth Glass para descrever mudanças no perfil de bairros da Zona Norte de Londres e se refere a um processo no qual investimentos que promovem a renovação de um bairro ou região atraem frequentadores e moradores de classes mais altas e provocam a saída de seus habitantes originais, de uma faixa de renda mais baixa.

Ainda que as mulheres tenham tido papel de agente nesse processo, o estudo ressalta que elas são as principais vítimas da gentrificação, “em decorrência da feminização da pobreza, fenômeno global e onipresente”.

O conceito de feminização da pobreza corresponde ao aumento absoluto ou relativo da pobreza entre mulheres ou entre famílias chefiadas por mulheres.

(Juliana Domingos de Lima. *O papel de mulheres solteiras na gentrificação de Hong Kong*. www.nexojournal.com.br, 08.04.2019. Adaptado)

11. De acordo com o texto,
- (A) as mulheres são responsáveis por mudanças importantes em Hong Kong ao garantirem maior igualdade de gênero entre os habitantes de certos bairros da cidade.
 - (B) um estudo comparou a população feminina em Hong Kong em dois períodos distintos de vinte anos cada: de 1980 a 2000 e de 2001 a 2018.
 - (C) houve em Hong Kong um processo de alteração socioeconômica importante protagonizado por mulheres e que afetou o setor imobiliário.
 - (D) considerou-se que em um dado estudo como o enriquecimento ou o empobrecimento das mulheres foi determinado pelo fato de serem mães solteiras.
 - (E) alguns bairros da Zona Norte de Londres serviram de referência para se determinar a densidade populacional incomum de mulheres em bairros de Hong Kong.

12. A gentrificação, segundo a definição que se encontra no texto, pode ser definida como um processo
- (A) inclusivo.
 - (B) segregante.
 - (C) homogeneizador.
 - (D) democratizante.
 - (E) criminoso.

13. No trecho – **Ainda que** as mulheres tenham tido papel de agente nesse processo, o estudo ressalta que elas são às principais vítimas da gentrificação... (4º parágrafo) – a expressão destacada confere ao trecho ideia de

- (A) oposição.
- (B) adição.
- (C) condição.
- (D) conclusão.
- (E) concessão.

14. Está em conformidade com a norma-padrão de regência verbal e nominal a frase:

- (A) Muitos estudos chegam em conclusões bastante interessantes sobre a sociedade.
- (B) O estudo faz referência de um termo cunhado por uma socióloga britânica.
- (C) Feministas britânicas se correspondiam umas às outras por cartas no final do século XIX.
- (D) Muitos moradores são alheios nas políticas públicas habitacionais da cidade onde moram.
- (E) O Pelourinho consta da lista de localidades que sofreram algum tipo de gentrificação.

15. Quanto à ocorrência do acento indicativo de crase, assinale a alternativa que preenche, correta e respectivamente, as lacunas da frase a seguir, em conformidade com a norma-padrão.

Um novo termo é cunhado devido _____ necessidade de se dar um nome _____ um conceito que antes não existia e que passará, assim, _____ ser usado.

- (A) a ... à ... a
- (B) à ... a ... à
- (C) a ... a ... a
- (D) à ... a ... a
- (E) a ... à ... à

16. Em um escritório, há uma caixa com 120 envelopes.

Desse total, $\frac{1}{3}$ foi utilizado para enviar memorandos, e $\frac{2}{5}$

dos envelopes restantes foram utilizados para correspondências diversas, ficando os demais envelopes na caixa.

Em relação ao número total de envelopes que havia na caixa, aqueles que permaneceram nela, representam:

- (A) 60%
- (B) 55%
- (C) 50%
- (D) 45%
- (E) 40%

17. Kátia comprou três lápis, cada um deles por R\$ 2,20, e uma lapiseira. Ao pagar a conta com uma nota de R\$ 20,00, recebeu de troco R\$ 4,40. O valor da lapiseira supera o valor de um lápis em

- (A) R\$ 7,20.
- (B) R\$ 7,00.
- (C) R\$ 6,80.
- (D) R\$ 6,60.
- (E) R\$ 6,40.

18. Para imprimir folhetos, uma gráfica trabalha com 5 máquinas, todas elas imprimindo o mesmo número de folhetos por hora. Sabendo que essas 5 máquinas imprimem um lote de folhetos em 1 hora e 21 minutos, então, 3 dessas máquinas imprimiriam o mesmo lote de folhetos em

- (A) 1 hora e 55 minutos.
- (B) 2 horas e 15 minutos.
- (C) 2 horas e 25 minutos.
- (D) 2 horas e 40 minutos.
- (E) 2 horas e 55 minutos.

19. Uma pessoa comprou determinado número de pastas para guardar documentos. Utilizou $\frac{3}{5}$ delas para docu-

mentos antigos, $\frac{1}{3}$ para documentos recentes e ainda restaram 2 pastas. O número de pastas utilizadas para guardar documentos antigos foi

- (A) 10.
- (B) 15.
- (C) 18.
- (D) 24.
- (E) 30.

20. Luís e Rui organizaram, juntos, 135 processos. Sabendo que o número de processos organizados por Luís foi igual a $\frac{4}{5}$ do número de processos organizados por Rui,

então, o número de processos organizados por Luís foi

- (A) 75.
- (B) 70.
- (C) 65.
- (D) 60.
- (E) 55.

21. A tabela mostra algumas informações sobre o número de unidades de determinado produto compradas nos 5 primeiros meses do ano.

MÊS	Nº DE UNIDADES
Janeiro	8
Fevereiro	9
Março	$x + 4$
Abril	12
Maio	x

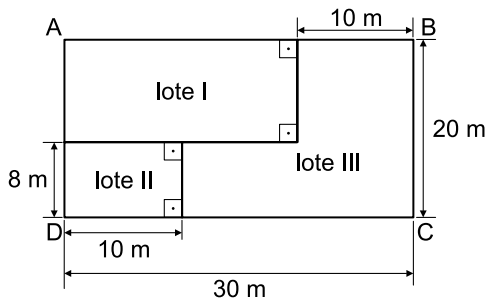
Sabendo que, na média, foram compradas 11 unidades por mês, e que o valor da cada unidade foi R\$ 120,00, então, o valor gasto no mês de março, com a compra dessas unidades, foi

- (A) R\$ 1.800,00.
- (B) R\$ 1.680,00.
- (C) R\$ 1.440,00.
- (D) R\$ 1.200,00.
- (E) R\$ 1.080,00.

22. Um parque aquático cobra R\$ 120,00 pelo ingresso individual, que dá direito a participar de algumas atividades. Para atividades especiais, é cobrada uma taxa fixa de R\$ 15,00 por pessoa. Um grupo de 3 amigos foi a esse parque e gastou, com ingressos e atividades especiais, o total de R\$ 465,00. O número de atividades especiais pagas por esse grupo foi

- (A) 8.
- (B) 7.
- (C) 6.
- (D) 5.
- (E) 4.

23. Um terreno retangular ABCD foi dividido em 3 lotes, conforme mostra a figura.

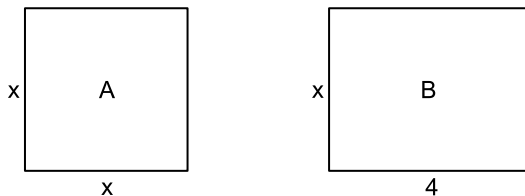


(Figura fora de escala)

A área do lote III é

- (A) 400 m².
- (B) 370 m².
- (C) 350 m².
- (D) 320 m².
- (E) 280 m².

24. Em uma casa, há 2 quartos. O quarto A é quadrado e o quarto B, retangular, conforme mostram as figuras, cujas medidas indicadas estão em metros.

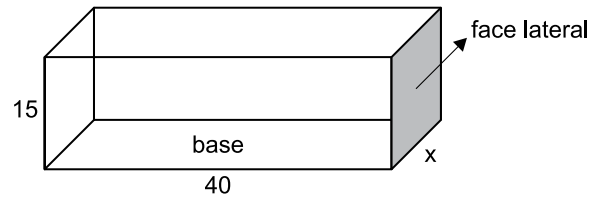


(Figuras fora de escala)

Sabendo que o perímetro do quarto A tem 2 m a menos do que o perímetro do quarto B, então, o perímetro do quarto B é

- (A) 14 m.
- (B) 13 m.
- (C) 12 m.
- (D) 11 m.
- (E) 10 m.

25. A figura mostra as medidas internas, em centímetros, de uma caixa na forma de um prisma reto de base retangular, com 15 cm de altura.



(Figura fora de escala)

Sabendo que o volume dessa caixa é 21 000 cm³, então, a área da face lateral, destacada na figura, é

- (A) 450 cm².
- (B) 475 cm².
- (C) 500 cm².
- (D) 525 cm².
- (E) 550 cm².

R A S C U N H O

26. A imagem a seguir mostra uma parte da Barra de Tarefas do MS-Windows 7, em sua configuração padrão.



O retângulo destacado no canto direito da imagem, referente ao canto inferior direito da Barra de Tarefas, pode ser usado para

- (A) nada, pois não pode ser clicado.
 - (B) ativar o Menu Iniciar.
 - (C) exibir o Menu de Contexto.
 - (D) desligar o computador com um clique.
 - (E) mostrar a Área de Trabalho.
27. Observe os ícones a seguir, retirados do MS-Word 2010, em sua configuração padrão.



Os ícones da imagem são opções de formatação do grupo

- (A) Ilustrações.
- (B) Cabeçalho.
- (C) Estilo.
- (D) Parágrafo.
- (E) Fonte.

28. Um usuário preparou a planilha a seguir por meio do MS-Excel 2010, em sua configuração padrão.

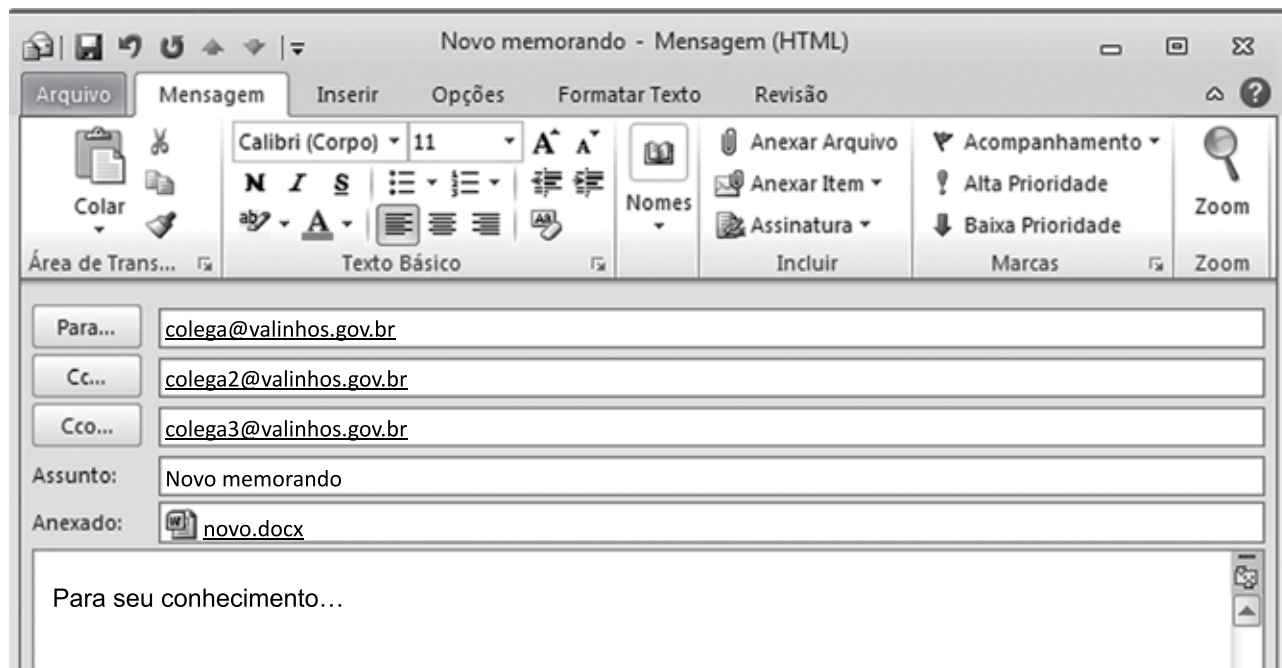
	A	B	C
1	8	2	3
2	4	6	7
3	5	4	6
4			

Assinale a alternativa que apresenta o valor que será exibido na célula C4, após esta ser preenchida com a seguinte fórmula:

=MÉDIA(A1:C3)

- (A) 4
 - (B) 5
 - (C) 6
 - (D) 7
 - (E) 8
29. Todo usuário deve saber fazer buscas na internet e localizar textos desejados. Um dos navegadores mais usados é o Google Chrome. O atalho por teclado usado para localizar textos numa página sendo lida no Google Chrome é:
- (A) Ctrl + A
 - (B) Ctrl + C
 - (C) Ctrl + F
 - (D) Ctrl + H
 - (E) Ctrl + T

30. Um usuário, a partir da conta remetente@valinhos.gov.br, prepara um e-mail para comunicar um novo memorando aos seus colegas de trabalho, conforme a imagem exibida a seguir.



É correto afirmar:

- (A) colega3@valinhos.gov.br não sabe que o e-mail foi enviado para colega@valinhos.gov.br
- (B) colega@valinhos.gov.br sabe que o e-mail foi enviado para colega3@valinhos.gov.br
- (C) colega3@valinhos.gov.br sabe que o e-mail foi enviado para colega2@valinhos.gov.br
- (D) colega@valinhos.gov.br não sabe que o e-mail foi enviado para colega2@valinhos.gov.br
- (E) colega2@valinhos.gov.br sabe que o e-mail foi enviado para colega3@valinhos.gov.br

CONHECIMENTOS ESPECÍFICOS

31. Paciente com trauma torcional no tornozelo esquerdo. Está com bastante dor. No raio X, não apresenta fratura, mas, ao exame físico, apresenta uma suspeita de lesão ligamentar lateral. Diante desse quadro clínico, é correto afirmar que esse paciente
- (A) deverá ser imobilizado com uma tala suropodálica.
 - (B) não deverá ser imobilizado, já que a imobilização não contribui para a analgesia.
 - (C) deverá ser imobilizado com uma tala inguinomaleolar.
 - (D) pela suspeita de lesão ligamentar, deverá realizar obrigatoriamente uma ressonância magnética.
 - (E) deverá ser imobilizado com uma tornezeleira de neoprene.
32. A localização e uma das funções do músculo sartório são:
- (A) braço; fletir o antebraço.
 - (B) coluna cervical; fletir o crânio.
 - (C) coxa; fletir o joelho.
 - (D) perna; a flexão dorsal do tornozelo.
 - (E) perna; everter o pé.
33. Dois dias após imobilizar uma fratura de rádio distal com um gesso axilo palmar, o paciente retorna sentindo muito formigamento nos dedos e dor à extensão passiva deles. A conduta a ser tomada deve-ser:
- (A) trocar o gesso axilo palmar por um gesso antebraquial em posição de garrafa.
 - (B) trocar o gesso por uma tala gessada.
 - (C) orientar o paciente que isso é normal e retornar em 48 horas, se a dor persistir.
 - (D) abrir o gesso e pedir para o paciente ir para casa.
 - (E) abrir o gesso e chamar o médico de plantão para avaliação.
34. Paciente vem ao pronto-socorro com queixa de dor no tornozelo direito durante jogo de futebol. Realiza ultrassom, no qual foi diagnosticada lesão completa do tendão calcâneo. Diante desse quadro, é correto afirmar que
- (A) se esse paciente optar pelo tratamento não cirúrgico, a sua imobilização deve ser inguinomaleolar com tala gessada.
 - (B) com essa lesão, espera-se dor e diminuição de força para realizar flexão plantar do tornozelo.
 - (C) com essa lesão, espera-se dor e diminuição de força para realizar a inversão do tornozelo.
 - (D) a posição adequada para imobilizá-lo é em flexão dorsal do tornozelo de 20 graus.
 - (E) a lesão desse tendão durante prática de esportes, como o futebol, é pouco frequente.
35. Ao auxiliar o médico em uma redução incruenta de fratura de diáfise do úmero, nota-se que, após a redução, o paciente refere fraqueza para realizar a abdução e extensão do polegar. Diante desse quadro, é correto afirmar que
- (A) não há necessidade de informar o médico.
 - (B) deve ser confeccionada um tala gessada axilo palmar.
 - (C) o paciente pode ter alta e deve retornar em 14 dias para reavaliação do quadro.
 - (D) o médico deve ser informado, e o paciente deve aguardar até que esse possa reavaliá-lo.
 - (E) o paciente deve ser encaminhado rapidamente para o centro cirúrgico.
36. Paciente com fratura de escafoide de tratamento não cirúrgico. A imobilização correta e a localização desse osso são:
- (A) tala gessada antebraquial, incluindo o polegar; punho.
 - (B) imobilização em M-J; ombro.
 - (C) gesso axilo palmar, incluindo o polegar; punho.
 - (D) colete gessado; coluna torácica.
 - (E) gesso antebraquial; antebraço.
37. Paciente em uso de gesso circular suropodálico à direita, imobilizando o tornozelo direito onde foi realizada cirurgia há 04 dias. É aberta uma janela no gesso para que se possa avaliar a incisão. Diante desse quadro, a conduta correta é
- (A) descartar essa janela e confeccionar um curativo simples na região exposta.
 - (B) recolocar a janela para evitar uma herniação neste local.
 - (C) não abrir essa janela e, sim, retirar o gesso para avaliar a incisão.
 - (D) retirar esse gesso para avaliação da incisão e colocar uma tala.
 - (E) aguardar até 02 semanas, quando essa imobilização poderá ser retirada.
38. A imobilização correta para uma fratura fechada e sem desvio da diáfise do úmero é:
- (A) uma pinça de confeiteiro.
 - (B) uma tala antebraquial.
 - (C) um gesso axilo palmar.
 - (D) um *Velpeau*.
 - (E) uma tala inguinomaleolar.

39. A característica da deformidade em cifose da coluna torácica
- (A) é uma deformidade sempre rígida.
 - (B) normalmente requer tratamento cirúrgico.
 - (C) acomete mais as crianças.
 - (D) é uma deformidade no plano sagital.
 - (E) raramente está presente na mielomeningocele.
40. Ao realizar uma bota gessada com salto, a orientação correta a ser dada ao paciente é:
- (A) a carga total pode ser imediata.
 - (B) se o gesso usado for sintético, não pode ser molhado.
 - (C) dor à extensão passiva dos dedos e parestesia são normais até 48 horas da colocação do gesso.
 - (D) o gesso estará seco após 06 horas da sua aplicação.
 - (E) carga total somente será permitida após 48 horas da colocação do gesso.
41. Paciente, após ser avaliado pelo médico, vem para a sala de curativo no 10 PO de artroplastia total de joelho direito. Está bem, sem queixas, e a ferida cirúrgica tem bom aspecto. Diante desse quadro, a conduta correta deve ser:
- (A) imobilizá-lo com tala inguinopodálica.
 - (B) imobilizá-lo com gesso inguinomaleolar.
 - (C) realizar curativo simples.
 - (D) imobilizá-lo com uma tala gessada somente para analgesia.
 - (E) orientar repouso absoluto por mais 10 dias.
42. Com relação ao pé torto congênito, assinale a alternativa correta.
- (A) O tratamento é inicialmente com gesso.
 - (B) Apesar de ser uma deformidade rígida, tem correção espontânea.
 - (C) O tratamento deve ser iniciado quando a criança completar um ano.
 - (D) Se o tratamento com gesso for necessário, este deve ser trocado a cada 30 dias.
 - (E) Quando é bilateral, a cirurgia é o tratamento inicial.
43. O número de vértebras de que a coluna cervical é composta, normalmente, é:
- (A) 06 vértebras.
 - (B) 07 vértebras.
 - (C) 08 vértebras.
 - (D) 10 vértebras.
 - (E) 12 vértebras.
44. Paciente de 28 anos, com cirurgia para correção de fratura da diáfise da ulna há 07 dias. A fixação com placa e parafusos, segundo o médico cirurgião, está estável. Quanto à imobilização para esse paciente, assinale a alternativa correta.
- (A) A imobilização deve ser em M-J.
 - (B) Gesso antebraquiopalmar é indicado.
 - (C) Tala antebraquiopalmar é indicada.
 - (D) Tala axilo palmar é a indicada.
 - (E) Não há necessidade de imobilização.
45. Assinale a alternativa correta a respeito das trações cutâneas e esqueléticas.
- (A) Pode ser colocado mais peso na tração cutânea.
 - (B) É usado um perfurador na confecção da tração cutânea.
 - (C) Uma tração cutânea deve ser realizada no centro cirúrgico, pois é bastante dolorosa.
 - (D) Para fazer uma tração esquelética, são usados de 3 a 4 fios de *steinman*.
 - (E) A tração esquelética pode ser usada para manter alinhamento da fratura até o tratamento definitivo.
46. Qual a localização do osso cuboide?
- (A) Mão.
 - (B) Coluna lombar.
 - (C) Cotovelo.
 - (D) Punho.
 - (E) Pé.
47. A respeito da artroplastia total de quadril, assinale a alternativa correta.
- (A) É a substituição do fêmur proximal e acetábulo.
 - (B) É a substituição somente do fêmur.
 - (C) É a substituição somente do acetábulo.
 - (D) É a colocação da cabeça de fêmur de banco de osso.
 - (E) É a substituição, além do fêmur e do acetábulo, também da sínfise púbica.

- 48.** Paciente vem ao pronto-socorro referindo que, após uma alteração em um bar próximo, tem uma faca presa na coxa esquerda. Já avaliado, sem perigo de morte. Ao raio X, a faca encontra-se em região profunda da coxa, porém sem fratura. Diante desse quadro, assinale a alternativa que apresenta a conduta correta.
- (A) Retirar a faca da coxa no pronto-socorro.
 - (B) Avaliar a função neurológica antes e depois de retirar a faca no pronto-socorro.
 - (C) A faca deve ser retirada no centro cirúrgico, pelo risco de destamponamento eventual de um grande vaso.
 - (D) A faca pode ser retirada tanto no pronto-socorro como no centro cirúrgico. Se retirada no PS, deve ser usado um garrote pneumático na coxa para evitar sangramentos.
 - (E) A faca pode ser retirada no pronto-socorro, desde que se proceda com a assepsia e antissepsia da região.
- 49.** Com relação à doença osteoarticular do trabalho, assinale a alternativa correta.
- (A) São exclusivas de trabalhadores braçais.
 - (B) Nesse grupo, estão contidas doenças agravadas ou exacerbadas pelo trabalho.
 - (C) Podem ser decorrentes exclusivamente de alterações psíquicas do trabalhador.
 - (D) A vibração não constitui fator de risco.
 - (E) Normalmente, são de tratamento cirúrgico.
- 50.** Assinale a alternativa que apresenta a função correta do músculo bíceps braquial.
- (A) Flexão dorsal do punho.
 - (B) Abdução do ombro.
 - (C) Extensão do cotovelo.
 - (D) Supinação do antebraço.
 - (E) Extensão do ombro.

