



## PREFEITURA MUNICIPAL DE VALINHOS

ESTADO DE SÃO PAULO

CONCURSO PÚBLICO

### 026. PROVA OBJETIVA

TÉCNICO EM ENFERMAGEM – SS

(OPÇÃO: 033)

- ◆ Você recebeu sua folha de respostas e este caderno contendo 50 questões objetivas.
- ◆ Confira seus dados impressos na capa deste caderno e na folha de respostas.
- ◆ Quando for permitido abrir o caderno, verifique se está completo ou se apresenta imperfeições. Caso haja algum problema, informe ao fiscal da sala.
- ◆ Leia cuidadosamente todas as questões e escolha a resposta que você considera correta.
- ◆ Marque, na folha de respostas, com caneta de tinta preta, a letra correspondente à alternativa que você escolheu.
- ◆ A duração da prova é de 3 horas, já incluído o tempo para o preenchimento da folha de respostas.
- ◆ Só será permitida a saída definitiva da sala e do prédio após transcorridos 75% do tempo de duração da prova.
- ◆ Deverão permanecer em cada uma das salas de prova os 3 últimos candidatos, até que o último deles entregue sua prova, assinando termo respectivo.
- ◆ Ao sair, você entregará ao fiscal a folha de respostas e este caderno, podendo levar apenas o rascunho de gabarito, localizado em sua carteira, para futura conferência.
- ◆ Até que você saia do prédio, todas as proibições e orientações continuam válidas.

**AGUARDE A ORDEM DO FISCAL PARA ABRIR ESTE CADERNO DE QUESTÕES.**

Nome do candidato \_\_\_\_\_

RG \_\_\_\_\_

Inscrição \_\_\_\_\_

Prédio \_\_\_\_\_

Sala \_\_\_\_\_

Carteira \_\_\_\_\_



## CONHECIMENTOS GERAIS

### LÍNGUA PORTUGUESA

Leia a tira para responder às questões de números 01 a 04.



(André Dahmer. www1.folha.uol.com.br, 28.03.2019)

01. A partir do que se afirma na tira, é possível concluir que quem está tripulando a nave
- (A) busca entender a natureza humana a partir de fatores comuns a todas as culturas conhecidas no presente e no passado.
  - (B) tem conhecimento de um fato religioso e busca confirmá-lo para então expressar uma conclusão que lhe parece lógica.
  - (C) faz apologia de costumes e tradições que são próprias de um povo, tentando convencer seu interlocutor a se converter.
  - (D) possui certezas quanto aos habitantes do planeta que está visitando e essas acabam por deixar seu interlocutor em dúvida quanto a suas próprias certezas.
  - (E) faz um questionamento que, em realidade, tem o objetivo de incutir dúvida e despertar a reflexão no seu interlocutor.
02. A pergunta da personagem, no último quadro, revela que
- (A) ela mentiu, no primeiro quadro, ao responder afirmativamente à pergunta.
  - (B) a conclusão a que chegou o tripulante, no segundo quadro, não merece resposta.
  - (C) o tripulante da nave está equivocado quanto à conclusão a que chegou.
  - (D) os leitores devem tirar suas próprias conclusões quanto à origem da nave.
  - (E) a civilização segue os preceitos do profeta mencionado no primeiro quadro.
03. A pontuação encontra-se em conformidade com a norma-padrão da língua portuguesa em:
- (A) No primeiro quadro quem está na nave, faz uma pergunta à personagem, buscando confirmar uma hipótese.
  - (B) A personagem responde à pergunta, afirmativamente, sem fazer qualquer ressalva à pergunta.
  - (C) O tripulante da nave no segundo quadro, exclama algo referente à civilização que não é a sua.
  - (D) No último quadro, a personagem pergunta, se ela conta para o tripulante ou o leitor conta?
  - (E) Ao longo da tira, vemos uma personagem que dialoga, com o tripulante de um disco voador.
04. Assinale a alternativa em que o verbo **dever** foi empregado com valor correspondente ao que se verifica no segundo quadro.
- (A) Em outros planetas, **devem** existir outras formas de vida pensante, assim como na Terra.
  - (B) Agências espaciais **devem** explicações à população sobre possíveis aparições alienígenas.
  - (C) Para uma boa convivência em sociedade, as pessoas **deveriam** amar mais umas às outras.
  - (D) Há certas perguntas para as quais aparentemente ficamos **devendo** uma resposta.
  - (E) **Devemos** sempre nos lembrar de que a cordialidade é fundamental nas relações.

Leia o texto para responder às questões de números **05 a 10**.

O time de futebol paraense Paysandu anunciou a criação do projeto Alegria do Povo, o qual, em parceria com o curso de serviço social da Universidade da Amazônia (Unama), selecionou torcedores para um programa de concessão de entradas gratuitas em jogos do clube.

Do outro lado, o também paraense Remo não ficou atrás. Em dezembro de 2018, a agremiação azulina reformulou seu plano de sócio-torcedor e incluiu a categoria Ouro Social, destinada a beneficiários de programas sociais como o Bolsa-Família. Em apenas um mês, as 600 vagas da modalidade foram esgotadas. Nela, os torcedores pagam mensalidade de 30 reais e têm acesso garantido a todos os jogos. “Fizemos questão de não colocar nenhuma **distinção** na carteirinha de sócio”, conta o presidente Fábio Bentes. “Para cumprir nosso papel social é **fundamental** mostrar que todo torcedor tem importância.”

Na contramão dos clubes do eixo Sul-Sudeste, o preço do ingresso praticado pela dupla “Repa”, como é conhecido o clássico paraense, ainda se encaixa no orçamento de boa parcela de seus torcedores. Enquanto o Corinthians, terceira bilheteria mais cara do país, cobra em média 50 reais na Arena, Remo e Paysandu se mantêm estáveis na casa dos 20 reais.

“Quando jogamos contra times de outros estados, nosso trunfo é o apoio maciço do torcedor”, afirma Bentes. “Vamos provar que aproximá-lo do clube, não importa de onde venha, vale a pena.”

(Breiller Pires. *A receita dos times do Pará para se reconectar ao povo e encher os estádios*. <https://brasil.elpais.com>, 05.05.2019. Adaptado)

**05.** Segundo informações do texto,

- (A) dois clubes de futebol paraenses iniciaram uma campanha para tornar os ingressos gratuitos para todas as partidas de futebol no estado.
- (B) os times de futebol do Pará se espelharam na redução de preços verificada em outras partes do país.
- (C) os times Paysandu e Remo, do Pará, estão em declarada competição de preços dos ingressos com times de outros estados.
- (D) a redução de preços dos ingressos praticada por dois clubes paraenses visa a tornar os times mais competitivos com a presença do torcedor nos jogos.
- (E) as iniciativas de redução do valor do ingresso estão relacionadas a políticas de inclusão social, como o programa governamental Bolsa-Família.

**06.** Os vocábulos **distinção** e **fundamental**, em destaque no 2º parágrafo, apresentam, respectivamente, como sinônimo e antônimo no contexto em que se encontram:

- (A) diferença e supérfluo.
- (B) semelhança e imprescindível.
- (C) separação e necessário.
- (D) honraria e básico.
- (E) recomendação e secundário.

**07.** Em destaque, encontra-se vocábulo empregado em sentido figurado em:

- (A) ... selecionou torcedores para um programa de **concessão** de entradas gratuitas em jogos do clube. (1º parágrafo)
- (B) Em apenas um mês, as 600 vagas da modalidade foram **esgotadas**. (2º parágrafo)
- (C) Nela, os torcedores pagam mensalidade de 30 reais e têm **acesso** garantido a todos os jogos. (2º parágrafo)
- (D) ... ainda se encaixa no **orçamento** de boa parcela de seus torcedores. (3º parágrafo)
- (E) “Quando jogamos contra times de outros estados, nosso trunfo é o apoio **maciço** do torcedor”... (4º parágrafo)

**08.** Assinale a alternativa em que se aponta corretamente, nos parênteses, a noção que o vocábulo destacado expressa no contexto em que se encontra.

- (A) ... selecionou torcedores **para** um programa de concessão de entradas gratuitas... (propósito).
- (B) **Em** dezembro de 2018, a agremiação azulina reformulou seu plano de sócio-torcedor... (local).
- (C) ... destinada **a** beneficiários de programas sociais como o Bolsa-Família (modo).
- (D) “Fizemos questão de não colocar nenhuma distinção na carteirinha **de** sócio”... (procedência).
- (E) “Quando jogamos **contra** times de outros estados, nosso trunfo é o apoio maciço...”... (comparação).

**09.** Assinale a alternativa que apresenta concordância nominal e verbal correta.

- (A) Foi colocada à disposição dos torcedores 600 vagas da categoria Ouro Social.
- (B) A redução dos preços tiveram impacto significativo na presença dos torcedores em campo.
- (C) Segundo Bentes, são fundamentais a valorização e a presença do torcedor de seu clube.
- (D) O Paysandu e a Unama anunciaram conjuntamente o projeto, que beneficiaram torcedores.
- (E) Os 50 reais cobrados pelo Corinthians o coloca na terceira posição de bilheteria mais cara.

10. A colocação pronominal está de acordo com a norma-padrão em:
- (A) Não importa de onde o torcedor vem, é preciso que aproximemo-lo do seu clube do coração.
  - (B) O torcedor, ao não aproximar-se do clube, é alijado do seu pleno direito de torcida.
  - (C) Os preços impeditivos assustam os torcedores e geralmente mantêm-nos longe dos estádios.
  - (D) Iniciativas de redução de preço das entradas são bem-vistas, e mais clubes estão copiando-as.
  - (E) A entrada com preço reduzido parece ser uma tendência e quem usa-as mais é o torcedor mais carente.

Leia o texto para responder às questões de números 11 a 15.

Um estudo publicado em junho de 2018 analisa as transformações ocorridas em Hong Kong ao longo de duas décadas, dos anos 1980 aos 2000, com foco em como a mudança de status das mulheres na sociedade e de atitude delas em relação ao casamento impactou o mercado imobiliário da cidade.

Descobriu-se que as mulheres solteiras tiveram um papel “surpreendente e pouco estudado” na gentrificação de Hong Kong.

O termo vem do inglês “gentrification”, cunhado nos anos 1960 pela socióloga Ruth Glass para descrever mudanças no perfil de bairros da Zona Norte de Londres e se refere a um processo no qual investimentos que promovem a renovação de um bairro ou região atraem frequentadores e moradores de classes mais altas e provocam a saída de seus habitantes originais, de uma faixa de renda mais baixa.

Ainda que as mulheres tenham tido papel de agente nesse processo, o estudo ressalta que elas são as principais vítimas da gentrificação, “em decorrência da feminização da pobreza, fenômeno global e onipresente”.

O conceito de feminização da pobreza corresponde ao aumento absoluto ou relativo da pobreza entre mulheres ou entre famílias chefiadas por mulheres.

(Juliana Domingos de Lima. *O papel de mulheres solteiras na gentrificação de Hong Kong*. [www.nexojournal.com.br](http://www.nexojournal.com.br), 08.04.2019. Adaptado)

11. De acordo com o texto,
- (A) as mulheres são responsáveis por mudanças importantes em Hong Kong ao garantirem maior igualdade de gênero entre os habitantes de certos bairros da cidade.
  - (B) um estudo comparou a população feminina em Hong Kong em dois períodos distintos de vinte anos cada: de 1980 a 2000 e de 2001 a 2018.
  - (C) houve em Hong Kong um processo de alteração socioeconômica importante protagonizado por mulheres e que afetou o setor imobiliário.
  - (D) considerou-se que em um dado estudo como o enriquecimento ou o empobrecimento das mulheres foi determinado pelo fato de serem mães solteiras.
  - (E) alguns bairros da Zona Norte de Londres serviram de referência para se determinar a densidade populacional incomum de mulheres em bairros de Hong Kong.

12. A gentrificação, segundo a definição que se encontra no texto, pode ser definida como um processo
- (A) inclusivo.
  - (B) segregante.
  - (C) homogeneizador.
  - (D) democratizante.
  - (E) criminoso.

13. No trecho – **Ainda que** as mulheres tenham tido papel de agente nesse processo, o estudo ressalta que elas são às principais vítimas da gentrificação... (4º parágrafo) – a expressão destacada confere ao trecho ideia de

- (A) oposição.
- (B) adição.
- (C) condição.
- (D) conclusão.
- (E) concessão.

14. Está em conformidade com a norma-padrão de regência verbal e nominal a frase:

- (A) Muitos estudos chegam em conclusões bastante interessantes sobre a sociedade.
- (B) O estudo faz referência de um termo cunhado por uma socióloga britânica.
- (C) Feministas britânicas se correspondiam umas às outras por cartas no final do século XIX.
- (D) Muitos moradores são alheios nas políticas públicas habitacionais da cidade onde moram.
- (E) O Pelourinho consta da lista de localidades que sofreram algum tipo de gentrificação.

15. Quanto à ocorrência do acento indicativo de crase, assinale a alternativa que preenche, correta e respectivamente, as lacunas da frase a seguir, em conformidade com a norma-padrão.

Um novo termo é cunhado devido \_\_\_\_\_ necessidade de se dar um nome \_\_\_\_\_ um conceito que antes não existia e que passará, assim, \_\_\_\_\_ ser usado.

- (A) a ... à ... a
- (B) à ... a ... à
- (C) a ... a ... a
- (D) à ... a ... a
- (E) a ... à ... à

16. Em um escritório, há uma caixa com 120 envelopes.

Desse total,  $\frac{1}{3}$  foi utilizado para enviar memorandos, e  $\frac{2}{5}$

dos envelopes restantes foram utilizados para correspondências diversas, ficando os demais envelopes na caixa.

Em relação ao número total de envelopes que havia na caixa, aqueles que permaneceram nela, representam:

- (A) 60%
- (B) 55%
- (C) 50%
- (D) 45%
- (E) 40%

17. Kátia comprou três lápis, cada um deles por R\$ 2,20, e uma lapiseira. Ao pagar a conta com uma nota de R\$ 20,00, recebeu de troco R\$ 4,40. O valor da lapiseira supera o valor de um lápis em

- (A) R\$ 7,20.
- (B) R\$ 7,00.
- (C) R\$ 6,80.
- (D) R\$ 6,60.
- (E) R\$ 6,40.

18. Para imprimir folhetos, uma gráfica trabalha com 5 máquinas, todas elas imprimindo o mesmo número de folhetos por hora. Sabendo que essas 5 máquinas imprimem um lote de folhetos em 1 hora e 21 minutos, então, 3 dessas máquinas imprimiriam o mesmo lote de folhetos em

- (A) 1 hora e 55 minutos.
- (B) 2 horas e 15 minutos.
- (C) 2 horas e 25 minutos.
- (D) 2 horas e 40 minutos.
- (E) 2 horas e 55 minutos.

19. Uma pessoa comprou determinado número de pastas para guardar documentos. Utilizou  $\frac{3}{5}$  delas para docu-

mentos antigos,  $\frac{1}{3}$  para documentos recentes e ainda restaram 2 pastas. O número de pastas utilizadas para guardar documentos antigos foi

- (A) 10.
- (B) 15.
- (C) 18.
- (D) 24.
- (E) 30.

20. Luís e Rui organizaram, juntos, 135 processos. Sabendo que o número de processos organizados por Luís foi igual a  $\frac{4}{5}$  do número de processos organizados por Rui,

então, o número de processos organizados por Luís foi

- (A) 75.
- (B) 70.
- (C) 65.
- (D) 60.
- (E) 55.

21. A tabela mostra algumas informações sobre o número de unidades de determinado produto compradas nos 5 primeiros meses do ano.

MÊS	Nº DE UNIDADES
Janeiro	8
Fevereiro	9
Março	$x + 4$
Abril	12
Maio	$x$

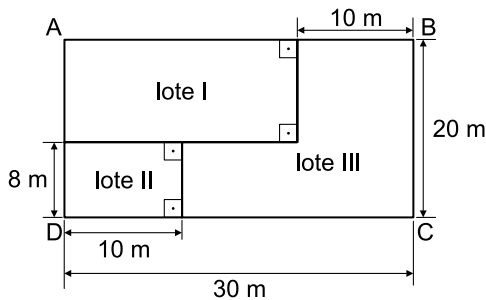
Sabendo que, na média, foram compradas 11 unidades por mês, e que o valor da cada unidade foi R\$ 120,00, então, o valor gasto no mês de março, com a compra dessas unidades, foi

- (A) R\$ 1.800,00.
- (B) R\$ 1.680,00.
- (C) R\$ 1.440,00.
- (D) R\$ 1.200,00.
- (E) R\$ 1.080,00.

22. Um parque aquático cobra R\$ 120,00 pelo ingresso individual, que dá direito a participar de algumas atividades. Para atividades especiais, é cobrada uma taxa fixa de R\$ 15,00 por pessoa. Um grupo de 3 amigos foi a esse parque e gastou, com ingressos e atividades especiais, o total de R\$ 465,00. O número de atividades especiais pagas por esse grupo foi

- (A) 8.
- (B) 7.
- (C) 6.
- (D) 5.
- (E) 4.

23. Um terreno retangular ABCD foi dividido em 3 lotes, conforme mostra a figura.

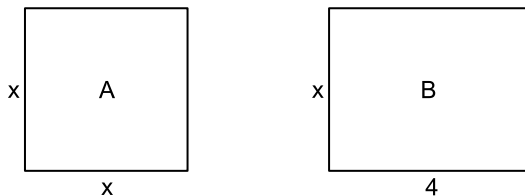


(Figura fora de escala)

A área do lote III é

- (A) 400 m<sup>2</sup>.
- (B) 370 m<sup>2</sup>.
- (C) 350 m<sup>2</sup>.
- (D) 320 m<sup>2</sup>.
- (E) 280 m<sup>2</sup>.

24. Em uma casa, há 2 quartos. O quarto A é quadrado e o quarto B, retangular, conforme mostram as figuras, cujas medidas indicadas estão em metros.

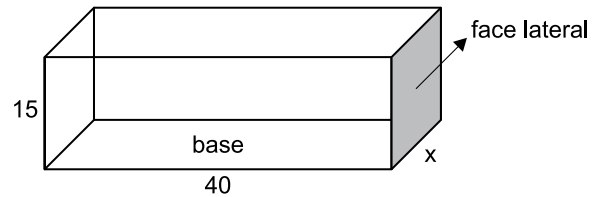


(Figuras fora de escala)

Sabendo que o perímetro do quarto A tem 2 m a menos do que o perímetro do quarto B, então, o perímetro do quarto B é

- (A) 14 m.
- (B) 13 m.
- (C) 12 m.
- (D) 11 m.
- (E) 10 m.

25. A figura mostra as medidas internas, em centímetros, de uma caixa na forma de um prisma reto de base retangular, com 15 cm de altura.



(Figura fora de escala)

Sabendo que o volume dessa caixa é 21 000 cm<sup>3</sup>, então, a área da face lateral, destacada na figura, é

- (A) 450 cm<sup>2</sup>.
- (B) 475 cm<sup>2</sup>.
- (C) 500 cm<sup>2</sup>.
- (D) 525 cm<sup>2</sup>.
- (E) 550 cm<sup>2</sup>.

## R A S C U N H O

26. A imagem a seguir mostra uma parte da Barra de Tarefas do MS-Windows 7, em sua configuração padrão.



O retângulo destacado no canto direito da imagem, referente ao canto inferior direito da Barra de Tarefas, pode ser usado para

- (A) nada, pois não pode ser clicado.
  - (B) ativar o Menu Iniciar.
  - (C) exibir o Menu de Contexto.
  - (D) desligar o computador com um clique.
  - (E) mostrar a Área de Trabalho.
27. Observe os ícones a seguir, retirados do MS-Word 2010, em sua configuração padrão.



Os ícones da imagem são opções de formatação do grupo

- (A) Ilustrações.
- (B) Cabeçalho.
- (C) Estilo.
- (D) Parágrafo.
- (E) Fonte.

28. Um usuário preparou a planilha a seguir por meio do MS-Excel 2010, em sua configuração padrão.

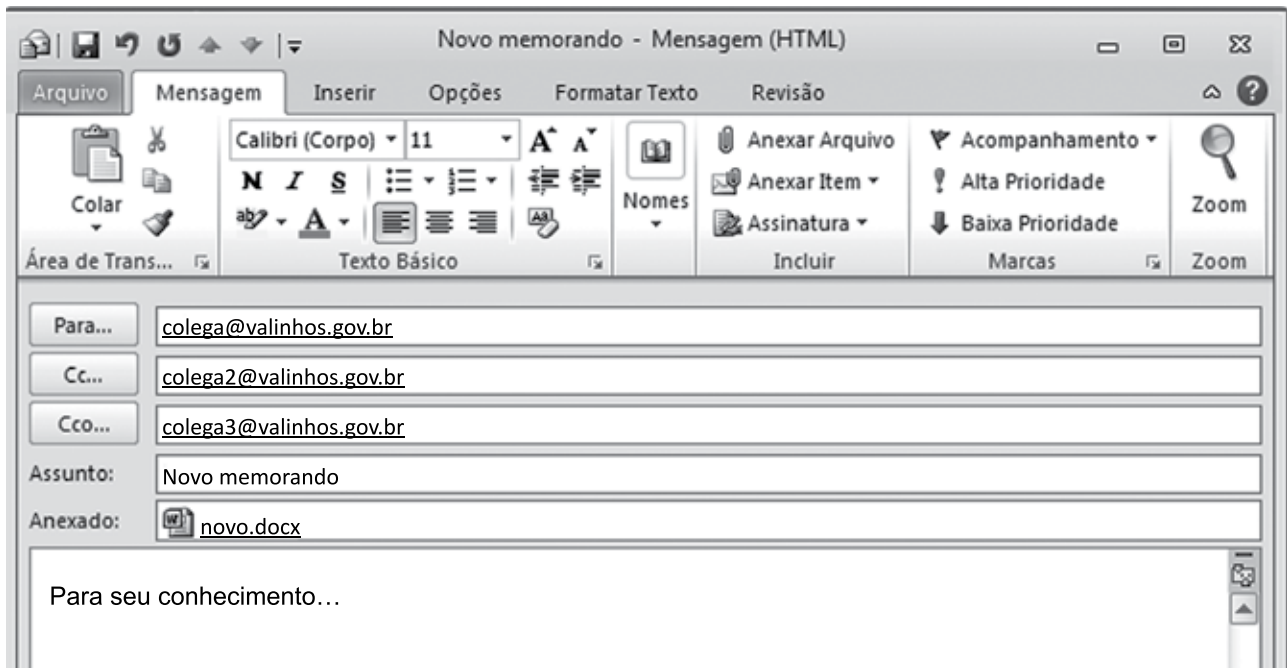
	A	B	C
1	8	2	3
2	4	6	7
3	5	4	6
4			

Assinale a alternativa que apresenta o valor que será exibido na célula C4, após esta ser preenchida com a seguinte fórmula:

=MÉDIA(A1:C3)

- (A) 4
  - (B) 5
  - (C) 6
  - (D) 7
  - (E) 8
29. Todo usuário deve saber fazer buscas na internet e localizar textos desejados. Um dos navegadores mais usados é o Google Chrome. O atalho por teclado usado para localizar textos numa página sendo lida no Google Chrome é:
- (A) Ctrl + A
  - (B) Ctrl + C
  - (C) Ctrl + F
  - (D) Ctrl + H
  - (E) Ctrl + T

30. Um usuário, a partir da conta remetente@valinhos.gov.br, prepara um e-mail para comunicar um novo memorando aos seus colegas de trabalho, conforme a imagem exibida a seguir.



É correto afirmar:

- (A) [colega3@valinhos.gov.br](mailto:colega3@valinhos.gov.br) não sabe que o e-mail foi enviado para [colega@valinhos.gov.br](mailto:colega@valinhos.gov.br)
- (B) [colega@valinhos.gov.br](mailto:colega@valinhos.gov.br) sabe que o e-mail foi enviado para [colega3@valinhos.gov.br](mailto:colega3@valinhos.gov.br)
- (C) [colega3@valinhos.gov.br](mailto:colega3@valinhos.gov.br) sabe que o e-mail foi enviado para [colega2@valinhos.gov.br](mailto:colega2@valinhos.gov.br)
- (D) [colega@valinhos.gov.br](mailto:colega@valinhos.gov.br) não sabe que o e-mail foi enviado para [colega2@valinhos.gov.br](mailto:colega2@valinhos.gov.br)
- (E) [colega2@valinhos.gov.br](mailto:colega2@valinhos.gov.br) sabe que o e-mail foi enviado para [colega3@valinhos.gov.br](mailto:colega3@valinhos.gov.br)

## CONHECIMENTOS ESPECÍFICOS

31. O médico prescreveu 20 UI de insulina NPH a uma paciente que se encontra na sala de observação. Na unidade de saúde, há disponível a insulina prescrita em frasco de 100 UI/mL, mas com seringas de 3 mL. Quanto de insulina deverá ser aspirado?
- (A) 0,1 mL.
  - (B) 0,2 mL.
  - (C) 0,3 mL.
  - (D) 0,4 mL.
  - (E) 0,5 mL.
32. N.S., sexo feminino, 42 anos de idade, egressa de internação hospitalar de 14 dias, recebe cuidados de enfermagem domiciliares pelo técnico de enfermagem da Atenção Básica. Ela está com uma ferida limpa, resultante da retirada de um cateter venoso central de inserção periférica de longa permanência (PICC) na veia cefálica, coberto por um curativo de filme de poliuretano (curativo transparente). Esse curativo deverá ser trocado
- (A) diariamente, após o banho.
  - (B) quando a ferida cicatrizar completamente.
  - (C) em até sete dias, se permanecer limpo.
  - (D) a cada dois dias, após limpeza com soro fisiológico.
  - (E) a cada 21 dias, se não houver sinais de infecção.
33. Durante o ciclo de esterilização em autoclave convencional, o técnico de enfermagem deverá estar atento às condições do equipamento que, para um ciclo efetivo de 30 minutos, deverão ser de pressão de 1 atm acima da pressão atmosférica e de temperatura de ebulição da água igual a
- (A) 121 °C.
  - (B) 128 °C.
  - (C) 130 °C.
  - (D) 131 °C.
  - (E) 132 °C.
34. A respeito do recipiente coletor de material perfurocortante na sala de vacina, é correto afirmar:
- (A) quando atingir o limite de 2/3 de sua capacidade total, deve ter o saco plástico interno substituído por outro vazio, manualmente.
  - (B) na ausência de suporte próprio na parede, deve ficar deixado no piso lavável da sala de procedimentos.
  - (C) quando o nível de preenchimento atingir 3/4 (três quartos) da capacidade, deve ser vedado com tampa resistente à punctura, ruptura ou vazamentos e encaminhado ao destino final.
  - (D) todos os recipientes coletores devem ser identificados com o símbolo padronizado e subscrito com o alerta "INFLAMÁVEL" antes da sua destinação final.
  - (E) deve receber para descarte apenas as agulhas desconectadas das seringas, após o reencape manual ou por outra tecnologia apropriada.
35. A.L., cinco meses de idade, recebeu uma dose de vacina BCG-ID e a primeira dose da vacina contra hepatite B na maternidade. Aos dois meses de idade recebeu as doses de VIP, pentavalente (DTP+Hib+HB), rotavírus, pneumocócica 10 valente e, aos três meses recebeu a primeira dose de vacina meningocócica C. Em seguida, a família mudou-se de cidade, causando atraso no esquema vacinal da criança. Hoje, aos cinco meses e uma semana, é trazida à UBS e a conduta correta em relação à vacinação é
- (A) reiniciar o esquema de vacinação com Vip, pentavalente e pneumocócica. Suspender a vacinação contra rotavírus.
  - (B) reiniciar o esquema de vacinação com Vip, pentavalente e pneumocócica e rotavírus.
  - (C) aplicar a segunda dose contra rotavírus e meningite C. Agendar as doses de VIP, pentavalente, pneumocócica para quando completar seis meses de idade.
  - (D) aplicar as doses previstas para os quatro meses e acrescentar a dose de meningite C prevista para os cinco meses.
  - (E) aplicar apenas a vacina contra meningite C. Agendar as demais para o mês seguinte.
36. Z.K., sexo feminino, 70 anos de idade, se recusa a tomar a vacina anual contra influenza. Na argumentação a favor da vacinação, o técnico de enfermagem deve enfatizar que a vacina
- (A) é produzida com vírus atenuados, o que garante reações frequentes, porém, de baixa intensidade.
  - (B) pode causar gripe leve, mas previne as pneumonias que são a causa de morte mais prevalente entre idosos.
  - (C) oferece 100% de proteção contra gripes, resfriados e é um potente protetor contra as crises de asma.
  - (D) é segura e as reações pós-vacinação são restritas a pessoas que apresentam comorbidades como asma ou outras doenças respiratórias prévias.
  - (E) não contém vírus vivos, portanto, não causa gripe. Poucas pessoas apresentam manifestação pós-vacinal que são benignas e autolimitadas.

37. O combate à proliferação do mosquito *Aedes aegypti* é de responsabilidade conjunta da comunidade e dos profissionais de saúde, devendo ser realizado com base no conhecimento científico existente a respeito desse vetor. A esse respeito, está correto afirmar que
- (A) o *Aedes aegypti* é responsável pela transmissão da Dengue, Zika e Chikungunya, entre outras.
  - (B) a transmissão dos vírus ao ser humano ocorre pela picada do inseto e pelo contato com seus ovos.
  - (C) a infecção do mosquito ocorre tanto na sua fase larvar como na fase alada.
  - (D) o uso de repelentes pode ser utilizado sobre as roupas, mas nunca diretamente sobre a pele.
  - (E) a pulverização de inseticidas em ambientes fechados aumenta a agressividade dos insetos.
38. Uma criança é atendida na unidade de pronto atendimento e dispensada para administração do Soro de Reidratação Oral – SRO no domicílio. A farmácia da unidade está em falta com envelopes de SRO e a mãe precisa ser orientada a prepará-lo e administrá-lo da seguinte forma:
- (A) 1 litro de água filtrada e fria, uma colher de cafezinho de sal e duas de açúcar. Oferecer na mamadeira.
  - (B) 1 litro de água filtrada e fria, 1 colher de cafezinho de sal e uma de açúcar. Oferecer um copo a cada hora.
  - (C) 1 litro de água filtrada e fria ou suco de frutas, uma colher se sobremesa de sal e uma de açúcar. Oferecer de forma contínua.
  - (D) 1 litro de água filtrada e morna, 1 colher de cafezinho de sal e uma de sopa de açúcar. Oferecer na mamadeira a cada 30 minutos.
  - (E) 1 litro de água filtrada e fria, 1 colher de cafezinho de sal e uma de sopa de açúcar. Oferecer continuamente às colheradas.
39. A.M., 26 anos de idade, primigesta, deverá receber, durante o pré-natal, um suplemento alimentar específico para prevenir a instalação de baixos níveis de hemoglobina no parto e no puerpério. Essa suplementação padronizada é de
- (A) Sulfato ferroso.
  - (B) Complexo B.
  - (C) Piridoxina.
  - (D) Vitamina A.
  - (E) Zinco.
40. C.D., sexo feminino, 16 anos de idade, procura a UBS para saber o que é dupla proteção para relações sexuais. A resposta correta a essa dúvida é o uso de
- (A) anticoncepção de emergência sempre que esquecer do contraceptivo oral rotineiro.
  - (B) preservativo masculino e feminino, concomitantemente.
  - (C) dois métodos anticoncepcionais de barreira de modo intercalado.
  - (D) preservativo masculino ou feminino associado a outro método anticoncepcional.
  - (E) um método de anticoncepção associado à vacinação contra HPV.
41. No processo de envelhecimento, a osteomalacia e osteoporose estão relacionadas ao metabolismo ósseo, no qual a vitamina D tem papel essencial. Uma das fontes dessa vitamina é a síntese cutânea, que é desencadeada
- (A) pelo aumento do consumo de frutas cítricas, pelo menos três vezes ao dia.
  - (B) pela exposição diária ao sol por, no mínimo, 15 minutos em horários adequados.
  - (C) pela redução do consumo de gorduras saturadas e insaturadas.
  - (D) pelo consumo regular de leite e derivados, que favorece a absorção dessa vitamina.
  - (E) pela prática de exercícios físicos de resistência que aceleram a síntese dessa vitamina.
42. Paciente recém-chegado de uma região endêmica para esquistossomose apresenta a doença em estágio avançado. Ele tem histórico de varizes esofágicas com eventual sangramento, cuja evidência pode ser observada na cor das fezes que, nessa situação, se apresentam
- (A) esverdeadas.
  - (B) amareladas.
  - (C) acobreadas.
  - (D) vermelho-vivo.
  - (E) escurecidas ou pretas.

43. Paciente, portador de tuberculose bacilífera, em tratamento há 30 dias, retorna à unidade relatando não ter percebido qualquer alteração no padrão de tosse desde o início o tratamento. Ao ser encaminhado para a coleta de amostra de escarro para controle de tratamento, recebe as orientações necessárias do técnico de enfermagem.
- A esse respeito, está correto afirmar que
- (A) a coleta deve ser feita no banheiro dos usuários do serviço, com portas e janelas fechadas.
  - (B) o escarro deve ser colhido após um esforço para tossir, com ênfase da força na faringe, onde se concentra a maior parte da secreção.
  - (C) o frasco para coleta do escarro é inespecífico, podendo ser utilizado o mesmo tipo utilizado para coleta de urina, desde que a tampa seja de pressão.
  - (D) a amostra deve ser coletada em local aberto, de preferência ao ar livre ou em condições adequadas de biossegurança.
  - (E) na impossibilidade de envio imediato da amostra para o laboratório, esta poderá ser conservada em geladeira comum até no máximo dois dias.
44. L.M., sexo feminino, 65 anos de idade, compareceu, acompanhada pela família, ao acolhimento da Unidade Básica de Saúde onde faz o acompanhamento da diabetes há cinco anos. Queixou-se que, ao amanhecer, apresentou sudorese. A família informou que no dia anterior, L.M. estava indisposta, com recusa do jantar, porém havia recebido a dose regular da insulina NPH, conforme prescrição médica. Considerando se tratar de um episódio de hipoglicemia, além dos cuidados com a paciente, a família deverá ser orientada sobre o reconhecimento dos sinais dessa intercorrência que também incluem
- (A) diarreia profusa e vômitos.
  - (B) aumento da sede e anúria.
  - (C) sensação de apreensão e palpitação.
  - (D) mucosas secas e taquipneia.
  - (E) anorexia e verborragia.
45. R.N., sexo masculino, 76 anos de idade, viúvo há seis meses, e desde então mudou-se para a casa da filha mais nova que também morava sozinha. Na visita à Unidade de Saúde, para controle de rotina da pressão arterial, a filha comenta com o técnico de enfermagem que o pai vem diminuindo progressivamente o apetite, mostrando-se desinteressado por todas as coisas que antes o distraiam e ocupavam seu tempo. Além disso, refere que o mesmo apresenta insônia. Frente a essa situação, o técnico de enfermagem deve encaminhar R.N. para avaliação médica, pois os sinais e sintomas mencionados são sugestivos de
- (A) acidente vascular encefálico.
  - (B) depressão.
  - (C) demência senil.
  - (D) desnutrição.
  - (E) transtorno de ansiedade.
46. R.V., 78 anos de idade, sexo feminino, encontra-se acamada há poucas semanas e recebe a visita domiciliar do técnico de enfermagem para orientação da família sobre cuidados com a pele e prevenção de úlceras por pressão. Frente a essa situação, é correto afirmar que
- (A) durante a hidratação da pele, as áreas de proeminências ósseas ou áreas hiperemiadas devem ser massageadas.
  - (B) a massagem deve ser realizada durante o banho, nas áreas com a possibilidade de haver vasos sanguíneos danificados ou pele frágil.
  - (C) a pele deve ser protegida da exposição à umidade excessiva através do uso de produtos de barreira, de forma a reduzir o risco de lesão por pressão.
  - (D) a pele deve ser limpa sempre que estiver suja, sendo recomendado o uso de água fria ou gelada para reduzir a irritação e o ressecamento da pele.
  - (E) os colchões de redistribuição de pressão devem ser recomendados para minimizar o contato da pele com a umidade de transpiração e incontinência.
47. A assistência de enfermagem na sala de recuperação pós anestésica – RPA deve estar voltada à segurança, recuperação do paciente e prevenção de complicações. Nessa situação, está correto afirmar que:
- (A) normalmente, o cliente apresenta-se hipotérmico, em vista da ação depressora do sistema nervoso – provocada pelo anestésico. Providenciar bolsas de água quente sob os pés para aquecê-lo.
  - (B) visando evitar a queda dos clientes sonolentos, confusos e/ou agitados devido à ação dos anestésicos, faixas de contenção devem ser aplicadas nos membros inferiores, superiores e abdome.
  - (C) os pacientes que receberam anestesia geral devem ser posicionados em decúbito dorsal, com cabeceira elevada de 60 a 90° para prevenir refluxo esofágico e aspiração de vômitos.
  - (D) na RPA, na primeira hora, o controle dos sinais vitais é realizado de 15 em 15 minutos; se estiver regular, de 30 em 30 minutos.
  - (E) visando evitar a queda dos clientes sonolentos, confusos e/ou agitados devido à ação dos anestésicos, as camas devem ser colocadas junto às paredes da sala, mantendo apenas um lado livre para acesso dos profissionais de saúde.
48. Na semana que se encerrou, um determinado município apresentou condições de umidade relativa do ar muito baixas, temperatura em declínio, associadas à concentração de poluentes devido ao elevado uso de veículos automotores no mesmo período. Essas são condições que favorecem o aumento imediato de
- (A) hepatites virais.
  - (B) doenças respiratórias.
  - (C) doenças gastrintestinais.
  - (D) diarreias.
  - (E) dengue.

**49.** Durante a campanha de vacinação em uma comunidade, um veículo de comunicação local resolveu fotografar e divulgar a atuação da equipe de enfermagem. De acordo com o código de ética dos profissionais de enfermagem,

- (A) é direito do profissional recusar sua filmagem, fotografia e exposição nas mídias sociais durante o desempenho de suas atividades profissionais.
- (B) é proibida a filmagem, fotografia e exposição nas mídias sociais dos profissionais durante o desempenho de suas atividades profissionais.
- (C) é dever do profissional utilizar-se de veículos de comunicação, mídias sociais para divulgar o desempenho de suas atividades profissionais.
- (D) é proibido incentivar e apoiar a participação dos profissionais de Enfermagem na divulgação de seu desempenho profissional nas mídias sociais.
- (E) é dever do profissional posicionar-se contra e denunciar aos órgãos competentes situações em que haja exposição das suas atividades profissionais nas mídias sociais.

**50.** O princípio da integralidade da assistência à saúde está presente na seguinte situação:

- (A) as famílias com maior grau de vulnerabilidade social receberam mais visitas domiciliares no mês do que as demais.
- (B) todas as pessoas que procuraram a Unidade Básica de Saúde da Família no dia D de vacinação foram atendidas sem qualquer discriminação.
- (C) menos de 5% das pessoas que procuraram o acolhimento da Unidade Básica de Saúde no mês necessitaram de encaminhamento a outros serviços de saúde.
- (D) durante a campanha de vacinação, os idosos foram submetidos a exames odontológicos para investigação de lesões sugestivas de câncer de boca.
- (E) a Unidade Básica de Saúde orienta a comunidade, realiza busca ativa de sintomáticos respiratórios, diagnostica casos novos de tuberculose e os trata até a cura.



