



CONCURSO PÚBLICO

004. PROVA OBJETIVA

AGENTE CIVIL DE TRÂNSITO

- ◆ Você recebeu sua folha de respostas e este caderno contendo 50 questões objetivas.
- ◆ Confira seus dados impressos na capa deste caderno e na folha de respostas.
- ◆ Quando for permitido abrir o caderno, verifique se está completo ou se apresenta imperfeições. Caso haja algum problema, informe ao fiscal da sala.
- ◆ Leia cuidadosamente todas as questões e escolha a resposta que você considera correta.
- ◆ Marque, na folha de respostas, com caneta de tinta preta, a letra correspondente à alternativa que você escolheu.
- ◆ A duração da prova é de 3 horas, já incluído o tempo para o preenchimento da folha de respostas.
- ◆ Só será permitida a saída definitiva da sala e do prédio após transcorridos 75% do tempo de duração da prova.
- ◆ Deverão permanecer em cada uma das salas de prova os 3 últimos candidatos, até que o último deles entregue sua prova, assinando termo respectivo.
- ◆ Ao sair, você entregará ao fiscal a folha de respostas e este caderno, podendo levar apenas o rascunho de gabarito, localizado em sua carteira, para futura conferência.
- ◆ Até que você saia do prédio, todas as proibições e orientações continuam válidas.

AGUARDE A ORDEM DO FISCAL PARA ABRIR ESTE CADERNO DE QUESTÕES.

Nome do candidato _____

RG _____

Inscrição _____

Prédio _____

Sala _____

Carteira _____

CONHECIMENTOS GERAIS

LÍNGUA PORTUGUESA

Leia o texto para responder às questões de números **01** a **08**.

Está bem difícil a vida de quem mora no Rio de Janeiro e precisa andar na rua. Termômetros digitais mostram uma temperatura que o corpo da gente não registra: a sensação térmica é muito mais alta. Dia desses, vinha caminhando, tentando respirar e, ao mesmo tempo, poupar um pouco as energias para chegar ao meu destino, quando encontrei uma moça, numa sombra de árvore, tentando estimular seu buldogue francês, esparramado no chão, a se levantar e andar. Olhei o relógio, o qual marcava pouco mais de 11h. Ao lado do bichinho, já com meio palmo de língua para fora, havia uma cumbuca cheia de água, que a moça tentava oferecer ao animal e que, naquele momento, estava sendo **inútil**.

Parei um pouco, sugeri que ela jogasse a água sobre a cabeça do cão, pegasse-o no colo e corresse com ele para casa. O risco de intermação é grande, sobretudo para raças de focinho achatado.

Quando nos despedimos, chamei sua atenção para o perigo que o cão correria e fiz ela me prometer que nunca mais sairia com ele àquela hora no verão. “Eu sei, ele fica plantado em casa, sem sair, por causa deste calor. Não consigo acordar cedo para sair com ele”, confessou-me ela.

(Amelia Gonzalez. “Nossos pets e o aquecimento global”.
<https://g1.globo.com>, 25.01.2019. Adaptado)

01. Segundo depreende-se do texto, pode-se afirmar que

- (A) seres humanos e outros animais estão sujeitos aos mesmos riscos quando expostos às altas temperaturas do verão.
- (B) não é recomendável que, ao passearem com seus animais, os donos levem água, pois os bichinhos não vão bebê-la.
- (C) o calor pode representar um risco maior para determinadas raças de cachorro, com características físicas típicas, do que para outras raças.
- (D) cães possuem maior sensibilidade ao calor, já que a sensação térmica para eles é sempre maior do que para seres humanos.
- (E) a dona do animal parou sob uma árvore para descansar, assim como a autora do texto, que tentava poupar suas energias para chegar ao seu destino.

02. A fala da dona do animal no último parágrafo demonstra que ela

- (A) entendia ser melhor não sair de casa com o animal no calor, mas saiu mesmo assim porque não queria deixar o cachorro sozinho em casa.
- (B) saía de casa com seu animal, de uma forma ou outra, ainda que isso se desse em horários não adequados para o cachorro.
- (C) tinha consciência dos riscos a que estava exposta, mas preferia aquele horário por entender que era o melhor para o cachorro.
- (D) preferia não levar o animal para passear em dias quentes, já que, para ela, era mais importante preservar a saúde do cachorro.
- (E) não conseguia acordar mais cedo e, por essa razão, estava sempre atrasada para seus compromissos, o que fazia com que ela dedicasse pouco tempo ao cachorro.

03. O vocábulo **inútil**, em destaque no texto, possui como antônimo apropriado para o contexto em que se encontra:

- (A) superficial.
- (B) substituível.
- (C) dispensável.
- (D) proveitoso.
- (E) infeliz.

04. Uma palavra empregada em sentido figurado está destacada em:

- (A) Termômetros **digitais** mostram uma temperatura que o corpo da gente não registra... (1º parágrafo)
- (B) ... vinha **caminhando**, tentando respirar e, ao mesmo tempo, poupar um pouco as energias para chegar ao meu destino... (1º parágrafo)
- (C) Olhei o **relógio**, que marcava pouco mais de 11h. (1º parágrafo)
- (D) Parei um pouco, sugeri que ela jogasse a água sobre a **cabeça** do cão, pegasse-o no colo e corresse com ele para casa. (2º parágrafo)
- (E) “Eu sei, ele fica **plantado** em casa, sem sair, por causa deste calor. Não consigo acordar cedo...”. (3º parágrafo)

05. Assinale a alternativa em que as regras de pontuação foram respeitadas.

- (A) Em dias quentes, a sensação térmica é maior, os riscos crescem e os cuidados redobram.
- (B) A jovem me confessou que, o cão, não tem saído de casa por causa das altas temperaturas.
- (C) O buldogue francês apresenta, além de porte pequeno focinho achatado.
- (D) Os moradores da cidade do Rio de Janeiro, enfrentam dificuldades quando precisam sair de casa.
- (E) Segundo o entendimento de uma desconhecida, o animal não podia estar exposto, ao calor.

06. Assinale a alternativa em que o termo entre parênteses substitui corretamente a expressão.

- (A) mostram uma temperatura (mostram-a).
- (B) poupar um pouco as energias (poupar-las).
- (C) encontrei uma moça (encontrei-a).
- (D) estimular seu buldogue francês (estimular-lo).
- (E) jogasse a água (jogasse-la).

07. A partir de informações presentes no segundo e terceiro parágrafos do texto, o sentido original está preservado e os verbos estão corretamente empregados em:

- (A) Escutei explicações da dona do cão e antes disso eu lhe expus os perigos aos quais o cão tinha sido exposto.
- (B) A moça tomou algumas medidas que eu sugeri, e então eu esperei ela me garantir que jamais saísse com o cão naquele horário.
- (C) Fiz recomendações, as quais a moça seguiu à risca e, antes de nos despedirmos, mostrei-lhe os riscos a que o cão teria se exposto.
- (D) Se o cão não tivesse recebido água sobre a cabeça, teria corrido riscos devido à exposição a que se submetera.
- (E) O cão correu riscos a que sua dona o teria exposto se não tivesse jogado água sobre a sua cabeça e o pegado no colo.

08. Assinale a alternativa em que o vocábulo **muito** foi empregado corretamente.

- (A) Os proprietários de animais não precisam ser muitos experientes, mas precisam ter bom senso.
- (B) A intermação pode deixar um animal muito mal e até mesmo matá-lo devido à exposição excessiva ao calor.
- (C) Os donos de cães precisam ficar muitos alertas quanto ao melhor horário para sair com seus animais.
- (D) Muito são os que maltratam os próprios animais de estimação sem nem mesmo perceber esse fato.
- (E) São muitas poucas as pessoas, hoje em dia, que não possuem um animal de estimação.

Leia o texto para responder às questões de números 09 a 14.

Informação é um elemento essencial para nossa sobrevivência e tomada de decisões. É por isso que ninguém se joga, para ganhar tempo, de um edifício de dez andares em vez de descer as escadas; o mesmo acontece com tomadas de decisão. Se uma pessoa deseja viajar de avião para Nova York, ela se informa da hora da partida antes de ir ao aeroporto. Caso contrário, corre o risco de perder o voo.

O bom senso comum, que nessas áreas é aceito por todos, não existe, contudo, no tocante a outro problema de grande importância, que é o aquecimento do nosso planeta, que está em curso. A temperatura média já subiu mais de um grau Celsius desde 1800 e provavelmente vai subir mais dois graus até o fim do século 21.

A probabilidade de que a principal causa desse aquecimento seja a emissão dos gases resultantes da queima dos combustíveis fósseis, do desmatamento e de atividades agrícolas é muito grande, e essa avaliação decorre de inúmeros estudos científicos. As consequências do aquecimento da Terra são muito sérias e já se manifestam, por exemplo, nos desastres climáticos que estão se tornando cada vez mais frequentes.

Para enfrentar o problema, a cooperação internacional é essencial, porque as emissões que causam o aquecimento não respeitam fronteiras. A temperatura na China (o maior país emissor mundial) está subindo por causa de suas próprias emissões, mas também das emissões dos Estados Unidos (o segundo emissor mundial) e vice-versa, bem como das emissões de todos os outros países. O Brasil é responsável por cerca de 3% das emissões mundiais.

Existem outras causas para o aquecimento (e até o resfriamento) da Terra – além das emissões de carbono –, como já aconteceu no passado, como a variação da atividade solar, a inclinação do eixo da Terra, erupções vulcânicas, etc. Mas elas foram todas analisadas pelos cientistas: a ação do homem soma-se a esses eventos naturais e está ocorrendo numa velocidade sem precedentes na história geológica da Terra. Questionar a realidade do problema é uma posição obscurantista, como foi a da Igreja Católica no fim da Idade Média ao negar que a Terra gira em torno do Sol.

(José Goldemberg. "Aquecimento global e desinformação". <https://opinio.estadao.com.br>, 21.01.2019. Adaptado)

09. De acordo com o artigo de opinião, o aquecimento global deve-se a

- (A) falta de bom senso comum, que tem levado pessoas a usarem meios altamente poluidores como os aviões.
- (B) uma competição econômica cada vez mais acirrada entre China e Estados Unidos, que tem levado esses países a poluírem mais.
- (C) desastres climáticos que têm alterado a constituição geológica de certas regiões, levando a um aumento da temperatura.
- (D) fatores promovidos por ação humana, como o desmatamento, mas também a outros causadores geológicos.
- (E) negação de muitas pessoas sobre a própria existência do aquecimento global, analogamente ao que fez a Igreja na Idade Média ao refutar o heliocentrismo.

10. Segundo o que se afirma no texto, entre 1800 e o fim do século 21, espera-se que

- (A) um resfriamento da Terra se verifique, causado pela emissão de carbono na atmosfera.
- (B) o planeta passe por um aumento populacional que causará escassez de recursos.
- (C) um aumento de mais de 3 graus aconteça na temperatura média do planeta.
- (D) o clima mude de maneira desenfreada e imprevisível.
- (E) cooperações internacionais se fortaleçam de modo a salvar o planeta.

11. Em uma hipotética carta de um leitor do *Estadão* ao jornal, assinale a alternativa que apresenta um trecho dessa carta com emprego correto de pontuação.

- (A) O senhor José Goldemberg afirma que desde 1800 a temperatura já subiu mais de 1 grau. Gostaria de saber de onde ele tirou essa informação?
- (B) Senhor editor por favor, envie meus cumprimentos ao professor José Goldemberg pelo artigo esclarecedor.
- (C) O artigo "Aquecimento global e desinformação", de José Goldemberg, expõe um problema importante para nossos dias.
- (D) Parabênizo o jornal por apresentar matéria relevante e convidar alguém com notório conhecimento sobre o assunto o professor "José Goldemberg".
- (E) A matéria afirma que os Estados Unidos (segundo emissor mundial de gás carbônico) segundo levantamento, ficam atrás apenas da China. O que é compreensível.

12. A expressão destacada em "... essa avaliação **decorre de** inúmeros estudos científicos..." pode ser corretamente substituída, preservando-se o sentido do trecho, por

- (A) incorre em.
- (B) tem origem em.
- (C) leva a.
- (D) remete a.
- (E) distingue-se de.

13. Considere o trecho.

"Para enfrentar o problema, a cooperação internacional é essencial, porque as emissões que causam o aquecimento não respeitam fronteiras." (4º parágrafo)

Assinale a alternativa que expressa ideia de valor equivalente ao trecho em questão.

- (A) Tendo em vista que as emissões causadoras do aquecimento não observam fronteiras, a cooperação internacional é fundamental para lidar com o problema.
- (B) Não obstante as emissões responsáveis pelo aquecimento desconheçam fronteiras, a cooperação internacional é crucial para encarar o problema.
- (C) Conquanto as emissões que levam ao aquecimento não tenham fronteiras, a cooperação internacional é indispensável para resolver o problema.
- (D) Apesar das emissões que geram o aquecimento não tenham fronteiras, a cooperação internacional é determinante para enfrentar o problema.
- (E) Porquanto as emissões, que não conhecem fronteiras, sejam culpadas pelo aquecimento, a cooperação internacional é de suma importância para tratar o problema.

14. Assinale a alternativa que apresenta concordância verbal correta.

- (A) Os índices de emissão de poluentes no ar está acima de 3% para países como os Estados Unidos e a China.
- (B) Desde que o mundo existe, sabem-se que alguns fatores contribuem para o aquecimento do planeta.
- (C) A queima de combustíveis fósseis é mais um fator que contribuem para o aquecimento global.
- (D) É impensável determinadas atitudes que alguns poderiam tomar em nome do lucro, mas em detrimento da própria sobrevivência.
- (E) Os desmatamentos, amplamente condenados por especialistas e até mesmo leigos, ainda hoje são praticados no país.



(Fernando Gonsales. www.observatoriodoclima.eco.br, 22.06.2015)

Quanto ao emprego do acento indicativo de crase, assinale a alternativa que preenche, correta e respectivamente, as lacunas da frase a seguir.

_____ queda de um meteoro teria levado os dinossauros _____ extinção, mas _____ outras espécies que viveram no planeta depois dos dinossauros poderão ser extintas devido _____ poluição gerada pela queima do petróleo.

- (A) À ... à ... as ... à
- (B) A ... à ... as ... à
- (C) A ... a ... às ... à
- (D) À ... a ... as ... a
- (E) À ... a ... às ... a

16. Maria comprou um pacote com 60 balas e distribuiu 3 balas para cada um de seus colegas do escritório. Das balas restantes, Maria retirou $\frac{1}{5}$ para comer mais tarde, e as 36 balas que ficaram no pacote, ela levará para seus filhos. O número de colegas do escritório é
- (A) 4.
 - (B) 5.
 - (C) 6.
 - (D) 7.
 - (E) 8.
17. Para transportar determinado número de caixas, um carro precisa fazer 6 viagens, levando em cada viagem, sempre o mesmo número de caixas. Para transportar todas as caixas, em apenas 5 viagens, esse carro teria que levar 5 caixas a mais em cada uma das viagens. O número total de caixas que serão transportadas é
- (A) 150.
 - (B) 155.
 - (C) 160.
 - (D) 165.
 - (E) 170.
18. Beto e Joel trabalham no mesmo setor de uma empresa, e em determinado dia, organizaram, juntos, um total de 144 pastas. Sabendo que o número de pastas organizadas por Beto foi $\frac{4}{5}$ do número de pastas organizadas por Joel, então, o número de pastas que Joel organizou a mais do que Beto foi
- (A) 12.
 - (B) 14.
 - (C) 16.
 - (D) 18.
 - (E) 20.

19. Um motorista vai da cidade A para a cidade D passando pelas cidades B e C, cujas distâncias, em quilômetros, estão indicadas na figura.

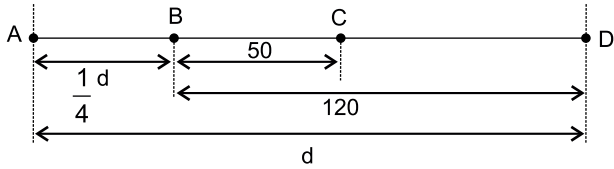


figura fora de escala

Sabendo que a distância entre as cidades A e B é $\frac{1}{4}$ da

distância entre as cidades A e D, então, a distância, em quilômetros, entre as cidades A e C, é

- (A) 70.
 (B) 75.
 (C) 80.
 (D) 85.
 (E) 90.
20. Em uma cidade, os ingressos de cinema custam R\$ 18,00, e os pacotes de pipoca, que são todos de mesmo tamanho, custam R\$ 4,00 cada um. Se 5 amigos foram a esse cinema e gastaram juntos, com ingressos e pacotes de pipoca, um total de R\$ 118,00, então, o número de pacotes de pipoca que eles compraram foi
- (A) 4.
 (B) 5.
 (C) 6.
 (D) 7.
 (E) 8.
21. Uma empresa abasteceu alguns de seus veículos em um mesmo posto de combustíveis, registrando, para efeito de controle interno, o tipo de combustível utilizado, o número de litros comprados, e o valor do litro, conforme mostra a tabela.

Combustível	Nº de litros	Valor do litro
Gasolina	40	R\$ 5,00
Etanol	60	R\$ 3,00
Diesel	50	?

Considerando-se o número total de litros comprados, o valor médio do litro de combustível saiu por R\$ 3,70. O valor do litro do diesel era

- (A) R\$ 3,45.
 (B) R\$ 3,50.
 (C) R\$ 3,55.
 (D) R\$ 3,60.
 (E) R\$ 3,65.

22. Um departamento de uma empresa utiliza uma lousa retangular para colocar avisos para os funcionários. Essa lousa tem 85 cm de largura e $1,02 \text{ m}^2$ de área. O comprimento dessa lousa, em metros, é de
- (A) 1,00.
(B) 1,05.
(C) 1,10.
(D) 1,15.
(E) 1,20.

23. Em uma escola de idiomas, a sala de reuniões tem a forma de um quadrado com 4 m de lado, e a sala de informática tem a forma de um retângulo, com 5 m de largura, conforme mostra a figura.

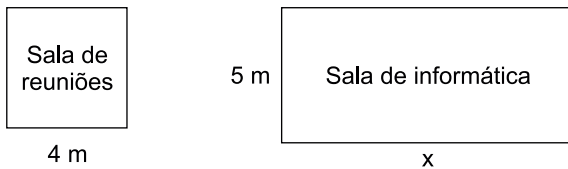


figura fora de escala

Sabendo que o perímetro da sala de informática tem 10 m a mais do que o perímetro da sala de reuniões, então, a medida do comprimento da sala de informática, indicado na figura pela letra x , é de

- (A) 8,0 m.
(B) 7,5 m.
(C) 7,0 m.
(D) 6,5 m.
(E) 6,0 m.

24. Uma caixa de papelão, reta e de base retangular, tem suas medidas internas, em centímetros, indicadas na figura.

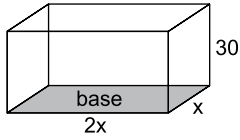
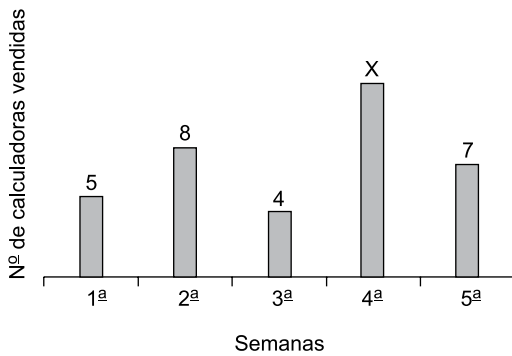


figura fora de escala

Sabendo que o perímetro da base é 120 cm, o volume dessa caixa é de

- (A) 40 000 cm³.
 (B) 34 000 cm³.
 (C) 28 000 cm³.
 (D) 24 000 cm³.
 (E) 20 000 cm³.
25. Uma papelaria colocou à venda determinado tipo de calculadora, a R\$ 50,00 a unidade. O gráfico mostra o número dessas calculadoras vendidas nas 5 primeiras semanas do ano.



Sabendo que o valor arrecadado com a venda dessas calculadoras, nessas 5 semanas, foi R\$ 1.800,00, então, o valor arrecadado com a venda dessas calculadoras na 4ª semana do ano, foi

- (A) R\$ 700,00.
 (B) R\$ 650,00.
 (C) R\$ 600,00.
 (D) R\$ 550,00.
 (E) R\$ 500,00.

26. Considere a seguinte área de trabalho do Windows 7, em sua configuração padrão.



Um usuário clica no ícone do Internet Explorer. Em seguida, clica no ícone do Google Chrome com a tecla SHIFT pressionada. Então, pressiona a tecla DELETE e confirma a ação.

Assinale a alternativa que apresenta a descrição correta do resultado dessas ações.

- (A) O aplicativo Internet Explorer será enviado para a Lixeira.
- (B) O aplicativo Google Chrome será enviado para a Lixeira.
- (C) O atalho do aplicativo Internet Explorer será enviado para a Lixeira.
- (D) O atalho do aplicativo Google Chrome será enviado para a Lixeira.
- (E) Os atalhos dos aplicativos Internet Explorer e Google Chrome serão enviados para a Lixeira.
27. No MS-Word 2010, em sua configuração padrão, o recurso “Colar especial” permite, entre outras funcionalidades,
- (A) automatizar a formatação de textos unicode.
- (B) colar texto sem a formatação original.
- (C) colar transformando figuras vetoriais em imagens bitmap.
- (D) consultar e colar textos a partir do histórico da área de transferência.
- (E) fazer download de imagens da internet a partir da URL e colar no documento.
28. No MS-Excel 2010, em sua configuração padrão, a fórmula =SOMA(\$A\$1:\$B\$1)
- (A) apresenta referências relativas.
- (B) apresenta referências absolutas.
- (C) soma todos os valores das colunas A e B e da linha 1.
- (D) converte o valor da soma em dólar.
- (E) apresenta um erro de sintaxe.
29. No MS-PowerPoint 2010, em sua configuração padrão, o botão Organizar, no grupo Desenho, da guia Página Inicial, inclui os recursos:
- (A) aplicar correção ortográfica e gramatical e remoção de páginas em branco.
- (B) criar sumários e gerenciar citações e bibliografia.
- (C) alinhar, sobrepor, inclinar e girar objetos.
- (D) reorganizar, inclinar, alinhar e girar textos.
- (E) reordenar, agrupar, alinhar e girar objetos.
30. Para busca de arquivos no formato PDF, exclusivamente, que contenham a frase exata “infração de trânsito” no buscador Google, deve ser usada a expressão de busca:
- (A) filetype:PDF “infração de trânsito”
- (B) “infração de trânsito” PDF
- (C) type:PDF infração de trânsito
- (D) file:PDF infração de trânsito
- (E) “infração de trânsito” PDF:file

CONHECIMENTOS ESPECÍFICOS

31. De acordo com a Resolução nº 371/2010, as infrações de competência estadual e as relativas a pedestres, a veículos de propulsão humana e a veículos de tração animal serão tratadas em outros volumes do manual de fiscalização a serem editados pelo
- (A) CIRETRAN.
 - (B) DETRAN.
 - (C) CENTRAN.
 - (D) CONTRAN.
 - (E) CONTRANDIFE.
32. De acordo com o ANEXO I do Código de Trânsito Brasileiro (CTB), O CMT (Capacidade Máxima de Tração) determina o peso máximo que a unidade de tração é capaz de tracionar e deverá ser respeitada de acordo com o indicado pelo
- (A) CONTRAN.
 - (B) DETRAN.
 - (C) CONAMA.
 - (D) FABRICANTE.
 - (E) REVENDEDOR.
33. Veículo destinado ao transporte de carga com peso bruto total de até três mil e quinhentos quilogramas, de acordo com o Anexo I do Código de Trânsito Brasileiro (CTB), é denominado
- (A) caminhão.
 - (B) caminhoneta.
 - (C) caminhonete.
 - (D) furgão.
 - (E) carreta.
34. A responsabilidade pela instalação da sinalização nas áreas de estacionamento de estabelecimentos privados e de uso coletivo será
- (A) do serviço viário do município.
 - (B) de seu proprietário.
 - (C) da Ciretran local.
 - (D) do CETRAN do estado.
 - (E) de empresa terceirizada pelo DETRAN.
- Nas questões de números **35 a 37**, preencha, pela ordem, as lacunas de acordo com a Resolução nº 371/2010, sumário de 1 a 10 do CONTRAN.
35. O agente da autoridade de trânsito competente para lavrar o auto de infração de trânsito (AIT) poderá ser servidor _____, estatutário ou celetista ou, ainda, policial militar designado pela autoridade de trânsito com _____ no âmbito de sua competência.
- (A) público estadual ... registro no CONTRAN e
 - (B) civil ... circunscrição sobre a via
 - (C) público municipal ... registro no CONTRAN e
 - (D) civil ... registro no DENATRAN e
 - (E) público federal ... determinação federal
36. O agente de trânsito deve priorizar suas ações no sentido de _____ infrações de trânsito, porém, uma vez constatada a infração, _____, devendo tratar a todos com urbanidade e respeito, sem, contudo, omitir-se das providências que a lei lhe determina.
- (A) coibir a prática das ... só existe o dever legal da autuação
 - (B) observar as ... pode autuar o condutor
 - (C) observar as ... só existe o dever legal da autuação
 - (D) coibir a prática das ... pode autuar o condutor
 - (E) proibir as ... pode enviar o condutor para reciclagem
37. O AIT (Auto de Infração de Trânsito) não poderá conter rasuras, emendas, uso de corretivos ou qualquer _____. O seu preenchimento será feito com letra legível, preferencialmente com caneta esferográfica de _____.
- (A) colagem com adesivos ... ponta fina
 - (B) tipo de dobra na cópia ... ponta fina
 - (C) colagem com adesivos ... tinta preta e vermelha
 - (D) tipo de dobra na cópia ... tinta azul ou preta
 - (E) tipo de adulteração ... tinta preta ou azul
38. A velocidade máxima permitida para uma via é de 60 km/h e, caso um condutor passe pelo local e venha a ser flagrado por radar existente no local, a 80 km/h, poderá ser penalizado com infração
- (A) levíssima.
 - (B) leve.
 - (C) média.
 - (D) grave.
 - (E) gravíssima.

- 39.** Analise as alternativas seguintes e assinale aquela que corresponde a uma infração grave de acordo com o CTB.
- (A) Dirigir ameaçando os pedestres que estejam atravessando a via pública ou os demais veículos.
 - (B) Atirar do veículo ou abandonar na via objetos ou substâncias.
 - (C) Ter seu veículo imobilizado na via por falta de combustível.
 - (D) Estacionar o veículo afastado da guia da calçada (meio-fio) de cinquenta centímetros a um metro.
 - (E) Transitar em marcha a ré, salvo na distância necessária a pequenas manobras e de forma a não causar riscos à segurança.
- 40.** Assinale a alternativa que contempla o prazo para aplicação da penalidade de suspensão do direito de dirigir, de acordo com o inciso I do artigo 261 do CTB, sem reincidência, conforme redação dada pela Lei nº 13.281, de 2016.
- (A) Dois meses a seis meses.
 - (B) Seis meses a um ano.
 - (C) Oito meses a um ano.
 - (D) Um ano a dezoito meses.
 - (E) Um ano a dois anos.
- 41.** O recolhimento do Certificado de Registro, de acordo com o artigo 273 do CTB, dar-se-á mediante recibo, além dos casos previstos no CTB, quando
- (A) o prazo de transferência ultrapassar sessenta dias.
 - (B) houver suspeita de inautenticidade ou adulteração.
 - (C) o pagamento das taxas não for efetivado.
 - (D) as placas do veículo não forem depositadas.
 - (E) não for apresentado o condutor responsável.
- 42.** Em caso de acidente com vítima envolvendo veículo equipado com registrador instantâneo de velocidade e tempo, de acordo com o artigo 279 do CTB, o disco ou unidade armazenadora do registro somente poderá ser retirado
- (A) por policial responsável do local.
 - (B) pela equipe de resgate.
 - (C) pela equipe de remoção dos veículos.
 - (D) pelo perito oficial encarregado.
 - (E) pela seguradora do veículo.
- 43.** De acordo com o anexo I do CTB, via caracterizada por interseções em nível, geralmente controlada por semáforo, com acessibilidade aos lotes lindeiros e às vias secundárias e locais, é denominada via
- (A) coletora.
 - (B) de acesso rápido.
 - (C) arterial.
 - (D) perimetral.
 - (E) de acesso lento.
- Nas questões de números **44** a **46**, assinale a alternativa correta de acordo com a Lei Complementar Municipal nº 2.811/2017, de Ribeirão Preto.
- 44.** De acordo com o Artigo 6º, o período máximo de estacionamento contínuo será de 2 (duas) horas, podendo ser prorrogado
- (A) por duas vezes, por mais duas horas cada vez, utilizando o mesmo cartão de estacionamento.
 - (B) uma única vez, por mais uma hora, desde que adquirido novo cartão de estacionamento.
 - (C) uma única vez, por mais duas horas, desde que adquirido novo cartão de estacionamento.
 - (D) por uma vez, por mais duas horas, utilizando o mesmo cartão de estacionamento.
 - (E) por duas vezes, por mais trinta minutos, utilizando o mesmo cartão de estacionamento.
- 45.** Conforme Artigo 18, ficam dispensados do pagamento de tarifa de estacionamento rotativo pago os seguintes usuários:
- (A) um veículo de transporte de carga tipo “baú”.
 - (B) um veículo de transporte de produtos perigosos, devidamente cadastrado.
 - (C) um veículo de cada órgão de imprensa da cidade, devidamente cadastrado.
 - (D) dois ônibus de excursão/turismo, com autorização e cadastrados.
 - (E) dois veículos de transporte de inflamáveis.
- 46.** De acordo com Artigo 19, as vagas destinadas ao estacionamento de farmácias, devendo o motorista manter o pisca alerta ligado, não poderá ultrapassar o período máximo de
- (A) 15 minutos.
 - (B) 20 minutos.
 - (C) 25 minutos.
 - (D) 30 minutos.
 - (E) 35 minutos.

47. Ao conduzir o veículo transportando passageiros em compartimento de carga, salvo por motivo de força maior, com permissão da autoridade competente e na forma estabelecida pelo CONTRAN, um condutor terá como medida administrativa:
- (A) apreensão da CNH até a apresentação de outro condutor.
 - (B) recolhimento da CNH ao DETRAN.
 - (C) remoção do veículo.
 - (D) apreensão do veículo para transbordo.
 - (E) recolhimento do DPVAT do veículo.
48. O desrespeito à placa de sinalização apresentada poderá acarretar ao condutor uma infração no valor de



- (A) R\$ 130,16.
 - (B) R\$ 195,23.
 - (C) R\$ 293,47.
 - (D) R\$ 586,94.
 - (E) R\$ 880,41.
49. De acordo com o artigo 61 do CTB, onde não existir sinalização regulamentadora, a velocidade máxima para uma via de trânsito rápido será de
- (A) 80 km/h.
 - (B) 90 km/h.
 - (C) 100 km/h.
 - (D) 110 km/h.
 - (E) 120 km/h.
50. De acordo com o artigo 203 do CTB, o condutor que ultrapassar, pela contramão, outro veículo onde houver marcação viária longitudinal de divisão de fluxos opostos do tipo linha dupla contínua ou simples contínua amarela, poderá ter como penalidade multa no valor de
- (A) R\$ 196,23.
 - (B) R\$ 586,94.
 - (C) R\$ 880,41.
 - (D) R\$ 1.467,35.
 - (E) R\$ 2.347,76.

