



CONCURSO PÚBLICO

007. PROVA OBJETIVA

ASSISTENTE SOCIAL

- ◆ Você recebeu sua folha de respostas e este caderno contendo 60 questões objetivas.
- ◆ Confira seus dados impressos na capa deste caderno e na folha de respostas.
- ◆ Quando for permitido abrir o caderno, verifique se está completo ou se apresenta imperfeições. Caso haja algum problema, informe ao fiscal da sala.
- ◆ Leia cuidadosamente todas as questões e escolha a resposta que você considera correta.
- ◆ Marque, na folha de respostas, com caneta de tinta preta, a letra correspondente à alternativa que você escolheu.
- ◆ A duração da prova é de 3 horas e 30 minutos, já incluído o tempo para o preenchimento da folha de respostas.
- ◆ Só será permitida a saída definitiva da sala e do prédio após transcorridos 75% do tempo de duração da prova.
- ◆ Deverão permanecer em cada uma das salas de prova os 3 últimos candidatos, até que o último deles entregue sua prova, assinando termo respectivo.
- ◆ Ao sair, você entregará ao fiscal a folha de respostas e este caderno, podendo levar apenas o rascunho de gabarito, localizado em sua carteira, para futura conferência.
- ◆ Até que você saia do prédio, todas as proibições e orientações continuam válidas.

AGUARDE A ORDEM DO FISCAL PARA ABRIR ESTE CADERNO DE QUESTÕES.

Nome do candidato _____

RG _____

Inscrição _____

Prédio _____

Sala _____

Carteira _____

CONHECIMENTOS GERAIS

LÍNGUA PORTUGUESA

Leia o texto para responder às questões de números **01** a **10**.

Sedentários bem alimentados

Pela primeira vez na história de nossa espécie, foi-nos oferecida a possibilidade de comer à larga em todas as refeições e de ganhar a vida sentados o dia inteiro. Obesidade e sedentarismo se tornaram as principais epidemias nos países de renda média e alta, nos quais a praga mortífera do tabagismo começa a ser a duras penas controlada.

Na esteira dessas duas pandemias, caminham a passos apressados hipertensão arterial, diversos tipos de câncer, diabetes, doenças cardiovasculares, problemas ortopédicos, articulares, renais e outras complicações que sobrecarregam o sistema de saúde, encarecem o atendimento e fazem sofrer milhões de pessoas. Nas capitais, 19% dos brasileiros adultos estão obesos e outros 35% têm sobrepeso, ou seja, menos da metade da população cai na faixa do peso considerado saudável.

Na contramão de outros ramos da economia, a incorporação de tecnologia na área médica aumenta o custo do produto final. A assistência a uma população que envelhece mal como a brasileira exigirá recursos de que não dispomos no SUS nem na saúde suplementar.

Esperar as pessoas adoecerem para tratá-las em hospitais e unidades de pronto atendimento é política suicida. Não há saída: ou investimos na prevenção ou, cada vez mais, só os privilegiados terão acesso à medicina moderna.

Nos anos 1960, cerca de 60% dos nossos adultos fumavam, hoje não passam de 10%. **Se** conseguimos resultado tão impressionante com a dependência química mais feroz que a medicina conhece, não é impossível convencer mulheres, crianças e homens a comer um pouco menos e a andar míseros 40 minutos num dia de 24 horas.

(Drauzio Varella. *Folha de S. Paulo*, 11.11.2018.
www.folha.uol.com.br. Adaptado)

01. Uma frase condizente com o exposto no texto é:

- (A) A distribuição desigual de alimentos nos países de renda média e alta ocasionou o aumento de casos de obesidade e sedentarismo.
- (B) É preciso investir na prevenção da obesidade e do sedentarismo, uma vez que não se vislumbra a igualdade de acesso à assistência médica no futuro.
- (C) A sociedade brasileira envelhece mal porque come de maneira irrestrita e porque a maior parte do trabalho disponível leva ao sedentarismo.
- (D) Mais da metade da população brasileira tem sido poupada de doenças típicas da obesidade na medida em que evita o sedentarismo.
- (E) O uso da tecnologia tende a baratear os serviços médicos, universalizando o tratamento de doenças derivadas da obesidade e do sedentarismo.

02. Quanto ao conteúdo que expressam, o primeiro e o segundo parágrafos associam-se em uma relação de

- (A) constatação e retificação.
- (B) causa e consequência.
- (C) hipótese e comprovação.
- (D) condição e negação.
- (E) comparação e exemplo.

03. A referência ao tabagismo no texto serve ao intuito de

- (A) demonstrar que o aumento da obesidade e do sedentarismo na população é tão sério que resultará incontornável.
- (B) explicar que a obesidade e o sedentarismo se tornam mais letais quando associados a um quadro de tabagismo.
- (C) afirmar que a obesidade e o sedentarismo provocam sensações físicas equivalentes às provocadas por uma dependência química.
- (D) defender que é possível realizar uma campanha eficaz para combater a obesidade e o sedentarismo.
- (E) alertar quanto à necessidade de priorizar o tratamento de pessoas com doenças relacionadas à obesidade e ao sedentarismo.

04. Uma palavra que, no contexto, explicita uma opinião pessoal do autor está destacada em:

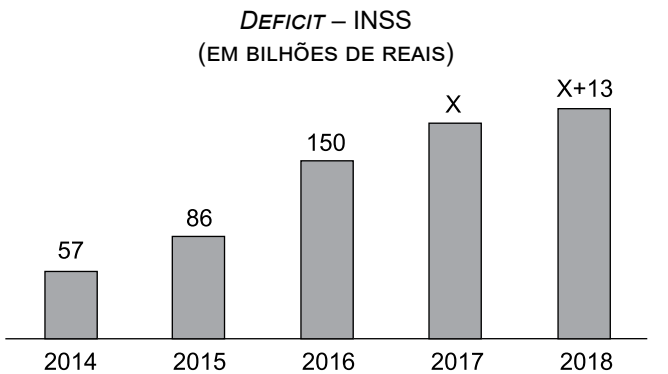
- (A) ... outras **complicações** que sobrecarregam o sistema de saúde... (2º parágrafo)
- (B) ... outras complicações que [...] **encarecem** o atendimento... (2º parágrafo)
- (C) ... outros 35% têm **sobrepeso**... (2º parágrafo)
- (D) ... recursos de que não dispomos [...] na saúde **suplementar**. (3º parágrafo)
- (E) ... andar **míseros** 40 minutos num dia de 24 horas. (5º parágrafo)

05. No início do segundo parágrafo, a expressão “caminham a passos apressados” pode ser substituída, com sentido semelhante, pela seguinte expressão, também com sentido figurado:
- (A) ramificam-se os casos de
 - (B) aumentam os casos de
 - (C) complicam-se os casos de
 - (D) aniquilam-se os casos de
 - (E) supervalorizam-se os casos de
06. A conjunção **Se**, na frase que encerra o texto, estabelece relação de
- (A) conclusão e pode ser substituída por *Portanto*.
 - (B) dúvida e pode ser substituída por *Caso*.
 - (C) conformidade e pode ser substituída por *Conforme*.
 - (D) causa e pode ser substituída por *Visto que*.
 - (E) contraste e pode ser substituída por *Contudo*.
07. Assinale a alternativa em que, com a introdução das vírgulas, o trecho do texto está em conformidade com a norma-padrão de pontuação, embora com sentido original ligeiramente alterado.
- (A) ... foi-nos oferecida, a possibilidade de comer à larga, em todas as refeições e de ganhar a vida sentados o dia inteiro. (1º parágrafo)
 - (B) Obesidade e sedentarismo se tornaram, as principais epidemias, nos países de renda média e alta... (1º parágrafo)
 - (C) A assistência a uma população que envelhece mal, como a brasileira, exigirá recursos de que não dispomos no SUS nem na saúde suplementar. (3º parágrafo)
 - (D) Esperar as pessoas, adoecerem para tratá-las em hospitais, e unidades de pronto atendimento... (4º parágrafo)
 - (E) Se conseguimos, resultado tão impressionante, com a dependência química mais feroz que a medicina conhece... (5º parágrafo)
08. Atendendo às regras de regência verbal e de colocação pronominal da norma-padrão da língua, a expressão destacada em “recursos **de que não dispomos** no SUS nem na saúde suplementar” pode ser substituída por
- (A) que não nos ofertam.
 - (B) que não ofertam-nos.
 - (C) de que não nos ofertam.
 - (D) de que não ofertam-nos.
 - (E) em que não ofertam-nos.
09. Uma expressão que pode ser substituída, sem prejuízo do sentido e em conformidade com a norma-padrão de concordância, pelo que se encontra entre colchetes está destacada em:
- (A) ... foi-nos **oferecida** a possibilidade de comer à larga em todas as refeições e de ganhar a vida sentados o dia inteiro. [ofertado]
 - (B) Obesidade e sedentarismo **se tornaram** as principais epidemias nos países de renda média e alta... [acabou sendo]
 - (C) ... complicações que sobrecarregam o sistema de saúde, encarecem o atendimento e **fazem** sofrer milhões de pessoas. [deixa]
 - (D) ... 19% dos brasileiros adultos estão obesos e outros 35% **têm** sobrepeso... [apresentam]
 - (E) A assistência a uma população que envelhece mal como a brasileira **exigirá** recursos... [demandarão]
10. Assinale a alternativa em que um trecho do texto está corretamente reescrito, no que respeita ao emprego do sinal indicativo de crase.
- (A) ... foi oferecida **à** nós a possibilidade de comer...
 - (B) ... causam sofrimento **à** milhões de pessoas.
 - (C) ... menos da metade da população ajusta-se **à** faixa do peso considerado saudável.
 - (D) Em oposição **à** outros ramos da economia...
 - (E) ... hoje não são superiores **à** 10%.

11. Quantidades diferentes, em quilogramas, de arroz, de feijão e de leite em pó que, juntas, totalizam uma tonelada serão distribuídas igualmente entre 100 famílias cadastradas em um projeto social. Sabe-se que a quantidade de leite em pó é igual a $\frac{2}{3}$ da quantidade de feijão e que a quantidade de arroz é igual à soma das quantidades de feijão e de leite em pó. Desse modo, a quantidade de arroz que cada família deverá receber é igual a
- (A) 4 kg.
(B) 4,5 kg.
(C) 5 kg.
(D) 5,5 kg.
(E) 6 kg.
12. Para um mapeamento socioeconômico, todas as moradias de certa comunidade deverão ser visitadas por assistentes sociais. Visando racionalizar o trabalho, o número de moradias, que não chega a 200, deverá ser dividido em grupos com o mesmo número de moradias em cada um. Se forem formados grupos de 9, ou de 15, ou de 18, ou de 20 moradias, sobrarão sempre 3 delas. O número total de moradias dessa comunidade é
- (A) 180.
(B) 183.
(C) 186.
(D) 190.
(E) 193.
13. Um desconto promocional de 25% gerou uma redução de R\$ 71,00 no preço de venda original do produto P. Com a aplicação desse desconto promocional, o produto P passou a ser vendido por
- (A) R\$ 213,00.
(B) R\$ 230,00.
(C) R\$ 248,00.
(D) R\$ 266,00.
(E) R\$ 284,00.

14. Em um grupo de 56 candidatos que obtiveram pontuação máxima em uma prova de certo processo seletivo, há mais mulheres do que homens, sendo a diferença entre o número de mulheres e o número de homens igual a 28. Dos candidatos que fizeram a prova, sabe-se que a quarta parte dos homens e a terça parte das mulheres obtiveram a pontuação máxima. O número total de candidatos que fizeram essa prova é
- (A) 210.
(B) 196.
(C) 190.
(D) 182.
(E) 180.

15. O gráfico seguinte relaciona os valores, em bilhões de reais, dos *deficits* anuais do INSS, de 2014 a 2018.

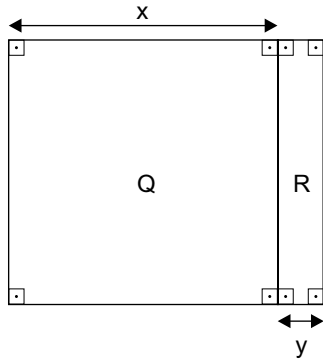


(O Estado de S.Paulo. 30.01.2019. Adaptado)

Se a média aritmética dos valores dos *deficits* anuais, no período considerado, é igual a R\$ 134 bilhões, então o valor do *deficit*, em 2018, foi de

- (A) R\$ 178 bilhões.
(B) R\$ 182 bilhões.
(C) R\$ 187 bilhões.
(D) R\$ 191 bilhões.
(E) R\$ 195 bilhões.

16. Um canteiro quadrado Q, de lado x , foi ampliado com a junção de uma região retangular R, com área de $3,6 \text{ m}^2$, conforme mostra a figura, com dimensões indicadas em metros.



Sabendo-se que, com a ampliação, o canteiro passou a ter área total de $19,6 \text{ m}^2$, é correto afirmar que a medida indicada por y na figura é igual a

- (A) 0,80 m.
 (B) 0,86 m.
 (C) 0,90 m.
 (D) 0,96 m.
 (E) 1,00 m.
17. A prefeitura de certo município promoveu o recapeamento asfáltico de ruas e avenidas, num total de 30 vias públicas, sendo a maioria ruas. Se a diferença entre o número de ruas e o número de avenidas é igual a 12, então a razão entre o número de avenidas e o número de ruas recapeadas é

- (A) $\frac{1}{3}$
 (B) $\frac{3}{8}$
 (C) $\frac{2}{5}$
 (D) $\frac{3}{7}$
 (E) $\frac{4}{9}$

18. Cinco amigos compraram, juntos, um presente para um casamento, no valor total de R\$ 800,00, que seria dividido igualmente entre eles. Posteriormente, outros amigos, além dos cinco iniciais, foram incluídos no grupo, e, dessa forma, a contribuição de cada participante inicial foi diminuída em R\$ 60,00. Desse modo, é correto afirmar que esse presente foi comprado por um número total de pessoas igual a
- (A) 11.
 - (B) 10.
 - (C) 9.
 - (D) 8.
 - (E) 7.
19. Um reservatório de formato cúbico, cujas arestas internas medem 1 m, estava completamente vazio. Para enchê-lo, foi acionada a válvula de entrada de água cuja vazão, constante, é de $0,01 \text{ m}^3$ por minuto. Se essa válvula foi acionada às 7 horas e 45 minutos, então esse reservatório estará completamente cheio, sem transbordar, às
- (A) 8 h 45 min.
 - (B) 9 h 25 min.
 - (C) 9 h 35 min.
 - (D) 9 h 45 min.
 - (E) 10 h 15 min.
20. Funcionando de forma simultânea e ininterrupta durante o expediente diário, 6 máquinas iguais, de mesmo rendimento, produzem um lote de peças em 5 dias. Para produzir um lote idêntico em 3 dias, será necessário utilizar, nas mesmas condições operacionais, um número de máquinas igual a
- (A) 8.
 - (B) 9.
 - (C) 10.
 - (D) 11.
 - (E) 12.

ATUALIDADES

21. Ainda ontem, o prefeito de Campinas, Jonas Donizette, decretou luto oficial de três dias na cidade. Pelo Twitter, ele se disse “estarecido com o brutal crime”. A expectativa é de que os velórios das vítimas ocorram a partir desta quarta-feira (12).

(*Último Segundo*/iG. Publicado em: 12.12.2018.
Acessível em: <https://bit.ly/2Blp9ZH>. Adaptado)

O luto decretado pelo prefeito foi em respeito às vítimas

- (A) do deslizamento ocasionado pelas fortes chuvas em Barão Geraldo.
- (B) do rompimento da barragem de rejeitos de mineração em Mariana.
- (C) atropeladas no calçadão do centro da cidade, por um motorista bêbado.
- (D) de um atirador da Catedral Metropolitana.
- (E) da guerra contra o tráfico, em disputa por território na cidade.

22. *Fugir das gangues já não é suficiente para obter asilo*

Desde junho, a violência doméstica ou de gangues no país de origem do requerente não é mais suficiente como único motivo para superar o filtro que permite pedir proteção nos EUA. O resultado foi uma enorme queda na aceitação inicial, o que deverá reduzir ainda mais as concessões de asilo. Em seus 21 meses de presidência, o republicano Donald Trump adotou múltiplas medidas para reduzir a entrada de estrangeiros.

(*El País*. Publicado em: 26.10.2018.
Acessível em: <https://bit.ly/2Ngopj1>. Adaptado)

No contexto norte-americano, a notícia refere-se particularmente

- (A) aos dissidentes de grupos radicais islâmicos que buscam proteção em território americano.
- (B) à onda de violência causada por atiradores intercambistas nas escolas da Flórida.
- (C) às pessoas que caminham desde países da América Central até a fronteira norte-americana.
- (D) às vítimas da recessão que escasseou empregos e financiamentos de moradias populares, gerando nova bolha imobiliária.
- (E) à crise migratória da Líbia, cujos refugiados têm, por intermédio da ONU, solicitado asilo nos EUA.

23. A Agência Brasil noticiou que o governo federal estuda formas de regularizar a permanência dos médicos cubanos após o fim do acordo de cooperação entre Brasil e Cuba no Programa Mais Médicos.

(*Agência Brasil*. Publicado em: 23.01.2019.
Acessível em: <https://bit.ly/2FYt6g1>. Adaptado)

Uma exigência inalterável para a permanência dos profissionais é a de que todos

- (A) façam a opção pela dupla cidadania.
- (B) cortem laços com a ilha de Cuba.
- (C) façam estágio probatório em hospitais credenciados.
- (D) mantenham suas finanças exclusivamente no Brasil.
- (E) se submetam ao Programa Revalida.

24. Após o presidente Jair Bolsonaro ter sinalizado, na campanha e no início de seu mandato, intenção de sair do Acordo de Paris – e ter rejeitado a ideia de o Brasil sediar a conferência climática COP-25, ele reafirmou nesta quarta-feira (23.01.19), em entrevista à TV Bloomberg, a intenção de permanecer no acordo de Paris. Mas deixou claro que o país quer ter, além de deveres, direitos.

(*TERRA*. Publicado em: 23.01.2019.
Acessível em: <https://bit.ly/2RiCfC1>. Adaptado)

O presidente refere-se ao direito de o Brasil

- (A) ter assento permanente no Conselho de Segurança da ONU.
- (B) ter o devido retorno financeiro por crédito de carbono.
- (C) ser ouvido primeiro em questões ambientais na América Latina.
- (D) receber os subsídios prometidos pelo investimento em biodiesel.
- (E) continuar como líder de pesquisa no projeto genoma.

25. Pelo menos 19 pessoas morreram e 48 ficaram feridas por duas explosões ocorridas neste domingo (27.01) na catedral da cidade de Jolo, no sudeste das Filipinas, dias depois da realização de um referendo encaminhado para alcançar a paz na região.

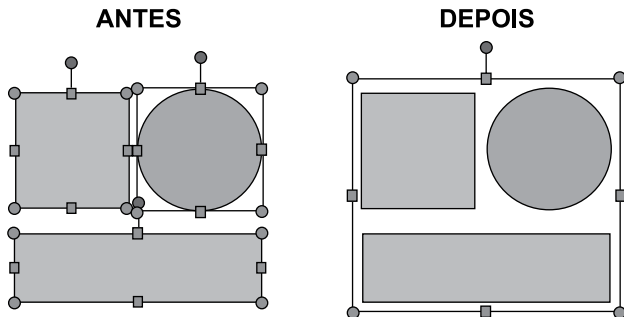
(*UOL*. Publicado em: 27.01.2019.
Acessível em: <https://bit.ly/2G3dq66>. Adaptado)

O fato aconteceu dias depois do referendo sobre

- (A) a divisão das Filipinas em três Estados: católico, muçulmano e budista.
- (B) a criação de uma região muçulmana autônoma no sul do país.
- (C) a decretação do islamismo como religião oficial das Filipinas.
- (D) a proibição de as mulheres muçulmanas usarem véu em público.
- (E) a criação de escolas religiosas muçulmanas no norte do país.

Considere os softwares em sua configuração padrão para responder às questões de número 26 a 30.

26. Observe a figura a seguir; ela apresenta três formas (quadrado, círculo e retângulo) que estão sendo inseridas em uma apresentação do MS-PowerPoint 2010.



As formas são apresentadas em dois momentos: ANTES e DEPOIS da aplicação de um recurso que permite que elas sejam tratadas como um único objeto. Esse recurso pertence ao grupo Organizar, da guia Formatar, que é exibida quando os objetos são selecionados.

Assinale a alternativa que contém o nome do recurso aplicado entre os momentos ANTES e DEPOIS.

- (A) Alinhar.
- (B) Alinhar Parte Superior.
- (C) Agrupar.
- (D) Aparecer.
- (E) Selecionar Tudo.

27. Um usuário está organizando arquivos utilizando o Windows Explorer, do MS-Windows 7. Em um dado momento, na Biblioteca de Documentos, ele pressiona o atalho de teclado Ctrl+Z, e, como consequência, o arquivo "Notas Fiscais.docx" troca de nome para "Texto com notas.docx".

Assinale a alternativa que informa qual é a função geral do atalho de teclado Ctrl+Z.

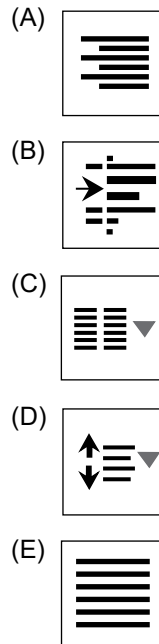
- (A) Apagar um arquivo.
- (B) Repetir a última ação.
- (C) Desfazer uma ação.
- (D) Renomear um arquivo.
- (E) Colar textos da área de Transferência.

28. _____ é(são) pequeno(s) arquivo(s) gravado(s) em seu computador quando você acessa sites na Internet e que é(são) reenviado(s) a estes mesmos sites quando novamente visitados, com intuito de manter informações sobre você e suas preferências.

Assinale a alternativa que preenche corretamente a lacuna do enunciado.

- (A) Phishing
- (B) Firewalls
- (C) Pop-ups
- (D) SPAM
- (E) Cookies

29. O usuário deseja aumentar o nível do recuo do parágrafo de um documento que está sendo editado no MS-Word 2010. Para isso, o usuário pode utilizar o seguinte recurso do grupo Parágrafo, da guia Página Inicial:



30. Um assistente social está elaborando um estudo com dados de sete municípios utilizando o MS-Excel 2010. A parte da planilha com todos os dados do seu estudo é apresentada a seguir.

	A	B	C	D
1	Nome	Idade	Renda Mensal	Ensino
2	Paulo Duarte	34	R\$ 3.500,00	Superior
3	Carlos Alvares	32	R\$ 2.000,00	Superior
4	Daniela Silva	19	R\$ 1.800,00	Médio
5	Augusta Medeiros	20	R\$ 2.500,00	Médio
6	Paula Santos	24	R\$ 4.000,00	Superior
7	Maria Silva	25	R\$ 2.000,00	Médio
8	Fernando Dias	38	R\$ 4.500,00	Superior
9				
10	Renda mensal média - Ensino Superior			R\$ 3.500,00
11	Renda mensal média - Ensino Médio			R\$ 2.100,00

Assinale a alternativa que apresenta a fórmula que, quando colocada na célula D10, resulta na renda mensal média dos municípios com ensino superior. Considere que o caractere ";" (ponto e vírgula) está configurado como separador dos argumentos das funções.

- (A) =SOMA(C2:C8)
- (B) =SOMA(C2:C8)/7
- (C) =MÉDIA(C2:C8)
- (D) =MÉDIASE(D2:D8;"Superior";C2:C8)
- (E) =CONT.SE(D2:D8;"Superior")

CONHECIMENTOS ESPECÍFICOS

31. A sociedade capitalista, fundada na exploração do trabalho, produz e reproduz a questão social e atinge visceralmente a vida dos sujeitos, condensando múltiplas desigualdades e disparidades nas relações de gênero, étnico-raciais, formações regionais e acessos aos bens da civilização. A ruptura do domínio privado nas relações entre capital e trabalho, extrapolando a questão social para a esfera pública, concretiza-se por meio
- (A) da ação das entidades.
 - (B) da retirada do Estado.
 - (C) do predomínio da exploração.
 - (D) das lutas sociais.
 - (E) de alianças corporativas.
32. Em se tratando da concepção sobre vulnerabilidade social, no campo da Política Nacional de Assistência Social (PNAS), observa-se uma concentração de estudos em torno do fenômeno da pobreza, os quais se propõem a abordar as diferentes modalidades de desvantagem social. Nessa perspectiva, a vulnerabilidade social se refere à situação na qual os recursos e habilidades de um determinado grupo, os quais possibilitariam melhores condições de vida dos atores sociais, são insuficientes e/ou inadequados para manejar
- (A) as ofertas sociais.
 - (B) as demandas coletivas.
 - (C) os programas eventuais.
 - (D) os aspectos subjetivos.
 - (E) alternativas adequadas.
33. Um dos conceitos básicos da Política Nacional de Assistência Social (PNAS) refere-se à constituição dos direitos socioassistenciais. São dez os direitos, que têm como diretriz interferir na cultura da prestação dos serviços da assistência social. Sua definição busca garantir que a política explicita claramente, para quem dela necessitar, o que pode buscar ao se dirigir a um serviço ou programa estruturado pela assistência social. Dentre os direitos previstos, destaca-se o que estabelece
- (A) igualdade de seletividade por faixa etária.
 - (B) promoção da isonomia regional.
 - (C) diversidade de ofertas no âmbito privado.
 - (D) centralização de serviços em uma só esfera.
 - (E) equidade rural-urbana na proteção social não contributiva.
34. A Assistência Social, ao lado do reconhecimento do direito à proteção especial de crianças e adolescentes, idosos, pessoas com deficiências, entre outros segmentos, expressa um conjunto de políticas sociais essenciais para a superação do grave quadro social presente no país. Com o advento da Lei Orgânica da Assistência Social (LOAS), foram estabelecidos novos e importantes patamares do direito social, com uma estrutura de serviços a serem prestados, prioritariamente pelo poder público, na condição de política pública, englobando benefícios de renda mínima para o idoso e para a pessoa com deficiência, até programas de
- (A) acolhimento esporádico.
 - (B) atendimento genérico.
 - (C) enfrentamento da pobreza.
 - (D) capacitação laborativa.
 - (E) gestão popular.
35. A proteção social, no contexto da Política Nacional da Assistência Social, tem por direção o desenvolvimento humano e social e os direitos de cidadania. Seus serviços, programas, projetos devem estar articulados com as demais políticas sociais para que, efetivamente, constituam um sistema público. A proteção social operada pela assistência social envolve a garantia de um conjunto de seguranças, tais como as seguranças de acolhida, de renda, de convívio, de desenvolvimento da autonomia e a segurança de apoio e
- (A) atenção.
 - (B) empatia.
 - (C) isonomia.
 - (D) auxílio.
 - (E) tratamento.
36. A dimensão territorial implica tratar a cidade e seus territórios como chão das políticas públicas. O território constitui um conceito subordinado ao de espaço, enquanto uma instância social, produto de relações sociais, revestido da dimensão política. Nessa perspectiva, o espaço pode ser definido como um conjunto indissociável, solidário e multidimensional de sistemas de objetos e de sistemas de ações, no qual a história se dá. No processo de apropriação social do espaço, estabelecem-se relações de poder entre vários grupos sociais e instituições, havendo um acúmulo de interesses
- (A) autônomos.
 - (B) divergentes.
 - (C) complementares.
 - (D) independentes.
 - (E) amplos.

37. A família, reflexo das mudanças que ocorrem na sociedade, é uma das manifestações importantes da vida social. É uma construção humana responsável, basicamente, pelo cuidado e proteção de seus membros, pela socialização e produção de subjetividades. A família tem importância fundamental no modo de organização da sociedade, como primeiro grupo de referência e de pertencimento do indivíduo e como transmissora da linguagem e da ideologia. Considerando sua importância e seu papel, a Política Nacional de Assistência Social (PNAS) reconhece que a família, independentemente dos formatos que assume, é geradora de modalidades comunitárias de vida e mediadora das relações entre os sujeitos e a coletividade, delimitando, continuamente os deslocamentos entre
- (A) o concreto e o abstrato.
 - (B) o afetivo e o legal.
 - (C) o objetivo e o subjetivo.
 - (D) o capital e o trabalho.
 - (E) o público e o privado.
38. Na contemporaneidade, a família assume papel central na Política Nacional de Assistência Social, em programas de transferência de renda e de saúde, em que há ações que se encaminham para uma política para esse grupo. Isso ocorre, porém, em uma perspectiva contraditória, que oferece proteção e reconhece a variedade das experiências familiares, mas com a contrapartida do reforço da responsabilização familiar, dos tradicionais papéis de seus integrantes, independentemente das transformações que a afetam. Essa tendência na esfera das políticas sociais e econômicas, nacionais e internacionais, de intervenção do Estado na família, por meio da legislação, das políticas demográficas e econômicas e da cultura, expressa a contradição
- (A) autonomia x expansão.
 - (B) respeito x solidariedade.
 - (C) invasão x emancipação.
 - (D) subjetividade x domínio.
 - (E) interiorização x alteridade.
39. O direito da criança e do adolescente à sua identidade se concretiza, no mundo jurídico, por meio do Registro Civil de Nascimento, o que permite o acesso a outros documentos básicos, como Carteira de Identidade, Cadastro de Pessoas Físicas e Carteira de Trabalho, além do cadastro em programas sociais. A falta de tal documento constitui uma violação de direito e pode indicar uma situação de vulnerabilidade social da família. A regularização do Registro Civil deve acompanhar a aplicação das medidas específicas de proteção, em casos de ameaças ou violação de direitos. Verificada a inexistência de registro anterior, o assento de nascimento da criança ou adolescente, conforme determina o art. 102, parágrafo 1º do Estatuto da Criança e do Adolescente, será feito à vista dos elementos disponíveis, mediante requisição
- (A) da autoridade judiciária.
 - (B) dos pais ou responsável.
 - (C) do Conselho Tutelar.
 - (D) da própria criança.
 - (E) da unidade escolar.
40. O idoso é um dos públicos prioritários da Assistência Social, constituindo-se área estratégica de expressiva cobertura em todas as unidades federadas. Tal cobertura engloba, no âmbito federal, a transferência continuada de renda a idosos impossibilitados de prover a sua própria manutenção ou de tê-la provida por sua família. Compreende também a proteção social básica e especial, por meio do repasse financeiro federal a serviços, programas e projetos executados por governos de Estados e Municípios, bem como por entidades sociais. O objetivo de tais ofertas é contribuir para a promoção da autonomia, integração e participação do idoso na sociedade e fortalecer
- (A) seu modo de expressão.
 - (B) seus vínculos familiares.
 - (C) seu lugar social.
 - (D) suas relações interpessoais.
 - (E) sua expectativa de vida.
41. Na Assistência Social, o Centro POP deve ofertar, obrigatoriamente, o Serviço Especializado para Pessoas em Situação de Rua, constituindo-se espaço de referência para o convívio grupal, social e para o desenvolvimento de relações de solidariedade, afetividade e respeito. A gestão do Centro de Referência para População em Situação de Rua é de responsabilidade do órgão gestor da Assistência Social, cuja qualificação exige flexibilidade, reflexões periódicas sobre os trabalhos desenvolvidos e resultados atingidos, com possibilidades de contemplar a participação dos usuários. Conforme avaliação e planejamento do órgão gestor local e desde que isso não cause prejuízos ao desempenho do Serviço, a Unidade poderá ofertar também o Serviço Especializado em
- (A) Modalidade Transitória.
 - (B) Fortalecimento de Vínculos.
 - (C) Acolhimento Institucional.
 - (D) Abordagem Social.
 - (E) Proteção Social Básica.

42. Estudos recentes efetuados pelo Instituto Brasileiro de Geografia e Estatística (IBGE) evidenciam a redução gradativa do trabalho infantil no país. No entanto, esse problema continua existindo, sua incidência é significativa e provoca reflexos em vários aspectos da vida desse segmento populacional. Nesse cenário, a condição de crianças e adolescentes trabalhadores, no Brasil, caracteriza-se pela presença de desigualdades como as regionais e de gênero. Ainda, trata-se de uma situação presente especialmente nas famílias de baixa renda, com extensas jornadas de trabalho, baixa ou nenhuma remuneração, impactando diretamente nas taxas de escolarização, violando os direitos mais elementares das crianças e dos adolescentes e sua condição de
- (A) acolhimento.
 - (B) adoção.
 - (C) desenvolvimento.
 - (D) manutenção.
 - (E) adaptação.
43. O trabalho doméstico está entre as piores formas de trabalho infantil, por submeter o trabalhador a riscos ocupacionais. Tais riscos trazem, entre outras, possíveis consequências à saúde, alterações na vida familiar, síndrome do esgotamento e neurose profissional, justificando a sua proibição. Assim, essa modalidade laborativa realizada antes de idade pré-estabelecida é considerada infantil. Nessa perspectiva, de acordo com as normativas legais vigentes, a idade mínima para o trabalho doméstico é
- (A) 10 anos.
 - (B) 12 anos.
 - (C) 14 anos.
 - (D) 16 anos.
 - (E) 18 anos.
44. O cuidado com as crianças vítimas de violência sexual sem integração, de fato, com a rede de atenção, implica não se comprometer com o real enfrentamento do problema nos âmbitos individual e coletivo. O Sistema de Garantia de Direitos da Criança e do Adolescente estabelece a estruturação desse cuidado a partir da articulação e integração em rede das instâncias públicas governamentais e da sociedade civil. Nessa perspectiva, é correto afirmar que o assistente social é um elo nessa rede que, por meio de sua relação de horizontalidade com outros profissionais e instituições, pode contribuir para o planejamento e a execução de programas e ações mais amplas de
- (A) proteção.
 - (B) culpabilização.
 - (C) adequação.
 - (D) compensação.
 - (E) averiguação.
45. Como o racismo e o patriarcado, a opressão sobre as mulheres não é um problema específico, mas está enraizado na lógica do capitalismo e se espalha no campo da ideologia, da cultura e dos valores. Na perspectiva da luta por liberdade substantiva, não é suficiente pensar nas categorizações individuais do ser homem e do ser mulher ou mesmo nas liberdades de forma individualizada. Requer necessariamente pensar as relações sociais e as contradições e conflitos que os conformam, bem como uma ação coletiva em torno de um projeto societário
- (A) contemporâneo.
 - (B) adequado.
 - (C) classista.
 - (D) global.
 - (E) único.
46. O Protocolo de Gestão Integrada, no âmbito do Sistema Único de Assistência Social (SUAS), tem por foco a articulação entre transferências de renda, benefícios e serviços socioassistenciais do SUAS. A gestão integrada é uma estratégia para qualificar e potencializar a rede de proteção social e materializar a Política de Assistência Social nos territórios. O Protocolo dispõe sobre as responsabilidades dos entes federativos na operacionalização da gestão integrada; sobre os fluxos de repasse e gestão de informações e ainda sobre os procedimentos referentes ao atendimento
- (A) ao conselho.
 - (B) às famílias.
 - (C) às entidades.
 - (D) ao gestor.
 - (E) às equipes.
47. A Lei nº 8.662/1993 dispõe sobre a profissão de assistente social e define que é livre o exercício profissional em todo o território nacional, desde que observadas as condições nela estabelecidas. Dentre os critérios para credenciamento ao exercício profissional, conforme define o art. 2º, I, somente poderão exercê-la os possuidores de diploma em curso de graduação em Serviço Social, oficialmente reconhecido, expedido por estabelecimento de ensino superior existente no país, devidamente
- (A) credenciado no Conselho Regional.
 - (B) validado pela autoridade local.
 - (C) autorizado pelo Conselho de Serviço Social.
 - (D) registrado no órgão competente.
 - (E) reconhecido por instância governamental.

48. O exercício de qualquer função, tarefa, atividade de atribuição privativa do assistente social ou a utilização da designação profissional "assistente social", sem a inscrição no Conselho Regional de Serviço Social competente, caracteriza-se como infração à Lei nº 8.662/93. Conforme o art. 2º da Resolução CFESS nº 590/2010, se comprovada a prática dessa infração, o infrator ficará sujeito ao pagamento de multa, sem prejuízo das medidas administrativas, criminais e cíveis cabíveis. Ainda de acordo com essa resolução (parágrafo segundo), se provada a participação ativa ou convivência de empresas, entidades, instituições, firmas e outros nas referidas infrações, serão estas passíveis de
- (A) multas.
 - (B) fiscalização.
 - (C) correção.
 - (D) interdição.
 - (E) condenação.
49. O Serviço Social é uma especialidade profissional inserida na divisão sociotécnica do trabalho; suas funções são compreender a realidade socialmente contextualizada, produzir conhecimento sobre essa realidade, e, ao mesmo tempo, intervir para transformá-la. O conhecimento e a ação concretizam-se nas políticas públicas ou privadas. Ao desenvolver seu processo de trabalho, o Serviço Social tem em vista a efetivação e a consolidação dessas políticas e a transformação da questão social presente no cotidiano dos diferentes espaços ocupacionais. Nessa perspectiva, o processo de trabalho do assistente social se materializa no planejamento de programas sociais e na sua
- (A) alternância.
 - (B) permanência.
 - (C) consequência.
 - (D) possibilidade.
 - (E) execução.
50. Os processos gerais de precarização do trabalho, de suas condições e relações no cenário atual impactam sobre o Serviço Social como uma das especializações do trabalho coletivo no capitalismo. Segundo estudiosos do assunto, a insegurança e a desproteção do trabalho do assistente social são expressas, entre outras formas, nos processos de terceirização e quarteirização dos vínculos trabalhistas. Essa vulnerabilidade e as exigências institucionais crescentes constituem um desafio para o trabalho do assistente social, em sua perspectiva crítica e
- (A) conservadora.
 - (B) proativa.
 - (C) adequada.
 - (D) consequente.
 - (E) imediata.
51. A configuração da assistência social como sistema descentralizado, previsto na Lei Orgânica de Assistência Social (LOAS), ganhou novo patamar com a aprovação da Política Nacional de Assistência Social e da Norma Operacional Básica do Sistema Único da Assistência Social NOB/SUAS. Com o objetivo de delimitar o âmbito estrito de suas competências, as normativas estabeleceram bases para a organização da Política, quais sejam: distribuição de responsabilidades entre os entes federativos, arranjos inovadores de financiamento, de governança e de produção de serviços, além do fortalecimento das capacidades políticas e
- (A) universais.
 - (B) genéricas.
 - (C) amplas.
 - (D) equânimes.
 - (E) institucionais.
52. Um dos grandes desafios da construção da Política Nacional de Assistência Social (PNAS) é a criação de mecanismos que venham garantir a participação dos usuários nos conselhos e fóruns enquanto sujeitos não mais sub-representados. Nesse eixo estruturante, a PNAS indica, entre outras estratégias, a promoção de eventos temáticos que possam trazer usuários para as discussões da política, fomentando o protagonismo desses atores. Outra linha de proposição da PNAS, por meio da qual o direito possa, em primeira instância, tornar-se reclamável para os cidadãos brasileiros, é a criação de
- (A) ouvidorias.
 - (B) entidades privadas.
 - (C) juizados.
 - (D) conselhos tutelares.
 - (E) comitês.
53. O modelo de atendimento assistencial do Brasil sempre foi marcado pela ausência da responsabilidade do Estado e por ações circunstanciais. Com a implementação do Sistema Único de Assistência Social (SUAS), ganham importância a definição, o planejamento e a execução dos serviços, programas, projetos e benefícios socioassistenciais. Tal oferta – por meio da Proteção Social Básica e da Proteção Social Especial de alta e média complexidade – inaugura o referenciamento de famílias e indivíduos na política pública e é organizada de forma hierarquizada e
- (A) suplementar.
 - (B) alternativa.
 - (C) complementar.
 - (D) ampla.
 - (E) genérica.

- 54.** O Sistema Único da Assistência Social (SUAS) está fundamentado na cooperação entre a União, os Estados, o Distrito Federal e os Municípios, tendo definição clara das competências e responsabilidades comuns e específicas à cada esfera de gestão. O Plano de Assistência Social é um instrumento de planejamento estratégico que organiza, regula e norteia a execução da Política Nacional de Assistência Social na perspectiva do SUAS. Conforme determina o artigo 19 da Norma Operacional Básica – NOB/SUAS, os Estados, o Distrito Federal e os Municípios deverão elaborar os respectivos Planos, a cada 4 anos, de acordo com os períodos de elaboração do Plano
- (A) Emergencial – PE.
 - (B) Interdisciplinar – PI.
 - (C) Regional Estratégico – PRE.
 - (D) Assistencial Regular – PAR.
 - (E) Plurianual – PPA.
- 55.** Conforme previsto na Tipificação Nacional dos Serviços Socioassistenciais, o Serviço de Convivência e Fortalecimento de Vínculos deve ser realizado em grupos, organizado a partir de percursos, de modo a garantir aquisições progressivas aos seus usuários, de acordo com o seu ciclo de vida e prevenir a ocorrência de situações de risco social. Deve prever ações intergeracionais e a heterogeneidade na composição dos grupos, serviço esse desenvolvido em articulação com o Serviço de Proteção e
- (A) Abordagem Social Específica.
 - (B) Escuta Profissional Qualificada.
 - (C) Busca Ativa no Território.
 - (D) Atendimento Integral à Família.
 - (E) Encaminhamento Condicional a Calamidades.
- 56.** O Estatuto da Criança e do Adolescente considera os casos de castigo físico, de tratamento cruel ou degradante e de maus-tratos contra criança ou adolescente como questões de saúde e obriga sua comunicação ao Conselho Tutelar, sem prejuízo de outras providências legais. De acordo com o art. 13 (§ 2º) do ECA, os serviços de saúde em suas diferentes portas de entrada, os serviços de assistência social em seu componente especializado, o Centro de Referência Especializado de Assistência Social (Creas) e os demais órgãos do Sistema de Garantia de Direitos da Criança e do Adolescente deverão conferir máxima prioridade ao atendimento das crianças na faixa etária da primeira infância com suspeita ou confirmação de violência de qualquer natureza, formulando projeto terapêutico singular que inclua intervenção em rede e, se necessário,
- (A) afastamento do agressor.
 - (B) acompanhamento domiciliar.
 - (C) busca ativa.
 - (D) guarda compartilhada.
 - (E) reintegração institucional.
- 57.** O Brasil está envelhecendo. É crescente o número de idosos no país, indicando a necessária e urgente atenção das políticas públicas a esse segmento populacional. O Estatuto do Idoso, Lei nº 10.741, de 1º de outubro de 2003, é um passo importante para a concretização de programas e projetos voltados aos idosos. Conforme determina seu art. 9º, garantir à pessoa idosa a proteção à vida e à saúde, mediante efetivação de políticas sociais públicas que permitam um envelhecimento saudável e em condições de dignidade, é obrigação
- (A) do Estado.
 - (B) da sociedade civil organizada.
 - (C) do Conselho de Direitos do Idoso.
 - (D) do mercado.
 - (E) do Judiciário.
- 58.** O Plano Nacional de Promoção, Proteção e Defesa do Direito de Crianças e Adolescentes à Convivência Familiar e Comunitária é uma referência para as políticas públicas no Brasil, pois rompe com a cultura da institucionalização de crianças e adolescentes e o faz ao fortalecer o paradigma da proteção integral e da preservação dos vínculos familiares e comunitários, em sintonia com a legislação vigente no país. A manutenção dos vínculos familiares e comunitários é fundamental para a estruturação das crianças e adolescentes como sujeitos e cidadãos; nesse sentido, é correto afirmar que, em relação às famílias, esse processo está diretamente relacionado ao investimento das políticas públicas na sua
- (A) responsabilização.
 - (B) omissão.
 - (C) atenção.
 - (D) efetivação.
 - (E) territorialização.

59. Para atendimento às deliberações do Sistema Nacional de Atendimento Socioeducativo (SINASE) – Lei nº 12.594/2012, a União deve elaborar o Plano Nacional de Atendimento Socioeducativo, em parceria com os Estados, o Distrito Federal e os Municípios. O Plano deve incluir, entre outros dados, as diretrizes, os objetivos, as metas, as prioridades e as formas de financiamento e gestão das ações de atendimento para os dez anos seguintes. De acordo com o art. 8º, parágrafo único dessa Lei, o acompanhamento da execução dos Planos dos respectivos entes federados deverá ser realizado por meio das Comissões Temáticas dos

- (A) Conselhos Tutelares.
- (B) Centros de Defesa.
- (C) Órgãos Executivos.
- (D) Sistemas Auxiliares.
- (E) Poderes Legislativos.

60. No desenvolvimento de seu trabalho, junto a indivíduos ou famílias, o assistente social estuda a situação, realiza uma avaliação e emite um parecer, por meio do qual propõe a intervenção profissional. O estudo, a perícia, o laudo e o parecer sociais fazem parte da metodologia de trabalho de domínio exclusivo e específico do assistente social. Em se tratando do relatório social, é correto afirmar que a escolha do que registrar em prontuários do Serviço Social e do que pode ser exposto à análise de outro agente está vinculada

- (A) aos conteúdos teóricos.
- (B) à finalidade da ação profissional.
- (C) às prerrogativas institucionais.
- (D) ao desejo do interessado.
- (E) às determinações judiciais.

