

**INSTITUTO DE PREVIDÊNCIA DOS SERVIDORES  
PÚBLICOS DE AVARÉ – AVAREPREV**

ESTADO DE SÃO PAULO

CONCURSO PÚBLICO

**002. PROVA OBJETIVA**

ESCRITURÁRIO

TÉCNICO PREVIDENCIÁRIO

- ◆ Você recebeu sua folha de respostas e este caderno contendo 50 questões objetivas.
- ◆ Confira seus dados impressos na capa deste caderno e na folha de respostas.
- ◆ Quando for permitido abrir o caderno, verifique se está completo ou se apresenta imperfeições. Caso haja algum problema, informe ao fiscal da sala.
- ◆ Leia cuidadosamente todas as questões e escolha a resposta que você considera correta.
- ◆ Marque, na folha de respostas, com caneta de tinta preta, a letra correspondente à alternativa que você escolheu.
- ◆ A duração da prova é de 3 horas, já incluído o tempo para o preenchimento da folha de respostas.
- ◆ Só será permitida a saída definitiva da sala e do prédio após transcorridos 75% do tempo de duração da prova.
- ◆ Deverão permanecer em cada uma das salas de prova os 3 últimos candidatos, até que o último deles entregue sua prova, assinando termo respectivo.
- ◆ Ao sair, você entregará ao fiscal a folha de respostas e este caderno, podendo levar apenas o rascunho de gabarito, localizado em sua carteira, para futura conferência.
- ◆ Até que você saia do prédio, todas as proibições e orientações continuam válidas.

**AGUARDE A ORDEM DO FISCAL PARA ABRIR ESTE CADERNO DE QUESTÕES.**

Nome do candidato \_\_\_\_\_

RG \_\_\_\_\_

Inscrição \_\_\_\_\_

Prédio \_\_\_\_\_

Sala \_\_\_\_\_


Carteira \_\_\_\_\_



## CONHECIMENTOS GERAIS

### LÍNGUA PORTUGUESA

Leia a charge para responder às questões de números **01** e **02**.



(Chargista Duke. <https://www.otempo.com.br>)

**01.** A charge mostra que

- (A) a novela retrata com fidelidade o que é a realidade.
- (B) a realidade é muito menos cativante que a novela.
- (C) a realidade transborda amenidades como a novela.
- (D) a novela retrata com mais intensidade a realidade.
- (E) a realidade e a novela se equivalem na vida humana.

**02.** No enunciado “Éramos nove milhões. Agora somos 13,5 milhões de miseráveis!”, a relação de tempo verbal estabelecida entre as formas destacadas também está presente na frase a seguir, que atende à norma-padrão:

- (A) Antigamente teve nove milhões. Agora é 13,5 milhões de miseráveis!
- (B) Antigamente havia nove milhões. Agora são 13,5 milhões de miseráveis!
- (C) Antigamente haviam nove milhões. Agora tem 13,5 milhões de miseráveis!
- (D) Antigamente houveram nove milhões. Agora existem 13,5 milhões de miseráveis!
- (E) Antigamente tinha nove milhões. Agora existe 13,5 milhões de miseráveis!

Leia o texto para responder às questões de números **03** a **10**.

### Muito devagar e sempre

Um dos principais fatores a dificultar a retomada da economia nos últimos anos tem sido a exasperante letargia da criação de empregos. Apesar da elevada informalidade no mercado, há sinais de que a situação pode melhorar adiante.

Dados recém-divulgados mostraram a criação líquida de 157,2 mil vagas com carteira assinada em setembro, no resultado mais positivo para o mês desde 2013. Outra novidade é a geração em todos os principais setores, incluindo os mais atingidos pela crise, como a construção civil.

É verdade que os dados totais do mercado de trabalho, coletados pelo IBGE, contam uma história menos favorável. Mostra-se a criação de 1,84 milhão de vagas no período de 12 meses até agosto, com prevalência de ocupações na maior parte mais precárias (95% delas sem carteira ou por conta própria).

Nada menos que 41% da população ocupada está na informalidade, e outras cifras suscitam preocupação. A taxa de desemprego tem caído lentamente – na média do trimestre junho-agosto foram 11,8%, ante 12,1% no período correspondente do ano passado. A desocupação ainda atinge 12,6 milhões de brasileiros.

Embora o desempenho recente recomende cautela, os indícios são de continuidade na abertura de postos de trabalho. Uma coletânea de fatores pode impulsionar gradualmente a economia.

(Editorial. *Folha de S.Paulo*, 22.10.2019. Adaptado)

**03.** Uma afirmação coerente com as informações apresentadas no editorial é:

- (A) a quantidade de empregos criados revela equilíbrio entre as ocupações precárias e as ocupações com carteira assinada.
- (B) a recuperação lenta da economia do país não parece ser um impeditivo para a criação rápida de postos de trabalho.
- (C) a abertura de postos de trabalho tende a ser lenta, acompanhando a também lenta recuperação da economia do país.
- (D) a taxa de desemprego, que cai lentamente, tende a retrair-se no futuro breve, dada a estagnação econômica no país.
- (E) o IBGE apresenta dados que mostram uma recuperação bastante vigorosa de postos de trabalho nos últimos 12 meses.

04. De acordo com o texto, “Dados recém-divulgados mostraram a criação líquida de 157,2 mil vagas com carteira assinada em setembro, no resultado mais positivo para o mês desde 2013.” Esse cenário
- (A) torna-se menos expressivo quando comparado aos dados totais do mercado de trabalho, que apontam prevalência de ocupações na maior parte mais precárias.
  - (B) confirma os dados apresentados pelo IBGE e mostra a diminuição do emprego informal para a maioria dos trabalhadores do país.
  - (C) nega não só a ideia de que grande parte da população trabalha informalmente como também a de que existem outras cifras preocupantes.
  - (D) reitera o marasmo na recuperação da construção civil, ao contrário do que se vê nos outros principais setores da economia nacional.
  - (E) minimiza a ideia de uma história favorável de recuperação econômica, já que inexistente a perspectiva de fatores que possam impulsioná-la.
05. A frase inicial do texto – Um dos principais fatores a dificultar a retomada da economia nos últimos anos tem sido a exasperante letargia da criação de empregos. – indica que
- (A) a estagnação da criação de empregos gera inquietude no mercado econômico e dificulta a retomada da economia.
  - (B) a dificuldade de retomada da economia decorre da criação de empregos de forma inconsistente com as necessidades do mercado econômico.
  - (C) a criação de empregos, ainda célere, dificulta a retomada da economia porque ocorre com desinteresse pelo mercado econômico.
  - (D) a economia do país convive com a irritação do mercado econômico, que dificulta a criação rápida de empregos.
  - (E) a criação de empregos exalta o mercado econômico, visando amenizar as turbulências, mas ainda não recuperou a economia.
06. Nas passagens – ... contam uma história menos favorável... (3º parágrafo) – e – ... e outras cifras suscitam preocupação... (4º parágrafo) –, os termos destacados significam, correta e respectivamente:
- (A) preocupante; sugerem.
  - (B) contundente; motivam.
  - (C) esperançosa; dispensam.
  - (D) promissora; provocam.
  - (E) encantadora; reforçam.
07. Sem prejuízo ao sentido original, o período do quinto parágrafo – Embora o desempenho recente recomende cautela, os indícios são de continuidade na abertura de postos de trabalho. – está reescrito, em conformidade com a norma-padrão, em:
- (A) Enquanto o desempenho recente recomenda cautela, os indícios mostram a continuidade na abertura de postos de trabalho.
  - (B) O desempenho recente recomenda cautela, porque os indícios anunciam à continuidade na abertura de postos de trabalho.
  - (C) O desempenho recente recomenda cautela, portanto os indícios sugerem a continuidade na abertura de postos de trabalho.
  - (D) Se o desempenho recente recomenda cautela, os indícios anunciam à continuidade na abertura de postos de trabalho.
  - (E) Apesar de o desempenho recente recomendar cautela, os indícios sinalizam a continuidade na abertura de postos de trabalho.
08. Nas passagens do 4º parágrafo – A taxa de desemprego tem caído **lentamente** – e – A desocupação **ainda** atinge 12,6 milhões de brasileiros. –, os termos destacados expressam, correta e respectivamente, circunstâncias de
- (A) modo e meio.
  - (B) modo e tempo.
  - (C) tempo e tempo.
  - (D) intensidade e dúvida.
  - (E) intensidade e afirmação.
09. Assinale a alternativa que atende à norma-padrão de pontuação.
- (A) A taxa de desemprego tem caído lentamente; a desocupação no entanto ainda atinge no Brasil 12,6 milhões de brasileiros.
  - (B) A exasperante letargia da criação de empregos, tem sido, um dos principais fatores a dificultar a retomada da economia.
  - (C) Outra novidade que inclui as áreas mais atingidas pela crise, é a criação de vagas em todos os principais setores, como o da construção civil.
  - (D) Mostra-se, no período de 12 meses até agosto, a criação de 1,84 milhão de vagas; prevalecem as de ocupações mais precárias na maior parte.
  - (E) Nada menos que 41% da população ocupada no Brasil, está na informalidade – e outras cifras suscitam preocupação.

10. Assinale a alternativa em que a concordância está em conformidade com a norma-padrão.
- (A) Parcela expressiva das pessoas ocupada está na informalidade, segundo o IBGE.
  - (B) Foi criada bastante vagas no período de 12 meses até agosto, mas precárias na maioria.
  - (C) É bom ao país a queda lenta da taxa de desemprego de 11,8% em julho-agosto de 2019.
  - (D) Houve pouco oscilação na taxa de desemprego, que atinge 12,6 milhões de brasileiros.
  - (E) Há meia verdade na análise do resultado mais positivo para setembro desde 2013.

Leia o texto para responder às questões de números 11 a 15.

### Os resistentes

Não sucumbi ao telefone celular. Não tenho e nunca terei um telefone celular. Quando preciso usar um, uso o da minha mulher. Mas segurando-o como se fosse um grande inseto, possivelmente venenoso, desconhecido da minha tribo.

Sei que alguns celulares ronronam e vibram discretamente, em vez de desandarem a chamar seus donos com música. Infelizmente, os donos nem sempre mostram a mesma descrição. Não é raro você ser obrigado a ouvir alguém tratando de detalhes da sua intimidade ou dos furúnculos da tia Djalмира a céu aberto, por assim dizer.

Não dá para negar que o celular é útil, mas no caso a própria utilidade é angustiante. O celular reduziu as pessoas a apenas extremos opostos de uma conexão, pontos soltos no ar, sem contato com o chão. Onde você se encontra se tornou irrelevante, o que significa que, em breve, ninguém mais vai se encontrar.

Não tenho a menor ideia de como funciona o besouro maldito. E chega um momento em que cada nova perplexidade com ele se torna uma ofensa pessoal, ainda mais para quem ainda não entendeu bem como funciona uma torneira.

Ouvi dizer que o celular destrói o cérebro aos poucos. Vejo a nós – os que não sucumbiram, os últimos resistentes – como os únicos são num mundo imbecilizado pelo micro-ondas de ouvido, com o qual as pessoas trocarão grunhidos pré-históricos, incapazes de um raciocínio ou de uma frase completa, mas ainda conectadas. Seremos poucos, mas nos manteremos unidos, e trocaremos informações. Usando sinais de fumaça.

(Luis Fernando Veríssimo [org. Adriana Falcão e Isabel Falcão], "Os resistentes". *Ironias do tempo*, 2018. Adaptado.)

11. Na perspectiva do narrador, o aparelho celular

- (A) eliminou a angústia das pessoas que, estando distantes umas das outras, não podiam encontrar-se.
- (B) disseminou-se amplamente na vida das pessoas, sem que tenha, contudo, alguma utilidade.
- (C) tende a limitar os contatos presenciais, além de comprometer o desenvolvimento do raciocínio.
- (D) acabou com as fronteiras de comunicação, diminuiu a interação face a face e deixou as pessoas felizes.
- (E) mudou a forma de comunicação entre as pessoas, exigindo mais descrição quando elas interagem.

12. Identificam-se termos empregados em sentido figurado no trecho:

- (A) Quando preciso usar um, uso o da minha mulher.
- (B) Infelizmente, os donos nem sempre mostram a mesma descrição.
- (C) Não tenho a menor ideia de como funciona o besouro maldito.
- (D) ... ainda mais para quem ainda não entendeu bem como funciona uma torneira.
- (E) Seremos poucos, mas nos manteremos unidos, e trocaremos informações.

13. Assinale a alternativa que atende à norma-padrão de colocação pronominal.

- (A) Nos manteremos unidos e trocaremos informações, embora seremos poucos.
- (B) Eu não sucumbi ao telefone celular. Não tenho e certamente nunca terei-o.
- (C) Infelizmente tudo expõe-se pelo celular, sem que haja descrição das pessoas.
- (D) As pessoas usam o celular e ele tem reduzido-as a extremos opostos de uma conexão.
- (E) Verdadeiramente nos vejo – os resistentes – como os únicos são nesse mundo confuso.

14. A correta análise do pronome destacado se faz em:

- (A) Mas segurando-o como se fosse um grande inseto... (1º parágrafo) → o pronome refere-se à expressão "o da minha mulher".
- (B) ... os donos nem sempre mostram a **mesma** descrição. (2º parágrafo) → o pronome expressa sentido de reciprocidade.
- (C) ... a ouvir alguém tratando de detalhes da **sua** intimidade... (2º parágrafo) → o pronome estabelece a interação com o leitor.
- (D) ... o que significa que em breve **ninguém** mais vai se encontrar. (3º parágrafo) → o pronome expressa sentido de possessividade.
- (E) ... **os** que não sucumbiram, os últimos resistentes... (5º parágrafo) → o pronome refere-se aos incapazes de um raciocínio.

15. Assinale a alternativa em que o adjetivo destacado atribui uma qualidade positiva àqueles que, como o narrador, opõem-se ao telefone celular.

- (A) Mas segurando-o como se fosse um grande inseto, possivelmente **venenoso**...
- (B) Não dá para negar que o celular é útil, mas no caso a própria utilidade é **angustiante**.
- (C) O celular reduziu as pessoas a apenas extremos **opostos** de uma conexão...
- (D) ... como os únicos **são** num mundo imbecilizado pelo micro-ondas de ouvido...
- (E) ... incapazes de um raciocínio ou de uma frase completa, mas ainda **conectadas**.

16. Em meados de novembro de 2019, um jornal eletrônico publicou a seguinte informação:

Dois em cada três brasileiros acreditam em *fake news* sobre vacinas.

(<https://www.bemparana.com.br/noticia/dois-em-cada-tres-brasileiros-acreditam-em-fake-news-sobre-vacinas#.Xd6ThehKJIU>)

Com base na informação publicada, é correto afirmar que o número de brasileiros que acreditam em *fake news* sobre vacinas corresponde, do número de brasileiros que não acreditam,

- (A) a um quarto.  
(B) a um terço.  
(C) à metade.  
(D) ao dobro.  
(E) ao triplo.
17. A média aritmética simples das idades de Marcelo e de Débora é 45 anos. Se Débora é 6 anos mais nova que Marcelo, então Marcelo tem
- (A) 48 anos.  
(B) 49 anos.  
(C) 50 anos.  
(D) 51 anos.  
(E) 52 anos.
18. Maria tem R\$ 50,00 a mais do que tem João e, juntos, eles têm R\$ 200,00. Dessa forma, o valor que João tem corresponde, do valor que Maria tem, a:
- (A)  $\frac{2}{5}$   
(B)  $\frac{1}{2}$   
(C)  $\frac{3}{5}$   
(D)  $\frac{7}{10}$   
(E)  $\frac{4}{5}$
19. Um capital de R\$ 1.200,00, aplicado no regime de juros simples, rendeu R\$ 65,00 de juros. Sabendo-se que a taxa de juros contratada foi de 2,5% ao ano, é correto afirmar que o período da aplicação foi de
- (A) 20 meses.  
(B) 22 meses.  
(C) 24 meses.  
(D) 26 meses.  
(E) 30 meses.

20. O Índice de Desenvolvimento da Educação Básica (Ideb) é um indicador criado pelo governo federal para medir a qualidade do ensino nas escolas públicas. Conforme dados informados pelo Instituto Brasileiro de Geografia e Estatística (IBGE), em 2017, no Ensino Fundamental do município de Avaré, o Ideb para os anos iniciais foi 26% maior que o Ideb dos anos finais. Se a diferença entre esses indicadores foi de 1,3 pontos, então o Ideb dos anos iniciais foi
- (A) 6,8.
  - (B) 6,3.
  - (C) 5,8.
  - (D) 5,3.
  - (E) 4,8.
21. Em uma escritura, consta que a área de um terreno é de 250 000 m<sup>2</sup>. Essa área, em km<sup>2</sup>, corresponde a
- (A) 2500.
  - (B) 250.
  - (C) 25.
  - (D) 2,5.
  - (E) 0,25.
22. O total de 320 folhas de sulfite, sendo 140 na cor azul e as demais na cor amarela, será distribuído em um maior número possível de envelopes, inicialmente vazios, em que cada um deles conterà  $x$  folhas na cor azul e  $y$  folhas na cor amarela. Após essa divisão, Ana ficará com 4 desses envelopes. Sendo assim, Ana ficará com o número total de folhas na cor amarela que excederá o número total de folhas na cor azul em
- (A) 4 unidades.
  - (B) 8 unidades.
  - (C) 12 unidades.
  - (D) 16 unidades.
  - (E) 20 unidades.
23. Carlos comprou uma camiseta, com desconto de 15% sobre a etiqueta, pagando por ela o valor de R\$ 32,30. Em dinheiro, o valor do desconto foi de
- (A) R\$ 4,80.
  - (B) R\$ 5,70.
  - (C) R\$ 6,30.
  - (D) R\$ 7,40.
  - (E) R\$ 8,20.

24. Dois relógios foram programados para despertar em intervalos de tempo constantes: um deles desperta 3 vezes ao dia, e o outro, 4 vezes ao dia. Suponha que em determinado horário  $x$ , de um dia qualquer, ambos os relógios despertaram, ao mesmo tempo, e funcionaram corretamente, durante as 50 horas seguintes. Nessas condições, iniciando-se a contagem nesse horário  $x$ , e encerrando-a 50 horas após, o número total de vezes em que esses dois relógios teriam despertado, em um mesmo horário, será igual a

- (A) 3.
- (B) 4.
- (C) 5.
- (D) 6.
- (E) 7.

25. Uma loja trabalha com produtos que são classificados em apenas três tipos. Na tabela, constam os preços de venda de cada tipo do produto:

Tipo do produto	Preço unitário de venda
A	R\$ 10,00
B	R\$ 12,00
C	R\$ 15,00

No último dia útil de funcionamento, foram vendidos produtos dos três tipos, sendo que, do total de unidades vendidas,  $\frac{1}{4}$  foi de produtos do tipo A,  $\frac{2}{5}$  foi de produtos do

tipo B, e o restante, de produtos do tipo C. Naquele dia, o preço médio unitário de venda dos produtos vendidos foi de

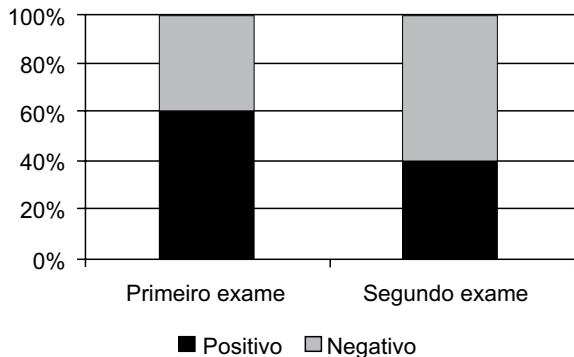
- (A) R\$ 11,95.
- (B) R\$ 12,30.
- (C) R\$ 12,55.
- (D) R\$ 13,50.
- (E) R\$ 13,95.

26. Em uma fábrica de refrigerantes, 3 máquinas iguais, trabalhando com capacidade máxima, ligadas ao mesmo tempo, engarrafam 5 mil unidades de refrigerante, em 4 horas. Se apenas 2 dessas máquinas trabalharem, nas mesmas condições, no engarrafamento de 6 mil unidades do refrigerante, o tempo esperado para a realização desse trabalho será de

- (A) 6 horas e 40 minutos.
- (B) 6 horas e 58 minutos.
- (C) 7 horas e 12 minutos.
- (D) 7 horas e 20 minutos.
- (E) 7 horas e 35 minutos.



27. Em certo município ocorreu uma epidemia de uma doença. O gráfico apresenta informações sobre os resultados dos exames laboratoriais feitos nos pacientes que foram atendidos em determinada semana: se o primeiro exame indicasse negativo, os médicos tinham certeza de que o paciente não estava com aquela doença; caso contrário, um segundo exame era feito, e o paciente era diagnosticado com a doença somente se o segundo exame indicasse positivo.



Se, naquela semana, 150 pacientes foram diagnosticados com a doença, então o número de pacientes que foram atendidos e não contraíram a doença foi

- (A) 250.  
 (B) 300.  
 (C) 325.  
 (D) 400.  
 (E) 475.
28. Em um concurso público para os cargos A e B, o número de candidatos inscritos para concorrer às vagas para o cargo B era 100 unidades menor que  $\frac{2}{3}$  do número de candidatos inscritos para concorrer às vagas para o cargo A. Se na primeira fase do concurso foram aprovados, ao todo, 1 050 candidatos, sendo metade dos inscritos para o cargo A e a terça parte dos inscritos para o cargo B, então o número total de candidatos inscritos para esse concurso era
- (A) 2000.  
 (B) 2100.  
 (C) 2200.  
 (D) 2300.  
 (E) 2400.
29. Um terreno retangular, com 1 728 metros quadrados de área, tem o maior lado medindo 12 metros a mais que o menor lado. A razão entre as medidas do menor e do maior lado desse terreno é igual a
- (A) 0,75.  
 (B) 0,70.  
 (C) 0,65.  
 (D) 0,60.  
 (E) 0,55.

30. Certo suco é vendido em latinhas de alumínio, no formato de cilindro. Cada latinha contém 270 mL de suco, o que corresponde a  $\frac{9}{10}$  do volume total da latinha, se utilizado

$\pi = 3$ . Se o diâmetro da latinha é de 6 cm, e cada  $\text{cm}^3$  corresponde a 1 mL, então a altura de cada latinha é de, aproximadamente,

- (A) 8 cm.  
 (B) 9 cm.  
 (C) 10 cm  
 (D) 11 cm.  
 (E) 12 cm.

R A S C U N H O

## LEGISLAÇÃO

31. De acordo com a Lei Municipal nº 315/1995, é correto afirmar que

- (A) os cargos isolados são destinados exclusivamente para os cargos em comissão.
- (B) os cargos de carreira podem ser de provimento efetivo ou temporário.
- (C) as atribuições dos titulares dos cargos públicos serão estabelecidas na lei ou resolução criadora do cargo ou em decreto regulamentar.
- (D) quando se tratar de funções de chefia ou direção, será vedado atribuir ao funcionário público encargos diversos daqueles relativos ao seu cargo.
- (E) nos casos de readaptação do funcionário público, a Lei veda quaisquer outros serviços diversos ao cargo.

32. Suponha que um escriturário do Instituto Previdenciário dos Servidores Públicos de Avaré, ainda cumprindo o período de estágio probatório, solicitou remoção para um local mais próximo de sua residência.

Nesse caso hipotético, e conforme disposições da Lei Municipal nº 315/1995, ele

- (A) poderá ser removido, após a expressa concordância do seu chefe imediato.
- (B) não poderá ser removido, visto que a Lei veda a remoção do funcionário que se encontra em período de estágio probatório.
- (C) poderá ser removido a pedido, após comprovada necessidade demonstrada por ele, e dirigida à autoridade superior.
- (D) poderá ser removido *ex officio* para atender às necessidades da Administração Pública.
- (E) não poderá ser removido *ex officio*, mas poderá ser removido a pedido.

33. Em relação ao tempo de serviço, e conforme dispõe a Lei Municipal nº 315/1995, assinale a alternativa correta.

- (A) A apuração do tempo de serviço será feita em anos corridos, sendo vedada por essa Lei qualquer outra forma de contagem de tempo.
- (B) Os anos não serão convertidos em dias.
- (C) As faltas abonadas não integram a contagem de tempo de serviço para promoção por merecimento.
- (D) O tempo de desempenho em mandato eletivo será considerado para todos os fins, inclusive para a promoção.
- (E) É vedada a contagem em dobro do tempo de serviço prestado simultaneamente em dois cargos, junto à Administração Direta ou Indireta.

34. A Lei Municipal nº 315/1995 estabelece que o servidor em estágio probatório terá o seu desempenho avaliado, dentre outros, com base nos critérios de

- (A) assiduidade e pontualidade.
- (B) assiduidade e eficácia no trabalho.
- (C) assiduidade e aptidão.
- (D) pontualidade e conhecimento das leis.
- (E) produtividade e aptidão.

35. Para os efeitos da Lei Complementar nº 126/2010, o conjunto de classes e cargos com afinidades entre si quanto à natureza do trabalho ou ao grau de escolaridade exigido para seu desempenho define

- (A) quadro de pessoal.
- (B) classe de cargos.
- (C) carreira.
- (D) grupo ocupacional.
- (E) padrão de vencimentos.

36. De acordo com o que prescreve a Lei Complementar nº 126/2010 sobre a capacitação dos servidores públicos municipais, assinale a alternativa correta.

- (A) A capacitação dos servidores públicos municipais terá caráter subjetivo e prolongado, e será ministrada diretamente pela Prefeitura.
- (B) Estimular o desenvolvimento funcional, criando condições propícias ao constante aperfeiçoamento dos servidores é um dos objetivos da capacitação dos servidores públicos municipais.
- (C) As chefias de todos os níveis hierárquicos não estão obrigadas a participar dos programas de treinamento e capacitação dos servidores públicos municipais.
- (D) Os programas de capacitação e treinamento serão elaborados semestralmente, a tempo de se prever os recursos indispensáveis à sua implementação.
- (E) A formação, a integração, a continuidade e a adaptação são os quatro tipos de capacitação previstos para os servidores públicos municipais.

37. Uma servidora pública municipal considerou que o seu enquadramento no cargo foi feito em desacordo com as normas da Lei Complementar nº 126/2010.

Nesse caso hipotético, ela poderá, a contar da data de publicação das listas nominais de enquadramento,

- (A) recorrer ao Prefeito, no prazo de 10 (dez) dias úteis.
- (B) pedir revisão do seu enquadramento, com requerimento devidamente fundamentado, dirigido ao seu chefe imediato, no prazo de 10 (dez) dias úteis.
- (C) dirigir à Comissão de Avaliação de Desempenho uma petição de revisão de enquadramento, devidamente fundamentada e protocolada, no prazo de 05 (cinco) dias.
- (D) desconsiderar a revisão de seu enquadramento, visto que seu grau de escolaridade é inferior ao cargo que ocupa, fato que não dá a ela o direito de recorrer.
- (E) recorrer ao seu chefe imediato que, após consulta à Comissão de Enquadramento, deverá decidir sobre o recurso, nos 05 (cinco) dias que se sucederem ao recebimento da petição.

38. A Lei Municipal nº 938/2007 determina que o Regime Próprio da Previdência Social do Município de Avaré, observada a Legislação Federal pertinente, obedecerá ao seguinte princípio ou diretriz:

- (A) proteção à maternidade, à infância e à família.
- (B) garantir meios de subsistência nos eventos de invalidez ou reclusão.
- (C) garantir a redutibilidade dos benefícios para os mais necessitados.
- (D) universalidade de participação nos planos previdenciários.
- (E) valor mensal das aposentadorias e pensões, que poderão ser inferiores ao valor do salário-mínimo.

39. De acordo com Lei Municipal nº 938/2007, são dependentes presumidos do beneficiário do Regime Próprio da Previdência Social do Município de Avaré

- (A) o cônjuge, a companheira ou o companheiro e o filho não emancipado, de qualquer condição, menor de vinte e um anos ou inválido.
- (B) os pais considerados inválidos ou que não possuam renda própria para o sustento.
- (C) os avós maternos ou paternos considerados inválidos.
- (D) o menor de vinte e um anos, não emancipado, que é mantido sob tutela.
- (E) o irmão não emancipado, de qualquer situação, menor de vinte e um anos ou inválido.

40. Com relação às disposições gerais sobre os benefícios, e conforme disciplinado na Lei Municipal nº 938/2007, assinale a alternativa correta.

- (A) As parcelas remuneratórias pagas em decorrência de local de trabalho, de função de confiança e de cargo em comissão, mesmo que não tenham sido integradas à remuneração de contribuição do servidor, serão incluídas no benefício.
- (B) A aposentadoria por invalidez será devida ao segurado, a partir da data do laudo médico-pericial que declarar a incapacidade para o trabalho ou a readaptação do servidor.
- (C) Na hipótese de moléstia contagiosa, o benefício não poderá ser pago a procurador do beneficiário, ficando acumulado até que cesse tal moléstia.
- (D) O valor não recebido em vida pelo segurado somente será pago aos beneficiários após a abertura do inventário ou arrolamento.
- (E) As contribuições pagas aos sindicatos de classe não poderão ser descontadas dos valores do benefício a ser pago ao segurado.

#### NOÇÕES DE INFORMÁTICA

41. Um usuário do MS-Windows 7 com MS-Office 2010, em suas configurações originais, acessou uma pasta em seu computador e viu a lista de arquivos exibida a seguir.

 arq.pptx  
 bbc.docx  
 otr.txt  
 slc.xlsx  
 wpa.zip

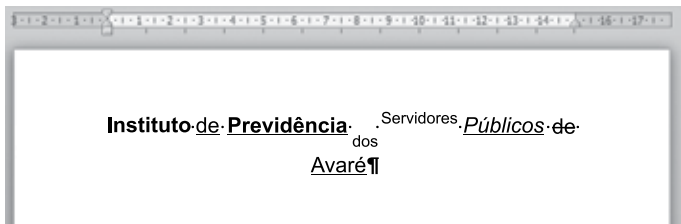
A quantidade de arquivos na imagem cuja extensão corresponde a editores de texto é

- (A) 1.
- (B) 2.
- (C) 3.
- (D) 4.
- (E) 5.

42. Para copiar arquivos no MS-Windows 7, em sua configuração original, de uma pasta local para uma outra pasta local inicialmente vazia, após selecionar o arquivo desejado por meio do Windows Explorer, um usuário deve usar o seguinte atalho por teclado:

- (A) Ctrl + V
- (B) Ctrl + X
- (C) Ctrl + Z
- (D) Ctrl + C
- (E) Ctrl + Y

Para responder às questões de números **43** e **44**, considere a imagem a seguir, de um documento sendo editado por meio do MS-Word 2010, em sua configuração padrão. O tamanho e o tipo de Fonte são os mesmos em todas as palavras do documento. As marcas de parágrafo estão ativas.



**43.** Assinale a alternativa que apresenta corretamente uma palavra do documento com a formatação de Fonte nela aplicada.

- (A) Servidores – sobrescrito.
- (B) Previdência – itálico.
- (C) Públicos – negrito.
- (D) Avaré – taxado.
- (E) Instituto – subscrito.

**44.** O alinhamento do parágrafo do documento é

- (A) Centralizado.
- (B) Justificado.
- (C) Normal.
- (D) Alinhado à esquerda.
- (E) Alinhado à direita.

**45.** Observe a planilha a seguir, preparada por meio do MS-Excel 2010, em sua configuração padrão.


	A	B
1	1	2
2	3	3
3	5	2
4	7	9
5		

O valor que será apresentado na célula A5 após esta ser preenchida com a fórmula =MÉDIA(A1:B4) é:

- (A) 1
- (B) 3
- (C) 4
- (D) 5
- (E) 9

Para responder às questões de números **46** e **47**, considere a planilha exibida a seguir, elaborada por meio do MS-Excel 2010, em sua configuração padrão.

	A	B	C
1	<b>Fluxo de Documentos</b>		
2	Tipo de Documento	Destino	Prazo
3	Processo	Área de protocolo	5
4	Resolução	Publicação	4
5	Ofício	Superior imediato	3
6	Expediente	Sala 3	2
7	Portaria	Publicação	1
8			

**46.** O usuário selecionou os dados conforme visto na planilha e, em seguida, clicou em .


O valor exibido na célula C6 após as ações descritas no enunciado será:

- (A) 1
- (B) 2
- (C) 3
- (D) 4
- (E) 5

**47.** Para que o texto “Fluxo de Documentos”, digitado na célula A1, tenha ficado conforme exibido na imagem, o usuário selecionou o intervalo A1:C1 e utilizou o seguinte ícone:

- (A) 
- (B) 
- (C) 
- (D) 
- (E) 

48. Observe o painel de *slides* exibido a seguir, que mostra os 5 *slides* existentes em uma apresentação elaborada por meio do MS-PowerPoint 2010, em sua configuração padrão.



Ao pressionar F5 para iniciar o Modo de Apresentação, o primeiro *slide* a ser apresentado é:

- (A) 1
  - (B) 2
  - (C) 3
  - (D) 4
  - (E) 5
49. No Internet Explorer 11, em sua configuração padrão, o atalho por teclado usado para selecionar o endereço da barra de endereços é:
- (A) F1
  - (B) F4
  - (C) F5
  - (D) F6
  - (E) F9

50. Um usuário enviou um e-mail por meio do MS-Outlook 2010, em sua configuração padrão, cujos campos estavam como mostrados a seguir.

De: usuario@avare.gov.br  
Para: superior@avare.gov.br  
Cc: novo@avare.gov.br  
Cco: protocolo@avare.gov.br  
Assunto: cadastrar estagiario@avare.gov.br

Considerando que a mensagem foi enviada e recebida com sucesso, de acordo com os campos mostrados, a quantidade de contas de e-mail que receberam a mensagem foi:

- (A) 1
- (B) 2
- (C) 3
- (D) 4
- (E) 5





