



FUNDAÇÃO INSTITUTO TECNOLÓGICO DE OSASCO
ESTADO DE SÃO PAULO

CONCURSO PÚBLICO

010. PROVA OBJETIVA

ANALISTA DE GESTÃO: CONTABILIDADE

- ◆ Você recebeu sua folha de respostas e este caderno contendo 60 questões objetivas.
- ◆ Confira seus dados impressos na capa deste caderno e na folha de respostas.
- ◆ Quando for permitido abrir o caderno, verifique se está completo ou se apresenta imperfeições. Caso haja algum problema, informe ao fiscal da sala.
- ◆ Leia cuidadosamente todas as questões e escolha a resposta que você considera correta.
- ◆ Marque, na folha de respostas, com caneta de tinta preta, a letra correspondente à alternativa que você escolheu.
- ◆ A duração da prova é de 3 horas e 30 minutos, já incluído o tempo para o preenchimento da folha de respostas.
- ◆ Só será permitida a saída definitiva da sala e do prédio após transcorridos 75% do tempo de duração da prova.
- ◆ Ao sair, você entregará ao fiscal a folha de respostas e este caderno, podendo levar apenas o rascunho de gabarito, localizado em sua carteira, para futura conferência.
- ◆ Até que você saia do prédio, todas as proibições e orientações continuam válidas.

AGUARDE A ORDEM DO FISCAL PARA ABRIR ESTE CADERNO DE QUESTÕES.

Nome do candidato

RG

Inscrição

Prédio

Sala

Carteira

CONHECIMENTOS GERAIS

LÍNGUA PORTUGUESA

Leia o texto para responder às questões de números **01** a **08**.

Pai do vício nas telas agora quer oferecer a cura

Quase 80% dos usuários de smartphones checam seus celulares nos primeiros 15 minutos depois de acordar. E a tendência é só piorar, diz Nir Eyal, professor de Stanford e consultor especializado em ajudar empresas de tecnologia a tornar seus produtos mais viciantes. Nesse mercado, ele afirma que “as empresas que vencem são aquelas que conseguem inventar os produtos mais grudentos”.

Eyal esclarece que as empresas criaram o processo de **figurar** pessoas, de **jogar o anzol**, acionando quatro passos básicos. Começa com um **gatilho**, algo que diz ao usuário o que fazer, podendo ser externo ou interno. No Facebook, por exemplo, seria uma notificação que chama atenção para o que está acontecendo na rede. Isso leva ao segundo passo, a ação, algo que o usuário faz em busca de uma recompensa. Ele vai abrir o aplicativo, checar a notificação e começar a ler seu “feed” de notícias. O terceiro passo é a recompensa variável. O psicólogo americano B.F. Skinner mostrou que, quando uma recompensa é dada sem que possa ser prevista, a ação se torna mais frequente. E, então, chega-se à fase do investimento: quando o consumidor usa o produto de forma a aumentar a probabilidade de voltar a usá-lo.

Eyal admite que depois de um tempo, as empresas nem precisam mais de gatilhos externos. Em vez disso, eles começam a acontecer por causa dos gatilhos internos, associações na mente do usuário. Quando você está entediado, entra no YouTube, se se sente sozinho, abre o Facebook, se tem uma dúvida, checa o Google. Geralmente, são os sentimentos negativos que fazem as pessoas voltarem.

Agora, Eyal começa a pensar em um método para reverter o vício e ele não está sozinho. Antigos executivos do Facebook e WhatsApp tornaram-se críticos da tecnologia. Eles criaram o vício e agora querem oferecer a cura. Mas para isso acontecer é preciso que os consumidores entendam como sentimentos ruins, como tédio ou solidão, são manipulados para mantê-los fiéis a essas empresas. “Quero que as pessoas pensem em formas de ganhar mais controle de suas vidas, em vez de serem controladas pela tecnologia”, arremata Eyal.

(www1.folha.uol.com.br. Adaptado, acessado em 13.10.2019)

01. Segundo o texto, o processo de **figurar** pessoas (2º parágrafo)

- (A) descreve o modo como elas se tornam hábeis em se desvencilhar do poder e da influência que as redes exercem sobre elas.
- (B) configura uma situação que sugere ao usuário de tecnologia a possibilidade de controlá-la, desde que ele conheça algumas regras.
- (C) inicia-se com um procedimento despretensioso que vai adquirindo consistência, a ponto de submeter o usuário a um pacto unilateral com as redes.
- (D) parte do princípio de que qualquer pessoa que estabelecer uma relação de confiança com as empresas de tecnologia poderá se beneficiar com isso.
- (E) oferece um guia de como o usuário pode criar táticas e tirar proveito das redes para ampliar o manejo com a tecnologia.

02. Assinale a alternativa que, introduzida por uma conjunção de causa, completa, de acordo com o sentido do texto, a frase - As empresas nem precisam mais de gatilhos externos,...

- (A) inclusive desistiram de inventar tecnologias que produzem mecanismos viciantes.
- (B) uma vez que os usuários já tinham sido sutilmente motivados para usar as redes.
- (C) depois que suas ações alcançaram as posições mais altas no mercado de bens tecnológicos.
- (D) com que operavam para oferecer aos usuários condições de uso moderado das redes.
- (E) para garantir que o usuário passe a ter mais controle do uso exagerado da tecnologia.

03. Segundo Eyal, para que o usuário passe a ter controle sobre suas vidas, deve

- (A) entender previamente o funcionamento de suas emoções.
- (B) minimizar as más intenções das empresas de tecnologia.
- (C) praticar exercícios e atividades que o distanciem das redes.
- (D) criar e seguir um guia de aplicação de bons sentimentos.
- (E) procurar manter-se alheio às atrações das redes.

04. Na frase – Antigos executivos do Facebook e WhatsApp tornaram-se críticos da tecnologia. Eles criaram o vício e agora querem oferecer a cura. –, a atitude dos executivos pode ser entendida, no contexto, como

- (A) uma apologia para validar a importância da tecnologia.
- (B) uma desistência, porque o avanço tecnológico não compensou.
- (C) uma obstinação, pois, deve-se insistir em algo que deu certo.
- (D) um antídoto, visando à reversão de um processo.
- (E) uma autocrítica com o objetivo de reforçar o alcance da tecnologia.

05. Assinale a alternativa que completa, correta e respectivamente, as lacunas da frase, de acordo com a conjugação verbal.

Se o usuário se _____ fiel às empresas, é improvável que se _____ contra o vício e _____ controle sobre sua vida.

- (A) mantiver... previna... exerça
- (B) mantém... previne... exerce
- (C) mantiver... previna... exerce
- (D) mantém... previne... exerça
- (E) mantenha... previne... exerça

06. Assinale a alternativa que completa, corretamente, de acordo com o padrão da concordância, a frase.

Se anzol, gatilhos, recompensas, tudo _____?

- (A) colaboram para viciar o usuário, poderão haver soluções para livrá-lo do vício
- (B) colabora para viciar o usuário, haverá soluções para livrá-lo do vício
- (C) colabora para viciar o usuário, poderá haver soluções para livrá-lo do vício
- (D) colaboram para viciar o usuário, poderá haver soluções para livrá-lo do vício
- (E) colabora para viciar o usuário, poderão haver soluções para livrá-lo do vício

07. Assinale a alternativa correta quanto ao emprego do acento indicativo da crase nas duas primeiras lacunas e do pronome pessoal na última, de acordo com a norma-padrão.

As empresas jogam o anzol, físgam as pessoas, que se entregam docilmente _____ redes e, passo _____ passo, vão oferecendo _____ recompensas.

- (A) as... a... a elas
- (B) as... a... -nas
- (C) as... à... -lhes
- (D) às... a... -lhes
- (E) as... à... nas

08. Examinando-se as expressões em destaque no segundo parágrafo, conclui-se que

- (A) **físgar** e **anzol** estão empregadas em sentido próprio.
- (B) as três estão empregadas em sentido figurado.
- (C) **físgar** e **jogar o anzol** estão em sentido figurado, mas **gatilho**, em sentido próprio.
- (D) **jogar o anzol** está em sentido figurado, mas **gatilho**, em sentido próprio.
- (E) todas estão empregadas em sentido próprio.

09. Leia o poema de Eduardo Alves da Costa, para responder à questão.

Na primeira noite eles se aproximam
e roubam uma flor
do nosso jardim.
E não dizemos nada.
Na segunda noite, já não se escondem:
pisam as flores,
matam nosso cão,
e não dizemos nada.
Até que um dia,
o mais frágil deles
entra sozinho em nossa casa,
rouba-nos a luz e,
conhecendo nosso medo,
arranca-nos a voz da garganta.
E já não podemos dizer nada.

É correto afirmar que o poema descreve

- (A) uma situação de reciprocidade entre classes diferentes de pessoas.
- (B) um processo crescente de violência e de submissão.
- (C) um acontecimento auspicioso na vida de uma família comum.
- (D) uma previsão surpreendente de que algo de novo possa acontecer.
- (E) um conjunto dissimulado de regras de dominação de subalterno.

10. Leia a charge para responder à questão.

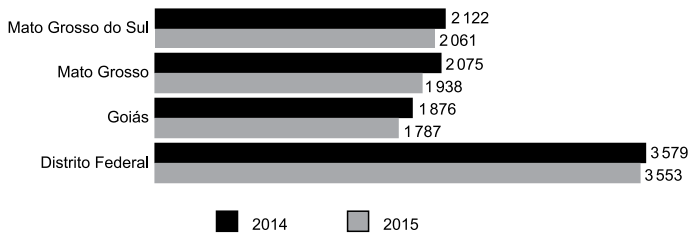


(www.pinterest.com. Acessado em 17.10.2019)

O segmento em destaque em – **fazermos de conta que** você me olha enquanto eu falo? – pode ser reescrito, de acordo com o sentido e com a norma da regência, em:

- (A) conjecturarmos de que ...
- (B) atentarmos em que
- (C) confabularmos em que ...
- (D) almejarmos de que ...
- (E) pressupormos que ...

11. O gráfico a seguir apresenta o rendimento médio mensal real de todos os trabalhos das pessoas de 15 anos ou mais de idade em quatro unidades da federação: Mato Grosso do Sul, Mato Grosso, Goiás e Distrito Federal (2014 – 2015).



(IBGE, Diretoria de Pesquisas, Coordenação de Trabalho e Rendimento, Pesquisa Nacional por Amostra de Domicílios 2014-2015)

Em 2015, no Distrito Federal, o rendimento médio mensal real de todos os trabalhos da referida população é superior ao de Goiás no mesmo período. Assim, o Distrito Federal tem o rendimento superior ao de Goiás em uma porcentagem

- (A) menor que 25%.
- (B) maior que 25% e menor que 50%.
- (C) maior que 50% e menor que 75%.
- (D) maior que 75% e menor que 100%.
- (E) maior que 100%.
12. Elisa fez um exame de sangue para verificar sua glicemia em jejum e o resultado foi de 260 mg/dL. Seu médico prescreveu remédio, dieta e exercícios para que alcançasse a taxa de 110 mg/dL que seria a sua meta. Um mês após iniciado o tratamento, em um segundo exame, verificou-se que sua taxa diminuiu em 40%. Elisa continuou o tratamento e vinte dias depois, em terceiro exame, constatou-se que sua taxa havia diminuído 20% em relação ao segundo exame. Desse modo, é correto afirmar que o resultado do terceiro exame indicou que a taxa de glicose de Elisa estava, em relação a sua meta, um valor igual a
- (A) 14,8 mg/dL inferior.
- (B) 12,0 mg/dL inferior.
- (C) 6,0 mg/dL inferior.
- (D) 14,8 mg/dL superior.
- (E) 6,0 mg/dL superior.

13. Um galpão tem a superfície em formato quadrado com perímetro igual a 96 m. Esse galpão será dividido em três salas de modo que suas áreas sejam diretamente proporcionais aos números: 2, 4 e 9. A diferença entre as áreas das duas maiores salas será igual a
- (A) 32,0 m².
(B) 68,4 m².
(C) 153,6 m².
(D) 180,8 m².
(E) 192,0 m².

14. A tabela a seguir apresenta os salários mensais de todos os 16 funcionários de um departamento.

Número de funcionários	Salário (R\$)
6	2.500,00
5	4.000,00
4	5.000,00
1	8.000,00

Serão contratados para esse departamento quatro novos funcionários com salários iguais, pois irão executar a mesma função. Para que a média salarial dos 20 funcionários não ultrapasse o valor de R\$ 4.500,00, o maior salário possível para cada um desses quatro novos contratados não poderá ultrapassar o valor de

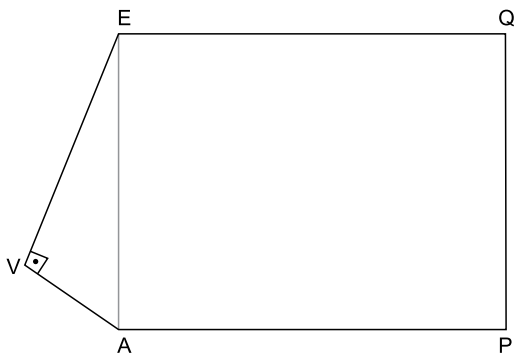
- (A) R\$ 6.250,00.
(B) R\$ 6.750,00.
(C) R\$ 7.000,00.
(D) R\$ 7.250,00.
(E) R\$ 7.500,00.
15. Uma livraria colocou à venda 240 livros de um determinado título, todos com o mesmo preço. Foram vendidos apenas $\frac{3}{8}$ desse estoque de livros. Para vender mais rapidamente o restante, a livraria ofereceu um desconto de R\$ 15,00 no preço de cada livro e todos foram vendidos. Se o total arrecadado com a venda do estoque inteiro foi de R\$ 12.150,00, conclui-se que o preço sem desconto, cobrado inicialmente por cada livro, era de
- (A) R\$ 45,00.
(B) R\$ 55,00.
(C) R\$ 60,00.
(D) R\$ 70,00.
(E) R\$ 75,00.

16. Uma grande empresa ofereceu aos funcionários de seus três setores um programa de reeducação alimentar e exercícios físicos. A tabela a seguir apresenta o número de funcionários de cada um dos setores que aderiu a esse programa.

Setor	Nº de funcionários
I	84
II	168
III	140

Deseja-se formar equipes com o maior número possível de funcionários, de tal maneira que todos os componentes de cada equipe sejam do mesmo setor. Para facilitar a organização, todas as equipes de todos os setores devem ter a mesma quantidade de funcionários. Desse modo, o número total de equipes será

- (A) menor que 12.
 (B) maior que 12 e menor que 15.
 (C) maior que 15 e menor que 21.
 (D) maior que 21 e menor que 24.
 (E) maior que 24.
17. O polígono AVEQP da figura representa um terreno e não está desenhado em escala. O triângulo EVA é retângulo em V e o quadrilátero EAPQ é um retângulo. As medidas de EV e VA são, respectivamente, iguais a 48 m e 20 m.



Se a medida do lado AP é igual a 75 m, então a área do terreno em m^2 é igual a

- (A) 4 380.
 (B) 4 575.
 (C) 5 050.
 (D) 5 275.
 (E) 6 125.

18. Uma sequência é formada pela seguinte expressão $2n^2 - 3n + 5$.

Para se determinar o 1º elemento dessa sequência, basta substituir o n por 1, para se determinar o 2º elemento, substitui-se o n por 2, e assim por diante. Os cálculos a seguir mostram a obtenção desses dois elementos:

$$1^\circ \text{ elemento: } 2 \cdot 1^2 - 3 \cdot 1 + 5 = 4$$

$$2^\circ \text{ elemento: } 2 \cdot 2^2 - 3 \cdot 2 + 5 = 7$$

Sabe-se que o número 410 pertence a essa sequência. Assim, a soma de 410 e o número que o antecede na sequência é igual a

- (A) 420.
(B) 527.
(C) 570.
(D) 635.
(E) 765.
19. Analise as afirmações que apresentam transformações entre unidades de medida das grandezas tempo, comprimento, área e capacidade.

I. $4,45 \text{ h} = 4 \text{ h } 27 \text{ min}$

II. $0,05 \text{ km} = 5000 \text{ mm}$

III. $48,5 \text{ cm}^2 = 48 \text{ cm}^2 \text{ e } 5 \text{ mm}^2$.

IV. $7,8 \text{ m}^3 = 7800 \text{ litros}$.

As duas únicas afirmações corretas são

- (A) I e II.
(B) I e III.
(C) I e IV.
(D) II e III.
(E) III e IV.
20. Em uma fábrica, 6 máquinas, operando 8 horas por dia, demoraram 3 dias para fazer 60% do trabalho. Se depois disso, duas máquinas ficarem fora da operação, o trabalho será concluído em 2 dias, se as máquinas restantes nas mesmas condições trabalharem, por dia,
- (A) 12 horas.
(B) 11,5 horas.
(C) 11 horas.
(D) 10,5 horas.
(E) 9 horas.

ATUALIDADES

21. O governo pretende retomar a mineração de um importante elemento químico em território nacional, que teve a exploração paralisada nos últimos cinco anos. O ministro de Minas e Energia, Bento Albuquerque, disse ao jornal *O Estado de S. Paulo* (07.10.2019) que esse não é apenas um desejo do governo, mas uma decisão política que será adotada. A expectativa é iniciar os trabalhos na mina do Engenho, em Caetité, na Bahia, até o fim deste ano (2019).

(Exame. Disponível em: <https://bit.ly/2PjYHx3>. Acesso em 22.10.2019. Adaptado)

A mineração será retomada para explorar reservas de

- (A) nióbio.
 - (B) actínio.
 - (C) céσιο.
 - (D) plutônio.
 - (E) urânio.
22. O risco Brasil, medido pelo Credit Default Swap (CDS), atingiu na quinta-feira (19.09.2019), o menor nível em seis anos, aos 116 pontos, mas os investidores estrangeiros continuam cautelosos. Embora antecipem um cenário doméstico melhor, eles tendem a não colocar recursos no País sem maior crescimento econômico e avanço de outras reformas.

(Band. Disponível em <https://bit.ly/2WePwQ6>. Acesso em 27.10.2019. Adaptado)

CDS deve ser entendido como

- (A) a diferença do retorno entre papéis brasileiros e americanos.
- (B) uma avaliação que trata da confiabilidade de investimentos nos países.
- (C) um título que protege contra calotes da dívida soberana.
- (D) um indicador que avalia o retorno financeiro de investimentos estrangeiros.
- (E) um índice que acompanha a estabilidade de conversão das moedas em relação ao dólar.

23. O vice-presidente Hamilton Mourão, no exercício da Presidência da República, informou nesta segunda-feira (21.10.2019) que tem previsão de viajar na quarta-feira (23) para Lima, no Peru. Com isso, segundo ele, o presidente do Senado, Davi Alcolumbre (DEM-AP) assumirá a Presidência da República. Mourão está no exercício da Presidência em razão da viagem de Jair Bolsonaro à Ásia e ao Oriente Médio. O retorno de Bolsonaro a Brasília está previsto para o dia 31.

(G1. Disponível em <https://glo.bo/34cknQf>. Acesso em 23.10.2019. Adaptado)

Davi Alcolumbre assumirá a Presidência durante a ausência do vice-presidente porque

- (A) o presidente da Câmara, Rodrigo Maia, assumiria a Presidência por ser o segundo na linha sucessória, mas ele também tinha uma viagem internacional agendada no período de ausência do vice-presidente.
- (B) de acordo com a legislação vigente, ele é o segundo na linha sucessória por ser o Presidente do Congresso Nacional.
- (C) o Presidente do Supremo Tribunal Federal, Dias Toffoli, o sucessor imediato do vice-presidente, também estava ausente do país, acompanhando o presidente em sua viagem ao Oriente.
- (D) nesses casos, segundo a legislação, cabe ao vice-presidente escolher o seu substituto entre o presidente da Câmara, o presidente do Senado e o presidente do Supremo Tribunal Federal.
- (E) a legislação determina que na impossibilidade de o vice-presidente substituir o presidente, assume o cargo o presidente da casa legislativa com mais idade.

24. O Prêmio Nobel de Química 2019 foi concedido hoje (09.10.2019) a três cientistas – John B. Goodenough (americano), M. Stanley Whittingham (britânico) e Akira Yoshino (japonês). Eles dividirão um prêmio de R\$ 3,7 milhões.

(Agência Brasil. Disponível em <https://bit.ly/32NAe7s>. Acesso em 27.10.2019. Adaptado)

Eles são responsáveis pela descoberta da bateria de

- (A) hidreto metálico de níquel.
 - (B) íon de lítio.
 - (C) zinco carbono.
 - (D) lítio polímero.
 - (E) níquel cádmio.
25. Em sua recente viagem à Ásia e ao Oriente Médio (de 19 a 30 de outubro de 2019), o Presidente Jair Bolsonaro firmou acordos com Japão, China, Catar, Emirados Árabes e Arábia Saudita.

(Gazeta do Povo. Disponível em <https://bit.ly/2oHWYHe>. Acesso em 30.10.2019. Adaptado)

Entre esses acordos, destaca-se a isenção de visto para

- (A) chineses e japoneses.
- (B) sauditas e cataris.
- (C) japoneses e sauditas.
- (D) cataris e chineses.
- (E) japoneses e cataris.

26. Tem-se o seguinte conteúdo de uma pasta sendo exibido por meio do Windows Explorer, no Microsoft Windows 7, em sua configuração original.

Nome	Data de modific...	Tipo	Tamanho
Pasta 1	10/11/2019 13:49	Pasta de arquivos	
Pasta 2	10/11/2019 13:49	Pasta de arquivos	
Arquivo A.txt	10/11/2019 13:50	Documento de Texto	4 KB
Arquivo B.txt	10/11/2019 13:50	Documento de Texto	532 KB
Arquivo C.bmp	10/11/2019 13:51	Arquivo BMP	55 KB

Considerando que os itens Pasta 1, Arquivo A.txt e Arquivo C.bmp estão selecionados, assinale a alternativa que indica a tecla que foi mantida pressionada enquanto o usuário clicou com o botão principal do mouse sobre os itens, para selecioná-los.

- (A) SHIFT
 (B) ALT
 (C) TAB
 (D) CTRL
 (E) BACKSPACE
27. Um usuário digitou o texto Fundação Instituto Tecnológico de Osasco em um documento em branco no Microsoft Word 2010, em sua configuração padrão, em português. Em seguida pressionou as teclas CTRL+T para selecionar todo o conteúdo e executou os seguintes passos, na sequência:

- I. Clicou com o botão principal do mouse sobre o ícone Negrito.
- II. Clicou com o botão principal do mouse sobre o ícone Itálico.
- III. Clicou com o botão principal do mouse sobre o ícone Sublinhado.
- IV. Clicou com o botão principal do mouse sobre o ícone Marcadores.

Depois pressionou a tecla seta para a esquerda para desmarcar a seleção do texto.

Assinale a alternativa que contém o resultado correto no texto.

- (A) • Fundação Instituto Tecnológico de Osasco
 (B) ***Fundação Instituto Tecnológico de Osasco***
 (C) • Fundação Instituto Tecnológico de Osasco
 (D) Fundação Instituto Tecnológico de Osasco
 (E) • ***Fundação Instituto Tecnológico de Osasco***

28. Tem-se a seguinte planilha, criada no Microsoft Excel 2010, em sua configuração padrão.

	A	B	C
1	Apuração	Resultado	
2	8	APROVADO	
3	3	NÃO APROVADO	
4	6	NÃO APROVADO	
5	7	APROVADO	
6	8	APROVADO	
7			
8			
9	Meta		
10	7		

A célula B2 contém a fórmula:

=SE(A2>=A\$10;"APROVADO";"NÃO APROVADO")

que depois foi copiada até a célula B6 com o usuário clicando sobre a alça de preenchimento e arrastando até a célula B6.

Assinale a alternativa com a aparência da planilha, se o usuário apagar o conteúdo da célula A10, selecionando-a e pressionando a tecla Delete.

(A)

	A	B	C
1	Apuração	Resultado	
2	8	APROVADO	
3	3	APROVADO	
4	6	APROVADO	
5	7	APROVADO	
6	8	APROVADO	
7			
8			
9	Meta		
10			

(B)

	A	B	C
1	Apuração	Resultado	
2	8	NÃO APROVADO	
3	3	NÃO APROVADO	
4	6	NÃO APROVADO	
5	7	NÃO APROVADO	
6	8	NÃO APROVADO	
7			
8			
9	Meta		
10			

(C)

	A	B	C
1	Apuração	Resultado	
2	8		
3	3		
4	6		
5	7		
6	8		
7			
8			
9	Meta		
10			

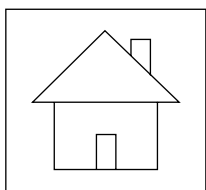
(D)

	A	B	C
1	Apuração	Resultado	
2	8	#ERRO	
3	3	#ERRO	
4	6	#ERRO	
5	7	#ERRO	
6	8	#ERRO	
7			
8			
9	Meta		
10			

(E)

	A	B	C
1	Apuração	Resultado	
2	8	NÃO APROVADO	
3	3	APROVADO	
4	6	APROVADO	
5	7	NÃO APROVADO	
6	8	NÃO APROVADO	
7			
8			
9	Meta		
10			

29. Em uma apresentação com 5 slides, criada no Microsoft PowerPoint 2010, em sua configuração padrão, sem nenhuma animação ou transição, apenas o slide 1 está oculto. No slide 4, o usuário adicionou o seguinte botão de ação, mantendo a ação padrão dele:



Considere que o usuário pressionou a tecla F5 para iniciar o modo de apresentação. Ao pressionar ENTER para navegar pelos slides, é apresentado finalmente o slide 4.

Assinale a alternativa que indica qual slide será exibido quando o usuário clicar com o botão principal do mouse sobre o botão de ação.

- (A) 1
 - (B) 2
 - (C) 3
 - (D) 4
 - (E) 5
30. Têm-se os seguintes parâmetros de uma mensagem de correio eletrônico a ser enviada no Microsoft Outlook 2010, em sua configuração original.

De:	Paulo
Para:	Nilton
Cc:	Antonio
Cco:	Gabriela
Anexo:	Arquivo1.pdf
Assunto:	Ata de reunião

Assinale a alternativa que indica qual(is) usuário(s) receberá(ão) o anexo Arquivo1.pdf, considerando que não haverá falhas no envio e no recebimento.

- (A) Nilton e Antonio, apenas.
- (B) Gabriela, apenas.
- (C) Nilton, Antonio e Gabriela, apenas.
- (D) Paulo, Nilton e Antonio, apenas.
- (E) Paulo, Nilton, Antonio e Gabriela.

CONHECIMENTOS ESPECÍFICOS

31. Em relação à escrituração contábil, é correto afirmar que
- (A) a conta Despesas Antecipadas é uma conta de resultado.
 - (B) as contas do Ativo aumentam por crédito.
 - (C) todas as contas do Ativo têm saldo devedor.
 - (D) para que a sociedade tenha lucro, a soma dos saldos credores das contas patrimoniais e de resultado deve ser maior que a soma dos saldos devedores.
 - (E) as contas do Passivo têm normalmente saldo credor, com raras exceções.
32. As Normas Brasileiras de Contabilidade estabelecem que
- (A) o direito de propriedade não é essencial para determinar a existência de um ativo.
 - (B) a ausência de gasto relacionado impede que um item satisfaça a definição de ativo e se qualifique para reconhecimento no balanço patrimonial.
 - (C) nenhum tipo de passivo pode ser mensurado por meio do emprego de estimativas.
 - (D) receitas são aumentos nos benefícios econômicos durante o período contábil e somente são geradas pela entrada de recursos na entidade.
 - (E) a distribuição de lucros aos sócios ou acionistas da entidade é classificada como uma despesa financeira.
33. Em um país que apresenta alta taxa de inflação porque a oferta agregada é insuficiente para atender a demanda agregada, uma medida de política governamental que pode estabilizar a economia é
- (A) o aumento da oferta monetária para elevar a taxa de juros da economia.
 - (B) a redução das alíquotas dos tributos sobre a renda.
 - (C) a diminuição dos gastos públicos.
 - (D) o resgate de títulos da dívida pública pelo Banco Central.
 - (E) a desvalorização da taxa de câmbio da economia para aumentar as importações.
34. O sistema de custeio industrial em que todos os custos e despesas fixos são transferidos para o resultado do exercício, independentemente do volume de vendas, é o sistema de custeio
- (A) por Absorção.
 - (B) RKW.
 - (C) Departamentalizado.
 - (D) Variável.
 - (E) Padrão.

- 35.** Na nomenclatura da contabilidade de custos, a aquisição a prazo de matérias primas para futura industrialização, que serão estocadas no almoxarifado da companhia, é contabilizada como
- (A) um custo de produção.
 (B) um desembolso do período.
 (C) uma despesa.
 (D) um ganho.
 (E) um ativo.
- 36.** Segundo a Estrutura Conceitual da Contabilidade, a característica qualitativa da informação contábil que preceitua que a realidade econômica deve ser apresentada, dentro do possível, de forma completa, neutra e livre de erro, é a característica da
- (A) materialidade.
 (B) relevância.
 (C) representação fidedigna.
 (D) tempestividade.
 (E) compreensibilidade.
- 37.** A Cia. Brasil adquiriu um seguro contra incêndio para suas instalações comerciais no dia 1º de maio de 2019, com vigência até 30 de abril de 2021, pagando à vista o valor do prêmio correspondente a R\$ 180.000,00. No final do exercício de 2019, no balanço patrimonial ou na demonstração do resultado do exercício constará um valor, em R\$, de:
- (A) 60.000,00 no Ativo Circulante.
 (B) 60.000,00 como despesa de seguros de 2019.
 (C) 60.000,00 como Ativo não Circulante.
 (D) 40.000,00 como despesa de seguros de 2019.
 (E) 90.000,00 no Ativo Não Circulante.
- 38.** A Cia. América do Norte adquiriu uma máquina, para uso em suas instalações industriais, no dia 1º de outubro de 2016, colocando-a imediatamente em funcionamento. O valor da aquisição montou a R\$ 590.000,00, pagos à vista. O montante dos impostos recuperáveis incidentes nessa compra equivaleu a R\$ 120.000,00. A empresa adquirente ainda teve que pagar frete e seguro para transporte dessa mercadoria até seu estabelecimento industrial no valor de R\$ 30.000,00. Os engenheiros da empresa estimaram a vida útil da máquina em 12 anos, e seu valor residual, em R\$ 50.000,00. O valor contábil do equipamento em 31 de dezembro de 2018, supondo-se que não tenha sido efetuada nenhuma revisão da taxa de depreciação no período, correspondeu, em R\$, a:
- (A) 415.625,00.
 (B) 383.749,20.
 (C) 365.625,00.
 (D) 333.749,20.
 (E) 327.623,40.
- 39.** Um ativo intangível amortizável teve sua vida útil estimada em 5 (cinco) anos. No Balanço Patrimonial de 31.12.2018, seu valor contábil era de R\$ 97.125,00. Sabendo-se que o referido ativo foi adquirido em 01.04.2015, e que entrou em uso a partir dessa data, o seu respectivo custo de aquisição correspondeu a
- (A) 248.640,00.
 (B) 291.375,00.
 (C) 310.800,00.
 (D) 342.600,00.
 (E) 388.500,00.
- 40.** Foram obtidos os seguintes dados da contabilidade da Cia. Horizonte Azul, referentes ao exercício encerrado em 2018:
- | | |
|--|------------|
| • Lucro Líquido do Exercício | 250.000,00 |
| • Aumento da conta Fornecedores | 110.000,00 |
| • Redução da conta Estoques de Mercadorias | 80.000,00 |
| • Despesas de Depreciação | 60.000,00 |
| • Aumento da conta Clientes | 50.000,00 |
| • Redução de Contas a Pagar | 20.000,00 |
| • Resultado Negativo da Equivalência Patrimonial | 10.000,00 |
- Utilizando-se apenas os dados fornecidos, é correto afirmar que o fluxo de caixa operacional da companhia, no exercício, gerou recursos, em R\$, no valor de
- (A) 320.000,00.
 (B) 340.000,00.
 (C) 400.000,00.
 (D) 430.000,00.
 (E) 440.000,00.
- 41.** Dados extraídos das demonstrações contábeis de uma companhia, em 31.12.2018 (em R\$):
- | | |
|------------------------------|------------|
| • Vendas Líquidas | 960.000,00 |
| • Lucro Líquido do Exercício | 130.000,00 |
| • Patrimônio Líquido | 390.000,00 |
| • Total do Ativo | 950.000,00 |
| • Ativo Não Circulante | 310.800,00 |
| • Passivo Não Circulante | 220.000,00 |
| • Estoques | 129.200,00 |
- Apenas com as informações fornecidas, e utilizando porcentagens, é correto afirmar que
- (A) a margem líquida sobre vendas foi superior a 30%.
 (B) o índice de liquidez corrente foi igual a 188%.
 (C) o total do Passivo representa exatamente 60% do total do Ativo.
 (D) o índice de rentabilidade sobre o capital próprio foi maior que 35%.
 (E) o índice de liquidez seca foi menor que 150%.

- 42.** A Cia. Industrial Morro Branco adquiriu 1000 unidades de uma matéria prima por R\$ 300.000,00, com incidência de 10% do Imposto sobre Produtos Industrializados (IPI), perfazendo a nota fiscal de compra o valor total de R\$ 330.000,00. Sobre a operação, incidiu também o Imposto sobre Circulação de Mercadorias à alíquota de 18%. A companhia, sendo contribuinte do IPI e do ICMS, deve escriturar o valor do estoque de matérias-primas, em R\$, por:
- (A) 246.000,00.
 (B) 270.600,00.
 (C) 276.000,00.
 (D) 300.000,00.
 (E) 330.000,00.
- 43.** Um dos tributos mais importantes sobre o faturamento é a Contribuição para o Financiamento da Seguridade Social. Sobre essa contribuição, é correto afirmar que
- (A) a sua alíquota no regime de incidência não cumulativo é de 3% (três por cento).
 (B) a sua base de cálculo, no regime cumulativo, é o faturamento ou a receita bruta, entendida como a totalidade das receitas auferidas pela pessoa jurídica, independentemente do tipo de atividade exercida e de sua classificação contábil.
 (C) a partir de julho de 2015, as receitas financeiras passaram a ser tributadas no regime de apuração não cumulativo à alíquota de 4%.
 (D) não é tributada pela COFINS a receita de aluguéis provindos de imóveis de renda da sociedade, seja no regime de incidência cumulativo ou não cumulativo.
 (E) para fins da incidência da COFINS, os juros recebidos sobre o capital próprio equiparam-se a receitas financeiras, aplicando-se-lhes a mesma alíquota destas.
- 44.** A Cia. Comercial Flor de Maracujá adquiriu mercadorias para revenda no valor de R\$ 1.000.000,00, incidindo sobre a operação de venda o ICMS, à alíquota de 18%, e o PIS e COFINS não cumulativos. Posteriormente, revendeu 80% desse lote por R\$ 870.000,00 numa operação interestadual com alíquota de 12%. A companhia é tributada pelo PIS e COFINS na sistemática cumulativa. O lucro bruto auferido pela companhia na operação correspondeu, em R\$, a
- (A) 29.125,00.
 (B) 49.150,00.
 (C) 77.845,00.
 (D) 103.125,00.
 (E) 151.485,00.
- 45.** Assinale a alternativa correta quanto à incidência do Imposto de Renda das Pessoas Jurídicas.
- (A) O contribuinte que tenha optado pela tributação com base no lucro real pode mudar de opção no decorrer do ano.
 (B) O período de apuração do imposto é anual, podendo a pessoa jurídica optar pelo período de apuração trimestral.
 (C) O contribuinte que tenha optado pelo lucro presumido não pode usar o coeficiente de presunção sobre suas receitas financeiras para calcular a base de cálculo do imposto.
 (D) A alíquota do imposto é de 15% e incide um adicional de 10% sobre a parcela da base de cálculo que ultrapassar R\$ 120.000,00 ao ano.
 (E) O regime de lucro arbitrado é utilizado apenas quando a pessoa jurídica desconhece sua receita bruta de vendas.
- 46.** A Cia. Novo Horizonte optou por ser tributada pelo lucro real trimestral. As seguintes informações foram retiradas do seu Lalur:
- | | |
|--|------------|
| Lucro antes do imposto de renda pessoa jurídica | 200.000,00 |
| Adições na parte A do e-Lalur | 50.000,00 |
| Exclusões na parte A do e-Lalur | 80.000,00 |
| Prejuízos fiscais a compensar de períodos anteriores | 60.000,00 |
- O imposto e o adicional devidos de imposto de renda das pessoas jurídicas foi, em R\$, igual a
- (A) 34.750,00.
 (B) 30.850,00.
 (C) 24.000,00.
 (D) 23.750,00.
 (E) 17.850,00.
- 47.** É correto afirmar que
- (A) o Produto Interno Bruto de uma economia corresponde à soma dos valores de produção de todas as empresas do país durante o ano.
 (B) a curva de demanda é positivamente inclinada, ou seja, há uma relação crescente entre o preço e a quantidade procurada.
 (C) quando o preço do dólar sobe em relação ao real, uma das prováveis consequências é um aumento das exportações, a curto ou médio prazo.
 (D) a oferta de moeda é dada pelo somatório de toda a moeda manual em poder do público.
 (E) a demanda de um bem é considerada elástica quando, dada uma variação no preço, há uma variação menos que proporcional na quantidade procurada.

48. Na análise de um conjunto de valores, é muito importante calcular as medidas de tendência central e de dispersão, para se ter uma ideia das características dessa distribuição de dados. Em relação a essas medidas, é correto afirmar que
- (A) a moda, a média aritmética e a mediana nunca coincidem em valor.
- (B) se somarmos uma constante arbitrária maior que zero a cada elemento desse conjunto de valores, a média aritmética e a variância ficam inalteradas.
- (C) se multiplicarmos uma constante arbitrária maior que zero a cada elemento desse conjunto de valores, a nova variância fica multiplicada pelo quadrado dessa constante.
- (D) a soma dos desvios de cada valor do conjunto em relação à média apresenta normalmente um valor maior que zero.
- (E) se dividirmos cada elemento desse conjunto de valores por uma constante arbitrária maior que zero, o novo desvio padrão fica dividido pelo valor da constante ao quadrado.
49. É classificada como receita corrente (classificação econômica) a receita de
- (A) alienação de bens imóveis.
- (B) emissão de títulos da dívida agrária.
- (C) amortização da dívida ativa.
- (D) multas e juros de mora sobre tributos pagos com atraso.
- (E) alienação de bens apreendidos.
50. É uma despesa de capital (classificação econômica):
- (A) constituição ou aumento de capital de empresas.
- (B) despesa com juros da dívida pública interna.
- (C) restituição de cauções em dinheiro.
- (D) qualquer tipo de aquisição de material de consumo.
- (E) encargo sobre operações de crédito por antecipação de receita.
51. É exemplo de uma interferência extraorçamentária:
- (A) cotas recebidas.
- (B) cotas repassadas.
- (C) sub-repasses recebidos.
- (D) sub-repasses concedidos.
- (E) transferências de bens entre unidades gestoras.
52. A dívida fundada de um órgão público aumentou em função de uma desvalorização do real frente ao dólar. Esse fato contábil que representa uma variação extraorçamentária é registrado como:
- (A) mutação passiva.
- (B) superveniência passiva.
- (C) insubsistência ativa.
- (D) insubsistência passiva.
- (E) superveniência ativa.

53. Um município apresentou os dados seguintes, constantes do Balanço Orçamentário para o exercício corrente (em R\$):

BALANÇO ORÇAMENTÁRIO – MUNICÍPIO X							
RECEITA (em R\$)				DESPESA (em R\$)			
Títulos	Previsão	Execução	Diferença	Títulos	Fixação	Execução	Diferença
Receitas Correntes	450.000,00	480.000,00	30.000,00	Créditos Orçamentários	570.000,00	590.000,00	20.000,00
Receitas de Capital	220.000,00	240.000,00	20.000,00	Créditos Especiais	100.000,00	110.000,00	10.000,00
				Créditos Extraordinários	0,00	0,00	0,00
Soma	670.000,00	720.000,00	50.000,00	Soma	670.000,00	700.000,00	30.000,00
				Superávit	0,00	20.000,00	20.000,00
TOTAL	670.000,00	720.000,00	50.000,00	TOTAL	1.100.000,00	1.180.000,00	80.000,00

No total dos créditos orçamentários estão incluídos também os créditos suplementares. Analisando-se esse balanço, é correto afirmar que

- (A) houve um excesso de despesas de R\$ 30.000,00.
- (B) houve uma frustração de arrecadação de R\$ 20.000,00.
- (C) ocorreu um excesso de arrecadação de R\$ 50.000,00.
- (D) ocorreu um déficit orçamentário de R\$ 20.000,00.
- (E) houve um excesso de despesas de R\$ 10.000,00.

54. As informações seguintes foram obtidas do Balanço Financeiro de um ente público, em R\$:

Saldo de disponibilidades do exercício corrente	150.000,00
Despesas orçamentárias	960.000,00
Receitas orçamentárias arrecadadas	1.030.000,00
Inscrição em Restos a Pagar no exercício corrente	90.000,00
Restos a Pagar pagos no exercício corrente	120.000,00

Supondo-se que a única informação não fornecida refere-se ao valor do saldo de disponibilidades do exercício anterior, este corresponde, em R\$, a:

- (A) 200.000,00.
- (B) 160.000,00.
- (C) 140.000,00.
- (D) 110.000,00.
- (E) 100.000,00.

55. Em relação aos dispositivos que tratam do Balanço Patrimonial constante da Lei nº 4.320/64, é correto afirmar que

- (A) o Ativo Permanente compreenderá os bens, créditos e valores, cuja mobilização ou alienação independa de autorização legislativa.
- (B) os bens em almoxarifado poderão ser avaliados pelo método PEPS (primeiro que entra é o primeiro que sai) ou pelo preço médio ponderado das compras.
- (C) os bens móveis e imóveis deverão ser avaliados pelo custo de aquisição e pelo custo de produção ou de construção, sendo permitida a sua reavaliação.
- (D) o Passivo Financeiro compreenderá as dívidas fundadas e outras cujo pagamento dependa de autorização orçamentária.
- (E) as variações resultantes da conversão dos débitos, créditos e valores em espécie não serão levadas à conta patrimonial, apenas constando do balanço financeiro.

56. Na demonstração contábil dos entes públicos denominada Demonstração das Variações Patrimoniais,

- (A) serão evidenciadas apenas as alterações verificadas no patrimônio resultantes da execução orçamentária e será indicado o resultado patrimonial do exercício.
- (B) deverá constar a variação patrimonial diminutiva decorrente com desvalorização e perdas de ativos, com redução a valor recuperável.
- (C) será discriminado e apurado o resultado patrimonial do período pelo confronto entre as variações patrimoniais, aumentativas e diminutivas, tanto as quantitativas quanto as qualitativas.
- (D) a aquisição de ativos permanentes representa uma variação patrimonial aumentativa.
- (E) haverá a inclusão de contas de compensação, que representam atos contábeis em potencial que poderão vir a influenciar o saldo patrimonial de exercícios subsequentes.

57. Em relação ao processo de auditoria de contas públicas, está correto afirmar que

- (A) essa auditoria está documentada por elementos contidos nos papéis de trabalho elaborados pelo auditor, onde serão evidenciados o planejamento da auditoria, a natureza, oportunidade e extensão dos procedimentos, o julgamento exercido e as conclusões alcançadas.
- (B) a abertura de uma auditoria de tomada de contas especial pode ser pedida a qualquer tempo pela unidade gestora, mesmo que esta não tenha esgotado todas as medidas administrativas cabíveis para apuração do dano ao erário.
- (C) para segurança em relação à lisura dos empenhos e contratos, estes, antes de serem aprovados, devem passar por um controle prévio do Tribunal de Contas que jurisdiciona os atos praticados pelos entes públicos.
- (D) o controle externo das contas públicas é feito exclusivamente pelos Tribunais de Contas, sendo que a Constituição Federal de 1988 proíbe expressamente a participação de cidadãos nesse processo por meio de ação popular.
- (E) a auditoria operacional do Sistema de Controle interno tem por objetivo confirmar os valores apresentados nas demonstrações contábeis do Setor Público.

58. A Lei da Responsabilidade Fiscal dispõe que

- (A) é considerada despesa obrigatória de caráter continuado a despesa corrente derivada de lei, medida provisória ou ato administrativo normativo que fixem para o ente a obrigação legal de sua execução por um período superior a dois exercícios.
- (B) os limites de despesas de pessoal dos entes públicos são iguais e são fixados por meio de um percentual de sua receita corrente líquida.
- (C) se o ente público contrair dívida pública em valor acima do limite legal estabelecido, poderá realizar operação de crédito interna ou externa, desde que autorizado pelo Senado Federal.
- (D) a concessão ou ampliação de incentivo ou benefício de natureza tributária da qual decorra renúncia de receita deverá obrigatoriamente estar acompanhada de medidas de aumento de receita, mesmo que não afete os resultados fiscais previstos na lei das diretrizes orçamentárias.
- (E) o projeto de lei orçamentária anual conterá Anexo de Riscos Fiscais, onde serão avaliados os passivos contingentes e outros riscos capazes de afetar as contas públicas.

59. A Lei nº 8.666/93 estabelece que

- (A) nas contratações destinadas à implantação, manutenção e ao aperfeiçoamento dos sistemas de tecnologia de informação e comunicação, considerados estratégicos em ato do Poder Executivo Federal, a licitação será obrigatoriamente restrita a bens e serviços com tecnologia desenvolvida no País.
- (B) as obras e serviços licitados poderão ser executados na forma de execução indireta, desde que feita nos regimes de empreitada por preço global e empreitada por preço unitário, vetadas outras formas de execução.
- (C) nos processos de licitação, poderá ser estabelecida margem de preferência para produtos manufaturados e para serviços nacionais que atendam a normas técnicas brasileiras.
- (D) as compras deverão ser processadas através de sistema de registro de preços, mesmo que as condições de aquisição e pagamento sejam diferentes das aplicadas ao setor privado.
- (E) tomada de preços é a modalidade de licitação entre quaisquer interessados que, na fase inicial de habilitação preliminar, comprovem possuir os requisitos mínimos de qualificação exigidos no edital para execução de seu objeto.

60. A pena prevista na Lei nº 10.028/2000 para quem ordenar a contratação de uma operação de crédito quando os limites previstos na Lei da Responsabilidade Fiscal tenham sido ultrapassados é de reclusão de

- (A) um a cinco anos.
- (B) um a quatro anos.
- (C) seis meses a dois anos.
- (D) seis meses a um ano.
- (E) um a dois anos.

