



PREFEITURA MUNICIPAL DA ESTÂNCIA DE CANANÉIA

ESTADO DE SÃO PAULO

CONCURSO PÚBLICO

010. PROVA OBJETIVA

ORIENTADOR SOCIAL

- ◆ Você recebeu sua folha de respostas e este caderno contendo 50 questões objetivas.
- ◆ Confira seus dados impressos na capa deste caderno e na folha de respostas.
- ◆ Quando for permitido abrir o caderno, verifique se está completo ou se apresenta imperfeições. Caso haja algum problema, informe ao fiscal da sala.
- ◆ Leia cuidadosamente todas as questões e escolha a resposta que você considera correta.
- ◆ Marque, na folha de respostas, com caneta de tinta preta, a letra correspondente à alternativa que você escolheu.
- ◆ A duração da prova é de 3 horas, já incluído o tempo para o preenchimento da folha de respostas.
- ◆ Só será permitida a saída definitiva da sala e do prédio após transcorridos 75% do tempo de duração da prova.
- ◆ Ao sair, você entregará ao fiscal a folha de respostas e este caderno, podendo levar apenas o rascunho de gabarito, localizado em sua carteira, para futura conferência.
- ◆ Até que você saia do prédio, todas as proibições e orientações continuam válidas.

AGUARDE A ORDEM DO FISCAL PARA ABRIR ESTE CADERNO DE QUESTÕES.

Nome do candidato

RG

Inscrição

Prédio

Sala

Carteira

CONHECIMENTOS GERAIS

LÍNGUA PORTUGUESA

Leia o texto para responder às questões de números **01** a **06**.

Indústria da solidão

“Já é de manhã, acorde”, diz meigamente uma voz feminina. O rapaz se senta, sonolento. E a câmera revela a dona da voz: a holografia de uma típica bonequinha japonesa, batizada de Azuma Hikari, protegida por uma cúpula de vidro.

“Bom dia”, diz Azuma, sorridente. O jovem pressiona um botão e responde. Sensores detectam o movimento facial e a voz do rapaz. A holografia sorri, diz que o dia está chuvoso, sugere que ele leve o guarda-chuva e recomenda: “é melhor correr, para não se atrasar”. É uma típica conversa de um café da manhã em família.

A cena é do vídeo comercial do Gatebox, nome dado à cápsula que contém Azuma, uma assistente virtual com inteligência artificial, que tem rosto, verbaliza sentimentos e carrega no tom romântico das conversas.

Ao longo do dia, por mensagens enviadas ao celular, Azuma pergunta se o rapaz vai demorar, diz sentir saudades e relembra algumas vezes que o está esperando.

Ele é recebido com pulinhos de alegria. E o rapaz confessa o prazer de saber que há alguém em casa à sua espera.

A fabricante é objetiva na propaganda: Azuma é a companheira definitiva, uma namorada virtual, idealizada para aliviar a solidão de quem mora sozinho.

É um mercado assustadoramente promissor. No Japão, uma pesquisa do Instituto Nacional de População e Previdência Social indica que cerca de 70% dos homens e 60% das mulheres entre 18 e 34 anos estão solteiros e cerca de 42% nunca mantiveram relações sexuais.

Mas a epidemia da solidão está bem longe ser regional. Mais de 55 mil pessoas de 237 países preencheram um questionário proposto por instituições britânicas. Resultado: 33% delas disseram se sentir frequentemente sozinhas, índice que foi a 40% entre jovens de 16 a 24 anos.

Os números explicam o sucesso de serviços como Personal Friend ou Rent a Friend. Por preços que variam de US\$ 10 a US\$ 60 por hora é possível contratar uma companhia para jantar, participar de um jogo ou apenas fazer uma caminhada, sem nenhuma conotação sexual.

Se para muita gente parece coisa de maluco, para alguns médicos as iniciativas são tentativas desesperadas de manter a saúde, pois a falta de conexões sociais é um fator de risco mais importante para a morte precoce do que a obesidade e o sedentarismo.

O impacto da solidão pode até diminuir, mas resta saber o que vai acontecer com a saúde mental dessa gente.

(Sílvia Correa. <https://www1.folha.uol.com.br/colunas/silviacorrea/2019/08>. Acesso 29.08.2019. Adaptado)

01. Assinale a alternativa correta a respeito das informações do texto.

- (A) A bonequinha Azuma, embora não expresse emoções, utiliza uma voz delicada quando se dirige ao rapaz, ator do vídeo comercial.
- (B) O Japão, país que diferentemente dos demais tem parte da população que se considera solitária, é mercado ideal para o Gatebox.
- (C) Por ser um produto inusitado no campo da inteligência artificial, a comercialização do Gatebox ainda não se mostrou vantajosa para os fabricantes.
- (D) Sensores na câmera do equipamento identificam características faciais e sentimentos do rapaz, que parece deprimido.
- (E) Segundo alguns profissionais da saúde, a ausência de interação com outras pessoas pode ser causa relevante de mortes prematuras.

02. Com base no texto, é correto afirmar que, de acordo com

- (A) o Instituto de Previdência do Japão, aproximadamente metade das mulheres pesquisadas são solteiras e estão na meia-idade.
- (B) o Instituto de Previdência do Japão, metade dos entrevistados admitem que, apesar de serem jovens, nunca tiveram vida sexual.
- (C) o Instituto de Previdência do Japão, o número de homens, jovens e idosos, que estão solteiros supera o número de mulheres na mesma condição.
- (D) instituições britânicas, cerca de um terço dos que responderam ao questionário alegam se sentir frequentemente sozinhos.
- (E) instituições britânicas, mais da metade dos jovens entre 16 a 24 afirmaram sofrer com a solidão, índice considerado preocupante.

03. Considere os trechos do primeiro e do quinto parágrafo.

- ... “é melhor correr, para não se atrasar”.
- E o rapaz confessa o prazer de saber que há alguém em casa à sua espera.

Para que esses trechos apresentem, respectivamente, relação de causa e de condição entre as ideias, devem ser reescritos como indicado na alternativa:

- (A) Se não correr, vai se atrasar.
E o rapaz confessa sentir prazer, pois há alguém à sua espera.
- (B) Como vai correr, não vai se atrasar.
E o rapaz confessa sentir prazer, caso haja alguém à sua espera.
- (C) Ainda que corra, pode se atrasar.
E o rapaz confessa sentir prazer, à medida que haja alguém à sua espera.
- (D) Assim que correr, não vai se atrasar.
E o rapaz confessa sentir prazer, por isso há alguém à sua espera.
- (E) Exceto se correr, não vai se atrasar.
E o rapaz confessa sentir prazer, enquanto há alguém à sua espera.

04. Na primeira frase do texto – “Já é de manhã, acorde”, diz **meigamente** uma voz feminina. –, a expressão destacada apresenta a mesma circunstância adverbial da expressão destacada em:

- (A) ... típica bonequinha japonesa, batizada de Azuma Hikari, protegida **por uma cúpula de vidro**. (1º parágrafo)
- (B) Ao longo do dia, por mensagens enviadas **ao celular**, Azuma pergunta se o rapaz vai demorar... (4º parágrafo)
- (C) Ele é recebido **com pulinhos de alegria**. (5º parágrafo)
- (D) Mas a epidemia da solidão está **bem** longe ser regional. (8º parágrafo)
- (E) **Por preços** que variam de US\$ 10 a US\$ 60 por hora é possível contratar uma companhia para jantar... (9º parágrafo)

05. Considere as frases elaboradas a partir do texto.

- Na cúpula de vidro há um botão, e o jovem imediatamente **pressiona o botão** e responde à Azuma.
- Há muitas pessoas que se sentem sós, e serviços como *Rent a Friend* **fornecem a essas pessoas** uma companhia.

De acordo com o emprego e a colocação dos pronomes estabelecidos pela norma-padrão, as expressões destacadas podem ser substituídas por:

- (A) lhe pressiona; fornecem-lhes.
- (B) pressiona-o; lhes fornecem.
- (C) pressiona-o; as fornecem.
- (D) o pressiona; fornecem-lhes.
- (E) o pressiona; as fornecem.

06. O verbo “conter”, presente no texto em – nome dado à cápsula que **contém** Azuma –, também está empregado corretamente na alternativa:

- (A) Quando as garrafas conterem o limite máximo de vinho, poderão ser lacradas.
- (B) Ainda que o recipiente contém rachaduras, poderá ser reaproveitado.
- (C) Caso os documentos contessem a assinatura dos proprietários, não haveria entraves jurídicos.
- (D) O boxeador não contera sua agressividade e feriu o adversário.
- (E) Se o formulário contiver as informações exigidas, o passaporte será emitido.

Leia a crônica de Ivan Angelo para responder às questões de números **07** a **10**.

Janelas e varandas

Varandas e janelas podem ser um campo interessante para observação nas metrópoles. Contribuições pessoais de moradores para a decoração da cidade. Espaços de expressão. Vitrines individuais.

É da sacada do prédio que o morador da metrópole confere a paisagem, o tempo e a vida lá fora. Janelas separam o íntimo e o público, mas algumas pessoas não se importam de botar no espaço público um pouco do que é do íntimo.

Rede estendida já vi mais de uma vez, em exíguas varandas, uma até com um homem em descuidada sesta. Nostalgia do Nordeste? De algum sítio? De uma minivaranda da Bela Vista¹, moça sentada de toalha nos ombros nus sob um secador de cabelos daqueles de pé e capacete, lendo revista. Casa dela ou salão de beleza improvisado? Em uma janela que dá para o Minhocão², uma gaiola com passarinho. Ave presidiária, condenada à feiura e ao barulho humanos. Será que canta?

Nesses espaços “públicos”, os ricos diferenciam-se principalmente pelas plantas, alguns com verdadeiras florestas. O povão ousa mais no pessoal. Como se fosse um quintal, lá põe rede, casa de cachorro, fogão quebrado, poleiro de papagaio, latão com planta, pendura bicicleta, monta churrasqueira...

Mas, em certas ocasiões, como Natal e Copa do Mundo, todos se igualam e botam luzes piscantes ou bandeiras.

É o que basta para pensarmos neles com uma distante camaradagem – oi, oi, estou aqui, sou um ser humano e cuido de um passarinho.

(VEJA SP, 05.10.2005. Adaptado)

1. Bela Vista: bairro paulistano.

2. Minhocão: famoso viaduto na cidade de São Paulo.

07. Na primeira frase do quarto parágrafo e na última frase do texto, nota-se que o cronista, respectivamente:

- (A) usa do exagero para descrever a varanda dos ricos; destaca sua própria solidão como morador de uma metrópole.
- (B) usa do exagero para descrever a varanda dos ricos; reflete a respeito da necessidade de comunicação entre as pessoas.
- (C) chama a atenção para as varandas cheias de plantas que embelezam a cidade; exalta a cordialidade que é frequente entre moradores de alguns bairros.
- (D) avalia que, a julgar pelas varandas, pessoas ricas exibem com menos comedimento sua intimidade; reflete a respeito da necessidade de comunicação entre as pessoas.
- (E) avalia que, a julgar pelas varandas, pessoas ricas revelam com menos comedimento sua intimidade; enfatiza que a camaradagem entre os habitantes se intensifica em épocas como o Natal.

08. Considere as frases.

- As varandas e janelas, ____ quais o cronista descreve, são vitrines do comportamento humano.
- O passarinho, ____ quem o dono submete ao barulho e à feiura, aparece na janela de um edifício no Minhocão.

Para que as frases elaboradas a partir do texto estejam de acordo com a norma-padrão, as lacunas devem ser preenchidas, respectivamente, por

- (A) nas ... a
- (B) as ... de
- (C) as ... a
- (D) das ... de
- (E) das ... com

09. Assinale a alternativa em que o sinal indicativo de crase foi empregado corretamente.

- (A) Com ousadia, as pessoas de menos poder aquisitivo deixam à mostra sua vida íntima e transformam varandas em quintais.
- (B) Em meio à tantas edificações de uma metrópole, o cronista destaca as varandas e janelas.
- (C) Da sacada do apartamento, o morador se dispõe à conferir a paisagem, o tempo e a vida lá fora.
- (D) Quanto à Natal e Copa do Mundo, são ocasiões em que as varandas ficam repletas de luzes e bandeiras.
- (E) O autor faz menção à um homem deitado em uma rede e totalmente entregue ao sono.

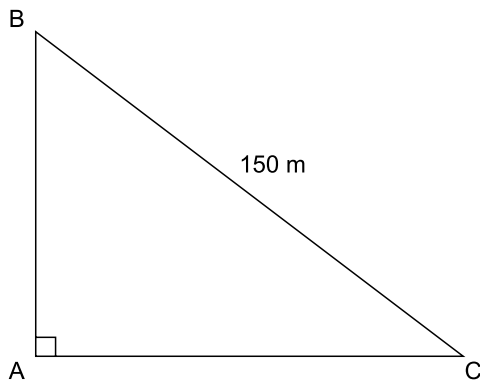
10. Assinale a alternativa que está redigida em conformidade com a concordância verbal e nominal estabelecida pela norma-padrão.

- (A) Como tema para a crônica, vieram à mente do autor as inúmeras janelas e varandas que desenha uma grande cidade.
- (B) A privacidade revelada pelos objetos expostos nas varandas variam de morador para morador, mostrando a pluralidade social.
- (C) A metrópole, sempre meia cinzenta, colore-se quando há luzes piscantes e bandeiras espalhadas pelos apartamentos.
- (D) Podem surgir diversas interpretações quando se observam atitudes alheias, uma delas é o anseio por camaradagem entre os seres humanos.
- (E) Observando o barulho e a degradação, o cronista se indaga se os pássaros, mesmo preso em gaiolas, continuam cantando.

11. Do número total de questões de uma prova de certo concurso, Isa acertou $\frac{5}{6}$ e Ana acertou $\frac{3}{5}$. Se Isa acertou 14 questões a mais que Ana, então o número de questões que Ana acertou é
- (A) 50.
(B) 46.
(C) 40.
(D) 36.
(E) 30.
12. Nos arquivos G e H havia, inicialmente, 50 documentos e 80 documentos, respectivamente. Foram arquivados mais x documentos no arquivo G e mais x documentos no arquivo H, e a razão entre o número de documentos no arquivo G e o número de documentos no arquivo H passou a ser $\frac{3}{4}$. Desse modo, o valor de x é
- (A) 20.
(B) 25.
(C) 30.
(D) 35.
(E) 40.
13. Um piso quadrado, cujo lado mede 4,4 m, será totalmente revestido com ladrilhos quadrados iguais, com 40 cm de lado, todos inteiros. Sabe-se que esse ladrilho é vendido somente em caixas fechadas contendo $0,96 \text{ m}^2$ de ladrilhos em cada uma. Nessas condições, para que o serviço seja totalmente executado, será necessário comprar, no mínimo,
- (A) 21 caixas.
(B) 20 caixas.
(C) 19 caixas.
(D) 18 caixas.
(E) 17 caixas.
14. A quantidade de suco contida em um recipiente pode ser totalmente distribuída em 30 copos, contendo x mL em cada um, ou em 40 copos, contendo $(x - 50)$ mL em cada um. A quantidade de suco contida nesse recipiente é igual a
- (A) 7 litros.
(B) 6 litros.
(C) 5 litros.
(D) 4 litros.
(E) 3 litros.

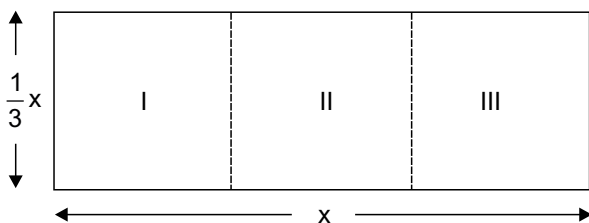
15. Uma bibliotecária distribuiu certa quantidade de livros em 25 prateleiras, colocando 4% da quantidade total em cada uma. Se fosse possível colocar 10% da quantidade total de livros em cada prateleira, a quantidade de prateleiras necessárias para acomodar todos os livros seria reduzida em
- (A) 10 unidades.
 - (B) 12 unidades.
 - (C) 15 unidades.
 - (D) 18 unidades.
 - (E) 20 unidades.
16. Considere um reservatório de capacidade total igual a 1500 litros, inicialmente vazio. Para enchê-lo, abriu-se, simultaneamente, a torneira A, com uma vazão constante de 15 litros de água por minuto, e a torneira B, com uma vazão constante de 10 litros de água por minuto. No momento em que a água despejada pelas duas torneiras preencheu $\frac{3}{5}$ da capacidade total do reservatório, fechou-se a torneira B e manteve-se aberta a torneira A, até encher totalmente o reservatório. Nessas condições, o tempo total gasto para encher completamente o reservatório, sem transbordar, foi de
- (A) 50 minutos.
 - (B) 1 hora.
 - (C) 1 hora e 10 minutos.
 - (D) 1 hora e 16 minutos.
 - (E) 1 hora e 36 minutos.
17. “O Flamengo faturou, em média, R\$ 2,4 milhões por jogo como mandante na atual temporada, com preço médio do ingresso a R\$ 48,00.” (O Estado de S. Paulo – 31.10.2019).
- Nessas condições, o público médio pagante nos jogos considerados foi de
- (A) 60000 pessoas.
 - (B) 54000 pessoas.
 - (C) 50000 pessoas.
 - (D) 48000 pessoas.
 - (E) 40000 pessoas.

18. Uma praça, com a forma do triângulo retângulo ABC mostrado na figura, tem uma pista para caminhadas em toda a extensão do seu perímetro. Para caminhar do ponto B até o ponto C, pode-se optar por ir diretamente de B até C, caminhando 150 m, conforme indicado na figura, ou ir do ponto B até o ponto A, caminhando x m, e do ponto A até o ponto C, caminhando mais 120 m.



O trajeto de B até C, passando por A, é mais longo do que o trajeto direto de B até C em

- (A) 70 m.
 (B) 60 m.
 (C) 50 m.
 (D) 40 m.
 (E) 30 m.
19. Um terreno retangular, de lados com medidas, em metros, indicadas por x e $\frac{1}{3}x$, foi dividido em 3 regiões congruentes, I, II e III, conforme mostra a figura.



Se esse terreno tem perímetro de 120 m, então a área de cada uma das regiões I, II e III é igual a

- (A) 169 m^2 .
 (B) 196 m^2 .
 (C) 225 m^2 .
 (D) 250 m^2 .
 (E) 256 m^2 .

20. Certo produto teve o seu preço de venda original P aumentado em 15%, gerando o preço P_1 . Em seguida, um novo reajuste aumentou P_1 em mais R\$ 6,90, e esse produto passou a ser vendido por R\$ 64,40. O preço original P era de

- (A) R\$ 40,00.
 (B) R\$ 42,50.
 (C) R\$ 46,00.
 (D) R\$ 48,80.
 (E) R\$ 50,00.

R A S C U N H O

ATUALIDADES

21. O presidente da República, Jair Bolsonaro, disse na manhã desta quarta-feira (06.11.2019), que a proposta de fusão de municípios não será imposta. “O povo vai decidir”, declarou sem dar pormenores da forma de consulta popular.

(Exame. Disponível em <https://bit.ly/33w6j3N>. Acesso em 08.11.2019. Adaptado)

O governo quer acabar com os municípios

- (A) com menos de 5 mil habitantes e próximo de uma comarca que tenha mais de 50 mil moradores.
- (B) com arrecadação própria menor que 10% da receita total e próximo de uma comarca que tenha mais de 50 mil moradores.
- (C) com arrecadação própria menor que 50% da receita total e com menos de 5 mil habitantes.
- (D) com menos de 10 mil habitantes e próximo de uma comarca com mais de 50 mil habitantes.
- (E) com menos de 5 mil habitantes e com arrecadação própria menor que 10% da receita total.

22. O plenário do Supremo Tribunal Federal (STF) derrubou nesta quinta-feira (07.11.2019) a possibilidade de iniciar a execução da pena de prisão após condenação em segunda instância. Coube ao presidente do STF, Dias Toffoli, o voto de desempate no julgamento ao se posicionar a favor da execução da pena somente após esgotados todos os recursos cabíveis, o chamado trânsito em julgado.

(jb. Disponível em <https://bit.ly/2X2voBe>. Acesso em 08.11.2019. Adaptado)

A respeito desse julgamento, é correto afirmar que

- (A) segundo dados do Conselho Nacional de Justiça (CNJ), essa decisão do STF poderá libertar até 300 mil presidiários que estão presos após condenação em segunda instância.
- (B) a força-tarefa da operação Lava Jato emitiu uma nota, logo após a decisão do STF, informando que respeita a decisão, e que ela não impedirá e nem reduzirá o combate à corrupção no país.
- (C) o resultado de 7 votos contrários à prisão em segunda instância e 4 votos favoráveis era esperado, principalmente, porque sete dos ministros do Supremo foram nomeados por réus que estão atualmente encarcerados.
- (D) Toffoli disse, ao declarar o seu voto, que, para se executar a pena de prisão após condenação em segunda instância, é preciso que o Congresso aprove uma legislação nesse sentido, o que não há atualmente.
- (E) Em entrevista após o julgamento, o ministro Edson Fachin, relator da operação Lava Jato, avaliou que, no combate à corrupção existem mecanismos mais eficazes do que a prisão em segunda instância.

23. Um decreto publicado no dia 07 de novembro de 2019, transfere a Secretaria Especial de Cultura do Ministério _____ para o Ministério _____. A Secretaria Especial de Cultura foi criada para substituir o Ministério _____ que foi extinto no início do mandato do atual Presidente.

(g1. Disponível em <https://glo.bo/2Cnzt9u>. Acesso em 09.11.2019. Adaptado)

Assinale a alternativa que completa, correta e respectivamente, a informação dada.

- (A) do Interior ... do Turismo ... das Cidades
- (B) das Cidades ... da Cidadania ... do Interior
- (C) da Cidadania ... do Turismo ... da Cultura
- (D) da Igualdade Racial ... do Interior ... das Cidades
- (E) do Turismo ... das Cidades; da Igualdade ... Racial

24. No dia 01 de agosto deste ano (2019) os jornais noticiaram que a ONU selecionou uma consultoria para fazer um planejamento que permita ao Brasil alcançar as metas do Pacto Global, que une a iniciativa privada em torno de metas a serem alcançadas até 2030. São 17 temas. O contrato, pioneiro no mundo, prevê que até o fim do ano sejam definidos ações, prazos, recursos e indicadores para o Brasil.

(exame. Disponível em <https://bit.ly/2NXH5oq>. Acesso em 07.11.2019. Adaptado)

O Pacto Global

- (A) determina que haja tolerância religiosa em todos os continentes.
- (B) corresponde a objetivos de desenvolvimento sustentável.
- (C) visa a erradicar os regimes de governo antidemocráticos.
- (D) busca a livre circulação das pessoas com o fim das fronteiras geográficas.
- (E) tem como finalidade erradicar os impostos de importação que prejudicam a livre iniciativa.

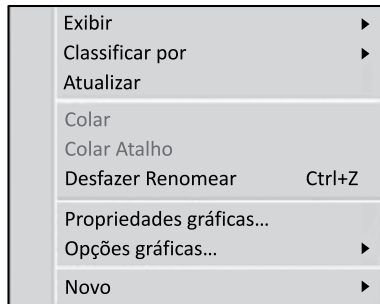
25. A Escola Municipal Deborah Silva Camargo de Cananéia, no litoral de São Paulo, venceu o Desafio Volta às Aulas, da Campanha Mares Limpos, promovida pelo Programa das Nações Unidas para o Meio Ambiente (PNUMA). A informação foi divulgada pela ONU nesta segunda-feira (04.11.2019).

(g1. Disponível em <https://glo.bo/2K4CMql>. Acesso em 07.11.2019. Adaptado)

A escola

- (A) recolheu duas toneladas de garrafas plásticas nas praias da cidade.
- (B) fez campanha junto aos banhistas para que depositassem embalagens plásticas nas lixeiras.
- (C) promoveu ações para diminuir o uso de plástico pelos alunos e familiares.
- (D) fez uma feira ensinando como transformar garrafas pet em obras de arte.
- (E) durante um mês usou uma hora de aula para que os alunos recolhessem embalagens plásticas das praias da cidade.

26. Em um computador com Microsoft Windows 7 instalado, em sua configuração original, um usuário clicou com o botão invertido do mouse sobre um ponto vazio da Área de Trabalho e obteve o seguinte menu de contexto, exibido parcialmente na imagem a seguir.



A opção Novo permite que se crie um(a) novo(a)

- (A) Usuário
 - (B) Atalho
 - (C) Papel de parede
 - (D) Barra de ferramentas
 - (E) Pesquisa por arquivos
27. Assinale a alternativa que indica a quantidade de formatações de texto aplicadas na palavra Estância, que são possíveis de se imprimir, editada no Microsoft Word 2010, em sua configuração padrão.

Prefeitura Municipal da Estância de Cananéia

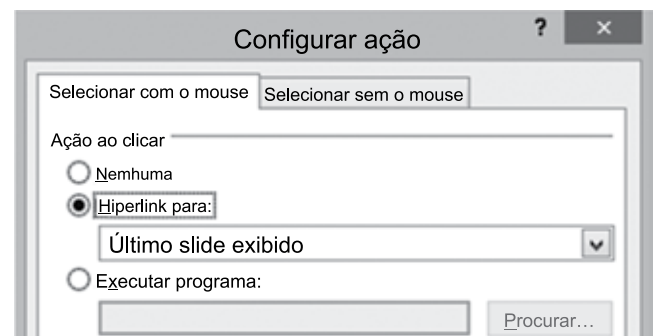
- (A) 1
 - (B) 2
 - (C) 3
 - (D) 4
 - (E) 5
28. Assinale a alternativa que apresenta a forma de pesquisa mais restritiva a ser feito no site do Google.
- (A) prefeitura municipal da estância de Cananéia
 - (B) "prefeitura municipal da estância de Cananéia" site:www.cananeia.sp.gov.br
 - (C) "prefeitura municipal da estância de Cananéia"
 - (D) prefeitura municipal da *
 - (E) prefeitura Cananéia

29. Tem-se a seguinte planilha criada no Microsoft Excel 2010, em sua configuração padrão.

	A
1	1
2	2
3	3
4	4
5	5
6	
7	5

A célula A7 contém a fórmula =CONT.VALORES(A1:A5). Se o usuário alterar o conteúdo da célula A1 para um texto, alterar o conteúdo da célula A2 para o valor zero, alterar o conteúdo da célula A3 para um espaço em branco, apagar o conteúdo da célula A4 selecionando-a e pressionando a tecla DEL e, alterar o conteúdo da célula A5 para a fórmula =SOMA(A1:A4), assinale a alternativa que indica o conteúdo final da célula A7.

- (A) 1
 - (B) 2
 - (C) 3
 - (D) 4
 - (E) 5
30. No Microsoft PowerPoint 2010, em sua configuração padrão, um usuário criou uma apresentação com 10 slides, sem nenhuma animação ou transição de slides. No slide 4 ele adicionou um botão de ação, com a ação de ir para o slide 10. No slide 5 ele adicionou outro botão de ação também com a ação de ir para o slide 10. No slide 10 ele adicionou um botão de ação, com a ação de ir para o Último slide exibido, como apresentado na imagem a seguir.



Ao iniciar o Modo de Apresentação, o usuário navegou pelos slides de forma sequencial, e chegou ao slide 9. Pressionou ENTER e foi exibido o slide 10. Assinale a alternativa que indica o resultado da ação ao se pressionar no botão de ação do slide 10.

- (A) Exibe o slide 4.
- (B) Exibe o slide 5.
- (C) Exibe o slide 9.
- (D) Permanece no slide 10.
- (E) Termina a apresentação.

CONHECIMENTOS ESPECÍFICOS

31. O Estatuto da Criança e do Adolescente (ECA) representou uma significativa mudança de paradigma, transformando completamente o tratamento legal dispensado à criança e ao adolescente, ao instituir a Doutrina da Proteção Integral em substituição à Doutrina da Situação Irregular. De acordo com determinações expressas no ECA, (artigo 5º), nenhuma criança ou adolescente será objeto de qualquer forma de negligência, discriminação, exploração, violência, crueldade e opressão, punido na forma da lei qualquer atentado aos seus direitos fundamentais, por ação ou
- (A) anuência.
 - (B) omissão.
 - (C) convivência.
 - (D) permissão.
 - (E) concordância.
32. A violência doméstica contra a mulher faz parte de uma realidade que amedronta o público feminino e viola seus direitos nas mais variadas idades, etnias e estratos sociais. No Brasil, a Lei nº 11.340/2006, representa uma possibilidade jurídica para resguardar os direitos da mulher. Em se tratando do atendimento à mulher em situação de violência doméstica e familiar, a Lei Maria da Penha, em seu artigo 11, I, determina que a autoridade policial deverá, entre outras providências, garantir proteção policial, quando necessário, comunicando de imediato ao Ministério Público e
- (A) à família de origem.
 - (B) ao Conselho da Mulher.
 - (C) ao Poder Judiciário.
 - (D) ao Conselho de Assistência Social.
 - (E) ao Advogado de defesa.
33. A exemplo dos países desenvolvidos, o Brasil tem demonstrado maturidade, orientada pelo princípio da equidade, ao dedicar especial atenção à população idosa, que é crescente no país. Evidência clara dessa atenção é a instituição da Lei Federal nº 10.741/03, o Estatuto do Idoso, destinado a regular os direitos assegurados às pessoas com idade igual ou superior a 60 (sessenta) anos. De acordo com determinação do artigo 8º do referido Estatuto, o envelhecimento é um direito personalíssimo e a sua proteção, um direito
- (A) social.
 - (B) elementar.
 - (C) especial.
 - (D) básico.
 - (E) essencial.
34. São considerados crimes os atos de discriminação de qualquer natureza, como o abandono de idosos em asilos ou hospitais, e também a apropriação e o desvio de bens, inclusive por meio da indução de assinatura de instrumentos de mandato, como, por exemplo, procurações. De acordo com o Estatuto do Idoso (artigo 4º da Lei nº 10.741), nenhum idoso será objeto de qualquer tipo de negligência, discriminação, violência, crueldade ou opressão e todo atentado aos seus direitos
- (A) merece especial atenção.
 - (B) demandará remissão.
 - (C) será punido na forma da lei.
 - (D) é um desvio comportamental.
 - (E) será informado à família.
35. O Plano Nacional de Enfrentamento da Violência Sexual Infantojuvenil é um instrumento de garantia e defesa de direitos de crianças e adolescentes em situação ou risco de violência sexual. O Plano estrutura-se em torno de seis eixos estratégicos, sendo definidos em cada um deles os objetivos e metas a serem alcançados, as ações a serem executadas, os prazos e as parcerias. A Análise da Situação é um desses eixos e significa, entre outros aspectos, realizar o monitoramento, avaliação do Plano e das condições e garantindo
- (A) sua sustentação.
 - (B) sua prorrogação.
 - (C) sua superação.
 - (D) seu compromisso.
 - (E) seu financiamento.
36. O Sistema Nacional de Atendimento Socioeducativo (SINASE) regulamenta a execução das medidas destinadas a adolescente que pratique ato infracional, ou seja, trata-se de um conjunto ordenado de princípios, regras e critérios que envolvem a execução de tais medidas. Ao tratar dos programas de atendimento, o Sinase prevê que os Municípios inscreverão seus programas e alterações, bem como as entidades de atendimento executoras, no Conselho Municipal dos Direitos da Criança e do Adolescente. Conforme determina o artigo 12 do citado Sistema, a composição da equipe técnica do programa de atendimento deverá ser interdisciplinar, compreendendo, de acordo com as normas de referência, no mínimo, profissionais das áreas de saúde, assistência social e
- (A) cultura.
 - (B) comunicação.
 - (C) esportes.
 - (D) educação.
 - (E) trabalho.

37. Como resposta aos efeitos da Segunda Guerra Mundial, a proclamação, no ano de 1948, da Declaração Universal dos Direitos Humanos aponta para o ideal comum a ser atingido por todos os povos e todas as nações. Seu objetivo é que cada indivíduo e cada órgão da sociedade, tendo sempre em mente seus princípios, esforcem-se, por meio do ensino e da educação, por promover o respeito a esses direitos e liberdades nela previstos. Conforme prevê a citada Declaração (artigo 7), todos são iguais perante a lei e têm direito a igual proteção legal
- (A) sem qualquer distinção.
 - (B) independentemente de sua origem.
 - (C) respeitadas as diversidades locais.
 - (D) considerado o livre arbítrio pessoal.
 - (E) submetida à avaliação judicial.
38. Desde a segunda metade do século XX, a sociedade ocidental, por meio da Declaração Universal dos Direitos da Criança, reconhece que esse segmento necessita de cuidados e assistência especiais. Esse período marcou um movimento, em âmbito mundial, definindo normativas voltadas a essa atenção. Conforme determina a referida Declaração, no princípio 2º, a criança gozará proteção especial e ser-lhe-ão proporcionadas oportunidades e facilidades, por lei e por outros meios, a fim de lhe facultar o desenvolvimento físico, mental, moral, espiritual e social, de forma sadia e normal e em condições de liberdade e
- (A) humanidade.
 - (B) sensibilidade.
 - (C) compreensão.
 - (D) equilíbrio.
 - (E) dignidade.
39. A Política Nacional de Assistência Social (PNAS) define objetivamente as diretrizes para efetivação da assistência social como direito de cidadania e responsabilidade do Estado. Pautada no pacto federativo, no qual são detalhadas as atribuições e competências dos três níveis de governo na provisão de atenções socioassistenciais, tal política está apoiada em um modelo de gestão
- (A) centralizada.
 - (B) compartilhada.
 - (C) substantiva.
 - (D) unívoca.
 - (E) ampliada.
40. Em se tratando da PNAS, destaca-se a importância da articulação entre as políticas públicas, por meio do desenvolvimento de ações conjuntas voltadas à proteção social básica ou especial e ao enfrentamento das desigualdades sociais. Essa articulação pressupõe a implementação de programas e serviços integrados e a superação da fragmentação da atenção pública às necessidades sociais da população. É correto afirmar que esse processo de trabalho da PNAS expressa o princípio ordenador da
- (A) especialidade.
 - (B) qualidade.
 - (C) subjetividade.
 - (D) intersetorialidade.
 - (E) especificidade.
41. A Política Nacional de Assistência Social (PNAS) assegura a defesa e a atenção das necessidades sociais da família, de seus membros e de indivíduos socialmente excluídos. Cabem à Assistência Social as ações de prevenção, proteção, promoção e inserção, bem como o provimento de seguranças que cubram e reduzam a vulnerabilidade e o risco social. Conforme artigo 24 da Lei Orgânica de Assistência Social (LOAS), os programas de assistência social com objetivos, tempo e área de abrangência definidos para qualificar, incentivar e melhorar os benefícios e os serviços assistenciais compreendem ações integradas e
- (A) substantivas.
 - (B) complementares.
 - (C) genéricas.
 - (D) alternadas.
 - (E) focalizadas.
42. Os serviços socioassistenciais são direcionados para todos que se encontram em situação de privação, vitimização, exploração, vulnerabilidade, exclusão pela pobreza, risco pessoal e social, em qualquer momento do ciclo de vida. Compõem, em rede, o Sistema Único de Assistência Social (SUAS), de âmbito nacional. A Tipificação Nacional dos Serviços Socioassistenciais descreve os serviços oferecidos pelo Sistema Único de Assistência Social (SUAS). Aprovada pelo Conselho Nacional de Assistência Social (CNAS) em novembro de 2009, define, em todo o país, os serviços de proteção social básica e especial, estabelecendo bases para
- (A) sua suplementação.
 - (B) seu nivelamento.
 - (C) sua padronização.
 - (D) sua potencialização.
 - (E) sua substituição.

43. Espelhado no mito da geração anos 60, o jovem protagonista é visto como aquele que tem a capacidade de colocar-se em posição de destaque ou de constituir-se no principal responsável por um conjunto de eventos. Essa perspectiva evoca características que seriam inerentes ao indivíduo jovem. A expressão protagonismo juvenil também é usada para designar um método, uma pedagogia, cuja ênfase na atividade do jovem o deslocaria de uma situação de suposta passividade para a posição de
- (A) participação.
 - (B) alheamento.
 - (C) despojamento.
 - (D) respeito.
 - (E) austeridade.
44. A Lei Orgânica da Assistência Social (LOAS) representou importante inovação nesta área ao definir um novo desenho institucional marcado, dentre outras características, pelo caráter de direito não contributivo, ou seja, não vinculado a qualquer tipo de contribuição prévia. Em se tratando dos projetos de enfrentamento da pobreza, o artigo 26 da LOAS determina que o incentivo a projetos dessa natureza assentar-se-á em mecanismos de participação de diferentes áreas governamentais, individualmente ou articulados com organismos não governamentais e da sociedade civil, em sistema de
- (A) alternância.
 - (B) equiparação.
 - (C) concomitância.
 - (D) cooperação.
 - (E) compensação.
45. Como política de proteção social, a assistência social tem um campo próprio de atenções e provisão social. Conceber o Sistema Único de Assistência Social (SUAS), que materializa a PNAS e lhe dá concretude, como um sistema público de proteção social significa ir além da articulação ou integração de agentes e ações, exigindo-se a adoção de uma perspectiva de totalidade da ação pública. O SUAS demanda articulações com outras políticas públicas, investimentos financeiros, materiais, humanos e de manutenção. Para realizar essas tarefas no âmbito da assistência social, destaca-se o papel do Estado, do gestor público e do comando único
- (A) nos municípios de grande porte.
 - (B) nos estados da federação.
 - (C) nos conselhos de assistência social.
 - (D) nas entidades assistenciais.
 - (E) nas três esferas de poder.
46. O orientador social tem atuação constante junto aos grupos do Serviço de Convivência e Fortalecimento de Vínculos (SCFV) e é responsável pela criação de um ambiente de convivência participativo e democrático. Os grupos são organizados de acordo com o ciclo de vida, com a finalidade de complementar o trabalho social com famílias e prevenir a ocorrência de situações de risco social. Pautado na defesa e afirmação dos direitos e no desenvolvimento de capacidades e potencialidades, com vistas ao alcance de alternativas emancipatórias, esse serviço possui caráter preventivo e
- (A) defensivo.
 - (B) pessoalizado.
 - (C) proativo.
 - (D) adequado.
 - (E) curativo.
47. De acordo com orientações técnicas para serviço de acolhimento institucional, o atendimento humanizado de crianças e adolescentes em tais serviços requer uma estreita articulação entre o Sistema Único de Saúde (SUS) e o Sistema Único de Assistência Social (SUAS). A referida normativa orienta sobre situações de crianças e adolescentes que demandam articulação com a Rede de Saúde e prevê ações de capacitação em saúde e acompanhamento dos educadores, cuidadores e dos profissionais dos serviços de acolhimento. Orienta ainda que os órgãos gestores dessas duas políticas desenvolvam estratégias conjuntas, voltadas para a atenção integral à saúde das crianças e dos adolescentes, por meio de
- (A) instalação de ambulatórios institucionais.
 - (B) estabelecimento de protocolos.
 - (C) planos de saúde individuais.
 - (D) exames clínicos periódicos.
 - (E) parcerias com instituições congêneres.
48. A Lei nº 11.343/2006, institui o Sistema Nacional de Políticas Públicas sobre Drogas – Sisnad; prescreve medidas para prevenção do uso indevido, atenção e reinserção social de usuários e dependentes de drogas; estabelece normas para repressão à produção não autorizada e ao tráfico ilícito de drogas e define crimes. Dentre os princípios orientadores do Sisnad (artigo 4, I), destaca-se o respeito aos direitos fundamentais da pessoa humana, especialmente quanto à sua autonomia e à sua
- (A) liberdade.
 - (B) dependência.
 - (C) compulsão.
 - (D) legalidade.
 - (E) adequação.

49. A liberdade assistida é medida socioeducativa prevista no Estatuto da Criança e do Adolescente (ECA). Essa medida será adotada sempre que se afigurar a mais adequada para o fim de acompanhar, auxiliar e orientar o adolescente. Conforme expresso no artigo 118, § 2º do citado Estatuto, a liberdade assistida será fixada pelo prazo mínimo de seis meses, podendo a qualquer tempo ser prorrogada, revogada ou substituída por outra medida, ouvido o orientador, o Ministério Público e o

- (A) delegado.
- (B) conselho tutelar.
- (C) assistente social.
- (D) defensor.
- (E) tutor.

50. A partir da Lei nº 8.069/1990 (ECA), crianças e adolescentes brasileiros passaram a ser reconhecidos como sujeitos de direitos e deveres, considerados como pessoas em desenvolvimento a quem se deve prioridade absoluta do Estado. No que se refere ao adolescente em conflito com a lei, foram resguardados diversos direitos e garantias, tais como o direito ao devido processo legal, à ampla defesa e, em caso de ser comprovada a prática de ato infracional, de serem aplicadas medidas socioeducativas pela autoridade competente. Conforme determina o artigo 112, § 1º, a medida aplicada ao adolescente levará em conta a sua capacidade de cumpri-la, as circunstâncias e

- (A) a motivação do fato.
- (B) a gravidade da infração.
- (C) o reconhecimento da culpa.
- (D) a possibilidade de reincidência.
- (E) o compromisso de superação.

