



**PREFEITURA MUNICIPAL DA
ESTÂNCIA BALNEÁRIA DE ILHABELA**

ESTADO DE SÃO PAULO

CONCURSO PÚBLICO

002. PROVA OBJETIVA

TÉCNICO EM CONTABILIDADE

- ◆ Você recebeu sua folha de respostas e este caderno contendo 50 questões objetivas.
- ◆ Confira seus dados impressos na capa deste caderno e na folha de respostas.
- ◆ Quando for permitido abrir o caderno, verifique se está completo ou se apresenta imperfeições. Caso haja algum problema, informe ao fiscal da sala.
- ◆ Leia cuidadosamente todas as questões e escolha a resposta que você considera correta.
- ◆ Marque, na folha de respostas, com caneta de tinta preta, a letra correspondente à alternativa que você escolheu.
- ◆ A duração da prova é de 3 horas, já incluído o tempo para o preenchimento da folha de respostas.
- ◆ Só será permitida a saída definitiva da sala e do prédio após transcorrida 1 hora do início da prova.
- ◆ Deverão permanecer em cada uma das salas de prova os 3 últimos candidatos, até que o último deles entregue sua prova, assinando termo respectivo.
- ◆ Ao sair, você entregará ao fiscal a folha de respostas e este caderno, podendo levar apenas o rascunho de gabarito, localizado em sua carteira, para futura conferência.
- ◆ Até que você saia do prédio, todas as proibições e orientações continuam válidas.

AGUARDE A ORDEM DO FISCAL PARA ABRIR ESTE CADERNO DE QUESTÕES.

Nome do candidato _____

RG _____

Inscrição _____


Prédio _____

Sala _____

Carteira _____

LÍNGUA PORTUGUESA

Observe o quadro de Benedito Calixto e leia o texto para responder à questão de número **01**.



O artista descreve minuciosamente a época de cheia da Várzea do Carmo, em 1892, indicando o cotidiano do rio na cidade de São Paulo. O formato panorâmico evidencia a amplitude da cidade, demonstrando detalhes de seu horizonte paisagístico. Calixto faz com que o rio, um motivo cotidiano, frequentemente representado em pequenos suportes, aqui adquira a importância de personagem histórico em diálogo com a cidade.

(OLIVEIRA, Helder Manuel Silva. In: *Castagneto e o contexto artístico paulista do século XIX*. (institutopoimenica.com/ acesso em 15.02.20)

- 01.** Considerando o quadro e o texto, conclui-se que o pintor retrata o rio como um
- (A) simples acessório com pouca importância na paisagem urbana.
 - (B) elemento que reflete a estagnação do progresso da cidade.
 - (C) objeto figurativo de pouca relevância na amplitude do quadro.
 - (D) detalhe decorativo, deslocado no conjunto de figuras da paisagem.
 - (E) componente representativo das características da cidade.

Leia o texto para responder às questões de números **02** a **14**.

São Paulo revive mesmas enchentes há 91 anos

Em uma de suas principais obras, Benedito Calixto retratou, em 1892, a inundaç o da  rea do atual Mercado, no centro de S o Paulo. A regi o foi atingida tamb m em 1929, numa das primeiras grandes enchentes da capital e submergiu novamente, quase 130 anos depois do quadro hist rico.

Urbanistas afirmam que uma das principais explica es para as repetidas inunda es foi a decis o de expandir a cidade para as  reas pr ximas  s v rzeas dos rios Tiet  e Tamanduat , a partir de meados de 1890. O quadro de Benedito Calixto capta o in cio dessa expans o da cidade. A cheia hist rica de 1929 tamb m foi registrada em uma s rie de fotografias que viraram sin nimo das inunda es paulistanas, por ter deixado a cidade debaixo da  gua por sete dias.

H  suspeita de que os efeitos da forte chuva que atingiu S o Paulo naquele fevereiro de 1929 tenham sido potencializados por a es da ent o onipresente Light. O acordo com o poder p blico previa que a Light poderia desapropriar  reas atingidas por enchentes naquele ano.

Pesquisa da professora da USP Odette Seabra indica que a Light abriu suas represas para aumentar a  rea inundada pelos rios Pinheiros, Tiet  e Tamanduat . Essas  reas inundadas passaram para as m os da Light, que depois as comercializou.

Os fatos recentes mostram que a hist ria se repete: 63% dos alagamentos neste ano de 2020 est o na mesma regi o atingida pela cheia de 1929, que corresponde   da subprefeitura da S . Mas desta vez, os locais inundados n o se restringem    rea do Mercado.  reas das subprefeituras da Lapa e de Pinheiros tamb m foram atingidas.

As obras e interven es para conter as cheias dos rios nessas  reas n o foram suficientes. Um outro agravante   que o solo da cidade tem ficado cada vez mais imperme vel, com aumento das  reas constru das e ocupadas.

(Folha de S. Paulo.15.02.2020. Adaptado)

- 02.** De acordo com o texto, pode-se afirmar que as inunda es na cidade de S o Paulo
- (A) s o problemas recentes, sem rela o com as decis es do poder p blico.
 - (B) ocorrem no atual momento em fun o de fen menos da natureza.
 - (C) s o fatos recorrentes, relacionados ao crescimento da cidade.
 - (D) decorrem do desencontro entre os urbanistas e o poder p blico.
 - (E) acontecem, ainda que as autoridades se esforcem para evit -las.

03. A pesquisa de Odette Seabra permite concluir que a Light
- (A) procurou amenizar as consequências de enchentes.
 - (B) cumpriu determinação da administração pública.
 - (C) preveniu as autoridades quanto a possíveis inundações.
 - (D) agiu de forma a favorecer a ocorrência de inundações.
 - (E) abdicou do direito de posse das áreas inundadas.
04. Lendo-se o texto, conclui-se que urbanistas e pesquisadores
- (A) apontam as questões que podem desencadear os alagamentos na cidade.
 - (B) atribuem aos fenômenos da natureza a causa histórica das enchentes.
 - (C) provam que o poder público esgotou todas as estratégias para conter as enchentes.
 - (D) afirmam que os alagamentos não têm relação com a expansão e o progresso da cidade.
 - (E) defendem a contribuição das empresas para estancar os alagamentos na cidade.
05. Assinale a afirmação correta, de acordo com o texto.
- (A) A pesquisa de Odette Seabra procura minimizar o procedimento adotado pela Light.
 - (B) Ao longo dos anos, o poder público tem aprimorado as ações contra enchentes na cidade.
 - (C) É impropriedade afirmar que os alagamentos possam decorrer da impermeabilização do solo.
 - (D) As subprefeituras da Lapa e de Pinheiros atestam os maiores índices de alagamento deste ano.
 - (E) A obra de Benedito Calixto é um prenúncio dos alagamentos futuros na cidade de São Paulo.
06. Assinale a alternativa em que todas as expressões podem ser associadas às causas das enchentes.
- (A) Abertura de represas e pesquisa de Odette Seabra.
 - (B) Impermeabilização do solo e expansão da cidade.
 - (C) Aumento de áreas próximas às várzeas e excesso de zelo do poder público.
 - (D) Comercialização das várzeas pela Light e cuidado do cidadão para com a cidade.
 - (E) Explicação dos urbanistas e fortes chuvas de fevereiro.
07. Assinale a alternativa que substitui, correta e respectivamente, sem alteração de sentido, os termos em destaque nas frases:
- As obras e intervenções para **conter** as cheias dos rios ...
- Os locais inundados não **se restringem** à área do Mercado.
- (A) frear e se limitam.
 - (B) represar e se equivalem.
 - (C) demarcar e se assemelham.
 - (D) comprimir e se justapõem.
 - (E) contornar e se comparam.
08. Assinale a alternativa que substitui o trecho em destaque, sem alteração de sentido.
- Conforme os urbanistas afirmam**, uma das explicações...
- (A) Todavia os urbanistas afirmam que uma das explicações...
 - (B) Segundo os urbanistas, uma das explicações...
 - (C) Assim os urbanistas afirmam que uma das explicações...
 - (D) Mas os urbanistas afirmam que uma das explicações...
 - (E) Também os urbanistas afirmam que uma das explicações...
09. O trecho em destaque da frase - **Há suspeita de que** os efeitos da chuva tenham sido potencializados por ações da Light. - está corretamente reescrito, de acordo com a norma-padrão da regência, em:
- (A) Supõe-se que...
 - (B) Insinua-se de que...
 - (C) Investiga-se em que...
 - (D) Desconfia-se em que...
 - (E) Duvida-se em que...

10. O verbo **há** na frase - São Paulo revive mesmas enchentes há 91 anos – está corretamente alterado, de acordo com a norma-padrão da concordância, em:

- (A) fazem.
- (B) devem fazer.
- (C) faz.
- (D) podem fazer.
- (E) farão.

11. Assinale a alternativa que completa corretamente, de acordo com a norma-padrão do uso da crase, a frase:

A repetição de locais inundados ...

- (A) estende-se as outras subprefeituras.
- (B) não se limita as zonas centrais.
- (C) alcança às áreas distantes do centro.
- (D) chega às regiões mais baixas.
- (E) afeta às populações carentes.

12. Assinale a alternativa em que a barra deve ser substituída por dois-pontos.

- (A) O Mercado faz parte da subprefeitura mais alagada/ a da Sé.
- (B) Quando começa a chover forte/ os moradores ficam amedrontados.
- (C) Se o poder público não investir em saneamento/ os alagamentos continuarão.
- (D) Naquela época/ o alagamento afetava apenas as margens do Tamandateí.
- (E) Autor do quadro *Inundação da Várzea do Carmo*/ Benedito Calixto retratou a cidade de São Paulo.

13. Os verbos em destaque na frase - Com a pintura, Calixto **capta** o início da expansão da cidade e faz com que o rio **adquira** importância de personagem histórica. – estão, correta e respectivamente substituídos, de acordo com a conjugação verbal, por:

- (A) apreenda e possui.
- (B) anteveja e concentra.
- (C) vislumbra e assume.
- (D) desenha e ganha.
- (E) aponta e obtém.

14. Entre as orações da frase – Quanto mais impermeabilização do solo, mais enchentes haverá – observa-se ideia de

- (A) tempo.
- (B) causa.
- (C) condição.
- (D) finalidade.
- (E) proporção.

Leia o trecho para responder à questão de número 15.

Capitania investiga lançamento de óleo no mar em Ilhabela

De acordo com a Cetesb, o que pode ter ocorrido é o aparecimento de uma mancha órfã.

O termo é usado em referência ao aparecimento de faixas oleosas na água por meio do vazamento de embarcações.

(www.g1.globo.com/sp/vale-do-paraiba-regiao/noticia/2018/08/15/, acesso em 18.02.20)

15. A expressão **mancha órfã** – está empregada em sentido figurado. Assinale a alternativa em que se observa a mesma ocorrência.

- (A) Em beleza natural, Ilhabela, com suas praias maravilhosas, atrai turistas de todo o Brasil.
- (B) Em algum ponto dessa maravilha, existe um lugar perfeito para você curtir o mar!
- (C) Lá existem todos os tipos de praias, aquelas voltadas para o Canal de São Sebastião são mais urbanizadas.
- (D) Já as praias que têm a face para o mar aberto são mais desertas, e não há estrada asfaltada até elas.
- (E) O Centro Histórico é um ótimo ponto de descanso, já que tem um jardim com alguns bancos. Entre eles, antigos canhões relembram o lado histórico de Ilhabela.

16. Um lote com 5814 caixas de remédio precisa ser distribuído entre o hospital central e os postos de saúde de uma cidade. Do total de caixas, $\frac{5}{9}$ têm uma data de validade próxima e por isso foram imediatamente encaminhadas para os postos. Das caixas restantes, $\frac{8}{19}$ serão enviadas sob demanda e as demais enviadas para o hospital central. O número de caixas de remédios recebido pelo hospital central nesse primeiro momento foi
- (A) 1414.
(B) 1482.
(C) 1496.
(D) 1513.
(E) 1539.
17. Todos os 480 funcionários de uma repartição passarão por exame fonoaudiológico. Inicialmente, farão exame as mulheres com 50 anos ou mais, que correspondem a 15% do total de funcionários, depois farão exame os homens com 50 anos ou mais, que correspondem a 30% do total de homens. Finalmente farão exame os funcionários com menos de 50 anos, ou seja, 188 mulheres e
- (A) 150 homens.
(B) 154 homens.
(C) 158 homens.
(D) 162 homens.
(E) 166 homens.
18. Um grupo de 612 recenseadores serão divididos em duas equipes, rural e urbana, de maneira que a razão entre o número de recenseadores da equipe rural para o número de recenseadores da equipe urbana seja $\frac{7}{11}$. O número de recenseadores que estarão na equipe urbana é
- (A) 238.
(B) 360.
(C) 374.
(D) 442.
(E) 476.

19. Para pintar a sinalização em uma estrada, 5 funcionários, trabalhando 6 horas por dia durante 3 dias, pintam 36 km de estrada. Para pintar 92 km dessa estrada em 2 dias, o número de funcionários de igual eficiência, trabalhando 5 horas por dia, que serão necessários é
- (A) 20.
(B) 21.
(C) 22.
(D) 23.
(E) 24.
20. Uma empresa produz doces para 4 lojas e para a sua própria loja de fábrica. Do total de doces de um certo lote, $\frac{3}{10}$ foi para a loja da capital e cada uma das 3 lojas do interior recebeu $\frac{1}{8}$ dos doces desse lote. Se os restantes 260 doces foram comercializados na loja da fábrica, o total de doces enviados para a loja da capital foi
- (A) 240.
(B) 270.
(C) 300.
(D) 330.
(E) 360.
21. Em uma lanchonete, o preço de 3 salgados e 1 suco é R\$ 33,00, o preço de 4 doces e 2 sucos é R\$ 76,00 e o preço de 5 salgados e 3 doces é R\$ 74,00. Nessa lanchonete, o preço de um doce é
- (A) R\$ 9,00.
(B) R\$ 10,00.
(C) R\$ 11,00.
(D) R\$ 12,00.
(E) R\$ 13,00.
22. Felipe comprou todas as revistas de um amigo. Ele pagou o mesmo preço para cada revista, sendo que o preço unitário, em reais, correspondeu à soma do número de revistas compradas com 3. Se o total pago foi R\$ 550,00, o algarismo das unidades do número de revistas compradas é
- (A) 5.
(B) 4.
(C) 3.
(D) 2.
(E) 1.

23. Uma loja de camisas funciona todos os dias do ano e nos primeiros 9 dias de janeiro de 2020, a média dos números de camisas vendidas por dia foi igual a 29. Nos últimos 9 dias desse mês, foram vendidas, em média, 44 camisas por dia. Se no mês de janeiro de 2020 essa loja vendeu, em média, 32 camisas por dia e se do dia 10 de janeiro ao dia 21 de janeiro foram vendidas 25 camisas por dia, o número de camisas vendidas no dia 22 de janeiro foi
- (A) 35.
 (B) 40.
 (C) 45.
 (D) 55.
 (E) 60.

24. O perímetro de um pentágono ABCDE é igual a 254 cm, com o lado BC congruente ao lado AE e o lado CD congruente ao lado ED, conforme mostra a figura.

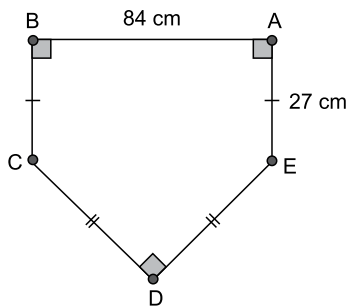



Figura fora de escala

A área do pentágono ABCDE, em cm^2 , é

- (A) 2 180.
 (B) 2 540.
 (C) 2 820.
 (D) 3 630.
 (E) 3 950.
25. Um recipiente tem seu interior na forma de paralelepípedo reto-retângulo. Uma das faces do interior desse recipiente é um quadrado de lado 6 cm e uma outra face tem perímetro igual a 34 cm. Se esse recipiente já contém 225 mL de água, a quantidade de água, em mL, que ainda é possível armazenar em seu interior é
- (A) 166.
 (B) 171.
 (C) 182.
 (D) 193.
 (E) 204.

NOÇÕES DE INFORMÁTICA

26. Com a pasta Pasta 2 selecionada, tem-se a Caixa de Pesquisa no Windows Explorer (Explorador de Arquivos), em um computador com Microsoft Windows 10, em sua configuração original.

Pesquisar Pasta 2 

Um usuário preencheu nessa caixa o conteúdo *uniao.* e pressionou ENTER. Considerando que essa pasta contém os arquivos a seguir, assinale a alternativa que indica quais serão apresentados como resultado da pesquisa.

Ata reuniao.txt

controle reuniões.txt

reuniao.txt

reunião fevereiro.txt

Seguranca na reunião2.txt

- (A) Ata reuniao.txt, reuniao.txt e Seguranca na reunião2.txt, apenas
- (B) reuniao.txt, apenas
- (C) Ata reuniao.txt, controle reuniões.txt, reuniao.txt, reunião fevereiro.txt e Seguranca na reunião2.txt
- (D) Ata reuniao.txt e reuniao.txt, apenas
- (E) Ata reuniao.txt, reuniao.txt, reunião fevereiro.txt e Seguranca na reunião2.txt
27. Em um novo documento em branco criado no Microsoft Word 2019, em sua configuração padrão, um usuário está redigindo um texto na primeira linha, com a formatação negrito, itálico e cor da fonte vermelho. Ao pressionar ENTER para digitar um novo texto na segunda linha, assinale a alternativa que indica quais formatações são mantidas.
- (A) Negrito, itálico, cor da fonte vermelho.
- (B) Negrito e itálico, apenas.
- (C) Itálico, apenas.
- (D) Negrito e cor da fonte vermelho, apenas.
- (E) Negrito, apenas.

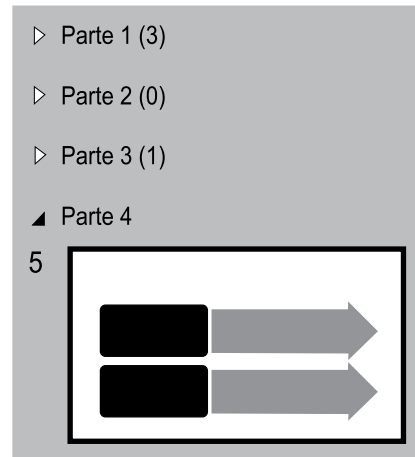
28. Tem-se a seguinte planilha, criada no Microsoft Excel 2019, em sua configuração original.

	A
1	1
2	2
3	3
4	2

A célula A4 contém a fórmula =MÉDIA(A1:A3). Se o usuário selecionar a célula A3 e apagar o seu conteúdo, pressionando a tecla Del, o resultado apresentado na célula A4 será:

- (A) 0
- (B) 1
- (C) 1,5
- (D) 3
- (E) #ERRO

29. Tem-se a seguinte apresentação, criada no Microsoft PowerPoint 2019, em sua configuração original, onde os slides estão agrupados em seções.



Ao selecionar a seção Parte 1, pressionar Del e confirmar quaisquer eventuais perguntas que o PowerPoint faça, assinale a alternativa que indica quantos slides serão apagados e quantos slides restarão na apresentação.

- (A) 1 e 4.
- (B) 3 e 1.
- (C) 3 e 2.
- (D) 4 e 1.
- (E) 5 e 0.
30. Usando o Microsoft Outlook 2019, em sua configuração padrão, um usuário criou uma regra para mover mensagens específicas para algumas pastas. Depois de algum tempo, o usuário recebeu uma mensagem que atendia a esses critérios e que foi armazenada diretamente, de forma automática, na pasta Mensagens Corporativas, em vez da pasta Caixa de Entrada. Ao apagar essa regra
- (A) as novas mensagens recebidas, que atendem a esses mesmos critérios, serão armazenadas na pasta Rascunhos.
- (B) as mensagens existentes na pasta Mensagens Corporativas serão também apagadas.
- (C) as mensagens existentes na pasta Mensagens Corporativas serão movidas para a pasta Caixa de Entrada.
- (D) as mensagens existentes na pasta Mensagens Corporativas serão marcadas como não lidas.
- (E) as novas mensagens recebidas, que atendem a esses mesmos critérios, serão armazenadas na pasta Caixa de Entrada.

CONHECIMENTOS ESPECÍFICOS

31. Assinale a alternativa correta.

- (A) A base para elaboração da Demonstração do Resultado do Exercício é a análise da afetação ou não da receita ou da despesa no caixa da entidade.
- (B) Ativos e passivos são elementos patrimoniais de resultado que compõem a Demonstração de Resultado do Exercício.
- (C) A informação contábil é reconhecida e mensurada com base no regime de competência da Contabilidade.
- (D) O patrimônio líquido representa todas as expectativas econômicas passadas, fruto de eventos presentes e sob controle da entidade.
- (E) Receitas e perdas incorridas no período compõem, obrigatoriamente, a Demonstração do Fluxo de Caixa.

Os dados a seguir deverão ser utilizados para responder às questões de números 32 a 35.

Balancete de Verificação	em R\$
Bancos	50.000,00
Bens imóveis	150.000,00
Bens móveis	80.000,00
Caixa	10.000,00
Capital Social	460.000,00
Cientes a receber	56.000,00
Custo da mercadoria vendida	120.000,00
Depreciação acumulada	14.600,00
Despesa com depreciação	4.600,00
Despesa com PECLD	4.000,00
Despesas administrativas	30.000,00
Despesas com impostos	9.000,00
Despesas com salários	50.000,00
Despesas financeiras	1.500,00
Duplicatas descontadas	15.000,00
Encargos financeiros a apropriar	850,00
Estoques	90.000,00
Fornecedores	230.000,00
ICMS sobre o faturamento	45.000,00
Impostos federais a pagar	9.450,00
Instrumentos financeiros ativos	100.000,00
Licenças de <i>software</i>	60.000,00
Perda estimada de crédito de liquidação duvidosa (PECLD) ativo	3.400,00
Propriedades para investimento	300.000,00
Provisões trabalhistas	68.600,00
Receita bruta	300.000,00
Receita financeira	2.000,00
Reservas de lucro	98.000,00
Salários a pagar	47.800,00
Terrenos	50.000,00

32. O valor do ativo total é, em R\$:

- (A) 900.000,00.
- (B) 928.000,00.
- (C) 928.850,00.
- (D) 931.400,00.
- (E) 934.800,00.

33. O resultado líquido do período totalizou, em R\$:

- (A) 37.500,00.
- (B) 37.650,00.
- (C) 37.900,00.
- (D) 38.500,00.
- (E) 39.150,00.

34. As contas redutoras de ativo totalizaram, em R\$:

- (A) 3.400,00.
- (B) 14.600,00.
- (C) 15.000,00.
- (D) 18.000,00.
- (E) 18.850,00.

35. O resultado financeiro da entidade totalizou, em R\$:

- (A) 2.350,00 negativo.
- (B) 350,00 negativo.
- (C) 350,00 positivo.
- (D) 500,00 negativo.
- (E) 500,00 positivo.

36. Uma entidade comercial adquiriu 1 000 unidades de um dos seus produtos para revenda pelo valor de R\$ 1,50 cada. Sabe-se que incidem, sob essa transação econômica, alíquota de ICMS de 16%. Nesse sentido, o custo unitário dos estoques registrado pela contabilidade é, aproximadamente, em R\$:

- (A) 0,23.
- (B) 1,00.
- (C) 1,20.
- (D) 1,26.
- (E) 1,50.

37. Os dados a seguir representam a quantidade de matérias-primas adquiridas mensalmente por uma entidade industrial no ano de 2019.

Janeiro	1 000
Fevereiro	3 000
Março	600
Abril	800
Maiο	200
Junho	1 500
Julho	900
Agosto	0
Setembro	0
Outubro	3 000
Novembro	1 000
Dezembro	500

A média de mercadorias adquiridas em 2019 foi de, aproximadamente:

- (A) 729.
(B) 850.
(C) 1 000.
(D) 1 015.
(E) 1 042.
38. Uma empresa prestadora de serviços contratou e pagou, em 30.12.2018, seguro para os automóveis utilizados pelos seus consultores pelo valor de R\$ 18.000,00. Sabe-se que o período de vigência do seguro contrato é de 01.03.2019 a 01.03.2020. Com base nessas informações, o valor da despesa antecipada com seguros evidenciada no Balanço Patrimonial anual em 31.12.2019 foi, em R\$:
- (A) 1.500,00.
(B) 3.000,00.
(C) 13.500,00.
(D) 15.000,00.
(E) 18.000,00.

39. Uma entidade comercial apresentou as seguintes informações:

	em R\$
Estoque Inicial	10.000,00
Estoque Final	20.000,00
Saldo Inicial de Fornecedores	50.000,00
Saldo Final de Fornecedores	60.000,00
Compras	90.000,00

O custo da mercadoria vendida no período totalizou, em R\$:

- (A) 50.000,00.
(B) 55.000,00.
(C) 60.000,00.
(D) 80.000,00.
(E) 90.000,00.
40. Uma empresa antecipou recebíveis no valor de \$ 100.000,00 em 02.01.2020. Sabe-se que o prazo dessa operação foi de 10 meses e que a instituição financeira depositou na conta corrente da empresa o valor de R\$ 98.670,30.
- Considerando as informações apresentadas, o registro contábil inicial correto dessa operação está apresentado, em R\$, em:
- (A) D: Bancos 98.670,30
C: Clientes a receber 98.670,30
- (B) D: Bancos 98.670,30
C: Duplicatas descontadas 98.670,30
- (C) D: Bancos 98.670,30
D: Despesa com juros 1.329,70
C: Clientes a receber 100.000,00
- (D) D: Bancos 98.670,30
D: Encargos financeiros a apropriar 1.329,70
C: Clientes a receber 100.000,00
- (E) D: Bancos 98.670,30
D: Encargos financeiros a apropriar 1.329,70
C: Duplicatas descontadas 100.000,00
41. A integralização de capital social parte com dinheiro e parte com terreno faz com que o índice de liquidez corrente de uma entidade
- (A) aumente.
(B) diminua.
(C) permaneça inalterado.
(D) seja zero.
(E) tenda ao infinito.

O texto a seguir deverá ser considerado para responder às questões de números **42** e **43**.

Uma indústria adquiriu equipamentos para o seu parque industrial em 01.06.2019. Os equipamentos foram negociados pelo valor de R\$ 450.000,00 e os pagamentos serão realizados em cinco parcelas de R\$ 90.500,00 cada. Para que os equipamentos fossem colocados em uso no dia da sua aquisição, a entidade contratou uma empresa de frete e pagou R\$ 2.500,00 adicionais. O fabricante dos equipamentos estabelece que, em condições de uso normais, a vida útil desses bens é de 8 anos em base linear e que o valor residual é de R\$ 45.000,00.

42. A depreciação acumulada em 31.12.2019 totalizou, em R\$:

- (A) 25.312,50.
- (B) 25.468,75.
- (C) 25.568,15.
- (D) 25.625,00.
- (E) 28.125,00.

43. A despesa financeira vinculada a essa transação econômica totalizou, em R\$:

- (A) 0,00.
- (B) 500,00.
- (C) 1.250,00.
- (D) 2.500,00.
- (E) 5.000,00.

O texto a seguir deverá ser considerado para responder às questões de números **44** e **45**.

O Departamento de Controladoria de uma indústria levantou as seguintes informações no último mês:

Capacidade produtiva	15 000 unidades
Quantidade produzida	14 000 unidades
Custos indiretos fixos	R\$ 65.000,00
Custos indiretos variáveis	R\$ 5,00 por unidade
Despesa variável	R\$ 1,50 por unidade
Despesa fixa	R\$ 105.000,00
Mão de obra direta	R\$ 15,00 por unidade
Material direto	R\$ 8,00 por unidade

44. O custo unitário dos produtos acabados pelo custeio por absorção totalizou, em R\$, aproximadamente:

- (A) 23,00.
- (B) 27,33.
- (C) 28,00.
- (D) 32,64.
- (E) 34,14.

45. Considerando o preço unitário de R\$ 50,00, a margem de contribuição unitária desta entidade é, R\$:

- (A) 20,50.
- (B) 22,00.
- (C) 25,00.
- (D) 29,50.
- (E) 30,00.

46. Os empenhos podem ser classificados como:

- (A) Estimativo e liquidado.
- (B) Global e lançado.
- (C) Ordinário e estimativo.
- (D) Global e liquidado.
- (E) Ordinário e lançamento.

47. Caso um ente público contrate R\$ 1.500.000,00 em operações de crédito, o registro contábil patrimonial referente a essa contratação é:

- (A) D: Caixa e Equivalentes de Caixa 1.500.000,00
C: Empréstimos 1.500.000,00
- (B) D: Receita a Realizar 1.500.000,00
C: Receita Realizada 1.500.000,00
- (C) D: Controle de Disponibilidade de Recursos 1.500.000,00
C: Disponibilidade por Destinação de Recursos 1.500.000,00
- (D) D: Receita Realizada 1.500.000,00
C: Empréstimos 1.500.000,00
- (E) D: Caixa e Equivalentes de Caixa 1.500.000,00
C: Receita Realizada 1.500.000,00

48. A liquidação consiste na verificação do direito adquirido pelo credor tendo por base os títulos e documentos comprobatórios do respectivo crédito e tem por objetivo apurar

- (A) a eficiência do gasto público.
- (B) a importância exata a pagar.
- (C) a integridade do processo licitatório.
- (D) a quem se deve pagar a importância, para extinguir o direito do ente.
- (E) a receita do que se deve pagar.

49. A consolidação nacional é de competência da Secretaria do Tesouro Nacional (STN) e abrange todas as entidades incluídas no orçamento fiscal e da seguridade social (OFSS), como, por exemplo:

- (A) a administração pública indireta, incluindo fundos, autarquias, fundações e conselhos de classe.
- (B) a administração pública, direta e indireta, incluindo fundos, autarquias, fundações e empresas estatais dependentes.
- (C) a administração pública, direta e indireta, incluindo fundos, autarquias, fundações e empresas estatais dependentes e independentes.
- (D) os entes (Executivo, Legislativo e Judiciário).
- (E) os poderes de governo (União, estados, Distrito Federal e municípios).

50. Conforme a Lei Orgânica do Município de Ilhabela, os Poderes Municipais manterão os livros ou os registros eletrônicos, necessários ao bom andamento dos serviços, cronologicamente organizados e devidamente autenticados, sendo obrigatórios os de

- (A) concessões e permissões de natureza ambiental e limites de crédito.
- (B) concessões e permissões de natureza ambiental e responsabilidade fiscal.
- (C) contabilidade e finanças e limites de crédito.
- (D) contabilidade e finanças e tombamento de bens imóveis.
- (E) termos de compromisso e posse e responsabilidade fiscal.

