



PREFEITURA DO MUNICÍPIO DE MORRO AGUDO

ESTADO DE SÃO PAULO

CONCURSO PÚBLICO

020. PROVA OBJETIVA

AGENTE DE LICITAÇÕES E CONTRATOS

- ◆ Você recebeu sua folha de respostas e este caderno contendo 60 questões objetivas.
- ◆ Confira seus dados impressos na capa deste caderno e na folha de respostas.
- ◆ Quando for permitido abrir o caderno, verifique se está completo ou se apresenta imperfeições. Caso haja algum problema, informe ao fiscal da sala.
- ◆ Leia cuidadosamente todas as questões e escolha a resposta que você considera correta.
- ◆ Marque, na folha de respostas, com caneta de tinta preta, a letra correspondente à alternativa que você escolheu.
- ◆ A duração da prova é de 3 horas e 30 minutos, já incluído o tempo para o preenchimento da folha de respostas.
- ◆ Só será permitida a saída definitiva da sala e do prédio após transcorridos 75% do tempo de duração da prova.
- ◆ Deverão permanecer em cada uma das salas de prova os 3 últimos candidatos, até que o último deles entregue sua prova, assinando termo respectivo.
- ◆ Ao sair, você entregará ao fiscal a folha de respostas e este caderno, podendo levar apenas o rascunho de gabarito, localizado em sua carteira, para futura conferência.
- ◆ Até que você saia do prédio, todas as proibições e orientações continuam válidas.

AGUARDE A ORDEM DO FISCAL PARA ABRIR ESTE CADERNO DE QUESTÕES.

Nome do candidato _____

RG _____

Inscrição _____

Prédio _____

Sala _____

Carteira _____

CONHECIMENTOS GERAIS

LÍNGUA PORTUGUESA

Leia o texto, para responder às questões de números **01** a **08**.

Rotulo, logo existo

Nosso cérebro é uma complexa estrutura forjada por milhões de anos de evolução. Por outro lado, é também primitivo e foi lapidado para seres trogloditas que viveram há milhares de anos. É curioso pensar que o mais refinado, erudito e urbano dos moradores deste planeta tenha o mesmo hardware que um caçador coletor que passou a vida errando em uma pequena área de algum lugar em busca de comer, aquecer-se e garantir a reprodução.

Desenvolvida para uma chave amigo-inimigo, nossa mente tende a rotular tudo o que vê, julgando a novidade de acordo com seu conhecimento prévio. Isso garantiu nossa vida por muitas gerações: se eu comer algo que me faz mal, toda vez que olhar para algo semelhante, sentirei repulsa. Nosso cérebro rotula de acordo com a percepção de nossos sentidos. Isso pode ser bom para evitar perigos, porém cria problemas para nossa atualidade.

Encerrar em caixas herméticas dá segurança. Começamos com a minha tribo e a do outro. Se é da minha, diminuem as chances de ataque. Classificar é a primeira forma de dominar e de se defender. O vício entrou em nós. Da tribo, passamos a gostos musicais e sexuais ou escolas artísticas. **Classificar não é ruim ou errado. Supor que algo esteja controlado mentalmente por estar etiquetado é, no fundo, estupidez.**

Tudo pede que você classifique continuamente. Resistir à tentação é um desafio. Pensar em aprofundar, dar uma segunda olhada, fugir do rótulo: parecem ser atitudes que exigem o desafio da vontade férrea. Deixar que sentidos mais amplos invadam sua percepção sem julgar e engavetar de imediato é um ato de resistência. Abrir espaço para complexidades é boa meta. O resto? O rema-rema de frases superficiais, senso comum e a celebração da boçalidade. Talvez, um dia, descubram que se trata de uma bactéria específica transmitida pela digitação. O remédio continua sendo ler com atenção, duvidar como método, analisar possibilidades fora do que está posto e nunca ser o representante da verdade na Terra. Ah, e ajuda abandonar redes sociais por pelo menos uma hora por dia. É preciso ter esperança.

(Leandro Karnal. Disponível em: <www.culturaestadao.com.br>. Acesso em 09.11.2019. Adaptado)

- 01.** É correto afirmar, de acordo com o texto, que a ideia de rótulo está associada a
- (A) atitudes e comportamentos resultantes de reflexão.
 - (B) conhecimento adquirido com dedicação ao estudo.
 - (C) gostos e vícios advindos de atitudes equivocadas.
 - (D) ideias e ações baseadas em estereótipos.
 - (E) manifestações relacionadas ao status na sociedade.

- 02.** Do ponto de vista do autor, a propensão humana para classificar
- (A) é um mecanismo natural que precisa ser controlado pelo exercício do discernimento.
 - (B) garante domínio de situações, propiciando julgamentos justos e ações racionais.
 - (C) está inscrita na mente e permite identificar com clareza qual é o grupo ao qual aderir.
 - (D) cria condições para que o indivíduo pense e julgue levando em conta os diversos lados da questão.
 - (E) é uma forma de interação do sujeito com o mundo, que lhe assegura estar do lado da verdade.
- 03.** Assinale a alternativa contendo afirmação correta acerca do emprego das palavras destacadas na passagem – É curioso pensar que o mais refinado, erudito e urbano dos moradores deste planeta tenha o mesmo **hardware** que um caçador coletor que passou a vida **errando** em uma pequena área de algum lugar em busca de comer, aquecer-se e garantir a reprodução.
- (A) Ambas as palavras estão empregadas em sentido próprio, sendo **hardware** referência a máquinas eletrônicas.
 - (B) Ambas as palavras estão empregadas em sentido próprio; **errando** significa “incorrendo em equívoco”.
 - (C) A palavra **hardware** está empregada em sentido figurado; **errando** está empregada em sentido próprio, de “vagueando”.
 - (D) A palavra **hardware** está empregada em sentido figurado; **errando** está empregada em sentido próprio de “enganando”.
 - (E) Ambas as palavras estão empregadas em sentido figurado; **errando** tem sentido de “perseguido”.
- 04.** Considerando-se o contexto em que se encontra, a frase destacada em – **Desenvolvida para uma chave amigo-inimigo**, nossa mente tende a rotular tudo o que vê – expressa a noção de
- (A) comparação e equivale a – Sendo que se desenvolveu para uma chave amigo-inimigo...
 - (B) concessão e equivale a – Apesar de que se desenvolveu para uma chave amigo-inimigo...
 - (C) proporção e equivale a – À medida que se desenvolveu para uma chave amigo-inimigo...
 - (D) conclusão e equivale a – Portanto, se desenvolveu para uma chave amigo-inimigo...
 - (E) causa e equivale a – Como se desenvolveu para uma chave amigo-inimigo...

05. Assinale a alternativa que reescreve a passagem destacada no 3º parágrafo, expressando sentido coerente com o original e de acordo com a norma-padrão de pontuação.

- (A) Classificar não é ruim ou errado. Ademais supor que por estar etiquetado, algo esteja controlado mentalmente, é, no fundo, estupidez.
- (B) Classificar não é ruim ou errado; no entanto, supor que algo, por estar etiquetado, esteja controlado mentalmente é, no fundo, estupidez.
- (C) Classificar não é ruim ou errado; embora, supor que algo esteja controlado mentalmente, por estar etiquetado é, estupidez, no fundo.
- (D) Classificar não é ruim ou errado. Assim sendo, supor que, por estar etiquetado, algo esteja, mentalmente controlado é estupidez, no fundo.
- (E) Classificar não é ruim ou errado, pois, supor que algo esteja controlado, mentalmente, por estar etiquetado é, no fundo, estupidez.

06. Nas passagens – Isso garantiu nossa vida por muitas gerações ... Talvez, um dia, descubram que se trata de uma bactéria específica transmitida pela digitação. – as preposições destacadas expressam, respectivamente, as noções de

- (A) finalidade e agente.
- (B) finalidade e meio.
- (C) tempo e proximidade.
- (D) tempo e agente.
- (E) duração e proximidade.

07. Assinale a alternativa em que a expressão entre colchetes substitui a destacada, de acordo com a norma-padrão de emprego e colocação de pronome.

- (A) ... parecem ser atitudes que **exigem o desafio da vontade férrea** [exigem-no]
- (B) Deixar que sentidos mais amplos **invadam sua percepção** [invadam-na]
- (C) ... um caçador coletor que **passou a vida** errando em uma pequena área [passou ela]
- (D) ... **analisar possibilidades** fora do que está posto [analisar-lhes]
- (E) **Resistir à tentação** é um desafio. [Resisti-la]

08. O termo destacado está substituído, na expressão entre colchetes, de acordo com a norma-padrão de regência e emprego do sinal de crase, na alternativa:

- (A) ... **abandonar** redes sociais por pelo menos uma hora por dia. [renunciar às]
- (B) Deixar que sentidos mais amplos **invadam** sua percepção [interfiram à]
- (C) ... toda vez que olhar para algo semelhante, **sentirei** repulsa. [experimentarei à]
- (D) Se é da minha tribo, **diminuem** as chances de ataque. [escasseiam às]
- (E) O remédio **continua sendo** ler com atenção... [continua à ser]

Leia a tira, para responder à questão de número 09.



(Quino. Disponível em: <https://meumundocommafalda.wordpress.com>. Acesso em: 09.11.2019.)

09. É correto afirmar que o efeito de sentido crítico da tira está associado

- (A) ao gesto da menina, que acaba por convencer o homem de que há solução para o problema que o aflige.
- (B) à atitude pouco compreensiva do homem diante de um fenômeno comum na natureza.
- (C) à mudança de postura do homem, que redimensiona a importância que atribui à realidade.
- (D) ao estado de alheamento da menina diante dos acontecimentos que afetam o mundo.
- (E) à atitude inconsequente, comum às personagens, em relação aos respectivos focos de interesse.

10. Assinale a alternativa redigida segundo a norma-padrão de concordância.

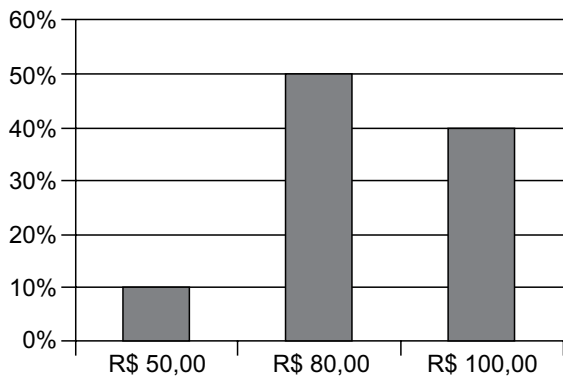
- (A) Anexo, segue a proposta que contempla, no âmbito da reforma tributária, mais de uma mudança que se consideram indispensáveis.
- (B) Está sendo discutido as atuais normas de direito tributário por comissão do legislativo federal, que as julgam complexas.
- (C) Dado a diversidade de entendimentos acerca da melhor solução, as discussões tem-se prolongado até meio-dia e meio.
- (D) Falta ainda muitos dias para o encerramento dos debates que deve levar à elaboração de um projeto de lei.
- (E) As próprias autoridades criticam as leis tributárias e defendem que se realizem as mudanças que se fazem necessárias.

11. Um empréstimo de R\$ 1.300,00, realizado a juros simples, com prazo de 8 meses, teve como juros total o valor de R\$ 260,00. A taxa de juros anual cobrada nesse empréstimo foi de
- (A) 25%
 - (B) 30%
 - (C) 35%
 - (D) 40%
 - (E) 45%
12. Um terreno no formato retangular tem perímetro de 130 m, com o menor lado medindo 1 metro a mais que a terça parte da medida do maior lado. A área desse terreno é de
- (A) 720 m².
 - (B) 768 m².
 - (C) 816 m².
 - (D) 864 m².
 - (E) 900 m².
13. Dois colírios foram indicados a um paciente: um deles para ser utilizado a cada 3 horas, durante o dia, enquanto estiver trabalhando, e o outro para ser utilizado a cada 8 horas. Comprados esses colírios, o paciente iniciou o tratamento, utilizando ambos, às 8 horas de determinado dia, horário em que entra no trabalho. Sabendo-se que o paciente sai do trabalho às 18 horas, e que obedeceu rigorosamente à indicação do oftalmologista, da primeira vez em que ele utilizou os dois colírios, até a terceira vez em que ele também os utilizou, em um mesmo horário, o número de vezes em que o paciente utilizou o colírio de aplicação a cada 3 horas foi
- (A) 6.
 - (B) 7.
 - (C) 8.
 - (D) 9.
 - (E) 10.

14. Uma caixa d'água, com formato interno de paralelepípedo reto retangular, tem como dimensões 1,5 m, 2,0 m e 2,5 m, e está com $\frac{3}{5}$ de sua capacidade máxima de água. Para completar a capacidade dessa caixa, ela receberá água, com razão constante de 180 litros por minuto. Sabendo-se que 1 m^3 corresponde a 1000 litros, o tempo que será necessário para que a caixa fique completamente cheia de água é de
- (A) 16 minutos e 08 segundos.
 - (B) 16 minutos e 40 segundos.
 - (C) 17 minutos e 06 segundos.
 - (D) 17 minutos e 25 segundos.
 - (E) 17 minutos e 53 segundos.
15. Considere a seguinte informação, divulgada no site de um sindicato do comércio, em outubro de 2019:
- “Dois em cada três consumidores acima de 60 anos já compram online por smartphone”
- Com base nessa informação, considere que a pesquisa realizada para chegar à conclusão divulgada tenha identificado 150 consumidores, acima de 60 anos, que compraram, online, por smartphone. Nesse caso, o número total de pessoas que teria participado da pesquisa, nessa faixa etária, teria sido de
- (A) 225.
 - (B) 230.
 - (C) 235.
 - (D) 240.
 - (E) 245.
16. Em dois dias, foram vendidas, no total, 30 unidades de um produto, e o valor total dessas vendas foi de R\$ 1.410,00. Sabendo-se que no primeiro dia de venda, cada unidade foi vendida por R\$ 50,00, enquanto que no segundo dia de venda, cada unidade foi vendida por R\$ 45,00, é correto afirmar que o valor das vendas do primeiro dia, em relação ao valor das vendas, do segundo dia, foi
- (A) maior em R\$ 210,00.
 - (B) maior em R\$ 150,00.
 - (C) maior em R\$ 160,00.
 - (D) menor em R\$ 150,00.
 - (E) menor em R\$ 210,00.

17. O total de 340 bolinhas, sendo 180 na cor branca e o restante na cor preta, será totalmente distribuído em sacolinhas, de forma que em cada uma tenha x unidades de bolinhas na cor branca e y unidades de bolinhas na cor preta. Se todas as sacolinhas deverão conter o menor número de bolinhas possível, a diferença $x - y$ deverá ser igual a
- (A) 1.
 - (B) 2.
 - (C) 3.
 - (D) 4.
 - (E) 5.

18. Um comerciante revende apenas três produtos, aos preços de R\$ 50,00, R\$ 80,00 e R\$ 100,00. O gráfico apresenta, no último dia de trabalho da semana anterior, a distribuição da receita total das vendas, pelos três preços praticados.



Nesse dia, a média dos preços unitários desses produtos foi de

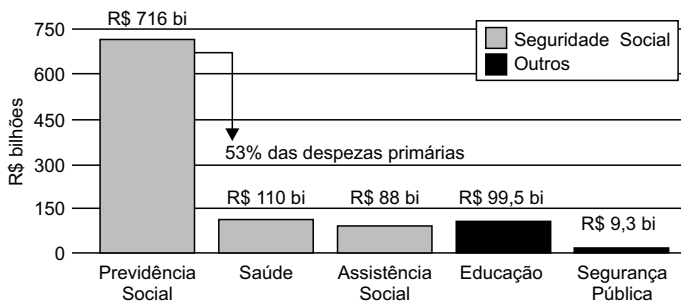
- (A) R\$ 80,00.
- (B) R\$ 82,50.
- (C) R\$ 85,00.
- (D) R\$ 87,50.
- (E) R\$ 90,00.

19. Em um grupo com somente pessoas com idades de 20 e 21 anos, a razão entre o número de pessoas com 20 anos e o número de pessoas com 21 anos, atualmente, é $\frac{4}{5}$. No próximo mês, duas pessoas com 20 anos farão aniversário, assim como uma pessoa com 21 anos, e a razão em questão passará a ser de $\frac{5}{8}$. O número total de pessoas nesse grupo é
- (A) 30.
 (B) 29.
 (C) 28.
 (D) 27.
 (E) 26.

20. Considere o seguinte gráfico, publicado em um artigo na internet:

O TAMANHO DO GASTO

Participação da Previdência Social nas despesas do governo federal em 2018



(<https://aosfatos.org/noticias/a-situacao-da-previdencia-social-em-6-graficos/>)

Com base nas informações apresentadas no gráfico, é correto afirmar que o gasto com a Saúde, em 2018, correspondeu, das despesas primárias, a, aproximadamente,

- (A) 6,0%
 (B) 6,5%
 (C) 7,0%
 (D) 7,5%
 (E) 8,0%

21. Promessa de campanha do então candidato republicano, cuja primeira menção data de 5 de agosto de 2014, o muro foi objeto de muitas batalhas, tanto no Congresso quanto nos tribunais.

“Vou construir o maior muro que já se viu, será um muro de Trump, um muro lindo”, disse o bilionário durante a campanha eleitoral.

(<https://bit.ly/36Rm7JT>. Publicado em 28.07.2019)

Sobre a proposta de construção do muro a que o texto se refere:

- (A) tem como objetivo controlar o número de imigrantes que ingressam nos Estados Unidos da América, mas não obteve aprovação no Congresso Nacional.
 - (B) apesar do esforço para a sua construção por parte do presidente Trump, a proposta passa por discussões e conflitos políticos relativas ao seu financiamento.
 - (C) representa uma das propostas mais populares do presidente Trump, mas sua construção tem sido barrada em decorrência de tensões com a comunidade internacional diante da questão imigratória.
 - (D) apesar da resistência da oposição à proposta do presidente Trump, é defendida por ele como uma medida que visa registrar e regular, e não barrar, a entrada de imigrantes no país.
 - (E) há uma demanda exigida pelos democratas e que, apesar da resistência de órgãos internacionais imigratórios, deverá ser construído até 2022.
22. O plano, batizado de “Agenda de Transformação de Estado”, prevê a mais profunda reestruturação da máquina pública brasileira desde a promulgação da Constituição Federal de 1988. O tamanho da mudança constitucional sugerida pelo governo pode ser medido pela quantidade de dispositivos que podem ser alterados. Juntos, os projetos somam 30 páginas.

(<https://glo.bo/2Cw3VOJ>. Publicado em 08.11.2019)

O plano a que o texto se refere, defende como objetivo

- (A) ampliar a agenda social do Estado de forma a adequá-la aos propósitos da Constituição de 1988.
- (B) centralizar os gastos públicos no âmbito da federação, de forma a diminuir a autonomia dos gastos estaduais.
- (C) ampliar o número de municípios, garantindo maior distribuição e melhor gestão de gastos públicos.
- (D) diminuir a possibilidade de manobrar recursos por parte do município.
- (E) ampliar a responsabilidade fiscal, buscando diminuir o inchaço dos gastos públicos estatais.

23. O governo chavista tem fechado o cerco contra o líder do parlamento venezuelano e autodeclarado presidente interino da Venezuela. Principal nome da oposição, foi inabilitado para ocupar cargos públicos durante 15 anos pela Controladoria Geral da Venezuela. O controlador do governo, Elvis Amoroso, anunciou na televisão que iria “desativar o exercício de qualquer cargo público do cidadão pelo prazo máximo estabelecido na lei”.

(<https://bit.ly/32ADx0S>. Publicado em 29.03.2019. Adaptado)

A respeito do conflito entre a situação do governo venezuelano e a oposição, é correto afirmar que

- (A) se trata do questionamento da legitimidade da reeleição de Juan Guidó, liderado por Nicolás Maduro.
 - (B) envolve as denúncias de órgãos internacionais, como a ONU, que identificaram fraudes no processo eleitoral que levou Hugo Chaves ao poder e reconhecem Juan Guaidó presidente.
 - (C) se refere à crise política venezuelana que envolve o conflito entre o presidente Nicolás Maduro e o líder da oposição Juan Guaidó.
 - (D) se trata de uma medida criada pelo governo venezuelano para não permitir que ocorram as próximas eleições na Venezuela, inaugurando um período ditatorial.
 - (E) se refere à disputa entre chavistas e bolivarianistas pelo controle do processo político eleitoral na Venezuela.
24. A ministra do Meio Ambiente da França, Elisabeth Borne, alertou nesta terça-feira que seu país não assinará o acordo alcançado entre a União Europeia e os países do bloco Mercosul (Argentina, Brasil, Uruguai e Paraguai) nas condições atuais.

(<https://bit.ly/2Cx1yo>. Publicado em 08.10.2019)

O motivo que gerou a declaração da ministra francesa foi

- (A) a questão da liberação de uma lista de agrotóxicos que incluem substâncias não utilizadas na França.
 - (B) o padrão sanitário brasileiro relacionado ao combate às doenças do rebanho bovino.
 - (C) as taxas alfandegárias que criam uma concorrência prejudicial aos produtos orgânicos franceses em relação aos brasileiros.
 - (D) a repercussão mundial sobre as queimadas ocorridas na Amazônia e as políticas ambientais brasileiras.
 - (E) as taxas alfandegárias que prejudicariam os produtos orgânicos franceses em relação aos brasileiros.
25. O filme segue sendo apresentado com muito sucesso em vários festivais de cinema no mundo. “Nosso objetivo principal sempre foi a estreia no Brasil. Os produtores e a distribuidora Paris Filmes vão seguir trabalhando para que isso aconteça”, publicou em nota a O2 Filmes. Em agosto, a O2 havia entrado com um recurso na Ancine solicitando a liberação de verbas para a comercialização do filme antes da assinatura efetiva do contrato com o FSA (Fundo Setorial do Audiovisual), mas o recurso foi negado.

(<https://bit.ly/36TKywU>. Publicado em 12.09.2019. Adaptado)

O texto se refere ao filme

- (A) Bacurau.
- (B) Que horas ela volta?
- (C) A vida invisível.
- (D) Hebe.
- (E) Marighella.

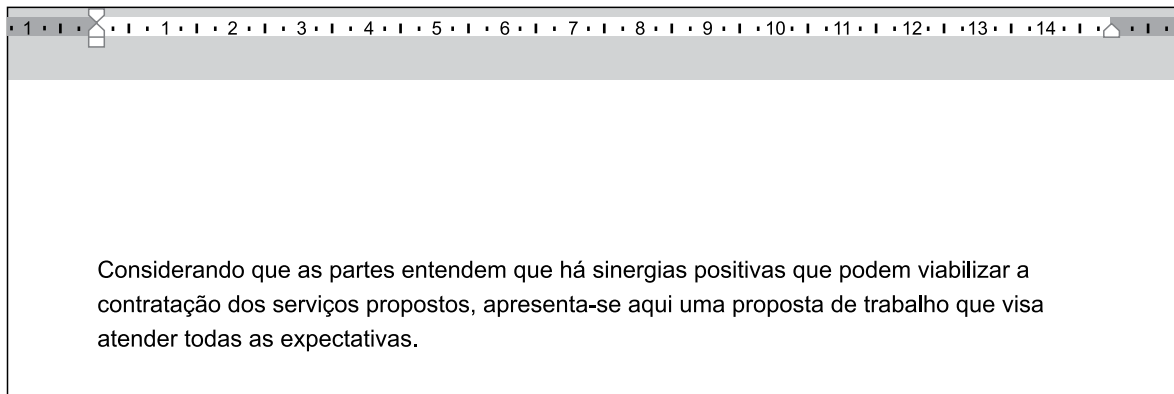
26. Tem-se a seguinte imagem, exibida parcialmente, de um computador com Microsoft Windows 7, em sua configuração original.



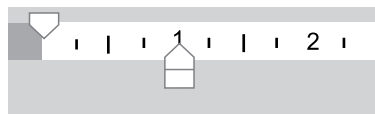
Assinale a alternativa com o resultado da ação, ao clicar com botão invertido do mouse (botão secundário) sobre o ícone do Paint e selecionar a opção Desafixar, da Barra de Tarefas.

- (A) O Paint será desinstalado do computador.
- (B) O Paint continuará aberto para uso, uma vez que está sendo executado, mas ao ser encerrado, seu ícone não estará mais presente na Barra de Tarefas.
- (C) O Paint ficará impedido de uso no computador, até que seja novamente fixado na Barra de Tarefas.
- (D) O aplicativo será encerrado, sem gravar a imagem que está sendo editada.
- (E) O aplicativo será encerrado, gravando automaticamente a imagem que está sendo editada.

27. Tem-se um documento editado no Microsoft Word 2010, em sua configuração original, conforme imagem parcial a seguir.



Um usuário clicou no ícone de recuo, deixando-o da forma a seguir.



Assinale a alternativa que indica a aparência correta que o texto assume com essa configuração.

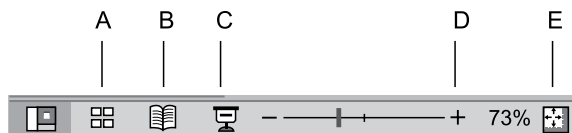
- (A) Considerando que as partes entendem que há sinergias positivas que podem viabilizar a contratação dos serviços propostos, apresenta-se aqui uma proposta de trabalho que visa atender todas as expectativas.
- (B) Considerando que as partes entendem que há sinergias positivas que podem viabilizar a contratação dos serviços propostos, apresenta-se aqui uma proposta de trabalho que visa atender todas as expectativas.
- (C) Considerando que as partes entendem que há sinergias positivas que podem viabilizar a contratação dos serviços propostos, apresenta-se aqui uma proposta de trabalho que visa atender todas as expectativas.
- (D) Considerando que as partes entendem que há sinergias positivas que podem viabilizar a contratação dos serviços propostos, apresenta-se aqui uma proposta de trabalho que visa atender todas as expectativas.
- (E) Considerando que as partes entendem que há sinergias positivas que podem viabilizar a contratação dos serviços propostos, apresenta-se aqui uma proposta de trabalho que visa atender todas as expectativas.

28. Tem-se a seguinte planilha, criada no Microsoft Excel 2010, em sua configuração original.

	A	B	C
1	9	9	6
2	3	4	8
3	9	6	0

Assinale a alternativa com o resultado correto da fórmula =MÉDIASE(A1:C3;">8";A1:C3) a ser inserida na célula A4.

- (A) 0
 (B) 3
 (C) 6
 (D) 8,75
 (E) 9
29. Assinale a alternativa que indica o ícone que inicia o Modo de Apresentação de slides no Microsoft PowerPoint 2010, em sua configuração original.



- (A) A
 (B) B
 (C) C
 (D) D
 (E) E
30. Ao visitar um web site usando o navegador Google Chrome, versão 78, em sua configuração original, o usuário pressionou as teclas CTRL+P para imprimir o conteúdo. Na visualização da impressão, o usuário percebeu que há 9 páginas para se imprimir. Assinale a alternativa que indica como deve ser preenchido o campo sublinhado, com a opção Personalizado selecionada, para que se imprima apenas as páginas 2 a 8.



- (A) -1-9
 (B) -1,-9
 (C) [1],2-8,[9]
 (D) 2-8
 (E) 2,8

CONHECIMENTOS ESPECÍFICOS

DIREITO ADMINISTRATIVO

31. A possibilidade de a Administração fazer acordos ou transações é uma relativização da aplicação do princípio da
- (A) segurança jurídica.
 (B) moralidade.
 (C) indisponibilidade do interesse público.
 (D) impessoalidade.
 (E) eficiência.
32. Assinale a alternativa correta a respeito dos atos administrativos.
- (A) Um dos seus atributos é a atipicidade.
 (B) É característica da competência a possibilidade de sua transferência.
 (C) A forma do ato é vinculada, mas o motivo pode ser vinculado ou discricionário.
 (D) Em observância ao princípio da legalidade, à Administração cabe o ônus de provar que seus atos são legítimos e legais.
 (E) Entre outros tipos de atos administrativos, pode ser objeto de delegação a decisão de recursos administrativos.
33. Entre as diversas entidades da Administração Pública Indireta, aquela que tem por características um patrimônio público personificado e criação autorizada por lei é a
- (A) autarquia.
 (B) fundação.
 (C) sociedade de economia mista.
 (D) empresa pública.
 (E) agência reguladora.
34. Segundo a Lei nº 8.666/1993, as compras, sempre que possível, deverão
- (A) atender ao princípio da seletividade, para evitar padronizações de bens e serviços a serem contratados.
 (B) ser processadas através de concorrência, para assegurar a melhor proposta para a Administração.
 (C) submeter-se às condições de aquisição e pagamento que se diferenciem daquelas do setor privado.
 (D) ser pagas à vista para aproveitar as peculiaridades do mercado, visando à economicidade.
 (E) balizar-se pelos preços praticados no âmbito dos órgãos e entidades da Administração Pública.

- 35.** Em caso de a Administração Pública pretender alugar um imóvel destinado ao atendimento das suas finalidades essenciais, observadas as demais exigências legais e procedimentais, a Lei nº 8.666/1993 estabelece que
- (A) poderá fazê-lo por dispensa de licitação, na hipótese de as necessidades de instalação e localização condicionarem a sua escolha, desde que o preço seja compatível com o valor de mercado, segundo avaliação prévia.
 - (B) somente poderá fazê-lo por meio de licitação, com ampla pesquisa prévia de mercado e avaliação por órgão ou técnico competente da Administração.
 - (C) serão necessárias autorização legislativa, licitação na modalidade concorrência, avaliação imobiliária e prévia pesquisa de mercado.
 - (D) poderá fazê-lo por inexigibilidade de licitação, exigida a avaliação prévia, comprovadas as vantagens da localização do imóvel e a necessidade da locação por não haver outro imóvel público com as mesmas condições.
 - (E) serão dispensadas a licitação e a avaliação prévia, desde que a localização do imóvel seja vantajosa, o valor de mercado seja compatível com o preço ofertado e não haja outro imóvel público nas mesmas condições.
- 36.** Na hipótese de os titulares dos órgãos integrantes do sistema de controle interno da Administração Pública, por meio de autos ou documentos de que conhecerem, verificarem a existência dos crimes definidos na Lei nº 8.666/1993, deverão
- (A) mandar instaurar o competente inquérito criminal para apuração das devidas responsabilidades do infrator.
 - (B) formular denúncia ao Poder Judiciário, com as cópias dos autos para a devida apuração e responsabilização judicial.
 - (C) determinar a abertura de processo administrativo para apuração das responsabilidades civis, criminais e administrativas.
 - (D) remeter ao Ministério Público as cópias e os documentos necessários ao oferecimento da denúncia.
 - (E) noticiar a autoridade policial competente para a devida apuração da infração penal.
- 37.** No tocante ao procedimento da licitação, a Lei nº 8.666/1993 dispõe que os seus atos serão
- (A) sigilosos até o encerramento do respectivo processo.
 - (B) públicos e acessíveis ao público, exceto o conteúdo das propostas até a sua abertura.
 - (C) sigilosos, inclusive quanto às propostas, até a abertura destas, que deve ser realizada em sessão pública.
 - (D) integralmente públicos e acessíveis a qualquer interessado, mesmo quanto ao conteúdo das propostas.
 - (E) públicos e acessíveis somente àqueles que comprovarem interesse direto no respectivo procedimento.
- 38.** Considerando a distinção entre licitação deserta e licitação fracassada, assinale a alternativa correta.
- (A) A deserta ocorre quando há interessados na licitação, mas nenhum é selecionado, em decorrência de inabilitação ou desclassificação das propostas.
 - (B) A deserta torna a nova licitação inexigível, permitindo a contratação direta.
 - (C) Quando a licitação é convocada e não aparece nenhum interessado, ocorre a denominada licitação fracassada.
 - (D) Em ambas, o administrador poderá fazer a contratação direta, sendo por dispensa, no caso da deserta, e por inexigibilidade, no da fracassada.
 - (E) Não existe limite de valor do contrato para que se decida pela contratação direta em razão da licitação deserta.
- 39.** Na hipótese de o Tribunal de Contas Estadual constatar irregularidade em um contrato administrativo, a Constituição do Estado de São Paulo estabelece que o órgão de contas
- (A) não poderá sustá-lo de imediato, pois essa atribuição cabe à Assembleia Legislativa.
 - (B) deverá sustar a sua execução de imediato e, em seguida, comunicar essa decisão à Assembleia Legislativa.
 - (C) não poderá sustá-lo de imediato, pois essa atribuição cabe ao Tribunal de Justiça do Estado.
 - (D) deverá sustar a sua execução de imediato e, em seguida, comunicar essa decisão ao Chefe do Poder Executivo para as providências cabíveis.
 - (E) deverá sustar a sua execução de imediato e, em seguida, comunicar essa decisão ao Ministério Público.

40. A empresa “ABC” pretende participar de uma licitação de fornecimento de bens para a Administração Pública no Estado de São Paulo. Esta, porém, quer impedir a participação da referida empresa, uma vez que a “ABC” se encontra em processo de recuperação judicial.

Nessa situação hipotética, considerando o entendimento do Tribunal de Contas do Estado de São Paulo, é correto afirmar que a empresa “ABC”

- (A) poderá ser impedida pela Administração Pública de participar da licitação, uma vez que ela não está em condições de atender aos requisitos legais de capacitação econômico-financeira estabelecidos em edital, justamente pela sua condição de inadimplência.
- (B) poderá participar da licitação se apresentar garantia no dobro do valor do bem licitado, além de apresentar o Plano de Recuperação Judicial em vigor homologado em Juízo, antes da fase de habilitação no referido procedimento licitatório.
- (C) poderá participar normalmente do processo licitatório, em igualdade de condições com os demais licitantes, não podendo a Administração Pública fazer qualquer exigência formal ou material, ou exigir quaisquer garantias quanto a sua participação.
- (D) tem o direito de participar da licitação e deve atender a todos os requisitos de habilitação econômico-financeira do edital, e a Administração poderá exigir a apresentação, durante a fase de habilitação, do Plano de Recuperação em vigor homologado judicialmente.
- (E) tem o direito de participar do processo licitatório, e a única exigência que a Administração pode fazer à empresa é quanto à comprovação de capital social mínimo na forma integralizada, como condição de demonstração da capacitação econômico-financeira.

41. A atividade financeira do Estado obedece a regras específicas contidas em diferentes instrumentos normativos. A respeito dessas regras, é correto afirmar que

- (A) estão previstas na Constituição Federal, em leis complementares, em leis ordinárias, em normativos infraconstitucionais e em recomendações dos tribunais de contas.
- (B) estão previstas apenas na Constituição Federal, que traz o conjunto suficiente de regras aplicáveis à atividade financeira do Estado.
- (C) estão previstas apenas em leis complementares, dada a natureza geral dessas regras.
- (D) são decorrência das práticas reiteradas da Administração Pública ao longo dos anos, não se apresentando de forma sistemática em nenhum instrumento jurídico.
- (E) seguem apenas as regras estabelecidas por cada ente federativo levando em consideração a sua própria realidade local.

42. Do ponto de vista orçamentário, é correto afirmar, sobre as receitas públicas, que

- (A) não podem ser arrecadadas receitas que não estejam previamente previstas na lei orçamentária anual.
- (B) os ingressos de caixa relativos a cauções recebidas de particulares são receitas orçamentárias, uma vez que compõem o ativo do ente público.
- (C) os ingressos decorrentes de operações de crédito tomadas pelo ente público são receitas orçamentárias, apesar de serem acompanhadas da geração de um passivo para o ente público.
- (D) uma vez atingida a meta de arrecadação fixada na lei de diretrizes orçamentária, é autorizada a suspensão da cobrança das receitas de natureza patrimonial.
- (E) as receitas públicas orçamentárias seguem sempre regime de competência, sendo reconhecidas na medida em que realizado o seu lançamento.

43. A receita orçamentária de natureza tributária passa pelas seguintes fases, na ordem:

- (A) previsão, arrecadação, recolhimento e lançamento.
- (B) lançamento, previsão, recolhimento e arrecadação.
- (C) arrecadação, previsão, recolhimento e lançamento.
- (D) previsão, lançamento, arrecadação e recolhimento.
- (E) lançamento, previsão, arrecadação e recolhimento.

44. São dotações para despesas para as quais não corresponda contraprestação direta em bens ou serviços, inclusive para contribuições e subvenções destinadas a atender à manutenção de outras entidades de direito público ou privado.

Compõem a classificação transcrita no enunciado as despesas que

- (A) se destinam à aquisição de imóveis, ou de bens de capital já em utilização.
- (B) se destinam ao custeio de instituições públicas ou privadas de caráter assistencial ou cultural, sem finalidade lucrativa.
- (C) sejam relativas à aquisição de títulos representativos do capital de empresas ou entidades de qualquer espécie, já constituídas, quando a operação não importe aumento do capital.
- (D) se classifiquem como transferências de capital.
- (E) representem agrupamento de serviços subordinados ao mesmo órgão ou repartição a que sejam consignadas dotações próprias.

45. A despesa orçamentária passa, via de regra, pelas seguintes fases, na ordem:

- (A) liquidação, empenho, comprometimento orçamentário e pagamento.
- (B) autorização orçamentária, liquidação, empenho e pagamento.
- (C) empenho, liquidação, pagamento e baixa orçamentária.
- (D) autorização orçamentária, credenciamento, liquidação e pagamento.
- (E) autorização orçamentária, empenho, liquidação e pagamento.

46. Os Princípios Orçamentários visam estabelecer diretrizes norteadoras básicas, a fim de conferir racionalidade, eficiência e transparência para os processos de elaboração, execução e controle do orçamento público. Assinale a alternativa que apresenta Princípios Orçamentários:

- (A) Competência e Caixa.
- (B) Orçamento Bruto e Competência.
- (C) Unidade e Relevância.
- (D) Unidade e Universalidade.
- (E) Universalidade e Representação Fidedigna.

47. Assinale a alternativa correta sobre Receita Pública.

- (A) Receita Orçamentária não efetiva é aquela em que os ingressos de disponibilidade de recursos não foram precedidos de registro de reconhecimento do direito e não constituem obrigações correspondentes.
- (B) Receita Orçamentária efetiva é aquela em que os ingressos de disponibilidades de recursos foram precedidos de registro do reconhecimento do direito ou constituem obrigações correspondentes, como é o caso das operações de crédito.
- (C) Ingressos orçamentários são recursos financeiros de caráter temporário, do qual o Estado é mero agente depositário.
- (D) Os ingressos extraorçamentários, em geral, não têm reflexos no Patrimônio Líquido da Entidade por serem constituídos por ativos e passivos exigíveis.
- (E) A classificação da receita orçamentária é de utilização facultativa para os entes da Federação, sendo facultado seu desdobramento para atendimento das respectivas peculiaridades.

48. As Receitas Correntes

- (A) aumentam as disponibilidades financeiras do Estado.
- (B) constituem instrumento para reduzir programas e ações orçamentários.
- (C) não provocam efeito sobre o patrimônio líquido.
- (D) são arrecadadas dentro do exercício financeiro seguinte.
- (E) são as provenientes da constituição de dívidas.

49. Assinale a alternativa correta em relação às classificações da despesa.

- (A) Ação é um instrumento de programação utilizado para alcançar o objetivo de um programa, envolvendo um conjunto de operações, limitadas no tempo, das quais resulta um produto que concorre para a expansão ou o aperfeiçoamento da ação de Governo.
- (B) Atividade é um instrumento de programação utilizado para alcançar o objetivo de um programa, envolvendo um conjunto de operações que se realizam de modo contínuo e permanente, das quais resulta um produto ou serviço necessário à manutenção da ação de Governo.
- (C) Operação especial são despesas que contribuem para a manutenção, a expansão ou o aperfeiçoamento das ações de governo, das quais resulta um produto, e gera contraprestação direta sob a forma de bens ou serviços.
- (D) Programa é o instrumento de fiscalização governamental, realizado pelos tribunais de contas, que articula um conjunto de ações que concorrem para a concretização de um objetivo comum preestabelecido.
- (E) Projetos são operações das quais resultam produtos, que contribuem para atender ao objetivo de um programa.

50. O empenho

- (A) efetivo é o tipo de empenho utilizado para despesas contratuais ou outras de valor determinado.
- (B) estimativo é o tipo de empenho utilizado para as despesas cujo montante não se pode determinar previamente.
- (C) extraordinário é o tipo de empenho utilizado para as despesas de valor fixo e previamente determinado, cujo pagamento deva ocorrer de uma só vez.
- (D) não pode ser reforçado, uma vez realizado.
- (E) será formalizado mediante a emissão da Nota Fiscal do produto ou serviço.

51. Na aquisição de material de consumo que será estocado em almoxarifado para uso em momento posterior por R\$ 45.000,00, o registro, em R\$, no sistema patrimonial está correto em:

- (A) D: Crédito Disponível – 45.000,00
C: Crédito Empenhado a liquidar – 45.000,00
- (B) D: Disponibilidade por Destinação – 45.000,00
C: DDR Comprometida por Empenho – 45.000,00
- (C) D: Estoque e Almoxarifado – 45.000,00
C: Fornecedores – 45.000,00
- (D) D: Crédito Empenhado a Liquidar – 45.000,00
C: Crédito Empenhado liquidado – 45.000,00
- (E) D: Estoque e Almoxarifado – 45.000,00
C: Crédito Empenhado liquidado – 45.000,00

52. São Restos a Pagar

- (A) todas as despesas regularmente empenhadas, do exercício atual ou anterior, mas não pagas ou canceladas até 31 de dezembro do exercício financeiro vigente.
- (B) todas as despesas regularmente empenhadas, do exercício atual ou anterior, e pagas ou canceladas até 31 de dezembro do exercício financeiro vigente.
- (C) todas as despesas regularmente lançadas, do exercício atual ou anterior, e não pagas ou canceladas até 31 de dezembro do exercício financeiro vigente.
- (D) todas as despesas regularmente liquidadas, do exercício atual ou anterior, mas não pagas ou canceladas até 31 de dezembro do exercício financeiro vigente.
- (E) todas as despesas regularmente liquidadas, do exercício atual ou anterior, e pagas ou canceladas até 31 de dezembro do exercício financeiro vigente.

53. Uma entidade contratou um serviço em 30/11/2018 por R\$ 450.000,00. O contador público verificou que, em 31/12/2018, o empenho referente à contratação do serviço havia sido realizado, mas o serviço seria entregue somente em 30/03/2019.

Considerando a situação, assinale a alternativa que apresenta o registro orçamentário correto dessa transação econômica em 31/12/2018.

- (A) D: Crédito Disponível – 450.000,00
C: Crédito Empenhado a liquidar – 450.000,00
- (B) D: Crédito Empenhado a liquidar – 450.000,00
C: Crédito Empenhado liquidado – 450.000,00
- (C) D: Crédito Empenhado a liquidar – 450.000,00
C: Empenhos a liquidar inscritos em restos a pagar não processados – 450.000,00
- (D) D: Crédito Empenhado a liquidar – 450.000,00
C: Empenhos a liquidar inscritos em restos a pagar processados – 450.000,00
- (E) D: Despesa antecipada – 450.000,00
C: Empenhos a liquidar inscritos em restos a pagar não processados – 450.000,00

54. Uma escola pública adquiriu mantimentos para merenda no valor de R\$ 78.000,00 em 31/01/2019. Para que os mantimentos estivessem disponíveis para produção da merenda escolar, em 02/02/2019, a entidade arcou com R\$ 800,00 de frete adicionais. Em virtude das fortes chuvas ocorridas em 03/02/2019, uma inundação comprometeu o almoxarifado do refeitório e verificou-se uma perda de 50% dos produtos alimentícios adquiridos em 31/01/2019.

Considerando a situação descrita, o valor referente aos estoques registrado no sistema contábil patrimonial após a inundação será:

- (A) 0,00.
- (B) 39.000,00.
- (C) 39.400,00.
- (D) 78.000,00.
- (E) 78.800,00.

55. Sobre a responsabilidade na gestão fiscal, assinale a alternativa correta conforme a Lei de Responsabilidade Fiscal.

- (A) Pressupõe compromisso firmado, pelo chefe do Poder Executivo, no momento da confecção do Plano Plurianual.
- (B) Pressupõe a ação planejada e transparente, em que se previnem riscos e corrigem desvios capazes de afetar o equilíbrio das contas públicas.
- (C) Pressupõe análise da evolução do patrimônio líquido público, destacando a origem e a aplicação dos recursos.
- (D) Está relacionada ao refinanciamento das dívidas pública, mobiliárias e contratual.
- (E) Conterá demonstrativo da compatibilidade da programação dos orçamentos com os objetivos e metas do chefe do Poder Executivo.

56. Conforme a Lei de Responsabilidade Fiscal, a destinação de recursos para o setor privado deve ser autorizada por

- (A) medida provisória e atender às condições estabelecidas na lei de diretrizes orçamentárias.
- (B) lei específica e atender às condições estabelecidas na lei de diretrizes orçamentárias.
- (C) lei específica e atender às condições estabelecidas na lei societária.
- (D) decreto e atender às condições estabelecidas na lei de diretrizes orçamentárias.
- (E) decreto e atender às condições estabelecidas na lei orçamentária anual.

57. Sobre a dívida pública fundada, assinale a alternativa correta.

- (A) Representa o montante total das obrigações financeiras do Poder Executivo, assumidas em virtude de leis, contratos, convênios ou tratados e da realização de operação de crédito para amortização em prazo superior a doze meses.
- (B) Representa os títulos públicos emitidos pela União, inclusive pelo Banco Central do Brasil, pelos Estados e Municípios.
- (C) Representa compromisso financeiro assumido em razão de mútuo, abertura de crédito, emissão e aceite de título, aquisição financiada de bens, por exemplo.
- (D) Representa compromisso financeiro assumido pelo refinanciamento da dívida mobiliária, acrescido de juros e multas.
- (E) Representa o montante total das obrigações financeiras do ente da federação, assumidas em virtude de leis, contratos, convênios ou tratados e da realização de operação de crédito para amortização em prazo superior a doze meses.

58. Conforme a Lei de Responsabilidade Fiscal, é vedado(a)

- (A) aplicação de receita de capital derivada de alienação de bens e direitos que integram o patrimônio público para o financiamento de despesa corrente em qualquer situação.
- (B) aplicação das disponibilidades de caixa dos regimes próprios de previdência social, geral e próprio dos servidores públicos em títulos de dívida pública estadual e municipal, bem como em ações e outros papéis relativos a empresas controlados pela União.
- (C) ao titular do Poder ou Órgão, contrair, nos últimos dois quadrimestres, despesa que não possa ser cumprida em pelo menos 50% do seu mandato, ou que tenha parcelas a serem pagas no exercício seguinte sem que haja suficiente para isso.
- (D) aplicação das disponibilidades de caixa dos regimes próprios de previdência social, geral e próprio dos servidores públicos em empréstimos, de qualquer natureza, aos segurados e ao Poder Público, inclusive suas empresas controladas.
- (E) às entidades da administração direta, inclusive suas empresas controladas e subsidiárias, conceder garantia, ainda que com recursos de fundos.

- 59.** Assinale a alternativa que contém somente instrumentos de transparência da gestão fiscal, conforme prevê a Lei de Responsabilidade Fiscal.
- (A) Relatório Resumido da Execução Orçamentária e Relatório da Gestão Fiscal.
 - (B) Prestação de contas independente de parecer e demonstrações contábeis.
 - (C) Planos, orçamentos e leis de diretrizes orçamentárias e parecer do Tribunal de Contas da União.
 - (D) Planos, orçamentos e leis de diretrizes orçamentárias e demonstrações contábeis.
 - (E) Pareceres do Tribunal de Contas da União e da Controladoria Geral da União.
- 60.** É(são) exemplo(s) de transferência(s) corrente(s) tributária(s):
- (A) cessão de direitos.
 - (B) concessões e permissões.
 - (C) contribuições de melhoria.
 - (D) exploração do patrimônio imobiliário do Estado.
 - (E) valores mobiliários.

