



PREFEITURA DO MUNICÍPIO DE MORRO AGUDO

ESTADO DE SÃO PAULO

CONCURSO PÚBLICO

022. PROVA OBJETIVA

ANALISTA LEGISLATIVO

- ◆ Você recebeu sua folha de respostas e este caderno contendo 60 questões objetivas.
- ◆ Confira seus dados impressos na capa deste caderno e na folha de respostas.
- ◆ Quando for permitido abrir o caderno, verifique se está completo ou se apresenta imperfeições. Caso haja algum problema, informe ao fiscal da sala.
- ◆ Leia cuidadosamente todas as questões e escolha a resposta que você considera correta.
- ◆ Marque, na folha de respostas, com caneta de tinta preta, a letra correspondente à alternativa que você escolheu.
- ◆ A duração da prova é de 3 horas e 30 minutos, já incluído o tempo para o preenchimento da folha de respostas.
- ◆ Só será permitida a saída definitiva da sala e do prédio após transcorridos 75% do tempo de duração da prova.
- ◆ Deverão permanecer em cada uma das salas de prova os 3 últimos candidatos, até que o último deles entregue sua prova, assinando termo respectivo.
- ◆ Ao sair, você entregará ao fiscal a folha de respostas e este caderno, podendo levar apenas o rascunho de gabarito, localizado em sua carteira, para futura conferência.
- ◆ Até que você saia do prédio, todas as proibições e orientações continuam válidas.

AGUARDE A ORDEM DO FISCAL PARA ABRIR ESTE CADERNO DE QUESTÕES.

Nome do candidato _____

RG _____

Inscrição _____

Prédio _____

Sala _____

Carteira _____

CONHECIMENTOS GERAIS

LÍNGUA PORTUGUESA

Leia o texto, para responder às questões de números **01** a **08**.

Rotulo, logo existo

Nosso cérebro é uma complexa estrutura forjada por milhões de anos de evolução. Por outro lado, é também primitivo e foi lapidado para seres trogloditas que viveram há milhares de anos. É curioso pensar que o mais refinado, erudito e urbano dos moradores deste planeta tenha o mesmo hardware que um caçador coletor que passou a vida errando em uma pequena área de algum lugar em busca de comer, aquecer-se e garantir a reprodução.

Desenvolvida para uma chave amigo-inimigo, nossa mente tende a rotular tudo o que vê, julgando a novidade de acordo com seu conhecimento prévio. Isso garantiu nossa vida por muitas gerações: se eu comer algo que me faz mal, toda vez que olhar para algo semelhante, sentirei repulsa. Nosso cérebro rotula de acordo com a percepção de nossos sentidos. Isso pode ser bom para evitar perigos, porém cria problemas para nossa atualidade.

Encerrar em caixas herméticas dá segurança. Começamos com a minha tribo e a do outro. Se é da minha, diminuem as chances de ataque. Classificar é a primeira forma de dominar e de se defender. O vício entrou em nós. Da tribo, passamos a gostos musicais e sexuais ou escolas artísticas. **Classificar não é ruim ou errado. Supor que algo esteja controlado mentalmente por estar etiquetado é, no fundo, estupidez.**

Tudo pede que você classifique continuamente. Resistir à tentação é um desafio. Pensar em aprofundar, dar uma segunda olhada, fugir do rótulo: parecem ser atitudes que exigem o desafio da vontade férrea. Deixar que sentidos mais amplos invadam sua percepção sem julgar e engavetar de imediato é um ato de resistência. Abrir espaço para complexidades é boa meta. O resto? O rema-rema de frases superficiais, senso comum e a celebração da boçalidade. Talvez, um dia, descubram que se trata de uma bactéria específica transmitida pela digitação. O remédio continua sendo ler com atenção, duvidar como método, analisar possibilidades fora do que está posto e nunca ser o representante da verdade na Terra. Ah, e ajuda abandonar redes sociais por pelo menos uma hora por dia. É preciso ter esperança.

(Leandro Karnal. Disponível em: <www.culturaestado.com.br>. Acesso em 09.11.2019. Adaptado)

- 01.** É correto afirmar, de acordo com o texto, que a ideia de rótulo está associada a
- (A) atitudes e comportamentos resultantes de reflexão.
 - (B) conhecimento adquirido com dedicação ao estudo.
 - (C) gostos e vícios advindos de atitudes equivocadas.
 - (D) ideias e ações baseadas em estereótipos.
 - (E) manifestações relacionadas ao status na sociedade.

- 02.** Do ponto de vista do autor, a propensão humana para classificar
- (A) é um mecanismo natural que precisa ser controlado pelo exercício do discernimento.
 - (B) garante domínio de situações, propiciando julgamentos justos e ações racionais.
 - (C) está inscrita na mente e permite identificar com clareza qual é o grupo ao qual aderir.
 - (D) cria condições para que o indivíduo pense e julgue levando em conta os diversos lados da questão.
 - (E) é uma forma de interação do sujeito com o mundo, que lhe assegura estar do lado da verdade.
- 03.** Assinale a alternativa contendo afirmação correta acerca do emprego das palavras destacadas na passagem – É curioso pensar que o mais refinado, erudito e urbano dos moradores deste planeta tenha o mesmo **hardware** que um caçador coletor que passou a vida **errando** em uma pequena área de algum lugar em busca de comer, aquecer-se e garantir a reprodução.
- (A) Ambas as palavras estão empregadas em sentido próprio, sendo **hardware** referência a máquinas eletrônicas.
 - (B) Ambas as palavras estão empregadas em sentido próprio; **errando** significa “incorrendo em equívoco”.
 - (C) A palavra **hardware** está empregada em sentido figurado; **errando** está empregada em sentido próprio, de “vagueando”.
 - (D) A palavra **hardware** está empregada em sentido figurado; **errando** está empregada em sentido próprio de “enganando”.
 - (E) Ambas as palavras estão empregadas em sentido figurado; **errando** tem sentido de “perseguido”.
- 04.** Considerando-se o contexto em que se encontra, a frase destacada em – **Desenvolvida para uma chave amigo-inimigo**, nossa mente tende a rotular tudo o que vê – expressa a noção de
- (A) comparação e equivale a – Sendo que se desenvolveu para uma chave amigo-inimigo...
 - (B) concessão e equivale a – Apesar de que se desenvolveu para uma chave amigo-inimigo...
 - (C) proporção e equivale a – À medida que se desenvolveu para uma chave amigo-inimigo...
 - (D) conclusão e equivale a – Portanto, se desenvolveu para uma chave amigo-inimigo...
 - (E) causa e equivale a – Como se desenvolveu para uma chave amigo-inimigo...

05. Assinale a alternativa que reescreve a passagem destacada no 3º parágrafo, expressando sentido coerente com o original e de acordo com a norma-padrão de pontuação.

- (A) Classificar não é ruim ou errado. Ademais supor que por estar etiquetado, algo esteja controlado mentalmente, é, no fundo, estupidez.
- (B) Classificar não é ruim ou errado; no entanto, supor que algo, por estar etiquetado, esteja controlado mentalmente é, no fundo, estupidez.
- (C) Classificar não é ruim ou errado; embora, supor que algo esteja controlado mentalmente, por estar etiquetado é, estupidez, no fundo.
- (D) Classificar não é ruim ou errado. Assim sendo, supor que, por estar etiquetado, algo esteja, mentalmente controlado é estupidez, no fundo.
- (E) Classificar não é ruim ou errado, pois, supor que algo esteja controlado, mentalmente, por estar etiquetado é, no fundo, estupidez.

06. Nas passagens – Isso garantiu nossa vida por muitas gerações ... Talvez, um dia, descubram que se trata de uma bactéria específica transmitida pela digitação. – as preposições destacadas expressam, respectivamente, as noções de

- (A) finalidade e agente.
- (B) finalidade e meio.
- (C) tempo e proximidade.
- (D) tempo e agente.
- (E) duração e proximidade.

07. Assinale a alternativa em que a expressão entre colchetes substitui a destacada, de acordo com a norma-padrão de emprego e colocação de pronome.

- (A) ... parecem ser atitudes que **exigem o desafio da vontade férrea** [exigem-no]
- (B) Deixar que sentidos mais amplos **invadam sua percepção** [invadam-na]
- (C) ... um caçador coletor que **passou a vida** errando em uma pequena área [passou ela]
- (D) ... **analisar possibilidades** fora do que está posto [analisar-lhes]
- (E) **Resistir à tentação** é um desafio. [Resisti-la]

08. O termo destacado está substituído, na expressão entre colchetes, de acordo com a norma-padrão de regência e emprego do sinal de crase, na alternativa:

- (A) ... **abandonar** redes sociais por pelo menos uma hora por dia. [renunciar às]
- (B) Deixar que sentidos mais amplos **invadam** sua percepção [interfiram à]
- (C) ... toda vez que olhar para algo semelhante, **sentirei** repulsa. [experimentarei à]
- (D) Se é da minha tribo, **diminuem** as chances de ataque. [escasseiam às]
- (E) O remédio **continua sendo** ler com atenção... [continua à ser]

Leia a tira, para responder à questão de número 09.



(Quino. Disponível em: <https://meumundocommafalda.wordpress.com>. Acesso em: 09.11.2019.)

09. É correto afirmar que o efeito de sentido crítico da tira está associado

- (A) ao gesto da menina, que acaba por convencer o homem de que há solução para o problema que o aflige.
- (B) à atitude pouco compreensiva do homem diante de um fenômeno comum na natureza.
- (C) à mudança de postura do homem, que redimensiona a importância que atribui à realidade.
- (D) ao estado de alheamento da menina diante dos acontecimentos que afetam o mundo.
- (E) à atitude inconsequente, comum às personagens, em relação aos respectivos focos de interesse.

10. Assinale a alternativa redigida segundo a norma-padrão de concordância.

- (A) Anexo, segue a proposta que contempla, no âmbito da reforma tributária, mais de uma mudança que se consideram indispensáveis.
- (B) Está sendo discutido as atuais normas de direito tributário por comissão do legislativo federal, que as julgam complexas.
- (C) Dado a diversidade de entendimentos acerca da melhor solução, as discussões tem-se prolongado até meio-dia e meio.
- (D) Falta ainda muitos dias para o encerramento dos debates que deve levar à elaboração de um projeto de lei.
- (E) As próprias autoridades criticam as leis tributárias e defendem que se realizem as mudanças que se fazem necessárias.

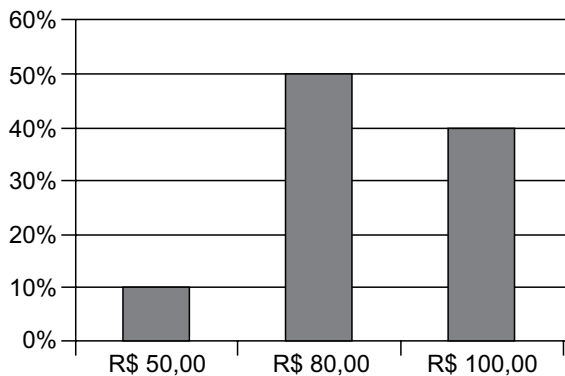
11. Um empréstimo de R\$ 1.300,00, realizado a juros simples, com prazo de 8 meses, teve como juros total o valor de R\$ 260,00. A taxa de juros anual cobrada nesse empréstimo foi de
- (A) 25%
 - (B) 30%
 - (C) 35%
 - (D) 40%
 - (E) 45%
12. Um terreno no formato retangular tem perímetro de 130 m, com o menor lado medindo 1 metro a mais que a terça parte da medida do maior lado. A área desse terreno é de
- (A) 720 m².
 - (B) 768 m².
 - (C) 816 m².
 - (D) 864 m².
 - (E) 900 m².
13. Dois colírios foram indicados a um paciente: um deles para ser utilizado a cada 3 horas, durante o dia, enquanto estiver trabalhando, e o outro para ser utilizado a cada 8 horas. Comprados esses colírios, o paciente iniciou o tratamento, utilizando ambos, às 8 horas de determinado dia, horário em que entra no trabalho. Sabendo-se que o paciente sai do trabalho às 18 horas, e que obedeceu rigorosamente à indicação do oftalmologista, da primeira vez em que ele utilizou os dois colírios, até a terceira vez em que ele também os utilizou, em um mesmo horário, o número de vezes em que o paciente utilizou o colírio de aplicação a cada 3 horas foi
- (A) 6.
 - (B) 7.
 - (C) 8.
 - (D) 9.
 - (E) 10.

14. Uma caixa d'água, com formato interno de paralelepípedo reto retangular, tem como dimensões 1,5 m, 2,0 m e 2,5 m, e está com $\frac{3}{5}$ de sua capacidade máxima de água. Para completar a capacidade dessa caixa, ela receberá água, com razão constante de 180 litros por minuto. Sabendo-se que 1 m^3 corresponde a 1000 litros, o tempo que será necessário para que a caixa fique completamente cheia de água é de
- (A) 16 minutos e 08 segundos.
(B) 16 minutos e 40 segundos.
(C) 17 minutos e 06 segundos.
(D) 17 minutos e 25 segundos.
(E) 17 minutos e 53 segundos.
15. Considere a seguinte informação, divulgada no site de um sindicato do comércio, em outubro de 2019:
- “Dois em cada três consumidores acima de 60 anos já compram online por smartphone”
- Com base nessa informação, considere que a pesquisa realizada para chegar à conclusão divulgada tenha identificado 150 consumidores, acima de 60 anos, que compraram, online, por smartphone. Nesse caso, o número total de pessoas que teria participado da pesquisa, nessa faixa etária, teria sido de
- (A) 225.
(B) 230.
(C) 235.
(D) 240.
(E) 245.
16. Em dois dias, foram vendidas, no total, 30 unidades de um produto, e o valor total dessas vendas foi de R\$ 1.410,00. Sabendo-se que no primeiro dia de venda, cada unidade foi vendida por R\$ 50,00, enquanto que no segundo dia de venda, cada unidade foi vendida por R\$ 45,00, é correto afirmar que o valor das vendas do primeiro dia, em relação ao valor das vendas, do segundo dia, foi
- (A) maior em R\$ 210,00.
(B) maior em R\$ 150,00.
(C) maior em R\$ 160,00.
(D) menor em R\$ 150,00.
(E) menor em R\$ 210,00.

17. O total de 340 bolinhas, sendo 180 na cor branca e o restante na cor preta, será totalmente distribuído em sacolinhas, de forma que em cada uma tenha x unidades de bolinhas na cor branca e y unidades de bolinhas na cor preta. Se todas as sacolinhas deverão conter o menor número de bolinhas possível, a diferença $x - y$ deverá ser igual a

- (A) 1.
- (B) 2.
- (C) 3.
- (D) 4.
- (E) 5.

18. Um comerciante revende apenas três produtos, aos preços de R\$ 50,00, R\$ 80,00 e R\$ 100,00. O gráfico apresenta, no último dia de trabalho da semana anterior, a distribuição da receita total das vendas, pelos três preços praticados.



Nesse dia, a média dos preços unitários desses produtos foi de

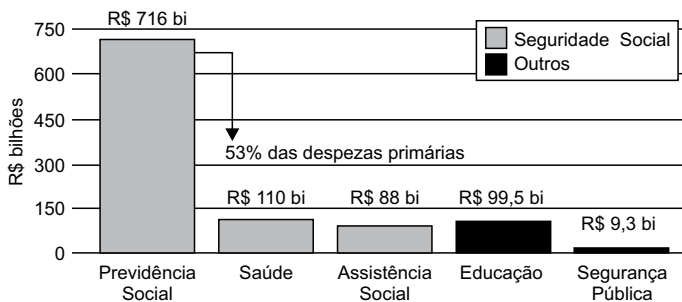
- (A) R\$ 80,00.
- (B) R\$ 82,50.
- (C) R\$ 85,00.
- (D) R\$ 87,50.
- (E) R\$ 90,00.

19. Em um grupo com somente pessoas com idades de 20 e 21 anos, a razão entre o número de pessoas com 20 anos e o número de pessoas com 21 anos, atualmente, é $\frac{4}{5}$. No próximo mês, duas pessoas com 20 anos farão aniversário, assim como uma pessoa com 21 anos, e a razão em questão passará a ser de $\frac{5}{8}$. O número total de pessoas nesse grupo é
- (A) 30.
 (B) 29.
 (C) 28.
 (D) 27.
 (E) 26.

20. Considere o seguinte gráfico, publicado em um artigo na internet:

O TAMANHO DO GASTO

Participação da Previdência Social nas despesas do governo federal em 2018



(<https://aosfatos.org/noticias/a-situacao-da-previdencia-social-em-6-graficos/>)

Com base nas informações apresentadas no gráfico, é correto afirmar que o gasto com a Saúde, em 2018, correspondeu, das despesas primárias, a, aproximadamente,

- (A) 6,0%
 (B) 6,5%
 (C) 7,0%
 (D) 7,5%
 (E) 8,0%

21. Promessa de campanha do então candidato republicano, cuja primeira menção data de 5 de agosto de 2014, o muro foi objeto de muitas batalhas, tanto no Congresso quanto nos tribunais.

“Vou construir o maior muro que já se viu, será um muro de Trump, um muro lindo”, disse o bilionário durante a campanha eleitoral.

(<https://bit.ly/36Rm7JT>. Publicado em 28.07.2019)

Sobre a proposta de construção do muro a que o texto se refere:

- (A) tem como objetivo controlar o número de imigrantes que ingressam nos Estados Unidos da América, mas não obteve aprovação no Congresso Nacional.
 - (B) apesar do esforço para a sua construção por parte do presidente Trump, a proposta passa por discussões e conflitos políticos relativas ao seu financiamento.
 - (C) representa uma das propostas mais populares do presidente Trump, mas sua construção tem sido barrada em decorrência de tensões com a comunidade internacional diante da questão imigratória.
 - (D) apesar da resistência da oposição à proposta do presidente Trump, é defendida por ele como uma medida que visa registrar e regular, e não barrar, a entrada de imigrantes no país.
 - (E) há uma demanda exigida pelos democratas e que, apesar da resistência de órgãos internacionais imigratórios, deverá ser construído até 2022.
22. O plano, batizado de “Agenda de Transformação de Estado”, prevê a mais profunda reestruturação da máquina pública brasileira desde a promulgação da Constituição Federal de 1988. O tamanho da mudança constitucional sugerida pelo governo pode ser medido pela quantidade de dispositivos que podem ser alterados. Juntos, os projetos somam 30 páginas.

(<https://glo.bo/2Cw3VOJ>. Publicado em 08.11.2019)

O plano a que o texto se refere, defende como objetivo

- (A) ampliar a agenda social do Estado de forma a adequá-la aos propósitos da Constituição de 1988.
- (B) centralizar os gastos públicos no âmbito da federação, de forma a diminuir a autonomia dos gastos estaduais.
- (C) ampliar o número de municípios, garantindo maior distribuição e melhor gestão de gastos públicos.
- (D) diminuir a possibilidade de manobrar recursos por parte do município.
- (E) ampliar a responsabilidade fiscal, buscando diminuir o inchaço dos gastos públicos estatais.

23. O governo chavista tem fechado o cerco contra o líder do parlamento venezuelano e autodeclarado presidente interino da Venezuela. Principal nome da oposição, foi inabilitado para ocupar cargos públicos durante 15 anos pela Controladoria Geral da Venezuela. O controlador do governo, Elvis Amoroso, anunciou na televisão que iria “desativar o exercício de qualquer cargo público do cidadão pelo prazo máximo estabelecido na lei”.

(<https://bit.ly/32ADx0S>. Publicado em 29.03.2019. Adaptado)

A respeito do conflito entre a situação do governo venezuelano e a oposição, é correto afirmar que

- (A) se trata do questionamento da legitimidade da reeleição de Juan Guidó, liderado por Nicolás Maduro.
 - (B) envolve as denúncias de órgãos internacionais, como a ONU, que identificaram fraudes no processo eleitoral que levou Hugo Chaves ao poder e reconhecem Juan Guaidó presidente.
 - (C) se refere à crise política venezuelana que envolve o conflito entre o presidente Nicolás Maduro e o líder da oposição Juan Guaidó.
 - (D) se trata de uma medida criada pelo governo venezuelano para não permitir que ocorram as próximas eleições na Venezuela, inaugurando um período ditatorial.
 - (E) se refere à disputa entre chavistas e bolivarianistas pelo controle do processo político eleitoral na Venezuela.
24. A ministra do Meio Ambiente da França, Elisabeth Borne, alertou nesta terça-feira que seu país não assinará o acordo alcançado entre a União Europeia e os países do bloco Mercosul (Argentina, Brasil, Uruguai e Paraguai) nas condições atuais.

(<https://bit.ly/2Cx1yo>. Publicado em 08.10.2019)

O motivo que gerou a declaração da ministra francesa foi

- (A) a questão da liberação de uma lista de agrotóxicos que incluem substâncias não utilizadas na França.
 - (B) o padrão sanitário brasileiro relacionado ao combate às doenças do rebanho bovino.
 - (C) as taxas alfandegárias que criam uma concorrência prejudicial aos produtos orgânicos franceses em relação aos brasileiros.
 - (D) a repercussão mundial sobre as queimadas ocorridas na Amazônia e as políticas ambientais brasileiras.
 - (E) as taxas alfandegárias que prejudicariam os produtos orgânicos franceses em relação aos brasileiros.
25. O filme segue sendo apresentado com muito sucesso em vários festivais de cinema no mundo. “Nosso objetivo principal sempre foi a estreia no Brasil. Os produtores e a distribuidora Paris Filmes vão seguir trabalhando para que isso aconteça”, publicou em nota a O2 Filmes. Em agosto, a O2 havia entrado com um recurso na Ancine solicitando a liberação de verbas para a comercialização do filme antes da assinatura efetiva do contrato com o FSA (Fundo Setorial do Audiovisual), mas o recurso foi negado.

(<https://bit.ly/36TKywU>. Publicado em 12.09.2019. Adaptado)

O texto se refere ao filme

- (A) Bacurau.
- (B) Que horas ela volta?
- (C) A vida invisível.
- (D) Hebe.
- (E) Marighella.

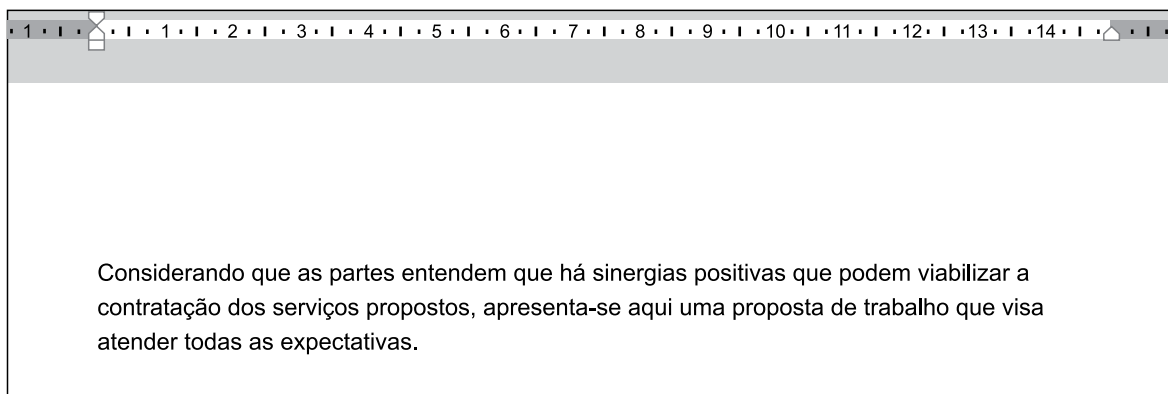
26. Tem-se a seguinte imagem, exibida parcialmente, de um computador com Microsoft Windows 7, em sua configuração original.



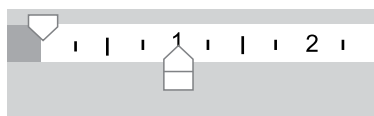
Assinale a alternativa com o resultado da ação, ao clicar com botão invertido do mouse (botão secundário) sobre o ícone do Paint e selecionar a opção Desafixar, da Barra de Tarefas.

- (A) O Paint será desinstalado do computador.
- (B) O Paint continuará aberto para uso, uma vez que está sendo executado, mas ao ser encerrado, seu ícone não estará mais presente na Barra de Tarefas.
- (C) O Paint ficará impedido de uso no computador, até que seja novamente fixado na Barra de Tarefas.
- (D) O aplicativo será encerrado, sem gravar a imagem que está sendo editada.
- (E) O aplicativo será encerrado, gravando automaticamente a imagem que está sendo editada.

27. Tem-se um documento editado no Microsoft Word 2010, em sua configuração original, conforme imagem parcial a seguir.



Um usuário clicou no ícone de recuo, deixando-o da forma a seguir.



Assinale a alternativa que indica a aparência correta que o texto assume com essa configuração.

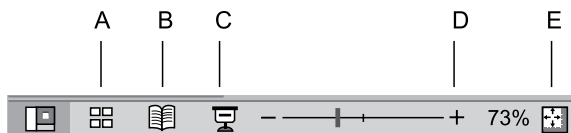
- (A) Considerando que as partes entendem que há sinergias positivas que podem viabilizar a contratação dos serviços propostos, apresenta-se aqui uma proposta de trabalho que visa atender todas as expectativas.
- (B) Considerando que as partes entendem que há sinergias positivas que podem viabilizar a contratação dos serviços propostos, apresenta-se aqui uma proposta de trabalho que visa atender todas as expectativas.
- (C) Considerando que as partes entendem que há sinergias positivas que podem viabilizar a contratação dos serviços propostos, apresenta-se aqui uma proposta de trabalho que visa atender todas as expectativas.
- (D) Considerando que as partes entendem que há sinergias positivas que podem viabilizar a contratação dos serviços propostos, apresenta-se aqui uma proposta de trabalho que visa atender todas as expectativas.
- (E) Considerando que as partes entendem que há sinergias positivas que podem viabilizar a contratação dos serviços propostos, apresenta-se aqui uma proposta de trabalho que visa atender todas as expectativas.

28. Tem-se a seguinte planilha, criada no Microsoft Excel 2010, em sua configuração original.


	A	B	C
1	9	9	6
2	3	4	8
3	9	6	0

Assinale a alternativa com o resultado correto da fórmula =MÉDIASE(A1:C3;">8";A1:C3) a ser inserida na célula A4.

- (A) 0
 (B) 3
 (C) 6
 (D) 8,75
 (E) 9
29. Assinale a alternativa que indica o ícone que inicia o Modo de Apresentação de slides no Microsoft PowerPoint 2010, em sua configuração original.



- (A) A
 (B) B
 (C) C
 (D) D
 (E) E
30. Ao visitar um web site usando o navegador Google Chrome, versão 78, em sua configuração original, o usuário pressionou as teclas CTRL+P para imprimir o conteúdo. Na visualização da impressão, o usuário percebeu que há 9 páginas para se imprimir. Assinale a alternativa que indica como deve ser preenchido o campo sublinhado, com a opção Personalizado selecionada, para que se imprima apenas as páginas 2 a 8.



- (A) -1-9
 (B) -1,-9
 (C) [1],2-8,[9]
 (D) 2-8
 (E) 2,8

CONHECIMENTOS ESPECÍFICOS

31. Determinada lei passou pelo seu regular processo legislativo, vindo a ser sancionada e publicada, mas em seu texto não constou a data em que ela entraria em vigor. Nessa situação hipotética, a Lei de Introdução às Normas do Direito Brasileiro (Decreto-Lei nº 4.657/1942) estabelece que a referida lei começa a vigorar, respectivamente, em todo o país e nos Estados estrangeiros, quando admitida
- (A) na data de sua publicação e quarenta e cinco dias depois de oficialmente publicada.
 (B) trinta dias depois de oficialmente publicada e três meses depois de oficialmente publicada.
 (C) quarenta e cinco dias depois de oficialmente publicada e três meses depois de oficialmente publicada.
 (D) sessenta dias depois de oficialmente publicada e um mês depois de oficialmente publicada.
 (E) sessenta dias depois de oficialmente publicada e noventa dias depois de oficialmente publicada.
32. Suponha que a Lei "X" estava em pleno vigor, mas foi revogada pela Lei "Y". Todavia, esta, depois de algum tempo, veio a perder a sua vigência. Segundo o disposto no Decreto-Lei nº 4.657/1942, nessa hipótese, é correto afirmar que a Lei "X"
- (A) será, automaticamente, restaurada, salvo disposição expressa em contrário da Lei "Y".
 (B) não poderá ser restaurada, nem mesmo por disposição expressa em contrário, sendo necessária a edição de uma nova lei tratando da mesma matéria.
 (C) somente será restaurada, automaticamente, se a Lei "Y" tiver sido editada para vigorar temporariamente.
 (D) somente será restaurada se nenhuma outra lei for editada para tratar da mesma matéria, para não haver lacuna jurídica.
 (E) não será restaurada, automaticamente, salvo disposição em contrário.
33. Conforme a Lei Complementar nº 95/1998, a parte da lei grafada em caracteres maiúsculos, propiciando identificação numérica singular à lei e formada pelo título designativo da espécie normativa, pelo número respectivo e pelo ano de promulgação, é denominada de
- (A) epígrafe.
 (B) preâmbulo.
 (C) ementa.
 (D) resumo.
 (E) prólogo.

34. A Lei Complementar nº 95/1998 determina que, na articulação e na redação das leis, deve-se restringir o conteúdo de cada artigo da lei a um único assunto ou princípio, para fins de obtenção de
- (A) clareza.
 - (B) precisão.
 - (C) univocidade.
 - (D) ordem lógica.
 - (E) máxima efetividade.
35. Assinale a alternativa correta a respeito das autarquias.
- (A) São pessoas jurídicas de direito público, com capacidade política e de auto-organização.
 - (B) Possuem várias prerrogativas processuais, como prazos diferenciados e impenhorabilidade de bens.
 - (C) Gozam de prazo prescricional especial e não se submetem ao regime de precatórios no pagamento de seus débitos.
 - (D) Possuem Imunidade tributária relativa a impostos e taxas e todos os seus bens são inalienáveis e insuscetíveis à usucapião.
 - (E) Exercem atividades de Estado, como regra, mas podem desempenhar atividades comerciais ou industriais quando autorizadas por lei.
36. Na hipótese de o Município vir a contratar uma empresa para prestação de serviço público, por meio de regular processo licitatório de concessão, é correto afirmar que a responsabilidade civil da empresa contratada, em relação aos usuários do serviço, será
- (A) objetiva, e a do Município será solidária.
 - (B) subjetiva, e a do Município será subsidiária.
 - (C) objetiva, e a do Município será subsidiária.
 - (D) regressiva, e a do Município será subjetiva.
 - (E) subjetiva, e a do Município será regressiva.
37. Considerando que uma concessionária de serviço público deixou de honrar uma cláusula do respectivo contrato administrativo e o Município teve que assumir a prestação do serviço no seu lugar, essa conduta do ente público baseia-se no princípio do direito administrativo denominado de princípio da
- (A) encampação do serviço público.
 - (B) legalidade administrativa.
 - (C) moralidade administrativa.
 - (D) supremacia do interesse público sobre o particular.
 - (E) continuidade do serviço público.
38. Um ato administrativo que passou por todas as etapas do seu processo de formação, mas sujeito à condição ou termo, segundo a doutrina do direito administrativo, é considerado um ato
- (A) imperfeito e pendente.
 - (B) perfeito e ineficaz.
 - (C) válido e imperfeito.
 - (D) perfeito e pendente.
 - (E) consumado e imperfeito.
39. Alonso é servidor público ocupante de cargo em comissão de livre nomeação e exoneração. Seu superior que o nomeou para o cargo, descontente com o seu desempenho, resolveu dispensar Alonso de suas funções, sem um processo administrativo, fazendo constar que a sua exoneração se deu por motivos de improbidade administrativa. Nessa situação hipotética, considerando o direito aplicável aos atos administrativos, é correto afirmar que a exoneração de Alonso
- (A) pode ser considerada legal, desde que o motivo alegado pelo seu superior corresponda à verdade.
 - (B) não se deu dentro da legalidade, uma vez que Alonso, nesse caso, somente poderia ser dispensado pelo Poder Judiciário.
 - (C) não poderá ser considerada legal se o motivo da dispensa não foi aquele que constou do ato de exoneração, por violar o princípio da motivação.
 - (D) deve ser considerada legal, ainda que o motivo da exoneração não tenha sido por improbidade, uma vez que a dispensa do cargo em comissão não exige motivação.
 - (E) foi ilegal, uma vez que a exoneração de qualquer cargo público, ainda que de cargo em comissão, depende da conclusão e da decisão do respectivo processo administrativo.
40. O atributo do ato administrativo que impõe a coercibilidade para seu cumprimento ou execução é a
- (A) imperatividade.
 - (B) presunção de legitimidade.
 - (C) presunção de veracidade.
 - (D) autoexecutoriedade.
 - (E) estrita legalidade.

41. Com relação à extinção do ato administrativo por revogação, é correto afirmar que
- (A) pode se dar pela Administração ou pelo Poder Judiciário.
 - (B) uma vez constatada a ilegalidade, é obrigatória a revogação.
 - (C) seus efeitos são *ex nunc*, e não gera direito adquirido durante a sua vigência.
 - (D) está relacionada à discricionariedade e seus efeitos são *ex tunc*.
 - (E) somente a Administração tem competência para sua prática, e com efeitos *ex nunc*.
42. Policarpo é servidor público e foi designado para atuar em um processo administrativo disciplinar para apuração de infração cometida por Bentinho. No entanto, antes de ser nomeado para atuar no processo administrativo, Policarpo havia movido um processo judicial contra a esposa de Bentinho, que ainda está em andamento. Nessa situação hipotética, conforme o disposto na Lei nº 9.784/1999, Policarpo
- (A) não está impedido de atuar no processo administrativo, e não tem a obrigação de comunicar a existência da ação judicial.
 - (B) está impedido de atuar no processo administrativo e deve comunicar esse fato à autoridade competente.
 - (C) está impedido de atuar no processo administrativo, mas não tem a obrigação de comunicar esse fato.
 - (D) não está impedido de atuar no processo administrativo, pois a existência de ação judicial, no caso, não é prevista na lei como impedimento.
 - (E) não está impedido de atuar no processo administrativo, pois é somente suspeito e não tem obrigação de comunicar a existência da ação judicial.
43. No processo administrativo regido pela Lei nº 9.784/1999, quando necessitar ser ouvido um órgão consultivo, o parecer deverá ser emitido no prazo máximo de quinze dias, salvo norma especial ou comprovada necessidade de maior prazo. Todavia, se um parecer obrigatório e vinculante deixar de ser emitido no prazo fixado, o processo
- (A) será anulado, devendo ser instaurado um novo processo, responsabilizando-se o servidor pelo atraso.
 - (B) terá seu regular prosseguimento, abrindo-se vista à defesa para a devida manifestação sobre a matéria.
 - (C) será suspenso pelo prazo de 30 dias para o órgão consultivo apresentar o parecer, sob pena de responsabilidade administrativa do servidor que não cumpriu com a obrigação.
 - (D) não terá seguimento até a respectiva apresentação, responsabilizando-se quem der causa ao atraso.
 - (E) terá seu regular prosseguimento, facultando-se às partes apresentar parecer particular sobre a matéria em discussão.
44. Apolo é a autoridade administrativa responsável por um inquérito, nos termos da Lei de Improbidade Administrativa (Lei nº 8.429/1992), no qual apura-se conduta ilícita de Hermes, que é servidor público, bem como de Dionísio que é um particular, empresário da construção civil. Na conclusão do inquérito, restou comprovado que ambos acusados praticaram atos que redundaram em lesão ao patrimônio público e enriquecimento ilícito, não cabendo mais recursos no inquérito. No entanto, antes de Apolo tomar qualquer providência, Hermes veio a falecer. Nessa situação hipotética, segundo o disposto na Lei nº 8.429/1992, Apolo deverá
- (A) mandar arquivar o inquérito em relação a Hermes em razão do seu falecimento e representar ao Ministério Público para a indisponibilidade dos bens de Dionísio.
 - (B) representar ao Ministério Público, para a indisponibilidade dos bens de ambos os indiciados, sendo que, no caso de Hermes, seus sucessores é que responderão até o limite do valor da herança.
 - (C) determinar o arquivamento do inquérito em relação a Hermes, por este ter falecido, e remeter cópias do inquérito à Justiça para abertura de processo contra Dionísio.
 - (D) pedir à Justiça o arquivamento do inquérito para ambos, tendo em vista o falecimento de Hermes e pelo fato de Dionísio não ser funcionário público, que deverá responder processo próprio na Justiça comum.
 - (E) arquivar o inquérito em relação a Hermes, que faleceu antes da aplicação da pena e remeter o inquérito ao Delegado de Polícia para abertura de processo criminal contra Dionísio.
45. Assinale a alternativa que está em conformidade com o disposto na Constituição Federal no tocante aos direitos e garantias fundamentais.
- (A) Em nenhuma hipótese a lei poderá restringir a publicidade dos atos processuais.
 - (B) É livre a manifestação do pensamento, sendo garantido o anonimato.
 - (C) É vedada a assistência religiosa nas entidades civis e militares de internação coletiva.
 - (D) É assegurado, mediante pagamento de taxa, o direito de petição aos Poderes Públicos em defesa de direitos ou contra ilegalidade ou abuso de poder.
 - (E) São gratuitos para os reconhecidamente pobres, na forma da lei, o registro civil de nascimento e a certidão de óbito.

- 46.** Com relação aos trabalhadores urbanos e rurais, a Constituição Federal estabelece que é um dos seus direitos:
- (A) remuneração do serviço extraordinário superior, no mínimo, em cinquenta por cento à do normal.
 - (B) salário-família pago em razão do dependente do trabalhador, independentemente da renda.
 - (C) duração do trabalho normal não superior a oito horas diárias e quarenta e quatro semanais, vedada a compensação de horários e a redução da jornada.
 - (D) jornada de oito horas para o trabalho realizado em turnos ininterruptos de revezamento, salvo negociação coletiva.
 - (E) o seguro-desemprego, em caso de desemprego voluntário ou involuntário.
- 47.** A respeito dos direitos políticos, a Carta Magna dispõe que
- (A) o mandato eletivo poderá ser impugnado ante a Justiça Eleitoral, no prazo de quinze dias contados da diplomação, instruída a ação com provas de abuso do poder econômico, corrupção ou fraude.
 - (B) não podem se alistar como eleitores os analfabetos e, durante o período do serviço militar obrigatório, os conscritos.
 - (C) é uma condição de elegibilidade a idade mínima de trinta e cinco anos para Presidente e Vice-Presidente da República, Senador e Governador e Vice-Governador de Estado e do Distrito Federal.
 - (D) para concorrerem a outros cargos, o Presidente da República, os Governadores de Estado e do Distrito Federal, os Deputados e os Senadores devem renunciar aos respectivos mandatos até seis meses antes do pleito.
 - (E) a condenação por improbidade administrativa e a condenação criminal transitada em julgado são duas das hipóteses de cassação de direitos políticos previstas no texto constitucional.
- 48.** É livre a criação, fusão, incorporação e extinção de partidos políticos, resguardados a soberania nacional, o regime democrático, o pluripartidarismo, os direitos fundamentais da pessoa humana e observado, dentre outros, o seguinte preceito:
- (A) caráter regional.
 - (B) igualdade do número de candidaturas de homens e mulheres.
 - (C) proibição de recebimento de recursos financeiros de entidade estrangeira.
 - (D) prestação de contas à Justiça Criminal Federal ou Estadual.
 - (E) atuação na defesa e promoção dos direitos humanos, na forma da lei.
- 49.** Nos termos da Constituição Federal, a Câmara Municipal não gastará com folha de pagamento
- (A) mais de cinquenta por cento de sua receita, incluindo o gasto com o subsídio de seus Vereadores.
 - (B) mais de cinquenta por cento de sua receita, excluído o gasto com o subsídio de seus Vereadores.
 - (C) mais de sessenta por cento de sua receita, incluindo o gasto com o subsídio de seus Vereadores.
 - (D) mais de setenta por cento de sua receita, incluindo o gasto com o subsídio de seus Vereadores.
 - (E) mais de setenta por cento de sua receita, excluído o gasto com o subsídio de seus Vereadores.
- 50.** Assinale a alternativa correta a respeito do veto presidencial sobre projetos de lei.
- (A) O veto pode ser total ou parcial, e o prazo para o Presidente exercê-lo é de trinta dias.
 - (B) Se vetar o projeto, o Presidente deve comunicar, dentro de 48 horas, ao Presidente do Senado os seus motivos.
 - (C) O veto parcial abrangerá texto integral de artigo, de parágrafo, de inciso e de alínea ou palavras.
 - (D) O silêncio do Presidente ao receber o projeto de lei importará no que a doutrina denomina de veto tácito.
 - (E) Se o veto presidencial não for mantido pelo Congresso Nacional, o projeto será promulgado pelo Presidente da Câmara dos Deputados.
- 51.** A respeito do controle de constitucionalidade preventivo no direito brasileiro, é correto afirmar que
- (A) é exercido pelo Legislativo ao sustar os atos normativos do Poder Executivo que exorbitem do poder regulamentar ou dos limites de delegação legislativa.
 - (B) é praticado, por exemplo, quando o Senado suspende a execução, no todo ou em parte, de lei declarada inconstitucional por decisão definitiva do Supremo Tribunal Federal.
 - (C) não cabe ao Poder Judiciário exercer esse tipo de controle, Poder este que tem competência apenas para exercer o controle repressivo.
 - (D) as comissões parlamentares têm competência para exercer esse tipo de controle ao examinar os projetos de lei a elas submetidos.
 - (E) o veto presidencial, que é uma forma de controle preventivo de constitucionalidade, é sujeito à apreciação e anulação pelo Poder Judiciário.

- 52.** A necessidade de que, de tempos em tempos, os mandatos políticos devem ser revogados com a realização de novas eleições tem por fundamento o denominado princípio eleitoral
- (A) da legalidade.
 - (B) da moralidade.
 - (C) republicano.
 - (D) da separação de Poderes.
 - (E) do pluralismo político.
- 53.** Nos termos da Constituição Federal brasileira, a criação, a incorporação, a fusão e o desmembramento de Municípios far-se-ão
- (A) por lei estadual, dentro do período determinado por lei complementar federal, e dependerão de consulta prévia, mediante plebiscito, às populações dos Municípios envolvidos, após divulgação dos Estudos de Viabilidade Municipal, apresentados e publicados na forma da lei.
 - (B) por lei municipal, dentro do período determinado por lei complementar estadual, e dependerão de consulta prévia, mediante plebiscito, às populações dos Municípios envolvidos, após divulgação dos Estudos de Viabilidade Municipal, apresentados e publicados na forma da lei.
 - (C) por lei estadual, dentro do período determinado por lei complementar federal, e dependerão de consulta prévia, mediante referendo, às populações dos Municípios envolvidos, após divulgação dos Estudos de Viabilidade Municipal, apresentados e publicados na forma da lei.
 - (D) por lei complementar estadual, dentro do período determinado por lei ordinária federal, e dependerão de consulta prévia, mediante plebiscito, às populações dos Municípios envolvidos, após divulgação dos Estudos de Viabilidade Estadual, apresentados e publicados na forma da lei.
 - (E) por lei federal, dentro do período determinado por lei complementar estadual, e dependerão de consulta prévia, mediante plebiscito, às populações dos Municípios envolvidos, após divulgação dos Estudos de Viabilidade Municipal, apresentados e publicados na forma da lei.
- 54.** Conforme dispõe a Lei Orgânica do Município de Morro Agudo, apresentar projetos de lei dispondo sobre a abertura de créditos suplementares ou especiais, através do aproveitamento total ou parcial das consignações orçamentárias da Câmara, é uma atribuição
- (A) da Comissão de Finanças e Orçamento.
 - (B) do Prefeito.
 - (C) do Presidente da Câmara.
 - (D) de qualquer Vereador.
 - (E) da Mesa.
- 55.** A convocação de sessão extraordinária a requerimento de dois terços dos membros da Câmara Municipal, nos termos da Lei Orgânica do Município de Morro Agudo, pode ser feita no caso
- (A) de Posse do Prefeito e do Vice-Prefeito.
 - (B) de urgência.
 - (C) de votação da Lei Orçamentária.
 - (D) de pedido expresso do Prefeito.
 - (E) de votação de perda de mandato parlamentar.
- 56.** A respeito da Resolução, o Regimento Interno da Câmara dos Vereadores de Morro Agudo estabelece que ela se destina a regular matéria
- (A) político-administrativa da Câmara, de competência exclusiva, devendo ser submetida à sanção ou veto do Prefeito Municipal.
 - (B) de competência exclusiva da Câmara, que produza efeitos externos, não dependendo de sanção ou veto do Prefeito Municipal.
 - (C) de competência exclusiva da Câmara, que produza efeitos externos, e deve ser submetida à sanção ou veto do Prefeito Municipal.
 - (D) matéria político-administrativa da Câmara, de competência exclusiva, e não depende de sanção ou veto do Prefeito Municipal.
 - (E) sobre organização dos serviços administrativos da Câmara Municipal.
- 57.** O Regimento Interno da Câmara Municipal de Morro Agudo dispõe a respeito das medidas provisórias municipais o seguinte:
- (A) sua relevância e urgência devem ser julgadas pela Câmara em 5 dias.
 - (B) deverá ser protocolada perante a Presidência da Câmara.
 - (C) uma vez aprovada, será promulgada pela Câmara Municipal.
 - (D) a Câmara poderá propor emendas, desde que não gerem despesas.
 - (E) uma vez rejeitada, o Prefeito não poderá apresentar nova medida sobre a mesma matéria.

58. De acordo com o *Manual de Redação da Presidência da República*, a redação oficial

- (A) aceita as transformações nos usos da língua sem estigmatizar usos que estejam em desacordo com a norma-padrão, uma vez que o mais importante é comunicar.
- (B) caracteriza-se por ser necessariamente árida e contrária à ideia de evolução da língua, uma vez que as mudanças comprometem a boa expressão linguística e discursiva.
- (C) corresponde a uma comunicação pública e, por essa razão, deve primar pela objetividade e clareza, valendo-se do uso da norma-padrão da língua portuguesa.
- (D) marca-se por ser uma área de escasso conhecimento, uma vez que as formas linguísticas que abona estão normalmente muito distanciadas da língua cotidiana.
- (E) tem evoluído significativamente, de tal forma que hoje sua linguagem está próxima da que caracteriza textos da literatura, do jornalismo e da correspondência particular.

59. A redação oficial é elaborada sempre em nome do serviço público e sempre em atendimento ao interesse geral dos cidadãos. Sendo assim, os assuntos objetos dos expedientes oficiais não devem ser tratados de outra forma que não a estritamente pessoal.

(Manual de Redação da Presidência da República)

O princípio exposto no Manual está devidamente resguardado no seguinte enunciado:

- (A) Em atendimento à solicitação de uma nova ambulância para o Pronto-Socorro, informamos que o veículo já foi adquirido neste mês.
- (B) Encaminho-lhes o relatório de avaliação do último trimestre; peço que fiquem atentos para as ótimas informações sobre os avanços do Setor.
- (C) Querido cidadão, este ano os impostos prediais poderão ser parcelados em até dez vezes. Contamos com o seu pagamento sempre pontual.
- (D) A chefia deste Setor fica emocionada com a dedicação dos funcionários, os quais têm feito nosso cotidiano ser mais produtivo e feliz.
- (E) Convocamos a todos para o churrasco de encerramento de ano, que acontecerá na casa do diretor do departamento, no dia 07 de dezembro.

60. Um secretário da Prefeitura Municipal, ao encaminhar uma correspondência ao Governador do Estado, empregará a essa autoridade, respectivamente, o seguinte endereçamento, vocativo e tratamento no corpo do texto:

- (A) Ao Senhor / Ilmo. Senhor Governador / Sua Excelência.
- (B) Ao Ilustríssimo senhor / Caríssimo Governador / Vossa Excelência.
- (C) Ao Exmo. Sr. Governador / Senhor Governador / Sua Excelência.
- (D) A Sua Excelência o Senhor Governador / Governador / Vossa Senhoria.
- (E) A Sua Excelência o Senhor / Senhor Governador / Vossa Excelência.

