



PREFEITURA DE SOROCABA

ESTADO DE SÃO PAULO

CONCURSO PÚBLICO

001. PROVA OBJETIVA

INSPETOR DE ALUNOS

- ◆ Você recebeu sua folha de respostas e este caderno contendo 50 questões objetivas.
- ◆ Confira seus dados impressos na capa deste caderno e na folha de respostas.
- ◆ Quando for permitido abrir o caderno, verifique se está completo ou se apresenta imperfeições. Caso haja algum problema, informe ao fiscal da sala.
- ◆ Leia cuidadosamente todas as questões e escolha a resposta que você considera correta.
- ◆ Marque, na folha de respostas, com caneta de tinta preta, a letra correspondente à alternativa que você escolheu.
- ◆ A duração da prova é de 3 horas e 30 minutos, já incluído o tempo para o preenchimento da folha de respostas.
- ◆ Só será permitida a saída definitiva da sala e do prédio após transcorridos 60 minutos do início da prova.
- ◆ Deverão permanecer em cada uma das salas de prova os 3 últimos candidatos, até que o último deles entregue sua prova, assinando termo respectivo.
- ◆ Ao sair, você entregará ao fiscal a folha de respostas e este caderno, podendo levar apenas o rascunho de gabarito, localizado em sua carteira, para futura conferência.
- ◆ Até que você saia do prédio, todas as proibições e orientações continuam válidas.

AGUARDE A ORDEM DO FISCAL PARA ABRIR ESTE CADERNO DE QUESTÕES.

Nome do candidato _____

RG _____

Inscrição _____

Prédio _____

Sala _____

Carteira _____

CONHECIMENTOS GERAIS

LÍNGUA PORTUGUESA

Leia o texto a seguir para responder às questões de números 01 a 08.

Limpendo nosso caminho

Limpar é uma atitude que traz consequências saudáveis – ainda que tenha gente que precise de uma bagunça em volta, de crostas no chão e na alma, de se perder em meio a embalagens de comida, toalhas sujas e outras tranqueiras.

A casa de todos nós é cheia de toxinas. Objetos e roupas que não usamos mais, coisas quebradas ou lascadas, plantas mortas, papelada sem sentido, jornais e revistas antigos, remédios vencidos, meias furadas, eletrodomésticos estragados. Guardá-los é uma ilusão de que trarão de volta a época em que serviram para alguma coisa. Uma resistência à passagem do tempo. Resistência ineficaz, lógico. Está mais do que na hora de dizer: xô, tranqueiras!

É uma terapia rápida e de baixo custo: desapegar-se das tralhas a fim de aliviar a rotina. Abrindo espaço, podemos nos sentir mais leves e tudo em volta clareia, inclusive as ideias. Até a saúde melhora.

Existem fios invisíveis que nos ligam a tudo aquilo que possuímos. Está explicado: como não se sentir deprimido num ambiente cheio de entulho? Como não acordar cansado estando interligado a uma tonelada de peso inútil? Vale para o que é material e, é claro, para o coração, aquele pequeno músculo que bate dentro do peito e que não merece hospedar tanto sentimento que não serve para nada, a não ser para obstruir as artérias. Seria tão bom não sentir tanta mágoa, tanto rancor, tanto ressentimento. É difícil, mas é preciso começarmos o quanto antes a limpar nosso caminho, para que a vida possa fluir com mais leveza e saúde.

(Martha Medeiros. *Quem diria que viver ia dar nisso*. 9ª ed. Porto Alegre: L&PM, 2019. Adaptado)

01. De acordo com o texto, é correto afirmar que

- (A) guardar objetos é uma atitude positiva, pois podem ser reaproveitados.
- (B) colecionar tranqueiras não traz prejuízos às pessoas, mas sim alegrias.
- (C) raras são as casas que têm muitas toxinas, pois essas são higienizadas.
- (D) as pessoas guardam entulhos, porque não têm para onde levá-los.
- (E) existem pessoas que mantêm a bagunça, pois acostumaram-se a isso.

02. Segundo o texto, também é nocivo às pessoas manter apego

- (A) a eletrodomésticos ultrapassados.
- (B) a amigos de antigamente.
- (C) a sentimentos ruins.
- (D) a objetos de muito valor.
- (E) a casas onde já se residiu.

03. O último parágrafo do texto ressalta aspectos

- (A) psicológicos.
- (B) materiais.
- (C) científicos.
- (D) físicos.
- (E) históricos.

04. Na frase do 1º parágrafo – Limpar é uma atitude que traz **consequências saudáveis** – as palavras destacadas podem ser substituídas, sem alteração de sentido, por:

- (A) efeitos constantes.
- (B) características importantes.
- (C) expectativas benéficas.
- (D) resultados salutares.
- (E) esforços especiais.

05. A alternativa em que há palavras empregadas com sentido figurado é observada em:

- (A) ... uma bagunça em volta, de crostas no chão e na alma... (1º parágrafo)
- (B) Objetos e roupas que não usamos mais... (2º parágrafo)
- (C) ... coisas quebradas ou lascadas, plantas mortas... (2º parágrafo)
- (D) ... jornais e revistas antigos, remédios vencidos... (2º parágrafo)
- (E) Resistência ineficaz, lógico. (2º parágrafo)

06. Assinale a alternativa em que a palavra destacada atribui uma qualidade ao vocábulo anterior.

- (A) Objetos e roupas que não usamos **mais**... (2º parágrafo)
- (B) É uma terapia **rápida** e de baixo custo... (3º parágrafo)
- (C) Abrindo **espaço**, podemos nos sentir mais leves... (3º parágrafo)
- (D) ... estando interligado a uma **tonelada**... (4º parágrafo)
- (E) ... não merece **hospedar** tanto sentimento... (4º parágrafo)

07. No trecho do último parágrafo – É difícil, **mas** é preciso começarmos o quanto antes a limpar nosso caminho, **para** que a vida possa fluir com mais leveza e saúde. – as palavras destacadas estabelecem, respectivamente, sentidos de

- (A) oposição e lugar.
- (B) conclusão e adição.
- (C) condição e finalidade.
- (D) comparação e origem.
- (E) oposição e finalidade.

08. Na frase do último parágrafo – Seria **tão** bom **não** sentir tanta mágoa, tanto rancor... – as palavras destacadas estabelecem, respectivamente, sentido de

- (A) tempo e intensidade.
- (B) dúvida e modo.
- (C) intensidade e negação.
- (D) inclusão e modo.
- (E) tempo e negação.

09. A concordância entre as palavras está de acordo com a norma-padrão da língua portuguesa em:

- (A) Elas mesmo cuidaram da limpeza dos móveis dos outros quarto.
- (B) Chegaram os novos limpadores de vidro e ela ficou muito satisfeita.
- (C) Meus filhos, por mais que se esforce, não deixa as louças bem lavada.
- (D) Elas ficam meia preocupada com a falta de higiene dos hóspedes.
- (E) Limpei todo o escritório de minha irmã e ela sequer disse obrigado.

10. Assinale a alternativa em que a pontuação das frases está de acordo com a norma-padrão da língua portuguesa.

- (A) É fato indiscutível que, a limpeza está relacionada, à saúde.
- (B) Por mais que se esforce, ela, não limpa bem os móveis.
- (C) Pedro assim que eu tiver tempo; limparei o ar condicionado.
- (D) Márcia, a irmã de Ana, dá muito valor à limpeza da casa.
- (E) Na hora, de fazer a faxina, ela pede, ajuda aos filhos.

11. O uso do acento indicador da crase obedece à norma-padrão da língua em:

- (A) O rapaz foi à cozinha terminar a limpeza do fogão.
- (B) A diarista de minha irmã trabalha de segunda à sábado.
- (C) Ela enxugou à louça e foi comprar outros produtos de limpeza.
- (D) Martha começou à higienizar as frutas que trouxe do mercado.
- (E) Ele referiu-se à nós e ao lugar tão limpo em que os recebemos.

Leia a tirinha, em que Helga fala com o marido Hagar, para responder às questões de números 12 a 14.



(Dik Browne. *O melhor de Hagar, o horrível*. vol.4. Porto Alegre: L&PM, 2008. Adaptado)

12. De acordo com a leitura do 1º quadrinho, pode-se afirmar que Helga

- (A) não suporta que Hagar se alimente na cama nos finais de semana.
- (B) decide proibir que Hagar coma na hora de dormir.
- (C) não trata o marido com grosseria ao falar com ele.
- (D) sabe que o marido não costuma levar alimentos para o quarto.
- (E) não compreende por que Hagar se alimenta na cama.

13. A fala de Helga, no 2º quadrinho, permite afirmar que

- (A) ela o obriga a arrumar tudo antes que ele adormeça.
- (B) Hagar não dorme antes de arrumar tudo.
- (C) o hábito de Hagar levar comida para a cama é saudável.
- (D) ela ignora e não reclama da bagunça que o marido faz.
- (E) Hagar não se preocupa com a limpeza depois de se alimentar.

14. Na frase do 2º quadrinho – Mas podia **pelo menos** limpar tudo quando termina!!! – a expressão destacada tem sentido contrário a:

- (A) às vezes.
- (B) no máximo.
- (C) nem sequer.
- (D) por alto.
- (E) quando não.

15. Se as pessoas _____ que guardar mágoas _____ bem, tentariam evitar o apego _____ sentimentos ruins.

As lacunas do enunciado devem ser preenchidas, respectivamente, considerando a norma-padrão da língua portuguesa, por:

- (A) souberem ... não faz-lhes ... a esses
- (B) souberam ... não lhes faz ... com esses
- (C) sabem ... não faz-lhes ... nesses
- (D) soubessem ... não lhes faz ... por esses
- (E) saberiam ... não faz-lhes ... desses

16. Para um torneio esportivo se inscreveram 60 alunos de uma escola. Desse total, $\frac{5}{12}$ são alunos que estudam no

período da tarde, e os demais estudam no período da manhã. Dos alunos inscritos do período da manhã, $\frac{1}{5}$ são

da turma A. O número de alunos da turma A inscritos nesse torneio é

- (A) 5.
- (B) 7.
- (C) 9.
- (D) 12.
- (E) 15.

17. Um rolo de barbante azul, com 22 m de comprimento, e um rolo de barbante verde, com 30 m de comprimento, foram totalmente cortados em pedaços iguais e de maior comprimento possível. O número de pedaços obtidos com a divisão de todo o barbante verde foi

- (A) 15.
- (B) 14.
- (C) 13.
- (D) 12.
- (E) 11.

18. Em uma reunião foram servidos copos de água e copinhos de café. Para cada 3 copos de água consumidos, eram consumidos 7 copinhos de café. Se nessa reunião foram consumidos 42 copinhos de café, o número de copos de água consumidos foi

- (A) 10.
- (B) 12.
- (C) 14.
- (D) 16.
- (E) 18.

19. Em uma escola trabalham 80 professores, sendo 70% deles somente no período da manhã e os demais somente no período da tarde. Determinado dia faltaram 4 professores do período da manhã e 25% dos professores do período da tarde. O número total de professores que faltaram nesse dia foi

- (A) 6.
- (B) 8.
- (C) 10.
- (D) 12.
- (E) 14.

20. Uma impressora leva 40 segundos para imprimir 6 folhas iguais. O tempo necessário para essa impressora imprimir 120 folhas iguais a essas é
- (A) 12 minutos e 30 segundos.
 - (B) 12 minutos e 45 segundos.
 - (C) 13 minutos e 05 segundos.
 - (D) 13 minutos e 20 segundos.
 - (E) 13 minutos e 35 segundos.

21. A tabela apresenta a massa corporal de 5 jogadores de um time de basquete.

Jogador	Massa corporal (em quilogramas)
Antônio	60,2
Bruno	62,3
Carlos	58,7
Daniel	58,4
Eduardo	62,8

A média das massas corporais desses 5 jogadores é igual a

- (A) 60 quilos e 480 gramas.
 - (B) 60 quilos e 670 gramas.
 - (C) 60 quilos e 890 gramas.
 - (D) 61 quilos e 250 gramas.
 - (E) 61 quilos e 420 gramas.
22. Carol colocou R\$ 1.500,00 em uma aplicação, a juros simples, com taxa de 3% ao mês. Após 5 meses, ela fechou a aplicação e retirou todo o dinheiro. O valor retirado por Carol foi
- (A) R\$ 1.675,00.
 - (B) R\$ 1.700,00.
 - (C) R\$ 1.725,00.
 - (D) R\$ 1.750,00.
 - (E) R\$ 1.775,00.

23. Clara comprou um pacote de biscoitos e comeu $\frac{1}{5}$ deles.

Deu 6 biscoitos para sua irmã e ainda restou metade dos biscoitos do pacote. O número total de biscoitos do pacote comprado por Clara era

- (A) 16.
- (B) 20.
- (C) 24.
- (D) 28.
- (E) 32.

24. Lucas foi a uma loja e comprou 3 pares iguais de meias, uma camiseta e um pijama. O pijama custou R\$ 60,00 e o valor da camiseta foi igual ao valor dos 3 pares de meias juntos. Sabendo que o valor total da compra foi R\$ 150,00, o valor de um par de meias foi
- (A) R\$ 30,00.
(B) R\$ 25,00.
(C) R\$ 20,00.
(D) R\$ 15,00.
(E) R\$ 10,00.

25. A largura de uma sala retangular é 5 m, conforme mostra a figura.

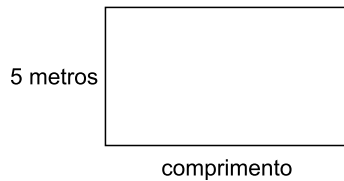


Figura fora de escala

Sabendo que a área dessa sala é 48 m^2 , a diferença entre a medida do comprimento e a medida da largura é igual a

- (A) 7,0 m.
(B) 6,4 m.
(C) 5,8 m.
(D) 5,2 m.
(E) 4,6 m.
26. Uma sala retangular tem 36 m de perímetro e o seu comprimento é o triplo de sua largura, conforme mostra a figura.

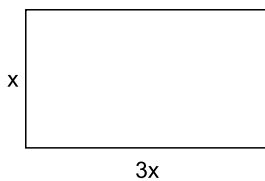


Figura fora de escala

A medida do maior lado dessa sala é igual a

- (A) 9,0 m.
(B) 10,5 m.
(C) 12,0 m.
(D) 13,5 m.
(E) 15,0 m.

27. Um recipiente tem a forma de um prisma reto de base retangular, cujas medidas internas estão indicadas na figura.

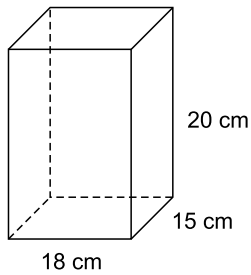


Figura fora de escala

Lembrando que $1 \text{ cm}^3 = 1 \text{ mL}$, a capacidade total desse recipiente, em litros, é igual a

- (A) 4,8.
 (B) 5,1.
 (C) 5,4.
 (D) 5,7.
 (E) 6,0.
28. Para enfeitar uma sala de aula, os alunos confeccionaram bandeirinhas, usando somente papéis nas cores azul e laranja. Essas bandeirinhas foram coladas em um fio de barbante, obedecendo sempre à seguinte ordem: 5 bandeirinhas azuis (A), seguidas de duas bandeirinhas laranja (L), conforme mostra a figura.

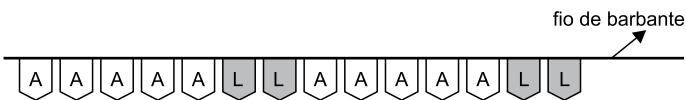
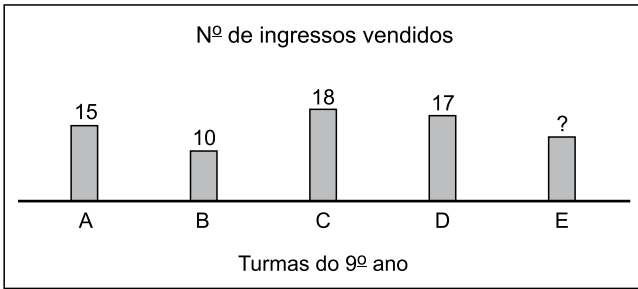


Figura fora de escala

Sabendo que nesse fio de barbante foram coladas 56 bandeirinhas, o número de bandeirinhas de cor laranja foi

- (A) 16.
 (B) 14.
 (C) 12.
 (D) 10.
 (E) 8.

29. Os alunos do 9º ano de um colégio promoveram um jogo beneficente, e venderam cada ingresso para o jogo por R\$ 4,00. O gráfico mostra o número de ingressos vendidos por essas turmas.



O valor total arrecadado com a venda desses ingressos por essas turmas foi R\$ 292,00. O número de ingressos vendidos pela turma E foi

- (A) 12.
 (B) 13.
 (C) 14.
 (D) 15.
 (E) 16.
30. A figura mostra o contorno de um sítio, e as medidas de alguns de seus lados.

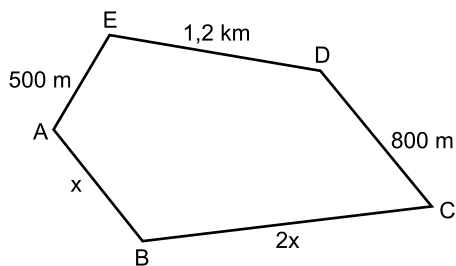


Figura fora de escala

Se a soma das medidas dos lados desse contorno é 4,75 km, a medida do lado \overline{BC} é igual a

- (A) 1,30 km.
 (B) 1,35 km.
 (C) 1,40 km.
 (D) 1,45 km.
 (E) 1,50 km.

ATUALIDADES

31. Segundo a Fundação Oswaldo Cruz (FIOCRUZ), “a Organização Mundial de Saúde (OMS) passou a chamar oficialmente a doença causada pelo novo coronavírus de Covid-19”, usando partes do nome oficial da doença, *COrona VÍrus Disease*, e o ano (2019) em que foram registrados os primeiros casos da enfermidade em Wuhan, na China.

(portal.fiocruz. Disponível em: <https://bit.ly/398QEv7>. Acesso em 18.07.2020. Adaptado)

A denominação é importante para

- (A) a catalogação das doenças causadas pelo vírus corona.
- (B) o registro histórico da descoberta do vírus no mundo.
- (C) evitar casos de xenofobia e preconceito.
- (D) unificar o combate ao vírus em todo o mundo.
- (E) impedir que a doença fique associada a um só continente.

32. Em janeiro de 2020, os jornais procuravam repercutir as causas do incêndio que destruiu mais de 100 mil quilômetros quadrados de vegetação; causou a morte, até meados daquele mês, de 27 pessoas, um bilhão de animais, destruiu duas mil casas e obrigou milhares de cidadãos a deixarem suas cidades. Melbourne, Sydney e Camberra foram cobertas por espessas nuvens de fuligem. Essa catástrofe aconteceu

(Super Interessante. Disponível em: <https://bit.ly/2OE8OeE>. Acesso em 18.07.2020. Adaptado)

- (A) na Nova Zelândia.
- (B) na África do Sul.
- (C) em Marrocos.
- (D) na Austrália.
- (E) em Moçambique.

33. No dia 07 de fevereiro de 2020, o estado de Minas Gerais contabilizava 31 casos de intoxicação por dietilenoglicol. Até aquela data, 22 pessoas de Belo Horizonte e outras 9 de cidades menores apresentavam os mesmos sintomas dos seis óbitos até então registrados. A contaminação foi causada a consumidores de

(notícias r7. Disponível em: [encurtador.com.br/ffp27](https://www.encyclopedia.com.br/ffp27). Acesso em 18.07.2020. Adaptado)

- (A) água mineral.
- (B) cerveja.
- (C) refrigerante.
- (D) uísque.
- (E) conhaque.

34. No dia 06 de fevereiro deste ano (2020), a Secretaria de Estado de Educação de Rondônia enviou um ofício aos coordenadores das escolas estaduais com o seguinte teor: “Solicitamos aos servidores que verifiquem nos kits de livros paradidáticos encaminhados às escolas para compor o acervo das bibliotecas, os livros relacionados no Adendo ID (10053329), e procedam com o recolhimento dos mesmos imediatamente, tendo em vista conterem conteúdo inadequado às crianças e adolescentes”. No fim do dia a solicitação foi anulada.

(Exame. Disponível em: <https://bit.ly/39Ilv6N>. Acesso em 18.07.2020. Adaptado)

Os livros da relação encaminhada

- (A) tratam da colonização de Roraima com o extermínio de índios.
- (B) são títulos traduzidos, com conteúdo LGBT.
- (C) são clássicos da literatura brasileira e mundial.
- (D) discutem a diversidade de gênero.
- (E) são escritos para difundir uma seita religiosa.

35. Na premiação de 2020, ocorrida no início de fevereiro, a Academia de Artes e Ciências Cinematográficas de Hollywood, pela primeira vez em sua história, deu a um longa-metragem a estatueta de melhor filme estrangeiro e a estatueta de melhor filme.

(uol. Disponível em: <https://bit.ly/398RNTTr>. Acesso em 18.07.2020. Adaptado)

O título do longa-metragem que recebeu as duas honrarias é

- (A) “1917”.
- (B) “Parasita”.
- (C) “Ford Vs Ferrari”.
- (D) “Coringa”.
- (E) “Jojo Rabbit”.

36. “Neste domingo (17.05.2020) o parlamento realizou a cerimônia de posse do governo de unidade liderado pelo primeiro-ministro Benjamin Netanyahu e seu ex-rival Benny Gantz, encerrando a maior crise política da história recente do país.”

(g1. Disponível em: <https://glo.bo/2WAIKu7>. Acesso em 18.07.2020. Adaptado)

Os dois políticos citados são

- (A) afegãos.
- (B) paquistaneses.
- (C) libaneses.
- (D) marroquinos.
- (E) israelenses.

37. Os Jogos Olímpicos da era moderna foram adiados pela primeira vez na história, nesta terça-feira (24.03.2020), devido à pandemia de coronavírus que paralisou campeonatos esportivos no mundo todo. O Comitê Olímpico Internacional oficializou a suspensão da Olimpíada e da Paralimpíada minutos depois de o primeiro-ministro dizer que a Olimpíada ocorrerá em 2021.

(Veja. Disponível em: <https://bit.ly/32v2phl>. Acesso em 18.07.2020. Adaptado)

A próxima competição olímpica ocorrerá

- (A) no Japão.
- (B) na Rússia.
- (C) nos Estados Unidos.
- (D) na França.
- (E) na China.

38. O presidente do Supremo Tribunal Federal (STF), ministro Dias Toffoli, suspendeu nesta quarta-feira (15.01.2020), por 180 dias, a aplicação da função de juiz de garantias aprovada pelo Congresso Nacional na esteira do pacote anticrime.

(g1. Disponível em: <https://glo.bo/30sVVtx>. Acesso em 18.07.2020. Adaptado)

O juiz de garantias foi criado para

- (A) fazer o controle da legalidade da investigação criminal e salvaguardar os direitos individuais.
- (B) defender o réu e rever a condenação que lhe foi determinada pelo juiz de primeira instância.
- (C) verificar se a documentação apresentada pelas partes obedece ao que está previsto no Código de Processo Penal.
- (D) realizar um julgamento paralelo à primeira instância para confrontar a sentença original com a emanada pelo juiz de garantias.
- (E) reduzir a burocracia dos julgamentos e acelerar as decisões a respeito do julgamento.

39. “O Ceará chegou nesta quinta-feira (27.02.2020) ao 10º dia seguido de paralisação de parte da Polícia Militar com três batalhões e uma base policial ainda fechados. Para tentar solucionar o motim, o presidente da Ordem dos Advogados do Brasil no Ceará (OAB-CE), Erinaldo Dantas, solicitou ao representante dos policiais amotinados uma lista de reivindicações para que seja apresentada ao governo do Ceará”.

(g1. Disponível em: <https://glo.bo/39cDjBK>. Acesso em 18.07.2020. Adaptado)

Os policiais militares cearenses reivindicavam

- (A) o recolhimento das tropas do Exército que atuavam nas ruas de Fortaleza.
- (B) melhores condições de trabalho com armas mais modernas e coletes à prova de bala.
- (C) fim da operação de Garantia da Lei e da Ordem no Estado, determinada por Sérgio Moro.
- (D) aumento salarial acima do proposto pelo governador Camilo Santana.
- (E) fechamento de presídios federais construídos para receber presos ligados ao PCC e ao CV.

40. O fim do acordo de uma empresa fabricante de aviões para comprar a unidade de jatos comerciais da Embraer por US\$ 4,2 bilhões de dólares promete ser uma longa novela judicial. Anunciada no final de abril deste ano (2020), segundo analistas, a desistência se deu porque a pandemia de covid-19 gerou uma grande crise no setor aéreo e tornou o negócio inviável.

(epocanegocios. Disponível em: <https://glo.bo/39bKpqm>. Acesso em 18.07.2020. Adaptado)

O nome da empresa envolvida no negócio com a Embraer é

- (A) Bombardier.
- (B) Tupolev.
- (C) Airbus.
- (D) Lockheed.
- (E) Boeing.

CONHECIMENTOS ESPECÍFICOS

41. De acordo com o artigo 37 da Constituição Federal de 1988, a administração pública deve obedecer a cinco princípios. Sendo eles,

- (A) moralidade, celeridade, burocratização, eficácia e lucro.
- (B) eficiência, lucro, competitividade, perenidade e investimento.
- (C) publicidade, transparência, investimento, eficácia e ética.
- (D) legalidade, impessoalidade, moralidade, publicidade e eficiência.
- (E) investimento, resultado, positividade, autoridade e legalidade.

42. A Constituição Federal de 1988 é a primeira a estabelecer a educação como um direito social. Conforme o artigo 205, a educação, direito de todos e dever do Estado e da família, será promovida e incentivada com a colaboração da sociedade, visando ao pleno desenvolvimento da pessoa, seu preparo para o exercício da cidadania e

- (A) a divulgação da arte e do saber.
- (B) o pluralismo de ideias.
- (C) sua qualificação para o trabalho.
- (D) o acesso ao ensino superior.
- (E) sua qualidade de vida.

43. No Brasil, ainda estamos avançando na concretização do direito à educação. Para isso, o artigo 208 da Constituição Federal de 1988 estabelece algumas garantias para a educação. Uma delas é

- (A) atendimento educacional especializado aos portadores de deficiência, preferencialmente na rede regular de ensino.
- (B) educação básica obrigatória dos 6 aos 18 anos de idade, assegurada a oferta gratuita a ela aos que não tiveram acesso na idade própria.
- (C) atendimento em creche e pré-escola às crianças de zero a seis anos de idade.
- (D) valorização dos profissionais do ensino, garantido, na forma da lei, plano de carreira para o magistério público.
- (E) atendimento ao educando, no ensino fundamental, através de programas suplementares de material didático-escolar.

44. O acesso aos anos iniciais está universalizado, de acordo com a Pesquisa Nacional por Amostra de Domicílios Contínua 2017, do IBGE. Nessa etapa, o atendimento escolar é de 99,2% da população com a faixa etária adequada: de 6 a 14 anos. Com 10,3 milhões de alunos, a rede municipal tem uma participação de 67,8% no total de matrículas dos anos iniciais e concentra 83,5% dos alunos da rede pública.

(Inep/Censo Escolar 2018)

De acordo com o artigo 208, § 1º da CF/88, o acesso ao ensino obrigatório e gratuito é

- (A) direito facultativo da família.
- (B) dever privativo do Estado.
- (C) direito privado do aluno.
- (D) dever público objetivo.
- (E) direito público subjetivo.

45. Raul foi aprovado em concurso público para o cargo de inspetor de alunos. O *caput* do artigo 41 da Constituição Federal de 1988 estabelece que, para adquirir estabilidade, Raul precisará de 3 anos de efetivo exercício no cargo. O mesmo artigo 41, em seu parágrafo 4º, define outra condição para a aquisição da referida estabilidade.

Considerando esse caso hipotético, assinale a alternativa que expressa a condição do artigo 41, parágrafo 4º.

- (A) Sentença judicial transitada em julgado ou processo administrativo que assegure a idoneidade do servidor.
- (B) Avaliação especial de desempenho por comissão instituída para essa finalidade.
- (C) Cumprimento de três anos de efetivo exercício no cargo, podendo considerar o tempo de trabalho em outros serviços públicos.
- (D) Aprovação em processo administrativo constituído de uma prova teórica e uma prova prática.
- (E) Avaliação pela associação de pais e mestres do desempenho do servidor na realização do seu trabalho.

46. A promulgação do Estatuto da Criança e do Adolescente (ECA – Lei nº 8.069/90) constitui um avanço na democracia e na concretização dos direitos da criança e do adolescente no Brasil. Para efeitos dessa Lei, de acordo com o artigo 2º, considera-se

- (A) criança a pessoa até doze anos de idade incompletos.
- (B) adolescente a pessoa entre treze e dezoito anos de idade.
- (C) criança a pessoa até doze anos de idade completos.
- (D) adolescente a pessoa entre doze e vinte e um anos de idade.
- (E) adolescente a pessoa entre onze e dezoito anos de idade incompletos.

47. A sociedade em geral, o poder público e a família têm o dever de assegurar, com absoluta prioridade, a efetivação dos direitos referentes à vida, à saúde, à alimentação, à educação, ao esporte, ao lazer, à profissionalização, à cultura, à dignidade, ao respeito, à liberdade e à convivência familiar e comunitária (ECA – Lei nº 8.069/90, art. 4º). Dentre outros aspectos, conforme o artigo 4º, a garantia de prioridade compreende

- (A) destinação exclusiva de recursos públicos para proteção à infância.
- (B) igualdade de condições para o acesso e permanência na escola.
- (C) garantia de padrão de qualidade de ensino.
- (D) vinculação entre a educação escolar, o trabalho e as práticas sociais.
- (E) primazia de receber proteção e socorro em quaisquer circunstâncias.

Considere o caso fictício narrado a seguir para responder às questões de números **48** e **49**.

Maria e Rafael são inspetores de alunos na mesma escola de ensino fundamental. Eles notaram que um aluno comparecia com frequência à escola com marcas de hematomas pelo corpo. Inicialmente, os inspetores imaginaram que a origem dos hematomas era o comportamento agressivo entre o aluno e seus colegas durante os intervalos das aulas. Posteriormente, ficaram sabendo que o aluno era disciplinado com castigos físicos em casa.

48. Segundo a definição do artigo 18-A do ECA (Lei nº 8.069/90), castigo físico é a ação de natureza disciplinar ou punitiva aplicada com o uso da força física sobre a criança ou o adolescente que resulte em

- (A) tratamento cruel ou degradante.
- (B) humilhação e hematomas.
- (C) pressão psicológica ou humilhação.
- (D) sofrimento físico ou lesão.
- (E) ameaças e ridicularização.

49. Conforme o artigo 56 do ECA (Lei nº 8.069/90), em caso de maus-tratos envolvendo seus alunos, os dirigentes de estabelecimentos de ensino fundamental comunicarão ao

- (A) secretário de educação do município.
- (B) conselho tutelar.
- (C) juiz da vara da infância e adolescência.
- (D) ministério público.
- (E) prefeito.

50. No desenvolvimento da atribuição de vigilância do comportamento dos alunos na escola, a inspetora Josefa percebeu que, no portão da instituição, pessoas estranhas à escola estavam oferecendo drogas aos alunos dos últimos anos do ensino fundamental. De acordo com o artigo 53 – A do ECA (Lei nº 8.069/90), é dever da instituição de ensino, dos clubes e das agremiações recreativas e dos estabelecimentos congêneres assegurar

- (A) a suspensão de alunos envolvidos com drogas ilícitas do estabelecimento de ensino por tempo indeterminado.
- (B) que as famílias dos alunos envolvidos com drogas ilícitas tomem as providências cabíveis, sob pena de expulsão.
- (C) medidas de conscientização, prevenção e enfrentamento ao uso ou dependência de drogas ilícitas.
- (D) que a guarda municipal verifique com frequência a existência de casos de alunos que ingressem na escola portando drogas ilícitas.
- (E) o direito à liberdade e às escolhas dos alunos, não permitindo que sofram reprimendas pelo porte de drogas ilícitas.

