



CÂMARA MUNICIPAL DE POTIM

ESTADO DE SÃO PAULO

CONCURSO PÚBLICO

003. PROVA OBJETIVA

DIRETOR GERAL

- ◆ Você recebeu sua folha de respostas e este caderno contendo 60 questões objetivas.
- ◆ Confira seus dados impressos na capa deste caderno e na folha de respostas.
- ◆ Quando for permitido abrir o caderno, verifique se está completo ou se apresenta imperfeições. Caso haja algum problema, informe ao fiscal da sala para a devida substituição desse caderno.
- ◆ Leia cuidadosamente todas as questões e escolha a resposta que você considera correta.
- ◆ Marque, na folha de respostas, com caneta de tinta preta, a letra correspondente à alternativa que você escolheu.
- ◆ A duração da prova é de 3 horas e 30 minutos, já incluído o tempo para o preenchimento da folha de respostas.
- ◆ Só será permitida a saída definitiva da sala e do prédio após transcorrida 1 hora do início da prova.
- ◆ Deverão permanecer em cada uma das salas de prova os 3 últimos candidatos, até que o último deles entregue sua prova, assinando termo respectivo.
- ◆ Ao sair, você entregará ao fiscal a folha de respostas e este caderno.
- ◆ Até que você saia do prédio, todas as proibições e orientações continuam válidas.

AGUARDE A ORDEM DO FISCAL PARA ABRIR ESTE CADERNO.

Nome do candidato

RG

Inscrição

Prédio

Sala

Carteira

CONHECIMENTOS GERAIS

LÍNGUA PORTUGUESA

Leia o texto, para responder às questões de números **01** a **04**.

Não existe cooperação sem liderança. Um líder pode ser a diferença para o sucesso de empreendimentos coletivos, nos quais o líder empreendedor deve ser capaz de desenvolver os talentos e as competências do grupo na busca dos objetivos comuns que se pretende alcançar. Ele desperta no grupo ou na comunidade o ideal coletivo e mobiliza-os para, juntos, concretizá-lo, ajudando as pessoas a identificarem as próprias necessidades e a unirem forças em torno de objetivos comuns.

Os líderes atuam em territórios, em setores, em empresas e em comunidades onde existem grupos minimamente organizados. Procuram assumir sua função na gestão do coletivo, baseando-se nos princípios da cooperação e promovendo a integração das equipes para alcançar os propósitos do grupo.

Além disso, incentivam as pessoas a adotarem novas posturas na convergência de ideias, na convivência com opiniões divergentes e nos seus atos, buscando o atendimento das necessidades e metas. Com isso, os integrantes das organizações coletivas sabem que podem contestar e validar opiniões livremente, sem qualquer possibilidade de rejeição e retaliação.

Articulando as forças em torno dos objetivos do grupo, associando recursos e integrando competências, o líder assegura que se possa fazer mais e melhor com menos.

A nova postura tem como resultados sinérgicos a valorização do ser humano, o exercício pleno da cidadania e a consecução dos resultados pretendidos pelo grupo ou comunidade.

Cada perfil de liderança influencia de modos distintos o ambiente de trabalho, o comportamento dos profissionais e o desenvolvimento das atividades profissionais.

(Disponível em sebrae.com.br. Acesso em 19.06.2021. Adaptado)

01. Da leitura do texto, depreende-se, corretamente, que os líderes se caracterizam por

- (A) influenciar a equipe; difundir novas ideias e comportamentos; reforçar a liberdade absoluta.
- (B) direcionar ações coletivas; gerir o coletivo em função de objetivos individuais; contestar pontos de vista.
- (C) infundir confiança; estimular a confluência de ideias; integrar forças visando à eficiência de resultados.
- (D) apoiar o espírito de colaboração; incentivar a validação de opiniões divergentes; definir metas a serem atingidas.
- (E) conhecer as intenções do grupo; estimular a satisfação de necessidades pessoais; refutar posturas congruentes.

02. Um dos resultados da ação agregadora do líder no grupo é

- (A) proporcionar o incremento da produtividade com economia de recursos.
- (B) favorecer os grupos mais comprometidos com resultados imediatos e lucrativos.
- (C) garantir que a ação dos liderados seja direcionada para a ascensão na carreira.
- (D) reforçar o exercício da soberania, em situações que envolvam necessidades particulares.
- (E) reconhecer a competência dos liderados mais empenhados na busca de resultados.

03. O trecho destacado na passagem “Os líderes atuam em territórios, em setores, em empresas e em comunidades **onde existem** grupos minimamente organizados” pode ser substituído, de acordo com a norma-padrão, por:

- (A) em que devem haver
- (B) os quais deve haver
- (C) que devem existir
- (D) nos quais deve haver
- (E) em que deve existir

04. As expressões destacadas na passagem “Ele desperta no grupo ou na comunidade o ideal coletivo e **mobiliza-os** para, juntos, **concretizá-lo, ajudando as pessoas a identificarem as próprias necessidades** e a unirem forças em torno de objetivos comuns” podem ser substituídas, de acordo com a norma-padrão de regência e emprego do sinal indicativo de crase, por:

- (A) leva-os a agir ... levá-lo à cabo ... permitindo às pessoas chegarem a identificação das próprias necessidades...
- (B) leva-os a agir ... levá-lo a cabo ... permitindo às pessoas chegarem à identificação das próprias necessidades...
- (C) leva-os à agir ... levá-lo a cabo ... permitindo as pessoas chegarem à identificação das próprias necessidades...
- (D) leva-os à agir ... levá-lo à cabo ... permitindo às pessoas chegarem à identificação das próprias necessidades...
- (E) leva-os a agir ... levá-lo a cabo ... permitindo as pessoas chegarem à identificação das próprias necessidades...

05. Leia a tira.



(André Dahmer. Disponível em Sobreotatame.com. Acesso em 20.06.2021)

É correto afirmar que o efeito de sentido da tira consiste em um comentário crítico que

- (A) reverte o conceito de pessimismo, sugerindo, implicitamente, que pessimistas não podem ser otimistas.
- (B) contrapõe perspectivas acerca do que é ser otimista, deixando explícito que otimistas precisam informar-se sobre a realidade.
- (C) redimensiona a noção de otimismo, deixando implícito que coisas piores ainda podem acontecer.
- (D) põe em xeque a ideia de otimismo, ao associá-la, explicitamente, a acontecimentos futuros e incertos.
- (E) sugere que otimistas ignoram a realidade, deixando implícito que não são capazes de aprender.

Leia o texto, para responder às questões de números 06 a 10.

Quem se espanta com o espetáculo de horror diversificado que o mundo de hoje oferece faria bem se tivesse o dicionário como livro de leitura diurna e noturna. Pois ali está, na letra M, a chave do temperamento homicida, que convive no homem com suas tendências angélicas, e convive em perfeita harmonia de namorados.

O consulente verá que matar é verbo **copiosamente** conjugado por ele próprio, não importa que cultive a **mansuetude**, a **filantropia**, o sentimentalismo; que redija projetos de paz universal, à maneira de Kant, e considere abominações o assassinio e o genocídio. Vive matando.

A ideia de matar é de tal modo inerente ao homem que, à falta de atentados sanguinolentos a cometer, ele mata calmamente o tempo. Sua linguagem o trai. Por que não diz, nas horas de ócio e recreação ingênua, que está vivendo o tempo? Prefere matá-lo.

Todos os dias, mais de uma vez, matamos a fome, em vez de satisfazê-la. O estudante que falta à classe confessa que matou a aula, o que implica matança do professor, da matéria e, conseqüentemente, de parte do seu acervo individual de conhecimento, morta antes de chegar a destino. No jogo mais intelectual que se conhece, pretende-se não apenas vencer o competidor, mas liquidá-lo pela aplicação de xeque-mate. Não admira que, nas discussões, o argumento mais poderoso se torne arma de fogo de grande eficácia letal: mata na cabeça.

Beber um gole no botequim, ato de aparência gratuita, confortador e pacificante, envolve sinistra conotação. É o mata-bicho, indiscriminado. Matar charadas constitui motivo de orgulho intelectual para o matador.

Se a linguagem espelha o homem, e se o homem adorna a linguagem com tais subpensamentos de matar, não admira que os atos de banditismo, a explosão intencional de aviões, o fuzilamento de reféns, o bombardeio aéreo de alvos residenciais, os pogroms, o napalm, as bombas A e H, a variada tragédia dos dias modernos se revele como afirmação cotidiana do lado perverso do ser humano.

Admira é que existam a pesquisa de antibióticos, Cruz Vermelha Internacional, Mozart, o amor.

(Carlos Drummond de Andrade, O verbo matar. Poesia e Prosa. Adaptado.)

06. É correto deduzir, de acordo com a abordagem do cronista, que

- (A) é graças à possibilidade de atribuir sentido às palavras da língua que o homem consegue ter domínio do mundo em que vive.
- (B) a força das palavras se revela quando se percebe que seus sentidos advêm das conotações a elas atribuídas.
- (C) as palavras têm poder e, com elas, o homem pode exercitar a capacidade de nomeação das coisas que o cercam.
- (D) é da natureza do homem a ideia de matar, razão pela qual ele tende a produzir e alimentar conflitos e violência.
- (E) a linguagem expressa sentimentos íntimos do homem, o que leva a explicar o quadro de violência que cerca o mundo.

07. Em relação ao conjunto do texto, a afirmação contida no último parágrafo representa

- (A) um contraponto, com a apresentação de elementos em que se destacam aspectos incompatíveis com a ideia de matar.
- (B) um contrassenso, com a apresentação de elementos de diferentes naturezas, sem um aspecto comum que os aproxime.
- (C) uma conclusão lógica, indissociável do contexto anterior, por reforçar os pressupostos nele afirmados.
- (D) um questionamento pertinente, por lançar ideias novas acerca das potencialidades da linguagem.
- (E) uma abordagem filosófica do tema, com a explicitação de um juízo moral acerca da ideia de morte.

08. As expressões **copiosamente**, **mansuetude** e **filantropia**, destacadas no segundo parágrafo, têm antônimos, correta e respectivamente, em:

- (A) restritamente ... insolência ... altruísmo
- (B) limitadamente ... violência ... misantropia
- (C) prolixamente ... decrepitude ... solidão
- (D) estritamente ... inclemência ... compartilhamento
- (E) chorosamente ... brandura ... isolamento

09. Considere os trechos destacados nas seguintes passagens:

- (I) **A ideia de matar é de tal modo inerente ao homem que, à falta de atentados sanguinolentos a cometer, ele mata calmamente o tempo.**
- (II) No jogo mais intelectual que se conhece, **pretende-se não apenas vencer o competidor, mas liquidá-lo pela aplicação de xeque-mate.**

Assinale a alternativa que identifica corretamente a relação de sentido que há entre os trechos destacados.

- (A) (I) modo; (II) adição.
- (B) (I) condição; (II) concessão.
- (C) (I) conclusão; (II) contraste.
- (D) (I) consequência; (II) adição.
- (E) (I) modo; (II) alternância.

10. Assinale a alternativa que reescreve passagem do texto de acordo com a norma-padrão de concordância, emprego de pronomes, pontuação e regência.

- (A) A maioria, dos que se espanta com o espetáculo de horror diversificado oferecido pelo mundo de hoje, faria bem se dispusesse do dicionário e utilizasse ele como livro de leitura, diurna e noturna.
- (B) O estudante faltoso, confessa que matou a aula, o que implica na matança do professor e, além desse, dos conteúdos da aula ministrados por aquele.
- (C) Conhece-se jogos intelectuais aos quais se pretende, não apenas, sobrepor-se o competidor; mas exterminar-lhe aplicando o xeque-mate.
- (D) Não é de espantar de que argumentos poderosos nas discussões, torne-se arma de fogo, de grande eficácia letal, matando na cabeça.
- (E) Sua linguagem lhe prega peças. Pergunta-se por que não diz que está vivendo o tempo, nas horas de ócio e recreação ingênua. Prefere matá-lo a vivê-lo.

11. A prefeitura está organizando uma excursão para 984 pessoas. Essas pessoas serão transportadas em ônibus que permitem, no máximo, 35 pessoas sentadas. Esses ônibus partirão ao mesmo tempo. Se todas as pessoas viajarem sentadas, o número mínimo de ônibus a ser contratado é igual a

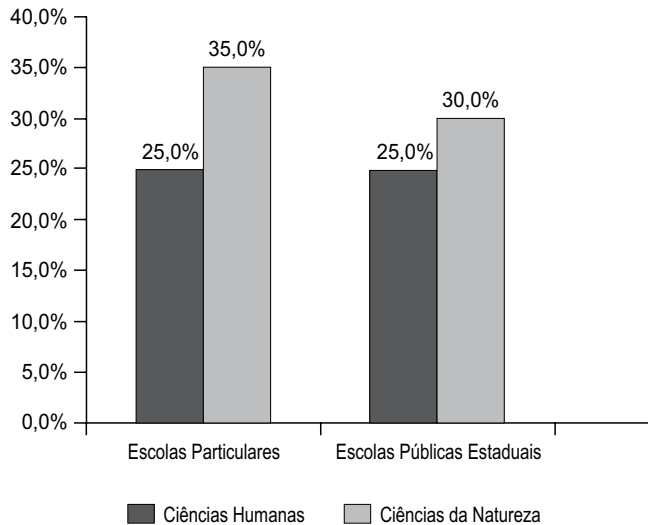
- (A) 28.
- (B) 29.
- (C) 30.
- (D) 31.
- (E) 32.

12. Uma empresa tem 90 funcionários, sendo 40% de mulheres. Essa empresa será ampliada e contratará mais mulheres, de modo que elas passem a constituir 60% do novo total de funcionários. Nesse período de contratação, ninguém da empresa pedirá demissão ou será demitido. Se nenhum homem for contratado, o novo total de funcionários passará a ser

- (A) 108.
- (B) 120.
- (C) 128.
- (D) 135.
- (E) 144.

R A S C U N H O

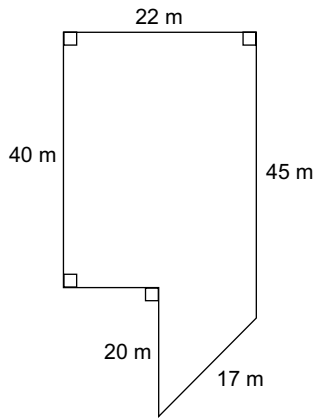
13. Os alunos do Ensino Médio das Escolas Particulares e das Escolas Públicas Estaduais de uma cidade precisaram optar por uma única área de estudo para completar sua formação geral. As informações apresentadas no gráfico a seguir referem-se apenas às porcentagens das áreas das Ciências Humanas e das Ciências da Natureza.



Com base apenas nas informações apresentadas, assinale a alternativa que apresenta uma afirmação necessariamente verdadeira.

- (A) O número de estudantes das Escolas Particulares que escolheu Ciências Humanas é igual ao número de estudantes das Escolas Públicas Estaduais que optou por Ciências Humanas.
- (B) O número de estudantes das Escolas Públicas Estaduais que optou por Ciências da Natureza é maior que o número de estudantes das Escolas Particulares que escolheu Ciências da Natureza.
- (C) O número de estudantes das Escolas Particulares que escolheu Ciências da Natureza é 10% maior que o número de estudantes das Escolas Públicas Estaduais que optou por Ciências Humanas.
- (D) Nas Escolas Públicas Estaduais, o número de estudantes que optou por Ciências da Natureza é $\frac{6}{5}$ do número de estudantes que escolheu Ciências Humanas.
- (E) Nas Escolas Particulares, o número de estudantes que optou por Ciências da Natureza é $\frac{2}{5}$ do número de estudantes que escolheu Ciências Humanas.

14. A figura a seguir, que não está em escala, representa um terreno.



A área e o perímetro desse terreno são, respectivamente, iguais a

- (A) 1295 m^2 e 163 m .
 (B) 1080 m^2 e 163 m .
 (C) 1025 m^2 e 163 m .
 (D) 995 m^2 e 158 m .
 (E) 980 m^2 e 158 m .
15. Paulo é vendedor e, no mês passado, recebeu R\$ 3.240,00 de comissão pela venda de algumas unidades de um produto. Sabe-se que a taxa da comissão é de 12%. Se o preço de cada unidade desse produto é de R\$ 250,00, o número de unidades vendidas no mês foi
- (A) 186.
 (B) 175.
 (C) 125.
 (D) 120.
 (E) 108.
16. As cinco afirmações a seguir apresentam conversão de unidades de medida das grandezas tempo, comprimento, superfície, capacidade e massa.

I. $6,2 \text{ h} = 6 \text{ h } 12 \text{ min}$.

II. $4085 \text{ cm} = 0,4085 \text{ km}$.

III. $17,85 \text{ m}^2 = 1785 \text{ cm}^2$.

IV. $2,6 \text{ m}^3 = 2600 \text{ L}$.

V. $0,008 \text{ kg} = 80 \text{ g}$.

As duas únicas afirmações corretas são

- (A) I e II.
 (B) I e III.
 (C) I e IV.
 (D) III e IV.
 (E) IV e V.

17. O Índice de Desenvolvimento Humano (IDH) é um número que tem por finalidade indicar o grau de desenvolvimento humano de um país. Esse número, que varia entre 0 e 1, é obtido por meio de três critérios: renda, educação e saúde. Quanto mais próximo de 1, melhores são as condições do país, e, quanto mais próximo de 0, piores são as condições, segundo esses critérios. Em 2019, o país com o maior índice foi a Noruega, com IDH de 0,957. O Brasil ficou na 84ª posição e obteve IDH 0,761. O Chile, com o IDH de 0,851, ficou em 43ª posição e foi país sul-americano em melhor posição. O país com o menor IDH foi Niger: 0,394.

Com base apenas nas informações apresentadas, é correto afirmar que

- (A) o IDH do Brasil é aproximadamente 20% menor que o da Noruega.
- (B) o IDH do Chile é 9% maior que o do Brasil.
- (C) a pior escola do mundo fica no Niger.
- (D) a melhor escola da América do Sul fica no Chile.
- (E) o país classificado na 10ª posição tem, necessariamente, melhor educação que o país classificado na 15ª posição.

18. Em uma cidade, apenas $\frac{3}{5}$ do número de habitantes dispõe de redes de esgotos. Do restante dessa população, $\frac{3}{16}$ também não têm água encanada, o que corresponde a 8400 pessoas. O número de habitantes dessa cidade é

- (A) 125 000.
- (B) 120 000.
- (C) 112 000.
- (D) 96 000.
- (E) 84 000.

19. A lista de números a seguir apresenta, em unidades reais, os salários dos funcionários de uma das seções de uma empresa.

2.500; 2.500; 2.500; 3.000; 3.000; 3.000; 3.600; 3.600; 7.200

Serão contratados mais dois funcionários que terão o mesmo salário. Com essa contratação, a média salarial passará a ser R\$ 3.200,00. Assim, o salário de cada um desses novos contratados será

- (A) R\$ 1.875,00.
- (B) R\$ 2.150,00.
- (C) R\$ 2.500,00.
- (D) R\$ 3.090,00.
- (E) R\$ 3.120,00.

20. Considere a equação do 2º grau:

$$2x^2 - 3x - 2 = 0$$

Se x_1 e x_2 são as raízes dessa equação e $x_1 > x_2$, então é verdadeiro que $\frac{x_1}{x_2}$ é igual a

- (A) -4
- (B) -3
- (C) $\frac{3}{2}$
- (D) $\frac{2}{3}$
- (E) $\frac{3}{4}$

R A S C U N H O

LEGISLAÇÃO

21. De acordo com a Constituição Federal de 1988, assinale a alternativa correta acerca dos municípios.

- (A) O julgamento do Prefeito ocorre perante a Justiça de primeira instância.
- (B) A iniciativa popular de projetos de lei de interesse específico do Município, da cidade ou de bairros, se dá através de manifestação de, pelo menos, cinco por cento do eleitorado.
- (C) Os Vereadores possuem inviolabilidade por suas opiniões, palavras e votos no exercício do mandato e na circunscrição do Estado.
- (D) A eleição do Prefeito e do Vice-Prefeito deve ser realizada no primeiro domingo de outubro do ano anterior ao término do mandato dos que devam suceder, devendo ser realizado o segundo turno, caso não obtida a maioria absoluta no primeiro, no caso de Municípios com mais de cem mil eleitores;
- (E) O Município reger-se-á por lei orgânica, votada em dois turnos, com o interstício mínimo de vinte dias, e aprovada por dois terços dos membros da Câmara Municipal.

22. José é servidor público municipal, titular de cargo efetivo estatutário e foi eleito para o cargo de Vereador.

Pode-se, corretamente, afirmar que José

- (A) havendo compatibilidade de horários, perceberá as vantagens de seu cargo, sem prejuízo da remuneração do cargo eletivo.
- (B) mesmo havendo compatibilidade de horários, será afastado de seu cargo e receberá a remuneração do cargo de Vereador ou a do seu cargo estatutário, devendo ser paga a remuneração de menor valor.
- (C) não havendo compatibilidade de horários, será afastado do cargo, sendo-lhe vedado optar pela sua remuneração.
- (D) terá seu tempo de serviço no cargo contado para todos os efeitos legais, inclusive para promoção por merecimento.
- (E) será exonerado do cargo efetivo, podendo ser reintegrado após o término do mandato eletivo.

23. O Presidente da República editou uma medida provisória dispondo que aqueles que forem investigados em inquérito policial não poderão se lançar como candidatos a Vereador nas próximas eleições.

Pode-se, corretamente, afirmar que

- (A) a medida provisória perderá vigência, desde a sua edição, se não for convertida em lei no prazo de 60 dias, improrrogáveis.
- (B) Trata-se de assunto que não poderia ser disciplinado por medida provisória, razão pela qual esta deve ser rejeitada pelo Congresso Nacional.
- (C) se a medida provisória não for apreciada em até quarenta e cinco dias contados de sua publicação, entrará em regime de urgência em cada uma das Casas do Congresso Nacional, ficando sobrestadas, até que se ultime a votação, todas as demais deliberações legislativas das duas Casas do Congresso Nacional.
- (D) Se rejeitada, a medida provisória poderá ser reeditada, desde que na mesma sessão legislativa.
- (E) Se rejeitada, as relações jurídicas constituídas e decorrentes de atos praticados durante a vigência da medida provisória conservar-se-ão por ela regidas, salvo edição de resolução do Congresso Nacional em sentido contrário.

24. O Deputado Federal X, durante um discurso no Plenário da Câmara dos Deputados, disse que um dos seus pares, o Deputado Y era um “bandido e ladrão”, pois, supostamente, teria desviado verbas de emendas parlamentares para fins particulares. Após esse discurso, na rua, o Deputado Y, mediante ameaça, levou o Deputado X para sua casa e o torturou por mais de uma semana. Após denúncia, a Polícia prendeu o Deputado Y em flagrante, por crime de tortura, inafiançável. Também foi aberto um inquérito policial para apurar os fatos.

Acerca do caso narrado, considerando apenas as normas expressas constantes da Constituição Federal, assinale a alternativa correta:


- (A) O Deputado Y não poderia ter sido preso sem prévia autorização da Câmara dos Deputados, tendo em vista a imunidade formal conferida pela Constituição Federal.
- (B) O Deputado Y será julgado perante o Superior Tribunal de Justiça.
- (C) A Câmara dos Deputados, pelo voto da maioria de seus membros, poderá decidir por soltar o Deputado Y ou por mantê-lo preso.
- (D) Após o recebimento da denúncia contra o Deputado Y, o Supremo Tribunal Federal dará ciência à Casa respectiva, que, por iniciativa de partido político nela representado e pelo voto da maioria de seus membros, poderá, até a decisão final, sustar o andamento da ação, sem suspensão da prescrição.
- (E) O Deputado X poderá ser processado por crime de calúnia, tendo em vista que a imunidade parlamentar não é uma salvaguarda para o cometimento de crimes contra a honra alheia por parlamentares.

- 25.** O Tribunal de Contas da União verificou a ocorrência de ilegalidade em um contrato firmado pela União, constando pela necessidade de sua sustação. Considerando as regras expressas constantes da Constituição Federal, é correto afirmar que
- (A) deverá o Tribunal de Contas requerer autorização prévia do Congresso Nacional para sustar diretamente o contrato, comunicando posteriormente o Poder Executivo para que ratifique o ato.
 - (B) deverá o Tribunal de Contas sustar imediatamente o contrato, comunicando a decisão à Câmara dos Deputados e ao Senado Federal.
 - (C) se o Poder Executivo, no prazo de trinta dias, não adotar as providências destinadas à sustação do contrato, caberá ao Tribunal de Contas realizar a sustação direta do ato, não podendo o Congresso Nacional decidir a respeito.
 - (D) se o Congresso Nacional ou o Poder Executivo, no prazo de trinta dias, não efetivar as medidas destinadas à sustação do contrato, o Tribunal de Contas decidirá a respeito.
 - (E) o ato de sustação será adotado diretamente pelo Congresso Nacional, que solicitará, de imediato, ao Poder Executivo, as medidas cabíveis.
- 26.** Foi apresentado pelo Chefe do Poder Executivo Federal um projeto de lei orçamentária anual. No projeto, além da previsão de receitas e fixação de despesas, havia dispositivos legais que tratavam de aumento do valor de remuneração de servidores públicos, criação de cargos e empregos públicos, bem como autorização para abertura de créditos suplementares e contratações de operações de crédito por antecipação de receita.
- Pode-se, corretamente, afirmar que
- (A) a lei orçamentária pode conter disposições acerca de qualquer assunto, desde que dentro das competência do ente federativo.
 - (B) a lei orçamentária não pode conter nenhum dispositivo que trate de assunto diverso da previsão de receita e fixação de despesa, devendo todos os demais assuntos constantes do projeto de lei serem suprimidos, sob pena de inconstitucionalidade.
 - (C) a lei orçamentária anual não conterá dispositivo estranho à previsão da receita e à fixação da despesa, salvo autorização para abertura de créditos suplementares, desde que autorizado por lei complementar federal aprovada por maioria simples do Congresso Nacional.
 - (D) devem ser excluídos do projeto de lei orçamentária apenas os dispositivos que tratam do aumento do valor de remuneração de servidores públicos, criação de cargos e empregos públicos, podendo os demais assuntos serem mantidos.
 - (E) apenas deve ser excluída a previsão de contratações de operações de crédito por antecipação de receita, assunto vedado à lei orçamentária anual.
- 27.** Segundo dispõe a Constituição do Estado de São Paulo, a concessão de uso de bens imóveis de propriedade do Estado
- (A) para particulares, depende de autorização legislativa.
 - (B) para Municípios, depende de autorização legislativa.
 - (C) dispensa autorização legislativa, se o bem público for utilizado para atendimento de sua destinação específica e a área concedida inferior a 10 000 m².
 - (D) dispensa autorização legislativa, se autorizada por decreto do Governador do Estado, desde que a área concedida seja inferior a 10 000 m².
 - (E) depende de autorização legislativa, desde que a área concedida tenha extensão superior a 10 000 m².
- 28.** Suponha a seguinte situação hipotética: o Governador e o Vice-Governador faleceram juntos num acidente automobilístico, no último ano do período governamental. De acordo com as regras constantes da Constituição do Estado de São Paulo, pode-se corretamente afirmar que
- (A) deverá ser realizada nova eleição, para escolha de novo Governador e Vice-Governador para um mandato de 4 (quatro) anos.
 - (B) deverá ser realizada nova eleição, para escolha de novo Governador e Vice-Governador para completar o período de governo restante.
 - (C) serão sucessivamente chamados ao exercício da Governança o Presidente da Assembleia Legislativa e o Presidente do Tribunal de Justiça, para completar o período de governo restante.
 - (D) serão sucessivamente chamados ao exercício da Governança o Presidente da Assembleia Legislativa e o Presidente do Tribunal de Justiça, para um mandato de 4 (quatro) anos.
 - (E) será convocada eleição indireta, pela Assembleia Legislativa, para escolha de novo Governador e Vice-Governador, para completar o período de governo restante.

29. Um cidadão ofertou ao Município de Potim um terreno em doação, com a condição de que o Município construísse uma escola pública de educação infantil em até 12 meses, sob pena de reversão da propriedade do terreno ao doador, bem como pagamento de indenização mensal equivalente ao valor locatício do terreno pelo período em que o bem doado tivesse ficado à disposição da Municipalidade. Considerando as regras constantes da Lei Orgânica do Município, pode-se corretamente afirmar que
- (A) é necessária a autorização do Prefeito, mediante decreto, para o recebimento da doação, dispensada autorização legislativa.
- (B) necessária prévia autorização legislativa, por meio de lei complementar, bem como de prévia avaliação, para o recebimento da doação ofertada pelo cidadão, tendo em vista a existência de encargo.
- (C) a lei orgânica do Município de Potim não requer autorização legislativa para o recebimento de doações, tais como a descrita na situação hipotética.
- (D) necessária prévia autorização legislativa, por meio de lei ordinária, para o recebimento da doação ofertada pelo cidadão, tendo em vista a existência de encargo.
- (E) mediante a prévia edição, pela Câmara de Vereadores, de um decreto legislativo poderá o Prefeito ser autorizado a receber a doação, desde que assuma pessoalmente os ônus decorrentes do encargo.
30. Considerando o disposto na LC nº 79/2019, pode-se corretamente afirmar, acerca das faltas abonadas:
- (A) Será considerada abonada a falta pelo não comparecimento do servidor no dia correspondente ao dia do seu aniversário.
- (B) O servidor poderá abonar até 7 (sete) faltas ao ano, desde que não exceda a 1 (uma) falta ao mês, e não haja prejuízo à Administração.
- (C) É permitido o abono de faltas em emendas de feriado e pontos facultativos.
- (D) Se o aniversário do servidor coincidir com o dia de feriado, o benefício de abonar a falta pelo não comparecimento ao trabalho não é transferido para o primeiro dia subsequente ao de trabalho.
- (E) Os ocupantes de cargo em comissão fazem jus ao abono de faltas.

NOÇÕES DE INFORMÁTICA

31. No Microsoft Windows 10, em sua configuração original, um usuário pode utilizar a caixa de pesquisa do Explorador de Arquivos, destacada na imagem a seguir, para pesquisar por arquivos e pastas.



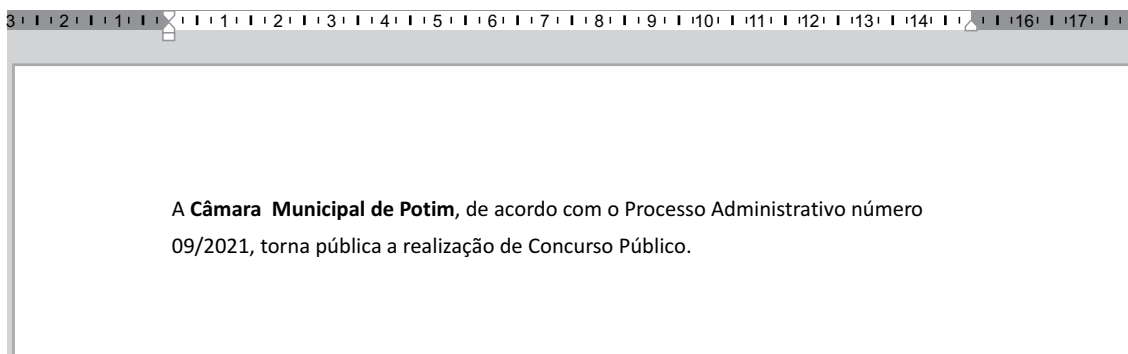
Assinale a alternativa que indica corretamente como fazer uma pesquisa por todos os arquivos e pastas que começam com a palavra controle.

- (A) controle>
- (B) controle*
- (C) [controle]?
- (D) *controle
- (E) start:controle
32. Em uma pasta do Microsoft Windows 10, em sua configuração padrão, um usuário pressionou as teclas CTRL+V e surgiu um arquivo chamado Atividades.txt. Isso significa que anteriormente esse arquivo foi selecionado _____, e o usuário pressionou as teclas _____.

Assinale a alternativa que preenche, correta e respectivamente, as lacunas do texto.

- (A) na mesma pasta ... CTRL+A
- (B) na mesma pasta ... CTRL+B
- (C) em outra pasta ... CTRL+A
- (D) na mesma pasta ... CTRL+C
- (E) em outra pasta ... CTRL+C

33. Tem-se o seguinte texto criado no Microsoft Word 2016, em sua configuração padrão, alinhado à esquerda.



Observe que houve uma quebra de linha automática logo após a palavra “número”. Assinale a alternativa que indica a ação que o usuário deve fazer para conseguir manter o texto “09/2021” ainda na primeira linha.

- (A) Reduzir o zoom da página.
- (B) Alinhar o texto como Justificado.
- (C) Reduzir o tamanho da fonte de letra.
- (D) Eliminar a formatação em negrito das palavras Câmara Municipal de Potim.
- (E) Ativar as marcas de parágrafo.

34. Criado no Microsoft Word 2016, em sua configuração padrão, tem-se o seguinte texto totalmente formatado como itálico.

Câmara Municipal de Potim

Assinale a alternativa que indica o resultado se usuário selecionar o texto por completo e executar as seguintes ações: clicar no ícone para formatar o texto como negrito, logo em seguida clicar no ícone para formatar o texto como sublinhado e, finalmente, clicar no ícone para formatar o texto como itálico.

- (A) ***Câmara Municipal de Potim***
- (B) **Câmara Municipal de Potim**
- (C) Câmara Municipal de Potim
- (D) *Câmara Municipal de Potim*
- (E) *Câmara Municipal de Potim*

35. Tem-se a seguinte planilha, criada no Microsoft Excel 2016, em sua configuração original.

	A	B
1	Pontuação	Resultado
2	9	
3	7	
4	10	

Assinale a alternativa com o resultado que irá ser apresentado, respectivamente, nas células B2 até B4, quando o usuário digitar as seguintes fórmulas nessas células.

Célula	Fórmula
B2	=SE(A2>0;"RUIM";SE(A2>7;"REGULAR";SE(A2>9;"ÓTIMO")))
B3	=SE(A3>0;"RUIM";SE(A3>7;"REGULAR";SE(A3>9;"ÓTIMO")))
B4	=SE(A4>0;"RUIM";SE(A4>7;"REGULAR";SE(A4>9;"ÓTIMO")))

- (A) RUIM, RUIM, RUIM
- (B) ÓTIMO, RUIM, REGULAR
- (C) REGULAR, RUIM, ÓTIMO
- (D) RUIM, RUIM, ÓTIMO
- (E) REGULAR, REGULAR, ÓTIMO

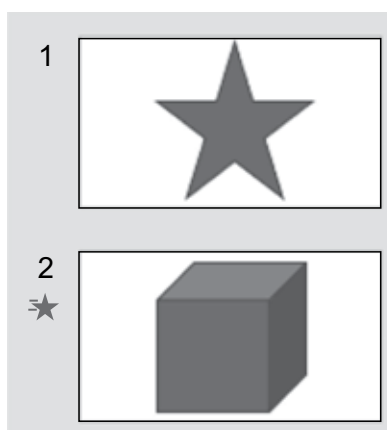
36. Tem-se a seguinte planilha, criada no Microsoft Excel 2016, em sua configuração original, sem nenhuma formatação aplicada.

	A	B	C
1	1,25	1,3	1
2	1,75	1,8	2
3			

As células A1 e A2 contém os valores 1,25 e 1,75, respectivamente. As células B1 e B2 contém as funções =ARRED(A1; 1) e =ARRED(A2; 1), respectivamente. Finalmente, as células C1 e C2 contém as funções =ARRED(A1; 0) e =ARRED(A2; 0).

Assinale a alternativa correta sobre o conteúdo que irá ser apresentado nas células A3, B3 e C3, respectivamente, se o usuário inserir nelas as seguintes funções =SOMA(A1:A2), =SOMA(B1:B2) e =SOMA(C1:C2).

- (A) 3; 3 e 3.
(B) 3,1; 3,1 e 3.
(C) 3,1; 3,1 e 3,1.
(D) 3; 3,1 e 3.
(E) 3,1; 3,2 e 3,1.
37. Tem-se uma apresentação com 2 slides criada no Microsoft PowerPoint 2016, em sua configuração original, conforme imagem a seguir das miniaturas.



Ao se iniciar o Modo de Apresentação pressionando a tecla F5, o slide 1 é exibido. Depois de pressionar ENTER, o slide 1 desaparece da tela com o efeito de uma cortina, como exibido na imagem a seguir, cada uma representando 1 segundo desse efeito.



Assinale a alternativa com o nome desse recurso.

- (A) Animação.
(B) Formatação de Layout.
(C) Transição de slides.
(D) Slide Show.
(E) Plano de Fundo.

38. Em uma apresentação com 5 slides, criada no Microsoft PowerPoint 2016, em sua configuração padrão, o slide 3 é o único que está configurado como oculto. Considerando que o slide 3 está sendo apresentado no Modo de Apresentação, assinale a alternativa que indica como o isso foi possível.

- (A) No modo de exibição normal, o usuário selecionou o slide 3 e pressionou a tecla F5 para iniciar o Modo de Apresentação.
- (B) A partir do Modo de Apresentação, posicionado no slide 2, o usuário pressionou a tecla ENTER para avançar para o slide 3.
- (C) A partir do Modo de Apresentação, posicionado no slide 2, o usuário pressionou a tecla SHIFT+ENTER para avançar para o slide 3.
- (D) No modo de exibição normal, o usuário selecionou o slide 3 e pressionou as teclas SHIFT+F5 para iniciar o Modo de Apresentação.
- (E) A partir do Modo de Apresentação, posicionado no slide 4 o usuário pressionou a tecla BACKSPACE para retornar para o slide 3.

39. Paola preparou uma mensagem de correio eletrônico usando Microsoft Outlook 2016, em sua configuração original, com as seguintes características.

Para: Guilherme
Cc: Gabriela
Cco: Bruno
Assunto: Marcelo

Essa mensagem está gravada na Caixa de Saída. Considerando que Paola não fez nenhuma movimentação de mensagens entre pastas, assinale a alternativa que indica as pessoas que receberam a mensagem.

- (A) Guilherme, apenas.
- (B) Guilherme e Gabriela, apenas.
- (C) Guilherme, Gabriela e Bruno, apenas.
- (D) Guilherme, Gabriela, Bruno e Marcelo.
- (E) Nenhuma das pessoas.

40. Um usuário fez duas pesquisas no site Google, em sua configuração padrão, usando os seguintes termos, respectivamente:

-camara municipal potim
potim -camara municipal

Assinale a alternativa correta.

- (A) As duas pesquisas têm o mesmo efeito: serão eliminados os resultados com a palavra camara, apenas, em ambas.
- (B) Na primeira pesquisa, serão eliminados os resultados com as palavras camara, municipal e potim. E na segunda pesquisa, serão eliminados os resultados com as palavras camara e municipal, apenas.
- (C) Na primeira pesquisa, serão eliminados os resultados com a palavra camara, apenas. E na segunda pesquisa, nenhuma palavra será eliminada.
- (D) Na primeira pesquisa, serão eliminados os resultados com as palavras camara, municipal e potim. E na segunda pesquisa, nenhuma palavra será eliminada.
- (E) Na primeira pesquisa, serão eliminados os resultados com a palavra camara, apenas. E na segunda pesquisa, serão eliminados os resultados com as palavras camara, municipal e potim.

CONHECIMENTOS ESPECÍFICOS

41. O processo de arrumar e alocar o trabalho, a autoridade e os recursos entre os membros de uma organização, seja ela pública ou privada, de modo que ela possa alcançar eficientemente os seus objetivos, denota a função administrativa de
- (A) planejar.
 - (B) dirigir.
 - (C) coordenar.
 - (D) controlar.
 - (E) comunicar.
42. Organizar a Administração Pública significa ordenar todo o seu aparato: a estrutura e os recursos; os órgãos e os agentes; os serviços e as atividades; e as competências. A Administração Pública compreende a Administração direta bem como a Administração indireta. É órgão da Administração direta que não possui personalidade jurídica própria e que pertence ao ente público maior:
- (A) o Banco Nacional de Desenvolvimento Econômico.
 - (B) o Consórcio constituído como Associação Pública.
 - (C) a Sociedade de Economia Mista.
 - (D) o Conselho da República.
 - (E) o IBGE.
43. O conceito de *accountability* pressupõe dois elementos: um é aquele que delega a responsabilidade; e o outro elemento é o responsável por gerir os recursos. Como decorrência da existência desses elementos, cria-se a
- (A) responsividade negativa em que os governantes não estão submetidos aos desejos ou às determinações dos cidadãos.
 - (B) responsividade horizontal em que os governantes são obrigados a promover os interesses dos cidadãos, adotando políticas por eles escolhidas.
 - (C) nova governança pública, que inclui a participação do mercado e da sociedade civil nas decisões.
 - (D) governança pública compreendida como a capacidade de governar, capacidade de decidir e implementar políticas públicas.
 - (E) obrigação de prestação de contas por parte de quem administra os recursos, que deverá demonstrar por meio dos resultados obtidos o bom uso desses recursos.
44. O Governo Eletrônico tem por vocação construir um elo entre o operacional e o estratégico, assim como busca novas formas de relacionamento com a sociedade. Quando busca gerar e manter um banco de dados atualizado dos conhecimentos do Governo, para servir como fonte de informação e inovação a gerar melhorias nos processos em geral, esta linha de ação é voltada
- (A) à gestão do conhecimento.
 - (B) à eficiência interna do órgão a que se destina.
 - (C) à inclusão digital dos menos favorecidos.
 - (D) à cooperação entre os poderes.
 - (E) ao cidadão.
45. A pluralidade normativa, decorrente da prerrogativa de cada ente da Federação para organizar e regular as suas relações funcionais é a característica que define
- (A) o regime celetista.
 - (B) o regime estatutário.
 - (C) a espécie de agente político.
 - (D) a espécie de colaboradores compulsórios.
 - (E) a espécie de agente empregatício de colaboração honorífica.
46. Para realizar o processo de recrutamento e seleção no setor público, consideram-se as mais simples e indivisíveis unidades de competência a serem expressas por um agente, previstas em número certo, com denominação própria, retribuídas por pessoas jurídicas de direito público e criadas por lei, como o conceito de
- (A) progressão horizontal.
 - (B) progressão vertical.
 - (C) cargo público.
 - (D) ascensão funcional.
 - (E) requisitos para a investidura.
47. A metodologia de sistematização do desenvolvimento de pessoas como um modelo que integra pessoas, processos e estratégia, que agrega valor a um processo já existente, tornando-o melhor, incentivando o envolvimento da direção e dos gestores da organização na gestão do capital humano existente, por meio da efetiva entrega, com reconhecimento de meritocracia, viabilizando decisões compartilhadas e que, na gestão pública, pode permitir maior flexibilização sem abandonar os seus princípios é
- (A) o Autodesenvolvimento.
 - (B) a Gestão por competência.
 - (C) a Gestão do conhecimento.
 - (D) a Gestão por processos.
 - (E) a Gespública.

48. Entre as técnicas específicas para a realização de Avaliação de Desempenho, existe a técnica de incidentes críticos, a qual apregoa que
- (A) deve ser realizada uma comparação de um funcionário com cada um dos outros, classificando-o como o melhor ou o pior de cada par, e atribuindo-lhe uma pontuação.
 - (B) deve ser realizada uma avaliação dos funcionários que serão classificados dentro de faixas pré-determinadas, como os quartis.
 - (C) os comportamentos reais relativos ao trabalho devem ser medidos em um *continuum*.
 - (D) deve ser realizada uma avaliação daqueles comportamentos que são o divisor de águas entre a realização eficaz e ineficaz de um trabalho.
 - (E) o avaliador deve dar notas aos fatores de desempenho em uma escala incremental.
49. Entre os modelos de estrutura organizacional, a organização que busca eliminar a cadeia de comando, ter amplitude ilimitada de controle e substituir os departamentos por equipes autônomas, é conhecida como
- (A) Organização sem fronteiras.
 - (B) Modelo orgânico simples.
 - (C) Organização virtual.
 - (D) Estrutura de equipe.
 - (E) Estrutura matricial.
50. Um determinado investimento, que não fora previamente incluído no plano plurianual, cuja execução estava prevista para o período de dois exercícios financeiros, foi iniciado no segundo exercício financeiro do mandato do Chefe do Executivo. Considerando que não havia lei que autorizasse a sua inclusão na Lei Orçamentária Anual, é possível afirmar, sobre este investimento, que
- (A) a alocação dos recursos para a sua realização é lícita, pois seu início coincide com o início de vigência do PPA.
 - (B) a alocação dos recursos para a sua realização é lícita, pois a previsão do seu término está contida na vigência do PPA, que se iniciou no primeiro ano do mandato do chefe do executivo.
 - (C) a alocação dos recursos para a sua realização é lícita, pois a previsão do seu término está contida na vigência do PPA, que se iniciou no segundo ano do mandato do chefe do executivo.
 - (D) a alocação dos recursos para a sua realização é lícita, pois a previsão do seu término está contida na vigência da LDO, que se iniciou em 30 de Junho do exercício anterior.
 - (E) pode implicar pena de crime de responsabilidade de acordo com o parágrafo 1º do art. 167 da Constituição Federal.
51. O registro de “como fazer” e “onde fazer”, que são informações relevantes sobre os programas e ações orçamentárias, constarão
- (A) do cadastro de programas.
 - (B) do cadastro de ações.
 - (C) da proposta orçamentária.
 - (D) da Lei de diretrizes orçamentárias.
 - (E) da Lei orçamentária anual.
52. O Jornal *O Estado de São Paulo* publicou reportagem denominada “O preço da paralisação”, em que discutia o cenário de obras públicas brasileira a partir do seguinte quadro:
- Na última terça-feira, dia 2, a Câmara dos Deputados instalou uma comissão para acompanhar a execução de obras inacabadas. O mais recente levantamento do Tribunal de Contas da União (TCU), assumidamente incompleto devido à carência de dados consolidados, revela um cenário exasperador. O Tribunal estima que, dos mais de 38 mil contratos de obras públicas, cerca de 14 mil (38%) estão paralisados.
- (O Estado de São Paulo. O preço da paralisação. Opnião, São Paulo, ano 2019. Disponível em: <https://opinio.estado.com.br/noticias/notas-e-informacoes,o-preco-da-paralisacao,70002905622>.
- Para se evitar casos como esses apresentados na reportagem, a Lei de Responsabilidade Fiscal instituiu o seguinte mecanismo:
- (A) É vedado consignar na lei orçamentária crédito com finalidade imprecisa ou com dotação ilimitada.
 - (B) É vedado ao Tesouro Nacional adquirir títulos da dívida pública federal existentes na carteira do Banco Central do Brasil, ainda que com cláusula de reversão, salvo para reduzir a dívida mobiliária.
 - (C) É vedado às entidades da administração indireta, inclusive suas empresas controladas e subsidiárias, conceder garantia, ainda que com recursos de fundos.
 - (D) É vedado ao titular de Poder ou órgão referido no art. 20, nos últimos dois quadrimestres do seu mandato, contrair obrigação de despesa que não possa ser cumprida integralmente dentro dele, ou que tenha parcelas a serem pagas no exercício seguinte sem que haja suficiente disponibilidade de caixa para este efeito.
 - (E) Observado o disposto no § 5º do art. 5º, a lei orçamentária e as de créditos adicionais só incluirão novos projetos após adequadamente atendidos os em andamento e contempladas as despesas de conservação do patrimônio público, nos termos em que dispuser a lei de diretrizes orçamentárias.

53. De acordo com a Lei nº 10.520/2002, promover a adjudicação do objeto do certame ao licitante vencedor, quando não houver a interposição de recurso, será de responsabilidade
- (A) da comissão de licitação.
 - (B) da comissão para julgamento dos pedidos de inscrição.
 - (C) do pregoeiro que pertença ao órgão ou entidade promotora da licitação.
 - (D) do pregoeiro que pertença necessariamente ao quadro permanente do órgão ou entidade promotora da licitação.
 - (E) do dirigente de órgão ou entidade contratante ou responsável pela licitação.
54. A realização do pregão, na forma eletrônica, observa etapas sucessivas, de acordo com a Lei. Desta forma, a etapa imediatamente anterior à abertura da sessão pública e envio de lances, ou fase competitiva, corresponde à etapa de
- (A) apresentação de propostas e de documentos de habilitação.
 - (B) publicação do aviso de edital.
 - (C) planejamento da contratação.
 - (D) julgamento.
 - (E) habilitação.
55. Diferentemente da metodologia de codificação utilizada para identificar, rastrear e gerenciar produtos sem contato e sem a necessidade de um campo visual, baseada em etiquetas eletrônicas para guardar as informações de identificação do produto e sinais de rádio para transmiti-las ao leitor, existe também a metodologia baseada na representação gráfica de uma sequência numérica utilizada para identificar um produto, por meio dos Códigos Barcodes que é denominada
- (A) Sistema decimal.
 - (B) Sistema numérico.
 - (C) Sistema alfanumérico.
 - (D) Código de barras.
 - (E) RFID.
56. No inventário de estoque periódico, observa-se que
- (A) a empresa determina um período final para o inventário, para atualizar o controle de estoque e gerar demonstrativos financeiros mais confiáveis e detalhados.
 - (B) o estoque tem seus itens contados em intervalos de períodos pré-definidos, por exemplo: mensal, trimestral, semestral ou anual; e cada empresa determina qual o melhor intervalo para sua realização.
 - (C) a empresa faz o controle de forma automatizada, gerando demonstrativos financeiros de forma integrada e contínua.
 - (D) a cada movimentação de entrada ou saída do estoque, gera-se uma atualização no *status* do produto.
 - (E) não se requer um período determinado, já que ocorre continuamente.
57. A função da controladoria é cooperar para uma administração eficiente, mantendo os negócios saudáveis e lucrativos. Como meio de viabilizar a sua função, tem como uma de suas atividades realizar a análise de rentabilidade dos negócios e pode utilizar o indicador que parte da análise de três componentes que determinam a geração de lucro da empresa: Margem de lucro líquido, Giro de ativos e Alavancagem financeira, cuja fórmula é: $\text{Rentabilidade operacional} = \text{Giro} \times \text{Margem} \times \text{Alavancagem}$. Este indicador é denominado
- (A) *Balanced Scorecard*.
 - (B) Método DuPont.
 - (C) EBITDA.
 - (D) Valor agregado.
 - (E) Custo de agência.
58. Política pública representa um conjunto de meios, decisões e ações, que congregam diferentes atores e concentram esforços, utilizados pelos governos com vistas a mudar uma realidade, efetivar direitos e atender necessidades público-sociais. Entre os métodos existentes para formulação de políticas, há o denominado Racional-compreensivo e, sobre ele, é correto afirmar que
- (A) consiste numa tese (lógica racional), numa antítese (lógica incremental), que culminam numa síntese/mix.
 - (B) contempla um conjunto de soluções não vinculadas a um problema e/ou objetivo específico, apresentadas por atores estatais e não estatais.
 - (C) estabelece um processo que busca garantir gradualmente a obtenção de equilíbrio dinâmico com o entorno social e organizacional por meio de mudanças paulatinas nas diretrizes.
 - (D) parte do pressuposto que a intervenção por meio de políticas públicas deve ter sustentação em ampla análise prévia dos problemas sociais que contextualizam a situação-problema a ser resolvida.
 - (E) as ações político-administrativas, nesse método, teriam de ser conduzidas de modo flexível, seguindo trajetória sustentada em bases históricas, já sedimentadas, que permitam algum nível de projeção emanadas de políticas mais globais.

- 59.** Em gestão de projetos, o risco tanto representa uma ameaça potencial como também uma oportunidade potencial. Os riscos que incluem fatores que fogem ao controle da equipe de projetos tais como questões políticas, legais ambientais e sociais, são denominados
- (A) comerciais.
 - (B) relacionados às restrições.
 - (C) comuns.
 - (D) fatores críticos do sucesso.
 - (E) externos do projeto.
- 60.** Um diagrama de rede demonstra as tarefas do projeto na ordem em que elas serão executadas, em ordem sequencial. O diagrama do tipo Atividade no nó é um método de diagrama de precedência que utiliza círculos, chamados de nós, e setas. As setas, neste diagrama, representam
- (A) entregas.
 - (B) tarefas ou atividades.
 - (C) dependências entre tarefas.
 - (D) eventos simples entre as atividades.
 - (E) marcos.



Câmara Municipal de Potim

"POTIM - TERRA DO ARTESANATO"



CÂMARA MUNICIPAL DE POTIM

(REF.: CONCURSO PÚBLICO Nº 01/2021 – VÁRIOS EMPREGOS)

EDITAL DE DIVULGAÇÃO DE GABARITOS

A Câmara Municipal de Potim e a Fundação VUNESP, referente ao Concurso Público nº 01/2021 para provimento de vários empregos – **DIVULGAM** os gabaritos das provas objetivas realizadas em 29 de agosto de 2021.

AGENTE LEGISLATIVO

1 - E	2 - C	3 - B	4 - E	5 - A	6 - C	7 - D	8 - A	9 - D	10 - B
11 - B	12 - C	13 - D	14 - A	15 - E	16 - C	17 - A	18 - E	19 - D	20 - B
21 - B	22 - E	23 - A	24 - C	25 - D	26 - C	27 - E	28 - D	29 - C	30 - A
31 - C	32 - C	33 - B	34 - A	35 - E	36 - E	37 - D	38 - B	39 - A	40 - C

ESCRITURÁRIO

1 - E	2 - C	3 - B	4 - E	5 - A	6 - C	7 - D	8 - A	9 - D	10 - B
11 - B	12 - C	13 - D	14 - A	15 - E	16 - C	17 - A	18 - E	19 - D	20 - B
21 - B	22 - E	23 - A	24 - C	25 - D	26 - B	27 - E	28 - C	29 - A	30 - B
31 - A	32 - C	33 - A	34 - C	35 - D	36 - C	37 - E	38 - D	39 - D	40 - E

DIRETOR GERAL

1 - C	2 - A	3 - D	4 - B	5 - C	6 - E	7 - A	8 - B	9 - D	10 - E
11 - B	12 - D	13 - D	14 - E	15 - E	16 - C	17 - A	18 - C	19 - B	20 - A
21 - B	22 - A	23 - B	24 - C	25 - E	26 - D	27 - A	28 - C	29 - B	30 - A
31 - B	32 - E	33 - C	34 - B	35 - A	36 - D	37 - C	38 - D	39 - E	40 - A
41 - C	42 - D	43 - E	44 - A	45 - B	46 - C	47 - B	48 - D	49 - A	50 - E
51 - B	52 - E	53 - C	54 - A	55 - D	56 - A	57 - B	58 - D	59 - E	60 - C



Câmara Municipal de Potim

"POTIM - TERRA DO ARTESANATO"



PROCURADOR JURÍDICO

1 - E	2 - E	3 - B	4 - D	5 - A	6 - C	7 - A	8 - E	9 - C	10 - D
11 - C	12 - A	13 - B	14 - D	15 - A	16 - C	17 - B	18 - E	19 - B	20 - C
21 - A	22 - E	23 - B	24 - A	25 - C	26 - B	27 - C	28 - E	29 - D	30 - A
31 - C	32 - A	33 - C	34 - B	35 - C	36 - D	37 - A	38 - E	39 - C	40 - E
41 - A	42 - C	43 - A	44 - E	45 - B	46 - A	47 - D	48 - B	49 - C	50 - D
51 - E	52 - B	53 - A	54 - C	55 - B	56 - A	57 - A	58 - D	59 - D	60 - E

O candidato poderá recorrer dos gabaritos divulgados por meio deste Edital protocolando recurso no período das **10 horas de 01 de setembro de 2021 às 23h59min de 02 de setembro de 2021**, pelo site www.vunesp.com.br, na "Área do Candidato – RECURSOS", seguindo as instruções ali contidas.

E, para que chegue ao conhecimento de todos e ninguém possa alegar desconhecimento, é expedido o presente Edital.

Potim, em 31 de agosto de 2021.

MÁRCIO DE CÁSSIO RAYMUNDO

Presidente da Câmara Municipal

(ASSINADO DIGITALMENTE)