



PREFEITURA DE FERRAZ DE VASCONCELOS

ESTADO DE SÃO PAULO

CONCURSO PÚBLICO

007. PROVA OBJETIVA

Assistente Social do Sistema Único de Assistência Social

- ◆ Você recebeu sua folha de respostas e este caderno contendo 50 questões objetivas.
- ◆ Confira seus dados impressos na capa deste caderno e na folha de respostas.
- ◆ Quando for permitido abrir o caderno, verifique se está completo ou se apresenta imperfeições. Caso haja algum problema, informe ao fiscal da sala.
- ◆ Leia cuidadosamente todas as questões e escolha a resposta que você considera correta.
- ◆ Marque, na folha de respostas, com caneta de tinta preta, a letra correspondente à alternativa que você escolheu.
- ◆ A duração da prova é de 3 horas, já incluído o tempo para o preenchimento da folha de respostas.
- ◆ Só será permitida a saída definitiva da sala e do prédio após transcorrida 1 hora do início da prova.
- ◆ Deverão permanecer em cada uma das salas de prova os 3 últimos candidatos, até que o último deles entregue sua prova, assinando termo respectivo.
- ◆ Ao sair, você entregará ao fiscal a folha de respostas e este caderno.
- ◆ Até que você saia do prédio, todas as proibições e orientações continuam válidas.

AGUARDE A ORDEM DO FISCAL PARA ABRIR ESTE CADERNO.

Nome do candidato _____

RG _____

Inscrição _____

Prédio _____

Sala _____


Carteira _____

CONHECIMENTOS GERAIS

LÍNGUA PORTUGUESA

01. Leia a tira.

SEXTA-FEIRA SANTA.



chargeonline.com.br – © Copyright do autor

@Ricoartum

(Chargista Rico. <https://www.chargeonline.com.br>, 09.04.2021)

A charge traz uma crítica

- (A) à Semana Santa.
- (B) à realidade virtual.
- (C) aos pais insensíveis.
- (D) às crianças exigentes.
- (E) às desigualdades sociais.

Leia o texto para responder às questões de números **02 a 04**.

Ainda na véspera eram seis viventes, contando com o papagaio. Coitado, morrera na areia do rio, onde haviam descansado, à beira de uma poça: a fome apertara demais os retirantes e por ali não existia sinal de comida. A cachorra Baleia jantara os pés, a cabeça, os ossos do amigo, e não guardava lembrança disto. Agora, enquanto parava, dirigia as pupilas brilhantes aos objetos familiares, estranhava não ver sobre o baú de folha a gaiola pequena onde a ave se equilibrava mal. Fabiano também às vezes sentia falta dela, mas logo a recordação chegava. Tinha andado a procurar raízes, à toa: o resto da farinha acabara, não se ouvia um berro de rês perdida na caatinga. Sinha Vitória, queimando o assento no chão, as mãos cruzadas segurando os joelhos ossudos, pensava em acontecimentos antigos que não se relacionavam: festas de casamento, vaquejadas, novenas, tudo numa confusão. Despertara-a um grito áspero, vira de perto a realidade e o papagaio, que andava furioso, com os pés apalhetados, numa atitude ridícula. Resolvera de supetão aproveitá-lo como alimento e justificara-se declarando a si mesma que ele era mudo e inútil. Não podia deixar de ser mudo... Ordinariamente a família falava pouco. E depois daquele desastre viviam todos calados, raramente soltavam palavras curtas. O louro aboiava, tangendo um gado inexistente, e latia arremedando a cachorra.

Num cotovelo do caminho, Fabiano avistou um canto de cerca, encheu-o a esperança de achar comida, sentiu desejo de cantar. A voz saiu-lhe rouca, medonha. Calou-se para não estragar força.

(Graciliano Ramos, *Vidas Secas*. 1996. Adaptado)

02. Em relação à cena descrita, é correto afirmar que Fabiano e sua família

- (A) chegaram a pensar na hipótese de comer o papagaio de estimação.
- (B) deixaram a cachorra Baleia comer o papagaio, pois estava faminta.
- (C) comeram o papagaio de estimação para saciar a fome que os afligia.
- (D) deliraram de fome e sonharam que comiam o papagaio de estimação.
- (E) saciaram a fome com o papagaio, que tagarelava durante a caminhada.

03. Assinale a alternativa em que o uso de sinal de pontuação no interior do enunciado tem a finalidade de indicar ao leitor uma explicação feita pelo narrador.

- (A) A cachorra Baleia jantara os pés, a cabeça, os ossos do amigo, e não guardava lembrança disto.
- (B) Agora, enquanto parava, dirigia as pupilas brilhantes aos objetos familiares...
- (C) Fabiano também às vezes sentia falta dela, mas logo a recordação chegava.
- (D) ... o resto da farinha acabara, não se ouvia um berro de rês perdida na caatinga.
- (E) ... e o papagaio, que andava furioso, com os pés apalhetados, numa atitude ridícula.

04. Assinale a alternativa em que o trecho reescrito do texto está em conformidade com a norma-padrão de colocação pronominal.

- (A) A fome apertara demais os retirantes e por ali não se via sinal de comida.
- (B) Agora, Baleia estranhava não ver a gaiola em que mal equilibrava-se a ave.
- (C) Sinha Vitória tinha justificado-se declarando que o papagaio era mudo e inútil.
- (D) E depois daquele desastre, raramente comunicavam-se com palavras curtas.
- (E) Fabiano sentiu desejo de cantar. Lhe saiu rouca e medonha a voz e, então, se calou.

Leia o texto para responder às questões de números **05 a 09**.

O flagelo da fome

Além de ceifar a vida de quase 2,8 milhões de pessoas, a peste do coronavírus está agravando a fome no mundo. Já em 2019, 135 milhões de pessoas em 55 países padeciam de crise alimentar por causa de conflitos, variações climáticas extremas, choques econômicos ou uma combinação de tudo isso. Agora, de acordo com a Organização das Nações Unidas para a Alimentação e a Agricultura (FAO), são 174 milhões em 58 países – mais de 34 milhões sofrendo insegurança alimentar aguda, ou seja, estão a um passo de morrer de fome.

Embora a maior parte dos países afetados esteja na África, a fome deve recrudescer na maioria das regiões do mundo. Extremos climáticos resultantes do fenômeno La Niña devem continuar em abril e maio, provocando tanto a falta de chuvas, como no Afeganistão, quanto o excesso, como no Sudão. Nos próximos meses, a produção de grãos e os pastos no oeste da África podem ser dizimados por novas nuvens de gafanhotos.

Em termos econômicos, a América Latina foi a região mais impactada pela covid e deve ter a retomada mais lenta. Países que já lutavam contra a instabilidade política e mazelas socioeconômicas prolongadas, como o Haiti ou as repúblicas centro-americanas de Honduras, El Salvador, Guatemala e Nicarágua, devem sofrer as deteriorações econômicas mais agudas.

O Brasil tem uma responsabilidade humanitária especial para com o povo venezuelano sob o jugo da ditadura chavista, alerta o relatório. A hiperinflação e o recrudescimento das sanções internacionais, agravadas com as restrições da covid-19, estão deteriorando as condições alimentares do país vizinho a olhos vistos. Já em 2019, a insegurança alimentar atingia 9,3 milhões de venezuelanos. No fim de 2020, a inflação alimentar batia os 1700%. A degradação econômica deve desencadear novas ondas migratórias.

O Brasil precisa se preparar para apoiar imigrantes e comunidades nas áreas de fronteira, incrementando o acesso a suprimentos essenciais e às oportunidades de renda.

O Plano de Resposta Humanitária da ONU pede US\$ 226 milhões para a segurança alimentar, suprimentos e intervenções nutricionais na Venezuela. Respostas emergenciais incluem garantir a alimentação de crianças e robustecer a assistência humanitária às necessidades mais urgentes.

Não estava em poder da humanidade impedir o surgimento de uma peste letal. Mas está em seu poder mitigar as suas repercussões mais catastróficas, como a fome. A resposta à atual crise alimentar definirá o *status* moral da atual geração pelo resto da história.

(Editorial. <https://opiniao.estadao.com.br>, 04.04.2021. Adaptado)

05. As informações do texto permitem entender que a fome vem

- (A) provocando novas ondas migratórias, razão pela qual o Brasil tem de coibir a entrada de estrangeiros no país, como os venezuelanos.
- (B) recrudesendo na África, devido ao clima, mas está em níveis aceitáveis em outras partes do mundo, como na América Latina.
- (C) deixando de ser a principal preocupação da humanidade, uma vez que a epidemia do coronavírus mata mais e de forma mais rápida.
- (D) se tornando mais intensa com a peste do coronavírus, aliada a outras mazelas já existentes em vários países em torno do mundo.
- (E) impossibilitando a retomada econômica dos países, afetados também pela peste do coronavírus, que suspendeu as ações humanitárias.

06. O parágrafo final do texto enfatiza que a sociedade

- (A) deixa de combater a catástrofe da fome, pois permitiu o surgimento da pandemia.
- (B) está sujeita aos efeitos desastrosos da peste letal, embora pudesse tê-la evitado.
- (C) tem o poder de reagir aos efeitos catastróficos do coronavírus, como a fome.
- (D) deve sucumbir aos efeitos do coronavírus, pois não combate a crise alimentar.
- (E) reverte, com sucesso, os efeitos nocivos do coronavírus, em especial a fome.

07. Considere as passagens do texto:

- O **flagelo** da fome (título)
- ... mais de 34 milhões sofrendo insegurança alimentar **aguda**... (1º parágrafo)
- O Brasil tem uma responsabilidade humanitária especial para com o povo venezuelano sob o **jugo** da ditadura chavista... (4º parágrafo)
- Mas está em seu poder **mitigar** as suas repercussões mais catastróficas, como a fome. (último parágrafo)

Os termos destacados significam, correta e respectivamente:

- (A) angústia; crítica; governo; extirpar.
- (B) calamidade; grave; sujeição; abrandar.
- (C) despropósito; vigorosa; opressão; reforçar.
- (D) padecimento; intensa; autoridade; entender.
- (E) resiliência; crônica; caridade; aplacar.

08. Assinale a alternativa em que a concordância está em conformidade com a norma-padrão.

- (A) É quase 2,8 milhões vidas ceifadas com o coronavírus, o que está agravando a fome no mundo, sobretudo em locais onde acontece conflitos, variações climáticas extremas e choques econômicos.
- (B) Fica evidente a deterioração das condições alimentares da Venezuela, que se agravou com a hiperinflação, com o recrudescimento das sanções internacionais e com as restrições da Covid-19.
- (C) Em 2019, haviam 135 milhões de pessoas que padeciam de crise alimentar por causa de conflitos, variações climáticas extremas, choques econômicos ou uma combinação de tudo isso.
- (D) Na África, com o fenômeno La Niña, a falta de chuva e o excesso dela será um problema para a produção de grãos, e teme-se as novas nuvens de gafanhotos, que podem dizimar os pastos.
- (E) Países que compõe a América Central – Honduras, El Salvador, Guatemala e Nicarágua – já vem sofrendo com a instabilidade política e com mazelas socioeconômicas prolongadas.

09. Leia as passagens do texto:

- **Embora** a maior parte dos países afetados esteja na África, a fome deve recrudescer na maioria das regiões do mundo. (2º parágrafo)
- O Brasil precisa se preparar **para** apoiar imigrantes e comunidades nas áreas de fronteira... (5º parágrafo)
- Não estava em poder da humanidade impedir o surgimento de uma peste letal. **Mas** está em seu poder mitigar as suas repercussões mais catastróficas, como a fome. (último parágrafo)

As expressões destacadas estabelecem entre as informações, correta e respectivamente, relações de sentido de:

- (A) concessão; oposição; oposição.
- (B) causa; finalidade; conclusão.
- (C) conformidade; oposição; adição.
- (D) concessão; finalidade; oposição.
- (E) causa; comparação; conclusão.

10. Considere os enunciados:

- No Iêmen, o número de pessoas em níveis agudos de insegurança alimentar deve crescer 3 milhões, chegando _____ 16,2 milhões (54% da população).
- A tragédia nos países africanos é especialmente ultrajante quando agravada pelos desdobramentos da violência, que ainda dificulta o acesso _____ assistência humanitária.
- “A magnitude do sofrimento é alarmante”, disse o diretor-geral da FAO, Qu Dongyu. “Cabe _____ todos nós agir agora para salvar vidas, salvaguardar suprimentos e evitar uma situação pior.”

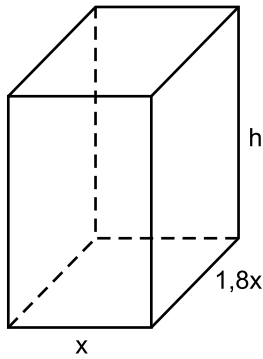
(“O flagelo da fome”. Editorial. <https://opinio.estado.com.br>, 04.04.2021. Adaptado)

Em conformidade com a norma-padrão, as lacunas do texto devem ser preenchidas, respectivamente, com:

- (A) a ... à ... a
- (B) à ... à ... a
- (C) a ... a ... à
- (D) à ... a ... à
- (E) a ... à ... à

11. Indagados sobre os motivos para começar a usar uma bicicleta elétrica, em um levantamento, $\frac{8}{25}$ dos compradores entrevistados responderam “*suar ou cansar menos*”, $\frac{6}{25}$ responderam “*enfrentar subidas mais facilmente*” e $\frac{9}{50}$ responderam “*chegar mais rápido ao destino*”, sendo que os 104 entrevistados restantes formularam outras respostas. Sabendo-se que cada entrevistado deu apenas uma resposta, é correto afirmar que o número de pessoas que respondeu “*suar ou cansar menos*” foi igual a
- (A) 136.
(B) 128.
(C) 120.
(D) 96.
(E) 72.
12. Sabe-se que os cinco países que mais produzem gás natural são, nessa ordem, Estados Unidos, Rússia, Irã, Catar e Canadá, sendo a média aritmética de suas produções anuais igual a 395,7 bilhões de m^3 . Se excluirmos a produção anual do Irã, a média aritmética das produções anuais dos países restantes dessa relação passa a ser de 441 bilhões de m^3 . Portanto, conclui-se que a produção anual de gás natural do Irã, em bilhões de m^3 , é igual a
- (A) 269,7.
(B) 262,6.
(C) 214,5.
(D) 166,4.
(E) 159,1.
13. Em uma empresa, o número de funcionários do setor B era igual a um sétimo do número de funcionários do setor A. Foram admitidos 5 novos funcionários para cada um desses dois setores, e o número de funcionários do setor B passou a ser igual a um quarto do número de funcionários do setor A. Antes dessas admissões, o número de funcionários do setor B era igual a
- (A) 10.
(B) 8.
(C) 7.
(D) 6.
(E) 5.

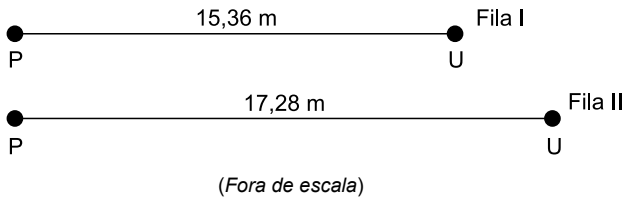
14. Um recipiente tem a forma de um prisma reto de base retangular, conforme mostra a figura, em que as dimensões indicadas estão em centímetros.



Sabe-se que a área da base é igual a $1\,125\text{ cm}^2$, e que a medida da altura, indicada por h na figura, é igual a $\frac{4}{3}$ da medida da maior aresta da base. Desse modo, o volume desse recipiente é igual a

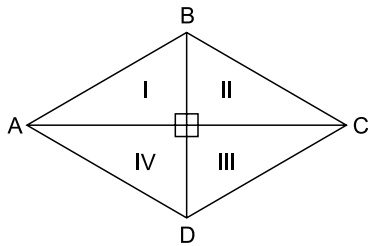
- (A) $50\,500\text{ cm}^3$.
(B) $50\,625\text{ cm}^3$.
(C) $56\,250\text{ cm}^3$.
(D) $67\,500\text{ cm}^3$.
(E) $67\,625\text{ cm}^3$.
15. Para um lojista, o preço de venda de certo produto é sempre igual ao seu preço de custo mais 80% do preço de custo. Houve um aumento de 25% no preço de custo desse produto e, desse modo, o seu preço de venda passou a ser de R\$ 450,00. O preço de custo desse produto, antes do aumento de 25%, era igual a
- (A) R\$ 250,00.
(B) R\$ 225,00.
(C) R\$ 200,00.
(D) R\$ 175,00.
(E) R\$ 150,00.
16. As máquinas A e B ensacaram quantidades iguais de grãos, mas em tempos diferentes, que foram inversamente proporcionais à massa de grãos colocada em cada saco. Se a máquina A colocou 48 kg em cada saco e gastou 450 minutos para completar o serviço, então a máquina B, que demorou 400 minutos para completar o serviço, colocou, em cada saco,
- (A) 60 kg.
(B) 58 kg.
(C) 56 kg.
(D) 54 kg.
(E) 52 kg.

17. As figuras mostram duas filas, I e II, que estão sendo organizadas em locais distintos de um posto de vacinação. Visando observar certo distanciamento físico, os posicionamentos adequados das pessoas nas filas estão sendo marcados com fita no solo.



Entre as primeiras (P) posições e as últimas (U) posições já marcadas nas filas I e II, serão marcadas outras posições, de modo que a distância entre duas posições vizinhas em uma fila seja sempre a mesma para as duas filas, e que o número total de posições marcadas seja o menor possível. Nessas condições, o número total de posições marcadas nas duas filas, juntas, será igual a

- (A) 16.
 - (B) 17.
 - (C) 18.
 - (D) 19.
 - (E) 20.
18. Um jardim com a forma de um losango ABCD, cuja diagonal menor mede 10 m, foi dividido em 4 canteiros (I, II, III e IV) congruentes, conforme mostra a figura.



Se o jardim tem perímetro igual a 52 m, então a área de cada canteiro é igual a

- (A) 30 m².
- (B) 32 m².
- (C) 34 m².
- (D) 36 m².
- (E) 40 m².

19. Em uma empresa, 8 máquinas iguais, de mesmo rendimento, trabalhando simultaneamente durante 9 horas por dia, produzem n unidades de certa peça em 10 dias. Em condições operacionais idênticas, o número de máquinas necessárias para produzir $\frac{n}{2}$ unidades dessa peça em 9 dias, trabalhando 8 horas por dia, será igual a
- (A) 3.
 (B) 4.
 (C) 5.
 (D) 6.
 (E) 7.

20. A tabela relaciona as vendas de *smartphones* no mercado brasileiro em 2019 e 2020, totalmente distribuídas em quatro faixas de custo: Low-end (baixo custo), Intermediário 1, Intermediário 2 e Premium (alto custo).

	2019	2019	2020	2020
Faixas de custo	Porcentagem do total	Nº de unidades (em milhões)	Porcentagem do total	Nº de unidades (em milhões)
Low-end	66%	18
Intermediário 1	42%
Intermediário 2	4%	9%
Premium	8%	9%
Total		x		0,9 x

De acordo com as informações da tabela, é correto afirmar que o número de unidades de aparelhos de nível Intermediário 1 vendidos em 2019 foi igual a

- (A) 11 milhões.
 (B) 12,5 milhões.
 (C) 15,8 milhões.
 (D) 18,9 milhões
 (E) 21 milhões.

ATUALIDADES

21. “Perdoem todas as minhas falhas cometidas neste ano”, disse Igor Matovic ao renunciar ao cargo nesta terça-feira (30) após uma crise gerada pela negociação de dois milhões de doses da vacina Sputnik V fabricadas na Rússia. Matovic defendia a compra do imunizante russo para por fim à curva ascendente de casos e mortes no país. Apesar de iniciarem uma trajetória de queda, os números diários do coronavírus ainda estão altos, segundo a agência France Presse.

(G1. Disponível em <https://bitly.com/FeK0x>. Acesso em 01.04.2021. Adaptado)

O renunciante era

- (A) presidente da Sérvia.
- (B) ministro da Saúde da Eslovênia.
- (C) primeiro-ministro de Montenegro.
- (D) ministro da Cidadania da Ucrânia.
- (E) primeiro-ministro da Eslováquia.

22. Uma das mudanças ministeriais divulgadas pelo governo nesta 2ª feira (29.mar) traz de volta à Advocacia-Geral da União (AGU) um antigo ocupante do cargo, que havia deixado a AGU, em abril de 2020, para assumir o Ministério da Justiça e Segurança Pública. Ele assume o lugar do advogado-geral que foi demitido pelo Presidente da República.

(SBT. Disponível em <https://bitly.com/XfeEH>. Acesso em 02.04.2021. Adaptado)

O novo Advogado Geral da União chama-se

- (A) Sérgio Fernando Moro.
- (B) José Levi Mello do Amaral Júnior.
- (C) André Luiz de Almeida Mendonça.
- (D) Onyx Dornelles Lorenzoni.
- (E) Marco Aurélio Mendes de Farias Mello.

23. Uma explosão no porto de Beirute, Líbano, na terça-feira (04.08.20) devastou bairros inteiros, deixando mais de 300 000 pessoas desabrigadas e causando mais de 150 mortes e 6 000 feridos, além de dezenas de desaparecidos.

(G1. Disponível em <https://bitlybr.com/kTR2me>. Acesso em 02.04.2021. Adaptado)

A explosão foi causada

- (A) por quase três toneladas de nitrato de amônio armazenado sem cuidados preventivos.
- (B) pelo choque de dois navios, um dos quais com carregamento de querosene de aviação.
- (C) pela queda de um avião de combate sírio que invadiu o espaço aéreo libanês.
- (D) pelo incêndio em um armazém iniciado por um ativista xiita.
- (E) por um homem bomba em protesto contra o governo comandado por um parlamento sunita.

24. O Banco Central passou a projetar um *superávit* nas transações correntes do país em 2021 de 2 bilhões de dólares, o equivalente a 0,2% do PIB, conforme mostra Relatório Trimestral de Inflação divulgado nesta quinta-feira (25/03). A projeção anterior, de dezembro, era de um *déficit* de 19 bilhões de dólares e a revisão refletiu uma melhora na estimativa para a balança comercial.

(Reuters. Disponível em <https://bitly.com/QuQkF>. Acesso em 01.04.2021. Adaptado)

O anúncio foi comemorado pelos meios econômicos porque

- (A) reflete o aumento da exportação de veículos para a América do Sul.
- (B) demonstra a recuperação da venda de proteína animal para a Ásia.
- (C) é um índice seguro de que a venda de serviços ampliou a carteira de exportações brasileiras.
- (D) é o primeiro resultado positivo das contas externas desde 2007.
- (E) revela a correção da política econômica do Banco Central do Brasil.

25. O Instituto Butantã de São Paulo está desenvolvendo outra vacina (Butanvac) contra o Covid 19 usando a mesma plataforma da vacina da influenza, ou seja, a Butanvac empregará a mesma tecnologia utilizada no imunizante da gripe. Todos os processos produtivos, desde a qualificação dos ovos embrionados até o envase serão realizados pelo Butantã. Entretanto, o vetor usado pela vacina tem origem em tecnologia desenvolvida por um instituto

(Ig. Disponível em <https://bitly.com/iQrxl>. Acesso em 02.03.2021. Adaptado)

- (A) chinês.
- (B) estadunidense.
- (C) inglês.
- (D) russo.
- (E) indiano.

CONHECIMENTOS ESPECÍFICOS

26. A questão social passa a exigir dos profissionais outros tipos de intervenção, para além da caridade. A gênese da questão social encontra-se fundada na
- (A) Fundamentação esquerdista da sociedade.
 - (B) Categoria Mediação.
 - (C) Contradição entre o proletariado e a burguesia.
 - (D) Ação do Trabalho Produtivo.
 - (E) Repressão do Estado.
27. De maneira sintetizada, estudo social pode ser compreendido como um processo metodológico específico do Serviço Social, que tem por finalidade
- (A) verificar se a família está “estruturada” nos padrões “normais” da sociedade capitalista.
 - (B) conhecer com profundidade, e de forma crítica, uma determinada situação ou expressão da questão social, especialmente nos seus aspectos socioeconômicos e culturais.
 - (C) compreender a realidade por meio de um preestabelecimento de visitas domiciliares à população socioeconomicamente fragilizada.
 - (D) destacar as qualidades da população usuária da assistência social no tocante ao “merecimento” de seu pleito.
 - (E) disponibilizar à equipe interdisciplinar informações sobre a situação econômica da população que busca o Serviço Social.
28. O laudo é um documento/registro para obtenção de suporte técnico-científico para resolução de uma “lide” (demanda, conflito, litígio) que, com base no estudo científico realizado, chegou-se à determinada conclusão. Para a efetivação desse registro, o profissional vai ter como referência conteúdos obtidos por tantas entrevistas, visitas, contatos, estudos documental e bibliográfico quanto considerar necessários para a finalidade do trabalho. Portanto, com base no projeto da profissão, deve considerar
- (A) fundamentação rigorosa, teórica, ética e técnica.
 - (B) fundamentação metodológica para a sua execução.
 - (C) conteúdos referentes à operacionalização do trabalho profissional.
 - (D) a transição para a fase de tecnicismo enquanto profissão.
 - (E) a transição para a dimensão técnica da profissão.
29. Constitui-se como atribuição privativa dos assistentes sociais, segundo a Lei nº 8.662/93:
- (A) orientar indivíduos e grupos de diferentes segmentos sociais no sentido de identificar recursos e de fazer uso deles no atendimento e na defesa de seus direitos.
 - (B) prestar assessoria e apoio aos movimentos sociais em matéria relacionada às políticas sociais, no exercício e na defesa dos direitos civis, políticos e sociais da coletividade.
 - (C) elaborar, implementar, executar e avaliar políticas sociais junto a órgãos da administração pública, direta ou indireta, empresas, entidades e organizações populares.
 - (D) elaborar, coordenar, executar e avaliar planos, programas e projetos que sejam do âmbito de atuação do Serviço Social com participação da sociedade civil.
 - (E) assessoria e consultoria a órgãos da Administração Pública direta e indireta, empresas privadas e outras entidades, em matéria de Serviço Social.
30. O racismo institucional possui duas dimensões interdependentes e correlacionadas: a político-programática e a das relações interpessoais. Em relação à primeira, ela compreende as ações que impedem a formulação, implementação e avaliação de políticas públicas no combate ao racismo, bem como a visibilidade do racismo nas práticas cotidianas e nas rotinas administrativas. A segunda compreende
- (A) as relações estabelecidas entre gestores/as e trabalhadores/as, entre estes e outros/as trabalhadores/as e usuários/as, sempre pautadas em atitudes discriminatórias.
 - (B) as discriminações veladas da população em geral, sobretudo os/as usuários/as do Serviço Social.
 - (C) as relações entre profissionais assistentes sociais que trabalham no contexto societário.
 - (D) as discriminações compartilhadas por assistentes sociais nas redes sociais.
 - (E) as relações permeadas por autoritarismo da classe trabalhadora que podem gerar o preconceito.
31. Em tempos difíceis, há uma tendência à atitude passiva ou à resistência, assumindo condições políticas diferenciadas pelos sujeitos coletivos. A conjuntura advinda desde a década de 1990 evidencia, com nitidez:
- (A) a materialização, no cotidiano de vida das pessoas, dos direitos sociais.
 - (B) a retração aos direitos face à universalização das relações mercantis.
 - (C) a universalização dos direitos sociais face ao trabalho profissional.
 - (D) a defesa de relações mercantis no tocante à formação profissional.
 - (E) a manifestação dos direitos sociais e o pleno acesso aos bens e serviços.

- 32.** Para a identificação das demandas e reconhecimento das situações de vida da população, e para subsidiar a formulação dos planos de Assistência Social, conforme o CFESS debate em seus Parâmetros para a atuação de Assistentes sociais na Política Nacional de Assistência Social, é necessário:
- (A) recorrer às redes públicas interligadas.
 - (B) realizar debates sobre o assunto.
 - (C) realizar pesquisas.
 - (D) intervir na situação familiar.
 - (E) recorrer à intervenção política.
- 33.** Os assistentes sociais foram os primeiros a se mobilizar em defesa da assistência social como direito, e essa luta não se deu de forma isolada. Desde sempre, esses profissionais se articularam aos movimentos da classe trabalhadora, dentre os quais, os usuários da assistência social. Essa articulação se deu e se dá desde o estímulo à organização dos usuários, passando pela sua mobilização como sujeitos individuais e coletivos, até
- (A) a finalização dessa garantia que é a política de assistência social.
 - (B) as vias políticas para obtenção dessas conquistas.
 - (C) a legalidade de suas ações profissionais.
 - (D) o fortalecimento individual para a construção de estratégias.
 - (E) a construção e fortalecimento de espaços de representação e controle democrático.
- 34.** A saúde foi uma das áreas em que os avanços constitucionais foram mais significativos. O Sistema Único de Saúde (SUS), integrante da Seguridade Social e uma das proposições do Projeto de Reforma Sanitária, foi regulamentado, em 1990, pela Lei Orgânica da Saúde (LOS). Ao compreender o SUS como uma estratégia, o Projeto de Reforma Sanitária tem como base o Estado democrático de direito, responsável pelas políticas sociais e, conseqüentemente, pela saúde. Destaca-se como premissa básica a
- (A) defesa da saúde como direito de todos e dever do Estado.
 - (B) defesa da privatização consciente da saúde.
 - (C) importância da saúde privada na contenção de gastos.
 - (D) contribuição da iniciativa da sociedade civil à saúde.
 - (E) eficiência do Estado perante a saúde.
- 35.** O Benefício de Prestação Continuada (BPC), previsto no artigo 20 da Lei nº 8.742, de 07 de dezembro de 1993 (LOAS), é:
- (A) a garantia de meio salário-mínimo mensal à pessoa que se encontra em situação de desemprego.
 - (B) a renda mensal à pessoa que trabalhou ou trabalha na zona rural, que comprove não possuir condições de prover a própria subsistência.
 - (C) o pagamento de um auxílio mensal às pessoas consideradas economicamente incapazes de prover as necessidades básicas.
 - (D) a garantia de um salário-mínimo mensal à pessoa com deficiência e ao idoso, com idade de sessenta e cinco anos ou mais, que comprovem não possuir meios para prover a própria manutenção e nem de tê-la provida por sua família.
 - (E) a garantia de um salário-mínimo mensal aos que contribuíram com a previdência social e não possuem condições de subsistência própria ou tê-la provida por sua família.
- 36.** Conforme as Orientações Técnicas sobre o Serviço de Proteção e Atendimento Integral à Família – PAIF: Trabalho Social com Famílias, no contexto do PAIF, o trabalho social com famílias deve ter por pressuposto basilar a responsabilidade estatal na proteção às famílias e assumir como embasamento de sua prática o conhecimento científico, que requer profissionais qualificados, aptos a compreender a realidade dada e construir conhecimento, com os quais questionam as estruturas sociais injustas, elaborando estratégias para modificá-las. Constitui-se como ação do PAIF:
- (A) entrevista.
 - (B) acolhida.
 - (C) triagem.
 - (D) laudo.
 - (E) cadastro.
- 37.** Constitui-se como um dos objetivos da Lei nº 12.594/2012, que institui o Sistema Nacional de Avaliação e Acompanhamento do Atendimento Socioeducativo (SINASE):
- (A) instituir o Estatuto da Criança e do Adolescente no âmbito socioeducativo.
 - (B) atribuir as finalidades da guarda provisória nas dimensões sociais e educativas.
 - (C) orientar sobre a questão previdenciária de pessoas com deficiência.
 - (D) encaminhar crianças e adolescentes ao trabalho.
 - (E) contribuir para a organização da rede de atendimento socioeducativo.

38. Considera-se população em situação de rua o grupo populacional heterogêneo que possui em comum a pobreza extrema, os vínculos familiares interrompidos ou fragilizados e a inexistência de moradia convencional regular, e que utiliza os logradouros públicos e as áreas degradadas como espaço de moradia e de sustento, de forma temporária ou permanente, bem como as unidades de acolhimento para pernoite temporário ou como moradia provisória. Além de outros, a Política Nacional para a população de rua traz como objetivos:
- (A) criar canais de desenvolvimento humano para a população.
 - (B) divulgar as pessoas em situação de rua para que sejam enquadradas perante a Lei.
 - (C) incentivar a pesquisa, produção e divulgação de conhecimentos sobre a população em situação de rua.
 - (D) criar políticas de ajustamento familiar para a população.
 - (E) realizar um esvaziamento das ruas por meio de medidas punitivas para a população em situação de rua.
39. A Lei nº 11.340, de 07 de agosto de 2006, Lei Maria da Penha, em seu artigo 7º, define as formas de violência doméstica e familiar contra a mulher. Quais são todas as formas possíveis de violência doméstica e familiar elencadas neste artigo?
- (A) Violência física, sexual e moral.
 - (B) Violência física, psicológica, sexual, patrimonial e moral.
 - (C) Violência psicológica, moral, patrimonial e sexual.
 - (D) Violência sexual e física.
 - (E) Violência física, psicológica, patrimonial e moral.
40. As Orientações Técnicas da Proteção Social Básica do Sistema Único de Assistência Social – SUAS: Centro de Referência de Assistência Social – CRAS (2009) destinadas a gestores e trabalhadores do SUAS, subsidiam o funcionamento do CRAS por todo o país. É correto afirmar que o CRAS é uma unidade de proteção social básica do SUAS, que tem por objetivo prevenir a ocorrência de situações de vulnerabilidades e riscos sociais nos territórios, por meio do desenvolvimento de potencialidades e aquisições, do fortalecimento de vínculos familiares e comunitários, e
- (A) da ampliação do acesso aos direitos de cidadania.
 - (B) da luta pela desigualdade social.
 - (C) do nivelamento social para ajustamento na sociedade.
 - (D) do acesso a bens patrimoniais para a população.
 - (E) da proteção especializada em situações de violação de direitos.
41. O artigo 10 do Estatuto do Idoso determina que é obrigação do Estado e da sociedade assegurar à pessoa idosa:
- (A) o direito e a dignidade.
 - (B) a situação de vulnerabilidade alterada.
 - (C) o acesso a novas formas de caridade e assistencialismo.
 - (D) o distanciamento intergeracional.
 - (E) a liberdade, o respeito e a dignidade.
42. O Bolsa Família é orientado pelo Decreto nº 5.209/2004, e existe como apoio às famílias que comprovadamente estão em situação de pobreza. É correto afirmar que
- (A) constitui-se em recursos de 1 salário-mínimo mensal.
 - (B) o benefício pode ser incorporado para fins previdenciários.
 - (C) tem direito a receber o benefício a pessoa que comprovar renda *per capita* de 500 reais.
 - (D) o benefício tem como objetivos promover a intersectorialidade, a complementaridade e a sinergia das ações sociais do Poder Público.
 - (E) é um benefício que prevê meio salário-mínimo às pessoas com deficiência.
43. Constituem-se como eixos estruturadores do trabalho social no Centro de Referência Especializado de Assistência Social (CREAS), conforme as Orientações Técnicas da Secretaria Nacional de Assistência Social, a atenção especializada e qualificação do atendimento; território e localização; acesso a direitos socioassistenciais; centralidade na família; mobilização e participação social; e
- (A) triagem.
 - (B) estudo socioeconômico.
 - (C) trabalho em rede.
 - (D) visitas institucionais.
 - (E) inserção em benefícios.
44. A tendência atual é tratar o trabalho social com famílias na sua instrumentalidade funcional, reiterando o movimento hegemônico da sociedade, a sua história, e também as ambiguidades contidas na orientação das próprias políticas setoriais em relação à família. Porém, o trabalho social com famílias transveste-se de velhas práticas em novos discursos. Assim, a reiteração de um processo interventivo na lógica do
- (A) isolamento das famílias.
 - (B) disciplinamento, responsabilização e culpabilização das famílias.
 - (C) distanciamento das famílias na sociedade.
 - (D) confinamento de famílias.
 - (E) reconhecimento das famílias nos seus processos.

45. É possível compreender o trabalho com famílias na perspectiva crítica partindo da compreensão da realidade social como parte de um todo contraditório, não harmônico, desigual mas combinado, articulado na própria lógica capitalista geradora
- (A) das possibilidades de conquistas para as famílias nessa sociedade.
 - (B) do retorno dessas famílias aos padrões preestabelecidos na sociedade.
 - (C) da dinamicidade das famílias.
 - (D) das múltiplas expressões da questão social.
 - (E) do desenvolvimento de uma sociedade pacífica.
46. No âmbito estatal, o retraimento das funções do Estado e a redução dos gastos sociais vêm contribuindo para o processo de desresponsabilização em relação às políticas sociais universais e, conseqüentemente,
- (A) o retrocesso na consolidação e expansão dos direitos sociais.
 - (B) o crescimento da consolidação dos direitos sociais.
 - (C) o fomento de direitos sociais pela esfera estatal.
 - (D) a fragmentação da desigualdade social.
 - (E) a sociedade justa e igualitária.
47. O trabalho profissional de assistentes sociais perpassa por dimensões importantes no processo metodológico e operativo, sendo importante destacar a necessidade de se compreender o significado da profissão, bem como a escolha dos aportes teóricos-metodológicos aliada à capacidade política de estabelecer estratégias socioprofissionais adequadas. A necessidade de atuarmos sobre a realidade é o que nos conduz ao conhecimento e que não obstante, para intervir, é preciso conhecer. Fica explícita então, como constitutiva do exercício profissional, a dimensão:
- (A) poética.
 - (B) realista.
 - (C) positivista.
 - (D) filosófica.
 - (E) investigativa.
48. A Política Pública de Assistência Social é uma conquista para a população que dela necessita. Integrada às políticas setoriais, considerando as desigualdades socioterritoriais, visando seu enfrentamento, à garantia dos mínimos sociais, ao provimento de condições para atender contingências sociais e à universalização dos direitos sociais, tem como objetivo, dentre outros:
- (A) garantir cesta básica aos indivíduos nos territórios.
 - (B) assegurar que as ações no âmbito da assistência social tenham centralidade na família, e que garantam a convivência familiar e comunitária.
 - (C) constituir um elo entre a iniciativa privada e a população.
 - (D) responsabilizar a família por suas ações e conseqüências.
 - (E) inserir o usuário nos projetos disponíveis, sem a inclusão das famílias.
49. A vigilância socioassistencial está prevista na Lei Orgânica da Assistência Social (LOAS), que, no seu art. 6º – A – Parágrafo único, tem como propósitos identificar e prevenir situações de vulnerabilidade e risco, caracterizando-se como uma importante ferramenta de gestão estratégica, estimulando a prática
- (A) do registro, planejamento, monitoramento e avaliação da política.
 - (B) de ações propostas para disseminar a cultura do ajustamento.
 - (C) de atitudes voltadas para a distribuição de materiais para a população.
 - (D) de caráter punitivo e arbitrário em busca da ordem.
 - (E) do pensamento positivista e individualista.
50. Considerando-se o contexto social, sobretudo com a intensificação da COVID 19, é importante refletir sobre a contemporaneidade, que traz tempos difíceis para:
- (A) o capital.
 - (B) os que detém o poder.
 - (C) a classe que vive do trabalho.
 - (D) os que exploram pelo trabalho.
 - (E) a classe soberana.

