



## PREFEITURA DO MUNICÍPIO DE JUNDIAÍ

ESTADO DE SÃO PAULO

CONCURSO PÚBLICO

### 001. PROVA OBJETIVA

#### AGENTE DE TRÂNSITO

- ◆ Você recebeu sua folha de respostas e este caderno contendo 50 questões objetivas.
- ◆ Confira seus dados impressos na capa deste caderno e na folha de respostas.
- ◆ Quando for permitido abrir o caderno, verifique se está completo ou se apresenta imperfeições. Caso haja algum problema, informe ao fiscal da sala para a devida substituição desse caderno.
- ◆ Leia cuidadosamente todas as questões e escolha a resposta que você considera correta.
- ◆ Marque, na folha de respostas, com caneta de tinta preta, a letra correspondente à alternativa que você escolheu.
- ◆ A duração da prova é de 3 horas, já incluído o tempo para o preenchimento da folha de respostas.
- ◆ Só será permitida a saída definitiva da sala e do prédio após transcorrida 1 hora do início da prova.
- ◆ Ao sair, você entregará ao fiscal a folha de respostas e este caderno.
- ◆ Até que você saia do prédio, todas as proibições e orientações continuam válidas.

**AGUARDE A ORDEM DO FISCAL PARA ABRIR ESTE CADERNO DE QUESTÕES.**

Nome do candidato \_\_\_\_\_

RG \_\_\_\_\_

Inscrição \_\_\_\_\_

Prédio \_\_\_\_\_

Sala \_\_\_\_\_

Carteira \_\_\_\_\_



## CONHECIMENTO GERAIS

### LÍNGUA PORTUGUESA

Leia um trecho do romance *Anel de vidro*, de Ana Luisa Escorel, para responder às questões de números **01** a **09**.

Quando apareceu a decisão de ir para o sul, a mãe começou a pregar botões onde faltavam, cerzir puídos e refazer as barras desfeitas da meia dúzia de calças que levaria.

O pai deu dois ou três conselhos de praxe, o dinheiro da passagem e um pouco mais. O tanto para aguentar perto de quinze dias na casa do tio, onde ficaria até conseguir emprego. E assim foi e ele se despediu, triste por deixar a irmã a quem era bastante ligado. Deve ter recebido a bênção protocolar, de longe. Não era hábito na família os mais velhos ficarem se expondo em demonstrações de afeto. Adulto só encostava em criança para dar cascudo.

Andou sozinho até a rodoviária, sem ninguém junto para encurtar a partida. Foi carregando a malinha – leve, quase nada dentro –, com um travo no peito e o coração aos trancos.

A viagem tomava um dia e uma noite, e eram poucas as paradas em postos de gasolina com bares cheios de moscas e banheiros imundos. No ônibus, cadeiras desconfortáveis e como companheira de viagem uma gente mirrada, graças a Deus, pois assim o barulho era pouco e ele podia descansar enquanto pensava na vida.

Vinha inquieto. Mal conhecia os tios e os primos, três rapazes regulando com ele em idade, nunca sequer os tinha visto. Moravam do outro lado da baía na cidade vizinha e mais modesta. Então, para o estudo e o trabalho, teria de se deslocar em barcaças, vinte minutos sobre o mar até o centro rico do Rio de Janeiro que o atraía para o sul. Seu propósito era trabalhar de dia e estudar à noite – Administração de Empresa – e abrir o leque das perspectivas fosse na iniciativa privada, fosse ao abrigo seguro do Estado.

Assim ia encadeando o devaneio e mesmo agora, passados bons anos, tinha viva a sequência daqueles acontecimentos, talvez porque encerrassem uma etapa selada no adeus.

Desembarcou, 24 horas de viagem nas costas, sentiu como se entrasse num mundo sem norte.

(Editora Ouro sobre Azul, 2014. Adaptado)

**01.** De acordo com o texto, é correto afirmar que o personagem

- (A) partiu de casa confiante no futuro e certo de que não sentiria saudades de nenhum de seus familiares.
- (B) enfrentou uma viagem bastante desconfortável, demasiado barulho no ônibus, rápidas paradas e banheiros sujos.
- (C) estava receoso da convivência com os primos que, embora da mesma faixa etária, havia encontrado pouquíssimas vezes.
- (D) tinha como plano trabalhar de dia e estudar à noite, a fim de obter um emprego que poderia ser no setor público.
- (E) lamentava ser obrigado a trocar o conforto e a fartura da casa paterna para morar com parentes mais humildes.

**02.** Pelas informações do sexto parágrafo, é correto concluir que o personagem

- (A) descreve os incidentes da viagem ao mesmo tempo em que eles ocorrem.
- (B) considera que foram bons os anos que passou na casa dos tios e primos.
- (C) relembra que a vinda para o Rio marcou a separação definitiva entre ele e sua terra natal.
- (D) reconhece que os projetos idealizados por ele durante a viagem infelizmente não se realizaram.
- (E) comenta as primeiras impressões na nova cidade e o entusiasmo que elas lhe provocaram.

**03.** Considere os trechos do texto.

- Quando apareceu a **decisão** de ir para o sul, a mãe começou a pregar botões... (1º parágrafo)
- O pai deu dois ou três conselhos **de praxe**, o dinheiro da passagem... (2º parágrafo)
- Foi carregando a malinha – leve, quase nada dentro –, com um travo no peito e o coração **aos trancos**. (3º parágrafo)

As expressões destacadas podem ser substituídas, respectivamente e sem alteração do sentido original, por

- (A) a resolução; habituais; agitado.
- (B) o desejo; costumeiros; inerte.
- (C) a coragem; improvisados; apreensivo.
- (D) a obrigação; especiais; sereno.
- (E) a chance; apressados; angustiado.

**04.** A relação entre ideias estabelecida pela expressão destacada no trecho do texto está corretamente indicada entre parênteses em:

- (A) ... como companheira de viagem uma gente mirrada, graças a Deus, **pois** assim o barulho era pouco... (tempo)
- (B) ... e ele podia descansar **enquanto** pensava na vida. (comparação)
- (C) **Então**, para o estudo e o trabalho, teria de se deslocar em barcaças sobre o mar até o centro rico... (conclusão)
- (D) Seu propósito era trabalhar de dia e estudar à noite... (finalidade)
- (E) ... a sequência daqueles acontecimentos, talvez **porque** encerrassem uma etapa selada no adeus. (condição)

05. Em – Foi carregando a malinha – leve, quase nada dentro –, **com um travo no peito** e o coração aos trancos. –, a expressão destacada apresenta circunstância adverbial de
- (A) causa, como em: **À revelia dos pais**, inscreveu-se no curso de engenharia.
  - (B) causa, como em: **Por negligência**, não percebeu o erro no documento.
  - (C) modo, como em: Pesquisou horas **na internet** para encontrar os dados.
  - (D) modo, como em: Fez o trajeto turístico **com pessoas muito simpáticas**.
  - (E) modo, como em: **Sem qualquer receio**, apoiou o colega na empreitada.

06. Na frase do segundo parágrafo – Deve ter recebido a bênção **protocolar**, de longe. –, o termo destacado qualifica a palavra a que se refere (bênção). A mesma situação ocorre com o termo em destaque na alternativa:

- (A) Quando apareceu a decisão de ir para o **sul**, a mãe começou a pregar botões...
- (B) Não era hábito na família os mais velhos ficarem se expondo em **demonstrações** de afeto.
- (C) Foi carregando a **malinha** – leve, quase nada dentro...
- (D) Moravam do outro lado da baía na cidade vizinha e mais **modesta**.
- (E) ... o leque das perspectivas fosse na iniciativa privada, fosse ao **abrigo** seguro do Estado.

07. Assinale a alternativa em que a frase está redigida em conformidade com a regência verbal e/ou nominal padrão.

- (A) Havia paradas em postos de gasolina com os quais os bares e banheiros eram repugnantes.
- (B) Ao partir, entristeceu-se por ter de se separar da irmã à qual era muito afeiçoado.
- (C) A cidade onde residiria, da qual se situava do outro lado da baía, era menos rica que o centro do Rio de Janeiro.
- (D) Demonstrações de afeto, com as quais os mais velhos não eram propensos, eram raras no convívio familiar.
- (E) Carregando a mala, a qual havia poucas coisas, seguiu solitário para a rodoviária.

08. Considere os trechos do texto.

- ... para aguentar perto de quinze dias na casa do tio, onde ficaria **até** conseguir emprego. (2º parágrafo)
- Adulto só encostava em criança **para** dar cascudo. (2º parágrafo)
- Andou sozinho até a rodoviária, **sem** ninguém junto para encurtar a partida. (3º parágrafo)

As preposições destacadas passam, respectivamente, a noção de

- (A) limite; conformidade; oposição.
- (B) limite; finalidade; privação.
- (C) limite; direção; tempo.
- (D) distância; finalidade; oposição.
- (E) distância; conformidade; privação.

09. De acordo com a concordância verbal e nominal estabelecida pela norma-padrão, está correta a alternativa:

- (A) Antes de ele partir, a mãe se dedicou ela mesmo a consertar as roupas do filho.
- (B) A quantia dada pelo pai serviriam para os primeiros dias na nova cidade.
- (C) Em sua mala estava guardadas meia dúzia de calças.
- (D) Não veio familiares ou amigos para o acompanhar à rodoviária.
- (E) Seriam vinte minutos sobre o mar até que as barcas chegassem ao centro do Rio.

Leia o texto para responder às questões de números 10 a 14.

#### *Pegar o bonde andando*

Expressão antiga. Literalmente, era tomar o veículo em movimento, com cuidado para não levar um espetacular tombo e perder uma perna nessa travessura. Em sentido **não literal**, significa “pegar uma conversa pela metade, entrar num assunto sem saber direito do que se trata”. Mas falemos do bonde propriamente dito. Se você é jovem, não deve tê-lo conhecido. **Portanto**, é bom saber que, durante décadas, ele foi figurinha fácil na paisagem urbana das maiores cidades brasileiras.

O berço do vocábulo é curioso. O dinheiro que financiou os primeiros desses veículos que circularam entre nós no século 19 veio de um empréstimo negociado com a Grã-Bretanha. Para garanti-lo, foram emitidos *bonds* (títulos a receber). Esses *bonds*, usados pelos passageiros, exibiam a figura do veículo. O nome pegou e o povo passou a chamar de “bonde” não só o bilhete, mas o próprio veículo.

O bonde deixou saudade. Gente da terceira e até da quinta idade ainda se lembra da popular figura do “almofadinha”. Como os bancos dos bondes eram de madeira, sem muito conforto, esses sujeitos levavam almofadas **onde** se sentavam durante a viagem e, vento no rosto, iam cultivando seus sonhos.

Enquanto isso, o cobrador, pendurado no estribo, ia cobrando a passagem, e, às vezes, era obrigado a ouvir os mais gozadores assim cantarolando: “Din din din din, dois pra Light e um pra mim” (Light era a concessionária que prestava o serviço).

(Márcio Cotrim. *Revista Língua Portuguesa*, fevereiro de 2014. Adaptado)

10. Os termos destacados podem ser substituídos, respectivamente e sem alteração do conteúdo do texto, por:

- (A) próprio ... Então ... em que
- (B) próprio ... Além disso ... a que
- (C) figurado ... Então ... em que
- (D) figurado ... Porque ... para que
- (E) figurado ... Além disso ... a que

11. Pelas informações do texto, é correto afirmar que

- (A) os bondes causavam vários acidentes, embora não circulassem pela maioria dos bairros das grandes cidades.
- (B) os mais velhos não têm boas recordações dos bondes, pois esses veículos eram pouco seguros.
- (C) os “almofadinhas” eram aqueles passageiros que utilizavam diariamente os bondes.
- (D) o termo “bonde” está associado a empréstimos britânicos que favoreceram esse meio de transporte no Brasil.
- (E) os cobradores muito se ofendiam com as brincadeiras feitas por alguns passageiros mais gozadores.

12. No trecho do terceiro parágrafo – ... esses sujeitos levavam almofadas onde se sentavam durante a viagem e, vento no rosto, iam cultivando seus sonhos. –, é correto afirmar que o autor

- (A) esclarece o sentido de um termo citado no texto.
- (B) retifica uma ideia expressa anteriormente.
- (C) faz uma suposição sobre certos hábitos urbanos.
- (D) insere uma comparação entre ideias.
- (E) expõe uma contradição entre os fatos mencionados.

13. Considere as frases elaboradas a partir do texto.

- Tombos espetaculares eram comuns, e pegar o bonde em movimento exigia cuidado para **evitar esses tombos**.
- A imagem dos bondes tornava-se popular, especialmente pelas passagens que **traziam a imagem dos veículos** impressa no papel.

Atendendo ao emprego e à colocação dos pronomes determinados pela norma-padrão, as expressões destacadas podem ser substituídas por:

- (A) evitá-los; traziam-na
- (B) evitá-los; a traziam
- (C) evitar-lhes; a traziam
- (D) evitar-lhes; lhe traziam
- (E) evitar-lhes; traziam-na

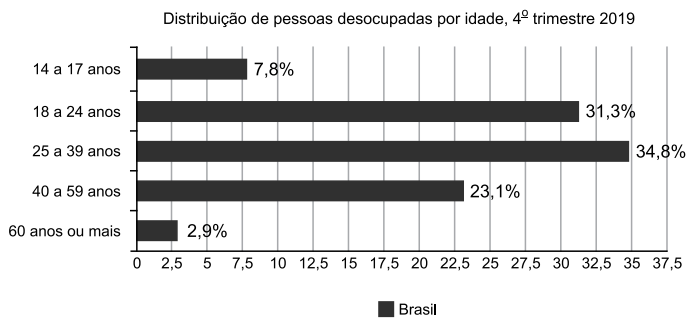
14. O sinal indicativo de crase foi corretamente empregado na alternativa:

- (A) O texto selecionado propõe-se à explicar a origem do termo “bonde”.
- (B) No século 19, o bonde tornou-se um veículo adequado à grandes metrópoles.
- (C) Em meio à correria do dia a dia, alguns faziam a travessura de subir no bonde em movimento.
- (D) Alguns levavam almofadas para se sentar a fim de que os bancos dessem mais conforto à eles.
- (E) Os versinhos cantarolados por alguns passageiros mencionavam à Light, que era uma empresa estrangeira.

15. Assinale a alternativa em que a pontuação está empregada em conformidade com a norma-padrão.

- (A) Chegou muito atrasado à reunião e não conseguiu (se inteirar) das novas medidas tomadas pela diretoria da empresa, portanto como pegou o bonde andando, optou por permanecer calado e não dizer bobagens.
- (B) Chegou muito atrasado à reunião, e não conseguiu se inteirar das novas medidas tomadas pela diretoria da empresa portanto como, pegou o bonde andando, optou por permanecer calado e não dizer bobagens.
- (C) Chegou muito atrasado à reunião e não conseguiu se inteirar das novas medidas – tomadas pela diretoria da empresa – portanto como pegou o bonde andando optou, por permanecer calado, e não dizer bobagens.
- (D) Chegou (muito atrasado) à reunião e não conseguiu se inteirar das novas medidas tomadas pela diretoria da empresa; portanto como pegou, o bonde andando, optou por permanecer calado e não dizer bobagens.
- (E) Chegou muito atrasado à reunião e não conseguiu se inteirar das novas medidas tomadas pela diretoria da empresa, portanto, como pegou o bonde andando, optou por permanecer calado e não dizer bobagens.

16. O gráfico a seguir apresenta, por faixas de idade, as taxas de pessoas desocupadas, ou seja, pessoas que buscavam emprego no Brasil no 4º trimestre de 2019.



(Fonte: "IBGE – Pesquisa Nacional por Amostra de Domicílios Contínua Trimestral")

Considerando que o total de pessoas desocupadas no 4º trimestre de 2019 era de 12 000 000 e os dados apresentados no gráfico, analise as seguintes afirmações referentes ao 4º trimestre de 2019:

- I. O número de pessoas desocupadas com 60 anos ou mais de idade era de 348 000.
- II. 76,9% das pessoas com 40 a 59 anos de idade estavam empregadas.
- III. A diferença entre o número de pessoas desocupadas com 25 a 39 anos e o número de pessoas desocupadas com 60 anos ou mais de idade era inferior a 20 000.
- IV. A porcentagem de pessoas desocupadas com 25 anos ou mais de idade era superior a 50%.

As duas únicas afirmações corretas são:

- (A) I e II.
- (B) I e III.
- (C) I e IV.
- (D) II e III.
- (E) II e IV.

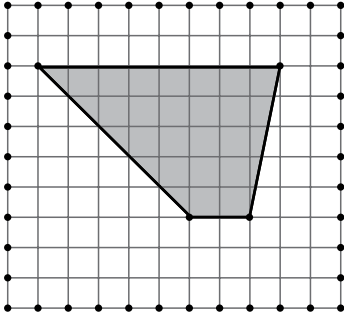
17. Analise as seguintes afirmações que indicam equivalências entre unidades de medida das grandezas comprimento, área, capacidade, tempo e massa, respectivamente:

- I.  $0,64 \text{ m} = 64 \text{ mm}$ .
- II.  $5,2 \text{ m}^2 = 5 \text{ m}^2 + 2 \text{ dm}^2$ .
- III.  $0,7 \text{ m}^3 = 70 \text{ litros}$ .
- IV.  $5,30 \text{ h} = 5 \text{ h} + 18 \text{ min}$ .
- V.  $35,2 \text{ g} = 0,352 \text{ kg}$ .

A única afirmativa correta é:

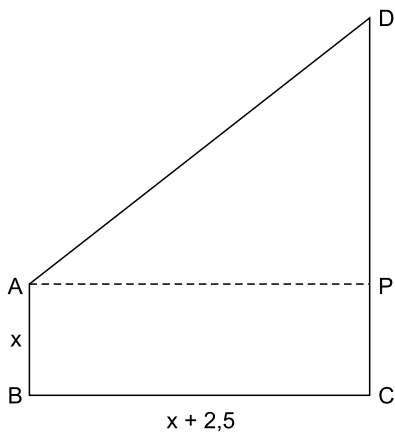
- (A) I.
- (B) II.
- (C) III.
- (D) IV.
- (E) V.

18. O trapézio da figura, desenhado em uma malha quadriculada, representa um terreno. A medida do lado de cada quadradinho da malha corresponde a 8 metros.



Assim, a área do terreno, em metros quadrados, representado na figura, é igual a

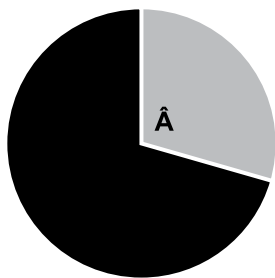
- (A) 200.
  - (B) 400.
  - (C) 800.
  - (D) 1600.
  - (E) 3200.
19. O polígono ABCD da figura a seguir representa uma sala. A área da sala que corresponde ao retângulo ABCP é igual a  $6 \text{ m}^2$ .



Sabe-se que a medida do segmento PD é igual a 7,5 m. Desta forma, o perímetro da sala é igual a

- (A) 23 m.
- (B) 24 m.
- (C) 25 m.
- (D) 26 m.
- (E) 27 m.

20. Uma indústria produz 240 equipamentos em 6 dias, utilizando as máquinas funcionando 12 horas por dia. O tempo diário necessário para que essas mesmas máquinas produzam 360 equipamentos em 8 dias será igual a
- (A) 13 h 50 min.  
(B) 13 h 30 min.  
(C) 13 h 15 min.  
(D) 12 h 50 min.  
(E) 12 h 30 min.
21. Mediu-se a pressão sanguínea de cada pessoa de um grupo de pessoas. Desse grupo, apenas 40% estavam com a pressão normal. Entre as pessoas que não estavam com a pressão normal, 75% tinham diabetes, o que corresponde a 90 pessoas. O número de pessoas desse grupo é igual a
- (A) 200.  
(B) 240.  
(C) 280.  
(D) 330.  
(E) 360.
22. Em uma empresa, há 18 empregados que têm curso superior e 42 que não têm o curso superior. O gráfico a seguir representa essa relação entre esses dois grupos da empresa.



■ Têm curso superior  
■ Não têm curso superior

É correto afirmar que o ângulo  $\hat{A}$  tem medida igual a:

- (A)  $150^\circ$   
(B)  $135^\circ$   
(C)  $120^\circ$   
(D)  $110^\circ$   
(E)  $108^\circ$



23. No quadro a seguir constam os salários dos 20 funcionários de um dos departamentos de uma empresa.

Nº de funcionários	Salário (R\$)
6	1.500,00
8	2.500,00
4	4.000,00
2	10.000,00

A média salarial do referido departamento é igual a

- (A) R\$ 2.500,00.  
(B) R\$ 2.750,00.  
(C) R\$ 3.250,00.  
(D) R\$ 3.750,000.  
(E) R\$ 4.500,00.
24. A razão entre o comprimento e a largura de um quadro retangular é de 5 para 8, e a soma dessas medidas é igual a 104 cm. Assim, a largura desse quadro é igual a
- (A) 68 cm.  
(B) 64 cm.  
(C) 60 cm.  
(D) 58 cm.  
(E) 52 cm.
25. Os funcionários de uma empresa tiveram que optar pelo horário de almoço mais conveniente: 11 horas, 12 horas e 13 horas. Cada funcionário escolheu apenas um horário. Sabe-se que  $\frac{1}{4}$  do total de funcionários escolheu 11 horas,  $\frac{3}{5}$  do total escolheu 12 horas, e os demais, 12 funcionários, escolheram 13 horas. O número de funcionários que escolheram 12 horas é igual a
- (A) 30.  
(B) 36.  
(C) 40.  
(D) 45.  
(E) 48.

26. No Microsoft Windows 7, em sua configuração padrão, um usuário está tentando gravar um arquivo texto usando o Bloco de Notas, com o nome *Questões finais?*, mas não está conseguindo êxito. Isso acontece porque o nome do arquivo contém
- (A) uma interrogação, o que não é permitido no Windows.
  - (B) um espaço em branco, o que não é permitido no Windows.
  - (C) mais do que 8 caracteres, que é o limite máximo aceito pelo Windows.
  - (D) acentuação, o que não é permitido no Windows.
  - (E) letras maiúsculas, o que não é permitido no Windows.

27. Em um documento em branco, no Microsoft Word 2010, em sua configuração original, antes de qualquer digitação, um usuário efetuou as 4 seguintes ações:

- I. Clicou no ícone Cor do realce do texto do grupo Fonte, da guia Página Inicial e selecionou a cor amarela.
- II. Clicou no ícone Negrito.
- III. Em seguida digitou a palavra Jundiaí.
- IV. Pressionou ENTER.

Com isso, a palavra ficou \_\_\_\_\_, também \_\_\_\_\_ e qualquer texto digitado na segunda linha ficará \_\_\_\_\_.

- (A) sem nenhum realce ... em negrito ... com realce amarelo
- (B) com realce amarelo ... em negrito ... sem nenhum realce
- (C) sem nenhum realce ... não ficou em negrito ... com realce amarelo
- (D) com realce amarelo ... não ficou em negrito ... sem nenhum realce
- (E) sem nenhum realce ... em negrito ... sem nenhum realce

28. Tem-se a seguinte planilha, criada no Microsoft Excel 2010, em sua configuração original.

	A
1	1,26

Assinale a alternativa com o resultado a ser exibido na célula A1 quando o usuário a seleciona e executa 2 ações sequenciais: primeiro, efetua um clique com o botão principal do mouse no ícone de Aumentar Casas Decimais. Em seguida, nessa mesma célula com o resultado da primeira ação, esse usuário efetua um clique com o botão principal do mouse no ícone de Diminuir Casas Decimais.

- (A) 1,260 e 1,2
- (B) 1,260 e 1,3
- (C) 1,260 e 1,26
- (D) 1,26 e 1,2
- (E) 1,26 e 1,3

29. Em uma apresentação com 5 slides criada no Microsoft PowerPoint 2010, em sua configuração padrão, sem nenhum slide oculto, o slide 4 contém 4 AutoFormas e está configurado com uma transição. Cada uma das AutoFormas (A, B, C e D) está configurada da seguinte maneira:

- I. a AutoForma A contém uma animação de entrada configurada, acionada por um clique do mouse.
- II. a AutoForma B contém uma animação de saída configurada, acionada por um clique do mouse.
- III. a AutoForma C não contém nenhuma animação configurada.
- IV. a AutoForma D contém uma animação de entrada configurada, acionada por um clique do mouse.

Considerando que o slide 3 não tem nenhuma animação ou transição configurados, assinale a alternativa que indica qual é o primeiro evento a acontecer no slide 4, quando o usuário está no slide 3, em Modo de Apresentação, e pressiona ENTER.

- (A) Animação da AutoForma A.
- (B) Transição do slide.
- (C) Animação da AutoForma B.
- (D) Exibição da AutoForma C.
- (E) Animação da AutoForma D.

30. Assinale a alternativa que indica como deve ser feita, no site Google, a pesquisa para procurar pelo termo exato Prefeitura Municipal de Jundiaí.

- (A) exact: Prefeitura Municipal de Jundiaí
- (B) [Prefeitura Municipal de Jundiaí]
- (C) \*Prefeitura Municipal de Jundiaí\*
- (D) "Prefeitura Municipal de Jundiaí"
- (E) -Prefeitura Municipal de Jundiaí-

## CONHECIMENTOS ESPECÍFICOS

31. Conforme Lei Municipal nº 7.219 de 2008, considera-se veículo abandonado aquele que estiver estacionado no mesmo local por:

- (A) 3 dias consecutivos.
- (B) 10 dias consecutivos.
- (C) 20 dias consecutivos.
- (D) 30 dias consecutivos.
- (E) 60 dias consecutivos.

32. Assinale a alternativa que complementa corretamente o texto seguinte:

“Nas infrações cometidas com combinação de veículos, será autuada \_\_\_\_\_.”

- (A) a unidade tracionada
- (B) a unidade tratora ou a unidade tracionada
- (C) a unidade tratora e a unidade tracionada
- (D) preferencialmente a unidade tracionada e, na impossibilidade desta, a unidade tratora
- (E) preferencialmente a unidade tratora e, na impossibilidade desta, a unidade tracionada

33. Assinale a alternativa que complementa o art. 257 do Código de Trânsito Brasileiro – CTB:

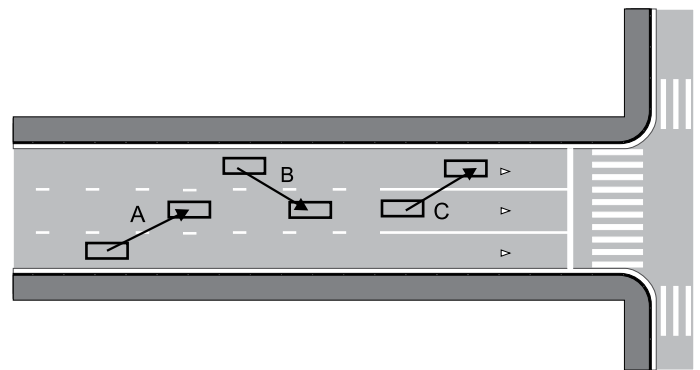
“As penalidades serão impostas \_\_\_\_\_, salvo os casos de descumprimento de obrigações e deveres impostos a pessoas físicas ou jurídicas expressamente mencionadas neste Código.”

- (A) ao condutor e ao proprietário do veículo
- (B) ao condutor e ao transportador
- (C) ao condutor e ao embarcador
- (D) ao condutor, ao proprietário do veículo e ao embarcador
- (E) ao condutor, ao proprietário do veículo, ao embarcador e ao transportador

34. A medida administrativa referente ao ato de “deslocar o veículo do local onde é verificada a infração para depósito fixado pela autoridade de trânsito com circunscrição sobre a via” consiste, com relação ao veículo, em

- (A) apreensão.
- (B) retenção.
- (C) remoção.
- (D) imobilização.
- (E) depósito.

35. Observando os movimentos A, B e C dos veículos representados na figura, assinale a alternativa que caracteriza o tipo de movimento, aqueles que são proibidos e os que são permitidos.



- (A) Transposição de faixa, sendo os movimentos A, B e C permitidos.
- (B) Transposição de faixa, sendo os movimentos A e B permitidos, e o C, proibido.
- (C) Transposição de faixa, sendo o movimento A permitido, e os movimentos B e C, proibidos.
- (D) Ultrapassagem de faixa, sendo os movimentos A, B e C permitidos.
- (E) Ultrapassagem de faixa, sendo os movimentos A e B permitidos, e o movimento C, proibido.

36. Assinale a alternativa que contém a natureza, as penalidades e/ou medidas administrativas previstas no CTB para a infração:

“Estacionar o veículo em locais e horários proibidos especificamente pela sinalização (placa – Proibido Estacionar)”.

- (A) Leve; advertência por escrito.
- (B) Leve; multa; remoção do veículo.
- (C) Média; multa; remoção do veículo.
- (D) Média; advertência por escrito; retenção do veículo.
- (E) Média; multa; apreensão do veículo.

37. Pelo artigo 96 do CTB, os veículos são classificados, conforme a categoria, em:
- (A) oficial; de representação diplomática, de repartições consulares de carreira ou organismos internacionais acreditados junto ao Governo brasileiro; de passageiro; particular e adaptados à pessoa com deficiência.
  - (B) oficial; de representação diplomática, de repartições consulares de carreira ou organismos internacionais acreditados junto ao Governo brasileiro; de aluguel; particular e de aprendizagem.
  - (C) emergência; de representação diplomática, de repartições consulares de carreira ou organismos internacionais acreditados junto ao Governo brasileiro; escolar e adaptados à pessoa com deficiência.
  - (D) emergência; de representação diplomática, de repartições consulares de carreira ou organismos internacionais acreditados junto ao Governo brasileiro; de passageiro e adaptados à pessoa com deficiência.
  - (E) emergência; de representação diplomática, de repartições consulares de carreira ou organismos internacionais acreditados junto ao Governo brasileiro; de aluguel; de passageiro e de aprendizagem.
38. O estabelecimento de normas regulamentares, constantes do Código de Trânsito Brasileiro e as diretrizes da Política Nacional de Trânsito são de competência do
- (A) CONTRAN.
  - (B) CETRAN.
  - (C) CONTRANDIFE.
  - (D) CETRAN e do CONTRANDIFE.
  - (E) Ministério dos transportes.
39. Segundo o Código de Trânsito Brasileiro – CTB, entende-se por deslocamento lateral
- (A) movimentos de conversão à direita, à esquerda e ultrapassagens.
  - (B) movimentos de conversão à direita, à esquerda e retornos.
  - (C) transposição de faixas, movimentos de conversão à direita, à esquerda e ultrapassagens.
  - (D) transposição de faixas, movimentos de conversão à direita, à esquerda e retornos.
  - (E) transposição de faixas, movimentos de conversão e ultrapassagens.
40. Segundo o Código de Trânsito Brasileiro – CTB, os sinais de trânsito classificam-se em: verticais; horizontais;
- (A) luminosos; sonoros; gestos e apito do agente de trânsito.
  - (B) semafóricos; gestos do agente de trânsito e do condutor.
  - (C) dispositivos de sinalização auxiliar; semafóricos; gestos do agente de trânsito.
  - (D) dispositivos de sinalização auxiliar; luminosos; sonoros; gestos do agente de trânsito e do condutor.
  - (E) dispositivos de sinalização auxiliar; sonoros; gestos e apito do agente de trânsito.
41. Conforme disposições contidas no art.105 do CTB, que estabelece os equipamentos obrigatórios para os veículos, assinale a alternativa correta.
- (A) Registrador instantâneo inalterável de velocidade e tempo, para todos os veículos de transporte de passageiros.
  - (B) Cinto de segurança, exceto nos veículos destinados ao transporte de passageiros, em percursos em que seja permitido viajar em pé.
  - (C) Encosto de cabeça, exceto para veículos destinados a transporte de passageiros, em percursos em que seja permitido viajar em pé.
  - (D) Equipamento suplementar de retenção – *air bag* obrigatório somente para o condutor.
  - (E) Dispositivo destinado ao controle de emissão de gases poluentes e de ruído somente para veículos de transporte de passageiros e de carga, com peso bruto total superior a quatro mil e quinhentos e trinta e seis quilogramas.
42. Assinale a alternativa que contém a natureza, as penalidades e/ou medidas administrativas previstas no CTB para a infração:
- “Dirigir ameaçando os pedestres que estejam atravessando a via pública ou os demais veículos.”
- (A) Grave; multa; recolhimento do documento de habilitação.
  - (B) Grave; multa (três vezes); recolhimento do documento de habilitação.
  - (C) Gravíssima; multa.
  - (D) Gravíssima; multa (três vezes); recolhimento do documento de habilitação.
  - (E) Gravíssima; multa e suspensão do direito de dirigir; retenção do veículo e recolhimento do documento de habilitação.

43. Assinale a alternativa que contém, corretamente, os prazos previstos no CTB, para aplicação da penalidade de suspensão do direito de dirigir quando o infrator atingir a contagem de 20 pontos, no período de 12 meses.

- (A) 2 (dois) meses, no mínimo, até o máximo de 6 (seis) meses, e, no caso de reincidência no período de 12 (doze) meses, pelo prazo mínimo de 6 (seis) meses até o máximo de 18 (dezoito) meses.
- (B) 2 (dois) meses a 1 (um) ano e, no caso de reincidência no período de 12 (doze) meses, de 6 (seis) meses a 2 (dois) anos.
- (C) 6 (seis) meses a 1 (um) ano e, no caso de reincidência no período de 12 (doze) meses, de 8 (oito) meses a 2 (dois) anos.
- (D) 3 (três) meses a 6 (seis) meses e, no caso de reincidência no período de 12 (doze) meses, de 6 (seis) meses a 1 (um) ano.
- (E) 3 (três) meses a 1 (um) ano e, no caso de reincidência no período de 12 (doze) meses, de 8 (oito) meses a 18 (dezoito) meses.

44. Assinale a alternativa que complementa corretamente o art. 280 do Código de Trânsito Brasileiro – CTB:

“Ocorrendo infração prevista na legislação de trânsito, lavrar-se-á auto de infração, do qual constará:






- I. \_\_\_\_\_ da infração;
- II. local, data e hora \_\_\_\_\_;
- III. caracteres da placa de identificação do veículo, \_\_\_\_\_, e outros elementos julgados necessários à sua identificação;
- IV. o prontuário do condutor, sempre que possível;
- V. identificação do órgão ou entidade e \_\_\_\_\_ ou equipamento que comprovar a infração;
- VI. \_\_\_\_\_, valendo esta como notificação do cometimento da infração.”

- (A) tipificação ... do cometimento da infração ... sua marca e espécie ... da autoridade ou agente autuador ... assinatura do infrator, sempre que possível
- (B) enquadramento ... da lavratura do auto de infração ... espécie e categoria ... do agente autuador ... assinatura do infrator, sempre que possível
- (C) tipificação ... da lavratura do auto de infração ... sua marca e categoria ... de uma autoridade ... assinatura do infrator sempre que possível
- (D) enquadramento ... do cometimento da infração ... espécie e categoria ... do agente autuador ... assinatura do agente
- (E) enquadramento ... da lavratura do auto da infração ... sua marca e espécie ... do agente autuador ... assinatura do agente

45. O Anexo I do Código de Trânsito Brasileiro – CTB define como agente da autoridade de trânsito:

- (A) dirigente máximo de órgão ou entidade, executivo integrante do Sistema Nacional de Trânsito.
- (B) pessoa credenciada para o exercício somente das atividades de fiscalização de trânsito.
- (C) pessoa, civil ou policial militar, credenciada pela autoridade de trânsito para o exercício das atividades de fiscalização, operação, policiamento ostensivo de trânsito ou patrulhamento.
- (D) pessoa civil, credenciada pela autoridade de trânsito para o exercício somente das atividades de fiscalização e operação de trânsito.
- (E) pessoa, civil ou policial militar, credenciada pela autoridade de trânsito para o exercício das atividades de fiscalização, operação e policiamento ostensivo.

46. O sinal R-24b – “Passagem obrigatória” é representado pela seguinte figura, com as características: fundo branco, símbolo preto e orla vermelha.

- (A) 
- (B) 
- (C) 
- (D) 
- (E) 

47. A sinalização vertical que tem por finalidade informar aos usuários as condições, proibições, obrigações ou restrições no uso das vias e cujo desrespeito a ela constitui infração, é a sinalização
- (A) de regulamentação.
  - (B) de advertência.
  - (C) de orientação.
  - (D) de indicação.
  - (E) educativa.
48. De acordo com o Código de Trânsito Brasileiro – CTB, para a emissão da ordem de “parada obrigatória para todos os veículos”, o agente deve
- (A) emitir um sinal de apito com dois silvos breves.
  - (B) estar com o braço estendido horizontalmente, com a palma da mão voltada para baixo, fazendo movimentos verticais, e emitir um sinal de apito com um silvo breve.
  - (C) estar com os dois braços estendidos horizontalmente, com a palma da mão voltada para a frente, e emitir um sinal de apito com um silvo breve.
  - (D) estar com o braço levantado verticalmente, com a palma da mão para a frente, e emitir um sinal de apito com dois silvos breves.
  - (E) estar com o braço levantado verticalmente, com a palma da mão para a frente, e emitir um sinal de apito com um silvo breve.
49. Conforme Manual Brasileiro de Fiscalização e Código de Trânsito Brasileiro, equiparam-se a pedestres, em direitos e deveres, nas vias públicas:
- (A) somente o ciclista desmontado, empurrando bicicleta.
  - (B) o ciclista e o motociclista desmontados, empurrando a bicicleta e a motocicleta.
  - (C) o ciclista e o motociclista desmontados, empurrando a bicicleta motorizada e a motoneta.
  - (D) o ciclista e o motociclista, ambos desmontados, e/ou empurrando a bicicleta e o ciclomotor.
  - (E) o ciclista e o motociclista, ambos desmontados, e/ou empurrando seus veículos, quer motorizados ou não.
50. Conforme Resolução Contran 396/2011, a medição das velocidades desenvolvidas pelos veículos automotores, elétricos, reboques e semirreboques nas vias públicas deve ser efetuada por meio de instrumento ou equipamento que registre ou indique a velocidade medida, com ou sem dispositivo registrador de imagem, dos seguintes tipos:
- (A) fixo e portátil.
  - (B) estático e móvel.
  - (C) estático, móvel e portátil.
  - (D) fixo, estático e móvel.
  - (E) fixo, estático, móvel e portátil.



