



CÂMARA MUNICIPAL DE ORLÂNDIA

ESTADO DE SÃO PAULO

CONCURSO PÚBLICO

001. PROVA OBJETIVA

CONTADOR

- ◆ Você recebeu sua folha de respostas e este caderno contendo 50 questões objetivas.
- ◆ Confira seus dados impressos na capa deste caderno e na folha de respostas.
- ◆ Quando for permitido abrir o caderno, verifique se está completo ou se apresenta imperfeições. Caso haja algum problema, informe ao fiscal da sala para a devida substituição desse caderno.
- ◆ Leia cuidadosamente todas as questões e escolha a resposta que você considera correta.
- ◆ Marque, na folha de respostas, com caneta de tinta preta, a letra correspondente à alternativa que você escolheu.
- ◆ A duração da prova é de 3 horas, já incluído o tempo para o preenchimento da folha de respostas.
- ◆ Só será permitida a saída definitiva da sala e do prédio após transcorrida 1 hora do início da prova.
- ◆ Deverão permanecer em cada uma das salas de prova os 3 últimos candidatos, até que o último deles entregue sua prova, assinando termo respectivo.
- ◆ Ao sair, você entregará ao fiscal a folha de respostas e este caderno.
- ◆ Até que você saia do prédio, todas as proibições e orientações continuam válidas.

AGUARDE A ORDEM DO FISCAL PARA ABRIR ESTE CADERNO.

Nome do candidato

RG

Inscrição

Prédio

Sala

Carteira

CONHECIMENTOS GERAIS

LÍNGUA PORTUGUESA

Leia o texto a seguir para responder às questões de números 01 a 09.

Bilionários

Fernando Schüller

No auge da brabeza global pela compra do Twitter, por Erlon Musk, li um curioso argumento, dito por um ativista de redes sociais. Segundo ele, toda vez que Musk fica mais rico, a humanidade ficaria mais pobre. Na sua cabeça, a riqueza global deve ser como uma espécie de bolo gigante, de modo que, se algum guloso pega um naco muito grande para si, sobra menos para os demais. Uma deputada resolveu ser mais direta: bilionários “nem deveriam existir”, disse ela. Me caiu os butiá dos bolso*, como se diz lá no Sul. O que o sujeito faria, exatamente, se abrisse uma empresa e ela começasse a crescer? Se, vendendo sua participação, outros ficassem bilionários? Por que ele continuaria investindo e fazendo negócios? Por esporte? Desconfio que não ia funcionar.

Há uma enorme confusão aí sobre como se gera valor e como alguém se torna um bilionário, em uma economia de mercado. O bilionário que eu mais ajudo a ser um bilionário é Jeff Bezos. Não compro ações, mas livros, em sua loja virtual. Eu poderia comprar ali na livraria do bairro, que segura as pontas como pode, mas acabo não me dando ao trabalho. Às vezes penso que estou sendo egoísta fazendo isso. Em todo caso, ao menos no que me diz respeito, a teoria daquele ativista não funciona. A cada vez que eu compro um livro lá, Bezos fica mais rico e eu de bem com a vida.

Há quem ache que exista uma “aristocracia global”, transmitindo sua fortuna de geração em geração. De fato, há muita gente que herda sua fortuna. Não vejo problema nisso. Há os que investem ainda mais, geram ainda mais riqueza, e outros torram tudo. Me lembro das histórias de pessoa gastando até o último centavo e batendo as botas sem um vintém, num hotel de luxo. Há os que ganham pelo casamento, como a ex-mulher do Bezos, Mackenzie Scott, que se tornou uma das mais ativas filantropas do planeta. Semanas atrás, doou 27 milhões de reais à ONG brasileira Gerando Falcões, focada em criar oportunidades para jovens de menor renda.

A primeira coisa interessante a discutir sobre os bilionários é sobre como foi obtido o dinheiro. Se o sujeito cria uma empresa inovadora, oferecendo algo que melhore a vida das pessoas, temos mais é que contar a sua história em nossas escolas e inspirar mais jovens nessa direção. Foi o que fez Pedro Franceschi, guri carioca de 25 anos que criou uma fintech** inovadora, de cartões de crédito. E este ano consta lá da lista dos mais ricos, da Forbes, com 1,5 bilhão. Vai fazer o que com Pedro? Pedir a ele que devolva meio bilhão? Pedir para ele se aposentar? De minha parte, acho o oposto. É bom que ele exista, e que o seu sucesso sirva de exemplo. Ideias inovadoras fazem o mundo andar para a frente.

O que realmente deveríamos combater é a riqueza obtida da fraude, dos privilégios criados para alguns.

O que realmente deveríamos fazer é mudar o disco. Em vez do ranço contra quem inova e gera valor, perder o sono com o que se passa na base da pirâmide. Perguntar como é possível, em pleno 2022, que um quarto da população viva em situação

de pobreza ou extrema pobreza e que ensinemos menos de 5% do que nossos alunos deveriam saber de matemática, nas redes públicas, no fim do ensino médio, depois imaginando que eles terão boas chances no mercado de trabalho.

É preciso olhar para a frente, em vez de tomar, todo santo dia, o veneno das velhas ideias.

(Revista *Veja*, 11 de maio de 2022. Adaptado)

* Me caiu os butiá dos bolso = expressão regionalista típica do Rio Grande do Sul. Usa-se para dizer que a pessoa está impressionada, assustada.

** fintech = termo que surgiu da união das palavras “financeira” e “technology” = tecnologia e inovação aplicadas na solução de serviços financeiros.

01. De acordo com informações textuais,

- (A) a alegação de um ativista de que a riqueza de alguém é diretamente proporcional à pobreza de muitos vai ao encontro das ideias do autor.
- (B) uma deputada, sutilmente, opinou que pessoas muito ricas prejudicam o desenvolvimento de pequenas empresas.
- (C) o fato de alguém abrir uma empresa e muitos enriquecerem às suas custas faz com que a pobreza cresça cada vez mais.
- (D) as escolas podem e devem incentivar os jovens para a criação de empresas que tragam benefícios à população.
- (E) um jovem de 25 anos criou uma empresa inovadora, ganhou muito dinheiro e doou meio bilhão a uma ONG que cuida de talentos juvenis.

02. O autor da reportagem

- (A) considera que o jovem Pedro Franceschi já construiu sua riqueza e agora deveria aposentar-se.
- (B) é contrário à riqueza herdada, pois os responsáveis por ela sempre acabam por diluí-la e até mesmo perdê-la.
- (C) reconhece que fortunas ganhas pelo casamento podem trazer grandes benefícios à humanidade.
- (D) exemplifica, com o caso da ex-mulher de Bezos, o mau uso do dinheiro ganho de modo fácil.
- (E) é a favor de palestras nas escolas para conscientizar os jovens quanto à dificuldade de aumentar a renda familiar.

03. De acordo com Fernando Schüller,

- (A) a maioria dos jovens persegue a ideia de mudar a base da pirâmide e, para isso, sonham em ser bilionários.
- (B) a criatividade e a percepção de coisas novas que pudessem melhorar a vida das pessoas foi responsável pelo sucesso de Pedro Franceschi.
- (C) Pedro Franceschi inovou em cartões de crédito e neste ano vai concorrer ao título de bilionário, da Forbes.
- (D) a riqueza que deveria ser contestada é aquela conseguida por meios ilícitos, admitindo-se pequenos privilégios.
- (E) muitas oportunidades de enriquecimento tiveram entraves com a globalização, pois para muitos ela trouxe pequenos avanços.

04. Assinale a afirmação correta relacionada ao trecho apresentado.

- (A) O que realmente deveríamos fazer é **mudar o disco**. (6º parágrafo) – a expressão destacada está empregada com sentido próprio, referindo-se a refletir sobre os benefícios que os bilionários proporcionam.
- (B) ... a riqueza global deve ser como **uma espécie de bolo gigante** ... (1º parágrafo) – a expressão destacada está empregada com sentido figurado, expressando o pensamento do autor do texto.
- (C) Eu poderia comprar ali na livraria do bairro, que **segura as pontas** como pode ... (2º parágrafo) – a expressão destacada está empregada com sentido próprio, referindo-se ao dono da livraria, que passa por dificuldades para controlar a vida financeira.
- (D) Me lembro das histórias de pessoa gastando ... **bastando as botas** sem um vintém, num hotel de luxo. (3º parágrafo) – a expressão destacada está empregada com sentido próprio, significando “falecer”.
- (E) Ideias inovadoras fazem **o mundo andar para a frente**. (4º parágrafo) – a expressão destacada está empregada com sentido figurado, referindo-se a projetos arrojados que beneficiam a humanidade.

05. Nas passagens – ... Mackenzie Scott, que se tornou uma das mais ativas **filantropas** do planeta. (3º parágrafo) e Em vez do **ranço** contra quem inova... (6º parágrafo) –, os termos destacados significam, correta e respectivamente:

- (A) pessoas que têm profundo amor à humanidade; aversão.
- (B) pessoas que distinguem raças para doar; nojo.
- (C) pessoas que agem em favor de seu semelhante; vestígio.
- (D) pessoas que doam para causas importantes; polêmica.
- (E) pessoas que doam seu tempo a igrejas; ódio.

06. Considere as seguintes passagens do texto:

Segundo ele, toda vez que Musk fica mais rico ... (1º parágrafo)

...**se** algum guloso pega um naco muito grande para si ... (1º parágrafo)

Há os que ganham pelo casamento, **como** a ex-mulher de Bezos ... (3º parágrafo)

As conjunções destacadas expressam, correta e respectivamente, relações de sentido de

- (A) conformidade; explicação; comparação.
- (B) comparação; condição; exemplificação.
- (C) explicação; conclusão; comparação.
- (D) conformidade; condição; exemplificação.
- (E) comparação; conclusão; conformidade.

07. Assinale a alternativa em que a frase reescrita conserva a concordância verbal de acordo com a norma-padrão.

- (A) Existe os que ganham pelo casamento.
- (B) Grande parte das fortunas vêm de herança e de casamentos.
- (C) Haverão ricos que, com ideias inovadoras, farão o mundo andar para a frente.
- (D) Os bilionários tem contribuído para gerar mais riquezas.
- (E) A teoria de alguns ativistas condenam os bilionários.

08. Assinale a alternativa que descreve corretamente o fato linguístico.

- (A) Na frase – Me caiu os butiá dos bolso... (1º parágrafo) –, há incorreção quanto à colocação pronominal, à concordância verbal e à nominal.
- (B) A passagem – ... bilionários “nem deveriam existir”... (1º parágrafo) – permanece correta com a seguinte alteração – ... **bilionários “nem deveria existir”**...
- (C) Na frase dita por uma deputada – ... bilionários “nem deveriam existir”... (1º parágrafo) –, o termo **nem** exprime uma justificativa.
- (D) Os advérbios **exatamente** (1º parágrafo) e **realmente** (5º parágrafo) – têm, respectivamente, o sentido de verdadeiramente e inicialmente.
- (E) Está de acordo com a norma-padrão a seguinte construção: Me lembro das histórias de pessoa gastando até o último centavo... (3º parágrafo)

09. O acento indicativo da crase está empregado de acordo com a norma-padrão na seguinte frase reescrita:

- (A) Butiá refere-se **à** uma fruta pequena, pouco maior que uma bola de gude.
- (B) Há quem ache que exista uma “aristocracia global”, transmitindo sua fortuna de geração **à** geração.
- (C) Nem todas as riquezas ocorrem devido **às** heranças.
- (D) Muitas doações se devem **à** filantropos do mundo todo.
- (E) Quando as pessoas começarão **à** se preocupar com a base da pirâmide?

10. Assinale a alternativa que completa, correta e respectivamente, as lacunas da tirinha.

Minduim Charles M. Schulz



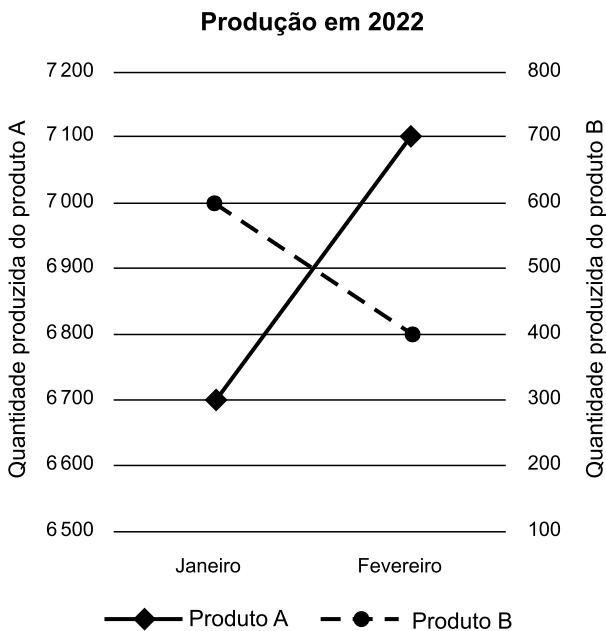
(O Estado de S. Paulo, 06.05.22)

- (A) Você é ... Me encontra ... te
- (B) Tu és ... Me encontre ... lhe
- (C) Você é ... Encontre-me ... lhe
- (D) Tu és ... Me encontras ... te
- (E) Você é ... Encontra-me ... te

11. Em duas contas correntes há, ao todo, R\$ 58.500,00. Se em uma delas há, a mais, o correspondente à quarta parte do que tem a outra, a conta com maior valor tem
- (A) R\$ 31.500,00.
 - (B) R\$ 32.000,00.
 - (C) R\$ 32.500,00.
 - (D) R\$ 33.000,00.
 - (E) R\$ 33.500,00.
12. Um trabalhador, em sua jornada diária, tem duas pausas de 10 minutos cada, e um intervalo para refeição e repouso de 20 minutos. Nessa jornada, o tempo totalmente dedicado ao exercício da profissão é de 6 horas. Nesse caso, em um dia de trabalho, o tempo destinado ao exercício da profissão, somado ao tempo das pausas e intervalo relacionados a esse exercício, corresponde, das 24 horas desse dia, a:
- (A) $\frac{5}{18}$
 - (B) $\frac{4}{15}$
 - (C) $\frac{23}{90}$
 - (D) $\frac{11}{45}$
 - (E) $\frac{7}{30}$
13. O recolhimento de INSS de uma empresa foi de R\$ 4.032,00, valor superior em 12% em relação ao recolhimento do mês anterior. Comparado ao recolhimento do mês anterior, o valor recolhido nesse mês foi maior em
- (A) R\$ 432,00.
 - (B) R\$ 448,00.
 - (C) R\$ 460,00.
 - (D) R\$ 476,00.
 - (E) R\$ 484,00.

14. Em uma empresa, a soma do total em salários pagos aos funcionários que exercem o cargo de Assistente II, com o total em salários pagos aos funcionários que exercem o cargo de Assistente I, resulta em R\$ 62.700,00. Se a diferença entre esses totais, na ordem apresentada, é de R\$ 12.300,00, e, nessa empresa, há 12 funcionários exercendo o cargo de Assistente I, todos com o mesmo salário, então cada um deles tem o salário de
- (A) R\$ 2.100,00.
 (B) R\$ 2.200,00.
 (C) R\$ 2.300,00.
 (D) R\$ 2.400,00.
 (E) R\$ 2.500,00.

15. Uma empresa fabrica somente os produtos A e B. O gráfico apresenta informações sobre as quantidades fabricadas desses produtos, nos dois primeiros meses de 2022.



Com base nas informações apresentadas, é correto afirmar que

- (A) em janeiro, a quantidade fabricada do produto B foi maior que a do produto A.
 (B) em fevereiro, para cada produto B fabricado, foi fabricado 1,75 do produto A.
 (C) em janeiro, a quantidade total de produtos A e B fabricados foi de 7300 unidades.
 (D) a quantidade total de produto B fabricado nos dois meses foi de 7400 unidades.
 (E) nesses dois meses, as quantidades totais dos produtos A e B fabricados foram iguais.

16. Na tabela a seguir, considere as informações apresentadas e complete as informações que faltam.

Movimentação no primeiro trimestre de 2022			
	Janeiro	Fevereiro	Março
Saldo em caixa	R\$ 5.600,00	R\$ 10.300,00	
Entrada	R\$ 17.200,00	R\$ 12.900,00	R\$ 13.900,00
Saída		R\$ 16.700,00	
Total	R\$ 10.300,00		R\$ 5.400,00

Completando-se corretamente as informações que faltam, é correto afirmar que o valor correspondente à saída, no mês de março, comparado ao valor da saída, no mês de janeiro, foi

- (A) 20% menor.
 (B) 17% menor.
 (C) 17% maior.
 (D) 20% maior.
 (E) 22% maior.
17. Nos últimos três meses, a média dos DAS (Documento de Arrecadação do Simples Nacional) de uma empresa foi de R\$ 737,00. Sabe-se que a diferença entre o DAS de maior valor e o DAS de menor valor é de R\$ 194,78, e que o valor do Documento, que não é o de maior e, tampouco, o de menor valor, foi de R\$ 725,72. Sendo assim, o DAS de menor valor era de

- (A) R\$ 276,75.
 (B) R\$ 355,25.
 (C) R\$ 400,75.
 (D) R\$ 553,50.
 (E) R\$ 645,25.

18. Considere a seguinte informação apresentada em uma reportagem na internet:

“A falta de armazéns, o mau estado de conservação das rodovias e as operações portuárias geraram perdas de 2,9 milhões de toneladas de soja e milho em 2020 [...]. Se fossem colocados na lavoura, ocupariam uma área de 696 mil hectares, [...]”

(<https://economia.uol.com.br/reportagens-especiais/agronegocio-desperdicio-de-alimentos/#page3>)

Considerando-se que um hectare corresponde a 10 mil metros quadrados, é correto afirmar, com base na reportagem, que a perda de soja e milho, que ocuparia cada metro quadrado na lavoura, foi de, aproximadamente,

- (A) 420 kg.
 (B) 42 kg.
 (C) 4,2 kg.
 (D) 0,42 kg.
 (E) 0,042 kg.

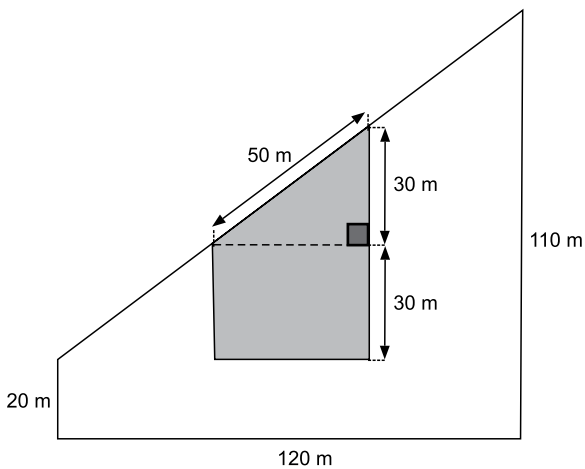
19. “O Brasil é o maior produtor mundial de cana-de-açúcar e, na safra 2020/21, foi responsável pela produção de 654,5 milhões de toneladas [de cana de açúcar] destinadas à produção de 41,2 milhões de toneladas de açúcar [...]”

(<http://www.iesa.gov.br/out/TerTexto.php?codTexto=15925#:~:text=O%20Brasil%20%C3%A9%20o%20maior,de%20litros%20de%20etanol1.>)

A informação apresentada consta do artigo intitulado *Alta na Produção e nas Exportações de Açúcar Marca a Safra 2020/21 de Cana*.

Supondo-se proporcional a relação apresentada, para a produção de 61,8 milhões de toneladas de açúcar, a quantidade de cana de açúcar, em milhões de toneladas, que seria necessária é de, aproximadamente,

- (A) 974.
 (B) 976.
 (C) 978.
 (D) 980.
 (E) 982.
20. Em um terreno com formato de trapézio retângulo, uma área, também no formato de trapézio retângulo, será destinada para a construção de um armazém, conforme representado na figura a seguir.








Com base nas medidas apresentadas na figura, é correto afirmar que, descontada a área para a construção do armazém, o restante da área do terreno será de

- (A) 5 900 m².
 (B) 6 000 m².
 (C) 6 100 m².
 (D) 6 200 m².
 (E) 6 300 m².

NOÇÕES DE INFORMÁTICA

21. Um usuário observa duas pastas locais de seu computador, por meio do Explorador de Arquivos do MS-Windows 10, ambos em configuração padrão, cujos conteúdos são exibidos a seguir.

esocial	esocial_novo
 S-1000.docx	 S-1000.docx
 S-1010.docx	 S-1005.docx
	 S-2000.docx

O usuário então seleciona todos os arquivos da pasta esocial, tecla Ctrl+X, acessa a pasta esocial_novo e tecla Ctrl+V. Em seguida, responde ignorar nas mensagens falando sobre arquivos repetidos. Considere que o usuário possui todos os privilégios necessários.

Após essas ações, o número de arquivos dentro da pasta esocial será

- (A) 0.
- (B) 1.
- (C) 2.
- (D) 3.
- (E) 4.

22. Observe a planilha a seguir, elaborada por meio do MS-Excel 2016, em sua configuração padrão.

	A	B	C	D
1	Conta	Descrição	Tipo	Valor
2	1	AAA	Despesa	20000
3	2	BBB	Receita	130000
4	3	CCC	Despesa	50000
5	4	DDD	Receita	40000
6	5	EEE	Despesa	35000
7	6	FFF	Receita	220000
8	7	GGG	Receita	75000
9				
10		Total Receitas	465000	

A fórmula aplicada na célula C10, que corresponde ao valor exibido na planilha, é:

- (A) =SOMA(D2:D8;C2:C8;"Receita")
- (B) =SOMASES(C2:C8; D2:D8;"Receita")
- (C) =SOMASES(D2:D8;C2:C8;"Receita")
- (D) =IFSUM(D2:D8;C2:C8;"Despesa")
- (E) =SOMA(C2:C8; D2:D8;"Receita")

23. Um usuário digitou letras em quatro parágrafos de um documento do MS-Word 2016, em sua configuração padrão, e aplicou formatação Numeração, conforme a imagem a seguir.

1. AAA
2. BBB
3. CCC
4. DDD|

Em seguida, com o cursor no final do quarto parágrafo (mostrado na imagem), e sem selecionar a linha, o usuário clicou na opção de formatação Marcadores.

Assinale a alternativa que apresenta o resultado das ações descritas.

- (A)
 - AAA
 - BBB
 - CCC
 - DDD
- (B)
 1. AAA
 2. BBB
 3. CCC
 - DDD
- (C)
 - AAA
 - BBB
 - CCC
 - DDD
- (D)
 - AAA
 - BBB
 - CCC
 - 1. DDD
- (E)
 1. AAA
 2. BBB
 3. CCC
 - DDD

24. Em alguns sites de governo é exigido que o usuário possua um _____ para poder navegar e transferir arquivos, sobretudo quando se tratam de dados financeiros que requerem uma troca segura de informações entre duas partes.

Assinale a alternativa que preenche corretamente a lacuna do enunciado.

- (A) navegador Windows
- (B) navegador Linux
- (C) protocolo HTTP
- (D) dispositivo pendrive
- (E) certificado digital

25. Uma mensagem de correio eletrônico foi enviada e recebida com sucesso, tendo os campos preenchidos como se segue, onde cada nome representa um endereço de e-mail válido.

De: Mario
Para: João; Carina; Ronaldo
Cco: Beatriz; George
Assunto: arquivos solicitados

Carina, ao receber o e-mail, observou no(s) campo(s) utilizado(s) para remetente(s) apenas o(s) seguinte(s) nome(s):

- (A) João e Ronaldo.
- (B) Beatriz e George.
- (C) João, Ronaldo, Beatriz e George.
- (D) Mario.
- (E) Carina.

CONHECIMENTOS ESPECÍFICOS

26. A propriedade (terreno ou edifício – ou parte de edifício – ou ambos) mantida (pelo proprietário ou pelo arrendatário como ativo de direito de uso) para auferir aluguel, valorizar capital ou para ambos é definição de:

- (A) Propriedade para investimento.
- (B) Valor justo.
- (C) Estoques.
- (D) Imobilizado operacional.
- (E) Ativo tangível.

27. Custeio direto, por absorção, por atividades (ABC), pleno, RKW, direto e variável, dentro dos conceitos de custos, são considerados

- (A) sistemas de apropriação de gastos.
- (B) ferramentas determinantes para se ter uma contabilidade gerencial.
- (C) são metodologias de avaliação de ativos.
- (D) métodos de custeio.
- (E) princípios contábeis geralmente aceitos, aplicáveis aos sistemas de custos.

28. Numa empresa de montagem de rádios, que tem uma jornada de trabalho de 40 h/semana, o tempo padrão para montagem de um aparelho é de 15 min. Na semana anterior (1), os três funcionários atenderam 150 aparelhos, levando em média 12 min. Considerando que o seu gasto semanal com salários, encargos e estrutura seja de R\$ 7.800,00, calcule o custo unitário e assinale a alternativa que contenha o lucro total, em reais, na semana anterior (1), sabendo que o valor unitário cobrado do cliente, para a montagem, é de R\$ 61,00. Nesse caso, todos os gastos são considerados pelo proprietário como custo e não há cálculo de ociosidade ou mesmo impostos.

- (A) 750.
- (B) 935.
- (C) 1.180.
- (D) 1.350.
- (E) 1.420.

29. Segundo a Norma Brasileira de Contabilidade, no que tange às características qualitativas da informação contábil-financeira útil, se a informação contábil-financeira é para ser útil, ela precisa ser relevante e representar com fidedignidade o que se propõe a representar. A utilidade da informação contábil-financeira é melhorada se ela for

- (A) analisável, composta, tempestiva e compreensível.
- (B) verificável, analítica, tempestiva e razoável.
- (C) comparável, verificável, tempestiva e compreensível.
- (D) tempestiva, qualificável, sintética e executável.
- (E) razoável, exata, analítica e objetiva.

30. Um fundo de investimento, denominada empresa A, tinha em 31.12.2021 uma participação societária em uma determinada empresa, denominada empresa B.

A participação da empresa A equivale a 90% do capital da Empresa B, cujo valor do patrimônio líquido era de R\$ 788.750.

O patrimônio da empresa B está distribuído da seguinte forma na mesma data:

- Capital: R\$ 250.000.
- Reservas de capital: R\$ 375.000.
- Reserva de lucro a distribuir: R\$ 163.750.

Trata-se de uma participação relevante para a empresa A. Inclusive ela tem influência na administração e na tomada de decisões da empresa B.

Hipoteticamente, em 30 de junho de 2022, a Empresa B apresentou um lucro líquido após todas as participações de R\$ 300.000. Baseado nisso, a Empresa B pagou antecipadamente dividendos, que foram na ordem de 25% do lucro líquido apresentado.

Com base nessas informações, assinale a alternativa que demonstra corretamente o valor, em reais, do investimento da empresa A na empresa B, em 30 de junho de 2022:

- (A) 983,275.
- (B) 954.675.
- (C) 912.375.
- (D) 885.935.
- (E) 815,415.

31. Considerando um equipamento industrial, que foi adquirido em 1º de janeiro de 2021, pelo valor líquido de impostos de R\$ 7.000.000,00, o valor de realização ao final da vida útil equivale a 10% do seu valor de custo, e a vida útil estimada desse equipamento foi de 8 anos, assinale a alternativa que apresenta o valor, em reais, do equipamento (custo menos depreciação) ao final de um ano.

- (A) 6.300.000.
- (B) 6.125.000.
- (C) 6.050.000.
- (D) 5.715.500.
- (E) 5.512.500.

Com as informações a seguir, que foram extraídas do balancete de verificação da empresa Coisa Certa Ltda., em 31 de dezembro de 2021, responda às questões de números **32** e **33**.

Balancete contábil em 31.12.2021	
Descrição da conta contábil	Reais
Lucros a destinar	(12.500,00)
Outras despesas operacionais	500,00
Receitas líquidas de vendas	(249.000,00)
Bancos conta movimento	7.500,00
Adiantamento a fornecedores	5.000,00
Empréstimos e financiamentos (LP)	(35.000,00)
Demais contas a receber	3.000,00
Fornecedores	(20.000,00)
Empréstimos e financiamentos	(20.000,00)
Estoques	30.000,00
Incentivos fiscais de LP	4.000,00
Investimentos	5.000,00
Impostos a recolher	(9.500,00)
Aplicações financeiras	25.000,00
IR e CSLL a pagar	(5.500,00)
Contas a pagar de longo prazo	(1.000,00)
Despesas administrativas, tributárias e gerais	28.000,00
Ativos intangíveis	7.500,00
Contingências trabalhistas de LP	(11.500,00)
Ajuste de avaliação patrimonial	(7.500,00)
Caixa	500,00
Custo dos produtos vendidos	175.000,00
Títulos a receber de LP	4.500,00
Despesas de vendas	12.000,00
Salários a pagar	(6.000,00)
Capital	(10.000,00)
Contas a receber de clientes	24.000,00
Imobilizado	60.000,00
Reservas de capital	(5.000,00)
Despesas financeiras	2.750,00
Imposto de renda e contribuição social correntes	10.250,00
Depreciação acumulada	(12.000,00)

32. O Lucro antes do imposto de renda e da contribuição social, em reais, é:

- (A) 20.500.
- (B) 30.750.
- (C) 74.000.
- (D) 86.000.
- (E) 249.000.

33. O capital circulante líquido da empresa, em reais, é:

- (A) 28.000.
- (B) 33.000.
- (C) 34.000.
- (D) 61.000.
- (E) 95.000.

Utilize as informações a seguir para responder às questões de números 34 a 36.

A Empresa Costa Blue Ltda. apresentou a seguinte estrutura de balanço em 31 de março de 2022:

Ativo Circulante		Passivo Circulante	
Caixa	2.500,00	Fornecedores	30.000,00
Bancos conta movimento	35.000,00	Empréstimos e financiamentos	30.000,00
Aplicações financeiras	20.000,00	Impostos a recolher	30.000,00
Contas a receber de clientes	49.000,00	Salários a pagar	20.000,00
Estoques	75.000,00	Contas a pagar	20.000,00
Despesas	12.500,00	Total do passivo circulante	130.000,00
Demais contas a receber	25.000,00		
Total ativo circulante	219.000,00	Passivo não circulante	
		Empréstimos e financiamentos LP	90.000,00
Ativo não circulante		Contas a pagar de longo prazo	19.000,00
Depósitos Judiciais	40.000,00	Total do passivo não circulante	109.000,00
Ativo Imobilizado	75.000,00	Patrimônio Líquido	
Depreciação Acumulada	(15.000,00)	Capital	50.000,00
Intangíveis	10.000,00	Reservas de capital	20.000,00
Total ativo não circulante	110.000,00	Lucros a destinar	20.000,00
		Total do patrimônio líquido	90.000,00
Total do ativo	329.000,00	Total do passivo e PL	329.000,00

Adicionalmente, sabe-se que a empresa obteve no referido trimestre:

- Lucro líquido de R\$ 11.450,00;
- Vendas Líquidas de R\$ 346.400,00;
- Custos e despesas de R\$ 332.100,00;
- IR e CSLL correntes de R\$ 2.850,00.

Obs.: Utilize do critério de arredondamento para as respostas.

34. Assinale a alternativa que apresenta o correto índice de liquidez geral.

- (A) 1,08.
- (B) 1,92.
- (C) 1,97.
- (D) 2,05.
- (E) 2,16.

35. Assinale a alternativa que apresenta o correto índice de liquidez corrente.

- (A) 0,98.
- (B) 1,16.
- (C) 1,25.
- (D) 1,45.
- (E) 1,68.

36. A margem líquida obtida no período apresentado é

- (A) 3,205.
- (B) 3,305.
- (C) 3,860.
- (D) 4,015.
- (E) 4,205.

Com base nas informações a seguir, responda às questões de números 37 e 38, não esquecendo do enquadramento de tributação da empresa.

Uma determinada empresa de prestação de serviços de informática denominada Nuvem Eletrônica Consultoria Ltda., que não apresenta qualquer diferencial de alíquota, bem como qualquer incentivo ou diferencial fiscal, é tributada pelo lucro presumido e, registrou como total de suas receitas referentes ao primeiro trimestre findo em 31 de março de 2021, um valor equivalente de R\$ 3.000.0000,00.

Obs.: Não apresenta qualquer diferencial de alíquota, bem como qualquer incentivo ou diferencial fiscal.

37. O valor do Imposto de Renda e o Adicional do Imposto de Renda, em reais, é:

- (A) 86.400.
- (B) 144.000.
- (C) 234.000.
- (D) 315.000.
- (E) 570.000.

38. O valor da Contribuição Social sobre o Lucro Líquido, em reais, é:

- (A) 86.400.
- (B) 112.000.
- (C) 157.000.
- (D) 245.000.
- (E) 270.000.

Leia o texto a seguir para responder às questões de números 39 a 40.

Uma empresa industrial, denominada ABCD Ltda., é tributada pelo lucro real e utiliza a não cumulatividade para a apuração e o recolhimento de PIS e COFINS, e necessita calcular tais contribuições, de um determinado mês. Nesse referido e hipotético mês, foram apuradas as seguintes informações:

- Compra de insumos para a sua produção – R\$ 800.000,00.
- Receita bruta de vendas de mercadorias nesse mês – R\$ 2.800.000,00.

39. O valor do PIS da ABCD Ltda., em reais, é:

- (A) 18.200.
- (B) 23.500.
- (C) 31.000.
- (D) 33.000.
- (E) 59.400.

40. O valor do COFINS da ABCD Ltda., em reais, é:

- (A) 152.000.
- (B) 123.600.
- (C) 109.500.
- (D) 98.300.
- (E) 84.000.

41. Na contratação de uma operação de crédito por um ente público, mediante a emissão de títulos, a contabilização de tal contratação, não importando de curto ou longo prazo, para a natureza da informação de controle, será:

- (A) D 1.1.1.1.1.xx.xx Caixa e Equivalentes de Caixa em Moeda Nacional (F)
C 2.1.2.2.x.xx.xx Empréstimos a Curto Prazo – Externo (P)
- (B) D 1.1.1.1.1.xx.xx Caixa e Equivalentes de Caixa em Moeda Nacional (F)
C 2.1.2.2.x.xx.xx Receitas a arrecadar (F)
- (C) D 6.2.2.1.1.xx.xx Crédito Disponível
C 6.2.2.1.3.01.xx Crédito Empenhado a Liquidar
- (D) D 7.2.1.1.x.xx.xx Controle da Disponibilidade de Recursos
C 8.2.1.1.1.xx.xx Disponibilidade por Destinação de Recursos (DDR)
- (E) D 8.2.1.1.1.xx.xx Disponibilidade por Destinação de Recursos (DDR)
C 8.2.1.1.2.xx.xx DDR Comprometida por Empenho

42. O princípio orçamentário que determina que a LOA de cada ente federado deverá conter todas as receitas e despesas de todos os poderes, órgãos, entidades, fundos e fundações instituídas e mantidas pelo Poder Público, é

- (A) Exclusividade.
- (B) Universalidade.
- (C) Entidade.
- (D) Legalidade.
- (E) Unidade.

43. Com relação às etapas da despesa, assinale a alternativa correta.
- (A) As descentralizações de créditos orçamentários ocorrem, de modo geral, com toda a análise para a formulação do plano e ações governamentais que servirão de base para a fixação da despesa orçamentária.
 - (B) O planejamento do fluxo de caixa financeiro consiste na compatibilização do fluxo dos pagamentos com o fluxo dos recebimentos, visando ao ajuste da despesa fixada às novas projeções de resultados e da arrecadação.
 - (C) Na forma prevista na legislação, a execução da despesa orçamentária se dá em dois estágios: o empenho e o pagamento.
 - (D) O empenho ordinário consiste no tipo de empenho utilizado para as despesas cujo montante não se pode determinar previamente, tais como serviços de fornecimento de água e energia elétrica, aquisição de combustíveis e lubrificantes e outros.
 - (E) A fixação da despesa orçamentária insere-se no processo de planejamento e compreende a adoção de medidas em direção a uma situação idealizada, tendo em vista os recursos disponíveis e observando as diretrizes e prioridades traçadas pelo governo.
44. São avaliações de informações contábeis por meio de análise das relações plausíveis entre dados financeiros e não financeiros. Compreendem, também, o exame necessário de flutuações ou relações identificadas que são inconsistentes com outras informações relevantes ou que diferem significativamente dos valores esperados. O texto refere-se, sob as normas de contabilidade de auditoria, a
- (A) Testes de transações e saldos.
 - (B) Procedimentos analíticos.
 - (C) Abordagem substantiva.
 - (D) Avaliação de controles internos.
 - (E) Teste de confirmação de informações.
45. Para efeito de auditoria, o parágrafo incluído no relatório do auditor referente a um assunto apropriadamente apresentado ou divulgado nas demonstrações contábeis que, de acordo com o julgamento do auditor, é de fundamental importância para o entendimento dos usuários das demonstrações contábeis, é denominado de
- (A) Ressalva.
 - (B) Outros assuntos.
 - (C) Negativa de opinião.
 - (D) Ênfase.
 - (E) Adverso.
46. Sabe-se que para os fins definidos em Lei, a despesa total com pessoal, em cada período de apuração e em cada ente da Federação, não poderá exceder os percentuais da receita corrente líquida, sendo 50% à União e 60% aos Estados e Municípios. Para o atendimento dos limites estabelecidos, não serão computados os valores de
- (A) despesas relativas aos servidores militares inativos, uma vez que eles têm exclusivo programa previdenciário.
 - (B) excesso das despesas de salários, do limite do teto do executivo.
 - (C) pessoal, do Distrito Federal e dos Estados do Amazonas e Tocantins, custeados com recursos transferidos pela União.
 - (D) programas de incentivos à cultura.
 - (E) indenizações por demissão de servidores ou empregados.
47. No que tange ao capítulo da dívida e do endividamento, da LC nº 101/2000, o compromisso de adimplência de obrigação financeira ou contratual assumido por ente da Federação ou entidade a ele vinculada, é definido como:
- (A) Papel da dívida pública.
 - (B) Dívida flutuante.
 - (C) Dívida ativa.
 - (D) Dívida pública consolidada.
 - (E) Concessão de garantia.
48. São instrumentos de transparência da gestão fiscal, aos quais será dada ampla divulgação, inclusive em meios eletrônicos de acesso público: os planos, os orçamentos e as leis de diretrizes orçamentárias; as prestações de contas e o respectivo parecer prévio; o Relatório Resumido da Execução Orçamentária e _____; e as versões simplificadas desses documentos.
- Assinale a alternativa que complete corretamente o texto.
- (A) a demonstração das receitas e despesas orçamentárias
 - (B) o relatório integrado de administração financeira e controle
 - (C) o Relatório de Gestão Fiscal
 - (D) o balanço orçamentário
 - (E) a demonstração das variações patrimoniais

- 49.** Uma determinada administração pública, tendo em vista a precariedade de um viaduto, decidiu abrir um processo de licitação para uma obra de engenharia, a fim de repará-lo. O valor da obra está orçado em R\$ 4.900.000,00. Nesse caso, considerando os limites impostos pela Lei nº 8.666/93 e alterações posteriores, assinale a alternativa que apresenta corretamente a modalidade de licitação que a administração pública deverá utilizar
- (A) Convite.
 - (B) Concorrência.
 - (C) Tomada de preços.
 - (D) Concurso.
 - (E) Leilão.
- 50.** De acordo com a legislação vigente de licitação, os órgãos e entidades da Administração Pública que realizam frequentemente licitações manterão registros cadastrais para efeito de habilitação, na forma regulamentar, válidos por, no máximo,
- (A) um trimestre.
 - (B) um semestre.
 - (C) um ano.
 - (D) dois anos.
 - (E) pelo mandato do licitante.

