



PREFEITURA DE SOROCABA

ESTADO DE SÃO PAULO

CONCURSO PÚBLICO

001. PROVA OBJETIVA

AGENTE DE VIGILÂNCIA SANITÁRIA I

- ◆ Você recebeu sua folha de respostas e este caderno contendo 50 questões objetivas.
- ◆ Confira seus dados impressos na capa deste caderno e na folha de respostas.
- ◆ Quando for permitido abrir o caderno, verifique se está completo ou se apresenta imperfeições. Caso haja algum problema, informe ao fiscal da sala para a devida substituição desse caderno.
- ◆ Leia cuidadosamente todas as questões e escolha a resposta que você considera correta.
- ◆ Marque, na folha de respostas, com caneta de tinta preta, a letra correspondente à alternativa que você escolheu.
- ◆ A duração da prova é de 3 horas, já incluído o tempo para o preenchimento da folha de respostas.
- ◆ Só será permitida a saída definitiva da sala e do prédio após transcorrida 1 hora do início da prova.
- ◆ Deverão permanecer em cada uma das salas de prova os 3 últimos candidatos, até que o último deles entregue sua prova, assinando termo respectivo.
- ◆ Ao sair, você entregará ao fiscal a folha de respostas e este caderno.
- ◆ Até que você saia do prédio, todas as proibições e orientações continuam válidas.

AGUARDE A ORDEM DO FISCAL PARA ABRIR ESTE CADERNO.

Nome do candidato _____

RG _____

Inscrição _____

Prédio _____

Sala _____

Carteira _____

CONHECIMENTOS GERAIS

LÍNGUA PORTUGUESA

Leia o texto para responder às questões de números **01** a **07**.

Coisas são só coisas

Uma das criadoras do movimento Simplicidade Voluntária, Vicki Robin, critica rigorosamente o consumismo desenfreado e afirma: “Estamos vivendo a doença do muito.” Quem tem suas necessidades básicas asseguradas e pode consumir além do que precisa é o que mais sofre dessa doença.

Segundo Vicki, nos países mais ricos, as pessoas com acesso ao consumo estão viciadas no excesso. Vão comprando. E vão acumulando. Num dia é um travesseiro; no outro, o sapato que vai sair uma única vez do armário. Surgem depois a roupa de marca, o azeite importado, o carro do ano, o eletrodoméstico mais moderno – e mais um armário na casa para acomodar o que se compra.

O que leva muita gente a consumir é a falta de contato com as próprias coisas. A pessoa se esquece do que tem e, com a sensação de não ter, acaba comprando mais. Estímulos não faltam: nunca houve tanta oferta e tanta facilidade para pagar. Outro aspecto que interfere muito é o uso cada vez menor do dinheiro vivo como forma de pagamento, o que contribui para estimular compras desnecessárias. Ao pagar com cartões, a pessoa não sente que está gastando.

Na base do consumo exagerado está a insatisfação permanente do ser humano, a sensação de que sempre falta algo. Queremos o que não temos, mas, assim que passamos a ter, aquilo já não nos interessa mais.

Ao refletirmos profundamente a respeito do consumismo, podemos entender que é muito mais importante investir nos relacionamentos pessoais – amigos, filhos, colegas de trabalho – pois são eles que nos enriquecem verdadeiramente. Porque a relação com o consumismo é clara: quanto mais pobre for nossa vida interior, mais sentiremos necessidade de ter coisas.

(Leila Ferreira. *A arte de ser leve*. São Paulo: Globo, 2010. Adaptado)

01. De acordo com as ideias de Vick Robin, é correto afirmar que

- (A) o consumismo vem decaindo nos últimos tempos.
- (B) as pessoas vêm consumindo de maneira desequilibrada.
- (C) a preferência por trocar carros é maior nos países ricos.
- (D) produtos relacionados à alimentação são mais consumidos.
- (E) é um exagero considerar o consumismo como uma doença.

02. Conforme o 3º parágrafo, pode-se afirmar que

- (A) as pessoas usam bastante aquilo que compram em excesso.
- (B) os homens são mais consumistas do que as mulheres.
- (C) os juros dos cartões de crédito inibem os consumistas.
- (D) pagar em dinheiro nos possibilita mais desconto nos preços.
- (E) os consumistas acabam usufruindo pouco do que compram.

03. É correto afirmar que o texto apresenta uma reflexão relacionada

- (A) à consciência que as pessoas têm de que as relações pessoais valem mais que as coisas.
- (B) ao medo que se tem de contrair dívidas as quais não poderão ser pagas.
- (C) às ilusões de que o consumismo poderá preencher o vazio interior de cada um.
- (D) ao conformismo dos menos favorecidos em relação ao consumismo.
- (E) à injusta falta de condições que impede muita gente de consumir à vontade.

04. Na frase contida no 4º parágrafo – Na base do consumo exagerado está a insatisfação **permanente** do ser humano. –, a palavra destacada tem sentido contrário de

- (A) contínua.
- (B) frequente.
- (C) temporária.
- (D) ininterrupta.
- (E) consistente.

05. Assinale a alternativa em que o termo destacado na frase atribui uma característica à palavra anterior.

- (A) Quem tem suas necessidades **básicas** asseguradas... (1º parágrafo)
- (B) ... o sapato que vai sair uma única **vez** do armário. (2º parágrafo)
- (C) ... nunca houve tanta oferta e tanta facilidade para **pagar**. (3º parágrafo)
- (D) ... o que contribui para estimular **compras**... (3º parágrafo)
- (E) Queremos o que não **temos**... (4º parágrafo)

06. Assinale a alternativa em que há palavras ou expressões empregadas com sentido figurado.

- (A) Num dia é um travesseiro; no outro, o sapato... (2º parágrafo)
- (B) Surgem depois a roupa de marca, o azeite importado... (2º parágrafo)
- (C) A pessoa se esquece do que tem... (3º parágrafo)
- (D) Outro aspecto que interfere muito é o uso cada vez maior do dinheiro vivo... (3º parágrafo)
- (E) Ao pagar com cartões, a pessoa não sente que está gastando. (3º parágrafo)

07. No trecho do 2º parágrafo – ... e mais um armário na casa **para** acomodar o que se compra. –, a palavra destacada estabelece sentido de

- (A) adição.
- (B) oposição.
- (C) causa.
- (D) tempo.
- (E) finalidade.

08. Assinale a alternativa em que o emprego da crase obedece à norma-padrão da língua portuguesa.

- (A) As ofertas de eletrodomésticos ocorrerão de 2ª feira à sábado.
- (B) Telefonaram à moça daquela loja para confirmar o valor do automóvel.
- (C) A reclamação diz respeito à vendedores pouco atenciosos.
- (D) Fazer compras à prazo é uma prática não muito recomendável.
- (E) Ele referiu-se à uma filha que é bastante consumista.

09. A pontuação está de acordo com a norma-padrão em:

- (A) Ao pagar em dinheiro tem-se a impressão, de não estar gastando.
- (B) É importante valorizar, mais as relações; e menos os objetos.
- (C) O consumismo, pode ser considerado: uma doença psicológica.
- (D) Quando uma pessoa está viciada em comprar, deve ser alertada.
- (E) Eles tentaram mas, não conseguiram deixar de comprar o casaco.

Leia o trecho da letra de música a seguir para responder às questões de números 10 a 12.

“Coisas são só coisas
servem só pra tropeçar
têm seu brilho no começo
mas se viro pelo avesso
são fardo pra carregar”.

(Chico César. *De uns tempos pra cá*.)

Disponível em: <https://m.letras.mus.br>. Acesso em: 07.03.2022. Adaptado)

10. A ideia principal contida no trecho da letra de música “De uns tempos pra cá” é a de que as coisas

- (A) custam caro porque têm valor.
- (B) acabam se tornando um transtorno.
- (C) são parte essencial da vida humana.
- (D) devem ser mais valorizadas.
- (E) são tão importantes quanto as pessoas.

11. Na frase – ... são **fardo** pra **carregar** ... –, as palavras destacadas podem ser substituídas, sem alteração de sentido, na ordem em que se apresentam, por

- (A) objeto ... descartar
- (B) produto ... distribuir
- (C) carga ... transportar
- (D) resíduo ... eliminar
- (E) peso ... substituir

12. No trecho – Coisas **são** só coisas / **servem** só pra tropeçar... – os dois verbos destacados estão no tempo presente. Passando-os para o tempo futuro, tem-se, respectivamente:

- (A) Coisas **eram** só coisas / **serviam** só pra tropeçar...
- (B) Coisas **serão** só coisas / **serviram** só pra tropeçar...
- (C) Coisas **eram** só coisas / **servirão** só pra tropeçar...
- (D) Coisas **foram** só coisas / **serviram** só pra tropeçar...
- (E) Coisas **serão** só coisas / **servirão** só pra tropeçar...

13. Assinale a alternativa em que a concordância das palavras está de acordo com a norma-padrão da língua portuguesa.

- (A) Há pessoas que valoriza os objetos e não as amizadas.
- (B) Elas mesmo reconhece que o consumismo é um vício.
- (C) Existe várias lojas que facilita os pagamentos.
- (D) Chegou os dois pares de sapatos comprado pela internet.
- (E) Os irmãos dela costumam comprar roupas de marca.

14. A regência das palavras está de acordo com a norma-padrão da língua portuguesa em:

- (A) O vendedor não estava apto de atender tantas pessoas.
- (B) Ela precisa dedicar-se mais pelos amigos que tem.
- (C) É necessário haver controle sobre nossos gastos.
- (D) Eles estão habituados em fazer pesquisa de preços antes de comprar.
- (E) Ele hesitou muito por adquirir aqueles móveis.

Leia a tirinha para responder às questões de números 15 a 18.



(Charlez M. Schulz. *É para isso que servem os amigos*. Porto Alegre: L&PM, 2018)

15. De acordo com a leitura e observação do primeiro quadrinho, é correto afirmar que

- (A) o menino tem pouca afeição pelo cachorro.
- (B) o cão parece agressivo com o garoto.
- (C) o menino dá mais valor aos bens materiais.
- (D) o cachorro não deixa o menino se expressar direito.
- (E) o garoto valoriza os laços afetivos.

16. Conforme a leitura da tirinha, pode-se afirmar que

- (A) o menino e o cachorro acabaram de se conhecer.
- (B) as ideias do cão dizem respeito à amizade dos dois.
- (C) o garoto e o cão pensam de modo diferente.
- (D) o valor que o garoto dá ao dinheiro é excessivo.
- (E) os pensamentos de ambos são iguais.

17. No trecho do segundo quadrinho "... poderíamos comprar **mais** biscoitos...", a palavra destacada estabelece sentido de

- (A) quantidade.
- (B) modo.
- (C) tempo.
- (D) lugar.
- (E) comparação.

18. Na frase do segundo quadrinho "... **se** tivéssemos um dinheirinho, poderíamos comprar mais biscoitos...", o termo destacado tem sentido de

- (A) oposição.
- (B) causa.
- (C) tempo.
- (D) condição.
- (E) adição.

19. Assinale a alternativa em que a colocação dos pronomes está de acordo com a norma-padrão da língua portuguesa.

- (A) Nos enviaram ontem os materiais solicitados há uma semana.
- (B) Essa empresa sempre me enviou propagandas pelo celular.
- (C) Nunca deve-se descuidar das amizades verdadeiras.
- (D) Já conhece-se aquela loja e seus preços tão abusivos.
- (E) Não pode-se gastar mais do que se ganha.

20. Considerando a norma-padrão da língua portuguesa, assinale a alternativa que preenche, correta e respectivamente, as lacunas das frases a seguir.

Ela disse ao irmão que todos aqueles gastos excessivos e frequentes dele _____ muito sacrifício. _____ é muito importante _____ daqui para a frente.

- (A) vão custar-lhe ... Então ... evitá-los
- (B) vai custar-lhe ... Porque ... evitá-la
- (C) vão custá-lo ... Mas ... evitá-los
- (D) vai custar-lhe ... Pois ... evitá-lo
- (E) vão custá-lo ... Porém ... evitá-las

21. Um pedreiro cobrou R\$ 1.250,00 para fazer um muro de 10 metros de comprimento por 1,60 metros de altura. Devido a uma situação inesperada, o muro ficou com 2,00 m de altura e 10 metros de comprimento. Como o pedreiro cobra por metro quadrado e houve um aumento na área final, o preço, em reais, foi ajustado para
- (A) 1.462,50.
 - (B) 1.562,50.
 - (C) 1.662,50.
 - (D) 1.762,50.
 - (E) 1.862,50.
22. Um paciente fez uma cirurgia dentária e precisa de muitos cuidados. A cada 3 horas ele precisa colocar gelo no local da cirurgia, a cada 4 horas precisa fazer um bochecho com água destilada, a cada 6 horas precisa tomar um antibiótico e a cada 8 horas precisa tomar um anti-inflamatório. Assim que chegou em casa, às 10 horas, ele fez os 4 procedimentos, ele voltará a fazer os 4 procedimentos, simultaneamente, novamente às
- (A) 21h00 do mesmo dia.
 - (B) 24h00 do mesmo dia.
 - (C) 04h00 do dia seguinte.
 - (D) 07h00 do dia seguinte.
 - (E) 10h00 do dia seguinte.
23. Num mapa de sala de aula, está escrito que a razão entre o tamanho do mapa do Brasil e o tamanho real do Brasil é de 1: 8 000 000, ou seja, cada centímetro no mapa corresponde a 8 000 000 de centímetros no tamanho real do Brasil. A professora disse que, no mapa, a distância entre duas cidades brasileiras é de 4 centímetros, logo, nessa razão a distância real, em quilômetros, entre essas duas cidades é de
- (A) 80.
 - (B) 160.
 - (C) 320.
 - (D) 400.
 - (E) 480.

24. Um trabalhador recebeu seu salário líquido e ao separar o valor de cada conta constatou que sobra para as demais despesas deste mês apenas R\$ 250,00. O aluguel representa um quarto, a despesa de mercado e transporte representam metade e água, luz e telefone representam um oitavo de seu salário. O salário líquido, em reais, desse trabalhador é de
- (A) 1.250,00.
 - (B) 1.400,00.
 - (C) 1.500,00.
 - (D) 1.750,00.
 - (E) 2.000,00.
25. Uma cidade imunizou 72% de sua população alvo, totalizando 6.480 pessoas. A população alvo desta cidade é de
- (A) 7.000 pessoas.
 - (B) 8.000 pessoas.
 - (C) 9.000 pessoas.
 - (D) 10.000 pessoas.
 - (E) 11.000 pessoas.
26. Um trabalhador precisa arar 10 hectares de terra em um sítio. Ele consegue arar com seu trator, aproximadamente, uma área de 2000 metros quadrados por hora. Sabendo-se que uma área retangular de 100 metros por 100 metros corresponde a 1 hectare, o número de horas, aproximadas, que ele levará para arar os 10 hectares é de
- (A) 5.
 - (B) 10.
 - (C) 20.
 - (D) 40.
 - (E) 50.
27. Ao entrar na faculdade, um calouro recebeu as boas-vindas: medir o contorno da quadra de esportes com um palitinho de dentes. Ao medir o comprimento do palitinho de dentes que tinha 6 cm, ele pensou no seguinte: “meu pé mede, aproximadamente, 27 cm, logo vou medir o contorno da quadra com meu pé e em seguida transformar a medida em palitos de dente. Sendo a quadra retangular e medindo 30 m de comprimento por 20 m de largura, ele concluiu que o número de palitinhos totalizou, aproximadamente
- (A) 370.
 - (B) 740.
 - (C) 1010.
 - (D) 1666.
 - (E) 1740.

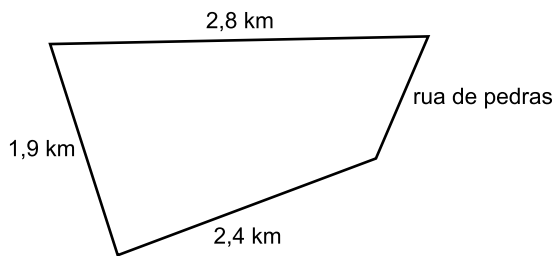
28. Numa prova de História das 15 questões, 3 eram sobre a História do Brasil colonial. A razão entre o número de questões do Brasil colonial (x) e as demais questões (y) é um racional na forma de $\frac{x}{y}$. Esse valor expresso em decimais está corretamente representado em
- (A) 0,15.
 - (B) 0,25.
 - (C) 0,30.
 - (D) 0,35.
 - (E) 0,40.
29. No dia 23 de março, uma livraria comprou 36 livros a R\$ 25,00 cada. No dia 30 de março, a livraria havia vendido todos esses exemplares por R\$ 32,50 cada. Nessa negociação, o lucro, em reais, obtido e a porcentagem de negociação foram, respectivamente:
- (A) 270,00 e 30%.
 - (B) 270,00 e 25%.
 - (C) 270,00 e 32,5%.
 - (D) 470,00 e 30%.
 - (E) 900,00 e 32,5%.
30. Dona Letícia comprou 3,7 kg de bananas no mercado ao preço de R\$ 5,00 o kg. Na feira essa mesma banana é vendida a R\$ 8,00 a dúzia. Sabendo-se que nos 3,7 kg de bananas havia 2 dúzias de bananas, a diferença do preço de cada banana no mercado e na feira é de aproximadamente
- (A) R\$ 0,11.
 - (B) R\$ 0,15.
 - (C) R\$ 0,18.
 - (D) R\$ 0,21.
 - (E) R\$ 0,25.

31. A tabela a seguir apresenta o faturamento de seis caixas em um mercado da capital, no dia de ontem.

Número do caixa	Faturamento
1	R\$ 5.850,00
2	R\$ 4.890,00.
3	R\$ 6.045,00.
4	R\$ 5.570,00.
5	R\$ 4.590,00.
6	R\$ 5.250,00

Analisando a tabela, a diferença entre os caixas de maior e de menor faturamento, em reais, é igual a

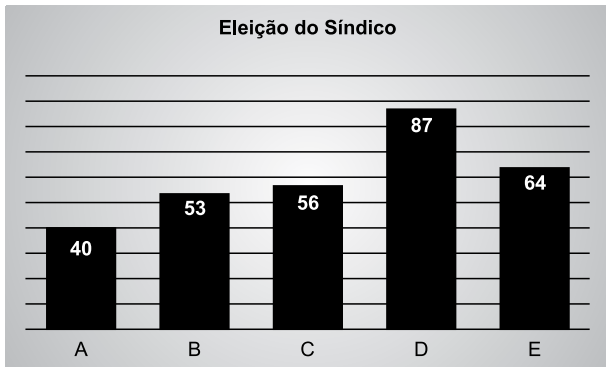
- (A) 600,00.
 (B) 1.155,00.
 (C) 1.455,00.
 (D) 1.555,00.
 (E) 1.655,00.
32. O perímetro de um bairro é de 7,6 km. Contornam esse bairro, o trecho de um rio de 2,4 km, uma avenida de 1,9 km, uma estrada de terra de 2,8 km e uma rua de pedras.



O comprimento da rua de pedras nesse bairro é de

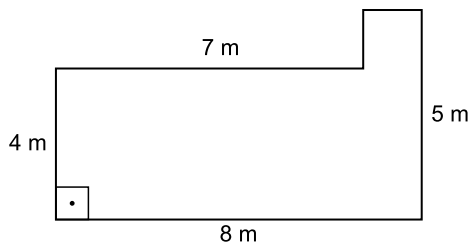
- (A) 700 m.
 (B) 500 m.
 (C) 400 m.
 (D) 200 m.
 (E) 50 m.
33. Para calcular o número de pessoas reunidas num evento, num espaço quadrado de 30 metros por 30 metros, a equipe organizadora do evento contou, aproximadamente 30 pessoas num espaço quadrado de 3 metros por 3 metros. Dessa forma, o total aproximado de pessoas reunidas nesse evento é igual a
- (A) 270.
 (B) 900.
 (C) 2700.
 (D) 3000.
 (E) 27000.

34. O gráfico a seguir apresenta a intenção de voto em um condomínio com 300 eleitores.



Os dois candidatos mais votados irão para o 2º turno. Os candidatos A e B levaram seus eleitores para o candidato D e o candidato C levou seus eleitores para o candidato E. Considerando-se os 300 eleitores, o candidato que vencer terá uma vantagem em porcentagem dos votos igual a

- (A) 8%.
- (B) 10%.
- (C) 15%.
- (D) 20%.
- (E) 25%.
35. Uma piscina tem uma capacidade de 30 000 litros de água. O desenho a seguir ilustra a forma da piscina que em todos os vértices tem 90°.



O perímetro e a área da superfície dessa piscina, respectivamente, são:

- (A) 26 m e 33 m².
- (B) 26 m e 32 m².
- (C) 26 m e 34 m².
- (D) 24 m e 33 m².
- (E) 24 m e 32 m².

CONHECIMENTOS ESPECÍFICOS

36. De acordo com a Lei Municipal nº 9.551/2011, a prática de maus-tratos e crueldade contra animais receberá a punição de
- (A) advertência, nos casos de maus-tratos que não gerem lesões.
 - (B) multa, apenas nos casos que provoquem a morte do animal.
 - (C) prisão de seis meses, nos casos que levem o animal a óbito.
 - (D) prestação de serviços obrigatórios, durante seis meses no canil da prefeitura.
 - (E) multa, cujo valor varia de acordo com a gravidade dos maus-tratos.
37. Zoonoses é definida como
- (A) a atenção veterinária dispensada aos animais domésticos de acordo com as necessidades físicas e naturais destes.
 - (B) doença infecciosa, infectocontagiosa ou parasitária transmissível naturalmente entre animais vertebrados e invertebrados e o homem e vice-versa.
 - (C) ações desenvolvidas para o controle de doenças imunossuprimíveis em animais silvestres.
 - (D) as ações realizadas pelo poder público, que visam fortalecer o vínculo afetivo do animal com o ser humano.
 - (E) patógenos diversos, que causam sérios agravos à saúde dos animais domésticos, como cães e gatos.
38. O programa de controle populacional de cães e gatos se constitui em um conjunto de ações dirigidas ao controle desses animais, garantindo
- (A) realização da castração das fêmeas, o registro e a identificação do animal domiciliado.
 - (B) imunização permanente, por meio de método anticoncepcional, específico para cada espécie.
 - (C) a promoção da saúde, a preservação do meio ambiente, a proteção e o bem-estar animal.
 - (D) o recolhimento seletivo e o encaminhamento para eutanásia dos animais maiores de 5 anos.
 - (E) a promoção da saúde, a imunização dos animais maiores de um ano, a proteção e o bem-estar humano.
39. Os programas de educação ambiental animal devem conter, entre outros, o seguinte conteúdo:
- (A) vacinação de morcegos contra a raiva.
 - (B) vacinação e controle de animais silvestres.
 - (C) prevenção de zoonoses e enfermidades específicas.
 - (D) manutenção de animais silvestres como animais de estimação, visando a preservação da espécie.
 - (E) realizar eutanásia em cães e gatos como método mais indicado para o controle dessa população.
40. A adoção de animais alojados no Abrigo Municipal somente poderá ser efetuada se o animal a ser doado atender a algumas condições, tais como:
- (A) estar socializado, em conformidade com a sua idade.
 - (B) estar vacinado e imunizado contra a leishmaniose.
 - (C) possuir idade inferior a cinco anos, caso seja animal de grande porte.
 - (D) as fêmeas estarem identificadas por meio de “microchipagem”.
 - (E) os machos estarem esterilizados.
41. Para as ações de vigilância e de controle do *Aedes aegypti*, deve-se conhecer seu ciclo de vida, que ocorre por metamorfose
- (A) incompleta: ovo, larva, adulto.
 - (B) incompleta: ovo, ninfa, adulto.
 - (C) completa: ovo, larva, adulto.
 - (D) completa: ovo, pupa, ninfa, adulto.
 - (E) completa: ovo, larva, pupa e adulto.
42. Para o controle efetivo da dengue e de outras arboviroses transmitidas pelo *Aedes aegypti*, é fundamental
- (A) realizar nebulização mensalmente nas vias públicas, durante o período noturno.
 - (B) isolar os doentes para evitar a transmissão direta aos indivíduos saudáveis.
 - (C) eliminar recipientes que acumulem água, pois tornam-se criadouros do vetor.
 - (D) realizar a imunização de 100% da população.
 - (E) manter o peridomicílio livre de matéria orgânica, evitando a reprodução do vetor.

43. Ponto estratégico (PE) é o local onde há grande concentração de depósitos preferenciais para a desova do *Aedes aegypti*, ou seja, local especialmente vulnerável à introdução do vetor. Os pontos estratégicos devem ser identificados, cadastrados e constantemente atualizados.
- Os PEs classificados como de médio e alto risco devem ser inspecionados
- (A) semanalmente.
 - (B) mensalmente.
 - (C) diariamente.
 - (D) anualmente.
 - (E) quinzenalmente.
44. Dar destino adequado ao lixo e aos recipientes que podem acumular água; manter terrenos livres de entulho, matéria orgânica e mato; instalar telas milimétricas nas janelas são ações de
- (A) controle biológico.
 - (B) tratamento perifocal.
 - (C) controle químico.
 - (D) manejo ambiental.
 - (E) tratamento aeroespacial.
45. Doença que ocorre em animais e seres humanos, é transmitida pela picada de um inseto conhecido popularmente como mosquito-palha, birigui, e é causada por um protozoário. Na área urbana, o cão é o principal reservatório dessa infecção, denominada
- (A) dengue.
 - (B) leishmaniose visceral.
 - (C) febre maculosa.
 - (D) raiva.
 - (E) esporotricose.
46. A raiva é transmitida ao homem através da
- (A) inoculação do vírus presente na saliva e nas secreções do animal infectado.
 - (B) mordedura do animal sadio, que não foi vacinado contra raiva.
 - (C) picada de mosquitos que se alimentaram previamente de animais não vacinados.
 - (D) picada de carrapatos do gênero *Rhipicephalus sanguineus* (conhecido como carrapato do cão).
 - (E) ingestão de carne de porco mal passada.
47. Diante de uma situação em que há necessidade de avaliar as condições higiênico-sanitárias do meio ambiente, devido ao risco à saúde coletiva de transmissão de zoonoses ou à ocorrência de acidentes causados por animais peçonhentos e/ou venenosos, de relevância para a saúde pública, a primeira ação a ser realizada deve ser a
- (A) desratização.
 - (B) aplicação de multa ao proprietário.
 - (C) lavratura de auto de infração e inutilização do local.
 - (D) desinsetização.
 - (E) inspeção zoossanitária.
48. As estratégias de controle da leishmaniose estão centradas no diagnóstico e no tratamento precoce dos casos humanos, na eliminação dos reservatórios e nas ações dirigidas para o vetor, tais como realizar
- (A) redução da população de mosquitos da família dos culicídeos e educação em saúde.
 - (B) nebulização com inseticida diluído em óleo no período matutino, em que o vetor tem maior atividade.
 - (C) eliminação de criadouros, como tambores, garrafas e outros locais que podem acumular água.
 - (D) redução da população de flebotomíneos e atividades de educação em saúde.
 - (E) controle da população de capivaras para reduzir a infestação de carrapatos.
49. Roedor predominante no meio urbano, cujo focinho tem formato rombudo, comprimento da cauda é menor que o comprimento do corpo e da cabeça juntos, escavam suas tocas no solo construindo um complexo sistema de túneis e galerias.
- Trata-se de
- (A) rato de telhado.
 - (B) gambá.
 - (C) ratazana.
 - (D) camundongo.
 - (E) capivara.
50. A desratização reduz a população de roedores e de doenças transmitidas por esses animais, que são a principal fonte de infecção para
- (A) malária.
 - (B) raiva.
 - (C) leptospirose.
 - (D) cinomose.
 - (E) dengue.

